

POLITICAL SCIENCE (028)
SAMPLE QUESTIONPAPER
CLASS XII (2025-26)

Time allotted: 3 hours

Maximum Marks:80

INSTRUCTIONS:

1. The question paper consists of five sections (A, B, C, D and E) with 30 questions in total.
2. All questions are compulsory.
3. Question numbers 1-12 are multiple choice questions of one mark each.
4. Question numbers 13-18 are of 2 marks each. Answers to these questions should not exceed 50-60 words each.
5. Question numbers 19-23 are of 4 marks each. Answers to these questions should not exceed 100-120 words each. There are internal choices in two of the 4 marks questions
6. Question numbers 24-26 are picture, map and passage based questions. Answer accordingly.
7. Question numbers 27-30 are of 6 marks each. Answers to these questions should not exceed 170-180 words.
8. There are internal choices in all the 6 marks questions.

Q.NO	SECTION–A (12x1=12MARKS)	Marks
1.	The end of bipolarity in international politics led to an increase in _____. A) Proxy wars between super powers B) Arms race between super powers C) Multilateral diplomacy and cooperation D) Bipolarity in international politics	1
2.	Agenda-21 is related to which one of the following? A) Rio Summit B) Antarctic Treaty C) Montreal Protocol D) Antarctic Environmental Protocol	1
3	Given below are two statements: Statement I: In the traditional view of security, most threats to a country's security come from outside its borders. Statement II: In world politics, each country has to be responsible for its own security. In the light of above statement, choose the correct answer from the options given below: A) Only statement I is correct. B) Only statement II is correct C) Both statements I and II are correct. D) Both statements I and II are not correct.	1

- 4 Identify the group of countries that had been part of the Soviet Union before its disintegration: 1
A) Tajikistan, Azerbaijan, Armenia
B) Armenia, West Germany, Azerbaijan
C) Poland, East Germany, Norway
D) Norway, Hungary, Romania
- 5 The idea of global security emerged in: 1
A) 1960s
B) 1970s
C) 1980s
D) 1990s
- 6 In the following question, a statement of Assertion (A) is followed by a statement of Reason(R). Choose the appropriate option as answer: 1
- Assertion (A):** At the G-8 meeting in June 2005, India pointed out that the per capita emission rates of the developing countries are a tiny fraction of those in the developed world.
- Reason(R):** A review of the implementation of the agreements at the Earth Summit in Rio was undertaken by India in 1997.
- Options:
- A) Both A and R are true, and R is the correct explanation of A.
B) Both A and R are true, but R is not the correct explanation of A.
C) A is true, but R is false.
D) A is false, but R is true.
- 7 What is the primary purpose of India's foreign policy? 1
A) Pursuing Territorial expansion
B) Promoting Economic exploitation
C) National security and economic development
D) Building exclusive military alliances
- 8 External affairs minister to visit China in 1979 was: 1
A) Rajiv Gandhi
B) Atal Bihari Vajpayee
C) P.V. Narsimha Rao
D) Manmohan Singh
- 9 Identify the leader who initiated the concept of integral humanism: 1
A) Ram Manohar Lohia
B) S.P Mukherjee
C) Deen Dayal Upadhyaya
D) Sardar Vallabhbhai Patel

- 10 Match the names of the leaders given below with the political parties with the help of codes given below: 1

Leaders

- I Acharya Narendra Dev
- II A. K. Gopalan
- III Rafi Ahmed Kidwai
- IV Shyama Prasad Mukherjee

Political Parties

- i Communist Party of India
- ii Bhartiya Jana Sangh
- iii Praja Socialist Party
- iv Indian National Congress

Codes:

- A) I-(ii), II-(iv), III-(iii), IV-(i)
 - B) I-(iii), II-(i), III-(iii), IV-(iv)
 - C) I-(ii), II-(i), III-(iv), IV-(iii)
 - D) I-(iii), II-(i), III-(iv), IV-(ii)
- 11 Identify the leader of Indian National Congress who became the first Chief Minister of Jammu and Kashmir: 1
- A) Sheikh Abdullah
 - B) Omar Abdullah
 - C) Ghulam Mohammed Sadiq
 - D) Mufti Mohammed Sayeed
- 12 Arrange the following in chronological order of their creation: 1
- I) Arunachal Pradesh
 - II) Punjab
 - III) Nagaland
 - IV) Tripura
- Select the correct option:
- A) (III), (II), (IV), (I)
 - B) (II), (IV), (I), (III)
 - C) (IV), (I), (III), (II)
 - D) (I), (II), (III), (IV)

SECTION-B (6x2=12MARKS)

- 13 What were the early initiatives taken by the Planning Commission (now *NITI Aayog*) for building a new India? 2
- 14 Explain the process of democratisation in Maldives. 2
- 15 Describe two forms of cooperative security as per its traditional notion. 2
- 16 Why was Mandal Commission appointed? Explain the reason. 2
- 17 What is the difference between one-party dominance and a one-party system? 2
- 18 Explain the meaning of global poverty. 2

SECTION-C (5x4=20MARKS)

- 19 Explain the role played by India under Jawaharlal Nehru in maintaining Afro-Asian Unity. 4
- 20 Regional demands from different parts of India exemplify the principle of unity with diversity'. Do you agree? Support your answer with appropriate arguments. 4
- 21 A 'Although India has maintained good relations with all the post-communist countries, yet the strongest relations are still between India and Russia'. Explain the reasons with suitable arguments. 4

OR

- 21 B Highlight any two positive and negative features each, of the Soviet system
- 22 A Analyse any two causes of globalisation. 4

OR

- 22 B "Welfare State is getting replaced by market." Analyse the reasons for this change.
- 23 Explain any four outcomes of Lok Sabha elections of 1977. 4

SECTION-D (3x4=12MARKS)

- 24 Study the picture given below and answer the questions that follow: 1+1+1
+1=4



Source NCERT textbook page-84

Choose the most appropriate option:

I) Which Summit has brought the environmental issues to the center stage of global politics?

- A) G-8 summit
- B) Earth summit
- C) Antarctic summit
- D) Stockholm summit

II) What do the two men shown in the image symbolise?

- A) First World and the Third World countries
- B) Second World and the Third World countries
- C) Developed and under developed World
- D) First World and the Second World countries

III) What these two men are trying to save?

- A) Outer space
- B) Oceans
- C) Forests
- D) Earth

IV) The Global North includes which of the following regions?

- A) Africa and Asia
- B) Europe and North America
- C) Latin America and Oceania
- D) South America and the Middle East

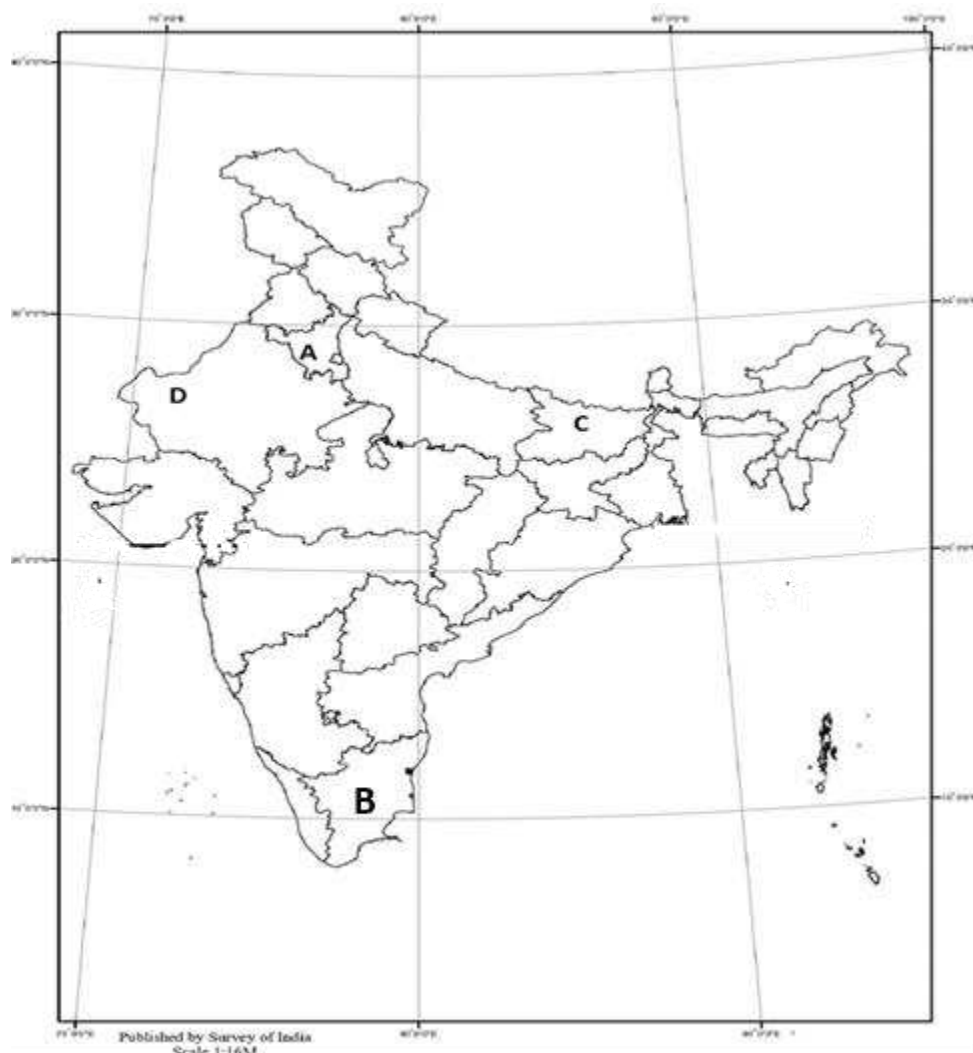
NOTE: Following questions are for the visually Challenged candidates in lieu of question number 24

- I) what does Global North and Global South represent?
- II) Name two countries which were exempted from Kyoto Protocol.
- III) What are Global Commons?
- IV) Define geopolitics.

- 25** In the given outline political map of India, four states have been marked as (A), (B), (C) and (D). Identify these states on the basis of the information given below and write their correct names in your answer book along with the respective serial numbers of the information used and the concerned alphabets as per the format that follows: **1+1+1+1=4**

Sr. Number for the Information used	Concerned alphabet given in the map	Name of the State
I		
II		
III		
IV		

- I) The state where a coalition called the SVD with the two socialist parties SSP and the PSP came to power after 1967 election.
- II) The state where Congress did not get the majority but formed government with the help from others.
- III) The state associated with the defection in 1967 election.
- IV) K.Kamraj was the Chief Minister of this state.



Note: Following questions are for the Visually Challenged Candidates in lieu of question number 25.

Name the following:

- I) Name the leader who gave the call for a 'Total Revolution'?
- II) Alliance formed by non-congress, non-communist parties.
- III) The leader who is regarded as the maker of modern Karnataka.
- IV) Name the official Congress candidate for the 1969 Presidential election.

- 26 Read the passage and choose the most appropriate answer for the questions given below:** **1+1+1
+1=4**

No region exists in a vacuum. It is influenced by outside powers and events no matter how much it may try to insulate itself from non-regional powers. Some countries remain key players in South Asian politics. Sino-Indian relations have improved significantly in the last ten years, but China's strategic partnership with Pakistan remains a major irritant. The demands of development and globalization have brought the two Asian giants closer and their economic ties have multiplied rapidly since 1991.

- I) Which two countries have been referred to as 'Outside powers'?
- A) India and China
 - B) China and Pakistan
 - C) USA and China
 - D) India and USA
- II) Name the two Asian giants
- A) USA and China
 - B) Russia and India
 - C) India and China
 - D) India and USA
- III) Which one of the following countries is NOT a South Asian Country?
- A) Maldives
 - B) Nepal
 - C) Japan
 - D) Bhutan
- IV) Which one of the following countries is NOT a member of SAARC?
- A) Nepal
 - B) India
 - C) China
 - D) Pakistan

SECTION-E(4X6=24MARKS)

- 27 A** What steps should be taken to strengthen the UNO? Explain any four reasons as to why India should be given a permanent membership in the UN Security Council. **6**
- OR**
- 27 B** Trace the evolution of the United Nations since its establishment in 1945. How does it function with the help of its structures and agencies?

28 A In spite of serious differences between major national political parties, emergence of new consensus is being viewed with interest'. In the light of this statement describe any three consensus. **6**

OR

28 B 'A two-party system is considered as the best form for a democratic system. India, on the other hand, has a multi-party system'. Assess the advantages of the multi-party system in India.

29 A "The accommodation of regional demands and the formation of linguistic states were seen as more democratic." Justify the statement with suitable arguments. **6**

OR

29 B What was the approach of the Government of India towards the princely states immediately after the partition of India in 1947? Describe how the princely state of Manipur acceded to India.

30 A Assess the role of ASEAN as an economic association. **6**

OR

30 B Can Japan effectively function as an alternative centre of power? Support your answer with logical explanation.

राजनीति विज्ञान (028)

प्रतिदर्श प्रश्न पत्र

कक्षा- XII (2025-26)

समय: 3 घंटे

अधिकतम अंक: 80

निर्देश:

1. प्रश्न पत्र में पाँच खंड (क, ख, ग, घ और ङ) हैं, जिनमें कुल 30 प्रश्न हैं।
2. सभी प्रश्न अनिवार्य हैं।
3. प्रश्न संख्या 1 से 12 तक बहुविकल्पीय प्रश्न हैं। प्रत्येक प्रश्न '1' अंक का है।
4. प्रश्न संख्या 13 से 18 तक प्रत्येक प्रश्न '2' अंक का है। इन प्रश्नों के उत्तर 50 से 60 शब्दों में दें।
5. प्रश्न संख्या 19 से 23 तक प्रत्येक प्रश्न '4' अंक का है। इन प्रश्नों के उत्तर 100 से 120 शब्दों में दें। चार अंक के प्रश्नों में से दो में आंतरिक विकल्प है।
6. प्रश्न संख्या 24 से 26 तक चित्र, मानचित्र और अवतरण आधारित प्रश्न हैं। तदनुसार उत्तर लिखें।
7. प्रश्न संख्या 27 से 30 तक छः अंक के प्रश्न हैं। इन प्रश्नों के उत्तर 170 से 180 शब्दों में दें।
8. 6 अंक के प्रत्येक प्रश्न में आंतरिक विकल्प हैं।

प्रश्न संख्या	खंड-क (12X1=12 अंक)	अंक
1	अंतर्राष्ट्रीय राजनीति में शीत-युद्ध की समाप्ति से- क) महाशक्तियों के बीच छद्म युद्ध में वृद्धि हुई। ख) महाशक्तियों के बीच हथियारों की होड़ में वृद्धि हुई। ग) बहुपक्षीय कूटनीति और सहयोग में वृद्धि हुई। घ) अंतर्राष्ट्रीय राजनीति में द्विध्रुवीयता में वृद्धि हुई।	1
2	एजेन्डा-21 निम्नलिखित में से किस एक से संबंधित है? क) रियो सम्मेलन ख) अंटार्कटिका संधि ग) मान्द्रियल न्यायाचार घ) अंटार्कटिका पर्यावरणीय न्यायाचार	1
3	नीचे दो कथन दिए गए हैं: कथन I: सुरक्षा की पारस्परिक धारणा के अनुसार किसी देश की सुरक्षा को अधिकांश खतरे इसकी सीमाओं के बाहर से होते हैं। कथन II: वैश्विक राजनीति में प्रत्येक देश अपनी सुरक्षा के लिए स्वयं जिम्मेवार होता है।	1

- उपर्युक्त कथनों के आधार पर नीचे दिए गए विकल्पों के उत्तर के रूप में सही विकल्प चुनिए।
- क) केवल कथन I सही है।
 ख) केवल कथन II सही है।
 ग) दोनों कथन I और II सही हैं।
 घ) दोनों कथन I और II गलत हैं।
- 4 देशों के उस समूह को चुनिए जो सोवियत संघ के विघटन से पूर्व उसका हिस्सा थे। 1
 क) ताजिकिस्तान, अजरबैजान, अरमीनिया
 ख) अरमीनिया, पश्चिमी जर्मनी, अजरबैजान
 ग) पोलैंड, पूर्व जर्मनी, नॉर्वे
 घ) नॉर्वे, हंगरी, रोमानिया
- 5 वैश्विक सुरक्षा का विचार निम्नलिखित में से किस दशक में उत्पन्न हुआ? 1
 क) 1960 के दशक में
 ख) 1970 के दशक में
 ग) 1980 के दशक में
 घ) 1990 के दशक में
- 6 निम्नलिखित प्रश्न में अभिकथन (अ) के बाद कारण (का) के रूप में एक कथन है। उत्तर के रूप में सही विकल्प चुनिए। 1
- अभिकथन (अ)** जून 2005 में जी-8 देशों की मीटिंग में भारत ने संकेत दिया कि विकासशील देशों में प्रति व्यक्ति उत्सर्जन की दर विकसित देशों में होने वाले उत्सर्जन का एक बहुत ही क्षुद्र (छोटा) अंश है।
कारण (का) 1997 में भारत द्वारा रियो पृथ्वी सम्मेलन समझौते के कार्यान्वयन की समीक्षा की गई।
- क) अभिकथन (अ) और कारण (का) दोनों सही हैं और कारण (का) अभिकथन (अ) की सही व्याख्या है।
 ख) अभिकथन (अ) और कारण (का) दोनों सही हैं परंतु कारण (का) अभिकथन (अ) की सही नहीं व्याख्या है।
 ग) अभिकथन (अ) सही है परंतु कारण (का) गलत है।
 घ) अभिकथन (अ) गलत है परंतु कारण (का) सही है।
- 7 भारत की विदेश नीति का प्राथमिक उद्देश्य क्या है? 1
 क) क्षेत्रीय विस्तार की कोशिश
 ख) आर्थिक शोषण को बढ़ावा देना
 ग) राष्ट्रीय सुरक्षा और आर्थिक विकास
 घ) विशिष्ट सैन्य गठबंधन बनाना
- 8 1979 में भारत का कौन सा विदेश मंत्री चीन के दौरे पर गया था? 1
 क) राजीव गांधी
 ख) अटल बिहारी वाजपेई
 ग) पी.वी. नरसिम्हा राव
 घ) मनमोहन सिंह

- 9 निम्नलिखित में उस नेता को पहचानिए जिसने एकात्म मानववाद के सिद्धांत की शुरुआत की थी। 1
 क) राम मनोहर लोहिया ख) एस.पी. मुखर्जी (श्याम प्रसाद मुखर्जी)
 ग) दीनदयाल उपाध्याय घ) सरदार बल्लभ भाई पटेल
- 10 निम्नलिखित नेताओं का उनके राजनीतिक दलों के साथ नीचे दिए गुटों के आधार पर सही मिलान कीजिए। 1

नेता

राजनीतिक दल

- I. आचार्य नरेंद्र देव
 II. ए. के. गोपालन
 III. रफी अहमद किदवई
 IV. श्यामा प्रसाद मुखर्जी

- i. कम्युनिस्ट पार्टी ऑफ इंडिया
 ii. भारतीय जनसंघ
 iii. प्रजा सोशललिस्ट पार्टी
 iv. भारतीय राष्ट्रीय कांग्रेस

- क) I-(ii), II-(iv), III-(iii), IV-(i)
 ख) I-(iii), II-(i), III-(iii), IV-(iv)
 ग) I-(ii), II-(i), III-(iv), IV-(iii)
 घ) I-(iii), II-(i), III-(iv), IV-(ii)

- 11 भारतीय राष्ट्रीय कांग्रेस के उस नेता की पहचान कीजिए जो जम्मू कश्मीर के पहले मुख्यमंत्री बने थे। 1
 क) शेख अब्दुल्ला ख) उमर अब्दुल्ला
 ग) गुलाम मोहम्मद सादिक घ) मुफ्ती मोहम्मद सैयद

- 12 निम्नलिखित राज्यों को उनके गठन के काल क्रमानुसार व्यवस्थित कीजिए। 1

- I. अरुणाचल प्रदेश
 II. पंजाब
 III. नागालैंड
 IV. त्रिपुरा

विकल्प:

- क) III, II, IV, I
 ख) II, IV, I, III
 ग) IV, I, III, II
 घ) I, II, III, IV

खंड-ख (6x2=12 अंक)

- 13 नये भारत के निर्माण के लिए योजना आयोग द्वारा प्रारंभ में कौन सी पहल की गई थी? 2
- 14 मालदीव में लोकतंत्र स्थापित होने की प्रक्रिया को स्पष्ट कीजिए। 2
- 15 पारंपरिक धारणा के अनुसार सहयोगात्मक सुरक्षा की दो प्रकारों का वर्णन कीजिए। 2
- 16 मंडल आयोग की नियुक्ति के कारण स्पष्ट कीजिए। 2

- 17 एक-दलीय प्रभुत्व और एक-दलीय प्रणाली में क्या अंतर है? 2
- 18 वैश्विक गरीबी का अर्थ स्पष्ट कीजिए। 2

खंड-ग (5x4=20 अंक)

- 19 एफ्रो-एशियन एकता को बनाए रखने के लिए भारत द्वारा जवाहरलाल नेहरू के नेतृत्व में निभाई गई भूमिका की व्याख्या कीजिए। 4
- 20 “भारत के अलग-अलग क्षेत्रों से उठने वाली क्षेत्रीय मांगे विविधता में एकता के सिद्धांत को दर्शाती हैं।” क्या आप इससे सहमत हैं? अपने उत्तर के पक्ष में उपयुक्त तर्क दीजिए। 4
- 21A “यद्यपि भारत ने पूर्व कम्युनिस्ट देशों के साथ अच्छे संबंध बनाए रखे हैं, तदापि भारत और रूस के बीच संबंध, अभी भी, सबसे मजबूत हैं।” उपयुक्त तर्कों की सहायता से कारणों की व्याख्या कीजिए। 4

—अथवा—


- 21 B सोवियत प्रणाली की किन्हीं दो सकारात्मक तथा दो नकारात्मक विशेषताओं को उजागर कीजिए। 4
- 22A वैश्वीकरण के किन्हीं दो कारणों का विश्लेषण कीजिए। 4

—अथवा—

- 22B कल्याणकारी राज्य का स्थान ‘बाजार’ ले रहा है। इस परिवर्तन के कारणों का विश्लेषण कीजिए। 4
- 23 1977 के लोकसभा चुनाव के किन्हीं चार परिणामों को स्पष्ट कीजिए। 4

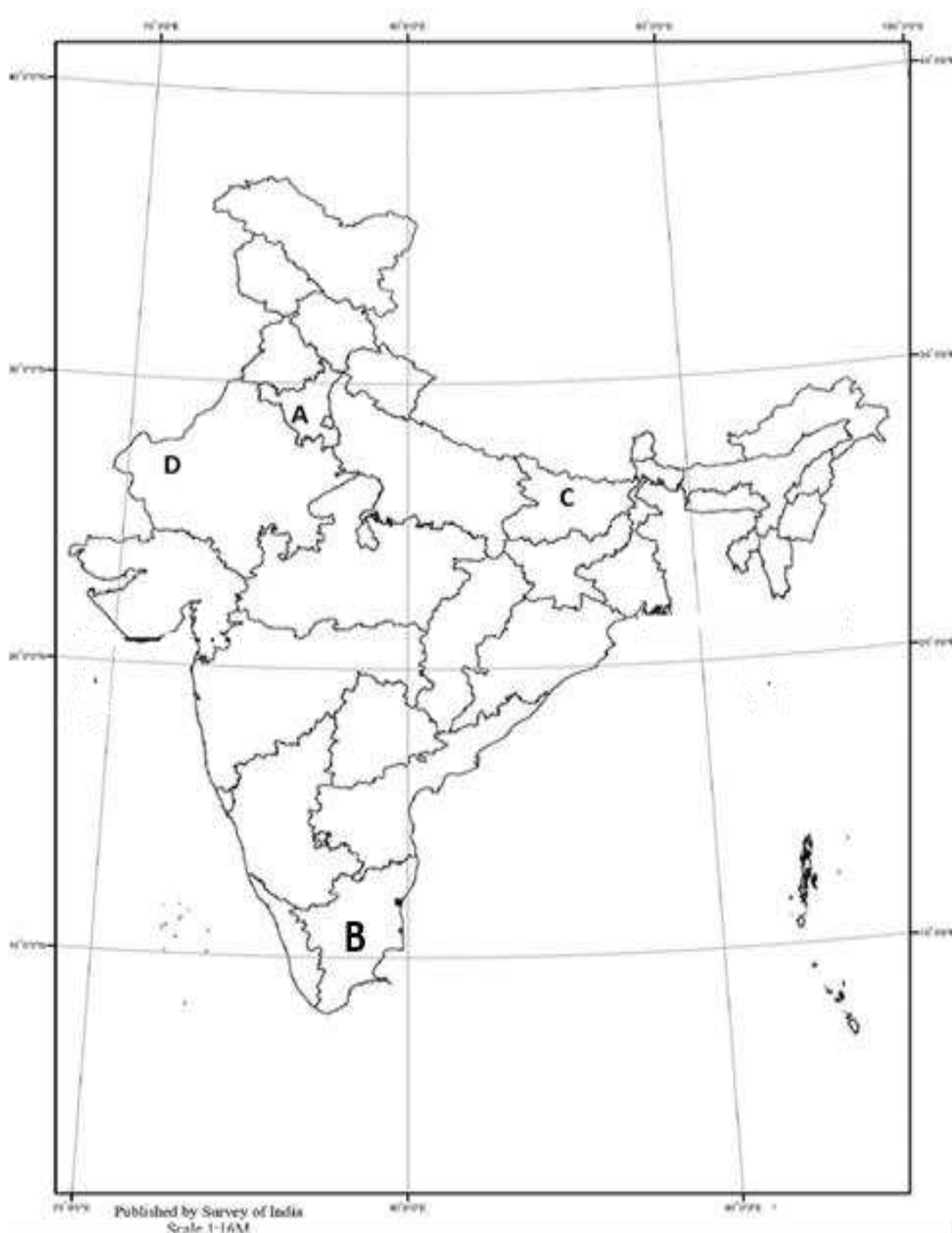
खंड-घ (3x4 =12 अंक)

- 24 नीचे दिए गए चित्र का अध्ययन कीजिए और अधोलिखित प्रश्नों के उत्तर लिखिए। 1+1+
1+1=
4



Source-NCERT Textbook-page-84

- i. वह राज्य जहां 1967 के चुनावों के बाद संयुक्त सोशलिस्ट पार्टी और प्रजा सोशलिस्ट पार्टी के साथ संयुक्त विधायक दल की सरकार बनी थी।
- ii. वह राज्य जहां कांग्रेस को बहुमत नहीं मिला था परंतु विभिन्न दलों की सहायता से सरकार बनाई थी।
- iii. 1967 के चुनावों में दलबदल के साथ जुड़ा एक राज्य।
- iv. वह राज्य जिसके मुख्यमंत्री के. कामराज थे।



नोट: निम्नलिखित प्रश्न दृष्टिबाधित परीक्षार्थियों के लिए प्रश्न संख्या 25 के स्थान पर हैं।

- उस नेता का नाम बताइए जिसने 'संपूर्ण क्रांति' का आह्वान किया?
- गैर कांग्रेसी और गैर कम्युनिस्ट दलों से गठित गठबंधन का नाम लिखिए।
- उस नेता का नाम लिखिए जिन्हें आधुनिक कर्नाटक का निर्माता माना जाता है।
- 1969 के राष्ट्रपति चुनाव में कांग्रेस के अधिकृत उम्मीदवार का नाम लिखिए।

26

नीचे दिए गए अवतरण का अध्ययन कीजिए और अधोलिखित प्रश्नों के उत्तर लिखिए।

1+1+

1+1=

4

“कोई भी क्षेत्र हवा में नहीं होता। चाहे कोई क्षेत्र अपने को गैर क्षेत्रीय ताकतों से अलग रखने की जितनी भी कोशिश करे उस पर बाहरी ताकतों और घटनाओं का असर पड़ता ही है। कुछ देश दक्षिण एशिया की राजनीति में अहम भूमिका निभाते हैं। पिछले दस वर्षों में भारत और चीन के संबंध बेहतर हुए हैं। चीन की पाकिस्तान के साथ राजनीतिक साझेदारी भारत चीन के संबंधों में एक बड़ी कठिनाई है। विकास की जरूरत और वैश्वीकरण के कारण एशिया महाद्वीप में ये दो बड़े देश ज्यादा नजदीक आए हैं। 1991 के बाद इन देशों के आर्थिक संबंध ज्यादा मजबूत हुए हैं।

- किन दो देशों को बाहरी ताकत कहा गया है?
क) भारत और चीन
ख) चीन और पाकिस्तान
ग) अमरिका और चीन
घ) भारत और अमरिका
- दो एशियाई देशों के नाम चुनिए-
क) अमरिका और चीन
ख) रूस और भारत
ग) भारत और चीन
घ) भारत और अमरिका
- निम्नलिखित में से कौन सा देश दक्षिण एशियाई देश नहीं है?
क) मालदीव
ख) नेपाल
ग) जापान
घ) भूटान
- निम्नलिखित में कौन सा देश दक्षे (सार्क) का सदस्य नहीं है?
क) नेपाल
ख) भारत
ग) चीन
घ) पाकिस्तान

खंड-इ (4X6=24 अंक)

27A संयुक्त राष्ट्र को मजबूत बनाने के लिए कौन से कदम उठाने चाहिए? ऐसे कोई चार कारण स्पष्ट कीजिए? 6
जिनकी वजह से भारत को संयुक्त राष्ट्र सुरक्षा परिषद में स्थायी सदस्यता मिलनी चाहिए?

-अथवा-

27B 1945 में संयुक्त राष्ट्र की स्थापना के समय से लेकर आज तक की विकास यात्रा का विवरण लिखिए। 6
यह अपने विभिन्न अंगों एवं एजेंसियों के साथ कैसे कार्य करता है।

28A 'प्रमुख राष्ट्रीय राजनीतिक दलों के बीच गंभीर अंतरों के बावजूद उनके बीच बनती नयी सहमति को 6
बड़ी रुचि के साथ देखा जा रहा है।' इस कथन के आलोक में किन्हीं दो सहमतियों का वर्णन कीजिए।

-अथवा-

- 28B द्वि-दलीय प्रणाली को लोकतांत्रिक व्यवस्था के लिए सर्वश्रेष्ठ माना जाता है। परंतु भारत में बहुदलीय प्रणाली है। भारत में बहुदलीय प्रणाली के लाभों का आकलन कीजिए। 6
- 29A “क्षेत्रीय मांगों के समायोजन तथा भाषायी राज्यों के गठन को लोकतांत्रिक माना गया” उपयुक्त तर्कों से इस कथन को उचित ठहराइये। 6

-अथवा-

- 29B 1947 में भारत के विभाजन के तुरंत बाद भारत सरकार का देसी रियासतों के प्रति क्या रवैया था? वर्णन कीजिए कि देशी रियासत मणिपुर का भारत में विलय किस प्रकार हुआ। 6
- 30A एक आर्थिक संघ के रूप में आसियान की भूमिका का वर्णन कीजिए। 6

-अथवा-

- 30B क्या जापान, शक्ति के एक वैकल्पिक केंद्र के रूप में प्रभावी ढंग से कार्य कर सकता है? स्पष्ट कीजिए। 6