

सामान्य निर्देश :

- (i) प्रारम्भ के 15 मिनट परीक्षार्थियों को प्रश्न-पत्र पढ़ने के लिए निर्धारित हैं।
- (ii) सभी प्रश्न अनिवार्य हैं।
- (iii) यह प्रश्न-पत्र दो खण्डों, अ और ब में विभाजित है।
- (iv) खण्ड-अ में 20 अंक के 20 बहुविकल्पीय प्रश्न हैं। इनका उत्तर ओ.एम.आर. शीट पर दिया जाना है।
- (v) ओ.एम.आर. शीट पर उत्तर अंकित किए जाने के पश्चात उसे काटें नहीं तथा इरेज़र (Eraser) एवं व्हाइटनर (Whitener) आदि का प्रयोग न करें।
- (vi) खण्ड-ब 50 अंकों का है। इसमें दो प्रकार के प्रश्न हैं, वर्णनात्मक-1 तथा वर्णनात्मक-2। मानचित्र सम्बन्धी दो प्रश्न (प्र.सं. 29 (क) व 29 (ख)) हैं।
- (vii) प्रत्येक प्रश्न के लिए निर्धारित अंक उसके सम्मुख अंकित हैं।
- (viii) दिए गए मानचित्रों को प्रश्न-पत्र से फाड़कर, उन पर उत्तर अंकित कीजिए तथा मानचित्रों को उत्तर-पुस्तिका में मज़बूती के साथ अवश्य संलग्न कीजिए।
- (ix) दृष्टिबाधित परीक्षार्थियों के लिए मानचित्र-कार्य के स्थान पर अलग से प्रश्न लिखने के लिए दिए गए हैं।

खण्ड - अ

(बहुविकल्पीय प्रश्न)

1. फ्रांस की क्रान्ति कब प्रारम्भ हुई ? 1
 (A) 1779 (B) 1789 (C) 1780 (D) 1799
2. नेपोलियन सम्बन्धित था : 1
 (A) फ्रांस से (B) जर्मनी से (C) इटली से (D) उपर्युक्त में से कोई नहीं

3. जलियाँवाला बाग की घटना कब हुई ? 1
 (A) 8 अप्रैल, 1919 (B) 10 अप्रैल, 1919
 (C) 13 अप्रैल, 1919 (D) 25 अप्रैल, 1919
4. 'वन्देमातरम्' गीत के लेखक कौन हैं ? 1
 (A) बंकिम चन्द्र चटर्जी (B) रवीन्द्रनाथ टैगोर
 (C) शरत चन्द्र चटर्जी (D) अवनीन्द्रनाथ टैगोर
5. अन्तर्राष्ट्रीय मुद्रा कोष (IMF) की स्थापना कब हुई थी ? 1
 (A) 1940 (B) 1942 (C) 1945 (D) 1944
6. भारत में कितने संघ राज्य-क्षेत्र (केन्द्र-शासित प्रदेश) हैं ? 1
 (A) 6 (B) 7 (C) 8 (D) 9
7. संघीय शासन प्रणाली में शक्तियों का विभाजन होता है : 1
 (A) केन्द्र एवं राज्यों (इकाइयों) के मध्य
 (B) एक राज्य एवं अन्य राज्यों के मध्य
 (C) विधायिका एवं कार्यपालिका के मध्य
 (D) विधायिका एवं न्यायपालिका के मध्य
8. विना की सन्धि कब हुई थी ? 1
 (A) 1814 (B) 1815 (C) 1816 (D) 1817
9. भारत में पंचायती राज की स्थापना कब हुई थी ? 1
 (A) 1980 (B) 1990 (C) 1992 (D) 2004
10. निम्नलिखित में से क्या भारतीय लोकतंत्र के सम्मुख चुनौती है ? 1
 (A) क्षेत्रीय असन्तुलन (B) सामाजिक तनाव व हिंसा
 (C) दल-बदल (D) उपर्युक्त सभी
11. लौह अयस्क किस प्रकार का संसाधन है ? 1
 (A) नवीकरण योग्य (B) प्रवाह
 (C) जैव (D) अनवीकरण योग्य

12. निम्नलिखित में से किस राज्य में काली मृदा मुख्य रूप से पाई जाती है ? 1
 (A) जम्मू और कश्मीर (B) राजस्थान
 (C) महाराष्ट्र (D) झारखण्ड
13. निम्नलिखित में से कौन-सी एक फलीदार फसल है ? 1
 (A) दालें (B) मोटे अनाज (C) ज्वार (D) चावल
14. मोनाज़ाइट रेत में निम्नलिखित में से कौन-सा खनिज पाया जाता है ? 1
 (A) खनिज तेल (B) यूरेनियम (C) थोरियम (D) कोयला
15. निम्नलिखित में से कौन-सा शब्द दो या अधिक देशों के व्यापार को दर्शाता है ? 1
 (A) आंतरिक व्यापार (B) बाहरी व्यापार
 (C) अंतर्राष्ट्रीय व्यापार (D) स्थानीय व्यापार
16. सामान्यतः, किसी देश का विकास किस आधार पर निर्धारित किया जा सकता है ? 1
 (A) प्रति व्यक्ति आय (B) औसत साक्षरता दर
 (C) लोगों की स्वास्थ्य स्थिति (D) उपर्युक्त सभी
17. निम्नलिखित पड़ोसी देशों में से मानव विकास के लिहाज से किस देश की स्थिति भारत से बेहतर है ? 1
 (A) बांग्लादेश (B) श्री लंका (C) नेपाल (D) पाकिस्तान
18. सार्वजनिक और निजी क्षेत्रक के विभाजन का आधार है : 1
 (A) रोज़गार की शर्तें (B) आर्थिक गतिविधि की प्रकृति
 (C) उद्यमों का स्वामित्व (D) उद्यमों में नियोजित श्रमिकों की संख्या
19. स्वयं-सहायता समूहों में बचत और ऋण संबंधी अधिकतर निर्णय लिए जाते हैं : 1
 (A) बैंक द्वारा (B) सदस्यों द्वारा
 (C) गैर-सरकारी संस्था द्वारा (D) उपर्युक्त में से कोई नहीं
20. एक वस्तु का अधिकांशतः प्राकृतिक प्रक्रिया से उत्पादन किस क्षेत्रक की गतिविधि है ? 1
 (A) प्राथमिक (B) द्वितीयक
 (C) तृतीयक (D) सूचना प्रौद्योगिकी

वर्णनात्मक-1 (उत्तर लगभग 80 शब्दों में दीजिए)

21. ऑटो वॉन बिस्मार्क को जर्मनी के एकीकरण का जनक क्यों कहा जाता है ? दो कारण लिखिए । 2+2

अथवा

‘कॉर्न लॉ’ के निरस्त होने के बाद ब्रिटेन की खाद्य समस्या का हल किस प्रकार हुआ ? स्पष्ट कीजिए । 4

22. भारत में जाति प्रथा का राजनीति एवं समाज पर क्या प्रभाव पड़ रहा है ? 4

अथवा

लोकतांत्रिक शासन एक उत्तरदायी शासन होता है । उदाहरणों सहित उत्तर लिखिए । 4

23. प्रौद्योगिकी और आर्थिक विकास के कारण संसाधनों का अधिक उपयोग कैसे हुआ है ? 4

अथवा

भारतीय कृषि पर वैश्वीकरण के प्रभाव पर टिप्पणी कीजिए । 4

24. विकास मापने का यू.एन.डी.पी. का मापदण्ड किन पहलुओं में विश्व बैंक के मापदण्ड से अलग है ? 4

अथवा

तृतीयक क्षेत्रक अन्य क्षेत्रकों से कैसे भिन्न है ? सोदाहरण व्याख्या कीजिए । 4

वर्णनात्मक-2 (उत्तर लगभग 150 शब्दों में दीजिए)

25. जर्मन एकीकरण की प्रक्रिया के बारे में संक्षिप्त टिप्पणी लिखिए । 6

अथवा

भारत के स्वतंत्रता संघर्ष में गाँधी जी के योगदान का मूल्यांकन कीजिए । 6

26. संघवाद की किन्हीं चार विशेषताओं का वर्णन कीजिए ।

$$1\frac{1}{2} + 1\frac{1}{2} + 1\frac{1}{2} + 1\frac{1}{2}$$






अथवा

लोकतंत्र की किन्हीं दो प्रमुख चुनौतियों का वर्णन कीजिए ।

3+3

27. भारत में वन्य जीव संरक्षण के उपाय सुझाइए । 6
अथवा
क्या भारत में सौर ऊर्जा का भविष्य उज्ज्वल है ? व्याख्या कीजिए । 6
28. मनरेगा 2005 (MGNREGA 2005) के उद्देश्यों की व्याख्या कीजिए । 6
अथवा
उन तीन तरीकों की व्याख्या कीजिए जिनके द्वारा उपभोक्ता का बाज़ार में शोषण किया जाता है । 6

(मानचित्र सम्बन्धी प्रश्न)

29. (क) निम्नलिखित स्थानों को भारत के दिए गए रेखा-मानचित्र (पृष्ठ 13 पर) में  चिह्न द्वारा नाम सहित दर्शाइए । सही नाम तथा सही स्थान अंकन हेतु $\frac{1}{2}$, $\frac{1}{2}$ अंक निर्धारित है ।
- (i) वह स्थान जहाँ पूर्ण स्वराज की माँग का प्रस्ताव पारित हुआ था । $\frac{1}{2} + \frac{1}{2}$
- (ii) वह स्थान जहाँ किसी घटना के कारण महात्मा गाँधी ने असहयोग आन्दोलन स्थगित किया । $\frac{1}{2} + \frac{1}{2}$
- (iii) वह स्थान जहाँ 1920 में कांग्रेस का अधिवेशन हुआ था । $\frac{1}{2} + \frac{1}{2}$
- (iv) वह स्थान जहाँ सूती मिल श्रमिकों ने सत्याग्रह किया । $\frac{1}{2} + \frac{1}{2}$
- (v) वह स्थान जहाँ सर्वप्रथम नमक बनाया गया था । $\frac{1}{2} + \frac{1}{2}$
29. (ख) निम्नलिखित स्थानों को भारत के दिए गए रेखा-मानचित्र (पृष्ठ 15 पर) में चिह्न द्वारा नाम सहित दर्शाइए । सही नाम तथा सही स्थान अंकन हेतु $\frac{1}{2}$, $\frac{1}{2}$ अंक निर्धारित है ।
- (i) भारत के किसी एक परमाणु ऊर्जा केन्द्र का नाम SSS चिह्न सहित । $\frac{1}{2} + \frac{1}{2}$
- (ii) इस राज्य का एक गन्ना उत्पादक क्षेत्र  चिह्न द्वारा । $\frac{1}{2} + \frac{1}{2}$
- (iii) सलाल बाँध  चिह्न द्वारा राज्य के नाम सहित । $\frac{1}{2} + \frac{1}{2}$
- (iv) दक्षिण भारत की एक नदी  चिह्न द्वारा नाम सहित । $\frac{1}{2} + \frac{1}{2}$
- (v) राजस्थान का राजधानी नगर  चिह्न द्वारा नाम सहित । $\frac{1}{2} + \frac{1}{2}$

(केवल दृष्टिबाधित परीक्षार्थियों के लिए प्रश्न संख्या 29 (क) के मानचित्र-कार्य के विकल्प स्वरूप)

निर्देश: निम्नलिखित प्रश्नों के उत्तर अपनी उत्तर-पुस्तिका में लिखिए। मानचित्र का प्रयोग न कीजिए।

- | | | |
|-------|---|---|
| (i) | पूर्ण स्वराज की माँग का प्रस्ताव किस स्थान पर पारित हुआ था ? | 1 |
| (ii) | किस स्थान की घटना के कारण महात्मा गाँधी ने असहयोग आन्दोलन स्थगित किया ? | 1 |
| (iii) | 1920 में कांग्रेस का अधिवेशन किस स्थान पर हुआ था ? | 1 |
| (iv) | किस स्थान पर सूती मिल श्रमिकों ने सत्याग्रह किया ? | 1 |
| (v) | किस स्थान पर सर्वप्रथम नमक बनाया गया ? | 1 |

(केवल दृष्टिबाधित परीक्षार्थियों के लिए प्रश्न संख्या 29 (ख) के मानचित्र-कार्य के विकल्प स्वरूप)

निर्देश: निम्नलिखित प्रश्नों के उत्तर अपनी उत्तर-पुस्तिका में लिखिए। मानचित्र का प्रयोग न कीजिए।

- | | | |
|-------|--|---|
| (i) | भारत के किसी एक परमाणु ऊर्जा केन्द्र का नाम लिखिए। | 1 |
| (ii) | इस राज्य के एक गन्ना उत्पादक क्षेत्र का नाम लिखिए। | 1 |
| (iii) | उस राज्य का नाम लिखिए जहाँ सलाल बाँध स्थित है। | 1 |
| (iv) | दक्षिण भारत की एक नदी का नाम लिखिए। | 1 |
| (v) | राजस्थान के राजधानी नगर का नाम लिखिए। | 1 |

(English Version)

General Instructions :

- (i) First 15 minutes are allotted for examinees to read this question paper.
- (ii) All questions are **compulsory**.
- (iii) This question paper is divided into **two** parts, A and B.
- (iv) In **Part-A**, there are 20 multiple choice type questions of 20 marks. Answer should be given on OMR sheet.
- (v) After marking your answer on OMR sheet, do not cut it or use eraser or whitener to remove it.
- (vi) 50 marks are allotted to **Part-B**. It contains two types of questions, Descriptive-1 and Descriptive-2. There are two map related questions (Q. No. 29 (a) and 29 (b)).
- (vii) Marks allotted for each question are mentioned against them.
- (viii) Tear off the supplied maps from the question paper, indicate answer on them and compulsorily attach them firmly to your answer-book.
- (ix) For Vision-impaired examinees, questions have been given separately for writing answers in lieu of map-work.

PART-A
(Multiple Choice Type Questions)

1. When did the French Revolution begin ? 1
(A) 1779 (B) 1789 (C) 1780 (D) 1799
2. Napoleon was related to : 1
(A) France (B) Germany (C) Italy (D) None of the above
3. When did the Jallianwala Bagh incident take place ? 1
(A) 8 April, 1919 (B) 10 April, 1919
(C) 13 April, 1919 (D) 25 April, 1919
4. Who is the author of the song 'Vande Mataram' ? 1
(A) Bankim Chandra Chatterjee (B) Rabindranath Tagore
(C) Sarat Chandra Chatterjee (D) Abanindranath Tagore
5. When was the IMF established ? 1
(A) 1940 (B) 1942
(C) 1945 (D) 1944

6. How many Union Territories are there in India ? 1
 (A) 6 (B) 7 (C) 8 (D) 9
7. In a federal system of government, there is a division of powers : 1
 (A) between the Centre and the States
 (B) between one State and other States
 (C) between the Legislature and the Executive
 (D) between the Legislature and the Judiciary
8. When was the Treaty of Vienna organized ? 1
 (A) 1814 (B) 1815 (C) 1816 (D) 1817
9. When was Panchayati Raj established in India ? 1
 (A) 1980 (B) 1990
 (C) 1992 (D) 2004
10. Which of the following is the challenge before Indian democracy ? 1
 (A) Regional imbalance (B) Social tension and violence
 (C) Change of Party (D) All of the above
11. What type of resource is iron ore ? 1
 (A) Renewable (B) Flow
 (C) Biotic (D) Non-renewable
12. In which of the following States is black soil mainly found ? 1
 (A) Jammu and Kashmir (B) Rajasthan
 (C) Maharashtra (D) Jharkhand
13. Which of the following is a leguminous crop ? 1
 (A) Pulses (B) Coarse grains
 (C) Jowar (D) Rice
14. Which of the following mineral is found in monazite sand ? 1
 (A) Mineral oil (B) Uranium
 (C) Thorium (D) Coal
15. Which of the following words refers to the trade between two or more countries ? 1
 (A) Internal Trade (B) External Trade
 (C) International Trade (D) Local Trade

16. In general, on what basis can the development of a country be determined ? 1
 (A) Per Capita Income (B) Average Literacy Rate
 (C) Health status of people (D) All of the above
17. Which of the following neighbouring countries has a better position than India in terms of human development ? 1
 (A) Bangladesh (B) Sri Lanka
 (C) Nepal (D) Pakistan
18. Public and Private sector is divided on the basis of : 1
 (A) Terms of employment
 (B) Nature of economic activity
 (C) Ownership of enterprises
 (D) Number of workers employed in the enterprises
19. Most of the decisions related to savings and loans are taken in Self-Help Groups : 1
 (A) By Bank (B) By members
 (C) By non-government organisation (D) None of the above
20. The major production of a product of natural process belongs to which sector ? 1
 (A) Primary (B) Secondary
 (C) Tertiary (D) Information Technology

PART-B

Descriptive-1 (Give answer in about 80 words)

21. Why is Otto von Bismarck called the father of the Unification of Germany ? Give two reasons. <https://www.upboardonline.com> 2+2

OR

How was Britain's food problem solved after 'Corn Law' repeal ? Clarify. 4

22. What is the impact of caste system on politics and society in India ? 4

OR

A democratic government is a responsible government. Write the answer with examples. 4

23. How has technology and economic development led to over-consumption of resources ? 4

OR

Write a note on the impact of globalisation on Indian agriculture. 4

24. In what aspects is the UNDP's criteria for measuring development different from the World Bank's criteria ? 4

OR

How is the tertiary sector different from other sectors ? Explain with example. 4

Descriptive-2 (Give answer in about 150 words)

25. Write a short note about the process of German Unification. 6

OR

Evaluate the contribution of Gandhi ji in the freedom struggle of India. 6

26. Describe any four features of federalism. $1\frac{1}{2} + 1\frac{1}{2} + 1\frac{1}{2} + 1\frac{1}{2}$

OR

Describe any two major challenges of democracy. 3+3

27. Suggest measures for the conservation of wildlife in India. 6

OR

Is the future of solar energy bright in India ? Explain. 6

28. Explain the objectives of MGNREGA 2005. 6

OR

Explain any three ways by which producer can be exploited in the market. 6

(Questions related to Map-work)

29. (a) In the given outline map of India (on page 13), locate the following places by the symbol \odot with names. For correct mention of name and marking of location $\frac{1}{2}, \frac{1}{2}$ marks have been allotted.

(i) The place where the resolution demanding complete independence was passed. $\frac{1}{2} + \frac{1}{2}$

(ii) The place where Mahatma Gandhi suspended the Non-Cooperation Movement due to an incident. $\frac{1}{2} + \frac{1}{2}$

(iii) The place where Congress session was held in 1920. $\frac{1}{2} + \frac{1}{2}$

(iv) The place where cotton mill workers held Satyagraha. $\frac{1}{2} + \frac{1}{2}$

(v) The place where salt was made first. $\frac{1}{2} + \frac{1}{2}$

29. (b) In the given outline map of **India** (on page 15), locate the following places by symbol with names. For correct mention of name and marking of location $\frac{1}{2}$, $\frac{1}{2}$ marks have been allotted.

- | | |
|--|-----------------------------|
| (i) Write the name of any atomic energy centre of India with SSS sign. | $\frac{1}{2} + \frac{1}{2}$ |
| (ii) One sugarcane producing area of this State by ☉ symbol. | $\frac{1}{2} + \frac{1}{2}$ |
| (iii) Salal dam with name of the State by symbol □. | $\frac{1}{2} + \frac{1}{2}$ |
| (iv) The name of a river of South India by symbol <. | $\frac{1}{2} + \frac{1}{2}$ |
| (v) The capital city of Rajasthan by symbol ⊙ with name. | $\frac{1}{2} + \frac{1}{2}$ |

(Only for Visually-Impaired Examinees in lieu of Q. No. 29 (a) Map-Work)

Instructions : Write answers of the following questions in your answer-book. Do not use map.

- | | |
|---|---|
| (i) Where was the resolution demanding complete independence passed ? | 1 |
| (ii) Due to the incident of which place did Mahatma Gandhi suspend the Non-Cooperation Movement ? https://www.upboardonline.com | 1 |
| (iii) Where was the Congress session held in 1920 ? | 1 |
| (iv) At which place did the cotton mill workers hold Satyagraha ? | 1 |
| (v) Where was salt made first ? | 1 |

(Only for Visually-Impaired Examinees in lieu of Q. No. 29 (b) Map-Work)

Instructions : Write answers of the following questions in your answer-book. Do not use map.

- | | |
|--|---|
| (i) Write the name of any atomic energy centre of India. | 1 |
| (ii) Write the name of one sugarcane producing area of this State. | 1 |
| (iii) Write the name of the State in which Salal dam is located. | 1 |
| (iv) Write the name of a river of South India. | 1 |
| (v) Write the name of the capital city of Rajasthan. | 1 |