

नामांक

Roll No.

--	--	--	--	--	--	--

No. of Questions – 30

No. of Printed Pages – 6 + World Map + India Map + Rajasthan Map

SS-14-Geog.

भूगोल (GEOGRAPHY)

उच्च माध्यमिक परीक्षा, 2020

समय : 3¼ घण्टे

पूर्णांक : 56

परीक्षार्थियों के लिए सामान्य निर्देश :

GENERAL INSTRUCTIONS TO THE EXAMINEES :

- (1) परीक्षार्थी सर्वप्रथम अपने प्रश्न-पत्र पर नामांक अनिवार्यतः लिखें ।

Candidate must write first his / her Roll No. on the question paper compulsorily.

- (2) सभी प्रश्न करने अनिवार्य हैं ।

All the questions are compulsory.

- (3) प्रत्येक प्रश्न का उत्तर दी गई उत्तर-पुस्तिका में ही लिखें ।

Write the answer to each question in the given answer-book only.

- (4) जिन प्रश्नों में आन्तरिक खण्ड हैं, उन सभी के उत्तर एक साथ ही लिखें ।

For questions having more than one part, the answers to those parts are to be written together in continuity.

- (5) प्रश्न-पत्र के हिन्दी व अंग्रेजी रूपांतर में किसी प्रकार की त्रुटि/अंतर/विरोधाभास होने पर हिन्दी भाषा के प्रश्न को सही मानें ।

If there is any error / difference / contradiction in Hindi & English versions of the question paper, the question of Hindi version should be treated valid.

(6)	खण्ड	प्रश्न संख्या	अंक प्रत्येक प्रश्न	उत्तर की शब्द सीमा
	अ	1-13	1	20 शब्द
	ब	14-21	2	60 शब्द
	स	25-27	3	100 शब्द
	द	28-30	4	250 शब्द

Section	Q. Nos.	Marks per question	Words limit of answer
A	1-13	1	20 words
B	14-21	2	60 words
C	25-27	3	100 words
D	28-30	4	250 words

- (7) प्रश्न क्रमांक 22 से 24 मानचित्र कार्य से संबंधित हैं और प्रत्येक 2 अंक का है ।

Question Nos. 22 to 24 are related to map-work carrying 2 marks each.

- (8) विश्व, भारत व राजस्थान के उपलब्ध कराए गए रेखा मानचित्रों को उत्तर-पुस्तिका के साथ नत्थी करें ।

Attach given outline maps of World, India and Rajasthan with the answer-book.

- (9) प्रश्न क्रमांक 29 और 30 में आंतरिक विकल्प हैं ।

There are internal choices in Question No. 29 and 30.

SECTION - A

1. किन्हीं दो अमेरिकी भूगोलवेत्ताओं के नाम लिखिए ।
Write the name of any two American Geographer. ½ + ½ = 1
2. क्रोस क्या है ?
What is Cross ? 1
3. आप्रवास से आप क्या समझते हैं ?
What do you understand by Immigration ? 1
4. लिंगानुपात किसे कहते हैं ?
What is Sex-Ratio ? 1
5. वृहत् नगर किसे कहते हैं ?
What is Megapolis ? 1
6. बस्ती किसे कहते हैं ?
What is Settlement ? 1
7. पशु आधारित उद्योग किसे कहते हैं ?
What is Animal based industry ? 1
8. किन्हीं दो परम्परागत ऊर्जा संसाधनों के नाम लिखिए ।
Write the name of any two Conventional Energy Resources. ½ + ½ = 1
9. एल्यूमिनियम का मुख्य स्रोत (अयस्क) क्या है ?
What is the main source (ore) of Aluminium ? 1
10. अधात्विक खनिजों के दो उदाहरण दीजिए ।
Give two examples of non-metallic minerals. 1

11. पूर्व-पश्चिम गलियारा किन दो शहरों को जोड़ता है ?

Which two cities connects by East-West corridor ?

$\frac{1}{2} + \frac{1}{2} = 1$

12. भारत में राष्ट्रीय विकास परिषद् का गठन किस वर्ष किया गया था ?

In which year National Development Council was formed in India ?

1

13. मुख्यमंत्री जल स्वावलम्बन अभियान से आप क्या समझते हैं ?

What do you understand by Mukhya Mantri Jal Swawalamban Abhiyaan ?

1

खण्ड - ब

SECTION – B

14. गोंड जनजाति के निवास क्षेत्रों का वर्णन कीजिए ।

Describe the habitat of Gond Tribe.

2

15. वृत्ताकार एवं रेखीय प्रतिरूप का आरेख बनाइए ।

Draw the diagram of Circular and Linear Pattern.

$1 + 1 = 2$

16. तृतीयक व्यवसाय से आप क्या समझते हैं ?

What do you understand by Tertiary occupation ?

2

17. विश्व की प्रमुख चार पाईप लाइनों के नाम लिखिए ।

Name any four major pipe lines of the world.

$\frac{1}{2} + \frac{1}{2} + \frac{1}{2} + \frac{1}{2} = 2$

18. अन्तर्राष्ट्रीय व्यापार के दो लाभों का वर्णन कीजिए ।

Describe any two advantages of International Trade.

$1 + 1 = 2$

19. जल प्रदूषण के नियंत्रण हेतु चार उपाय बताइए ।

Write any four suggestions to control water pollution.

$\frac{1}{2} + \frac{1}{2} + \frac{1}{2} + \frac{1}{2} = 2$

20. भारत में साक्षरता को प्रभावित करने वाले चार कारकों को बताइए ।

Write any four factors affecting literacy in India.

$\frac{1}{2} + \frac{1}{2} + \frac{1}{2} + \frac{1}{2} = 2$

21. संसाधन संरक्षण पर एक लघु-टिप्पणी दीजिए ।

Write a short note on Resource Conservation.

2

22. दिए गए विश्व के रेखा मानचित्र में निम्नांकित लौह-इस्पात उत्पादक केन्द्रों को अंकित कीजिए :

- | | |
|-----------|-------------|
| (i) बफैलो | (ii) सैंटोस |
| (iii) सार | (iv) ओसाका |

Mark the location of the following Iron-Steel producing areas in the given outline map of the world :

2

- | | |
|-------------|-------------|
| (i) Buffalo | (ii) Santos |
| (iii) Saar | (iv) Osaka |

23. दिए गए भारत के रेखा मानचित्र में निम्नांकित सूती वस्त्र उद्योग केन्द्रों को अंकित कीजिए :

- | | |
|-------------|------------|
| (i) राजकोट | (ii) मदुरै |
| (iii) वर्धा | (iv) हुगली |

Mark the location of the following Cotton Textile Industries in the given outline map of India :

2

- | | |
|--------------|--------------|
| (i) Rajkot | (ii) Madurai |
| (iii) Wardha | (iv) Hugli |

24. दिए गए राजस्थान के रेखा मानचित्र में निम्नांकित जिलों को अंकित कीजिए :

- | | |
|-------------|----------------|
| (i) बीकानेर | (ii) बाँसवाड़ा |
| (iii) करौली | (iv) नागौर |

Mark the location of the following districts in the given outline map of Rajasthan :

2

- | | |
|---------------|---------------|
| (i) Bikaner | (ii) Banswara |
| (iii) Karauli | (iv) Nagaur |

खण्ड - स

SECTION - C

25. पशुचारण की समालोचना कीजिए ।

Discuss critically the livestock rearing.

3

26. भारत में जनसंख्या वृद्धि को नियंत्रित करने के तीन उपाय सुझाइए ।

Suggest any three measures to control population growth in India.

1 + 1 + 1 = 3

27. महात्मा गाँधी राष्ट्रीय ग्रामीण रोजगार गारन्टी कार्यक्रम (मनरेगा) पर टिप्पणी लिखिए ।

Write a note on Mahatma Gandhi National Rural Employment Guarantee Act (MGNREGA).

3

खण्ड - द

SECTION - D

28. विश्व में जनसंख्या घनत्व को प्रभावित करने वाले आर्थिक कारकों की व्याख्या कीजिए ।

Describe the economic factors that affect the population density in the world. 1 + 1 + 1 + 1 = 4

29. जैविक एवं रासायनिक कृषि में अंतर स्पष्ट कीजिए । (कोई चार)

अथवा

गेहूँ उत्पादन के लिए आवश्यक भौगोलिक दशाओं का उल्लेख कीजिए ।

Distinguish between organic and chemical farming. (any four)

1 + 1 + 1 + 1 = 4

OR

Describe the Geographical conditions for wheat production.

30. राजस्थान में जनसंख्या वृद्धि का विश्लेषणात्मक अध्ययन कीजिए ।

अथवा

मीणा जनजाति के सामाजिक जीवन का विश्लेषणात्मक अध्ययन कीजिए ।

Analyse the population growth in Rajasthan.

4

OR

Analyse the social life of Meena tribe.

नामांक

Roll No.

--	--	--	--	--	--	--

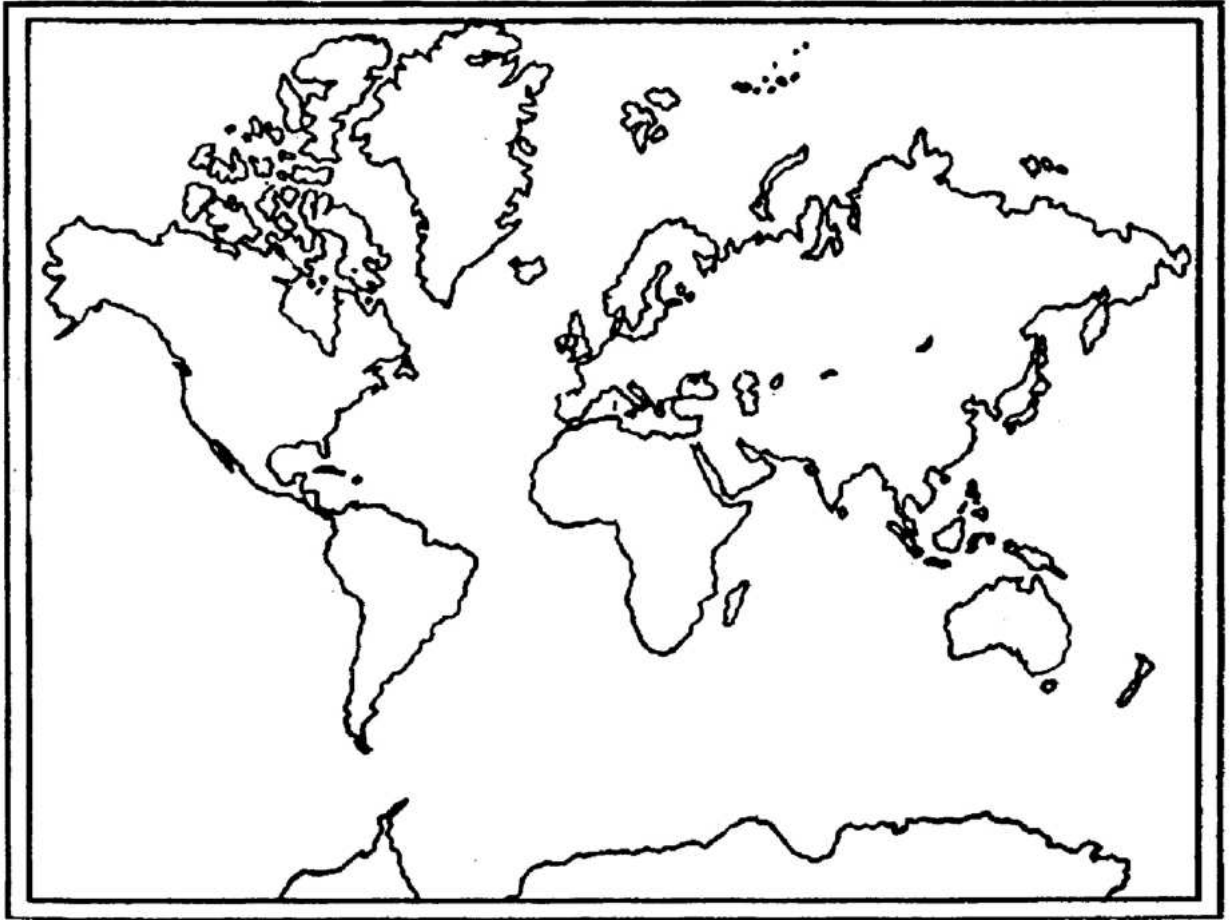
SS-14-Geog.

उच्च माध्यमिक परीक्षा, 2020

SENIOR SECONDARY EXAMINATION, 2020

भूगोल (GEOGRAPHY)

World Map



SS-14-Geog.

यहाँ से काटें

Cut Here

यहाँ से काटें

Cut Here

नामांक

Roll No.

--	--	--	--	--	--	--

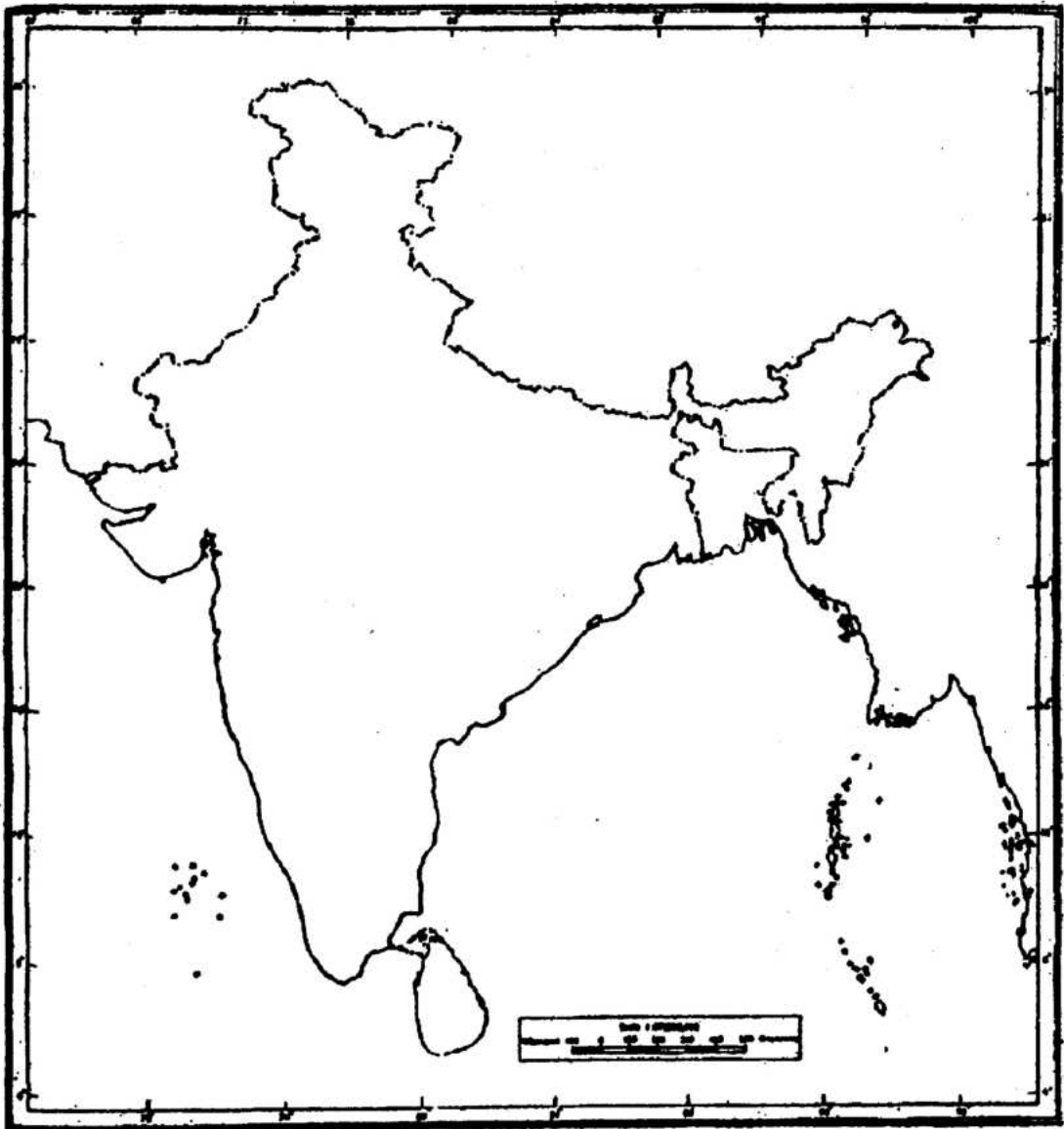
SS-14-Geog.

उच्च माध्यमिक परीक्षा, 2020

SENIOR SECONDARY EXAMINATION, 2020

भूगोल (GEOGRAPHY)

Outline Map of INDIA



यहाँ से काटें

Cut Here

यहाँ से काटें

Cut Here

SS-14-Geog.

यहाँ से काटें

Cut Here

यहाँ से काटें

Cut Here

नामांक

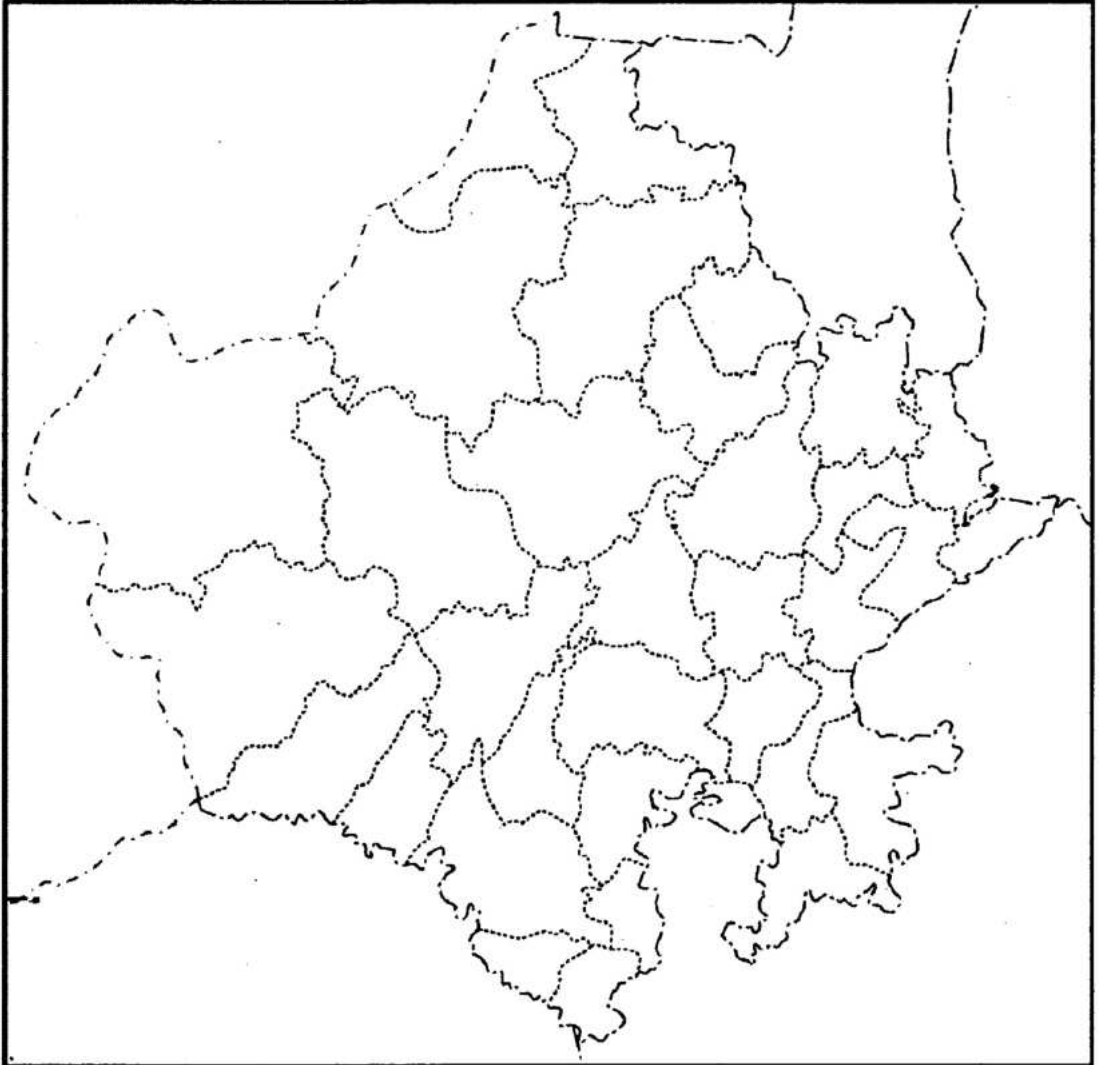
Roll No.

--	--	--	--	--	--	--

SS-14-Geog.

उच्च माध्यमिक परीक्षा, 2020
SENIOR SECONDARY EXAMINATION, 2020
भूगोल (GEOGRAPHY)

Outline Map of RAJASTHAN



SS-14-Geog.

DO NOT WRITE ANYTHING HERE