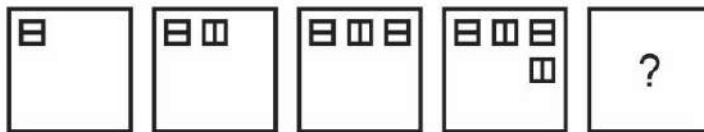


Constable GD in Central Armed Police Forces CAPFs SSF Rifleman GD in Assam Rifles Examination 2024

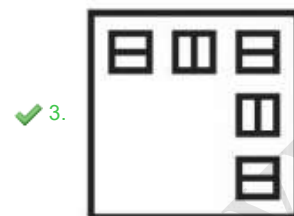
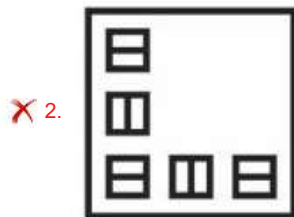
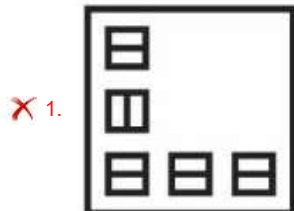
Roll Number	
Candidate Name	
Venue Name	
Exam Date	20/02/2024
Exam Time	9:00 AM - 10:00 AM
Subject	Constable GD Examination 2024

Section : Part-A-General Intelligence and Reasoning

Q.1 In the following question, select the figure which can be placed at the sign of question mark (?) from the given alternatives.



Ans



✗ 4.

Question ID : 264330192064

Option 1 ID : 264330751612

Option 2 ID : 264330751613

Option 3 ID : 264330751611

Option 4 ID : 264330751610

Status : Answered

Chosen Option : 3

Q.2 In the following question, select the related letter pair from the given alternatives.

KW : FR :: ?

- Ans
- 1. BM : WO
 - 2. OC : CP
 - 3. IU : DP
 - 4. AB : BM

Question ID : 264330188023
Option 1 ID : 264330736021
Option 2 ID : 264330736022
Option 3 ID : 264330736023
Option 4 ID : 264330736020
Status : Answered
Chosen Option : 3

Q.3 Which of the following numbers will replace the question mark (?) in the given series?

8, 18, 38, 78, 158, ?

- Ans
- 1. 290
 - 2. 340
 - 3. 268
 - 4. 318

Question ID : 264330192259
Option 1 ID : 264330752392
Option 2 ID : 264330752391
Option 3 ID : 264330752390
Option 4 ID : 264330752393
Status : Answered
Chosen Option : 4

Q.4 Which two signs should be interchanged to make the given equation correct?

$28 + 12 - 21 \div 7 \times 4 = 60$

- Ans
- 1. \times and \div
 - 2. \times and $-$
 - 3. $+$ and \div
 - 4. \times and $+$

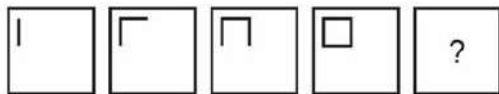
Question ID : 264330192081
Option 1 ID : 264330751680
Option 2 ID : 264330751679
Option 3 ID : 264330751681
Option 4 ID : 264330751678
Status : Answered
Chosen Option : 2

Q.5 In a certain code language, 'LAMP' is coded as 'IWJL'. What is the code for 'LOGS' in that code language?

- Ans**
- ✓ 1. IKDO
 - ✗ 2. IKEO
 - ✗ 3. IKDP
 - ✗ 4. IJDO

Question ID : 264330191313
Option 1 ID : 264330748606
Option 2 ID : 264330748608
Option 3 ID : 264330748607
Option 4 ID : 264330748609
Status : Answered
Chosen Option : 1

Q.6 In the following question, select the figure which can be placed at the sign of question mark (?) from the given alternatives.



Ans

- ✗ 1.
- ✗ 2.
- ✗ 3.
- ✓ 4.

Question ID : 264330187394
Option 1 ID : 264330733506
Option 2 ID : 264330733507
Option 3 ID : 264330733505
Option 4 ID : 264330733504
Status : Answered
Chosen Option : 4

Q.7 Which of the following letter-number cluster will replace the question mark (?) in the given series?

TJM10, ULP12, VNS14, WPV16, XRY18, ?

- Ans
- 1. YSZ20
 - 2. YSZ21
 - 3. YTB21
 - 4. YTB20

Question ID : 264330192268

Option 1 ID : 264330752428

Option 2 ID : 264330752427

Option 3 ID : 264330752426

Option 4 ID : 264330752429

Status : Answered

Chosen Option : 4

Q.8 Arrange the given words in the sequence in which they occur in the dictionary.

1. Dear
2. Dean
3. Deal
4. Dead
5. Death

- Ans
- 1. 13254
 - 2. 43251
 - 3. 43215
 - 4. 13245

Question ID : 264330187441

Option 1 ID : 264330733694

Option 2 ID : 264330733693

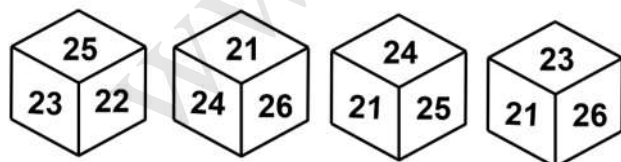
Option 3 ID : 264330733692

Option 4 ID : 264330733695

Status : Answered

Chosen Option : 3

Q.9 Four different positions of the same dice are given below. Find the number opposite of 23.



- Ans
- 1. 24
 - 2. 25
 - 3. 26
 - 4. 21

Question ID : 264330192345

Option 1 ID : 264330752735

Option 2 ID : 264330752734

Option 3 ID : 264330752737

Option 4 ID : 264330752736

Status : Answered

Chosen Option : 1

Q.10 From the given option figures, select the one in which the question figure is hidden/embedded. (rotation is not allowed)



Ans

✓ 1.



✗ 2.



✗ 3.



✗ 4.



Question ID : 264330191327

Option 1 ID : 264330748663

Option 2 ID : 264330748662

Option 3 ID : 264330748665

Option 4 ID : 264330748664

Status : Answered

Chosen Option : 1

Q.11 Select the option that is related to the third word in the same way as the second word is related to the first word.

Bicycle : Pedal :: Car : ?

Ans

✓ 1. Wheel

✗ 2. Hammer

✗ 3. Shovel

✗ 4. Door

Question ID : 264330192251

Option 1 ID : 264330752360

Option 2 ID : 264330752359

Option 3 ID : 264330752358

Option 4 ID : 264330752361

Status : Answered

Chosen Option : 3

Q.12 Three Statements are given followed by two conclusions numbered I and II. Assuming the statements to be true, even if they seem to be at variance with commonly known facts, decide which of the conclusions logically follow(s) from the statements.

Statement I: All bats are balls.

Statement II: All balls are badmintons.

Statement III: All badmintons are wickets.

Conclusion I: All bats are wickets.

Conclusion II: Some badmintons are bats.

- Ans**
- 1. Only conclusion I follows
 - 2. Only conclusion II follows
 - 3. Neither conclusion I nor II follows
 - 4. Both conclusions I and II follow

Question ID : 264330192178
Option 1 ID : 264330752066
Option 2 ID : 264330752067
Option 3 ID : 264330752069
Option 4 ID : 264330752068
Status : Answered
Chosen Option : 4

Q.13 In the following question, select the missing number from the given series.

142, 150, 123, 187, 62, ?

- Ans**
- 1. 281
 - 2. 285
 - 3. 278
 - 4. 300

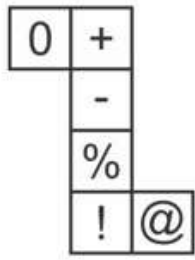
Question ID : 264330187371
Option 1 ID : 264330733414
Option 2 ID : 264330733415
Option 3 ID : 264330733412
Option 4 ID : 264330733413
Status : Answered
Chosen Option : 3

Q.14 Eight boys B1, B2, B3, B4, B5, B6, B7 and B8 are sitting in a row facing towards the north (not necessarily in the same order). B6 is fifth to the right of B1. B4 is fifth to the right of B5. B5 is to the immediate right of B1. B8 is third to the left of B4. B2 is third to the right of B7. B7 is an immediate neighbour of B1. Who is sitting on the immediate left of B1?

- Ans**
- 1. B8
 - 2. B2
 - 3. B7
 - 4. B6

Question ID : 264330190496
Option 1 ID : 264330745567
Option 2 ID : 264330745566
Option 3 ID : 264330745569
Option 4 ID : 264330745568
Status : Answered
Chosen Option : 3

Q.15 Select the cube which cannot be formed on folding the given sheet.



Ans



Question ID : 264330192165
 Option 1 ID : 264330752016
 Option 2 ID : 264330752014
 Option 3 ID : 264330752017
 Option 4 ID : 264330752015
 Status : Answered
 Chosen Option : 4

Q.16 In a certain code language, 'FORCE' is coded as '83052', 'GAMES' is coded as '42761', 'FORUM' is coded as '08957'. What is the code for 'C' in that code language?

- Ans**
- ✗ 1. 8
 - ✓ 2. 3
 - ✗ 3. 2
 - ✗ 4. 5

Question ID : 264330187045
 Option 1 ID : 264330732111
 Option 2 ID : 264330732110
 Option 3 ID : 264330732108
 Option 4 ID : 264330732109
 Status : Answered
 Chosen Option : 2

Q.17 Which of the following groups of letters when sequentially placed from left to right will complete the given series?

jklnnojklmnojk_lmnojk_m_ojklmn_

- Ans
- 1. mnol
 - 2. knlo
 - 3. klno
 - 4. jklm

Question ID : 264330192049
Option 1 ID : 264330751552
Option 2 ID : 264330751553
Option 3 ID : 264330751551
Option 4 ID : 264330751550
Status : Answered
Chosen Option : 3

Q.18 Five friends Alex, Ben, Chris, David, and Emma are sitting around a circular table facing the center. Alex sits to the immediate right of Ben. Alex is not sitting next to Chris or David. David is to the immediate right of Emma. Who is sitting to the immediate right of Chris?

- Ans
- 1. Emma
 - 2. Alex
 - 3. David
 - 4. Ben

Question ID : 264330190295
Option 1 ID : 264330744764
Option 2 ID : 264330744765
Option 3 ID : 264330744763
Option 4 ID : 264330744762
Status : Answered
Chosen Option : 4

Q.19 'I × J' means 'I is the mother of J'
'I + J' means 'I is the husband of J'
'I ÷ J' means 'I is the sister of J'
'I - J' means 'I is the brother of J'
How is Q related to Z in the expression 'Q ÷ X + Y × Z'?

- Ans
- 1. Wife
 - 2. Father's sister
 - 3. Wife's sister
 - 4. Daughter

Question ID : 264330192095
Option 1 ID : 264330751737
Option 2 ID : 264330751734
Option 3 ID : 264330751736
Option 4 ID : 264330751735
Status : Answered
Chosen Option : 2

Q.20 Which two numbers should be interchanged to make the given equation correct?

$$8 \times 9 + 4 + 5 - 3 = 2$$

- Ans
- 1. 3 and 9
 - 2. 8 and 4
 - 3. 9 and 2
 - 4. 2 and 5

Question ID : 264330188053
Option 1 ID : 264330736143
Option 2 ID : 264330736140
Option 3 ID : 264330736142
Option 4 ID : 264330736141
Status : Answered
Chosen Option : 1

Section : Part-B-General Knowledge and General awareness

Q.1 Pandit Birju Maharaj was an Indian dancer, composer, singer, and exponent of the _____ "Kalka-Bindadin" Gharana of Kathak dance in India.

- Ans
- 1. Hyderabad
 - 2. Lucknow
 - 3. Agra
 - 4. Gwalior

Question ID : 264330191411
Option 1 ID : 264330748999
Option 2 ID : 264330749001
Option 3 ID : 264330748998
Option 4 ID : 264330749000
Status : Answered
Chosen Option : 2

Q.2 Who was the founder of the Satyashodhak Samaj?

- Ans
- 1. Haridas Thakur
 - 2. Ghasidas
 - 3. Jyotirao Phule
 - 4. Ishwarchandra Vidyasagar

Question ID : 264330190936
Option 1 ID : 264330747098
Option 2 ID : 264330747100
Option 3 ID : 264330747099
Option 4 ID : 264330747101
Status : Answered
Chosen Option : 3

Q.3 Which State's Chief Minister has been awarded the Bharat Ratna Dr Ambedkar Award for fear free state, in May 2023?

- Ans
- 1. Chief Minister of Jharkhand
 - 2. Chief Minister of UP
 - 3. Chief Minister of Kerala
 - 4. Chief Minister of Bihar

Question ID : 264330191749
Option 1 ID : 264330750352
Option 2 ID : 264330750351
Option 3 ID : 264330750353
Option 4 ID : 264330750350
Status : Answered
Chosen Option : 4

Q.4 Which institution was established in 2015, in the place of Planning commission of India?

- Ans
- 1. NABARD
 - 2. NITI Aayog
 - 3. SEBI
 - 4. RBI

Question ID : 264330191927
Option 1 ID : 264330751064
Option 2 ID : 264330751065
Option 3 ID : 264330751062
Option 4 ID : 264330751063
Status : Answered
Chosen Option : 2

Q.5 According to the Women's Reservation Bill, 2023, how many seats in the Lok Sabha and state legislative assemblies are reserved for women?

- Ans
- 1. One-fourth
 - 2. Half
 - 3. One-third
 - 4. Two-thirds

Question ID : 264330191488
Option 1 ID : 264330749306
Option 2 ID : 264330749307
Option 3 ID : 264330749308
Option 4 ID : 264330749309
Status : Answered
Chosen Option : 3

Q.6 Which Indian musician is the first singer to get the highest civilian honour, the Bharat Ratna?

- Ans
- 1. R.D. Burman
 - 2. M.S. Subbulakshmi
 - 3. Zakir Hussain
 - 4. A.R. Rahman

Question ID : 264330192038
Option 1 ID : 264330751506
Option 2 ID : 264330751507
Option 3 ID : 264330751508
Option 4 ID : 264330751509
Status : Answered
Chosen Option : 2

Q.7 Who joined the Competition Commission of India (CCI) as Chairperson on 23rd May, 2023?

- Ans
- 1. Ravneet Kaur
 - 2. Naina Lal Kidwai
 - 3. Leena Nair
 - 4. Shanti Ekambaram

Question ID : 264330188674
Option 1 ID : 264330738499
Option 2 ID : 264330738501
Option 3 ID : 264330738498
Option 4 ID : 264330738500
Status : Not Answered
Chosen Option : --

Q.8 _____ is the total process of collecting, compiling, analyzing and disseminating demographic, economic and social data pertaining, at a specific time, of all persons in a country or a well-defined part of a country.

- Ans
- 1. Population Census
 - 2. National Survey
 - 3. Population
 - 4. Constitution

Question ID : 264330191734
Option 1 ID : 264330750290
Option 2 ID : 264330750291
Option 3 ID : 264330750292
Option 4 ID : 264330750293
Status : Answered
Chosen Option : 1

Q.9 Complete the statement given below with respect to the judge's removal.

The Indian Constitution :-

- Ans
- 1. prescribes a very difficult procedure for removal of judges.
 - 2. prescribes a very flexible procedure for removal of judges.
 - 3. does not prescribe a procedure for removal of judges.
 - 4. prescribes a procedure for removal of high court judges only.

Question ID : 264330190920
Option 1 ID : 264330747034
Option 2 ID : 264330747035
Option 3 ID : 264330747036
Option 4 ID : 264330747037
Status : Not Answered
Chosen Option : --

Q.10 Which of the following statements is correct regarding badminton?

- I. At the beginning of the game of badminton and when the score is even, the server serves from the left service court.
II. Server and receiver always stand in opposite service courts but on the same side.

- Ans
- 1. Both I and II
 - 2. Only II
 - 3. Only I
 - 4. Neither I nor II

Question ID : 264330190603
Option 1 ID : 264330745996
Option 2 ID : 264330745995
Option 3 ID : 264330745994
Option 4 ID : 264330745997
Status : Answered
Chosen Option : 3

Q.11 _____ is the most commonly used measure of money supply.

- Ans
- 1. M2
 - 2. M4
 - 3. M1
 - 4. M3

Question ID : 264330188689
Option 1 ID : 264330738559
Option 2 ID : 264330738561
Option 3 ID : 264330738558
Option 4 ID : 264330738560
Status : Answered
Chosen Option : 3

Q.12 Which Indian dancer won the Sangeet Natak Akademi Award for Odissi Dance in 2018?

- Ans**
- 1. Surupa Sen
 - 2. Dr. Aruna Mohanty
 - 3. Elam Endira Devi
 - 4. Akham Lakshmi Devi

Question ID : 264330191239
Option 1 ID : 264330748310
Option 2 ID : 264330748311
Option 3 ID : 264330748312
Option 4 ID : 264330748313
Status : Not Answered
Chosen Option : --

Q.13 Barash is similar to the hindu festival Diwali, which is celebrated by which of following tribes?

- Ans**
- 1. Munda
 - 2. Santhal
 - 3. Varli and Kokna
 - 4. Gond and Bhil

Question ID : 264330190811
Option 1 ID : 264330746600
Option 2 ID : 264330746601
Option 3 ID : 264330746599
Option 4 ID : 264330746598
Status : Not Answered
Chosen Option : --

Q.14 The First Economic Census of India was conducted throughout the country, except Lakshadweep, during _____ in collaboration with the States/Union Territories (UTs).

- Ans**
- 1. 1977
 - 2. 1987
 - 3. 1967
 - 4. 1997

Question ID : 264330191034
Option 1 ID : 264330747491
Option 2 ID : 264330747492
Option 3 ID : 264330747490
Option 4 ID : 264330747493
Status : Not Answered
Chosen Option : --

www.exammix.com

Q.15 When Mendeleev started his work, how many elements were known at that time?

- Ans
- 1. 29
 - 2. 47
 - 3. 36
 - 4. 63

Question ID : 264330188677
Option 1 ID : 264330738510
Option 2 ID : 264330738512
Option 3 ID : 264330738511
Option 4 ID : 264330738513
Status : Not Answered
Chosen Option : --

Q.16 According to part IVA of Indian Constitution, "who is a parent or guardian, has a duty to provide opportunities for education to his child or, as the case may be, ward between the age of _____."

- Ans
- 1. 4-14
 - 2. 6-14
 - 3. 6-12
 - 4. 2-6

Question ID : 264330191420
Option 1 ID : 264330749035
Option 2 ID : 264330749036
Option 3 ID : 264330749037
Option 4 ID : 264330749034
Status : Answered
Chosen Option : 2

Q.17 The IAAF World Championships in Athletics became a fully professional competition from _____.

- Ans
- 1. 1991
 - 2. 1993
 - 3. 1997
 - 4. 1995

Question ID : 264330188847
Option 1 ID : 264330739190
Option 2 ID : 264330739191
Option 3 ID : 264330739193
Option 4 ID : 264330739192
Status : Not Answered
Chosen Option : --

www.exammix.com

Q.18 Open Network for Digital Commerce (ONDC) is an initiative by _____.

- Ans
- 1. Ministry of Information and Broadcasting
 - 2. Department for Promotion of Industry and Internal Trade
 - 3. Ministry of Statistics and Program Implementation
 - 4. NITI Aayog

Question ID : 264330188850
Option 1 ID : 264330739205
Option 2 ID : 264330739203
Option 3 ID : 264330739204
Option 4 ID : 264330739202
Status : Not Answered
Chosen Option : --

Q.19 What is the name of the earliest form of writing known in the Indian subcontinent?

- Ans
- 1. Pali Script
 - 2. Indus Script
 - 3. Brahmi Script
 - 4. Sanskrit Script

Question ID : 264330191476
Option 1 ID : 264330749258
Option 2 ID : 264330749260
Option 3 ID : 264330749259
Option 4 ID : 264330749261
Status : Answered
Chosen Option : 3

Q.20 Rangaswami Cup is associated with sports _____.

- Ans
- 1. Hockey
 - 2. Football
 - 3. Tennis
 - 4. Badminton

Question ID : 264330191462
Option 1 ID : 264330749203
Option 2 ID : 264330749204
Option 3 ID : 264330749205
Option 4 ID : 264330749202
Status : Answered
Chosen Option : 1

Section : Part-C-Elementary Mathematics

Q.1 R can do a work in 90 days. What percent work of the total work can be done by R in 45 days?

- Ans
- 1. 70 percent
 - 2. 65 percent
 - 3. 50 percent
 - 4. 56 percent

Question ID : 264330188016
Option 1 ID : 264330735993
Option 2 ID : 264330735995
Option 3 ID : 264330735992
Option 4 ID : 264330735994
Status : Answered
Chosen Option : 3

Q.2 Rohit buys an old bat for Rs. 2320 and spends Rs. 180 on its repairing. If he sells it for Rs. 2400, then what is the loss percentage?

- Ans
- 1. 10 percent
 - 2. 5 percent
 - 3. 8 percent
 - 4. 4 percent

Question ID : 264330187187
Option 1 ID : 264330732677
Option 2 ID : 264330732676
Option 3 ID : 264330732679
Option 4 ID : 264330732678
Status : Answered
Chosen Option : 4

Q.3 Evaluate:

$$\{(175 \times 72 \div 24 + 5) \times 20\} \div 2$$

- Ans
- 1. 5800
 - 2. 4300
 - 3. 5300
 - 4. 4850

Question ID : 264330192288
Option 1 ID : 264330752509
Option 2 ID : 264330752506
Option 3 ID : 264330752508
Option 4 ID : 264330752507
Status : Answered
Chosen Option : 3

Q.4 The ages of 7 men in a cricket team are 26, 25, 21, 29, 24, 28 and 22. What is their average age?

- Ans
- 1. 24
 - 2. 23
 - 3. 25
 - 4. 22

Question ID : 264330192292
Option 1 ID : 264330752524
Option 2 ID : 264330752523
Option 3 ID : 264330752525
Option 4 ID : 264330752522
Status : Answered
Chosen Option : 3

Q.5 What is the value of $[41 \times \{36 \text{ of } 4 \div (96 \text{ of } 2 \div 24)\}]$?

- Ans
- 1. 779
 - 2. 738
 - 3. 697
 - 4. 656

Question ID : 264330187460
Option 1 ID : 264330733771
Option 2 ID : 264330733770
Option 3 ID : 264330733768
Option 4 ID : 264330733769
Status : Answered
Chosen Option : 2

Q.6 Find the value of $(7 + 33) \times (44 \div 2) \times (5 \times 5)$.

- Ans
- 1. 22,000
 - 2. 21,000
 - 3. 25,000
 - 4. 22,500

Question ID : 264330188079
Option 1 ID : 264330736247
Option 2 ID : 264330736245
Option 3 ID : 264330736244
Option 4 ID : 264330736246
Status : Answered
Chosen Option : 1

Q.7 There are 44 mangoes, 121 bananas and 11 apples, they have to be arranged in several rows in such a way that every row contains equal number of fruits and each row contains fruit of one type. What is the minimum number of rows?

- Ans**
- 1. 16
 - 2. 14
 - 3. 13
 - 4. 15

Question ID : 264330187202
Option 1 ID : 264330732737
Option 2 ID : 264330732736
Option 3 ID : 264330732739
Option 4 ID : 264330732738
Status : Answered
Chosen Option : 1

Q.8 Two trains are running in opposite direction with the same speed. If the length of each train is 320 metres and they cross each other in 18 seconds, then what is the speed of each train?

- Ans**
- 1. 64 km/hr
 - 2. 56 km/hr
 - 3. 72 km/hr
 - 4. 48 km/hr

Question ID : 264330187695
Option 1 ID : 264330734709
Option 2 ID : 264330734710
Option 3 ID : 264330734711
Option 4 ID : 264330734708
Status : Answered
Chosen Option : 1

Q.9 Selling price of an article is Rs. 5175 and discount of 25 percent is offered. What is the marked price of the article?

- Ans**
- 1. Rs. 6600
 - 2. Rs. 6900
 - 3. Rs. 7000
 - 4. Rs. 8500

Question ID : 264330187289
Option 1 ID : 264330733086
Option 2 ID : 264330733087
Option 3 ID : 264330733085
Option 4 ID : 264330733084
Status : Answered
Chosen Option : 2

Q.10 Rs. 7200 is divided among P, Q and R in the ratio of $1/2 : 4 : 3/2$ respectively. What is the share of R?

- Ans**
- 1. Rs. 1800
 - 2. Rs. 2400
 - 3. Rs. 4800
 - 4. Rs. 600

Question ID : 264330191641
Option 1 ID : 264330749920
Option 2 ID : 264330749921
Option 3 ID : 264330749919
Option 4 ID : 264330749918
Status : Answered
Chosen Option : 1

Q.11 In an exam, out of total number of appeared students 93 percent students passed and 9275 students failed. What is the total number of students appeared in the exam?

- Ans**
- 1. 135500
 - 2. 135550
 - 3. 132550
 - 4. 132500

Question ID : 264330187725
Option 1 ID : 264330734830
Option 2 ID : 264330734831
Option 3 ID : 264330734828
Option 4 ID : 264330734829
Status : Answered
Chosen Option : 4

Q.12 A sum of money placed at compound interest (compounding annually) doubles itself in 10 years. Find the time in which it will amount to 4 times itself.

- Ans**
- 1. 10 years
 - 2. 15 years
 - 3. 14 years
 - 4. 20 years

Question ID : 264330191162
Option 1 ID : 264330748005
Option 2 ID : 264330748002
Option 3 ID : 264330748004
Option 4 ID : 264330748003
Status : Answered
Chosen Option : 4

Q.13 In one year, the average monthly expenditure of Sapna was Rs. 1100 for the first 3 months of the year, Rs. 1000 for the next 5 months and Rs. 1200 for the last 4 months. If the total annual saving was Rs. 1300, then what was sapna's average monthly income?

- Ans**
- 1. Rs. 1200
 - 2. Rs. 1250
 - 3. Rs. 1210
 - 4. Rs. 1270

Question ID : 264330187944
Option 1 ID : 264330735706
Option 2 ID : 264330735704
Option 3 ID : 264330735705
Option 4 ID : 264330735707
Status : Answered
Chosen Option : 1

Q.14 A student scores 75% in a test and gets 30 marks more than another student who scored 60%. What is the maximum marks in the test?

- Ans**
- 1. 120
 - 2. 200
 - 3. 150
 - 4. 100

Question ID : 264330191174
Option 1 ID : 264330748052
Option 2 ID : 264330748053
Option 3 ID : 264330748051
Option 4 ID : 264330748050
Status : Answered
Chosen Option : 2

Q.15 Both A and B sells their watch at the rate of Rs. 5000 per watch. A earned a profit of 25 percent while B incurred a loss of 10 percent. What is the ratio of cost prices of A and B?

- Ans**
- 1. 17 : 20
 - 2. 18 : 25
 - 3. 16 : 25
 - 4. 9 : 10

Question ID : 264330187928
Option 1 ID : 264330735641
Option 2 ID : 264330735640
Option 3 ID : 264330735643
Option 4 ID : 264330735642
Status : Answered
Chosen Option : 2

Q.16 If the length of a rectangle is increased by 14.28 percent, then by how much percentage its breadth should be reduced to keep the area same?

- Ans**
- 1. 14.28 percent
 - 2. 12.5 percent
 - 3. 14 percent
 - 4. 16.66 percent

Question ID : 264330187638
Option 1 ID : 264330734482
Option 2 ID : 264330734480
Option 3 ID : 264330734483
Option 4 ID : 264330734481
Status : Answered
Chosen Option : 2

Q.17 Marked price of a chair is Rs. 2000. After giving two successive discounts of 20 percent and x percent, the chair is sold for Rs. 1400. What is the value of x?

- Ans**
- 1. 12.5 percent
 - 2. 20 percent
 - 3. 25 percent
 - 4. 10 percent

Question ID : 264330187750
Option 1 ID : 264330734930
Option 2 ID : 264330734931
Option 3 ID : 264330734928
Option 4 ID : 264330734929
Status : Answered
Chosen Option : 1

Q.18 If $M : N = 9 : 6$, then what is the value of $(M + N) : (M - N)$?

- Ans**
- 1. 5 : 2
 - 2. 5 : 4
 - 3. 5 : 1
 - 4. 1 : 5

Question ID : 264330188564
Option 1 ID : 264330738059
Option 2 ID : 264330738061
Option 3 ID : 264330738058
Option 4 ID : 264330738060
Status : Answered
Chosen Option : 3

Q.19 After working for 8 days, Rakhi finds that only 10 percent of the work is completed. She employs Poonam who is 20 percent more efficient than Rakhi. How many more days will they together take to complete the remaining work?

- Ans**
- 1. 340/11 days
 - 2. 340/7 days
 - 3. 360/7 days
 - 4. 360/11 days

Question ID : 264330191646
Option 1 ID : 264330749940
Option 2 ID : 264330749941
Option 3 ID : 264330749938
Option 4 ID : 264330749939
Status : Answered
Chosen Option : 4

Q.20 The simple interest received on a sum for 40 years is $\frac{2}{5}$ of the sum. What is the annual rate of interest?

- Ans**
- 1. 1.5 percent
 - 2. 2 percent
 - 3. 1 percent
 - 4. 3 percent

Question ID : 264330187673
Option 1 ID : 264330734623
Option 2 ID : 264330734621
Option 3 ID : 264330734622
Option 4 ID : 264330734620
Status : Answered
Chosen Option : 3

Section : Part-D-English

Q.1 The sentence has been divided into three parts, identify the error segment in the sentence given below. Choose no error if there is no error in the sentence.
She is not as taller as her/ older brother, but she is/ equally skilled in basketball.

- Ans**
- 1. older brother, but she is
 - 2. no error
 - 3. equally skilled in basketball.
 - 4. She is not as taller as her

Question ID : 264330186403
Option 1 ID : 264330729829
Option 2 ID : 264330729831
Option 3 ID : 264330729830
Option 4 ID : 264330729828
Status : Answered
Chosen Option : 4

Q.2 Select the most appropriate option for the given blank.

My puns are usually greeted _____ loud applause by my friends.

- Ans
- 1. for
 - 2. to
 - 3. against
 - 4. with

Question ID : 264330185567
Option 1 ID : 264330726646
Option 2 ID : 264330726647
Option 3 ID : 264330726645
Option 4 ID : 264330726644
Status : Answered
Chosen Option : 4

Q.3 Choose the idiom/phrase that can substitute the highlighted group of words meaningfully.

He often **changes plans** while doing his work. So, his tasks remain incomplete.

- Ans
- 1. Break a leg
 - 2. Change horses in midstream
 - 3. In seventh heaven
 - 4. Spill the beans

Question ID : 264330186692
Option 1 ID : 264330730930
Option 2 ID : 264330730929
Option 3 ID : 264330730931
Option 4 ID : 264330730928
Status : Answered
Chosen Option : 2

Q.4 Improve the underlined part of the sentence. Choose 'No improvement' as an answer if the sentence is grammatically correct.

I meet an homeless person in New York.

- Ans
- 1. met an homeless
 - 2. will met a homeless
 - 3. met a homeless
 - 4. No improvement

Question ID : 264330186678
Option 1 ID : 264330730877
Option 2 ID : 264330730878
Option 3 ID : 264330730876
Option 4 ID : 264330730879
Status : Answered
Chosen Option : 3

Q.5 In the following question, out of the given four alternatives, select the alternative which best expresses the meaning of the Idiom/Phrase.

Have a good run

Ans ✓ 1.

To experience joy or success in some endeavour, but only for a limited period of time

✗ 2. A good amount of money

✗ 3. A long journey

✗ 4. To escape from a prison

Question ID : 264330186165

Option 1 ID : 264330728923

Option 2 ID : 264330728922

Option 3 ID : 264330728920

Option 4 ID : 264330728921

Status : Answered

Chosen Option : 1

Q.6 Four sentences are given, out of which three have all correct spellings. Choose the sentence with the incorrect spelt word/ words.

Ans ✗ 1.

I slipped the ramrod down it to make sure it was loaded, then I laid it across the turnip barrel, pointing towards pap.

✗ 2. That made me pretty uneasy again, but only for a minute.

✓ 3.

But the hope in his wisdom was at length changed into dred, for no one beleived him when he said he knew no charms.

✗ 4.

He said he would watch out, and if they tried to come any such game on him he knew of a place six or seven mile off to stow me in.

Question ID : 264330186038

Option 1 ID : 264330728439

Option 2 ID : 264330728438

Option 3 ID : 264330728436

Option 4 ID : 264330728437

Status : Answered

Chosen Option : 3

Q.7 Fill in the blank with the most appropriate option.

Her mother is a wonderful host, she prepared for us a seven _____ meal all by herself.

Ans ✓ 1. course

✗ 2. coarse

✗ 3. coarser

✗ 4. courser

Question ID : 264330186884

Option 1 ID : 264330731663

Option 2 ID : 264330731660

Option 3 ID : 264330731662

Option 4 ID : 264330731661

Status : Answered

Chosen Option : 1

Q.8 Select the sentence with no spelling errors.

Ans 1.

I had to play melody while simultaneously playing harmuny with him.

2.

I had to play melody while simultanously playing harmony with him.

3.

I had to play melody while simultaneously playing harmony with him.

4.

I had to play melodie while simultaneously playing harmony with him.

Question ID : 264330185979

Option 1 ID : 264330728215

Option 2 ID : 264330728213

Option 3 ID : 264330728212

Option 4 ID : 264330728214

Status : Answered

Chosen Option : 3

Q.9 Identify the segment that contains a grammatical error. If there is no error, select 'No error'.

And thereupon he sudden remembered / that he was not sleeping in his wife's room, but in his study, / and the smile vanished from his face.

Ans 1. No error

2. and the smile vanished from his face.

3.

that he was not sleeping in his wife's room, but in his study,

4. And thereupon he sudden remembered

Question ID : 264330186507

Option 1 ID : 264330730227

Option 2 ID : 264330730226

Option 3 ID : 264330730225

Option 4 ID : 264330730224

Status : Answered

Chosen Option : 4

Q.10 Four words are given, out of which only one word is spelt correct. Choose the correct spelt word.

Ans 1. SUPRISE

2. SUCCESFUL

3. WITHHOLD

4. RELEVENT

Question ID : 264330186903

Option 1 ID : 264330731732

Option 2 ID : 264330731733

Option 3 ID : 264330731734

Option 4 ID : 264330731735

Status : Answered

Chosen Option : 3

Q.11 Improve the underlined part of the sentence. Choose 'No improvement' as an answer if the sentence is grammatically correct.

My aunt has a petted Rhode Island Red rooster.

Ans 1. No improvement

2. have a pet

3. had a petting

4. has a pet

Question ID : 264330186742

Option 1 ID : 264330731123

Option 2 ID : 264330731121

Option 3 ID : 264330731122

Option 4 ID : 264330731120

Status : Answered

Chosen Option : 4

Q.12 Find the part of the given sentence that has an error in it. If there is no error, choose 'No error'.

The health agency has encourage people around the world to wash their hands regularly.

Ans 1. people around the world to

2. wash their hands regularly.

3. The health agency has encourage

4. No error

Question ID : 264330186698

Option 1 ID : 264330730953

Option 2 ID : 264330730954

Option 3 ID : 264330730952

Option 4 ID : 264330730955

Status : Answered

Chosen Option : 3

Q.13 Select the most appropriate word to fill in the blank.

Mansa is not _____ than Mamta.

Ans 1. tallest

2. more taller

3. tall

4. taller

Question ID : 264330186743

Option 1 ID : 264330731126

Option 2 ID : 264330731127

Option 3 ID : 264330731124

Option 4 ID : 264330731125

Status : Answered

Chosen Option : 4

Q.14 Choose the word that is opposite in meaning to the given word.

Antipathy

- Ans
- 1. Lament
 - 2. Fecund
 - 3. Love
 - 4. Hate

Question ID : 264330186752
Option 1 ID : 264330731156
Option 2 ID : 264330731159
Option 3 ID : 264330731157
Option 4 ID : 264330731158
Status : Answered
Chosen Option : 3

Q.15 From the options given below choose the synonym (similar meaning) of the word:

Enervate

- Ans
- 1. Insecure
 - 2. Desolation
 - 3. Secure
 - 4. Devitalize

Question ID : 264330186436
Option 1 ID : 264330729953
Option 2 ID : 264330729955
Option 3 ID : 264330729952
Option 4 ID : 264330729954
Status : Not Answered
Chosen Option : --

Comprehension:

Read the passage carefully and select the correct answer for the given blanks out of the four alternatives.

The causes of bipolar disorder aren't completely understood, but it often (1) _____ to be hereditary. The first manic or depressive episode of bipolar disorder usually (2) _____ in the teenage years or early adulthood. The symptoms can be subtle and confusing; many people with bipolar disorder are overlooked or misdiagnosed—resulting in unnecessary (3) _____. Since bipolar disorder tends to worsen without treatment, it's important to learn (4) _____ the symptoms look like. Recognizing the problem is the first step to feeling better and getting your life back on (5) _____.

SubQuestion No : 16

Q.16 Select the most appropriate option for blank(1)

- Ans
- 1. signs
 - 2. injects
 - 3. pings
 - 4. appears

Question ID : 264330186326
Option 1 ID : 264330729533
Option 2 ID : 264330729534
Option 3 ID : 264330729532
Option 4 ID : 264330729535
Status : Answered
Chosen Option : 4

Comprehension:

Read the passage carefully and select the correct answer for the given blanks out of the four alternatives.

The causes of bipolar disorder aren't completely understood, but it often (1) _____ to be hereditary. The first manic or depressive episode of bipolar disorder usually (2) _____ in the teenage years or early adulthood. The symptoms can be subtle and confusing; many people with bipolar disorder are overlooked or misdiagnosed—resulting in unnecessary (3) _____. Since bipolar disorder tends to worsen without treatment, it's important to learn (4) _____ the symptoms look like. Recognizing the problem is the first step to feeling better and getting your life back on (5) _____.

SubQuestion No : 17

Q.17 Select the most appropriate option for blank(2)

- Ans
- 1. turns
 - 2. dwindles
 - 3. occurs
 - 4. differs

Question ID : 264330186327
Option 1 ID : 264330729539
Option 2 ID : 264330729536
Option 3 ID : 264330729538
Option 4 ID : 264330729537
Status : Answered
Chosen Option : 3

Comprehension:

Read the passage carefully and select the correct answer for the given blanks out of the four alternatives.

The causes of bipolar disorder aren't completely understood, but it often (1) _____ to be hereditary. The first manic or depressive episode of bipolar disorder usually (2) _____ in the teenage years or early adulthood. The symptoms can be subtle and confusing; many people with bipolar disorder are overlooked or misdiagnosed—resulting in unnecessary (3) _____. Since bipolar disorder tends to worsen without treatment, it's important to learn (4) _____ the symptoms look like. Recognizing the problem is the first step to feeling better and getting your life back on (5) _____.

SubQuestion No : 18

Q.18 Select the most appropriate option for blank(3)

- Ans
- 1. chaos
 - 2. blunder
 - 3. caressing
 - 4. suffering

Question ID : 264330186328
Option 1 ID : 264330729543
Option 2 ID : 264330729540
Option 3 ID : 264330729542
Option 4 ID : 264330729541
Status : Answered
Chosen Option : 4

Comprehension:

Read the passage carefully and select the correct answer for the given blanks out of the four alternatives.

The causes of bipolar disorder aren't completely understood, but it often (1) _____ to be hereditary. The first manic or depressive episode of bipolar disorder usually (2) _____ in the teenage years or early adulthood. The symptoms can be subtle and confusing; many people with bipolar disorder are overlooked or misdiagnosed—resulting in unnecessary (3) _____. Since bipolar disorder tends to worsen without treatment, it's important to learn (4) _____ the symptoms look like. Recognizing the problem is the first step to feeling better and getting your life back on (5) _____.

SubQuestion No : 19

Q.19 Select the most appropriate option for blank(4)

- Ans
- 1. what
 - 2. why
 - 3. which
 - 4. where

Question ID : 264330186329
Option 1 ID : 264330729544
Option 2 ID : 264330729546
Option 3 ID : 264330729545
Option 4 ID : 264330729547
Status : Answered
Chosen Option : 1

Comprehension:

Read the passage carefully and select the correct answer for the given blanks out of the four alternatives.

The causes of bipolar disorder aren't completely understood, but it often (1) _____ to be hereditary. The first manic or depressive episode of bipolar disorder usually (2) _____ in the teenage years or early adulthood. The symptoms can be subtle and confusing; many people with bipolar disorder are overlooked or misdiagnosed—resulting in unnecessary (3) _____. Since bipolar disorder tends to worsen without treatment, it's important to learn (4) _____ the symptoms look like. Recognizing the problem is the first step to feeling better and getting your life back on (5) _____.

SubQuestion No : 20

Q.20 Select the most appropriate option for blank(5)

- Ans
- 1. platform
 - 2. track
 - 3. time
 - 4. system

Question ID : 264330186330
Option 1 ID : 264330729549
Option 2 ID : 264330729551
Option 3 ID : 264330729548
Option 4 ID : 264330729550
Status : Answered
Chosen Option : 2

Section : Part-D-Hindi

Q.1 निम्नलिखित प्रश्न में, चार विकल्पों में से, उस विकल्प का चयन करें जो कोष्ठक में दिए गए शब्द के तत्सम रूप का सही विकल्प है।
मेरे पड़ोसी का घर बन रहा है इसलिए बहुत सी (ईंट) _____ मँगवाई गई है।

- Ans
- 1. गंडक
 - 2. इष्टिका
 - 3. अक्ष
 - 4. रेट

Question ID : 264330189813
Option 1 ID : 264330742888
Option 2 ID : 264330742887
Option 3 ID : 264330742889
Option 4 ID : 264330742886
Status : Not Answered
Chosen Option : --

Q.2 निम्नलिखित प्रश्न में, चार विकल्पों में से, उस विकल्प का चयन करें जो कोष्ठक में दिए गए शब्द के पर्यायवाची शब्द का सही विकल्प नहीं है।
ईश्वर की शरण में जाना ही (उद्धार) _____ प्राप्ति का एक मात्र मार्ग है।

- Ans
- 1. छुटकारा
 - 2. परित्राण
 - 3. विमुक्ति
 - 4. उद्गम

Question ID : 264330189930
Option 1 ID : 264330743331
Option 2 ID : 264330743332
Option 3 ID : 264330743330
Option 4 ID : 264330743333
Status : Not Answered
Chosen Option : --

Q.3 निम्नलिखित प्रश्न में, चार विकल्पों में से, उस विकल्प का चयन करें जो रिक्त स्थान के लिए सही शब्द वाला विकल्प हो।
महाभारत में कहा गया है कि जो सब धर्मों को सम्मान नहीं देता, वह धर्म नहीं _____ है।

- Ans
- 1. तपस्या
 - 2. अधर्म
 - 3. आचार
 - 4. सधर्म

Question ID : 264330189669
Option 1 ID : 264330742340
Option 2 ID : 264330742339
Option 3 ID : 264330742341
Option 4 ID : 264330742338
Status : Not Answered
Chosen Option : --

Q.4 निम्नलिखित प्रश्न में, चार विकल्पों में से, उस विकल्प का चयन करें जो दिए गए मुहावरे का सही अर्थ वाला विकल्प है।
अलाहीन का चिराग

- Ans
- 1. पूरी तरह से वश में करना
 - 2. भाग्य खुलना
 - 3. आश्चर्यजनक वस्तु
 - 4. आमना-सामना होना

Question ID : 264330189724
Option 1 ID : 264330742549
Option 2 ID : 264330742546
Option 3 ID : 264330742548
Option 4 ID : 264330742547
Status : Not Answered
Chosen Option : --

Q.5 दिए गए वाक्य में रेखांकित भाग के लिए उचित सार्थक शब्द का चयन कीजिए।

रात होते ही झभी बढ़ गई है।

- Ans
- 1. भाड़
 - 2. झाभ
 - 3. भीड़
 - 4. भड़ा

Question ID : 264330189329
Option 1 ID : 264330741042
Option 2 ID : 264330741045
Option 3 ID : 264330741044
Option 4 ID : 264330741043
Status : Not Answered
Chosen Option : --

Q.6 दिए गए वाक्य में रेखांकित शब्द का विलोम शब्द ज्ञात कीजिए।

सामान का दुरुपयोग न करें।

- Ans
- 1. कुरूपयोग
 - 2. सदुपयोग
 - 3. निरूपयोग
 - 4. कठोर

Question ID : 264330189197
Option 1 ID : 264330740540
Option 2 ID : 264330740539
Option 3 ID : 264330740541
Option 4 ID : 264330740538
Status : Not Answered
Chosen Option : --

Q.7 निम्नलिखित वाक्य में, उस वाक्यांश को पहचानिए जिसमें अशुद्धियाँ हैं। यदि कोई गलती नहीं है तो 'कोई त्रुटि नहीं है' का चुनाव कीजिए।
हर साल के विश्व पर्यावरण दिवस को कुछ न कुछ विषय के/ साथ मनाई जाती है, और यह विषय विशेष रूप से पर्यावरण पर/ किसी एक चिंता पर ध्यान आकर्षित करने के लिए होता है।

- Ans
- ✗ 1. किसी एक चिंता पर ध्यान आकर्षित करने के लिए होता है
 - ✗ 2. कोई त्रुटि नहीं है
 - ✗ 3. हर साल के विश्व पर्यावरण दिवस को कुछ न कुछ विषय के
 - ✓ 4. साथ मनाई जाती है, और यह विषय विशेष रूप से पर्यावरण पर

Question ID : 264330189916
Option 1 ID : 264330743280
Option 2 ID : 264330743281
Option 3 ID : 264330743278
Option 4 ID : 264330743279
Status : Not Answered
Chosen Option : --

Q.8 दिए गए विकल्पों में से शुद्ध वर्तनी वाले विकल्प का चयन करें।

- Ans
- ✗ 1. यह मशिन सब कार्य करती है।
 - ✓ 2. औरत में बहुत शक्ति होती है।
 - ✗ 3. दिपक रोशनी प्रदान करता है।
 - ✗ 4. राम की तूलना कबीर से मत करो।

Question ID : 264330189495
Option 1 ID : 264330741677
Option 2 ID : 264330741676
Option 3 ID : 264330741675
Option 4 ID : 264330741674
Status : Not Answered
Chosen Option : --

Q.9 निम्नलिखित प्रश्न में, चार विकल्पों में से, उस विकल्प का चयन करें जो रिक्त स्थान के लिए सही पुल्लिंग रूप वाला विकल्प हो।
मैं _____ में अपने परिवार के साथ घूमने जाने वाली हूँ।

- Ans
- ✗ 1. अपनेपन
 - ✗ 2. कल
 - ✗ 3. गाड़ी
 - ✓ 4. दिसंबर

Question ID : 264330189857
Option 1 ID : 264330743055
Option 2 ID : 264330743054
Option 3 ID : 264330743057
Option 4 ID : 264330743056
Status : Not Answered
Chosen Option : --

Q.10 दिए गए वाक्य में रेखांकित शब्द का विलोम शब्द ज्ञात कीजिए।

संसार नश्वर है।

- Ans
- 1. दानव
 - 2. संपन्न
 - 3. सहित
 - 4. अनश्वर

Question ID : 264330189156
Option 1 ID : 264330740384
Option 2 ID : 264330740383
Option 3 ID : 264330740385
Option 4 ID : 264330740382
Status : Not Answered
Chosen Option : --

Q.11 निम्नलिखित प्रश्न में, दिए गए चार विकल्पों में से, उस विकल्प का चयन करें जो दिए गए मुहावरे के अर्थ को सर्वश्रेष्ठ रूप से व्यक्त करता है।

झाँसा देना

- Ans
- 1. धोखा देना
 - 2. धोखा मिलना
 - 3. भड़काना
 - 4. धोखा होना

Question ID : 264330189452
Option 1 ID : 264330741510
Option 2 ID : 264330741511
Option 3 ID : 264330741513
Option 4 ID : 264330741512
Status : Not Answered
Chosen Option : --

Q.12 दिए गए वाक्य का वह भाग ज्ञात करें, जिसमें कोई त्रुटि है। यदि कोई त्रुटि नहीं है, तो 'कोई त्रुटि नहीं है' चुनें।

विद्यार्थी शब्द दो शब्द के योग से बना है - विद्या + अर्थी।

- Ans
- 1. कोई त्रुटि नहीं है
 - 2. 'विद्यार्थी' शब्द दो
 - 3. बना है - विद्या + अर्थी।
 - 4. शब्द के योग से

Question ID : 264330189247
Option 1 ID : 264330740733
Option 2 ID : 264330740730
Option 3 ID : 264330740732
Option 4 ID : 264330740731
Status : Not Answered
Chosen Option : --

Q.13 निम्नलिखित वाक्य में रेखांकित भाग के लिए एक सार्थक शब्द ज्ञात कीजिए।

पुस्तकालय में हाथ से लिखी एक भी पुस्तक उपलब्ध नहीं है।

- Ans
- 1. चित्रपुस्तक
 - 2. पांडुलिपि
 - 3. छायाप्रति
 - 4. प्रतिलिपि

Question ID : 264330190054
Option 1 ID : 264330743805
Option 2 ID : 264330743802
Option 3 ID : 264330743804
Option 4 ID : 264330743803
Status : Not Answered
Chosen Option : --

Q.14 निम्नलिखित वाक्य में रेखांकित भाग के लिए एक सार्थक शब्द ज्ञात कीजिए।

देवताओं का उपवन बहुत सुंदर होता है।

- Ans
- 1. नंदनकानन
 - 2. स्वर्ग
 - 3. अशोकवाटिका
 - 4. राधारणी वन

Question ID : 264330192818
Option 1 ID : 264330754622
Option 2 ID : 264330754623
Option 3 ID : 264330754624
Option 4 ID : 264330754625
Status : Not Answered
Chosen Option : --

Q.15 दिए गए वाक्य में उचित पर्यायवाची शब्द का चयन करके रिक्त स्थान की पूर्ति करें।

पर्वत _____ (स्थिर) है।

- Ans
- 1. निश्चल
 - 2. गिरावट
 - 3. मंगल
 - 4. सुगम

Question ID : 264330189007
Option 1 ID : 264330739816
Option 2 ID : 264330739815
Option 3 ID : 264330739814
Option 4 ID : 264330739817
Status : Not Answered
Chosen Option : --

Comprehension:

नीचे दिए गए गद्य में कुछ शब्द छोड़ दिए गए हैं और प्रत्येक रिक्त स्थान के चार विकल्प दिए गए हैं। इन चारों में से कौन सा विकल्प रिक्त स्थान की पूर्ति करेगा-

डॉक्टर्स विदाउट बॉर्डर्स, जिसे मेडिसिन्स सैन्स फ्रंटियर्स (एमएसएफ) के नाम से भी जाना जाता है, फ्रांस का एक गैर-सरकारी (1)_____ है जो युद्ध क्षेत्रों और बीमारियों से (2)_____ देशों में मानवीय चिकित्सा देखभाल प्रदान करता है। यह संगठन (3)_____ बीमारियों जैसे मधुमेह, दवा-प्रतिरोधी संक्रमण, एचआईवी/एड्स, हेपेटाइटिस सी के उपचार में मदद करता है। एमएसएफ को कई महाद्वीपों पर उनके (4)_____ कार्यों के लिए 1999 में नोबेल शांति (5)_____ से सम्मानित किया गया था।

SubQuestion No : 16

Q.16 रिक्त1 के लिए सबसे उपयुक्त विकल्प का चयन कीजिए।

- Ans
- 1. सांयकाल
 - 2. हार्डवेयर
 - 3. सॉफ्टवेयर
 - 4. संगठन

Question ID : 264330188978

Option 1 ID : 264330739704

Option 2 ID : 264330739703

Option 3 ID : 264330739702

Option 4 ID : 264330739705

Status : Not Answered

Chosen Option : --

Comprehension:

नीचे दिए गए गद्य में कुछ शब्द छोड़ दिए गए हैं और प्रत्येक रिक्त स्थान के चार विकल्प दिए गए हैं। इन चारों में से कौन सा विकल्प रिक्त स्थान की पूर्ति करेगा-

डॉक्टर्स विदाउट बॉर्डर्स, जिसे मेडिसिन्स सैन्स फ्रंटियर्स (एमएसएफ) के नाम से भी जाना जाता है, फ्रांस का एक गैर-सरकारी (1)_____ है जो युद्ध क्षेत्रों और बीमारियों से (2)_____ देशों में मानवीय चिकित्सा देखभाल प्रदान करता है। यह संगठन (3)_____ बीमारियों जैसे मधुमेह, दवा-प्रतिरोधी संक्रमण, एचआईवी/एड्स, हेपेटाइटिस सी के उपचार में मदद करता है। एमएसएफ को कई महाद्वीपों पर उनके (4)_____ कार्यों के लिए 1999 में नोबेल शांति (5)_____ से सम्मानित किया गया था।

SubQuestion No : 17

Q.17 रिक्त2 के लिए सबसे उपयुक्त विकल्प का चयन कीजिए।

- Ans
- 1. प्रभावित
 - 2. राजपथ
 - 3. अतिक्रमण
 - 4. परिचय

Question ID : 264330188979

Option 1 ID : 264330739706

Option 2 ID : 264330739709

Option 3 ID : 264330739708

Option 4 ID : 264330739707

Status : Not Answered

Chosen Option : --

Comprehension:

नीचे दिए गए गद्य में कुछ शब्द छोड़ दिए गए हैं और प्रत्येक रिक्त स्थान के चार विकल्प दिए गए हैं। इन चारों में से कौन सा विकल्प रिक्त स्थान की पूर्ति करेगा-

डॉक्टर्स विदाउट बॉर्डर्स, जिसे मेडेसिन्स सैन्स फ्रंटियर्स (एमएसएफ) के नाम से भी जाना जाता है, फ्रांस का एक गैर-सरकारी (1)_____ है जो युद्ध क्षेत्रों और बीमारियों से (2)_____ देशों में मानवीय चिकित्सा देखभाल प्रदान करता है। यह संगठन (3)_____ बीमारियों जैसे मधुमेह, दवा-प्रतिरोधी संक्रमण, एचआईवी/एड्स, हेपेटाइटिस सी के उपचार में मदद करता है। एमएसएफ को कई महाद्वीपों पर उनके (4)_____ कार्यों के लिए 1999 में नोबेल शांति (5)_____ से सम्मानित किया गया था।

SubQuestion No : 18

Q.18 रिक्त3 के लिए सबसे उपयुक्त विकल्प का चयन कीजिए।

- Ans
- 1. अनुग्रह
 - 2. विभिन्न
 - 3. विनाश
 - 4. अत्यंत

Question ID : 264330188980

Option 1 ID : 264330739711

Option 2 ID : 264330739712

Option 3 ID : 264330739713

Option 4 ID : 264330739710

Status : Not Answered

Chosen Option : --

Comprehension:

नीचे दिए गए गद्य में कुछ शब्द छोड़ दिए गए हैं और प्रत्येक रिक्त स्थान के चार विकल्प दिए गए हैं। इन चारों में से कौन सा विकल्प रिक्त स्थान की पूर्ति करेगा-

डॉक्टर्स विदाउट बॉर्डर्स, जिसे मेडेसिन्स सैन्स फ्रंटियर्स (एमएसएफ) के नाम से भी जाना जाता है, फ्रांस का एक गैर-सरकारी (1)_____ है जो युद्ध क्षेत्रों और बीमारियों से (2)_____ देशों में मानवीय चिकित्सा देखभाल प्रदान करता है। यह संगठन (3)_____ बीमारियों जैसे मधुमेह, दवा-प्रतिरोधी संक्रमण, एचआईवी/एड्स, हेपेटाइटिस सी के उपचार में मदद करता है। एमएसएफ को कई महाद्वीपों पर उनके (4)_____ कार्यों के लिए 1999 में नोबेल शांति (5)_____ से सम्मानित किया गया था।

SubQuestion No : 19

Q.19 रिक्त4 के लिए सबसे उपयुक्त विकल्प का चयन कीजिए।

- Ans
- 1. अनुभव
 - 2. मानवीय
 - 3. अतिशोक्ति
 - 4. बेकार

Question ID : 264330188981

Option 1 ID : 264330739717

Option 2 ID : 264330739715

Option 3 ID : 264330739716

Option 4 ID : 264330739714

Status : Not Answered

Chosen Option : --

Comprehension:

नीचे दिए गए गद्य में कुछ शब्द छोड़ दिए गए हैं और प्रत्येक रिक्त स्थान के चार विकल्प दिए गए हैं। इन चारों में से कौन सा विकल्प रिक्त स्थान की पूर्ति करेगा-

डॉक्टर्स विदाउट बॉर्डर्स, जिसे मेडेसिन्स सैन्स फ्रंटियर्स (एमएसएफ) के नाम से भी जाना जाता है, फ्रांस का एक गैर-सरकारी (1)_____ है जो युद्ध क्षेत्रों और बीमारियों से (2)_____ देशों में मानवीय चिकित्सा देखभाल प्रदान करता है। यह संगठन (3)_____ बीमारियों जैसे मधुमेह, दवा-प्रतिरोधी संक्रमण, एचआईवी/एड्स, हेपेटाइटिस सी के उपचार में मदद करता है। एमएसएफ को कई महाद्वीपों पर उनके (4)_____ कार्यों के लिए 1999 में नोबेल शांति (5)_____ से सम्मानित किया गया था।

SubQuestion No : 20

Q.20 रिक्त5 के लिए सबसे उपयुक्त विकल्प का चयन कीजिए।

- Ans**
- 1. भेटो
 - 2. दंड
 - 3. गेम
 - 4. पुरस्कार

Question ID : **264330188982**

Option 1 ID : **264330739721**

Option 2 ID : **264330739718**

Option 3 ID : **264330739719**

Option 4 ID : **264330739720**

Status : **Not Answered**

Chosen Option : --

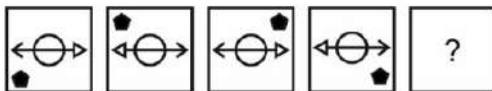
www.exammix.com

Constable GD in Central Armed Police Forces CAPFs SSF Rifleman GD in Assam Rifles Examination 2024

Roll Number	
Candidate Name	
Venue Name	
Exam Date	20/02/2024
Exam Time	11:30 AM - 12:30 PM
Subject	Constable GD Examination 2024

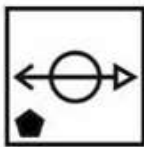
Section : Part-A-General Intelligence and Reasoning

Q.1 In the following question, select the figure which can be placed at the sign of question mark (?) from the given alternatives.

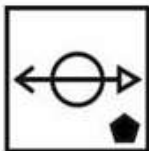


Ans

✓ 1.




✗ 2.



✗ 3.



✗ 4.



Question ID : 264330190462

Option 1 ID : 264330745431

Option 2 ID : 264330745432

Option 3 ID : 264330745433

Option 4 ID : 264330745430

Status : Answered

Chosen Option : 1

www.exammix.com

Q.2 If $40A10B8C15 = 65$ and $15A30B9C20 = 70$, then

$$7A9B3C8 = ?$$

- Ans
- 1. 35
 - 2. 20
 - 3. 29
 - 4. 31

Question ID : 264330187413
 Option 1 ID : 264330733583
 Option 2 ID : 264330733580
 Option 3 ID : 264330733581
 Option 4 ID : 264330733582
 Status : Answered
 Chosen Option : 3

Q.3 By interchanging which two signs and two numbers the equation will be correct?

$$8 \div 4 \times 6 + 3 - 9 = 1$$

- Ans
- 1. \times and \div , 8 and 9
 - 2. $+$ and \times , 4 and 6
 - 3. \times and $+$, 4 and 9
 - 4. $+$ and $-$, 6 and 9

Question ID : 264330190160
 Option 1 ID : 264330744225
 Option 2 ID : 264330744224
 Option 3 ID : 264330744222
 Option 4 ID : 264330744223
 Status : Answered
 Chosen Option : 1

Q.4 In the following question below are given some statements followed by some conclusions based on those statements.

Taking the given statements to be true even if they seem to be at variance from commonly known facts. Read all the conclusions and then decide which of the given conclusion logically follows the given statements.

Statements:

I. Some H are R.

II. No P are H.

Conclusions:

I. Some P are H.

II. Some R are not P.

- Ans
- 1. Both conclusions I and II follows
 - 2. Only conclusion II follows
 - 3. Only conclusion I follows
 - 4. Neither conclusion follows

Question ID : 264330190157
 Option 1 ID : 264330744212
 Option 2 ID : 264330744211
 Option 3 ID : 264330744210
 Option 4 ID : 264330744213
 Status : Answered
 Chosen Option : 4

Q.5 Which of the following groups of letters when sequentially placed from left to right will complete the given series?
ghijk_ ijkg_ ijk_ hijkghij_

- Ans**
- 1. hghg
 - 2. kgih
 - 3. ijkg
 - 4. hhgk

Question ID : 264330188020
Option 1 ID : 264330736010
Option 2 ID : 264330736011
Option 3 ID : 264330736009
Option 4 ID : 264330736008
Status : Answered
Chosen Option : 4

Q.6 Five colleagues Zoe, Aaron, Ben, Chloe, and Daniel are sitting on a circular table facing the center. Zoe is sitting to the immediate left of Aaron. Chloe is sitting next to Zoe. Daniel is sitting to the immediate right of Aaron. Who is sitting to the immediate left of Zoe?

- Ans**
- 1. Ben
 - 2. Chloe
 - 3. Daniel
 - 4. Aaron

Question ID : 264330192256
Option 1 ID : 264330752381
Option 2 ID : 264330752380
Option 3 ID : 264330752379
Option 4 ID : 264330752378
Status : Answered
Chosen Option : 2

Q.7 A series is given with one term missing. Select the correct alternative from the given ones that will complete the series.
NRT, MQS, LPR, KOQ, ?

- Ans**
- 1. KLR
 - 2. MNP
 - 3. JNP
 - 4. JKL

Question ID : 264330190187
Option 1 ID : 264330744332
Option 2 ID : 264330744333
Option 3 ID : 264330744330
Option 4 ID : 264330744331
Status : Answered
Chosen Option : 3

Q.8 Arrange the given words in the sequence in which they occur in the dictionary.

1. Let
2. Lethargy
3. Letter
4. Lethal
5. Lest

- Ans**
- 1. 15324
 - 2. 51423
 - 3. 15234
 - 4. 51243

Question ID : 264330190529
Option 1 ID : 264330745701
Option 2 ID : 264330745700
Option 3 ID : 264330745698
Option 4 ID : 264330745699
Status : Answered
Chosen Option : 2

Q.9 In a certain code language, 'TDG' is coded as '1680', 'BHI' is coded as '432'. What is the code for 'KCE' in that code language?

- Ans**
- 1. 520
 - 2. 425
 - 3. 495
 - 4. 465

Question ID : 264330187444
Option 1 ID : 264330733705
Option 2 ID : 264330733707
Option 3 ID : 264330733706
Option 4 ID : 264330733704
Status : Not Answered
Chosen Option : --

Q.10 Select the option that is related to the fifth letter cluster in the same way as the fourth letter cluster is related to the third letter cluster and the second letter cluster is related to the first letter cluster.

TEA : ZBDFSU :: SIN : MOHJRT :: RIO : ?

- Ans**
- 1. SQJHPN
 - 2. SUDFZB
 - 3. NPHJQS
 - 4. BDSHFK

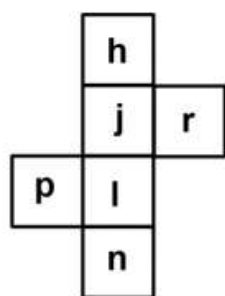
Question ID : 264330192211
Option 1 ID : 264330752200
Option 2 ID : 264330752198
Option 3 ID : 264330752199
Option 4 ID : 264330752201
Status : Answered
Chosen Option : 3

Q.11 Eight persons from Reena, Kavita, Raman, Umesh, Rohit, Vikas, Monika and Priya sit around a square table such that two persons sit in each of the sides. All the persons are sitting facing the centre of the table. Reena sits on the immediate right of Rohit and they both sit on the same side. Monika faces the one who is second to the left of Kavita. Monika is sitting fourth to the right of Reena. Two persons sit between Vikas and Umesh (when counted from one side only) and Umesh is adjacent to Rohit. Only one person sits between Monika and Raman (when counted from one side only). Who is sitting second to the left of Raman?

- Ans**
- 1. Rohit
 - 2. Monika
 - 3. Priya
 - 4. Reena

Question ID : 264330191517
 Option 1 ID : 264330749422
 Option 2 ID : 264330749423
 Option 3 ID : 264330749425
 Option 4 ID : 264330749424
 Status : Not Answered
 Chosen Option : --

Q.12 On folding the given die, which letter will be opposite to the letter 'n'?



- Ans**
- 1. j
 - 2. h
 - 3. r
 - 4. p

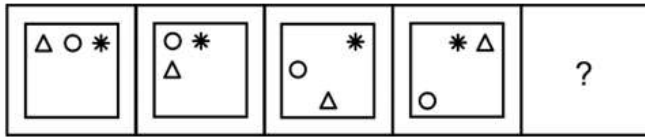
Question ID : 264330191605
 Option 1 ID : 264330749776
 Option 2 ID : 264330749775
 Option 3 ID : 264330749777
 Option 4 ID : 264330749774
 Status : Answered
 Chosen Option : 1

Q.13 In a certain code language, 'TOWARD' is coded as '962147', 'WANTED' is coded as '213957'. What is the code for 'WARRANT' in that code language?

- Ans**
- 1. 2133129
 - 2. 2145129
 - 3. 2144139
 - 4. 2144129


Question ID : 264330187445
 Option 1 ID : 264330733710
 Option 2 ID : 264330733711
 Option 3 ID : 264330733708
 Option 4 ID : 264330733709
 Status : Answered
 Chosen Option : 3

Q.14 Select the figure that will replace the question mark (?) in the following figure series.

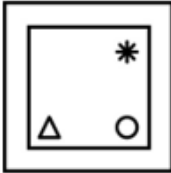


Ans

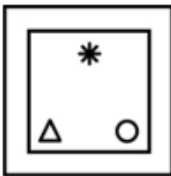
✗ 1.



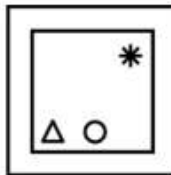
✗ 2.



✗ 3.



✓ 4.



Question ID : 264330192084

Option 1 ID : 264330751690

Option 2 ID : 264330751691

Option 3 ID : 264330751693

Option 4 ID : 264330751692

Status : Answered

Chosen Option : 4

www.exammix.com

Q.15 From the given option figures, select the one in which the question figure is hidden/embedded. (rotation is not allowed)



Ans

✓ 1.



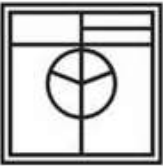
✗ 2.



✗ 3.



✗ 4.



Question ID : 264330190565

Option 1 ID : 264330745843

Option 2 ID : 264330745842

Option 3 ID : 264330745845

Option 4 ID : 264330745844

Status : Answered

Chosen Option : 1

www.exammix.com

Q.16 From the given option figures, select the one in which the question figure is hidden/embedded. (rotation is not allowed)

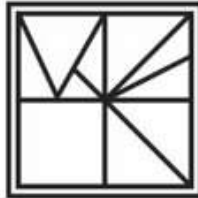


Ans

✗ 1.



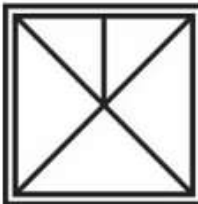
✓ 2.



✗ 3.



✗ 4.



Question ID : 264330190346

Option 1 ID : 264330744969

Option 2 ID : 264330744966

Option 3 ID : 264330744968

Option 4 ID : 264330744967

Status : Answered

Chosen Option : 2

Q.17 In the following question, select the missing number from the given series.

2673, 891, 297, 99,?, 11

Ans ✗ 1. 43

✓ 2. 33

✗ 3. 23

✗ 4. 10

Question ID : 264330190138

Option 1 ID : 264330744134

Option 2 ID : 264330744137

Option 3 ID : 264330744136

Option 4 ID : 264330744135

Status : Answered

Chosen Option : 2

Q.18 A is the father of B. B is the brother of C. C is the husband of D. D is the sister of E. E is the mother of F. F is the wife of G.

How many male are there in family?

- Ans**
- 1. 3
 - 2. 2
 - 3. 1
 - 4. 4

Question ID : 264330190114
Option 1 ID : 264330744040
Option 2 ID : 264330744039
Option 3 ID : 264330744038
Option 4 ID : 264330744041
Status : Answered
Chosen Option : 4

Q.19 Select the option that is related to the fifth word in the same way as the fourth word is related to the third word and the second word is related to the first word.

ANT : ANTHILL :: DUCK : POND :: HORSE : ?

- Ans**
- 1. KENNEL
 - 2. DEN
 - 3. BEEHIVE
 - 4. STABLE

Question ID : 264330192312
Option 1 ID : 264330752604
Option 2 ID : 264330752603
Option 3 ID : 264330752605
Option 4 ID : 264330752602
Status : Answered
Chosen Option : 4

Q.20 In the following question, select the missing number from the given series.

0, 1, 5, 14, 30, ?

- Ans**
- 1. 66
 - 2. 69
 - 3. 55
 - 4. 57

Question ID : 264330187071
Option 1 ID : 264330732212
Option 2 ID : 264330732215
Option 3 ID : 264330732213
Option 4 ID : 264330732214
Status : Answered
Chosen Option : 3

Section : Part-B-General Knowledge and General awareness

Q.1 Which sport is played by the Indian sportsperson Leander Paes?

- Ans
- 1. Cricket
 - 2. Lawn Tennis
 - 3. Badminton
 - 4. Table Tennis

Question ID : 264330188888
Option 1 ID : 264330739356
Option 2 ID : 264330739355
Option 3 ID : 264330739357
Option 4 ID : 264330739354
Status : Answered
Chosen Option : 2

Q.2 Pannalal Ghosh is famous for which musical instrument?

- Ans
- 1. Flute
 - 2. Shehnai
 - 3. Ghatam
 - 4. Tabla

Question ID : 264330188642
Option 1 ID : 264330738371
Option 2 ID : 264330738373
Option 3 ID : 264330738372
Option 4 ID : 264330738370
Status : Not Answered
Chosen Option : --

Q.3 As per Census-2011, Which of the following states have the highest female literacy rate?

- Ans
- 1. Mizoram
 - 2. Tripura
 - 3. Kerala
 - 4. West Bengal

Question ID : 264330191234
Option 1 ID : 264330748290
Option 2 ID : 264330748291
Option 3 ID : 264330748293
Option 4 ID : 264330748292
Status : Not Answered
Chosen Option : --

Q.4 After independence, India launched its First FYP in 1951, under _____ influence of first Prime Minister Jawaharlal Nehru.

- Ans**
- 1. capitalist
 - 2. socialist
 - 3. Anarchism
 - 4. Authoritarian capitalism

Question ID : 264330190605
Option 1 ID : 264330746003
Option 2 ID : 264330746002
Option 3 ID : 264330746005
Option 4 ID : 264330746004
Status : Answered
Chosen Option : 2

Q.5 The Sangeet Natak Akademi is India's national academy for music, dance and drama. It was created by a resolution of the (then) _____, Government of India, in 1952 with Dr P.V. Rajamannar as its first Chairman.

- Ans**
- 1. Ministry of dances
 - 2. Ministry of Transportation
 - 3. Ministry of Education
 - 4. Ministry of Art

Question ID : 264330191859
Option 1 ID : 264330750792
Option 2 ID : 264330750790
Option 3 ID : 264330750791
Option 4 ID : 264330750793
Status : Answered
Chosen Option : 4

Q.6 The Nehru Trophy competition near Alappuzha, held on the second Saturday of August every year, is the most competitive and popular of the _____ category.

- Ans**
- 1. horse races
 - 2. boat races
 - 3. basketball
 - 4. badminton

Question ID : 264330191463
Option 1 ID : 264330749206
Option 2 ID : 264330749208
Option 3 ID : 264330749209
Option 4 ID : 264330749207
Status : Answered
Chosen Option : 1

Q.7 Famous book Arthashastra tells us that the north-west was important for blankets, and _____ for its gold and precious stones during the Mauryan period.

- Ans
- 1. west India
 - 2. north India
 - 3. east India
 - 4. south India

Question ID : 264330191436
Option 1 ID : 264330749101
Option 2 ID : 264330749100
Option 3 ID : 264330749099
Option 4 ID : 264330749098
Status : Answered
Chosen Option : 4

Q.8 _____ partners with DAY-NULM towards empowering women entrepreneurs in June 2023.

- Ans
- 1. UNGA
 - 2. UNESCO
 - 3. WHO
 - 4. UNDP

Question ID : 264330191007
Option 1 ID : 264330747384
Option 2 ID : 264330747382
Option 3 ID : 264330747385
Option 4 ID : 264330747383
Status : Not Answered
Chosen Option : --

Q.9 The Constituent Assembly adopted the constitution of India on _____.

- Ans
- 1. 26th January 1950
 - 2. 15th August 1947
 - 3. 26th November 1949
 - 4. 24th January 1950

Question ID : 264330188864
Option 1 ID : 264330739259
Option 2 ID : 264330739260
Option 3 ID : 264330739261
Option 4 ID : 264330739258
Status : Answered
Chosen Option : 3

Q.10 Which former SC judge has been appointed as the Governor of Andhra Pradesh?

- Ans
- 1. Sanjiv khanna
 - 2. S Abdul Nazeer
 - 3. Sanjay Kishan Kaul
 - 4. Bhushan Ramkrishna Gavai

Question ID : 264330188873
Option 1 ID : 264330739296
Option 2 ID : 264330739295
Option 3 ID : 264330739294
Option 4 ID : 264330739297
Status : Not Answered
Chosen Option : --

Q.11 A _____ tank called the NITI Aayog was established to advise the government.

- Ans
- 1. social think
 - 2. religious think
 - 3. ethical think
 - 4. policy think

Question ID : 264330191827
Option 1 ID : 264330750662
Option 2 ID : 264330750664
Option 3 ID : 264330750665
Option 4 ID : 264330750663
Status : Answered
Chosen Option : 4

Q.12 Who has been appointed as the second Chief of Defence Staff (CDS) in India?

- Ans
- 1. General Manoj Mukund Naravane
 - 2. Lt General Anil Chauhan
 - 3. General Manoj Pande
 - 4. Admiral R Hari Kumar

Question ID : 264330190849
Option 1 ID : 264330746751
Option 2 ID : 264330746752
Option 3 ID : 264330746753
Option 4 ID : 264330746750
Status : Answered
Chosen Option : 2

Q.13 In which of the following states of India is the festival Bonalu celebrated?

- Ans 1. Telangana
 2. West Bengal
 3. Tamil Nadu
 4. Assam

Question ID : 264330191232
Option 1 ID : 264330748284
Option 2 ID : 264330748285
Option 3 ID : 264330748283
Option 4 ID : 264330748282
Status : Answered
Chosen Option : 1

Q.14 In which year was the Treaty of Amritsar signed?

- Ans 1. 1808
 2. 1811
 3. 1810
 4. 1809

Question ID : 264330191937
Option 1 ID : 264330751102
Option 2 ID : 264330751105
Option 3 ID : 264330751104
Option 4 ID : 264330751103
Status : Answered
Chosen Option : 4

Q.15 Which of the following is function of the Reserve Bank of India?

- I. Issuing of currency
II. Lender of last resort

- Ans 1. Neither I nor II
 2. Only II
 3. Only I
 4. Both I and II

Question ID : 264330190624
Option 1 ID : 264330746081
Option 2 ID : 264330746079
Option 3 ID : 264330746078
Option 4 ID : 264330746080
Status : Not Answered
Chosen Option : --

Q.16 Name the Indo-Persian Dance form from Uttar Pradesh.

- Ans
- 1. Kathakali
 - 2. Garba
 - 3. Kathak
 - 4. Chhau

Question ID : 264330190970
Option 1 ID : 264330747234
Option 2 ID : 264330747236
Option 3 ID : 264330747235
Option 4 ID : 264330747237
Status : Answered
Chosen Option : 3

Q.17 Which of the following is NOT one of the criteria to measure deprivations in the Socio-Economic and Caste Census (SECC) 2011 conducted by the government of India?

- Ans
- 1. Households with differently-abled members
 - 2. Households with no able bodied members
 - 3. Households with no adult female aged 15-59
 - 4. Households with only one room with no solid walls and roof

Question ID : 264330190774
Option 1 ID : 264330746452
Option 2 ID : 264330746453
Option 3 ID : 264330746451
Option 4 ID : 264330746450
Status : Not Answered
Chosen Option : --

Q.18 In India, subject to the provisions of article 333, the Legislative Assembly of each State shall consist of not more than _____ members.

- Ans
- 1. five hundred
 - 2. three hundred
 - 3. six hundred
 - 4. four hundred

Question ID : 264330188845
Option 1 ID : 264330739182
Option 2 ID : 264330739183
Option 3 ID : 264330739185
Option 4 ID : 264330739184
Status : Answered
Chosen Option : 1

Q.19 The loudness of sound is measured in which unit?

- Ans
- 1. Hertz (Hz)
 - 2. Sound intensity
 - 3. Decibel (dB)
 - 4. Watt/sq. Metre (w/m^2)

Question ID : 264330188857
Option 1 ID : 264330739230
Option 2 ID : 264330739232
Option 3 ID : 264330739231
Option 4 ID : 264330739233
Status : Answered
Chosen Option : 1

Q.20 Which of the following terms is NOT related with cricket?

I. Eagle

II. Basket

- Ans
- 1. Both I and II
 - 2. Only I
 - 3. Only II
 - 4. Neither I nor II

Question ID : 264330191082
Option 1 ID : 264330747684
Option 2 ID : 264330747682
Option 3 ID : 264330747683
Option 4 ID : 264330747685
Status : Answered
Chosen Option : 1

Section : Part-C-Elementary Mathematics

Q.1 If 72 binders can bind 720 books in 22 days, how many binders will be required to bind 660 books in 12 days?

- Ans
- 1. 124
 - 2. 120
 - 3. 121
 - 4. 123

Question ID : 264330188510
Option 1 ID : 264330737842
Option 2 ID : 264330737845
Option 3 ID : 264330737843
Option 4 ID : 264330737844
Status : Answered
Chosen Option : 3

Q.2 Selling price of a table is Rs. 6875. If profit percentage is 25 percent, then what is the cost price of table?

- Ans**
- 1. Rs. 6400
 - 2. Rs. 5500
 - 3. Rs. 5000
 - 4. Rs. 5200

Question ID : 264330188600
Option 1 ID : 264330738205
Option 2 ID : 264330738203
Option 3 ID : 264330738202
Option 4 ID : 264330738204
Status : Answered
Chosen Option : 2

Q.3 25 percent of 20 percent of a number is equal to 250. What is the 35 percent of that number?

- Ans**
- 1. 1750
 - 2. 1570
 - 3. 1650
 - 4. 1560

Question ID : 264330187245
Option 1 ID : 264330732910
Option 2 ID : 264330732911
Option 3 ID : 264330732908
Option 4 ID : 264330732909
Status : Answered
Chosen Option : 1

Q.4 Swapnil can build a sofa in 16 days. Working together with Revathi he can finish the work in $128/17$ days. Find the number of days taken by Revathi to complete the work if she works alone.

- Ans**
- 1. $128/17$ days
 - 2. $128/16$ days
 - 3. 6 days
 - 4. $128/9$ days

Question ID : 264330192485
Option 1 ID : 264330753295
Option 2 ID : 264330753296
Option 3 ID : 264330753297
Option 4 ID : 264330753294
Status : Not Answered
Chosen Option : --

Q.5 Rs. 9000 is lent at the rate of 80 percent per annum on compound interest (compounded half yearly). What will be the compound interest of 12 months?

- Ans**
- 1. Rs. 8700
 - 2. Rs. 9000
 - 3. Rs. 8640
 - 4. Rs. 8760

Question ID : 264330187974
Option 1 ID : 264330735827
Option 2 ID : 264330735826
Option 3 ID : 264330735825
Option 4 ID : 264330735824
Status : Answered
Chosen Option : 3

Q.6 The product of two numbers is 720 and their Highest Common Factor is 4. What is the Least Common Multiple of these numbers?

- Ans**
- 1. 120
 - 2. 480
 - 3. 180
 - 4. 240

Question ID : 264330187541
Option 1 ID : 264330734094
Option 2 ID : 264330734092
Option 3 ID : 264330734093
Option 4 ID : 264330734095
Status : Answered
Chosen Option : 3

Q.7 If 45 percent of X is equal to 15 percent of Y, then what is the value of X : Y?

- Ans**
- 1. 1 : 4
 - 2. 3 : 1
 - 3. 3 : 2
 - 4. 1 : 3

Question ID : 264330188011
Option 1 ID : 264330735975
Option 2 ID : 264330735972
Option 3 ID : 264330735973
Option 4 ID : 264330735974
Status : Answered
Chosen Option : 4

Q.8 If the cost price of 6 pens is the same as the selling price of 5 pens, find the profit/loss percentage.

- Ans**
- 1. 20% profit
 - 2. 20% loss
 - 3. 10% loss
 - 4. 10% profit

Question ID : 264330190736
Option 1 ID : 264330746377
Option 2 ID : 264330746374
Option 3 ID : 264330746376
Option 4 ID : 264330746375
Status : Answered
Chosen Option : 1

Q.9 The marked price of an article is 60 percent more than its cost price. If 20 percent discount is given, then what will be the profit percentage?

- Ans**
- 1. 28 percent
 - 2. 33 percent
 - 3. 30 percent
 - 4. 34 percent

Question ID : 264330187570
Option 1 ID : 264330734209
Option 2 ID : 264330734210
Option 3 ID : 264330734208
Option 4 ID : 264330734211
Status : Answered
Chosen Option : 1

Q.10 What is the curved surface area of a cylinder having radius of base as 70 cm and height as 14 cm?

- Ans**
- 1. 6160 cm²
 - 2. 6420 cm²
 - 3. 5930 cm²
 - 4. 6350 cm²

Question ID : 264330187318
Option 1 ID : 264330733201
Option 2 ID : 264330733202
Option 3 ID : 264330733200
Option 4 ID : 264330733203
Status : Answered
Chosen Option : 1

Q.11 A train of length 384 metres crosses an electric pole in 12 seconds and crosses another train of the same length travelling in opposite direction in 12 seconds. What is the speed of the second train?

- Ans**
- 1. 45 m/s
 - 2. 39 m/s
 - 3. 32 m/s
 - 4. 25 m/s

Question ID : 264330187635
Option 1 ID : 264330734471
Option 2 ID : 264330734469
Option 3 ID : 264330734468
Option 4 ID : 264330734470
Status : Marked For Review
Chosen Option : 3

Q.12 What will be the average of all the prime numbers before 32?

- Ans**
- 1. 14.54
 - 2. 13.26
 - 3. 15.60
 - 4. 17.82

Question ID : 264330188003
Option 1 ID : 264330735941
Option 2 ID : 264330735942
Option 3 ID : 264330735943
Option 4 ID : 264330735940
Status : Answered
Chosen Option : 1

Q.13 The average of five numbers is 32. If one number is removed, then the average becomes 28. What is the removed number?

- Ans**
- 1. 47
 - 2. 52
 - 3. 49
 - 4. 48

Question ID : 264330187284
Option 1 ID : 264330733067
Option 2 ID : 264330733065
Option 3 ID : 264330733066
Option 4 ID : 264330733064
Status : Answered
Chosen Option : 4

Q.14 Find the maximum number of students among whom 1003 chocolates and 2703 candies can be distributed such that each student gets the same number of each.

- Ans**
- 1. 19
 - 2. 29
 - 3. 17
 - 4. 33

Question ID : 264330188417
Option 1 ID : 264330737537
Option 2 ID : 264330737538
Option 3 ID : 264330737536
Option 4 ID : 264330737539
Status : Marked For Review
Chosen Option : 3

Q.15 The price of 3 notebooks and 6 pen is Rs. 3000. With the same money one can buy a notebooks and 12 pen. Raju wants to buy 15 pen, how much will he have to pay ?

- Ans**
- 1. Rs. 2500
 - 2. Rs. 3500
 - 3. Rs. 3000
 - 4. Rs. 2000

Question ID : 264330192389
Option 1 ID : 264330752911
Option 2 ID : 264330752913
Option 3 ID : 264330752912
Option 4 ID : 264330752910
Status : Answered
Chosen Option : 3

Q.16 Radius of a sphere is increased by 50 percent. What will be the percentage increase in its volume?

- Ans**
- 1. 225.5 percent
 - 2. 235.5 percent
 - 3. 237.5 percent
 - 4. 150 percent

Question ID : 264330187526
Option 1 ID : 264330734035
Option 2 ID : 264330734034
Option 3 ID : 264330734033
Option 4 ID : 264330734032
Status : Answered
Chosen Option : 3

Q.17 A trader marks his goods 50% above the cost price and offers a discount of 20%. What is the percentage profit the trader makes after offering the discount?

- Ans**
- 1. 18%
 - 2. 20%
 - 3. 12%
 - 4. 10%

Question ID : 264330188502
Option 1 ID : 264330737813
Option 2 ID : 264330737812
Option 3 ID : 264330737810
Option 4 ID : 264330737811
Status : Answered
Chosen Option : 2

Q.18 Rs. 8400 is divided among P, Q and R in the ratio of $\frac{2}{3} : 3 : \frac{1}{3}$ respectively. What is the share of R?

- Ans**
- 1. Rs. 900
 - 2. Rs. 1400
 - 3. Rs. 700
 - 4. Rs. 18000

Question ID : 264330188585
Option 1 ID : 264330738145
Option 2 ID : 264330738143
Option 3 ID : 264330738142
Option 4 ID : 264330738144
Status : Answered
Chosen Option : 3

Q.19 What is the value of $(0.1)^2 + (0.01)^2$?

- Ans**
- 1. 0.0101
 - 2. 0.005
 - 3. 1.101
 - 4. 0.111

Question ID : 264330187521
Option 1 ID : 264330734013
Option 2 ID : 264330734014
Option 3 ID : 264330734015
Option 4 ID : 264330734012
Status : Answered
Chosen Option : 1

Q.20 The simple interest received on a sum for 5 years is $\frac{2}{5}$ of the sum. What is the annual rate of interest?

- Ans**
- 1. 9 percent
 - 2. 12 percent
 - 3. 10 percent
 - 4. 8 percent

Question ID : 264330187253
Option 1 ID : 264330732943
Option 2 ID : 264330732941
Option 3 ID : 264330732940
Option 4 ID : 264330732942
Status : Answered
Chosen Option : 4

Section : Part-D-English

Q.1 Choose the word that is opposite in meaning to the given word.

Aqueous

- Ans**
- 1. Arid
 - 2. Hydrated
 - 3. Saturated
 - 4. Wet

Question ID : 264330186269
Option 1 ID : 264330729318
Option 2 ID : 264330729316
Option 3 ID : 264330729319
Option 4 ID : 264330729317
Status : Answered
Chosen Option : 1

Q.2 Choose the most appropriate antonym of the underlined word.

Visitors enter the train and snake through its corridors and opulent interiors.

- Ans**
- 1. plush
 - 2. scary
 - 3. economical
 - 4. lavish

Question ID : 264330186228
Option 1 ID : 264330729161
Option 2 ID : 264330729162
Option 3 ID : 264330729163
Option 4 ID : 264330729160
Status : Answered
Chosen Option : 3

Q.3 Improve the underlined part of the sentence. Choose 'No improvement' as an answer if the sentence is grammatically correct.

I was needing to buy a new pair of gloves.

- Ans**
- 1. needs to buy
 - 2. need to buy
 - 3. No improvement
 - 4. needed to bought

Question ID : 264330186720
Option 1 ID : 264330731036
Option 2 ID : 264330731037
Option 3 ID : 264330731039
Option 4 ID : 264330731038
Status : Answered
Chosen Option : 2

Q.4 Choose the idiom/phrase that can substitute the highlighted group of words meaningfully.

I have never seen someone so easily scared. She is **so nervous**.

- Ans**
- 1. Afraid of one's own shadow
 - 2. In seventh heaven
 - 3. Lost cause
 - 4. Spilled the beans

Question ID : 264330185998
Option 1 ID : 264330728285
Option 2 ID : 264330728287
Option 3 ID : 264330728286
Option 4 ID : 264330728284
Status : Answered
Chosen Option : 3

Q.5 Select the most appropriate word to fill in the blank.

With sales down, the company closed one factory down and reduced _____ workforce at another.

- Ans**
- 1. the
 - 2. an
 - 3. No article
 - 4. a

Question ID : 264330185902
Option 1 ID : 264330727922
Option 2 ID : 264330727921
Option 3 ID : 264330727923
Option 4 ID : 264330727920
Status : Answered
Chosen Option : 1

Q.6 Find the part of the given sentence that has an error in it. If there is no error, choose 'No error'.

The toad lay in her lap breathing heavy.

Ans ✓ 1. breathing heavy.

✗ 2. The toad lay

✗ 3. in her lap

✗ 4. No error

Question ID : 264330186107

Option 1 ID : 264330728702

Option 2 ID : 264330728700

Option 3 ID : 264330728701

Option 4 ID : 264330728703

Status : Answered

Chosen Option : 1

Q.7 Four sentences are given, out of which three have all correct spellings. Choose the sentence with the incorrect spelt word/ words.

Ans ✓ 1.

This reproach of my dependance had become a vague sing-song in my ear.

✗ 2.

He walked on choking and would have marched directly up into the other party, but Abe stopped him.

✗ 3.

Rosemary was from the middle of the middle class, catapulted by her mother onto the uncharted heights of Hollywood.

✗ 4.

They had been two days in Paris but actually they were still under the beach umbrella.

Question ID : 264330186987

Option 1 ID : 264330732053

Option 2 ID : 264330732052

Option 3 ID : 264330732055

Option 4 ID : 264330732054

Status : Answered

Chosen Option : 1

Q.8 Improve the underlined part of the sentence. Choose 'No improvement' as an answer if the sentence is grammatically correct.

If you don't water your houseplants, they will dies.

Ans ✗ 1. will death

✗ 2. No improvement

✓ 3. will die

✗ 4. shall dies

Question ID : 264330185922

Option 1 ID : 264330727998

Option 2 ID : 264330727999

Option 3 ID : 264330727996

Option 4 ID : 264330727997

Status : Answered

Chosen Option : 3

Q.9 Select the most appropriate synonym of the given word.

Absolute

- Ans
- 1. Divine
 - 2. Complete
 - 3. Final
 - 4. Bounded

Question ID : 264330186919
Option 1 ID : 264330731792
Option 2 ID : 264330731794
Option 3 ID : 264330731793
Option 4 ID : 264330731795
Status : Answered
Chosen Option : 2

Q.10 Find the part of the given sentence that has an error in it. If there is no error, choose 'No error'.
Some analysts have began to advocate for strong government involvement in the development and regulation of cyber security standards for satellites.

- Ans
- 1. No error
 - 2. Some analysts have began to advocate for strong
 - 3. of cyber security standards for satellites.
 - 4. government involvement in the development and regulation

Question ID : 264330186740
Option 1 ID : 264330731115
Option 2 ID : 264330731112
Option 3 ID : 264330731114
Option 4 ID : 264330731113
Status : Answered
Chosen Option : 1

Q.11 In the following question, out of the given four alternatives, select the alternative which best expresses the meaning of the Idiom/Phrase.
Go with a bang

- Ans
- 1. To go crazy
 - 2. Very exciting and successful
 - 3. Party like there's no tomorrow
 - 4. Decide according to the situation

Question ID : 264330186039
Option 1 ID : 264330728441
Option 2 ID : 264330728440
Option 3 ID : 264330728442
Option 4 ID : 264330728443
Status : Not Answered
Chosen Option : --

Q.12 Select the sentence with no spelling errors.

Ans 1.

There was acute disharmony in the room, where a little time before there had been at least an outward show of harmony.

2.

There was acute disharmony in the room, where a little time before there had been at least an outward show of harmony.

3.

There was acute disharmony in the room, where a little time before there had been at least an outward show of harmony.

4.

There was acute disharmony in the room, where a little time before there had been at least an outward show of harmonie.

Question ID : 264330186126

Option 1 ID : 264330728774

Option 2 ID : 264330728772

Option 3 ID : 264330728773

Option 4 ID : 264330728775

Status : Answered

Chosen Option : 3

Q.13 Select the most appropriate option for the given blank.

I have _____ my mind after meeting her.

Ans 1. Replaced

2. Changed

3. Masked

4. Granted

Question ID : 264330185812

Option 1 ID : 264330727578

Option 2 ID : 264330727579

Option 3 ID : 264330727576

Option 4 ID : 264330727577

Status : Answered

Chosen Option : 2

Q.14 Select the word segment that substitutes (replaces) the bracketed word segment correctly and completes the sentence meaningfully. Select the option 'no correction required' if the sentence is correct as given.

Presently Rosemary (seems to have know) those people herself in some deplorable past, and then got on to them and rejected them.

Ans 1. seemed to have known

2. seem to know

3. seemed to knew

4. No correction required

Question ID : 264330186931

Option 1 ID : 264330731842

Option 2 ID : 264330731840

Option 3 ID : 264330731841

Option 4 ID : 264330731843

Status : Answered

Chosen Option : 1

Q.15 Find the part of the given sentence that has an error in it. If there is no error, choose 'No error'.

Do your better and avoid what others are saying about you.

- Ans**
- 1. saying about you.
 - 2. No error
 - 3. avoid what others are
 - 4. Do your better and

Question ID : 264330186129
Option 1 ID : 264330728786
Option 2 ID : 264330728787
Option 3 ID : 264330728785
Option 4 ID : 264330728784
Status : Answered
Chosen Option : 4

Comprehension:

Read the passage carefully and select the correct answer for the given blanks out of the four alternatives.

Lions have large jaws and are capable of (1) _____ up to 11 inches wide. They have long canine teeth which are used to (2) _____ and kill their prey. Lions do not chew their food. Small incisors at the front of their mouth are used to grip the meat (3) _____ their sharp carnasial teeth in the back of their mouth tear it into (4) _____ they can swallow. In the wild male lions live to around 12 years of age, with females living to around 15 years of age, whereas in (5) _____ they can live up to 25 years of age.

SubQuestion No : 16

Q.16 Select the most appropriate option for blank (1)

- Ans**
- 1. jumping
 - 2. signing
 - 3. opening
 - 4. standing

Question ID : 264330185905
Option 1 ID : 264330727929
Option 2 ID : 264330727930
Option 3 ID : 264330727931
Option 4 ID : 264330727928
Status : Answered
Chosen Option : 3

www.exammix.com

Comprehension:

Read the passage carefully and select the correct answer for the given blanks out of the four alternatives.

Lions have large jaws and are capable of (1) _____ up to 11 inches wide. They have long canine teeth which are used to (2) _____ and kill their prey. Lions do not chew their food. Small incisors at the front of their mouth are used to grip the meat (3) _____ their sharp carnassial teeth in the back of their mouth tear it into (4) _____ they can swallow. In the wild male lions live to around 12 years of age, with females living to around 15 years of age, whereas in (5) _____ they can live up to 25 years of age.

SubQuestion No : 17

Q.17 Select the most appropriate option for blank (2)

- Ans
- 1. host
 - 2. remiss
 - 3. loathe
 - 4. grasp

Question ID : 264330185906
Option 1 ID : 264330727935
Option 2 ID : 264330727932
Option 3 ID : 264330727933
Option 4 ID : 264330727934
Status : Answered
Chosen Option : 4

Comprehension:

Read the passage carefully and select the correct answer for the given blanks out of the four alternatives.

Lions have large jaws and are capable of (1) _____ up to 11 inches wide. They have long canine teeth which are used to (2) _____ and kill their prey. Lions do not chew their food. Small incisors at the front of their mouth are used to grip the meat (3) _____ their sharp carnassial teeth in the back of their mouth tear it into (4) _____ they can swallow. In the wild male lions live to around 12 years of age, with females living to around 15 years of age, whereas in (5) _____ they can live up to 25 years of age.

SubQuestion No : 18

Q.18 Select the most appropriate option for blank (3)

- Ans
- 1. What
 - 2. Whence
 - 3. Whilst
 - 4. As

Question ID : 264330185907
Option 1 ID : 264330727936
Option 2 ID : 264330727939
Option 3 ID : 264330727937
Option 4 ID : 264330727938
Status : Not Answered
Chosen Option : --

Comprehension:

Read the passage carefully and select the correct answer for the given blanks out of the four alternatives.

Lions have large jaws and are capable of (1) _____ up to 11 inches wide. They have long canine teeth which are used to (2) _____ and kill their prey. Lions do not chew their food. Small incisors at the front of their mouth are used to grip the meat (3) _____ their sharp carnassial teeth in the back of their mouth tear it into (4) _____ they can swallow. In the wild male lions live to around 12 years of age, with females living to around 15 years of age, whereas in (5) _____ they can live up to 25 years of age.

SubQuestion No : 19

Q.19 Select the most appropriate option for blank (4)

- Ans
- 1. hordes
 - 2. chunks
 - 3. pecks
 - 4. divisions

Question ID : 264330185908
Option 1 ID : 264330727943
Option 2 ID : 264330727940
Option 3 ID : 264330727942
Option 4 ID : 264330727941
Status : Answered
Chosen Option : 3

Comprehension:

Read the passage carefully and select the correct answer for the given blanks out of the four alternatives.

Lions have large jaws and are capable of (1) _____ up to 11 inches wide. They have long canine teeth which are used to (2) _____ and kill their prey. Lions do not chew their food. Small incisors at the front of their mouth are used to grip the meat (3) _____ their sharp carnassial teeth in the back of their mouth tear it into (4) _____ they can swallow. In the wild male lions live to around 12 years of age, with females living to around 15 years of age, whereas in (5) _____ they can live up to 25 years of age.

SubQuestion No : 20

Q.20 Select the most appropriate option for blank (5)

- Ans
- 1. captivity
 - 2. banality
 - 3. disaster
 - 4. greenery

Question ID : 264330185909
Option 1 ID : 264330727947
Option 2 ID : 264330727945
Option 3 ID : 264330727946
Option 4 ID : 264330727944
Status : Answered
Chosen Option : 1

Section : Part-D-Hindi

Q.1 निम्नलिखित प्रश्न में, चार विकल्पों में से, उस विकल्प का चयन करें जो कोष्ठक में दिए गए शब्द के विलोम शब्द का सही विकल्प है।
इस प्रकार राम सीता की खोज में (विरल) _____ वन के अंदर आगे बढ़ते गये।

- Ans
- ✓ 1. सघन
 - ✗ 2. कठिन
 - ✗ 3. जटिल
 - ✗ 4. दुर्लभ

Question ID : 264330189848
Option 1 ID : 264330743021
Option 2 ID : 264330743018
Option 3 ID : 264330743019
Option 4 ID : 264330743020
Status : Not Answered
Chosen Option : --

Q.2 निम्नलिखित प्रश्न में, चार विकल्पों में से, उस सही विकल्प का चयन करें जो वाक्यांशों के लिए एक शब्द का विकल्प हो।
जिसके हाथ में चक्र हो

- Ans
- ✗ 1. ईशान
 - ✗ 2. इन्दीवर
 - ✗ 3. चन्द्रमौलि
 - ✓ 4. चक्रपाणि

Question ID : 264330189760
Option 1 ID : 264330742683
Option 2 ID : 264330742684
Option 3 ID : 264330742685
Option 4 ID : 264330742682
Status : Not Answered
Chosen Option : --

Q.3 निम्नलिखित प्रश्न में, चार विकल्पों में से, उस विकल्प का चयन करें जो रिक्त स्थान के लिए सही शब्द वाला विकल्प हो।
बाल श्रम को बच्चों द्वारा _____ के लिए किसी भी प्रकार के कार्य को करने के रूप में परिभाषित किया गया है।

- Ans
- ✗ 1. अध्ययन
 - ✓ 2. रोजगार
 - ✗ 3. अनुभव
 - ✗ 4. क्रिड़ा

Question ID : 264330189543
Option 1 ID : 264330741858
Option 2 ID : 264330741859
Option 3 ID : 264330741861
Option 4 ID : 264330741860
Status : Not Answered
Chosen Option : --

Q.4 दिए गए शब्द का पर्यायवाची ज्ञात कीजिए।

महिला

- Ans
- ✓ 1. स्त्री
 - ✗ 2. अचर
 - ✗ 3. सीता
 - ✗ 4. पूजा

Question ID : 264330189468
Option 1 ID : 264330741572
Option 2 ID : 264330741571
Option 3 ID : 264330741573
Option 4 ID : 264330741570
Status : Not Answered
Chosen Option : --

Q.5 निम्नलिखित वाक्य में, उस वाक्यांश को पहचानिए जिसमें मात्राओं से संबंधित अशुद्धियाँ हैं। यदि कोई गलती नहीं है तो 'कोई त्रुटि नहीं है' का चुनाव कीजिए।
लोभी धन इसलिये इकट्ठा करता हो जिसमें उससे/ किसी समय उसकी कमी न हो, परंतु उसे उसकी/ कमी हमेशा बनी ही रहती है।

- Ans
- ✗ 1. कमी हमेशा बनी ही रहती है
 - ✓ 2. लोभी धन इसलिये इकट्ठा करता हो जिसमें उससे
 - ✗ 3. कोई त्रुटि नहीं है
 - ✗ 4. किसी समय उसकी कमी न हो, परंतु उसे उसकी

Question ID : 264330189853
Option 1 ID : 264330743040
Option 2 ID : 264330743038
Option 3 ID : 264330743041
Option 4 ID : 264330743039
Status : Not Answered
Chosen Option : --

Q.6 निम्नलिखित प्रश्न में, चार विकल्पों में से, उस विकल्प का चयन करें जो कोष्ठक में दिए गए शब्द के तद्भव रूप का सही विकल्प है।
हमें हमेशा सबकी अच्छाई देखनी चाहिए उनके (औगुन) _____ नहीं।

- Ans
- ✓ 1. अवगुण
 - ✗ 2. शब्द
 - ✗ 3. बात
 - ✗ 4. आचरण

Question ID : 264330189875
Option 1 ID : 264330743122
Option 2 ID : 264330743124
Option 3 ID : 264330743125
Option 4 ID : 264330743123
Status : Not Answered
Chosen Option : --

Q.7 दिए गए वाक्य में रेखांकित शब्द का विलोम शब्द ज्ञात कीजिए।

हमें ढीलेपन से काम करना चाहिए।

- Ans
- 1. छोटापन
 - 2. अपनापन
 - 3. चौड़ापन
 - 4. स्फूर्ति

Question ID : 264330189135
Option 1 ID : 264330740304
Option 2 ID : 264330740305
Option 3 ID : 264330740302
Option 4 ID : 264330740303
Status : Not Answered
Chosen Option : --

Q.8 दिए गए वाक्य का वह भाग ज्ञात करें, जिसमें कोई त्रुटि है।

पुलिस ने चोरी के भ्रम में आशीश को पकड़ लिया।

- Ans
- 1. आशीश को
 - 2. पकड़ लिया।
 - 3. के भ्रम में
 - 4. पुलिस ने चोरी

Question ID : 264330188995
Option 1 ID : 264330739772
Option 2 ID : 264330739773
Option 3 ID : 264330739771
Option 4 ID : 264330739770
Status : Not Answered
Chosen Option : --

Q.9 दिए गए वाक्य में निरर्थक शब्द ज्ञात कीजिए।

तुम दोनों कब से खटर-पटर कर रहे हो। अब चुप हो जाओ।

- Ans
- 1. कब
 - 2. खटर-पटर
 - 3. चुप
 - 4. दोनों

Question ID : 264330189981
Option 1 ID : 264330743527
Option 2 ID : 264330743526
Option 3 ID : 264330743529
Option 4 ID : 264330743528
Status : Not Answered
Chosen Option : --

Q.10 निम्नलिखित प्रश्न में, दिए गए चार विकल्पों में से, उस विकल्प का चयन करें जो दिए गए मुहावरे के अर्थ को सर्वश्रेष्ठ रूप से व्यक्त करता है।

ठिकाना न रहना

- Ans
- 1. सैर करना
 - 2. बैचेन होना
 - 3. दुनिया घूमना
 - 4. कहीं जगह न मिलना

Question ID : 264330189073
Option 1 ID : 264330740066
Option 2 ID : 264330740069
Option 3 ID : 264330740068
Option 4 ID : 264330740067
Status : Not Answered
Chosen Option : --

Q.11 निम्नलिखित प्रश्न में, दिए गए चार विकल्पों में से, उस विकल्प का चयन करें जो दिए गए मुहावरे के अर्थ को सर्वश्रेष्ठ रूप से व्यक्त करता है।

उल्लू सीधा करना

- Ans
- 1. स्वाधीन होना
 - 2. सबसे अलग रहना
 - 3. स्वार्थ सिद्ध करना
 - 4. होश ठीक होना

Question ID : 264330188283
Option 1 ID : 264330737026
Option 2 ID : 264330737027
Option 3 ID : 264330737025
Option 4 ID : 264330737024
Status : Not Answered
Chosen Option : --

Q.12 निम्नलिखित प्रश्न में, चार विकल्पों में से, उस विकल्प का चयन करें जो रिक्त स्थान के लिए सही शब्द वाला विकल्प हो।

योग से मनोरंजन भी किया जा सकता है तथा भटकते मन को _____ भी प्रदान की जा सकती है।

- Ans
- 1. शांति
 - 2. भ्रान्ति
 - 3. प्राप्ति
 - 4. क्रांति

Question ID : 264330189753
Option 1 ID : 264330742660
Option 2 ID : 264330742658
Option 3 ID : 264330742661
Option 4 ID : 264330742659
Status : Not Answered
Chosen Option : --

Q.13 निम्नलिखित प्रश्न में, चार विकल्पों में से, उस विकल्प का चयन करें जो रिक्त स्थान के लिए सही पुल्लिंग रूप वाला विकल्प हो।
मैं किसी काम से बाहर जा रहा हूँ, _____ को वापस आऊँगा।

- Ans
- ✓ 1. सोमवार
 - ✗ 2. दो दिन बाद
 - ✗ 3. परसों
 - ✗ 4. कल

Question ID : 264330189752
Option 1 ID : 264330742655
Option 2 ID : 264330742656
Option 3 ID : 264330742654
Option 4 ID : 264330742657
Status : Not Answered
Chosen Option : --

Q.14 दिए गए शब्द का पर्यायवाची ज्ञात कीजिए।

उल्लास

- Ans
- ✗ 1. क्रम
 - ✗ 2. औंधा
 - ✗ 3. ग्राम
 - ✓ 4. आनंद

Question ID : 264330190077
Option 1 ID : 264330743891
Option 2 ID : 264330743890
Option 3 ID : 264330743892
Option 4 ID : 264330743893
Status : Not Answered
Chosen Option : --

Q.15 दिए गए वाक्य में रेखांकित शब्द के लिए सही वर्तनी ज्ञात कीजिए।
सड़कें चौड़ी होनी चाहिए।

- Ans
- ✗ 1. चोढ़ी
 - ✗ 2. चोड़ी
 - ✗ 3. चौड़ि
 - ✓ 4. चौड़ी

Question ID : 264330188158
Option 1 ID : 264330736550
Option 2 ID : 264330736551
Option 3 ID : 264330736549
Option 4 ID : 264330736548
Status : Not Answered
Chosen Option : --

Comprehension:

नीचे दिए गये गद्यांश में कुछ शब्द छोड़ दिये गए हैं, प्रत्येक अनुच्छेद के सामने चार विकल्प दिए गए हैं। इस गद्यांश को ध्यानपूर्वक पढ़ें और चार विकल्पों में से सर्वोत्तम उत्तर वाला विकल्प चुनें।

भारत त्योहारों का देश है इसीलिए यहाँ प्रत्येक दिन एक त्योहार के रूप में _____ जाता है। भारत का होली का त्योहार विश्व प्रसिद्ध है। होली का त्योहार हिंदू धर्म में मनाया जाने वाला दूसरा सबसे बड़ा त्योहार है। इस त्योहार को रंगों के त्योहार के नाम से भी जाना जाता है। होली का त्योहार भारत के साथ-साथ नेपाल, बांग्लादेश, अमेरिका, ऑस्ट्रेलिया, कनाडा जैसे कई देशों में भी _____ है। इस त्योहार को सभी वर्गों के लोग मनाते हैं। वर्तमान में तो अन्य धर्मों को मानने वाले लोग भी इस त्योहार को बड़ी _____ से मनाने लगे हैं। प्रकृति भी एक तरह से इस त्योहार में सम्मिलित होती है। चारों ओर रंग बिरंगे फूल बिखेर कर बसंत ऋतु _____ लुटाती है। यह खुशियाँ बांटने वाला त्योहार है, इस दिन सभी लोग एक दूसरे से गले मिलकर खुशी-खुशी इस त्योहार को मनाते हैं। इस त्योहार में ऐसी शक्ति है कि वर्षों पुरानी दुश्मनी भी इस दिन दोस्ती में बदल जाती है। इसीलिए होली को _____ का त्योहार भी कहा गया है। ऐसा माना जाता है कि होली का त्योहार हजारों वर्षों से मनाया जा रहा है। होली का त्योहार बुराई पर अच्छाई की जीत के प्रतीक के रूप में मनाया जाता है, साथ ही यह मौज-मस्ती का भी प्रतीक है।

SubQuestion No : 16

Q.16 भारत त्योहारों का देश है इसीलिए यहाँ प्रत्येक दिन एक त्योहार के रूप में _____ जाता है।

- Ans
- 1. सुनाया
 - 2. बताया
 - 3. दिखाया
 - 4. मनाया

Question ID : 264330189755

Option 1 ID : 264330742663

Option 2 ID : 264330742664

Option 3 ID : 264330742662

Option 4 ID : 264330742665

Status : Not Answered

Chosen Option : --

Comprehension:

नीचे दिए गये गद्यांश में कुछ शब्द छोड़ दिये गए हैं, प्रत्येक अनुच्छेद के सामने चार विकल्प दिए गए हैं। इस गद्यांश को ध्यानपूर्वक पढ़ें और चार विकल्पों में से सर्वोत्तम उत्तर वाला विकल्प चुनें।

भारत त्योहारों का देश है इसीलिए यहाँ प्रत्येक दिन एक त्योहार के रूप में _____ जाता है। भारत का होली का त्योहार विश्व प्रसिद्ध है। होली का त्योहार हिंदू धर्म में मनाया जाने वाला दूसरा सबसे बड़ा त्योहार है। इस त्योहार को रंगों के त्योहार के नाम से भी जाना जाता है। होली का त्योहार भारत के साथ-साथ नेपाल, बांग्लादेश, अमेरिका, ऑस्ट्रेलिया, कनाडा जैसे कई देशों में भी _____ है। इस त्योहार को सभी वर्गों के लोग मनाते हैं। वर्तमान में तो अन्य धर्मों को मानने वाले लोग भी इस त्योहार को बड़ी _____ से मनाने लगे हैं। प्रकृति भी एक तरह से इस त्योहार में सम्मिलित होती है। चारों ओर रंग बिरंगे फूल बिखेर कर बसंत ऋतु _____ लुटाती है। यह खुशियाँ बांटने वाला त्योहार है, इस दिन सभी लोग एक दूसरे से गले मिलकर खुशी-खुशी इस त्योहार को मनाते हैं। इस त्योहार में ऐसी शक्ति है कि वर्षों पुरानी दुश्मनी भी इस दिन दोस्ती में बदल जाती है। इसीलिए होली को _____ का त्योहार भी कहा गया है। ऐसा माना जाता है कि होली का त्योहार हजारों वर्षों से मनाया जा रहा है। होली का त्योहार बुराई पर अच्छाई की जीत के प्रतीक के रूप में मनाया जाता है, साथ ही यह मौज-मस्ती का भी प्रतीक है।

SubQuestion No : 17

Q.17 होली का त्योहार भारत के साथ-साथ नेपाल, बांग्लादेश, अमेरिका, ऑस्ट्रेलिया, कनाडा जैसे कई देशों में भी _____ है।

- Ans
- 1. विस्तृत
 - 2. चित्रित
 - 3. परिवर्तित
 - 4. प्रसिद्ध

Question ID : 264330189756

Option 1 ID : 264330742668

Option 2 ID : 264330742666

Option 3 ID : 264330742669

Option 4 ID : 264330742667

Status : Not Answered

Chosen Option : --

Comprehension:

नीचे दिए गये गद्यांश में कुछ शब्द छोड़ दिये गए हैं, प्रत्येक अनुच्छेद के सामने चार विकल्प दिए गए हैं। इस गद्यांश को ध्यानपूर्वक पढ़ें और चार विकल्पों में से सर्वोत्तम उत्तर वाला विकल्प चुनें।

भारत त्योहारों का देश है इसीलिए यहाँ प्रत्येक दिन एक त्योहार के रूप में _____ जाता है। भारत का होली का त्योहार विश्व प्रसिद्ध है। होली का त्योहार हिंदू धर्म में मनाया जाने वाला दूसरा सबसे बड़ा त्योहार है। इस त्योहार को रंगों के त्योहार के नाम से भी जाना जाता है। होली का त्योहार भारत के साथ-साथ नेपाल, बांग्लादेश, अमेरिका, ऑस्ट्रेलिया, कनाडा जैसे कई देशों में भी _____ है। इस त्योहार को सभी वर्गों के लोग मनाते हैं। वर्तमान में तो अन्य धर्मों को मानने वाले लोग भी इस त्योहार को बड़ी _____ से मनाने लगे हैं। प्रकृति भी एक तरह से इस त्योहार में सम्मिलित होती है। चारों ओर रंग बिरंगे फूल बिखेर कर बसंत ऋतु _____ लुटाती है। यह खुशियाँ बांटने वाला त्योहार है, इस दिन सभी लोग एक दूसरे से गले मिलकर खुशी-खुशी इस त्योहार को मनाते हैं। इस त्योहार में ऐसी शक्ति है कि वर्षों पुरानी दुश्मनी भी इस दिन दोस्ती में बदल जाती है। इसीलिए होली को _____ का त्योहार भी कहा गया है। ऐसा माना जाता है कि होली का त्योहार हजारों वर्षों से मनाया जा रहा है। होली का त्योहार बुराई पर अच्छाई की जीत के प्रतीक के रूप में मनाया जाता है, साथ ही यह मौज-मस्ती का भी प्रतीक है।

SubQuestion No : 18

Q.18 वर्तमान में तो अन्य धर्मों को मानने वाले लोग भी इस त्योहार को बड़ी _____ से मनाने लगे हैं।

- Ans
- ✓ 1. धूमधाम
 - ✗ 2. धनवान
 - ✗ 3. पहचान
 - ✗ 4. सुनसान

Question ID : 264330189757

Option 1 ID : 264330742672

Option 2 ID : 264330742673

Option 3 ID : 264330742671

Option 4 ID : 264330742670

Status : Not Answered

Chosen Option : --

Comprehension:

नीचे दिए गये गद्यांश में कुछ शब्द छोड़ दिये गए हैं, प्रत्येक अनुच्छेद के सामने चार विकल्प दिए गए हैं। इस गद्यांश को ध्यानपूर्वक पढ़ें और चार विकल्पों में से सर्वोत्तम उत्तर वाला विकल्प चुनें।

भारत त्योहारों का देश है इसीलिए यहाँ प्रत्येक दिन एक त्योहार के रूप में _____ जाता है। भारत का होली का त्योहार विश्व प्रसिद्ध है। होली का त्योहार हिंदू धर्म में मनाया जाने वाला दूसरा सबसे बड़ा त्योहार है। इस त्योहार को रंगों के त्योहार के नाम से भी जाना जाता है। होली का त्योहार भारत के साथ-साथ नेपाल, बांग्लादेश, अमेरिका, ऑस्ट्रेलिया, कनाडा जैसे कई देशों में भी _____ है। इस त्योहार को सभी वर्गों के लोग मनाते हैं। वर्तमान में तो अन्य धर्मों को मानने वाले लोग भी इस त्योहार को बड़ी _____ से मनाने लगे हैं। प्रकृति भी एक तरह से इस त्योहार में सम्मिलित होती है। चारों ओर रंग बिरंगे फूल बिखेर कर बसंत ऋतु _____ लुटाती है। यह खुशियाँ बांटने वाला त्योहार है, इस दिन सभी लोग एक दूसरे से गले मिलकर खुशी-खुशी इस त्योहार को मनाते हैं। इस त्योहार में ऐसी शक्ति है कि वर्षों पुरानी दुश्मनी भी इस दिन दोस्ती में बदल जाती है। इसीलिए होली को _____ का त्योहार भी कहा गया है। ऐसा माना जाता है कि होली का त्योहार हजारों वर्षों से मनाया जा रहा है। होली का त्योहार बुराई पर अच्छाई की जीत के प्रतीक के रूप में मनाया जाता है, साथ ही यह मौज-मस्ती का भी प्रतीक है।

SubQuestion No : 19

Q.19 चारों ओर रंग बिरंगे फूल बिखेर कर बसंत ऋतु _____ लुटाती है।

- Ans
- ✗ 1. फूल
 - ✗ 2. धूल
 - ✓ 3. खुशियाँ
 - ✗ 4. पत्ते

Question ID : 264330189758

Option 1 ID : 264330742676

Option 2 ID : 264330742677

Option 3 ID : 264330742674

Option 4 ID : 264330742675

Status : Not Answered

Chosen Option : --

Comprehension:

नीचे दिए गये गद्यांश में कुछ शब्द छोड़ दिये गए हैं, प्रत्येक अनुच्छेद के सामने चार विकल्प दिए गए हैं। इस गद्यांश को ध्यानपूर्वक पढ़ें और चार विकल्पों में से सर्वोत्तम उत्तर वाला विकल्प चुनें।

भारत त्योहारों का देश है इसलिए यहाँ प्रत्येक दिन एक त्योहार के रूप में _____ जाता है। भारत का होली का त्योहार विश्व प्रसिद्ध है। होली का त्योहार हिंदू धर्म में मनाया जाने वाला दूसरा सबसे बड़ा त्योहार है। इस त्योहार को रंगों के त्योहार के नाम से भी जाना जाता है। होली का त्योहार भारत के साथ-साथ नेपाल, बांग्लादेश, अमेरिका, ऑस्ट्रेलिया, कनाडा जैसे कई देशों में भी _____ है। इस त्योहार को सभी वर्गों के लोग मनाते हैं। वर्तमान में तो अन्य धर्मों को मानने वाले लोग भी इस त्योहार को बड़ी _____ से मनाने लगे हैं। प्रकृति भी एक तरह से इस त्योहार में सम्मिलित होती है। चारों ओर रंग बिरंगे फूल बिखेर कर बसंत ऋतु _____ लुटाती है। यह खुशियाँ बांटने वाला त्योहार है, इस दिन सभी लोग एक दूसरे से गले मिलकर खुशी-खुशी इस त्योहार को मनाते हैं। इस त्योहार में ऐसी शक्ति है कि वर्षों पुरानी दुश्मनी भी इस दिन दोस्ती में बदल जाती है। इसलिए होली को _____ का त्योहार भी कहा गया है। ऐसा माना जाता है कि होली का त्योहार हजारों वर्षों से मनाया जा रहा है। होली का त्योहार बुराई पर अच्छाई की जीत के प्रतीक के रूप में मनाया जाता है, साथ ही यह मौज-मस्ती का भी प्रतीक है।

SubQuestion No : 20

Q.20 इसीलिए होली को _____ का त्योहार भी कहा गया है।

Ans

1. सौहार्द
 2. पानी बरबादी
 3. परमार्थ
 4. स्वार्थ

Question ID : 264330189759
Option 1 ID : 264330742681
Option 2 ID : 264330742678
Option 3 ID : 264330742679
Option 4 ID : 264330742680
Status : Not Answered
Chosen Option : --

Constable GD in Central Armed Police Forces CAPFs SSF Rifleman GD in Assam Rifles Examination 2024

Roll Number	
Candidate Name	
Venue Name	
Exam Date	20/02/2024
Exam Time	2:30 PM - 3:30 PM
Subject	Constable GD Examination 2024

Section : Part-A-General Intelligence and Reasoning

Q.1 Which two numbers should be interchanged to make the given equation correct?

$$8 + 7 \times 5 \div 14 - 3 = 6$$

- Ans**
- 1. 8 and 5
 - 2. 3 and 5
 - 3. 14 and 6
 - 4. 8 and 7

Question ID : 264330190421
 Option 1 ID : 264330745269
 Option 2 ID : 264330745267
 Option 3 ID : 264330745268
 Option 4 ID : 264330745266
 Status : Not Answered
 Chosen Option : --

Q.2 Select the option that is related to the fifth word in the same way as the fourth word is related to the third word and the second word is related to the first word.

CABBAGE : VEGETABLE :: CUSTARD : DESSERT :: PEACH : ?

- Ans**
- 1. DESSERT
 - 2. VEGETABLE
 - 3.
 - 4. FRUIT

Question ID : 264330190411
 Option 1 ID : 264330745228
 Option 2 ID : 264330745226
 Option 3 ID : 264330745229
 Option 4 ID : 264330745227
 Status : Answered
 Chosen Option : 4

Q.3 In a certain code language, 'ALLIES' is coded as 'REHLKA'. What is the code for 'BALLET' in that code language?

- Ans**
- 1. SEKLZB
 - 2. SDKLZB
 - 3. SEKLZC
 - 4. SEKZLB

Question ID : 264330187124
Option 1 ID : 264330732425
Option 2 ID : 264330732424
Option 3 ID : 264330732427
Option 4 ID : 264330732426
Status : Answered
Chosen Option : 3

Q.4 In the following question, select the missing number from the given series.

14, 6, 5, 6.5, 12, ?

- Ans**
- 1. 20
 - 2. 17
 - 3. 29
 - 4. 25

Question ID : 264330187411
Option 1 ID : 264330733573
Option 2 ID : 264330733575
Option 3 ID : 264330733572
Option 4 ID : 264330733574
Status : Not Answered
Chosen Option : --

Q.5 In a certain code language, if AMRITSAR is coded as MAIRSTRA, DURGAPUR is coded as UDGRPARU, then what will SHILLONG be coded as?

- Ans**
- 1. GNLIOLSH
 - 2. NGLOILSH
 - 3. HSLIOLGN
 - 4. HSLOILGN

Question ID : 264330192314
Option 1 ID : 264330752612
Option 2 ID : 264330752613
Option 3 ID : 264330752610
Option 4 ID : 264330752611
Status : Answered
Chosen Option : 3

Q.6 In the following question, select the related letters from the given alternatives.

PTX : RVZ :: CGK : ?

- Ans 1. VVW
 2. MNL
 3. ABC
 4. EIM

Question ID : 264330190150
Option 1 ID : 264330744183
Option 2 ID : 264330744182
Option 3 ID : 264330744185
Option 4 ID : 264330744184
Status : Answered
Chosen Option : 4

Q.7 After interchanging the given two signs what will be the values of equation (I) and (II) respectively?

× and ÷

I. $18 \div 3 - 4 \times 2 + 7$

II. $18 \times 3 \div 6 - 8 + 4$

- Ans 1. 40 and 80
 2. 16 and 30
 3. 9 and 7
 4. 59 and 32

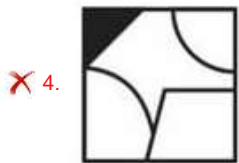
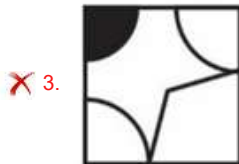
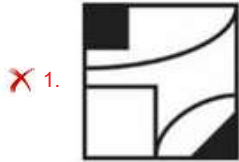
Question ID : 264330191341
Option 1 ID : 264330748719
Option 2 ID : 264330748721
Option 3 ID : 264330748720
Option 4 ID : 264330748718
Status : Answered
Chosen Option : 4

www.exammix.com

Q.8 Which answer figure will complete the pattern in the question figure? (rotation is not allowed)



Ans



Question ID : 264330187458

Option 1 ID : 264330733761

Option 2 ID : 264330733763

Option 3 ID : 264330733760

Option 4 ID : 264330733762

Status : Answered

Chosen Option : 2

Q.9 In the following question, select the missing number from the given series.

55, 165, 495, 1485, ?, 13365

Ans

✓ 1. 4455

✗ 2. 5055

✗ 3. 6000

✗ 4. 7055

Question ID : 264330191539

Option 1 ID : 264330749510

Option 2 ID : 264330749511

Option 3 ID : 264330749512

Option 4 ID : 264330749513

Status : Answered

Chosen Option : 1

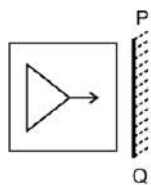
Q.10 Which of the following groups of letters when sequentially placed from left to right will complete the given series?

opq_stopqrsto_qrstopqrs_opqr_t

- Ans**
- 1. rptp
 - 2. opqr
 - 3. rpts
 - 4. qpqr

Question ID : 264330187400
Option 1 ID : 264330733531
Option 2 ID : 264330733530
Option 3 ID : 264330733529
Option 4 ID : 264330733528
Status : Answered
Chosen Option : 3

Q.11 Select the correct mirror image of the given figure when the mirror PQ is placed to the right side of the figure.



Ans

- 1.
- 2.
- 3.
- 4.

Question ID : 264330192266
Option 1 ID : 264330752421
Option 2 ID : 264330752419
Option 3 ID : 264330752420
Option 4 ID : 264330752418
Status : Answered
Chosen Option : 1

Q.12 After arranging the given words according to dictionary order, which word will come at 'Fourth' position?

1. Wheel
2. Wheat
3. Whale
4. Whet
5. When

Ans 1. Wheat
 2. When
 3. Whet
 4. Wheel

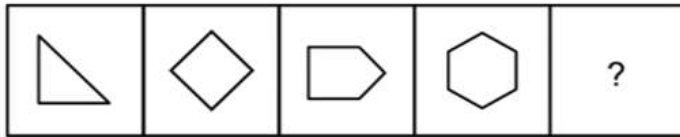
Question ID : 264330191550
Option 1 ID : 264330749555
Option 2 ID : 264330749556
Option 3 ID : 264330749554
Option 4 ID : 264330749557
Status : Answered
Chosen Option : 2

Q.13 'P × Q' means 'P is the father of Q'
'P + Q' means 'P is the brother of Q'
'P ÷ Q' means 'P is the son of Q'
'P - Q' means 'P is the husband of Q'
How is O related to L in the expression 'O + N ÷ M - L'?

Ans 1. Father
 2. Son
 3. Brother
 4. Husband

Question ID : 264330192315
Option 1 ID : 264330752617
Option 2 ID : 264330752615
Option 3 ID : 264330752614
Option 4 ID : 264330752616
Status : Answered
Chosen Option : 2

Q.14 Select the figure that will replace the question mark (?) in the following figure series.



Ans

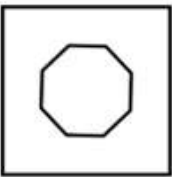
✓ 1.



✗ 2.



✗ 3.



✗ 4.



Question ID : 264330192083

Option 1 ID : 264330751688

Option 2 ID : 264330751687

Option 3 ID : 264330751686

Option 4 ID : 264330751689

Status : Answered

Chosen Option : 1

Q.15 Which of the following letter-number cluster will replace the question mark (?) in the given series?

UDF6, VFI9, ?, XJO15, YLR18, ZNU21

Ans ✗ 1. VGK11

✓ 2. WHL12

✗ 3. WIK11

✗ 4. XHL12

Question ID : 264330188039

Option 1 ID : 264330736087

Option 2 ID : 264330736084

Option 3 ID : 264330736086

Option 4 ID : 264330736085

Status : Answered

Chosen Option : 2

Q.16 From the given option figures, select the one in which the question figure is hidden/embedded. (rotation is NOT allowed)

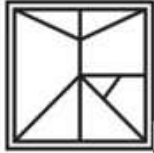


Ans

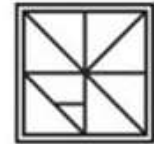
1.



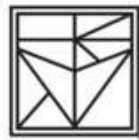
2.



3.



4.



Question ID : 264330190244
Option 1 ID : 264330744559
Option 2 ID : 264330744558
Option 3 ID : 264330744560
Option 4 ID : 264330744561
Status : Answered
Chosen Option : 4

Q.17 Five friends London, Madrid, Paris, Rome, and Vienna are arranged in a circle facing the center. Madrid is to the immediate left of Paris. Rome is exactly between London and Vienna. Vienna is to the immediate right of Paris. Which friend is to the immediate left of Madrid?

Ans

1. Paris

2. Rome

3. Vienna

4. London

Question ID : 264330192137
Option 1 ID : 264330751903
Option 2 ID : 264330751902
Option 3 ID : 264330751905
Option 4 ID : 264330751904
Status : Answered
Chosen Option : 4

Q.18 In the following question, select the figure which can be placed at the sign of question mark (?) from the given alternatives.

6			12	18			24	
	78	72			60	42		?

Ans

✓ 1.

30	
	18

✗ 2.

30	
	24

✗ 3.

24	
	30

✗ 4.

	30
18	

Question ID : 264330187075

Option 1 ID : 264330732229

Option 2 ID : 264330732228

Option 3 ID : 264330732230

Option 4 ID : 264330732231

Status : Answered

Chosen Option : 1

www.exammix.com

Q.19 Three Statements are given followed by two conclusions numbered I and II. Assuming the statements to be true, even if they seem to be at variance with commonly known facts, decide which of the conclusions logically follow(s) from the statements.

Statement I: All pens are stationery items.

Statement II: Some stationery items are rubbers.

Statement III: All markers are pens.

Conclusion I: Some stationery items are not rubbers.

Conclusion II: Some markers are not stationery items.

- Ans**
- 1. Neither conclusion I nor II follows
 - 2. Only conclusion II follows
 - 3. Both conclusions I and II follow
 - 4. Only conclusion I follows

Question ID : 264330192118
Option 1 ID : 264330751829
Option 2 ID : 264330751827
Option 3 ID : 264330751828
Option 4 ID : 264330751826
Status : Not Answered
Chosen Option : --

Q.20 Five friends Pooja, Bhawna, Charu, Geeta and Hema are sitting around a circular table facing towards the centre. Charu is not the immediate neighbour of Bhawna. Bhawna is second to the left of Hema. Geeta is the immediate neighbour of Bhawna and Hema. Who is sitting to the immediate right of Hema?

- Ans**
- 1. Geeta
 - 2. Charu
 - 3. Pooja
 - 4. Bhawna

Question ID : 264330187067
Option 1 ID : 264330732196
Option 2 ID : 264330732198
Option 3 ID : 264330732197
Option 4 ID : 264330732199
Status : Answered
Chosen Option : 2

Section : Part-B-General Knowledge and General awareness

Q.1 With how many countries does India share a sea border?

- Ans**
- 1. 2
 - 2. 4
 - 3. 8
 - 4. 6

Question ID : 264330191275
Option 1 ID : 264330748454
Option 2 ID : 264330748455
Option 3 ID : 264330748457
Option 4 ID : 264330748456
Status : Not Answered
Chosen Option : --

Q.2 Constitutions limit the power of government in many ways. The most common way of limiting the power of government is to specify certain _____ that all of us possess as citizens and which no government can ever be allowed to violate.

- Ans**
- 1. Fundamental Rights
 - 2. Economic Duties
 - 3. Directive Principles of State Policy
 - 4. Fundamental Duties

Question ID : 264330188764
Option 1 ID : 264330738858
Option 2 ID : 264330738861
Option 3 ID : 264330738860
Option 4 ID : 264330738859
Status : Answered
Chosen Option : 1

Q.3 How many cities of the host state hosted the National Games 2023?

- Ans**
- 1. 8
 - 2. 2
 - 3. 10
 - 4. 5

Question ID : 264330191101
Option 1 ID : 264330747759
Option 2 ID : 264330747760
Option 3 ID : 264330747761
Option 4 ID : 264330747758
Status : Not Answered
Chosen Option : --

Q.4 Indian origin _____, was United Kingdom's Home Secretary until November 2023.

- Ans**
- 1. Rishi Sunak
 - 2. Kamala Harris
 - 3. Akshata Murty
 - 4. Suella Braverman

Question ID : 264330191709
Option 1 ID : 264330750190
Option 2 ID : 264330750193
Option 3 ID : 264330750192
Option 4 ID : 264330750191
Status : Answered
Chosen Option : 4

Q.5 Which Union Ministry announced the launch of the 'Amazon Future Engineer Programme?'

- Ans
- 1. Ministry of Education
 - 2. Ministry of Science and Technology
 - 3. Ministry of Electronics and Information Technology
 - 4. Ministry of Tribal Affairs

Question ID : 264330191888
Option 1 ID : 264330750909
Option 2 ID : 264330750907
Option 3 ID : 264330750908
Option 4 ID : 264330750906
Status : Not Answered
Chosen Option : --

Q.6 Ustad Binda Khan is associated with which of the following instruments?

- Ans
- 1. Flute
 - 2. Sarangi
 - 3. Shehnai
 - 4. Tabla

Question ID : 264330191898
Option 1 ID : 264330750946
Option 2 ID : 264330750949
Option 3 ID : 264330750948
Option 4 ID : 264330750947
Status : Not Answered
Chosen Option : --

Q.7 In which unit, noise pollution is measured?

- Ans
- 1. Decibel
 - 2. Ohm
 - 3. Hertz
 - 4. Centimeter

Question ID : 264330191753
Option 1 ID : 264330750367
Option 2 ID : 264330750369
Option 3 ID : 264330750366
Option 4 ID : 264330750368
Status : Answered
Chosen Option : 1

Q.8 In August 2023, the Central government has granted a _____ extension to Cabinet Secretary Rajiv Gauba, making him the longest-serving cabinet secretary in India's history.

- Ans**
- 1. Three-years
 - 2. Two-years
 - 3. Four-years
 - 4. One-year

Question ID : 264330192030
Option 1 ID : 264330751476
Option 2 ID : 264330751475
Option 3 ID : 264330751477
Option 4 ID : 264330751474
Status : Not Answered
Chosen Option : --

Q.9 At the end of which of the following Five-year plans of India, five IITs were set up in the country?

- Ans**
- 1. Second
 - 2. First
 - 3. Fourth
 - 4. Third

Question ID : 264330192027
Option 1 ID : 264330751463
Option 2 ID : 264330751462
Option 3 ID : 264330751465
Option 4 ID : 264330751464
Status : Not Answered
Chosen Option : --

Q.10 The Green Revolution was instrumental in reducing India's dependence on imports of:

- Ans**
- 1. Petroleum
 - 2. Textiles
 - 3. Machinery
 - 4. Food grains

Question ID : 264330191486
Option 1 ID : 264330749298
Option 2 ID : 264330749300
Option 3 ID : 264330749301
Option 4 ID : 264330749299
Status : Answered
Chosen Option : 4

Q.11 "Mysuru Dasara" is a grand celebration in the Indian state of _____, featuring a royal procession, cultural events, and a display of decorated elephants.

- Ans**
- 1. Karnataka
 - 2. Tamil Nadu
 - 3. Orissa
 - 4. Kerala

Question ID : 264330190951
Option 1 ID : 264330747159
Option 2 ID : 264330747161
Option 3 ID : 264330747160
Option 4 ID : 264330747158
Status : Not Answered
Chosen Option : --

Q.12 Which of the following statement is correct regarding Gautama Buddha?

- I. Siddhartha, also known as Gautama, the founder of Buddhism, was born about 2500 years ago.
- II. The Gautama Buddha belonged to a small gana known as the Sakya gana.

- Ans**
- 1. Both I and II
 - 2. Neither I nor II
 - 3. Only II
 - 4. Only I

Question ID : 264330191055
Option 1 ID : 264330747576
Option 2 ID : 264330747577
Option 3 ID : 264330747575
Option 4 ID : 264330747574
Status : Not Answered
Chosen Option : --

Q.13 Leander Paes is associated with _____ .

- Ans**
- 1. Lawn Tennis
 - 2. Badminton
 - 3. Cricket
 - 4. Golf

Question ID : 264330191802
Option 1 ID : 264330750562
Option 2 ID : 264330750563
Option 3 ID : 264330750564
Option 4 ID : 264330750565
Status : Not Answered
Chosen Option : --

Q.14 In which year was the Gandhi-Irwin Pact signed?

- Ans
- 1. 1941
 - 2. 1921
 - 3. 1911
 - 4. 1931

Question ID : 264330190836
Option 1 ID : 264330746701
Option 2 ID : 264330746699
Option 3 ID : 264330746698
Option 4 ID : 264330746700
Status : Not Answered
Chosen Option : --

Q.15 Where was the International Shooting Sport Federation World Cup 2022 held?

- Ans
- 1. Munich, Germany
 - 2. Sydney, Australia
 - 3. Cairo, Egypt
 - 4. New Delhi, India

Question ID : 264330191304
Option 1 ID : 264330748570
Option 2 ID : 264330748573
Option 3 ID : 264330748572
Option 4 ID : 264330748571
Status : Not Answered
Chosen Option : --

Q.16 Which of the following statements is correct regarding Depreciation?

I. Depreciation is termed as loss of value of fixed assets due to wear and tear during its useful life.

II. Depreciation does not take into account unexpected or sudden destruction.

- Ans
- 1. Neither I nor II
 - 2. Only II
 - 3. Both I and II
 - 4. Only I

Question ID : 264330188829
Option 1 ID : 264330739121
Option 2 ID : 264330739119
Option 3 ID : 264330739120
Option 4 ID : 264330739118
Status : Answered
Chosen Option : 4

Q.17 Which of the following states/Union Territories have the highest male literacy rate according to Census of India 2011?

- Ans
- 1. Lakshadweep
 - 2. Kerala
 - 3. Tripura
 - 4. Mizoram

Question ID : 264330188878
Option 1 ID : 264330739317
Option 2 ID : 264330739315
Option 3 ID : 264330739316
Option 4 ID : 264330739314
Status : Answered
Chosen Option : 2

Q.18 _____ is a lively dance form of the Bundelkhand region. Its performance begins with the beating of mridang and gradually gains momentum dotted with prose and poetic dialogues.

- Ans
- 1. Rai
 - 2. Swang
 - 3. Matki
 - 4. Gangaur

Question ID : 264330191070
Option 1 ID : 264330747635
Option 2 ID : 264330747634
Option 3 ID : 264330747636
Option 4 ID : 264330747637
Status : Not Answered
Chosen Option : --

Q.19 In Olympics table tennis event, if the points are tied at 10-10, a player then has to strive for a _____ point lead to win the game.

- Ans
- 1. 1
 - 2. 4
 - 3. 3
 - 4. 2

Question ID : 264330191721
Option 1 ID : 264330750238
Option 2 ID : 264330750239
Option 3 ID : 264330750240
Option 4 ID : 264330750241
Status : Not Answered
Chosen Option : --

www.exammix.com

Q.20 In August 2023, Which of the following former Chief Justice of India was appointed a member of Singapore's International Mediator Panel?

- Ans**
- 1. Ranjan Gogoi
 - 2. NV Ramana
 - 3. Sharad Arvind Bobde
 - 4. UU Lalit

Question ID : 264330191739
Option 1 ID : 264330750310
Option 2 ID : 264330750313
Option 3 ID : 264330750311
Option 4 ID : 264330750312
Status : Not Answered
Chosen Option : --

Section : Part-C-Elementary Mathematics

Q.1 Marked price of a chair is Rs. 5000. After giving two successive discounts of 10 percent and x percent, the chair is sold for Rs. 3150. What is the value of x?

- Ans**
- 1. 40 percent
 - 2. 25 percent
 - 3. 20 percent
 - 4. 30 percent

Question ID : 264330187770
Option 1 ID : 264330735011
Option 2 ID : 264330735010
Option 3 ID : 264330735009
Option 4 ID : 264330735008
Status : Answered
Chosen Option : 4

Q.2 What is the value of $\frac{16 \times (9 + 4) - 13 \times 14}{50 - (12 + 12)}$?

- Ans**
- 1. 1
 - 2. 2
 - 3. 13
 - 4. 26

Question ID : 264330187660
Option 1 ID : 264330734568
Option 2 ID : 264330734569
Option 3 ID : 264330734570
Option 4 ID : 264330734571
Status : Not Answered
Chosen Option : --

Q.3 If selling price of a table is 25 percent of its cost price, then what is the loss percentage?

- Ans**
- 1. 75 percent
 - 2. 45 percent
 - 3. 55 percent
 - 4. 35 percent

Question ID : 264330187507
Option 1 ID : 264330733957
Option 2 ID : 264330733958
Option 3 ID : 264330733959
Option 4 ID : 264330733956
Status : Answered
Chosen Option : 1

Q.4 The price of a movie ticket was increased by 18%. The increase in ticket price reduced the number of audience by 25%. What is the effect on revenue?

- Ans**
- 1. decrease by 9.5%
 - 2. increase by 10%
 - 3. decrease by 14%
 - 4. decrease by 11.5%

Question ID : 264330192395
Option 1 ID : 264330752935
Option 2 ID : 264330752937
Option 3 ID : 264330752936
Option 4 ID : 264330752934
Status : Answered
Chosen Option : 4

Q.5 If a certain sum of money becomes thrice of itself in 8 years 6 months at simple interest, then what will be the annual rate of interest?

- Ans**
- 1. 21.28 percent
 - 2. 24.78 percent
 - 3. 23.52 percent
 - 4. 24.48 percent

Question ID : 264330187753
Option 1 ID : 264330734941
Option 2 ID : 264330734943
Option 3 ID : 264330734942
Option 4 ID : 264330734940
Status : Answered
Chosen Option : 3

Q.6 If $P : Q : R = 9 : 10 : 11$, then what is the value of $(P + Q) : (Q + R) : (R + P)$?

- Ans
- 1. 19 : 21 : 20
 - 2. 19 : 21 : 19
 - 3. 19 : 21 : 23
 - 4. 19 : 21 : 22

Question ID : 264330190100
Option 1 ID : 264330743984
Option 2 ID : 264330743985
Option 3 ID : 264330743983
Option 4 ID : 264330743982
Status : Answered
Chosen Option : 1

Q.7 If 18 men can finish a work in 13 days. Then in how many days will 54 men finish the same work?

- Ans
- 1. 13/3 days
 - 2. 8/5 days
 - 3. 9 days
 - 4. 18/4 days

Question ID : 264330192405
Option 1 ID : 264330752975
Option 2 ID : 264330752976
Option 3 ID : 264330752977
Option 4 ID : 264330752974
Status : Answered
Chosen Option : 1

Q.8 A and B can complete a work alone in 20 days and 60 days respectively. They began the work together but A left the work after some days and B completed the remaining work in 12 days. After how many days from the beginning A left the work?

- Ans
- 1. 12 days
 - 2. 9 days
 - 3. 15 days
 - 4. 10 days

Question ID : 264330188630
Option 1 ID : 264330738324
Option 2 ID : 264330738322
Option 3 ID : 264330738325
Option 4 ID : 264330738323
Status : Not Answered
Chosen Option : --

Q.9 Six friends have an average height of 144 cm. A boy with a height of 150 cm leaves the group. Find the new average height.

- Ans**
- 1. 108.6 cm
 - 2. 142.8 cm
 - 3. 155.5 cm
 - 4. 160.5 cm

Question ID : 264330188084
Option 1 ID : 264330736264
Option 2 ID : 264330736267
Option 3 ID : 264330736266
Option 4 ID : 264330736265
Status : Answered
Chosen Option : 2

Q.10 If interest is being compound annually, then what sum will amount to Rs. 9464 in 2 years at the rate of 30 percent per annum at compound interest?

- Ans**
- 1. Rs. 6800
 - 2. Rs. 5750
 - 3. Rs. 5600
 - 4. Rs. 5400

Question ID : 264330187174
Option 1 ID : 264330732624
Option 2 ID : 264330732626
Option 3 ID : 264330732627
Option 4 ID : 264330732625
Status : Answered
Chosen Option : 3

Q.11 What is the value of $880 + 41 \div 14 \times 84 - 26$?

- Ans**
- 1. 1150
 - 2. 1100
 - 3. 1000
 - 4. 1200

Question ID : 264330191628
Option 1 ID : 264330749866
Option 2 ID : 264330749869
Option 3 ID : 264330749867
Option 4 ID : 264330749868
Status : Not Answered
Chosen Option : --

Q.12 The difference between cost price and selling price is Rs. 264. If profit percentage is 33 percent, then what is the selling price?

- Ans**
- 1. Rs. 1064
 - 2. Rs. 1526
 - 3. Rs. 1024
 - 4. Rs. 1084

Question ID : 264330187288
Option 1 ID : 264330733083
Option 2 ID : 264330733080
Option 3 ID : 264330733081
Option 4 ID : 264330733082
Status : Answered
Chosen Option : 1

Q.13 Average of 4 numbers is 52. Average of first two numbers is thrice the average of other two numbers. What is the sum of first two numbers?

- Ans**
- 1. 148
 - 2. 147
 - 3. 156
 - 4. 174

Question ID : 264330191632
Option 1 ID : 264330749885
Option 2 ID : 264330749883
Option 3 ID : 264330749884
Option 4 ID : 264330749882
Status : Answered
Chosen Option : 3

Q.14 The ratio of copper and zinc in brass is 25 : 12. How much amount of copper will be there in 370 kg of brass?

- Ans**
- 1. 250 kg
 - 2. 150 kg
 - 3. 350 kg
 - 4. 50 kg

Question ID : 264330191139
Option 1 ID : 264330747910
Option 2 ID : 264330747912
Option 3 ID : 264330747911
Option 4 ID : 264330747913
Status : Answered
Chosen Option : 1

Q.15 Marked price of an article is Rs. 28500 and its selling price is Rs. 15675. What is the discount percentage?

- Ans**
- 1. 48 percent
 - 2. 52 percent
 - 3. 42 percent
 - 4. 45 percent

Question ID : 264330187489
Option 1 ID : 264330733885
Option 2 ID : 264330733884
Option 3 ID : 264330733886
Option 4 ID : 264330733887
Status : Answered
Chosen Option : 4

Q.16 If 25 is subtracted from a number, then number becomes 50 percent of itself. What is the number?

- Ans**
- 1. 50
 - 2. 45
 - 3. 40
 - 4. 55

Question ID : 264330187625
Option 1 ID : 264330734429
Option 2 ID : 264330734430
Option 3 ID : 264330734431
Option 4 ID : 264330734428
Status : Answered
Chosen Option : 1

Q.17 A person covers first 11 km in 60 minutes and next 22 km in 30 minutes. What is his average speed for the whole journey?

- Ans**
- 1. 18 km/hr
 - 2. 25 km/hr
 - 3. 22 km/hr
 - 4. 27 km/hr

Question ID : 264330187575
Option 1 ID : 264330734229
Option 2 ID : 264330734228
Option 3 ID : 264330734231
Option 4 ID : 264330734230
Status : Answered
Chosen Option : 3

Q.18 What is the value of $[19 \times \{24 \div 4 \text{ of } (24 \times 4 \div 16)\}]$?

- Ans
- 1. 1
 - 2. 19
 - 3. 76
 - 4. 38

Question ID : 264330191128
Option 1 ID : 264330747866
Option 2 ID : 264330747867
Option 3 ID : 264330747869
Option 4 ID : 264330747868
Status : Not Answered
Chosen Option : --

Q.19 Two numbers are in the ratio of 11: 13. If their HCF is 7, find the numbers.

- Ans
- 1. 21 and 28
 - 2. 63 and 70
 - 3. 77 and 91
 - 4. 70 and 80

Question ID : 264330191650
Option 1 ID : 264330749957
Option 2 ID : 264330749956
Option 3 ID : 264330749954
Option 4 ID : 264330749955
Status : Answered
Chosen Option : 3

Q.20 The radius of a sphere is 4.2 cm. What is the volume of the sphere?

- Ans
- 1. 348.21 cm^3
 - 2. 284.62 cm^3
 - 3. 329.32 cm^3
 - 4. 310.46 cm^3

Question ID : 264330188611
Option 1 ID : 264330738248
Option 2 ID : 264330738249
Option 3 ID : 264330738247
Option 4 ID : 264330738246
Status : Not Answered
Chosen Option : --

Section : Part-D-English

Q.1 Fill in the blank with the most appropriate option.

His first movement after the shock _____ to work in his loom; and he went on with this unremittingly.

- Ans
- 1. have been
 - 2. had been
 - 3. has being
 - 4. was been

Question ID : 264330186933
Option 1 ID : 264330731850
Option 2 ID : 264330731848
Option 3 ID : 264330731851
Option 4 ID : 264330731849
Status : Not Answered
Chosen Option : --

Q.2 Choose the most appropriate antonym of the underlined word.

While some people may face legitimate obstacles, others are just obstinate.

- Ans
- 1. dogged
 - 2. stubborn
 - 3. firm
 - 4. obedient

Question ID : 264330186059
Option 1 ID : 264330728519
Option 2 ID : 264330728516
Option 3 ID : 264330728518
Option 4 ID : 264330728517
Status : Not Answered
Chosen Option : --

Q.3 Choose the most appropriate synonym of the underlined word.

This query is no doubt a very correct and moral one, but it seems somewhat cryptic.

- Ans
- 1. Common
 - 2. Clear
 - 3. Obvious
 - 4. Mysterious

Question ID : 264330185784
Option 1 ID : 264330727469
Option 2 ID : 264330727471
Option 3 ID : 264330727468
Option 4 ID : 264330727470
Status : Not Answered
Chosen Option : --

Q.4 Find the part of the given sentence that has an error in it. If there is no error, choose 'No error'.

We had been collected and studied over 14,000 dung beetles from 98 different species.

- Ans**
- 1. We had been collected and
 - 2. beetles from 98 different species.
 - 3. No error
 - 4. studied over 14,000 dung

Question ID : 264330186004
Option 1 ID : 264330728308
Option 2 ID : 264330728310
Option 3 ID : 264330728311
Option 4 ID : 264330728309
Status : Not Answered
Chosen Option : --

Q.5 Select the most appropriate word to fill in the blank.

He was dismissed for being combative and antagonistic _____ his supervisor.

- Ans**
- 1. through
 - 2. about
 - 3. towards
 - 4. above

Question ID : 264330186154
Option 1 ID : 264330728880
Option 2 ID : 264330728881
Option 3 ID : 264330728883
Option 4 ID : 264330728882
Status : Not Answered
Chosen Option : --

Q.6 Select the most appropriate option for the given blank.

Please _____ my apology for this mistake.

- Ans**
- 1. obtain
 - 2. accept
 - 3. develop
 - 4. acquire

Question ID : 264330185602
Option 1 ID : 264330726779
Option 2 ID : 264330726777
Option 3 ID : 264330726776
Option 4 ID : 264330726778
Status : Not Answered
Chosen Option : --

Q.7 Choose the idiom/phrase that can substitute the highlighted group of words meaningfully.

She never has to worry about money as she is **born into a very rich family**.

- Ans
- 1. Eats like a bird
 - 2. Spill the beans
 - 3. Born with a silver spoon in mouth
 - 4. Out of the blue

Question ID : 264330186377
Option 1 ID : 264330729731
Option 2 ID : 264330729729
Option 3 ID : 264330729728
Option 4 ID : 264330729730
Status : Not Answered
Chosen Option : --

Q.8 Select the incorrectly spelt word from the given sentence.

The univarsity claims students can face a law-suit or fine for violating the UNO smoking prohibition.

- Ans
- 1. violating
 - 2. prohibition
 - 3. univarsity
 - 4. claims

Question ID : 264330186041
Option 1 ID : 264330728450
Option 2 ID : 264330728451
Option 3 ID : 264330728448
Option 4 ID : 264330728449
Status : Not Answered
Chosen Option : --

Q.9 In the following question, out of the given four alternatives, select the alternative which best expresses the meaning of the Idiom/Phrase.

Under the sun

- Ans
- 1. On earth
 - 2. In public
 - 3. Under suspicion
 - 4. At high risk

Question ID : 264330185787
Option 1 ID : 264330727482
Option 2 ID : 264330727483
Option 3 ID : 264330727480
Option 4 ID : 264330727481
Status : Not Answered
Chosen Option : --

Q.10 Fill in the blank with the correct homophone:

In the dense forest, a mother _____ and her cubs roamed freely, enjoying the tranquillity of their natural habitat.

- Ans**
- 1. bare
 - 2. beer
 - 3. bear
 - 4. Ber

Question ID : 264330186464
Option 1 ID : 264330730061
Option 2 ID : 264330730062
Option 3 ID : 264330730060
Option 4 ID : 264330730063
Status : Not Answered
Chosen Option : --

Q.11 The sentence has been divided into three parts, identify the error segment in the sentence given below. Choose no error if there is no error in the sentence.

After a long day at work, he decided to switch of his/ phone, disconnecting from the digital world/ to immerse himself in a good book.

- Ans**
- 1. After a long day at work, he decided to switch of his
 - 2. phone, disconnecting from the digital world
 - 3. to immerse himself in a good book.
 - 4. no error

Question ID : 264330186402
Option 1 ID : 264330729824
Option 2 ID : 264330729825
Option 3 ID : 264330729826
Option 4 ID : 264330729827
Status : Not Answered
Chosen Option : --

Q.12 Select the sentence with no spelling errors.

- Ans**
- 1. The man walks with a great deel of poise, in fact, very much like an ephalnt, but he also has the agility of the panther.
 - 2. The man walks with a grate deal of poise, in fact, very much like an elephant, but he also has the agelity of the panther.
 - 3. The man walks with a great deal of poise, in fact, very much like an elephant, but he also has the agility of the panthur.
 - 4. The man walks with a great deal of poise, in fact, very much like an elephant, but he also has the agility of the panther.

Question ID : 264330185769
Option 1 ID : 264330727413
Option 2 ID : 264330727415
Option 3 ID : 264330727414
Option 4 ID : 264330727412
Status : Not Answered
Chosen Option : --

Q.13 Find the part of the given sentence that has an error in it. If there is no error, choose 'No error'.

This is the most simple and basic component of life.

- Ans**
- 1. simple and basic
 - 2. component of life.
 - 3. No error
 - 4. This is the most

Question ID : 264330185898
Option 1 ID : 264330727905
Option 2 ID : 264330727906
Option 3 ID : 264330727907
Option 4 ID : 264330727904
Status : Not Answered
Chosen Option : --

Q.14 Select the word segment that substitutes (replaces) the bracketed word segment correctly and completes the sentence meaningfully. Select the option 'no correction required' if the sentence is correct as given.

Sapna was abstracted, biting her lip restlessly and reading over the guide-books to the battle-field that Suraj (had brought along).

- Ans**
- 1. has brought along
 - 2. have brought along
 - 3. have brought
 - 4. No correction required

Question ID : 264330186909
Option 1 ID : 264330731757
Option 2 ID : 264330731756
Option 3 ID : 264330731758
Option 4 ID : 264330731759
Status : Not Answered
Chosen Option : --

Q.15 Improve the underlined part of the sentence. Choose 'No improvement' as an answer if the sentence is grammatically correct.

I can't wait to gone camping next weekend.

- Ans**
- 1. go camping
 - 2. No improvement
 - 3. going camping
 - 4. go camps

Question ID : 264330186027
Option 1 ID : 264330728396
Option 2 ID : 264330728399
Option 3 ID : 264330728397
Option 4 ID : 264330728398
Status : Not Answered
Chosen Option : --

Comprehension:

Read the passage carefully and select the correct answer for the given blanks out of the four alternatives.

The number of measles cases (1) _____ the world increased by 18 per cent during the same period, the report said, bringing the total number of infections (2) _____ nine million.

Measles, a (3) _____ contagious viral disease, spreads through respiratory droplets (4) _____ by the breath, sneeze or cough of an infected person. It may result in serious illness or even death. Some 37 countries saw significant or disruptive measles (5) _____ in 2022, compared to 22 nations in 2021.

SubQuestion No : 16

Q.16 Select the most appropriate option for blank(1)

- Ans
- 1. along
 - 2. across
 - 3. for
 - 4. through

Question ID : 264330186284

Option 1 ID : 264330729373

Option 2 ID : 264330729372

Option 3 ID : 264330729375

Option 4 ID : 264330729374

Status : Not Answered

Chosen Option : --

Comprehension:

Read the passage carefully and select the correct answer for the given blanks out of the four alternatives.

The number of measles cases (1) _____ the world increased by 18 per cent during the same period, the report said, bringing the total number of infections (2) _____ nine million.

Measles, a (3) _____ contagious viral disease, spreads through respiratory droplets (4) _____ by the breath, sneeze or cough of an infected person. It may result in serious illness or even death. Some 37 countries saw significant or disruptive measles (5) _____ in 2022, compared to 22 nations in 2021.

SubQuestion No : 17

Q.17 Select the most appropriate option for blank(2)

- Ans
- 1. to
 - 2. upon
 - 3. too
 - 4. in

Question ID : 264330186285

Option 1 ID : 264330729377

Option 2 ID : 264330729379

Option 3 ID : 264330729376

Option 4 ID : 264330729378

Status : Not Answered

Chosen Option : --

Comprehension:

Read the passage carefully and select the correct answer for the given blanks out of the four alternatives.

The number of measles cases (1) _____ the world increased by 18 per cent during the same period, the report said, bringing the total number of infections (2) _____ nine million.

Measles, a (3) _____ contagious viral disease, spreads through respiratory droplets (4) _____ by the breath, sneeze or cough of an infected person. It may result in serious illness or even death. Some 37 countries saw significant or disruptive measles (5) _____ in 2022, compared to 22 nations in 2021.

SubQuestion No : 18

Q.18 Select the most appropriate option for blank(3)

- Ans
- 1. great
 - 2. highly
 - 3. partially
 - 4. mutant

Question ID : 264330186286

Option 1 ID : 264330729382

Option 2 ID : 264330729383

Option 3 ID : 264330729381

Option 4 ID : 264330729380

Status : Not Answered

Chosen Option : --

Comprehension:

Read the passage carefully and select the correct answer for the given blanks out of the four alternatives.

The number of measles cases (1) _____ the world increased by 18 per cent during the same period, the report said, bringing the total number of infections (2) _____ nine million.

Measles, a (3) _____ contagious viral disease, spreads through respiratory droplets (4) _____ by the breath, sneeze or cough of an infected person. It may result in serious illness or even death. Some 37 countries saw significant or disruptive measles (5) _____ in 2022, compared to 22 nations in 2021.

SubQuestion No : 19

Q.19 Select the most appropriate option for blank(4)

- Ans
- 1. transported
 - 2. transmitted
 - 3. transgressed
 - 4. transited

Question ID : 264330186287

Option 1 ID : 264330729385

Option 2 ID : 264330729384

Option 3 ID : 264330729386

Option 4 ID : 264330729387

Status : Not Answered

Chosen Option : --

Comprehension:

Read the passage carefully and select the correct answer for the given blanks out of the four alternatives.

The number of measles cases (1)_____ the world increased by 18 per cent during the same period, the report said, bringing the total number of infections (2)_____ nine million.

Measles, a (3)_____ contagious viral disease, spreads through respiratory droplets (4)_____ by the breath, sneeze or cough of an infected person. It may result in serious illness or even death. Some 37 countries saw significant or disruptive measles (5)_____ in 2022, compared to 22 nations in 2021.

SubQuestion No : 20

Q.20 Select the most appropriate option for blank(5)

- Ans**
- 1. outbreak
 - 2. ailment
 - 3. break
 - 4. pointer

Question ID : 264330186288
Option 1 ID : 264330729389
Option 2 ID : 264330729388
Option 3 ID : 264330729391
Option 4 ID : 264330729390
Status : Not Answered
Chosen Option : --

Section : Part-D-Hindi

Q.1 निम्नलिखित प्रश्न में, चार विकल्पों में से, उस विकल्प का चयन करें जो रिक्त स्थान के लिए सही भाववाचक संज्ञा वाला विकल्प हो।
किसी ने सच ही कहा है, जिसे _____ आता है वही माता के दर्शन के लिए जा पता है।

- Ans**
- 1. बुलाना
 - 2. बुलावा
 - 3. बुला
 - 4. बुलवाया

Question ID : 264330189730
Option 1 ID : 264330742571
Option 2 ID : 264330742572
Option 3 ID : 264330742573
Option 4 ID : 264330742570
Status : Answered
Chosen Option : 2

Q.2 निम्नलिखित प्रश्न में, चार विकल्पों में से, उस विकल्प का चयन करें जो कोष्ठक में दिए गए शब्द के पर्यायवाची शब्द का सही विकल्प है।
आज की सभा में सिर्फ कुछ ही लोग (इकट्ठा) _____ हुए थे।

- Ans
- 1. स्वीकृत
 - 2. आदर
 - 3. संकलित
 - 4. समवेत

Question ID : 264330189783
Option 1 ID : 264330742771
Option 2 ID : 264330742770
Option 3 ID : 264330742773
Option 4 ID : 264330742772
Status : Answered
Chosen Option : 3

Q.3 निम्नलिखित प्रश्न में, चार विकल्पों में से, उस विकल्प का चयन करें जो कोष्ठक में दिए गए शब्द के विलोम शब्द का सही विकल्प है।
सफर के दौरान हमने देखा कि फलों से (अवनत) _____ झलियाँ धरती को चूम रही हैं।

- Ans
- 1. झुकी हुई
 - 2. भरी
 - 3. उन्नत
 - 4. लदी

Question ID : 264330189764
Option 1 ID : 264330742699
Option 2 ID : 264330742701
Option 3 ID : 264330742698
Option 4 ID : 264330742700
Status : Not Answered
Chosen Option : --

Q.4 निम्नलिखित वाक्य में, उस वाक्यांश को पहचानिए जिसमें मात्राओं से संबंधित अशुद्धियाँ हैं। यदि कोई गलती नहीं है तो 'कोई त्रुटि नहीं है' का चुनाव कीजिए।
होली पर हमें अप्राकृतिक रंगों से त्यौहार को नहीं मनाना/ चाहिए बल्कि प्राकृतिक फूलों के रंग से और/ अबीर को होली खेलनी चाहिए।

- Ans
- 1. चाहिए बल्कि प्राकृतिक फूलों के रंग से और
 - 2. होली पर हमें अप्राकृतिक रंगों से त्यौहार को नहीं मनाना
 - 3. अबीर को होली खेलनी चाहिए
 - 4. कोई त्रुटि नहीं है

Question ID : 264330189706
Option 1 ID : 264330742479
Option 2 ID : 264330742478
Option 3 ID : 264330742480
Option 4 ID : 264330742481
Status : Answered
Chosen Option : 3

Q.5 दिए गए वाक्य में रेखांकित शब्दों के लिए सही शब्दों वाले विकल्प का चयन करें।

जो परिश्रम करते हैं, वह सफल होते हैं।

- Ans
- 1. जो परिश्रम करते हैं, वैसे सफल होते हैं।
 - 2. जो परिश्रम करते हैं, जो सफल होते हैं।
 - 3. जो परिश्रम करते हैं, वह सफल होता है।
 - 4. जो परिश्रम करते हैं, वे सफल होते हैं।

Question ID : 264330189060
Option 1 ID : 264330740021
Option 2 ID : 264330740020
Option 3 ID : 264330740018
Option 4 ID : 264330740019
Status : Answered
Chosen Option : 4

Q.6 दिए गए वाक्य का वह भाग ज्ञात करें, जिसमें कोई त्रुटि है।

विद्वानों के बीच बोलने का उत्साह भला कौन ही करेगा।

- Ans
- 1. विद्वानों के बीच
 - 2. बोलने का
 - 3. ही करेगा।
 - 4. उत्साह भला कौन

Question ID : 264330189962
Option 1 ID : 264330743454
Option 2 ID : 264330743455
Option 3 ID : 264330743457
Option 4 ID : 264330743456
Status : Answered
Chosen Option : 1

Q.7 निम्नलिखित प्रश्न में, दिए गए चार विकल्पों में से, उस विकल्प का चयन करें जो दिए गए मुहावरे के अर्थ को सर्वश्रेष्ठ रूप से व्यक्त करता है।

कहा सुनी होना

- Ans
- 1. वश न चलना
 - 2. प्यार जताना
 - 3. दुखी हो जाना
 - 4. वाद-विवाद होना

Question ID : 264330189389
Option 1 ID : 264330741273
Option 2 ID : 264330741272
Option 3 ID : 264330741271
Option 4 ID : 264330741270
Status : Answered
Chosen Option : 4

Q.8 निम्नलिखित प्रश्न में, चार विकल्पों में से, उस विकल्प का चयन करें जो कोष्ठक में दिए गए शब्द के पर्यायवाची शब्द का सही विकल्प नहीं है।
मेरे परिवार में सभी को (आम) _____ खाना बहुत पसंद है।

- Ans
- 1. फलराज
 - 2. अंकुसी
 - 3. अतिसौरभ
 - 4. रसाल

Question ID : 264330189805
Option 1 ID : 264330742855
Option 2 ID : 264330742856
Option 3 ID : 264330742854
Option 4 ID : 264330742857
Status : Not Answered
Chosen Option : --

Q.9 निम्नलिखित प्रश्न में, चार विकल्पों में से, उस विकल्प का चयन करें जो रिक्त स्थान के लिए सही शब्द वाला विकल्प हो।
आज वही देश सबसे _____ है जिसके पास ज्ञान की अद्भुत शक्ति है।

- Ans
- 1. कामयाब
 - 2. पिछड़ा
 - 3. हारा हुआ
 - 4. दुखी

Question ID : 264330188374
Option 1 ID : 264330737373
Option 2 ID : 264330737372
Option 3 ID : 264330737374
Option 4 ID : 264330737375
Status : Answered
Chosen Option : 1

Q.10 निम्नलिखित प्रश्न में, दिए गए चार विकल्पों में से, उस विकल्प का चयन करें जो दिए गए मुहावरे के अर्थ को सर्वश्रेष्ठ रूप से व्यक्त करता है।
तंग हाल होना

- Ans
- 1. आर्थिक तंगी होना
 - 2. बहुत अधिक बीमार होना
 - 3. युद्ध में फंसना
 - 4. मानसिक बीमारी होना

Question ID : 264330190039
Option 1 ID : 264330743748
Option 2 ID : 264330743747
Option 3 ID : 264330743746
Option 4 ID : 264330743749
Status : Answered
Chosen Option : 1

Q.11 दिए गए वाक्य में उचित देशज-विदेशज शब्द का चयन करके रिक्त स्थान की पूर्ति कीजिए।

वाह! तुम तो बहुत बड़े _____ बन गए हो।

- Ans
- 1. थैटर
 - 2. लालटेन
 - 3. अफसर
 - 4. नीलाम

Question ID : 264330190043
Option 1 ID : 264330743765
Option 2 ID : 264330743764
Option 3 ID : 264330743763
Option 4 ID : 264330743762
Status : Answered
Chosen Option : 3

Q.12 दिए गए विकल्पों में से शुद्ध वर्तनी वाले विकल्प का चयन करें।

- Ans
- 1. आग लगने का कारड़ सब नष्ट हो गया।
 - 2. मेरी प्रार्थना स्वीकार करें।
 - 3. मृत्यू पर किसी का वश नहीं चलता।
 - 4. किसकी तेयारी कर रहे हो?

Question ID : 264330189453
Option 1 ID : 264330741517
Option 2 ID : 264330741515
Option 3 ID : 264330741516
Option 4 ID : 264330741514
Status : Answered
Chosen Option : 3

Q.13 दिए गए वाक्य में रेखांकित शब्द का विलोम शब्द ज्ञात कीजिए।

कृष्ण जी को उनके रंग के कारण श्याम भी कहते हैं।

- Ans
- 1. व्यास
 - 2. कान्हा
 - 3. जंगम
 - 4. श्वेत

Question ID : 264330188239
Option 1 ID : 264330736857
Option 2 ID : 264330736859
Option 3 ID : 264330736858
Option 4 ID : 264330736856
Status : Answered
Chosen Option : 4

Q.14 दिए गए वाक्य में तत्सम शब्द का चयन करके रिक्त स्थान की पूर्ति करें।

भिखारी को _____ दे दो।

Ans

- ✓ 1. भिक्षा
- ✗ 2. भ्रमर
- ✗ 3. भू
- ✗ 4. भिक्षुक

Question ID : 264330188308

Option 1 ID : 264330737121

Option 2 ID : 264330737123

Option 3 ID : 264330737122

Option 4 ID : 264330737120

Status : Answered

Chosen Option : 1

Q.15 दिए गए वाक्य में रेखांकित शब्दों के लिए सही शब्दों वाले विकल्प का चयन करें।

कैदियों को कुत्ते की तरह घसीटा गया।

Ans

- ✗ 1. परिवर्तन की आवश्यकता नहीं है।
- ✗ 2. कैदियों के कुत्ता को तरह घसीटा गया।
- ✓ 3. कैदियों को कुत्तों की तरह घसीटा गया।
- ✗ 4. कैदियों के कुत्तों की तरह घसीटा गया।

Question ID : 264330189165

Option 1 ID : 264330740421

Option 2 ID : 264330740420

Option 3 ID : 264330740418

Option 4 ID : 264330740419

Status : Answered

Chosen Option : 3

Comprehension:

नीचे दिए गए गद्य में कुछ शब्द छोड़ दिए गए हैं और प्रत्येक रिक्त स्थान के चार विकल्प दिए गए हैं। इन चारों में से कौन सा विकल्प रिक्त स्थान की पूर्ति करेगा-

इतिहास साक्षी है कि किसी राष्ट्र का गौरव तभी (1)_____ रहता है जब वो अपने स्वाभिमान और बलिदान की परम्पराओं को अगली (2)_____ को भी सिखाता है, संस्कारित करता है, उन्हें इसके लिए (3)_____ प्रेरित करता है। किसी राष्ट्र का भविष्य तभी (4)_____ होता है जब वो अपने अतीत के अनुभवों और विरासत के गर्व से पल-पल जुड़ा रहता है। फिर भारत के पास तो गर्व करने के लिए अथाह भंडार है, समृद्ध इतिहास है, चेतनामय सांस्कृतिक (5)_____ है।

SubQuestion No : 16

Q.16 रिक्त1 के लिए सबसे उपयुक्त विकल्प का चयन कीजिए।

- Ans**
- ✓ 1. जाग्रत
 - ✗ 2. निद्रा
 - ✗ 3. प्रतिष्ठा
 - ✗ 4. चेतन

Question ID : 264330189020

Option 1 ID : 264330739862

Option 2 ID : 264330739863

Option 3 ID : 264330739864

Option 4 ID : 264330739865

Status : Answered

Chosen Option : 1

Comprehension:

नीचे दिए गए गद्य में कुछ शब्द छोड़ दिए गए हैं और प्रत्येक रिक्त स्थान के चार विकल्प दिए गए हैं। इन चारों में से कौन सा विकल्प रिक्त स्थान की पूर्ति करेगा-

इतिहास साक्षी है कि किसी राष्ट्र का गौरव तभी (1)_____ रहता है जब वो अपने स्वाभिमान और बलिदान की परम्पराओं को अगली (2)_____ को भी सिखाता है, संस्कारित करता है, उन्हें इसके लिए (3)_____ प्रेरित करता है। किसी राष्ट्र का भविष्य तभी (4)_____ होता है जब वो अपने अतीत के अनुभवों और विरासत के गर्व से पल-पल जुड़ा रहता है। फिर भारत के पास तो गर्व करने के लिए अथाह भंडार है, समृद्ध इतिहास है, चेतनामय सांस्कृतिक (5)_____ है।

SubQuestion No : 17

Q.17 रिक्त2 के लिए सबसे उपयुक्त विकल्प का चयन कीजिए।

- Ans**
- ✗ 1. प्राचीन
 - ✗ 2. दुनिया
 - ✓ 3. पीढ़ी
 - ✗ 4. नवीन

Question ID : 264330189021

Option 1 ID : 264330739866

Option 2 ID : 264330739869

Option 3 ID : 264330739868

Option 4 ID : 264330739867

Status : Answered

Chosen Option : 3

Comprehension:

नीचे दिए गए गद्य में कुछ शब्द छोड़ दिए गए हैं और प्रत्येक रिक्त स्थान के चार विकल्प दिए गए हैं। इन चारों में से कौन सा विकल्प रिक्त स्थान की पूर्ति करेगा-

इतिहास साक्षी है कि किसी राष्ट्र का गौरव तभी (1)_____ रहता है जब वो अपने स्वाभिमान और बलिदान की परम्पराओं को अगली (2)_____ को भी सिखाता है, संस्कारित करता है, उन्हें इसके लिए (3)_____ प्रेरित करता है। किसी राष्ट्र का भविष्य तभी (4)_____ होता है जब वो अपने अतीत के अनुभवों और विरासत के गर्व से पल-पल जुड़ा रहता है। फिर भारत के पास तो गर्व करने के लिए अथाह भंडार है, समृद्ध इतिहास है, चेतनामय सांस्कृतिक (5)_____ है।

SubQuestion No : 18

Q.18 रिक्त3 के लिए सबसे उपयुक्त विकल्प का चयन कीजिए।

- Ans**
- 1. घोर
 - 2. निरंतर
 - 3. घनिष्ठ
 - 4. अनेक

Question ID : 264330189022

Option 1 ID : 264330739870

Option 2 ID : 264330739871

Option 3 ID : 264330739872

Option 4 ID : 264330739873

Status : Answered

Chosen Option : 2

Comprehension:

नीचे दिए गए गद्य में कुछ शब्द छोड़ दिए गए हैं और प्रत्येक रिक्त स्थान के चार विकल्प दिए गए हैं। इन चारों में से कौन सा विकल्प रिक्त स्थान की पूर्ति करेगा-

इतिहास साक्षी है कि किसी राष्ट्र का गौरव तभी (1)_____ रहता है जब वो अपने स्वाभिमान और बलिदान की परम्पराओं को अगली (2)_____ को भी सिखाता है, संस्कारित करता है, उन्हें इसके लिए (3)_____ प्रेरित करता है। किसी राष्ट्र का भविष्य तभी (4)_____ होता है जब वो अपने अतीत के अनुभवों और विरासत के गर्व से पल-पल जुड़ा रहता है। फिर भारत के पास तो गर्व करने के लिए अथाह भंडार है, समृद्ध इतिहास है, चेतनामय सांस्कृतिक (5)_____ है।

SubQuestion No : 19

Q.19 रिक्त4 के लिए सबसे उपयुक्त विकल्प का चयन कीजिए।

- Ans**
- 1. मालूम
 - 2. उज्वल
 - 3. नीचता
 - 4. चिंताजनक

Question ID : 264330189023

Option 1 ID : 264330739876

Option 2 ID : 264330739877

Option 3 ID : 264330739875

Option 4 ID : 264330739874

Status : Answered

Chosen Option : 2

Comprehension:

नीचे दिए गए गद्य में कुछ शब्द छोड़ दिए गए हैं और प्रत्येक रिक्त स्थान के चार विकल्प दिए गए हैं। इन चारों में से कौन सा विकल्प रिक्त स्थान की पूर्ति करेगा-

इतिहास साक्षी है कि किसी राष्ट्र का गौरव तभी (1)_____ रहता है जब वो अपने स्वाभिमान और बलिदान की परम्पराओं को अगली (2)_____ को भी सिखाता है, संस्कारित करता है, उन्हें इसके लिए (3)_____ प्रेरित करता है। किसी राष्ट्र का भविष्य तभी (4)_____ होता है जब वो अपने अतीत के अनूभवों और विरासत के गर्व से पल-पल जड़ा रहता है। फिर भारत के पास तो गर्व करने के लिए अथाह भंडार है, समृद्ध इतिहास है, चेतनामय सांस्कृतिक (5)_____ है।

SubQuestion No : 20

Q.20 रिक्त5 के लिए सबसे उपयुक्त विकल्प का चयन कीजिए।

- Ans**
- 1. खानदान
 - 2. कोष्टक
 - 3. विरासत
 - 4. विडंबना

Question ID : 264330189024

Option 1 ID : 264330739879

Option 2 ID : 264330739881

Option 3 ID : 264330739878

Option 4 ID : 264330739880

Status : Answered

Chosen Option : 3

www.exammix.com

Constable GD in Central Armed Police Forces CAPFs SSF Rifleman GD in Assam Rifles Examination 2024

Roll Number	
Candidate Name	
Venue Name	
Exam Date	20/02/2024
Exam Time	5:00 PM - 6:00 PM
Subject	Constable GD Examination 2024

Section : Part-A-General Intelligence and Reasoning

Q.1 In the following question, select the related letters from the given alternatives.

KBZ : HYW :: VIF : ?

- Ans
- 1. NOP
 - 2. SHM
 - 3. HVA
 - 4. SFC

Question ID : 264330190190
Option 1 ID : 264330744344
Option 2 ID : 264330744343
Option 3 ID : 264330744342
Option 4 ID : 264330744345
Status : Answered
Chosen Option : 4

Q.2 By interchanging which two signs and two numbers (not digits) the equation will be correct?

$$8 + 6 \times 4 - 3 + 1 = 2$$

- Ans
- 1. \times and \div , 8 and 3
 - 2. + and $-$, 6 and 3
 - 3.
 - 4. + and \div , 1 and 8

Question ID : 264330187452
Option 1 ID : 264330733736
Option 2 ID : 264330733738
Option 3 ID : 264330733739
Option 4 ID : 264330733737
Status : Answered
Chosen Option : 2

Q.3 In a certain code language, 'BEHALF' is coded as 'DCJYND'. What is the code for 'CLINIC' in that code language?

- Ans**
- 1. EJKLKA
 - 2. EJLLLA
 - 3. EJKLLB
 - 4. EJKLKB

Question ID : 264330187044
Option 1 ID : 264330732106
Option 2 ID : 264330732105
Option 3 ID : 264330732104
Option 4 ID : 264330732107
Status : Answered
Chosen Option : 1

Q.4 In a certain code language, 'MATURE' is coded as '82', 'HIGHER' is coded as '59'. What is the code for 'ASIAN' in that code language?

- Ans**
- 1. 44
 - 2. 42
 - 3. 46
 - 4. 48

Question ID : 264330190213
Option 1 ID : 264330744437
Option 2 ID : 264330744436
Option 3 ID : 264330744434
Option 4 ID : 264330744435
Status : Answered
Chosen Option : 4

Q.5 In the following question, select the missing number from the given series.

86, 107, 82, 111, 78, 115, ?

- Ans**
- 1. 74
 - 2. 72
 - 3. 78
 - 4. 76

Question ID : 264330190159
Option 1 ID : 264330744221
Option 2 ID : 264330744220
Option 3 ID : 264330744219
Option 4 ID : 264330744218
Status : Answered
Chosen Option : 1

Q.6 In the following question below are given some statements followed by some conclusions based on those statements. Taking the given statements to be true even if they seem to be at variance from commonly known facts. Read all the conclusions and then decide which of the given conclusion(s) logically follows the given statements.

Statements:

- I. Some namkeen are pizza.
- II. No pizza is biscuit.

Conclusions:

- I. No biscuit is namkeen.
- II. No biscuit is pizza.
- III. Some pizza are not biscuit.

- Ans**
- 1. Both conclusions I and III follows
 - 2. Both conclusions II and III follows
 - 3. Only conclusion III follows
 - 4. All conclusion follows

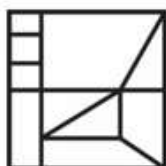
Question ID : 264330187349
 Option 1 ID : 264330733325
 Option 2 ID : 264330733326
 Option 3 ID : 264330733324
 Option 4 ID : 264330733327
 Status : Answered
 Chosen Option : 2

Q.7 From the given option figures, select the one in which the question figure is hidden/embedded. (rotation is not allowed)



Ans

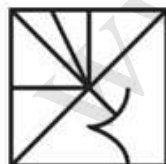
1.




2.



3.



4.



Question ID : 264330187377
 Option 1 ID : 264330733437
 Option 2 ID : 264330733436
 Option 3 ID : 264330733438
 Option 4 ID : 264330733439
 Status : Answered
 Chosen Option : 2

Q.8 Which two numbers should be interchanged to make the given equation correct?

$$5 - 3 \times 0 + 1 = 2$$

- Ans
- 1. 5 and 2
 - 2. 5 and 3
 - 3. 1 and 3
 - 4. 2 and 0

Question ID : 264330192322

Option 1 ID : 264330752644

Option 2 ID : 264330752642

Option 3 ID : 264330752645

Option 4 ID : 264330752643

Status : Answered

Chosen Option : 2

Q.9 Which answer figure will complete the pattern in the question figure? (rotation is not allowed)



Ans

1.



2.



3.



4.



Question ID : 264330191365

Option 1 ID : 264330748817

Option 2 ID : 264330748814

Option 3 ID : 264330748816

Option 4 ID : 264330748815

Status : Answered

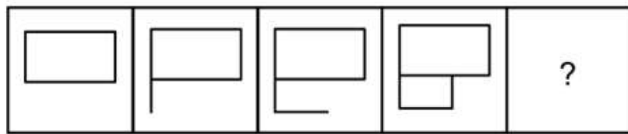
Chosen Option : 1

Q.10 Five friends Pooja, Bhawna, Charu, Geeta and Hema are sitting around a circular table facing towards the centre. Charu is not the neighbour of Bhawna. Bhawna is second to the left of Hema. Geeta is the neighbour of Bhawna and Hema. Who is sitting to the immediate right of Bhawna?

- Ans**
- 1. Pooja
 - 2. Charu
 - 3. Geeta
 - 4. Hema

Question ID : 264330187047
 Option 1 ID : 264330732116
 Option 2 ID : 264330732119
 Option 3 ID : 264330732117
 Option 4 ID : 264330732118
 Status : Answered
 Chosen Option : 3

Q.11 Select the figure that will replace the question mark (?) in the following figure series.

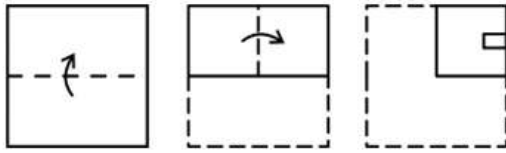


Ans

- 1.
- 2.
- 3.
- 4.

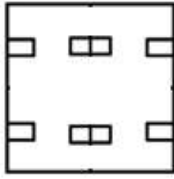
Question ID : 264330192204
 Option 1 ID : 264330752171
 Option 2 ID : 264330752172
 Option 3 ID : 264330752173
 Option 4 ID : 264330752170
 Status : Answered
 Chosen Option : 3

Q.12 A paper is folded and cut as shown below. How will it appear when unfolded?

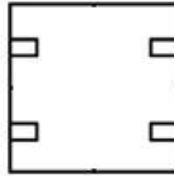


Ans

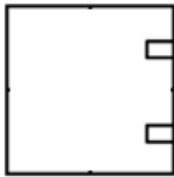
1.



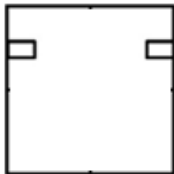
2.



3.



4.



Question ID : 264330191607

Option 1 ID : 264330749784

Option 2 ID : 264330749785

Option 3 ID : 264330749782

Option 4 ID : 264330749783

Status : Answered

Chosen Option : 2

Q.13 A series is given with one term missing. Select the correct alternative from the given ones that will complete the series.

MQ, SO, QU, WS, ?

Ans

1. XT

2. UX

3. UY

4. MH

Question ID : 264330191388

Option 1 ID : 264330748906

Option 2 ID : 264330748907

Option 3 ID : 264330748908

Option 4 ID : 264330748909

Status : Answered

Chosen Option : 3

Q.14 After arranging the given words according to dictionary order, which word will come at 'Third' position?

1. Small
2. Smart
3. Smack
4. Smash
5. Smatter

Ans 1. Small
 2. Smack
 3. Smash
 4. Smart

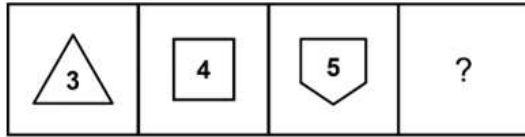
Question ID : 264330187421
Option 1 ID : 264330733612
Option 2 ID : 264330733613
Option 3 ID : 264330733615
Option 4 ID : 264330733614
Status : Answered
Chosen Option : 4

Q.15 'Q × R' means 'Q is the wife of R'
'Q + R' means 'Q is the husband of R'
'Q ÷ R' means 'Q is the daughter of R'
'Q - R' means 'Q is the brother of R'
How is V related to T in the expression 'S - T ÷ U + V'?

Ans 1. Sister
 2. Daughter
 3. Wife
 4. Mother

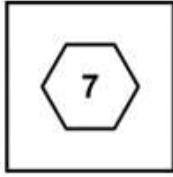
Question ID : 264330190714
Option 1 ID : 264330746286
Option 2 ID : 264330746289
Option 3 ID : 264330746287
Option 4 ID : 264330746288
Status : Answered
Chosen Option : 4

Q.16 Select the figure that will replace the question mark (?) in the following figure series.

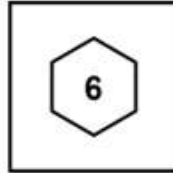


Ans

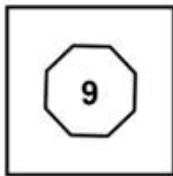
✗ 1.



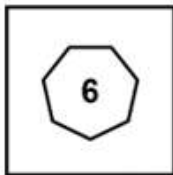
✓ 2.



✗ 3.



✗ 4.



Question ID : 264330192263

Option 1 ID : 264330752406

Option 2 ID : 264330752408

Option 3 ID : 264330752409

Option 4 ID : 264330752407

Status : Answered

Chosen Option : 2

Q.17 In the following question, select the missing number from the given series.

6075, 2025, ?, 225, 75

Ans

✓ 1. 675

✗ 2. 690

✗ 3. 700

✗ 4. 680

Question ID : 264330187350

Option 1 ID : 264330733328

Option 2 ID : 264330733331

Option 3 ID : 264330733330

Option 4 ID : 264330733329

Status : Answered

Chosen Option : 1

Q.18 Eight athletes Sunil, Abhishek, Mohit, Cheenu, Rahul, Tanu, Koyal and Ankit are sitting around a circular table facing opposite to the centre (not necessarily in the same order). Koyal is third to the left of Rahul. Tanu is third to the right of Cheenu. Mohit is second to the right of Sunil. Abhishek is second to the left of Cheenu. Tanu is second to the left of Sunil. Who is sitting second to the left of Koyal?

- Ans**
- 1. Rahul
 - 2. Mohit
 - 3. Sunil
 - 4. Tanu

Question ID : 264330190456
Option 1 ID : 264330745409
Option 2 ID : 264330745406
Option 3 ID : 264330745408
Option 4 ID : 264330745407
Status : Answered
Chosen Option : 4

Q.19 In the following question, select the related letter pair from the given alternatives.

RPD : WUI :: ?

- Ans**
- 1. LDK : CFK
 - 2. XYM : CDR
 - 3. XOL : UPL
 - 4. BAC : OTT

Question ID : 264330187443
Option 1 ID : 264330733700
Option 2 ID : 264330733701
Option 3 ID : 264330733703
Option 4 ID : 264330733702
Status : Answered
Chosen Option : 2

Q.20 Which of the following letter cluster will replace the blank (___) in the given series?

PRQ, QSR, ____, SUT, TVU

- Ans**
- 1. RST
 - 2. RUS
 - 3. RTS
 - 4. QTS

Question ID : 264330192249
Option 1 ID : 264330752350
Option 2 ID : 264330752353
Option 3 ID : 264330752351
Option 4 ID : 264330752352
Status : Answered
Chosen Option : 4

Section : Part-B-General Knowledge and General awareness

Q.1 In June 2023, who has been awarded the Spinoza Prize, which is also sometimes referred to as the 'Dutch Nobel Prize'?

- Ans
- 1. M. Gauravi Reddy
 - 2. Rekha Sharma
 - 3. Madhabi Puri Buch
 - 4. Joyeeta Gupta

Question ID : 264330188853
Option 1 ID : 264330739215
Option 2 ID : 264330739216
Option 3 ID : 264330739217
Option 4 ID : 264330739214
Status : Answered
Chosen Option : 2

Q.2 Which religion has the majority population in India?

- Ans
- 1. Christianity
 - 2. Jainism
 - 3. Islam
 - 4. Hinduism

Question ID : 264330191974
Option 1 ID : 264330751252
Option 2 ID : 264330751253
Option 3 ID : 264330751251
Option 4 ID : 264330751250
Status : Answered
Chosen Option : 4

Q.3 Which of the following is the least populous state of India as per 2011 census?

- Ans
- 1. Sikkim
 - 2. Assam
 - 3. Goa
 - 4. Meghalaya

Question ID : 264330188874
Option 1 ID : 264330739299
Option 2 ID : 264330739298
Option 3 ID : 264330739300
Option 4 ID : 264330739301
Status : Answered
Chosen Option : 1

Q.4 Which country will host the 2026 Asian games?

- Ans
- 1. Qatar
 - 2. Thailand
 - 3. China
 - 4. Japan

Question ID : 264330190581
Option 1 ID : 264330745907
Option 2 ID : 264330745906
Option 3 ID : 264330745909
Option 4 ID : 264330745908
Status : Answered
Chosen Option : 4

Q.5 The Green Revolution started in the year 1965 and the _____ five year plan was between 1961-1966.

- Ans
- 1. 1st
 - 2. 2nd
 - 3. 3rd
 - 4. 5th

Question ID : 264330191747
Option 1 ID : 264330750342
Option 2 ID : 264330750343
Option 3 ID : 264330750344
Option 4 ID : 264330750345
Status : Answered
Chosen Option : 3

Q.6 What is the time period of the Eleventh five-year plan in India?

- Ans
- 1. 2010 - 2015
 - 2. 2008 - 2013
 - 3. 2007 - 2012
 - 4. 2009 - 2014

Question ID : 264330188670
Option 1 ID : 264330738482
Option 2 ID : 264330738484
Option 3 ID : 264330738483
Option 4 ID : 264330738485
Status : Answered
Chosen Option : 3

Q.7 When the office of Chairman of the Council of States is vacant, then his or her duties shall be performed by which of the following?

- Ans
- 1. Deputy Chairman of the Council of States
 - 2. President of India
 - 3. Senior most member of the Council of States
 - 4. Speaker of the House of the People

Question ID : 264330190800
Option 1 ID : 264330746555
Option 2 ID : 264330746556
Option 3 ID : 264330746554
Option 4 ID : 264330746557
Status : Answered
Chosen Option : 1

Q.8 Which Indian dancer won the Sangeet Natak Akademi Award in 2018 for Chhau Dance?

- Ans
- 1. Akham Lakshmi Devi
 - 2. Gopika Varma
 - 3. Tapan Kumar Pattanayak
 - 4. Dr. Aruna Mohanty

Question ID : 264330188883
Option 1 ID : 264330739337
Option 2 ID : 264330739336
Option 3 ID : 264330739334
Option 4 ID : 264330739335
Status : Answered
Chosen Option : 3

Q.9 Which of the following Mauryan inscriptions is NOT located in present-day India?

- Ans
- 1. Kalsi
 - 2. Kandahar
 - 3. Maski
 - 4. Girnar

Question ID : 264330188840
Option 1 ID : 264330739165
Option 2 ID : 264330739163
Option 3 ID : 264330739162
Option 4 ID : 264330739164
Status : Answered
Chosen Option : 2

Q.10 The "Hornbill Festival" features which indigenous tribes showcasing their culture and traditions?

- Ans
- 1. Garo
 - 2. Bhil
 - 3. Naga
 - 4. Gond

Question ID : 264330191472
Option 1 ID : 264330749244
Option 2 ID : 264330749242
Option 3 ID : 264330749245
Option 4 ID : 264330749243
Status : Answered
Chosen Option : 3

Q.11 In 1866, John Newlands, an English scientist, arranged the then known elements in the order of _____. It is known as 'Newlands' Law of Octaves'.

- Ans
- 1. increasing atomic number
 - 2. decreasing atomic masses
 - 3. decreasing atomic number
 - 4. increasing atomic masses

Question ID : 264330190912
Option 1 ID : 264330747004
Option 2 ID : 264330747003
Option 3 ID : 264330747005
Option 4 ID : 264330747002
Status : Answered
Chosen Option : 4

Q.12 In any tennis game, if both players win three points each in a game (i.e. score is 40-40), then it's called a _____.

- Ans
- 1. equal
 - 2. deuce
 - 3. back
 - 4. rattle

Question ID : 264330191063
Option 1 ID : 264330747607
Option 2 ID : 264330747608
Option 3 ID : 264330747606
Option 4 ID : 264330747609
Status : Answered
Chosen Option : 2

Q.13 The Jallianwala Bagh massacre, took place in consequence to the protest against the _____ .

- Ans
- 1. Regulating Act
 - 2. Government of India Act
 - 3. Rowlatt Act
 - 4. Pitt's India Act

Question ID : 264330190896
Option 1 ID : 264330746939
Option 2 ID : 264330746938
Option 3 ID : 264330746941
Option 4 ID : 264330746940
Status : Answered
Chosen Option : 3

Q.14 'Mundari' dance is associated with which of the following state?

- Ans
- 1. Jharkhand
 - 2. Uttar Pradesh
 - 3. Tamil Nadu
 - 4. Kerala

Question ID : 264330190790
Option 1 ID : 264330746517
Option 2 ID : 264330746516
Option 3 ID : 264330746515
Option 4 ID : 264330746514
Status : Answered
Chosen Option : 3

Q.15 Which of the parts of the Indian Constitution deals with the Directive Principles of State Policy?

- Ans
- 1. Part III
 - 2. Part II
 - 3. Part I
 - 4. Part IV

Question ID : 264330191240
Option 1 ID : 264330748316
Option 2 ID : 264330748315
Option 3 ID : 264330748314
Option 4 ID : 264330748317
Status : Answered
Chosen Option : 4

Q.16 Which sport is the Agha Khan Cup associated with?

- Ans
- 1. Cricket
 - 2. Rugby
 - 3. Kabaddi
 - 4. Hockey

Question ID : 264330188926
Option 1 ID : 264330739507
Option 2 ID : 264330739508
Option 3 ID : 264330739509
Option 4 ID : 264330739506
Status : Answered
Chosen Option : 4

Q.17 Which of the following countries borders India to the north-west?

- Ans
- 1. Myanmar and Nepal
 - 2. China, Bhutan and Nepal
 - 3. Bangladesh and Myanmar
 - 4. Afghanistan and Pakistan

Question ID : 264330188819
Option 1 ID : 264330739080
Option 2 ID : 264330739079
Option 3 ID : 264330739081
Option 4 ID : 264330739078
Status : Answered
Chosen Option : 2

Q.18 The Ministry of Agriculture and Farmers Welfare has launched a PM-KISAN AI Chatbot _____ in 2023, which will provide the farmers with a one-stop solution for their grievances related to the PM-KISAN scheme.

- Ans
- 1. Kisan e-Samadhan
 - 2. Kisan e-Mitra
 - 3. Kisan e-Yojna
 - 4. Kisan e-Sandesh

Question ID : 264330191708
Option 1 ID : 264330750189
Option 2 ID : 264330750187
Option 3 ID : 264330750188
Option 4 ID : 264330750186
Status : Answered
Chosen Option : 2

Q.19 Banking regulation Act was passed in:

- Ans 1. 1949
 2. 1999
 3. 1967
 4. 1959

Question ID : 264330191905
Option 1 ID : 264330750974
Option 2 ID : 264330750977
Option 3 ID : 264330750976
Option 4 ID : 264330750975
Status : Answered
Chosen Option : 1

Q.20 Which musical instrument is played by Pt. Ravi Shankar?

- Ans 1. Sitar
 2. Sarangi
 3. Sarod
 4. Been

Question ID : 264330190617
Option 1 ID : 264330746052
Option 2 ID : 264330746053
Option 3 ID : 264330746050
Option 4 ID : 264330746051
Status : Answered
Chosen Option : 1

Section : Part-C-Elementary Mathematics

Q.1 The radius of a sphere is 3.5 cm. What is the total surface area of the sphere?

- Ans 1. 176 cm^2
 2. 128 cm^2
 3. 154 cm^2
 4. 196 cm^2

Question ID : 264330187238
Option 1 ID : 264330732882
Option 2 ID : 264330732880
Option 3 ID : 264330732883
Option 4 ID : 264330732881
Status : Answered
Chosen Option : 3

Q.2 The average weight of a class of 22 students is 42 kg. If 2 new students of weight 33 kg and 39 kg are added to the class, then what will be the new average weight of 24 students?

- Ans
- 1. 39.5 kg
 - 2. 43 kg
 - 3. 41.5 kg
 - 4. 42 kg

Question ID : 264330191613
Option 1 ID : 264330749806
Option 2 ID : 264330749807
Option 3 ID : 264330749808
Option 4 ID : 264330749809
Status : Answered
Chosen Option : 3

Q.3 What is the value of $(48 - (20 - 8)) \div (4 \times 3)$?

- Ans
- 1. 1
 - 2. 4
 - 3. 2
 - 4. 3

Question ID : 264330188613
Option 1 ID : 264330738254
Option 2 ID : 264330738257
Option 3 ID : 264330738255
Option 4 ID : 264330738256
Status : Answered
Chosen Option : 4

Q.4 What is the remainder when 35^{29} is divided by 10?

- Ans
- 1. 5
 - 2. 0
 - 3. 6
 - 4. 4

Question ID : 264330187682
Option 1 ID : 264330734656
Option 2 ID : 264330734659
Option 3 ID : 264330734658
Option 4 ID : 264330734657
Status : Answered
Chosen Option : 1

Q.5 The average marks of 13 students was 130. But later it was found that the score of one student was wrongly entered as 23 instead of 32. What is the correct average of their score?

- Ans**
- 1. 130.88
 - 2. 132.28
 - 3. 130.69
 - 4. 131.72

Question ID : 264330191612
Option 1 ID : 264330749805
Option 2 ID : 264330749803
Option 3 ID : 264330749802
Option 4 ID : 264330749804
Status : Answered
Chosen Option : 3

Q.6 Sonu alone can make a table in 125 days while Montu alone can make it in 250 days. Montu started the work and worked for 75 days. In how many days Sonu can finish the remaining work?

- Ans**
- 1. 135 days
 - 2. 87.5 days
 - 3. 100 days
 - 4. 120 days

Question ID : 264330188569
Option 1 ID : 264330738078
Option 2 ID : 264330738079
Option 3 ID : 264330738081
Option 4 ID : 264330738080
Status : Answered
Chosen Option : 2

Q.7 What is the value of $2016 \div 4 + 32 \times 6 - 26 \times 3$?

- Ans**
- 1. 626
 - 2. 628
 - 3. 618
 - 4. 624

Question ID : 264330187919
Option 1 ID : 264330735606
Option 2 ID : 264330735607
Option 3 ID : 264330735604
Option 4 ID : 264330735605
Status : Answered
Chosen Option : 3

Q.8 एक वस्तु का अंकित मूल्य 11800 रुपए और इसका विक्रय मूल्य 7788 रुपए है। वस्तु पर छूट प्रतिशत कितना है?

- Ans
- 1. 35 प्रतिशत
 - 2. 34 प्रतिशत
 - 3. 30 प्रतिशत
 - 4. 32 प्रतिशत

Question ID : 264330191137
Option 1 ID : 264330747903
Option 2 ID : 264330747904
Option 3 ID : 264330747905
Option 4 ID : 264330747902
Status : Answered
Chosen Option : 2

Q.9 A certain sum becomes 7 times of itself in 10 years at a rate of simple interest. In 20 years it will become how many times of itself at the same rate of simple interest?

- Ans
- 1. 14
 - 2. 10
 - 3. 12
 - 4. 13

Question ID : 264330187493
Option 1 ID : 264330733902
Option 2 ID : 264330733903
Option 3 ID : 264330733901
Option 4 ID : 264330733900
Status : Answered
Chosen Option : 4

Q.10 The marked price of a chair is 20 percent more than its cost price. If the chair is sold for Rs. 220 after a discount of Rs. 20, then what will be the profit percentage?

- Ans
- 1. 10 percent
 - 2. 30 percent
 - 3. 20 percent
 - 4. 15 percent

Question ID : 264330187250
Option 1 ID : 264330732928
Option 2 ID : 264330732931
Option 3 ID : 264330732930
Option 4 ID : 264330732929
Status : Answered
Chosen Option : 1

Q.11 Prithvi has pears and peaches in the ratio of 10:13. Celine has pears and peaches in the ratio of 7:9. Vikram has pears and peaches in the ratio of 5:7. Who has a greater ratio of pears to peaches?

- Ans**
- 1. Prithvi
 - 2. Celine
 - 3. Vikram
 - 4. All are equal

Question ID : 264330192480
Option 1 ID : 264330753274
Option 2 ID : 264330753275
Option 3 ID : 264330753276
Option 4 ID : 264330753277
Status : Answered
Chosen Option : 3

Q.12 X1, X2 and X3 can do a work in 90, 45 and 67.5 days respectively. All three of them began the work together but X2 left 13.5 days before the completion of the work. In how many days was the work completed?

- Ans**
- 1. 25 days
 - 2. 18 days
 - 3. 24 days
 - 4. 27 days

Question ID : 264330187897
Option 1 ID : 264330735518
Option 2 ID : 264330735519
Option 3 ID : 264330735517
Option 4 ID : 264330735516
Status : Answered
Chosen Option : 4

Q.13 Vikram scored 32 percent marks in an exam and failed by 15 marks. If he scores 57 percent marks, then he gets 10 marks more than passing marks. What should be the passing marks for the exam?

- Ans**
- 1. 49
 - 2. 47
 - 3. 52
 - 4. 57

Question ID : 264330187886
Option 1 ID : 264330735475
Option 2 ID : 264330735472
Option 3 ID : 264330735474
Option 4 ID : 264330735473
Status : Answered
Chosen Option : 2

Q.14 A bus left 60 minutes later than the scheduled time but in order to reach its destination 300 km away in time, it had to increase its usual speed by 10 km/hr. What is the usual speed of the bus?

- Ans
- 1. 40 km/hr
 - 2. 50 km/hr
 - 3. 30 km/hr
 - 4. 60 km/hr

Question ID : 264330191624
Option 1 ID : 264330749852
Option 2 ID : 264330749851
Option 3 ID : 264330749853
Option 4 ID : 264330749850
Status : Answered
Chosen Option : 2

Q.15 Ankit sells an article at a loss of 10 percent. If he buys it for 30 percent less price and sells it for Rs. 26 less price, then his profit will be 10 percent. What is the cost price of the article?

- Ans
- 1. Rs. 250
 - 2. Rs. 200
 - 3. Rs. 320
 - 4. Rs. 300

Question ID : 264330188581
Option 1 ID : 264330738128
Option 2 ID : 264330738126
Option 3 ID : 264330738129
Option 4 ID : 264330738127
Status : Answered
Chosen Option : 2

Q.16 Simple interest and compound interest on a principal at a certain rate of interest for 2 years is Rs. 12800 and Rs. 14400 respectively. What is the principal?

- Ans
- 1. Rs. 27800
 - 2. Rs. 25600
 - 3. Rs. 24400
 - 4. Rs. 29900

Question ID : 264330187554
Option 1 ID : 264330734146
Option 2 ID : 264330734145
Option 3 ID : 264330734144
Option 4 ID : 264330734147
Status : Answered
Chosen Option : 2

Q.17 The present ages of three people in proportions is 3:5:7. Six years ago, the sum of their ages was 87. Find their present ages (in years).

- Ans**
- 1. 24 years, 40 years, 56 years
 - 2. 18 years, 30 years, 42 years
 - 3. 21 years, 35 years, 49 years
 - 4. 27 years, 45 years, 63 years

Question ID : 264330192481
Option 1 ID : 264330753280
Option 2 ID : 264330753278
Option 3 ID : 264330753279
Option 4 ID : 264330753281
Status : Answered
Chosen Option : 3

Q.18 If the price of a dress is reduced from Rs. 800 to Rs. 720, what is the percentage decrease?

- Ans**
- 1. 9%
 - 2. 10%
 - 3. 8%
 - 4. 6%

Question ID : 264330188498
Option 1 ID : 264330737797
Option 2 ID : 264330737795
Option 3 ID : 264330737794
Option 4 ID : 264330737796
Status : Answered
Chosen Option : 2

Q.19 A man buys 35 mangoes for a rupee. How many mangoes had he sold for a rupee so that there is a loss of 30 percent?

- Ans**
- 1. 50
 - 2. 27
 - 3. 45
 - 4. 33

Question ID : 264330191616
Option 1 ID : 264330749818
Option 2 ID : 264330749819
Option 3 ID : 264330749821
Option 4 ID : 264330749820
Status : Answered
Chosen Option : 1

Q.20 What is the value of $443 - 226 \div 2 \times 5$?

- Ans
- 1. -127
 - 2. -121
 - 3. -119
 - 4. -122

Question ID : 264330188572
Option 1 ID : 264330738093
Option 2 ID : 264330738091
Option 3 ID : 264330738090
Option 4 ID : 264330738092
Status : Answered
Chosen Option : 4

Section : Part-D-English

Q.1 Choose the word that means the same as the given word.

Fantastically

- Ans
- 1. Scarcely
 - 2. Scantly
 - 3. Nominally
 - 4. Fabulously

Question ID : 264330186667
Option 1 ID : 264330730833
Option 2 ID : 264330730832
Option 3 ID : 264330730835
Option 4 ID : 264330730834
Status : Not Answered
Chosen Option : --

Q.2 In the following question, out of the given four alternatives, select the alternative which best expresses the meaning of the Idiom/Phrase.

A stick in the mud

- Ans
- 1. A person without any fear
 - 2. A person with no character
 - 3. A person who resists change
 - 4. A generous person

Question ID : 264330186628
Option 1 ID : 264330730685
Option 2 ID : 264330730687
Option 3 ID : 264330730686
Option 4 ID : 264330730684
Status : Not Answered
Chosen Option : --

Q.3 Select the most appropriate word to fill in the blank.

They _____ a mammoth task ahead of them.

- Ans
- 1. needs
 - 2. has
 - 3. does
 - 4. have

Question ID : 264330186239
Option 1 ID : 264330729207
Option 2 ID : 264330729205
Option 3 ID : 264330729206
Option 4 ID : 264330729204
Status : Not Answered
Chosen Option : --

Q.4 Select the sentence with no spelling errors.

- Ans
- 1. We were disillusioned when we saw how the movie star acted in reale life.
 - 2. We were disillusioned when we saw how the movie star acted in real life.
 - 3. We were disilusioned when we saw how the movie star acted in real life.
 - 4. We were disillusioned when we saw how the mouvie star acted in real life.

Question ID : 264330185580
Option 1 ID : 264330726694
Option 2 ID : 264330726693
Option 3 ID : 264330726692
Option 4 ID : 264330726695
Status : Not Answered
Chosen Option : --

Q.5 Select the most appropriate option for the given blank.

There is no need to jump to a _____ so soon.

- Ans
- 1. resistance
 - 2. conclusion
 - 3. finale
 - 4. incision

Question ID : 264330185623
Option 1 ID : 264330726857
Option 2 ID : 264330726856
Option 3 ID : 264330726858
Option 4 ID : 264330726859
Status : Not Answered
Chosen Option : --

Q.6 Choose the most appropriate antonym of the underlined word.

The cow happily recovered, which the widow entirely attributed to the efficacy of her pastor's prayer.

- Ans**
- 1. Inadequacy
 - 2. Effect
 - 3. Virtue
 - 4. Potency

Question ID : 264330186648
Option 1 ID : 264330730761
Option 2 ID : 264330730763
Option 3 ID : 264330730760
Option 4 ID : 264330730762
Status : Not Answered
Chosen Option : --

Q.7 Find the part of the given sentence that has an error in it. If there is no error, choose 'No error'.

A thousand years ago, boys and girls did not learnt to read.

- Ans**
- 1. A thousand years ago
 - 2. boys and girls did
 - 3. No error
 - 4. not learnt to read.

Question ID : 264330185561
Option 1 ID : 264330726620
Option 2 ID : 264330726621
Option 3 ID : 264330726623
Option 4 ID : 264330726622
Status : Not Answered
Chosen Option : --

Q.8 Fill in the blank with the most appropriate option.

The horn of the car ahead was _____ by the resistance of the thick air.

- Ans**
- 1. muffled
 - 2. faint
 - 3. dim
 - 4. mute

Question ID : 264330186912
Option 1 ID : 264330731768
Option 2 ID : 264330731769
Option 3 ID : 264330731771
Option 4 ID : 264330731770
Status : Not Answered
Chosen Option : --

Q.9 Choose the idiom/phrase that can substitute the highlighted group of words meaningfully.

The matter was discussed **privately without any intruders**.

- Ans**
- 1. Through thick and thin
 - 2. On the fence
 - 3. Run out of steam
 - 4. Behind closed doors

Question ID : 264330186272
Option 1 ID : 264330729329
Option 2 ID : 264330729330
Option 3 ID : 264330729331
Option 4 ID : 264330729328
Status : Not Answered
Chosen Option : --

Q.10 Improve the underlined part of the sentence. Choose 'No improvement' as an answer if the sentence is grammatically correct.

A large number of people have been get clean and pure water.

- Ans**
- 1. No improvement
 - 2. been gets
 - 3. has been got
 - 4. have been getting

Question ID : 264330186132
Option 1 ID : 264330728799
Option 2 ID : 264330728798
Option 3 ID : 264330728797
Option 4 ID : 264330728796
Status : Not Answered
Chosen Option : --

Q.11 Find the part of the given sentence that has an error in it. If there is no error, choose 'No error'.

I am not the most wisest person here to teach you this lesson.

- Ans**
- 1. No error
 - 2. person here to
 - 3. teach you this lesson.
 - 4. I am not the most wisest

Question ID : 264330185772
Option 1 ID : 264330727427
Option 2 ID : 264330727425
Option 3 ID : 264330727426
Option 4 ID : 264330727424
Status : Not Answered
Chosen Option : --

Q.12 Find the part of the given sentence that has an error in it. If there is no error, choose 'No error'.
Consumers sometimes has a good ability to identify counterfeit logos when the legitimate brand is well-recognized.

- Ans**
- 1. No error
 - 2. identify counterfeit logos when the
 - 3. Consumers sometimes has a good ability to
 - 4. legitimate brand is well-recognized.

Question ID : 264330186046
Option 1 ID : 264330728471
Option 2 ID : 264330728469
Option 3 ID : 264330728468
Option 4 ID : 264330728470
Status : Not Answered
Chosen Option : --

Q.13 Replace the bracketed word with one of the given options, which suitably replaces the word without changing the meaning of the sentence:

A successful outcome could ultimately lead to its use in (autonomous) planetary rovers and robot aircraft.

- Ans**
- 1. unanimous
 - 2. occlude
 - 3. independent
 - 4. obstruct

Question ID : 264330186447
Option 1 ID : 264330729997
Option 2 ID : 264330729998
Option 3 ID : 264330729999
Option 4 ID : 264330729996
Status : Not Answered
Chosen Option : --

Q.14 The sentence has been divided into three parts, identify the segment which contains a spelling error in the sentence given below. Choose no error if there is no error in the sentence.

The seismic zoning displayed/ that the area had been prone/ to many earthquakes.

- Ans**
- 1. that the area had been prone
 - 2. no error
 - 3. The seismic zoning displayed
 - 4. to many earthquakes.

Question ID : 264330186462
Option 1 ID : 264330730053
Option 2 ID : 264330730055
Option 3 ID : 264330730052
Option 4 ID : 264330730054
Status : Not Answered
Chosen Option : --

Q.15 Select the most appropriate option for the given blank.

You must _____ your defeat now, as you are left with no soldiers.

- Ans
- 1. admit
 - 2. defer
 - 3. get
 - 4. buy

Question ID : 264330186085
Option 1 ID : 264330728616
Option 2 ID : 264330728618
Option 3 ID : 264330728617
Option 4 ID : 264330728619
Status : Not Answered
Chosen Option : --

Comprehension:

Read the passage carefully and select the correct answer for the given blanks out of the four alternatives.

The India Meteorological department (IMD) had (1) _____ a warning regarding a heatwave for March 8 and 9 for Goa. The warning stated, "With the strengthening of easterly winds, clear sky (2) _____ and delay in setting time of sea breeze, the maximum temperature over Goa is likely to remain 4-6°C (3) _____ than its normal value. Persistence of these conditions is likely to satisfy the criteria of a heat wave over Goa (4) _____ Thursday". Many schools in Goa are conducting exams and have been (5) _____ to advance the timing.

SubQuestion No : 16

Q.16 Select the most appropriate option for blank (1)

- Ans
- 1. produced
 - 2. distributed
 - 3. mitigated
 - 4. issued

Question ID : 264330185632
Option 1 ID : 264330726889
Option 2 ID : 264330726891
Option 3 ID : 264330726890
Option 4 ID : 264330726888
Status : Not Answered
Chosen Option : --

www.exammix.com

Comprehension:

Read the passage carefully and select the correct answer for the given blanks out of the four alternatives.

The India Meteorological department (IMD) had (1) _____ a warning regarding a heatwave for March 8 and 9 for Goa. The warning stated, "With the strengthening of easterly winds, clear sky (2) _____ and delay in setting time of sea breeze, the maximum temperature over Goa is likely to remain 4-6°C (3) _____ than its normal value. Persistence of these conditions is likely to satisfy the criteria of a heat wave over Goa (4) _____ Thursday". Many schools in Goa are conducting exams and have been (5) _____ to advance the timing.

SubQuestion No : 17

Q.17 Select the most appropriate option for blank (2)

- Ans
- 1. complications
 - 2. conditions
 - 3. phases
 - 4. adjustments

Question ID : 264330185633
Option 1 ID : 264330726895
Option 2 ID : 264330726893
Option 3 ID : 264330726894
Option 4 ID : 264330726892
Status : Not Answered
Chosen Option : --

Comprehension:

Read the passage carefully and select the correct answer for the given blanks out of the four alternatives.

The India Meteorological department (IMD) had (1) _____ a warning regarding a heatwave for March 8 and 9 for Goa. The warning stated, "With the strengthening of easterly winds, clear sky (2) _____ and delay in setting time of sea breeze, the maximum temperature over Goa is likely to remain 4-6°C (3) _____ than its normal value. Persistence of these conditions is likely to satisfy the criteria of a heat wave over Goa (4) _____ Thursday". Many schools in Goa are conducting exams and have been (5) _____ to advance the timing.

SubQuestion No : 18

Q.18 Select the most appropriate option for blank (3)

- Ans
- 1. Highest
 - 2. Highly
 - 3. higher
 - 4. High

Question ID : 264330185634
Option 1 ID : 264330726898
Option 2 ID : 264330726896
Option 3 ID : 264330726899
Option 4 ID : 264330726897
Status : Not Answered
Chosen Option : --

Comprehension:

Read the passage carefully and select the correct answer for the given blanks out of the four alternatives.

The India Meteorological department (IMD) had (1) _____ a warning regarding a heatwave for March 8 and 9 for Goa. The warning stated, "With the strengthening of easterly winds, clear sky (2) _____ and delay in setting time of sea breeze, the maximum temperature over Goa is likely to remain 4-6°C (3) _____ than its normal value. Persistence of these conditions is likely to satisfy the criteria of a heat wave over Goa (4) _____ Thursday". Many schools in Goa are conducting exams and have been (5) _____ to advance the timing.

SubQuestion No : 19

Q.19 Select the most appropriate option for blank (4)

- Ans
- 1. over
 - 2. at
 - 3. on
 - 4. in

Question ID : 264330185635
Option 1 ID : 264330726903
Option 2 ID : 264330726901
Option 3 ID : 264330726900
Option 4 ID : 264330726902
Status : Not Answered
Chosen Option : --

Comprehension:

Read the passage carefully and select the correct answer for the given blanks out of the four alternatives.

The India Meteorological department (IMD) had (1) _____ a warning regarding a heatwave for March 8 and 9 for Goa. The warning stated, "With the strengthening of easterly winds, clear sky (2) _____ and delay in setting time of sea breeze, the maximum temperature over Goa is likely to remain 4-6°C (3) _____ than its normal value. Persistence of these conditions is likely to satisfy the criteria of a heat wave over Goa (4) _____ Thursday". Many schools in Goa are conducting exams and have been (5) _____ to advance the timing.

SubQuestion No : 20

Q.20 Select the most appropriate option for blank (5)

- Ans
- 1. asking
 - 2. tell
 - 3. said
 - 4. told

Question ID : 264330185636
Option 1 ID : 264330726904
Option 2 ID : 264330726905
Option 3 ID : 264330726906
Option 4 ID : 264330726907
Status : Not Answered
Chosen Option : --

Section : Part-D-Hindi

Q.1 दिए गए वाक्य में रेखांकित शब्द के लिए सही वर्तनी ज्ञात कीजिए।

शिघ्र ही वैद को ले आओ।

- Ans
- 1. शिघ्र
 - 2. शीघ्र
 - 3. शीग्र
 - 4. शिर्घ

Question ID : 264330189117
Option 1 ID : 264330740237
Option 2 ID : 264330740234
Option 3 ID : 264330740235
Option 4 ID : 264330740236
Status : Answered
Chosen Option : 2

Q.2 दिए गए वाक्य में से गलत वर्तनी ज्ञात कीजिए।

सभी भाईयों के बीच सम्पत्ति के लिए कलह हो रहा है।

- Ans
- 1. कलह
 - 2. सम्पत्ति
 - 3. सभी
 - 4. भाईयों

Question ID : 264330190084
Option 1 ID : 264330743920
Option 2 ID : 264330743919
Option 3 ID : 264330743921
Option 4 ID : 264330743918
Status : Answered
Chosen Option : 2

Q.3 दिए गए वाक्य का वह भाग ज्ञात करें, जिसमें कोई त्रुटि है। यदि कोई त्रुटि नहीं है, तो 'कोई त्रुटि नहीं है' चुनें।

यह काम चार आदमी का है। इसे अकेले मत करो।

- Ans
- 1. यह काम
 - 2. कोई त्रुटि नहीं है
 - 3. चार आदमी का
 - 4. है। इसे अकेले मत करो।

Question ID : 264330189164
Option 1 ID : 264330740414
Option 2 ID : 264330740417
Option 3 ID : 264330740415
Option 4 ID : 264330740416
Status : Answered
Chosen Option : 3

Q.4 दिए गए वाक्य में रेखांकित शब्द का विलोम शब्द ज्ञात कीजिए।

सुरेश बेरहमी से सबसे पेश आता है।

- Ans
- 1. बुराई
 - 2. रहमदिली
 - 3. कठोर
 - 4. सब्र

Question ID : 264330188988
Option 1 ID : 264330739744
Option 2 ID : 264330739743
Option 3 ID : 264330739742
Option 4 ID : 264330739745
Status : Answered
Chosen Option : 2

Q.5 निम्नलिखित प्रश्न में, चार विकल्पों में से, उस विकल्प का चयन करें जो कोष्ठक में दिए गए शब्द के तत्सम रूप का सही विकल्प है।
आप सभी को (यहाँ) _____ से जाने के लिए कहा गया है।

- Ans
- 1. अग्र
 - 2. अन्न
 - 3. अत्र
 - 4. अर्क

Question ID : 264330189939
Option 1 ID : 264330743366
Option 2 ID : 264330743367
Option 3 ID : 264330743369
Option 4 ID : 264330743368
Status : Answered
Chosen Option : 3

Q.6 दिए गए वाक्य में रेखांकित शब्द का विलोम शब्द ज्ञात कीजिए।

पश्चिम भारत आधुनिक मंदिरों से भरा हुआ है।

- Ans
- 1. पौराणिक
 - 2. नवीन
 - 3. नए
 - 4. अनुद्यमी

Question ID : 264330189344
Option 1 ID : 264330741099
Option 2 ID : 264330741098
Option 3 ID : 264330741101
Option 4 ID : 264330741100
Status : Answered
Chosen Option : 2

Q.7 निम्नलिखित प्रश्न में, चार विकल्पों में से, उस विकल्प का चयन करें जो दिए गए मुहावरे का सही अर्थ वाला विकल्प है।
छलनी कर डालना

- Ans
- 1. रौनक होना
 - 2. बेफिक्र होना
 - 3. मन में वैराग पैदा होना
 - 4. शोक-विह्वल कर देना

Question ID : 264330188345
Option 1 ID : 264330737263
Option 2 ID : 264330737260
Option 3 ID : 264330737262
Option 4 ID : 264330737261
Status : Answered
Chosen Option : 4

Q.8 निम्नलिखित प्रश्न में, चार विकल्पों में से, उस सही विकल्प का चयन करें जो वाक्यांश के लिए एक शब्द का विकल्प हो।
जिसका उदय हाल में हुआ हो

- Ans
- 1. नवोद्गा
 - 2. नवजात
 - 3. नवोदित
 - 4. नटराज

Question ID : 264330188339
Option 1 ID : 264330737236
Option 2 ID : 264330737238
Option 3 ID : 264330737237
Option 4 ID : 264330737239
Status : Answered
Chosen Option : 3

Q.9 निम्नलिखित प्रश्न में, चार विकल्पों में से, उस विकल्प का चयन करें जो कोष्ठक में दिए गए शब्द के पर्यायवाची शब्द का सही विकल्प है।
गुलाब के फूल में बहुत से (काँटे) _____ होते हैं।

- Ans
- 1. कूर्म
 - 2. सूम
 - 3. शूल
 - 4. सुनक

Question ID : 264330188362
Option 1 ID : 264330737327
Option 2 ID : 264330737325
Option 3 ID : 264330737324
Option 4 ID : 264330737326
Status : Answered
Chosen Option : 3

Q.10 दिए गए वाक्य में रेखांकित शब्दों के लिए सही शब्दों वाले विकल्प का चयन करें।

यहाँ शुद्ध गाय का दूध मिलता है।

- Ans
- 1. यहाँ शुद्ध गाय की दूध मिलता है।
 - 2. यहाँ गाय का शुद्ध दूध मिलता है।
 - 3. परिवर्तन की आवश्यकता नहीं है।
 - 4. यहाँ शुद्ध दूध का गाय मिलता है।

Question ID : 264330189249
Option 1 ID : 264330740739
Option 2 ID : 264330740740
Option 3 ID : 264330740741
Option 4 ID : 264330740738
Status : Answered
Chosen Option : 2

Q.11 निम्नलिखित प्रश्न में, चार विकल्पों में से, उस विकल्प का चयन करें जो कोष्ठक में दिए गए शब्द के तद्रूप रूप का सही विकल्प है।
किले की सुरक्षा के लिए (परिकूट) _____ होना चाहिए, हथियारबन्द चौकीदार होने चाहिए।

- Ans
- 1. सैनिक
 - 2. पंद्रह
 - 3. पर्याप्त
 - 4. परकोटा

Question ID : 264330189560
Option 1 ID : 264330741924
Option 2 ID : 264330741925
Option 3 ID : 264330741923
Option 4 ID : 264330741922
Status : Answered
Chosen Option : 4

Q.12 दिए गए वाक्य में उचित पर्यायवाची शब्द का चयन करके रिक्त स्थान की पूर्ति करें।

सीता माता का नाम _____ भी है।

- Ans
- 1. मनभावन
 - 2. कोयल
 - 3. लौकिक
 - 4. जानकी

Question ID : 264330189973
Option 1 ID : 264330743494
Option 2 ID : 264330743495
Option 3 ID : 264330743497
Option 4 ID : 264330743496
Status : Answered
Chosen Option : 4

Q.13 दिए गए विकल्पों में से तीन विकल्प त्रुटियुक्त हैं, जबकि एक सही है। उस सही विकल्प का चयन करें।

- Ans
- ✗ 1. मैं तुमसे रविवार में मिलूँगा।
 - ✗ 2. मैं तुमसे रविवार के दिन को मिलूँगा।
 - ✓ 3. मैं तुमसे रविवार को मिलूँगा।
 - ✗ 4. मैं तुमसे रविवार के दिन मिलूँगा।

Question ID : 264330189331
Option 1 ID : 264330741053
Option 2 ID : 264330741051
Option 3 ID : 264330741052
Option 4 ID : 264330741050
Status : Answered
Chosen Option : 3

Q.14 निम्नलिखित प्रश्न में, चार विकल्पों में से, उस विकल्प का चयन करें जो दी गई लोकोक्ति का सही अर्थ वाला विकल्प है।
अपनी करनी पार उतरनी

- Ans
- ✗ 1. संगठन में शक्ति होती है
 - ✗ 2. जहाँ रहो वहाँ के रिवाज़ के अनुसार रहो
 - ✗ 3. गुणहीन व्यक्तियों में कम गुण वाला व्यक्ति राजा माना जाता है
 - ✓ 4. मनुष्य को अपने कर्मों के अनुसार ही फल मिलता है

Question ID : 264330189746
Option 1 ID : 264330742630
Option 2 ID : 264330742632
Option 3 ID : 264330742631
Option 4 ID : 264330742633
Status : Answered
Chosen Option : 4

Q.15 दिए गए वाक्यांश के लिए सार्थक शब्द ज्ञात कीजिए।

जो संविधान के अनुकूल हो

- Ans
- ✗ 1. कानूनी
 - ✗ 2. अवैध
 - ✗ 3. नियमानुकूल
 - ✓ 4. संवैधानिक

Question ID : 264330189110
Option 1 ID : 264330740207
Option 2 ID : 264330740206
Option 3 ID : 264330740209
Option 4 ID : 264330740208
Status : Answered
Chosen Option : 4

Comprehension:

नीचे दिए गये गद्यांश में कुछ शब्द छोड़ दिये गए हैं, प्रत्येक अनुच्छेद के सामने चार विकल्प दिए गए हैं। इस गद्यांश को ध्यानपूर्वक पढ़ें और चार विकल्पों में से सर्वोत्तम उत्तर वाला विकल्प चुनें।

वर्तमान काल में यदि संसार के किसी भी कोने में कोई भी घटना घटित हो तो उसके अगले दिन हमारे पास उसकी खबर आ जाती है। ऐसा सिर्फ समाचार पत्रों के कारण ही _____ होता है। आज के समय में बिना समाचार पत्र के जीवन की _____ करना भी काफी कठिन है। यह वो पहली और आवश्यक वस्तु है, जिसे सभी हर सुबह सबसे पहले देखते हैं। यह हमें पूरे विश्व में हो रही _____ के बारे में जानकारी देकर वर्तमान समय से जुड़े रखने में हमारी मदद करता है। समाचार पत्र व्यापारियों, राजनितियों, सामाजिक मुद्दों, बेरोजगारों, खेल, अन्तरराष्ट्रीय समाचार, विज्ञान, शिक्षा, दवाइयों, अभिनेताओं, मेलों, त्योहारों, तकनीकों आदि की जानकारी हमें देता है। यह हमारे ज्ञान कौशल और तकनीकी _____ को बढ़ाने में भी हमारी सहायता करता है। पहले के समय में, समाचार पत्रों में केवल खबरों का विवरण प्रकाशित होता था। हालांकि, अब इसमें बहुत से विषयों के बारे में खबरें और विशेषज्ञों के विचार यहाँ तक कि, लगभग सभी विषयों की जानकारी भी निहित होती है। बहुत से समाचार पत्रों की कीमत बाजार में उनकी खबरों के _____ और उस क्षेत्र में प्रसिद्धि के कारण अलग-अलग होती है। समाचार पत्र या अखबार में दैनिक जीवन की सभी वर्तमान घटनाएँ नियमित रूप से छपती है।

SubQuestion No : 16

Q.16 ऐसा सिर्फ समाचार पत्रों के कारण ही _____ होता है।

- Ans**
- 1. विफल
 - 2. देखा
 - 3. संभव
 - 4. मुश्किल

Question ID : 264330189986
 Option 1 ID : 264330743545
 Option 2 ID : 264330743543
 Option 3 ID : 264330743542
 Option 4 ID : 264330743544
 Status : Answered
 Chosen Option : 3

Comprehension:

नीचे दिए गये गद्यांश में कुछ शब्द छोड़ दिये गए हैं, प्रत्येक अनुच्छेद के सामने चार विकल्प दिए गए हैं। इस गद्यांश को ध्यानपूर्वक पढ़ें और चार विकल्पों में से सर्वोत्तम उत्तर वाला विकल्प चुनें।

वर्तमान काल में यदि संसार के किसी भी कोने में कोई भी घटना घटित हो तो उसके अगले दिन हमारे पास उसकी खबर आ जाती है। ऐसा सिर्फ समाचार पत्रों के कारण ही _____ होता है। आज के समय में बिना समाचार पत्र के जीवन की _____ करना भी काफी कठिन है। यह वो पहली और आवश्यक वस्तु है, जिसे सभी हर सुबह सबसे पहले देखते हैं। यह हमें पूरे विश्व में हो रही _____ के बारे में जानकारी देकर वर्तमान समय से जुड़े रखने में हमारी मदद करता है। समाचार पत्र व्यापारियों, राजनितियों, सामाजिक मुद्दों, बेरोजगारों, खेल, अन्तरराष्ट्रीय समाचार, विज्ञान, शिक्षा, दवाइयों, अभिनेताओं, मेलों, त्योहारों, तकनीकों आदि की जानकारी हमें देता है। यह हमारे ज्ञान कौशल और तकनीकी _____ को बढ़ाने में भी हमारी सहायता करता है। पहले के समय में, समाचार पत्रों में केवल खबरों का विवरण प्रकाशित होता था। हालांकि, अब इसमें बहुत से विषयों के बारे में खबरें और विशेषज्ञों के विचार यहाँ तक कि, लगभग सभी विषयों की जानकारी भी निहित होती है। बहुत से समाचार पत्रों की कीमत बाजार में उनकी खबरों के _____ और उस क्षेत्र में प्रसिद्धि के कारण अलग-अलग होती है। समाचार पत्र या अखबार में दैनिक जीवन की सभी वर्तमान घटनाएँ नियमित रूप से छपती है।

SubQuestion No : 17

Q.17 आज के समय में बिना समाचार पत्र के जीवन की _____ करना भी काफी कठिन है।

- Ans**
- 1. संरचना
 - 2. आवश्यकता
 - 3. ज़रूरत
 - 4. कल्पना

Question ID : 264330189987
 Option 1 ID : 264330743546
 Option 2 ID : 264330743547
 Option 3 ID : 264330743549
 Option 4 ID : 264330743548
 Status : Answered
 Chosen Option : 4

Comprehension:

नीचे दिए गये गद्यांश में कुछ शब्द छोड़ दिये गए हैं, प्रत्येक अनुच्छेद के सामने चार विकल्प दिए गए हैं। इस गद्यांश को ध्यानपूर्वक पढ़ें और चार विकल्पों में से सर्वोत्तम उत्तर वाला विकल्प चुनें।

वर्तमान काल में यदि संसार के किसी भी कोने में कोई भी घटना घटित हो तो उसके अगले दिन हमारे पास उसकी खबर आ जाती है। ऐसा सिर्फ समाचार पत्रों के कारण ही _____ होता है। आज के समय में बिना समाचार पत्र के जीवन की _____ करना भी काफी कठिन है। यह वो पहली और आवश्यक वस्तु है, जिसे सभी हर सुबह सबसे पहले देखते हैं। यह हमें पूरे विश्व में हो रही _____ के बारे में जानकारी देकर वर्तमान समय से जुड़े रखने में हमारी मदद करता है। समाचार पत्र व्यापारियों, राजनितियों, सामाजिक मुद्दों, बेरोजगारों, खेल, अन्तरराष्ट्रीय समाचार, विज्ञान, शिक्षा, दवाइयों, अभिनेताओं, मेलों, त्योहारों, तकनीकों आदि की जानकारी हमें देता है। यह हमारे ज्ञान कौशल और तकनीकी _____ को बढ़ाने में भी हमारी सहायता करता है। पहले के समय में, समाचार पत्रों में केवल खबरों का विवरण प्रकाशित होता था। हालांकि, अब इसमें बहुत से विषयों के बारे में खबरें और विशेषज्ञों के विचार यहाँ तक कि, लगभग सभी विषयों की जानकारी भी निहित होती है। बहुत से समाचार पत्रों की कीमत बाजार में उनकी खबरों के _____ और उस क्षेत्र में प्रसिद्धि के कारण अलग-अलग होती है। समाचार पत्र या अखबार में दैनिक जीवन की सभी वर्तमान घटनाएँ नियमित रूप से छपती है।

SubQuestion No : 18

Q.18 यह हमें पूरे विश्व में हो रही _____ के बारे में जानकारी देकर वर्तमान समय से जुड़े रखने में हमारी मदद करता है।

Ans

- 1. त्योहारों
- 2. संकल्पनाओं
- 3. घटनाओं
- 4. खेलों

Question ID : 264330189988

Option 1 ID : 264330743550

Option 2 ID : 264330743552

Option 3 ID : 264330743551

Option 4 ID : 264330743553

Status : Answered

Chosen Option : 3

Comprehension:

नीचे दिए गये गद्यांश में कुछ शब्द छोड़ दिये गए हैं, प्रत्येक अनुच्छेद के सामने चार विकल्प दिए गए हैं। इस गद्यांश को ध्यानपूर्वक पढ़ें और चार विकल्पों में से सर्वोत्तम उत्तर वाला विकल्प चुनें।

वर्तमान काल में यदि संसार के किसी भी कोने में कोई भी घटना घटित हो तो उसके अगले दिन हमारे पास उसकी खबर आ जाती है। ऐसा सिर्फ समाचार पत्रों के कारण ही _____ होता है। आज के समय में बिना समाचार पत्र के जीवन की _____ करना भी काफी कठिन है। यह वो पहली और आवश्यक वस्तु है, जिसे सभी हर सुबह सबसे पहले देखते हैं। यह हमें पूरे विश्व में हो रही _____ के बारे में जानकारी देकर वर्तमान समय से जुड़े रखने में हमारी मदद करता है। समाचार पत्र व्यापारियों, राजनितियों, सामाजिक मुद्दों, बेरोजगारों, खेल, अन्तरराष्ट्रीय समाचार, विज्ञान, शिक्षा, दवाइयों, अभिनेताओं, मेलों, त्योहारों, तकनीकों आदि की जानकारी हमें देता है। यह हमारे ज्ञान कौशल और तकनीकी _____ को बढ़ाने में भी हमारी सहायता करता है। पहले के समय में, समाचार पत्रों में केवल खबरों का विवरण प्रकाशित होता था। हालांकि, अब इसमें बहुत से विषयों के बारे में खबरें और विशेषज्ञों के विचार यहाँ तक कि, लगभग सभी विषयों की जानकारी भी निहित होती है। बहुत से समाचार पत्रों की कीमत बाजार में उनकी खबरों के _____ और उस क्षेत्र में प्रसिद्धि के कारण अलग-अलग होती है। समाचार पत्र या अखबार में दैनिक जीवन की सभी वर्तमान घटनाएँ नियमित रूप से छपती है।

SubQuestion No : 19

Q.19 यह हमारे ज्ञान, कौशल और तकनीकी _____ को बढ़ाने में भी हमारी सहायता करता है।

Ans

- 1. संख्या
- 2. जागरूकता
- 3. बात
- 4. माँग

Question ID : 264330189989

Option 1 ID : 264330743555

Option 2 ID : 264330743556

Option 3 ID : 264330743557

Option 4 ID : 264330743554

Status : Answered

Chosen Option : 2

Comprehension:

नीचे दिए गये गद्यांश में कुछ शब्द छोड़ दिये गए हैं, प्रत्येक अनुच्छेद के सामने चार विकल्प दिए गए हैं। इस गद्यांश को ध्यानपूर्वक पढ़ें और चार विकल्पों में से सर्वोत्तम उत्तर वाला विकल्प चुनें।

वर्तमान काल में यदि संसार के किसी भी कोने में कोई भी घटना घटित हो तो उसके अगले दिन हमारे पास उसकी खबर आ जाती है। ऐसा सिर्फ समाचार पत्रों के कारण ही _____ होता है। आज के समय में बिना समाचार पत्र के जीवन की _____ करना भी काफी कठिन है। यह वो पहली और आवश्यक वस्तु है, जिसे सभी हर सुबह सबसे पहले देखते हैं। यह हमें पूरे विश्व में हो रही _____ के बारे में जानकारी देकर वर्तमान समय से जुड़े रखने में हमारी मदद करता है। समाचार पत्र व्यापारियों, राजनितियों, सामाजिक मुद्दों, बेरोजगारों, खेल, अन्तरराष्ट्रीय समाचार, विज्ञान, शिक्षा, दवाइयों, अभिनेताओं, मेलों, त्योहारों, तकनीकों आदि की जानकारी हमें देता है। यह हमारे ज्ञान कौशल और तकनीकी _____ को बढ़ाने में भी हमारी सहायता करता है। पहले के समय में, समाचार पत्रों में केवल खबरों का विवरण प्रकाशित होता था। हालांकि, अब इसमें बहुत से विषयों के बारे में खबरें और विशेषज्ञों के विचार यहाँ तक कि, लगभग सभी विषयों की जानकारी भी निहित होती है। बहुत से समाचार पत्रों की कीमत बाजार में उनकी खबरों के _____ और उस क्षेत्र में प्रसिद्धि के कारण अलग-अलग होती है। समाचार पत्र या अखबार में दैनिक जीवन की सभी वर्तमान घटनाएँ नियमित रूप से छपती है।

SubQuestion No : 20

Q.20 बहुत से समाचार पत्रों की कीमत बाजार में उनकी खबरों के _____ और उस क्षेत्र में प्रसिद्धि के कारण अलग-अलग होती है।

Ans

- 1. छपाई
- 2. बढ़ाई
- 3. गलती
- 4. विवरण

Question ID : **264330189990**
Option 1 ID : **264330743559**
Option 2 ID : **264330743560**
Option 3 ID : **264330743561**
Option 4 ID : **264330743558**
Status : **Answered**
Chosen Option : **4**

www.exammix.com

Constable GD in Central Armed Police Forces CAPFs SSF Rifleman GD in Assam Rifles Examination 2024

Roll Number	
Candidate Name	
Venue Name	
Exam Date	20/02/2024
Exam Time	9:00 AM - 10:00 AM
Subject	Constable GD Examination 2024

Section : Part-A-General Intelligence and Reasoning

www.exammix.com

Q.1 एक निश्चित कूट भाषा में, 'FORCE' को '83052' लिखा जाता है, 'GAMES' को '42761' लिखा जाता है, और 'FORUM' को '08957' लिखा जाता है। उसी कूट भाषा में 'C' को कैसे लिखा जाएगा?

- Ans**
- 1. 2
 - 2. 8
 - 3. 5
 - 4.

Question ID : 264330187045

Option 1 ID : 264330732108

Option 2 ID : 264330732111

Option 3 ID : 264330732109

Option 4 ID : 264330732110

Status : Answered

Chosen Option : 3

Q.2 दिए गए विकल्पों में से किन दो संख्याओं को आपस में बदलने पर निम्नलिखित समीकरण सही होगा?
 $8 \times 9 \div 4 + 5 - 3 = 2$

- Ans**
- 1. 2 और 5
 - 2. 9 और 2
 - 3. 8 और 4
 - 4. 3 और 9

Question ID : 264330188053

Option 1 ID : 264330736141

Option 2 ID : 264330736142

Option 3 ID : 264330736140

Option 4 ID : 264330736143

Status : Answered

Chosen Option : 4

Q.3 निम्नलिखित में से कौन-सा अक्षर-संख्या समूह दी गई श्रृंखला में प्रश्न चिह्न (?) के स्थान पर आएगा?
TJM10, ULP12, VNS14, WPV16, XRY18, ?

- Ans
- 1. YSZ20
 - 2. YTB20
 - 3. YTB21
 - 4. YSZ21

Question ID : 264330192268
Option 1 ID : 264330752428
Option 2 ID : 264330752429
Option 3 ID : 264330752426
Option 4 ID : 264330752427
Status : Answered
Chosen Option : 2

Q.4 दिए गए विकल्पों में से किन दो चिह्नों को आपस में बदलने पर निम्नलिखित समीकरण सही होगा?
 $28 + 12 - 21 \div 7 \times 4 = 60$

- Ans
- 1. \times और $-$
 - 2. \times और \div
 - 3. $+$ और \div
 - 4. \times और $+$

Question ID : 264330192081
Option 1 ID : 264330751679
Option 2 ID : 264330751680
Option 3 ID : 264330751681
Option 4 ID : 264330751678
Status : Answered
Chosen Option : 1

Q.5 पांच मित्र एलेक्स, बेन, क्रिस, डेविड और एमा एक वृत्ताकार मेज के चारों ओर केंद्र की ओर मुख करके बैठे हैं। एलेक्स, बेन के ठीक दाईं ओर बैठा है। क्रिस या डेविड के बगल में एलेक्स नहीं बैठा है। डेविड, एमा के ठीक दाईं ओर बैठा है। क्रिस के ठीक दाईं ओर कौन बैठा/बैठी है?

- Ans
- 1. डेविड
 - 2. एलेक्स
 - 3. बेन
 - 4. एमा

Question ID : 264330190295
Option 1 ID : 264330744763
Option 2 ID : 264330744765
Option 3 ID : 264330744762
Option 4 ID : 264330744764
Status : Answered
Chosen Option : 3

Q.6 निम्नलिखित विकल्पों में से उस विकल्प का चयन कीजिए जो तीसरे शब्द से ठीक उसी प्रकार संबंधित है जिस प्रकार दूसरा शब्द पहले शब्द से संबंधित है।
साइकिल : पैडल :: कार : ?

- Ans**
- 1. दरवाजा
 - 2. पहिया
 - 3. करछा
 - 4. हथोड़ा

Question ID : 264330192251
Option 1 ID : 264330752361
Option 2 ID : 264330752360
Option 3 ID : 264330752358
Option 4 ID : 264330752359
Status : Answered
Chosen Option : 2

Q.7 दी गई विकल्प आकृतियों में से, उस आकृति का चयन कीजिए जिसमें प्रश्न में दी गई आकृति छिपी हुई/निहित है। (घूर्णन की अनुमति नहीं है)

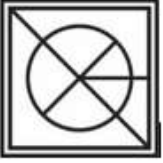


Ans

1.



2.



3.



4.



Question ID : 264330191327
Option 1 ID : 264330748663
Option 2 ID : 264330748665
Option 3 ID : 264330748662
Option 4 ID : 264330748664
Status : Answered
Chosen Option : 1

Q.8 दिए गए शब्दों को उसी क्रम में व्यवस्थित कीजिए, जिस क्रम में वे अंग्रेजी शब्दकोश में आते हैं।

1. Dear
2. Dean
3. Deal
4. Dead
5. Death

- Ans
- 1. 43251
 - 2. 13245
 - 3. 13254
 - 4. 43215

Question ID : 264330187441
Option 1 ID : 264330733693
Option 2 ID : 264330733695
Option 3 ID : 264330733694
Option 4 ID : 264330733692
Status : Answered
Chosen Option : 4

Q.9 आठ लड़के B1, B2, B3, B4, B5, B6, B7 और B8 एक पंक्ति में उत्तर की ओर मुख करके बैठे हैं (परंतु जरूरी नहीं कि वे इसी क्रम में बैठे हों)। B6, B1 के दाईं ओर से पांचवें स्थान पर बैठा है। B4, B5 के दाईं ओर से पांचवें स्थान पर बैठा है। B5, B1 के ठीक दाईं ओर बैठा है। B8, B4 के बाईं ओर से तीसरे स्थान पर बैठा है। B2, B7 के दाईं ओर से तीसरे स्थान पर बैठा है। B7, B1 का निकटतम पड़ोसी है। B1 के ठीक बाईं ओर कौन बैठा है?

- Ans
- 1. B7
 - 2. B8
 - 3. B2
 - 4. B6

Question ID : 264330190496
Option 1 ID : 264330745569
Option 2 ID : 264330745567
Option 3 ID : 264330745566
Option 4 ID : 264330745568
Status : Answered
Chosen Option : 1

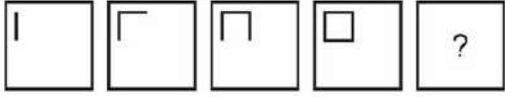
Q.10 निम्नलिखित प्रश्न में, दिए गए विकल्पों में से श्रृंखला से लुप्त संख्या का चयन कीजिए।

142, 150, 123, 187, 62, ?

- Ans
- 1. 285
 - 2. 281
 - 3. 300
 - 4. 278

Question ID : 264330187371
Option 1 ID : 264330733415
Option 2 ID : 264330733414
Option 3 ID : 264330733413
Option 4 ID : 264330733412
Status : Answered
Chosen Option : 4

Q.11 निम्नलिखित प्रश्न में, विकल्पों में दी गई उस आकृति का चयन कीजिए जिसे प्रश्न चिह्न (?) के स्थान पर रखा जा सकता है।

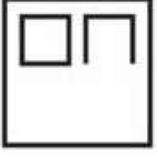


Ans

✗ 1.



✗ 2.



✓ 3.



✗ 4.



Question ID : 264330187394

Option 1 ID : 264330733505

Option 2 ID : 264330733506

Option 3 ID : 264330733504

Option 4 ID : 264330733507

Status : Answered

Chosen Option : 3

www.exammix.com

Q.12

'I × J' का अर्थ है 'I, J की मां है'

'I + J' का अर्थ है 'I, J का पति है'

'I ÷ J' का अर्थ है 'I, J की बहन है'

'I - J' का अर्थ है 'I, J का भाई है'

व्यंजक 'Q ÷ X + Y × Z' में, Q का Z से क्या संबंध है?

Ans

✗ 1. पत्नी

✗ 2. बेटी

✓ 3. पिता की बहन

✗ 4. पत्नी की बहन

Question ID : 264330192095

Option 1 ID : 264330751737

Option 2 ID : 264330751735

Option 3 ID : 264330751734

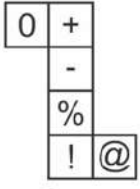
Option 4 ID : 264330751736

Status : Answered

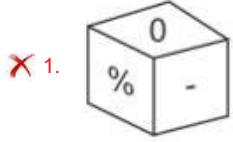
Chosen Option : 3

www.exammix.com

Q.13 निम्नलिखित विकल्पों में से उस घन का चयन कीजिए, जो दी गई शीट को मोड़ने पर नहीं बन सकता है।



Ans



Question ID : 264330192165

Option 1 ID : 264330752014

Option 2 ID : 264330752015

Option 3 ID : 264330752017

Option 4 ID : 264330752016

Status : Answered

Chosen Option : 2

www.exammix.com

Q.14 निम्नलिखित प्रश्न में, तीन कथन और उसके बाद I और II क्रमांकित दो निष्कर्ष दिए गए हैं। दिए गए कथनों को सत्य मानते हुए, चाहे वे सामान्यतः ज्ञात तथ्यों से भिन्न प्रतीत होते हों, निश्चय कीजिए कि दिए गए निष्कर्षों में से कौन-सा निष्कर्ष कथनों का तार्किक रूप से अनुसरण करता है।
कथन I: सभी बल्ले, गेंद हैं।
कथन II: सभी गेंद, बैडमिंटन हैं।
कथन III: सभी बैडमिंटन, विकेट हैं।
निष्कर्ष I: सभी बल्ले, विकेट हैं।
निष्कर्ष II: कुछ बैडमिंटन, बल्ले हैं।

- Ans**
- 1. न तो निष्कर्ष I और न ही II अनुसरण करता है
 - 2. केवल निष्कर्ष II अनुसरण करता है
 - 3. केवल निष्कर्ष I अनुसरण करता है
 - 4. निष्कर्ष I और II दोनों अनुसरण करते हैं

Question ID : 264330192178
Option 1 ID : 264330752069
Option 2 ID : 264330752067
Option 3 ID : 264330752066
Option 4 ID : 264330752068
Status : Answered
Chosen Option : 4

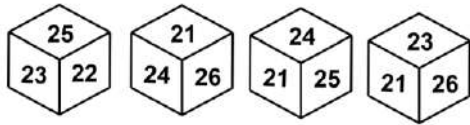
Q.15 निम्नलिखित अक्षर समूहों में से अक्षरों का कौन-सा समूह क्रमबद्ध रूप से बाईं से दाईं ओर रखे जाने पर नीचे दी गई श्रृंखला को पूरा करेगा?

Jklmnoijklmno_jlmnojk_m_ojklmn_

- Ans**
- 1. klno
 - 2. mnol
 - 3. jklm
 - 4. knlo

Question ID : 264330192049
Option 1 ID : 264330751551
Option 2 ID : 264330751552
Option 3 ID : 264330751550
Option 4 ID : 264330751553
Status : Answered
Chosen Option : 1

Q.16 नीचे एक ही पासे की चार अलग-अलग स्थितियां दी गई हैं। संख्या '23' वाले फलक के विपरीत फलक पर कौन-सी संख्या आएगी?



- Ans
- 1. 26
 - 2. 25
 - 3. 21
 - 4. 24

Question ID : 264330192345
Option 1 ID : 264330752737
Option 2 ID : 264330752734
Option 3 ID : 264330752736
Option 4 ID : 264330752735
Status : Answered
Chosen Option : 4

Q.17 निम्नलिखित में से कौन-सी संख्या दी गई श्रृंखला में प्रश्न चिह्न (?) के स्थान पर आएगी?

8, 18, 38, 78, 158, ?

- Ans
- 1. 290
 - 2. 268
 - 3. 340
 - 4. 318

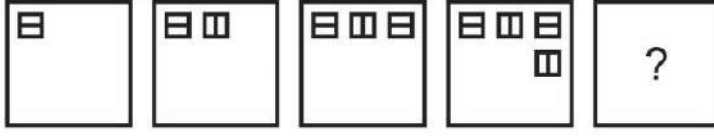
Question ID : 264330192259
Option 1 ID : 264330752392
Option 2 ID : 264330752390
Option 3 ID : 264330752391
Option 4 ID : 264330752393
Status : Answered
Chosen Option : 4

Q.18 एक निश्चित कूट भाषा में, 'LAMP' को 'IWJL' लिखा जाता है। उसी कूट भाषा में 'LOGS' को कैसे लिखा जाएगा?

- Ans
- 1. IJDO
 - 2. IKDP
 - 3. IKEO
 - 4. IKDO

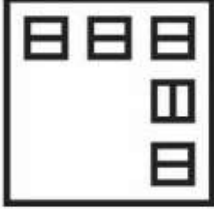
Question ID : 264330191313
Option 1 ID : 264330748609
Option 2 ID : 264330748607
Option 3 ID : 264330748608
Option 4 ID : 264330748606
Status : Answered
Chosen Option : 4

Q.19 निम्नलिखित प्रश्न में, विकल्पों में दी गई उस आकृति का चयन कीजिए जिसे प्रश्न चिह्न (?) के स्थान पर रखा जा सकता है।




Ans

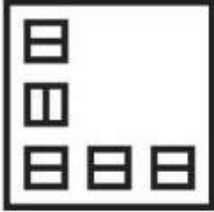
✗ 1.



✓ 2.



✗ 3.



✗ 4.



Question ID : 264330192064

Option 1 ID : 264330751610

Option 2 ID : 264330751611

Option 3 ID : 264330751612

Option 4 ID : 264330751613

Status : Answered

Chosen Option : 2

www.exammix.com

Q.20 निम्नलिखित प्रश्न में, दिए गए विकल्पों में से संबंधित अक्षर-युग्म का चयन कीजिए।

KW : FR :: ?

- Ans
- 1. BM : WO
 - 2. OC : CP
 - 3. AB : BM
 - 4. IU : DP

Question ID : 264330188023
Option 1 ID : 264330736021
Option 2 ID : 264330736022
Option 3 ID : 264330736020
Option 4 ID : 264330736023
Status : Answered
Chosen Option : 4

Section : Part-B-General Knowledge and General awareness

Q.1 The First Economic Census of India was conducted throughout the country, except Lakshadweep, during _____ in collaboration with the States/Union Territories (UTs).

- Ans
- 1. 1977
 - 2. 1987
 - 3. 1997
 - 4. 1967

Question ID : 264330191034
Option 1 ID : 264330747491
Option 2 ID : 264330747492
Option 3 ID : 264330747493
Option 4 ID : 264330747490
Status : Not Answered
Chosen Option : --

Q.2 2015 में, भारत के योजना आयोग के स्थान पर किस संस्था की स्थापना की गई?

- Ans
- 1. नीति आयोग (NITI Aayog)
 - 2. आरबीआई (RBI)
 - 3. नाबार्ड (NABARD)
 - 4. सेबी (SEBI)

Question ID : 264330191927
Option 1 ID : 264330751065
Option 2 ID : 264330751063
Option 3 ID : 264330751064
Option 4 ID : 264330751062
Status : Answered
Chosen Option : 1

Q.3 Open Network for Digital Commerce (ONDC) is an initiative by _____.

- Ans
- 1. NITI Aayog
 - 2. Department for Promotion of Industry and Internal Trade
 - 3. Ministry of Statistics and Program Implementation
 - 4. Ministry of Information and Broadcasting

Question ID : 264330188850
Option 1 ID : 264330739202
Option 2 ID : 264330739203
Option 3 ID : 264330739204
Option 4 ID : 264330739205
Status : Answered
Chosen Option : 2

Q.4 जब मेंडलीफ ने अपना कार्य आरंभ किया, उस समय कितने तत्व ज्ञात थे?

- Ans
- 1. 36
 - 2. 29
 - 3. 63
 - 4. 47

Question ID : 264330188677
Option 1 ID : 264330738511
Option 2 ID : 264330738510
Option 3 ID : 264330738513
Option 4 ID : 264330738512
Status : Answered
Chosen Option : 3

Q.5 23 मई 2023 को, भारतीय प्रतिस्पर्धा आयोग (Competition Commission of India - CCI) में अध्यक्ष के रूप में किसने पद संभाला?

- Ans
- 1. रवनीत कौर
 - 2. लीना नायर
 - 3. नैना लाल किदवई
 - 4. शांति एकंबरम

Question ID : 264330188674
Option 1 ID : 264330738499
Option 2 ID : 264330738498
Option 3 ID : 264330738501
Option 4 ID : 264330738500
Status : Answered
Chosen Option : 2

Q.6 एथलेटिक्स में IAAF विश्व चैंपियनशिप _____ से पूरी तरह से एक पेशेवर प्रतियोगिता बन गई।

Ans 1. 1997

2. 1991

3. 1993

4. 1995

Question ID : 264330188847

Option 1 ID : 264330739193

Option 2 ID : 264330739190

Option 3 ID : 264330739191

Option 4 ID : 264330739192

Status : Not Answered

Chosen Option : --

Q.7 निम्नलिखित में से कौन-सा/कौन-सी भारतीय संगीतकार, सर्वोच्च नागरिक सम्मान, भारत रत्न प्राप्त करने वाला/वाली पहला/पहली गायक/गायिका है?

Ans 1. ज़ाकिर हुसैन

2. ए. आर. रहमान

3. आर. डी. बर्मन

4. एम. एस. सुब्बुलक्ष्मी

Question ID : 264330192038

Option 1 ID : 264330751508

Option 2 ID : 264330751509

Option 3 ID : 264330751506

Option 4 ID : 264330751507

Status : Answered

Chosen Option : 4

Q.8 मई 2023 में, किस राज्य के मुख्यमंत्री को भय मुक्त राज्य बनाने के लिए भारत रत्न डॉ. अंबेडकर पुरस्कार से सम्मानित किया गया?

Ans 1. बिहार के मुख्यमंत्री

2. केरल के मुख्यमंत्री

3. उत्तरप्रदेश के मुख्यमंत्री

4. झारखंड के मुख्यमंत्री

Question ID : 264330191749

Option 1 ID : 264330750350

Option 2 ID : 264330750353

Option 3 ID : 264330750351

Option 4 ID : 264330750352

Status : Answered

Chosen Option : 3

Q.9 सत्यशोधक समाज के संस्थापक कौन थे?

- Ans
- 1. घासीदास
 - 2. हरिदास ठाकुर
 - 3. ज्योतिराव फुले
 - 4. ईश्वरचंद्र विद्यासागर

Question ID : 264330190936
Option 1 ID : 264330747100
Option 2 ID : 264330747098
Option 3 ID : 264330747099
Option 4 ID : 264330747101
Status : Answered
Chosen Option : 3

Q.10 पंडित बिरजू महाराज एक भारतीय नर्तक, संगीतकार, गायक और भारत में कथक नृत्य के _____ "कालका-बिदादीन" घराने के प्रतिपादक थे।

- Ans
- 1. लखनऊ
 - 2. आगरा
 - 3. हैदराबाद
 - 4. ग्वालियर

Question ID : 264330191411
Option 1 ID : 264330749001
Option 2 ID : 264330748998
Option 3 ID : 264330748999
Option 4 ID : 264330749000
Status : Answered
Chosen Option : 1

Q.11 न्यायाधीश को हटाए जाने के संबंध में नीचे दिए गए कथन को पूरा कीजिए।

भारतीय संविधान :-

- Ans
- 1. न्यायाधीशों को हटाने के लिए कोई प्रक्रिया निर्धारित नहीं करता है।
 - 2. न्यायाधीशों को हटाने के लिए बहुत कठिन प्रक्रिया निर्धारित करता है।
 - 3. यह केवल उच्च न्यायालय के न्यायाधीशों को हटाने की प्रक्रिया निर्धारित करता है।
 - 4. न्यायाधीशों को हटाने के लिए बहुत लचीली प्रक्रिया निर्धारित करता है।

Question ID : 264330190920
Option 1 ID : 264330747036
Option 2 ID : 264330747034
Option 3 ID : 264330747037
Option 4 ID : 264330747035
Status : Answered
Chosen Option : 2

Q.12 रंगास्वामी कप (Rangaswami Cup) का संबंध _____ खेल से है।

- Ans
- 1. बैडमिंटन
 - 2. टेनिस
 - 3. फुटबॉल
 - 4. हॉकी

Question ID : 264330191462
Option 1 ID : 264330749202
Option 2 ID : 264330749205
Option 3 ID : 264330749204
Option 4 ID : 264330749203
Status : Answered
Chosen Option : 1

Q.13 भारतीय संविधान के भाग IV A के अनुसार, "यदि माता-पिता या संरक्षक है, _____ वर्ष तक की आयु वाले अपने, यथास्थिति, बालक या प्रतिपाल्य के लिए शिक्षा का अवसर प्रदान करें।

- Ans
- 1. 2 - 6
 - 2. 6 - 14
 - 3. 4 - 14
 - 4. 6 - 12

Question ID : 264330191420
Option 1 ID : 264330749034
Option 2 ID : 264330749036
Option 3 ID : 264330749035
Option 4 ID : 264330749037
Status : Answered
Chosen Option : 2

Q.14 बैडमिंटन के संबंध में निम्नलिखित में से कौन-सा कथन सही है?

- I. बैडमिंटन के खेल की शुरुआत में और जब स्कोर बराबरी पर होता है, तो सर्वर (server) बाईं ओर के सर्विस कोर्ट (service court) से सर्व (serves) करता है।
- II. सर्वर (server) और रिसीवर (receiver) हमेशा विपरीत सर्विस कोर्ट में, लेकिन एक ही तरफ खड़े होते हैं।

- Ans
- 1. केवल I.
 - 2. I और II दोनों
 - 3. केवल II.
 - 4. न तो I और न ही II.

Question ID : 264330190603
Option 1 ID : 264330745994
Option 2 ID : 264330745996
Option 3 ID : 264330745995
Option 4 ID : 264330745997
Status : Not Answered
Chosen Option : --

Q.15 _____ is the most commonly used measure of money supply.

- Ans
- ✓ 1. M3
 - ✗ 2. M4
 - ✗ 3. M2
 - ✗ 4. M1

Question ID : 264330188689
Option 1 ID : 264330738560
Option 2 ID : 264330738561
Option 3 ID : 264330738559
Option 4 ID : 264330738558
Status : Not Answered
Chosen Option : --

Q.16 महिला आरक्षण विधेयक, 2023 के अनुसार, लोकसभा और राज्य विधानसभाओं में महिलाओं के लिए कितनी सीटें आरक्षित हैं?

- Ans
- ✗ 1. आधी
 - ✓ 2. एक-तिहाई
 - ✗ 3. एक-चौथाई
 - ✗ 4. दो-तिहाई

Question ID : 264330191488
Option 1 ID : 264330749307
Option 2 ID : 264330749308
Option 3 ID : 264330749306
Option 4 ID : 264330749309
Status : Answered
Chosen Option : 2

Q.17 किस भारतीय नृत्य कलाकार ने 2018 में ओडिसी नृत्य के लिए संगीत नाटक अकादमी पुरस्कार जीता?

- Ans
- ✗ 1. एलम एंदिरा देवी (Elam Endira Devi)
 - ✓ 2. सुरूपा सेन (Surupa Sen)
 - ✗ 3. डॉ. अरुणा मोहंती (Dr. Aruna Mohanty)
 - ✗ 4. अखम लक्ष्मी देवी (Akham Lakshmi Devi)

Question ID : 264330191239
Option 1 ID : 264330748312
Option 2 ID : 264330748310
Option 3 ID : 264330748311
Option 4 ID : 264330748313
Status : Answered
Chosen Option : 3

Q.18 बरांश (Barash), हिंदू त्योहार दिवाली के समान है, जो निम्नलिखित में से किस जनजाति द्वारा मनाया जाता है?

- Ans
- 1. वर्ली और कोंकणा
 - 2. मुंडा
 - 3. गोंड और भील
 - 4. संथाल

Question ID : 264330190811
Option 1 ID : 264330746599
Option 2 ID : 264330746600
Option 3 ID : 264330746598
Option 4 ID : 264330746601
Status : Not Answered
Chosen Option : --

Q.19 _____ is the total process of collecting, compiling, analyzing and disseminating demographic, economic and social data pertaining, at a specific time, of all persons in a country or a well-defined part of a country.

- Ans
- 1. Constitution
 - 2. Population Census
 - 3. Population
 - 4. National Survey

Question ID : 264330191734
Option 1 ID : 264330750293
Option 2 ID : 264330750290
Option 3 ID : 264330750292
Option 4 ID : 264330750291
Status : Answered
Chosen Option : 4

Q.20 भारतीय उपमहाद्वीप में ज्ञात, लेखन की सबसे प्रारंभिक शैली का क्या नाम है?

- Ans
- 1. ब्राह्मी लिपि
 - 2. संस्कृत लिपि
 - 3. पाली लिपि
 - 4. सिंधु लिपि

Question ID : 264330191476
Option 1 ID : 264330749259
Option 2 ID : 264330749261
Option 3 ID : 264330749258
Option 4 ID : 264330749260
Status : Answered
Chosen Option : 4

Section : Part-C-Elementary Mathematics

Q.1 एक परीक्षा में, उपस्थित होने वाले विद्यार्थियों की कुल संख्या में से 93 प्रतिशत विद्यार्थी उत्तीर्ण हुए और 9275 विद्यार्थी अनुत्तीर्ण रहे। परीक्षा में उपस्थित होने वाले विद्यार्थियों की कुल संख्या कितनी है?

- Ans
- 1. 132550
 - 2. 135550
 - 3. 132500
 - 4. 135500

Question ID : 264330187725
Option 1 ID : 264330734828
Option 2 ID : 264330734831
Option 3 ID : 264330734829
Option 4 ID : 264330734830
Status : Answered
Chosen Option : 3

Q.2 $[41 \times \{36 \text{ of } 4 \div (96 \text{ of } 2 \div 24)\}]$ का मान कितना है?

- Ans
- 1. 656
 - 2. 779
 - 3. 738
 - 4. 697

Question ID : 264330187460
Option 1 ID : 264330733769
Option 2 ID : 264330733771
Option 3 ID : 264330733770
Option 4 ID : 264330733768
Status : Answered
Chosen Option : 3

Q.3 किसी धनराशि पर 40 वर्षों तक प्राप्त साधारण ब्याज, उस धनराशि का $\frac{2}{5}$ है। वार्षिक ब्याज दर कितनी है?

- Ans
- 1. 1 प्रतिशत
 - 2. 1.5 प्रतिशत
 - 3. 3 प्रतिशत
 - 4. 2 प्रतिशत

Question ID : 264330187673
Option 1 ID : 264330734622
Option 2 ID : 264330734623
Option 3 ID : 264330734620
Option 4 ID : 264330734621
Status : Answered
Chosen Option : 1

Q.4 R एक काम को 90 दिनों में पूरा कर सकता है। कुल काम का कितना प्रतिशत काम R द्वारा 45 दिनों में पूरा किया जा सकता है?

- Ans**
- 1. 65 प्रतिशत
 - 2. 50 प्रतिशत
 - 3. 70 प्रतिशत
 - 4. 56 प्रतिशत

Question ID : **264330188016**
Option 1 ID : **264330735995**
Option 2 ID : **264330735992**
Option 3 ID : **264330735993**
Option 4 ID : **264330735994**
Status : **Answered**
Chosen Option : **2**

Q.5 एक विद्यार्थी ने एक परीक्षा में 75% अंक प्राप्त किए और उसे 60% अंक प्राप्त करने वाले दूसरे विद्यार्थी के अंक से 30 अंक अधिक प्राप्त हुए। परीक्षा के अधिकतम अंक कितने हैं?

- Ans**
- 1. 150
 - 2. 200
 - 3. 120
 - 4. 100

Question ID : **264330191174**
Option 1 ID : **264330748051**
Option 2 ID : **264330748053**
Option 3 ID : **264330748052**
Option 4 ID : **264330748050**
Status : **Answered**
Chosen Option : **2**

Q.6 चक्रवृद्धि ब्याज (वार्षिक रूप से संयोजित) पर रखी गई एक धनराशि 10 वर्षों में स्वयं की दोगुनी हो जाती है। वह समय ज्ञात कीजिए, जिसमें धनराशि स्वयं की 4 गुना हो जाएगी।

- Ans**
- 1. 20 वर्ष
 - 2. 10 वर्ष
 - 3. 15 वर्ष
 - 4. 14 वर्ष

Question ID : **264330191162**
Option 1 ID : **264330748003**
Option 2 ID : **264330748005**
Option 3 ID : **264330748002**
Option 4 ID : **264330748004**
Status : **Answered**
Chosen Option : **1**

Q.7 रोहित 2320 रुपए में एक पुराना बल्ला खरीदता है और उसकी मरम्मत में 180 रुपए खर्च करता है। यदि वह इसे 2400 रुपए में बेचता है, तो हानि प्रतिशत कितना है?

- Ans**
- 1. 10 प्रतिशत
 - 2. 4 प्रतिशत
 - 3. 8 प्रतिशत
 - 4. 5 प्रतिशत

Question ID : **264330187187**
Option 1 ID : **264330732677**
Option 2 ID : **264330732678**
Option 3 ID : **264330732679**
Option 4 ID : **264330732676**
Status : **Answered**
Chosen Option : **2**

Q.8 7200 रुपए को P, Q और R के बीच में क्रमशः $1/2 : 4 : 3/2$ के अनुपात में बांटा जाता है। R का हिस्सा कितना है?

- Ans**
- 1. 1800 रुपए
 - 2. 2400 रुपए
 - 3. 600 रुपए
 - 4. 4800 रुपए

Question ID : **264330191641**
Option 1 ID : **264330749920**
Option 2 ID : **264330749921**
Option 3 ID : **264330749918**
Option 4 ID : **264330749919**
Status : **Answered**
Chosen Option : **1**

Q.9 दो रेलगाड़ियां समान चाल से विपरीत दिशा में चल रही हैं। यदि प्रत्येक रेलगाड़ी की लंबाई 320 मीटर है और वे 18 सेकंड में एक-दूसरे को पार करती हैं, तो प्रत्येक रेलगाड़ी की चाल कितनी है?

- Ans**
- 1. 72 km/hr
 - 2. 56 km/hr
 - 3. 48 km/hr
 - 4. 64 km/hr

Question ID : **264330187695**
Option 1 ID : **264330734711**
Option 2 ID : **264330734710**
Option 3 ID : **264330734708**
Option 4 ID : **264330734709**
Status : **Answered**
Chosen Option : **4**

Q.10 यदि एक आयत की लंबाई में 14.28 प्रतिशत की वृद्धि कर दी जाए, तो क्षेत्रफल को अपरिवर्तित रखने के लिए इसकी चौड़ाई कितने प्रतिशत घटाई जानी चाहिए?

- Ans**
- 1. 14.28 प्रतिशत
 - 2. 14 प्रतिशत
 - 3. 12.5 प्रतिशत
 - 4. 16.66 प्रतिशत

Question ID : **264330187638**
Option 1 ID : **264330734482**
Option 2 ID : **264330734483**
Option 3 ID : **264330734480**
Option 4 ID : **264330734481**
Status : **Answered**
Chosen Option : **3**

Q.11 8 दिनों तक काम करने के बाद, राखी को पता चलता है कि अभी तक केवल 10 प्रतिशत काम पूरा हुआ है। वह पूनम को काम पर रखती है, जो राखी से 20 प्रतिशत अधिक कुशल है। शेष काम को पूरा करने में उन्हें कितने दिन और लगेंगे?

- Ans**
- 1. 360/7 दिन
 - 2. 340/7 दिन
 - 3. 340/11 दिन
 - 4. 360/11 दिन

Question ID : **264330191646**
Option 1 ID : **264330749938**
Option 2 ID : **264330749941**
Option 3 ID : **264330749940**
Option 4 ID : **264330749939**
Status : **Answered**
Chosen Option : **4**

Q.12 A और B दोनों 5000 रुपए प्रति घड़ी की दर से अपनी घड़ियां बेचते हैं। A, 25 का प्रतिशत का लाभ अर्जित करता है जबकि B को 10 प्रतिशत की हानि होती है। A और B के क्रय मूल्यों का अनुपात कितना है?

- Ans**
- 1. 9 : 10
 - 2. 16 : 25
 - 3. 17 : 20
 - 4. 18 : 25

Question ID : **264330187928**
Option 1 ID : **264330735642**
Option 2 ID : **264330735643**
Option 3 ID : **264330735641**
Option 4 ID : **264330735640**
Status : **Answered**
Chosen Option : **4**

Q.13 एक कुर्सी का अंकित मूल्य 2000 रुपए है। 20 प्रतिशत और x प्रतिशत की दो क्रमिक छूट देने के बाद वह कुर्सी 1400 रुपए में बेची जाती है। x का मान कितना है?

- Ans**
- 1. 10 प्रतिशत
 - 2. 25 प्रतिशत
 - 3. 12.5 प्रतिशत
 - 4. 20 प्रतिशत

Question ID : 264330187750
Option 1 ID : 264330734929
Option 2 ID : 264330734928
Option 3 ID : 264330734930
Option 4 ID : 264330734931
Status : Answered
Chosen Option : 3

Q.14 एक क्रिकेट टीम में 7 पुरुषों की आयु 26, 25, 21, 29, 24, 28 और 22 है। उनकी औसत आयु कितनी है?

- Ans**
- 1. 23
 - 2. 24
 - 3. 25
 - 4. 22

Question ID : 264330192292
Option 1 ID : 264330752523
Option 2 ID : 264330752524
Option 3 ID : 264330752525
Option 4 ID : 264330752522
Status : Answered
Chosen Option : 3

Q.15 $(7 + 33) \times (44 \div 2) \times (5 \times 5)$ का मान ज्ञात कीजिए।

- Ans**
- 1. 25,000
 - 2. 22,500
 - 3. 21,000
 - 4. 22,000

Question ID : 264330188079
Option 1 ID : 264330736244
Option 2 ID : 264330736246
Option 3 ID : 264330736245
Option 4 ID : 264330736247
Status : Answered
Chosen Option : 4

Q.16 एक वर्ष में, सपना का औसत मासिक व्यय वर्ष के प्रथम 3 महीनों के लिए 1100 रुपए, अगले 5 महीनों के लिए 1000 रुपए और अंतिम 4 महीनों के लिए 1200 रुपए था। यदि कुल वार्षिक बचत 1300 रुपए थी, तो सपना की औसत मासिक आय कितनी थी?

- Ans**
- 1. 1210 रुपए
 - 2. 1200 रुपए
 - 3. 1250 रुपए
 - 4. 1270 रुपए

Question ID : 264330187944
Option 1 ID : 264330735705
Option 2 ID : 264330735706
Option 3 ID : 264330735704
Option 4 ID : 264330735707
Status : Answered
Chosen Option : 2

Q.17 यदि $M : N = 9 : 6$ है, तो $(M + N) : (M - N)$ का मान कितना है?

- Ans**
- 1. 1 : 5
 - 2. 5 : 1
 - 3. 5 : 2
 - 4. 5 : 4

Question ID : 264330188564
Option 1 ID : 264330738060
Option 2 ID : 264330738058
Option 3 ID : 264330738059
Option 4 ID : 264330738061
Status : Answered
Chosen Option : 2

Q.18 किसी वस्तु का विक्रय मूल्य 5175 रुपए है और उस पर 25 प्रतिशत की छूट दी गई है। वस्तु का अंकित मूल्य कितना है?

- Ans**
- 1. 6900 रुपए
 - 2. 7000 रुपए
 - 3. 6600 रुपए
 - 4. 8500 रुपए

Question ID : 264330187289
Option 1 ID : 264330733087
Option 2 ID : 264330733085
Option 3 ID : 264330733086
Option 4 ID : 264330733084
Status : Answered
Chosen Option : 1

Q.19 44 आम, 121 केले और 11 सेब हैं, उन्हें कई पंक्तियों में इस प्रकार व्यवस्थित करना है कि प्रत्येक पंक्ति में समान संख्या में फल हों और प्रत्येक पंक्ति में एक प्रकार का फल हो। पंक्तियों की न्यूनतम संख्या कितनी है?

- Ans**
- 1. 13
 - 2. 14
 - 3. 16
 - 4. 15

Question ID : 264330187202
Option 1 ID : 264330732739
Option 2 ID : 264330732736
Option 3 ID : 264330732737
Option 4 ID : 264330732738
Status : Answered
Chosen Option : 3

Q.20 मान ज्ञात कीजिए।
 $\{(175 \times 72 \div 24 + 5) \times 20\} \div 2$

- Ans**
- 1. 4850
 - 2. 5300
 - 3. 5800
 - 4. 4300

Question ID : 264330192288
Option 1 ID : 264330752507
Option 2 ID : 264330752508
Option 3 ID : 264330752509
Option 4 ID : 264330752506
Status : Answered
Chosen Option : 2

Section : Part-D-English

Q.1 Improve the underlined part of the sentence. Choose 'No improvement' as an answer if the sentence is grammatically correct.

My aunt has a petted Rhode Island Red rooster.

- Ans**
- 1. had a petting
 - 2. No improvement
 - 3. have a pet
 - 4. has a pet

Question ID : 264330186742
Option 1 ID : 264330731122
Option 2 ID : 264330731123
Option 3 ID : 264330731121
Option 4 ID : 264330731120
Status : Not Answered
Chosen Option : --

Q.2 In the following question, out of the given four alternatives, select the alternative which best expresses the meaning of the Idiom/Phrase.

Have a good run

Ans 1. A good amount of money

2.

To experience joy or success in some endeavour, but only for a limited period of time

3. A long journey

4. To escape from a prison

Question ID : 264330186165

Option 1 ID : 264330728922

Option 2 ID : 264330728923

Option 3 ID : 264330728920

Option 4 ID : 264330728921

Status : Not Answered

Chosen Option : --

Q.3 Improve the underlined part of the sentence. Choose "No improvement" as an answer if the sentence is grammatically correct.

I meet an homeless person in New York.

Ans 1. will met a homeless

2. met an homeless

3. met a homeless

4. No improvement

Question ID : 264330186678

Option 1 ID : 264330730878

Option 2 ID : 264330730877

Option 3 ID : 264330730876

Option 4 ID : 264330730879

Status : Not Answered

Chosen Option : --

Q.4 Select the sentence with no spelling errors.

Ans 1.

I had to play melody while simultaneously playing harmony with him.

2.

I had to play melody while simultaneously playing harmuny with him.

3.

I had to play melody while simultaneously playing harmony with him.

4.

I had to play melodie while simultaneously playing harmony with him.

Question ID : 264330185979

Option 1 ID : 264330728213

Option 2 ID : 264330728215

Option 3 ID : 264330728212

Option 4 ID : 264330728214

Status : Not Answered

Chosen Option : --

Q.5 Identify the segment that contains a grammatical error. If there is no error, select 'No error'.

And thereupon he sudden remembered / that he was not sleeping in his wife's room, but in his study, / and the smile vanished from his face.

Ans 1. No error

2. And thereupon he sudden remembered

3.

that he was not sleeping in his wife's room, but in his study,

4. and the smile vanished from his face.

Question ID : 264330186507
Option 1 ID : 264330730227
Option 2 ID : 264330730224
Option 3 ID : 264330730225
Option 4 ID : 264330730226
Status : Not Answered
Chosen Option : --

Q.6 Choose the word that is opposite in meaning to the given word.

Antipathy

Ans 1. Love

2. Fecund

3. Hate

4. Lament

Question ID : 264330186752
Option 1 ID : 264330731157
Option 2 ID : 264330731159
Option 3 ID : 264330731158
Option 4 ID : 264330731156
Status : Not Answered
Chosen Option : --

Q.7 The sentence has been divided into three parts. Identify the error segment in the sentence given below. Choose no error if there is no error in the sentence.

She is not as taller as her/ older brother, but she is/ equally skilled in basketball.

Ans 1. She is not as taller as her

2. no error

3. older brother, but she is

4. equally skilled in basketball.

Question ID : 264330186403
Option 1 ID : 264330729828
Option 2 ID : 264330729831
Option 3 ID : 264330729829
Option 4 ID : 264330729830
Status : Not Answered
Chosen Option : --

Q.8 Fill in the blank with the most appropriate option.

Her mother is a wonderful host, she prepared for us a seven _____ meal all by herself.

- Ans
- 1. courser
 - 2. course
 - 3. coarse
 - 4. coarser

Question ID : 264330186884
Option 1 ID : 264330731661
Option 2 ID : 264330731663
Option 3 ID : 264330731660
Option 4 ID : 264330731662
Status : Not Answered
Chosen Option : --

Q.9 Choose the idiom/phrase that can substitute the highlighted group of words meaningfully.

He often **changes plans** while doing his work. So, his tasks remain incomplete.

- Ans
- 1. Change horses in midstream
 - 2. Spill the beans
 - 3. In seventh heaven
 - 4. Break a leg

Question ID : 264330186692
Option 1 ID : 264330730929
Option 2 ID : 264330730928
Option 3 ID : 264330730931
Option 4 ID : 264330730930
Status : Not Answered
Chosen Option : --

Q.10 Four words are given, out of which only one word is spelt correct. Choose the correct spelt word.

- Ans
- 1. WITHHOLD
 - 2. SUPRISE
 - 3. SUCCESFUL
 - 4. RELEVENT

Question ID : 264330186903
Option 1 ID : 264330731734
Option 2 ID : 264330731732
Option 3 ID : 264330731733
Option 4 ID : 264330731735
Status : Not Answered
Chosen Option : --

Q.11 Select the most appropriate option for the given blank.

My puns are usually greeted _____ loud applause by my friends.

- Ans
- 1. against
 - 2. to
 - 3. with
 - 4. for

Question ID : 264330185567
Option 1 ID : 264330726645
Option 2 ID : 264330726647
Option 3 ID : 264330726644
Option 4 ID : 264330726646
Status : Not Answered
Chosen Option : --

Q.12 Four sentences are given, out of which three have all correct spellings. Choose the sentence with the incorrect spelt word/ words.

- Ans
- 1. He said he would watch out, and if they tried to come any such game on him he knew of a place six or seven mile off to stow me in.
 - 2. That made me pretty uneasy again, but only for a minute.
 - 3. I slipped the ramrod down it to make sure it was loaded, then I laid it across the turnip barrel, pointing towards pap.
 - 4. But the hope in his wisdom was at length changed into dred, for no one beleived him when he said he knew no charms.

Question ID : 264330186038
Option 1 ID : 264330728437
Option 2 ID : 264330728438
Option 3 ID : 264330728439
Option 4 ID : 264330728436
Status : Not Answered
Chosen Option : --

Q.13 Find the part of the given sentence that has an error in it. If there is no error, choose 'No error'.

The health agency has encourage people around the world to wash their hands regularly.

- Ans
- 1. wash their hands regularly.
 - 2. The health agency has encourage
 - 3. people around the world to
 - 4. No error

Question ID : 264330186698
Option 1 ID : 264330730954
Option 2 ID : 264330730952
Option 3 ID : 264330730953
Option 4 ID : 264330730955
Status : Not Answered
Chosen Option : --

Q.14 From the options given below choose the synonym (similar meaning) of the word:

Enervate

- Ans
- 1. Secure
 - 2. Insecure
 - 3. Desolation
 - 4. Devitalize

Question ID : 264330186436
Option 1 ID : 264330729952
Option 2 ID : 264330729953
Option 3 ID : 264330729955
Option 4 ID : 264330729954
Status : Not Answered
Chosen Option : --

Q.15 Select the most appropriate word to fill in the blank.

Mansa is not _____ than Mamta.

- Ans
- 1. tall
 - 2. taller
 - 3. tallest
 - 4. more taller

Question ID : 264330186743
Option 1 ID : 264330731124
Option 2 ID : 264330731125
Option 3 ID : 264330731126
Option 4 ID : 264330731127
Status : Not Answered
Chosen Option : --

Comprehension:

Read the passage carefully and select the correct answer for the given blanks out of the four alternatives.

The causes of bipolar disorder aren't completely understood, but it often (1) _____ to be hereditary. The first manic or depressive episode of bipolar disorder usually (2) _____ in the teenage years or early adulthood. The symptoms can be subtle and confusing, many people with bipolar disorder are overlooked or misdiagnosed—resulting in unnecessary (3) _____. Since bipolar disorder tends to worsen without treatment, it's important to learn (4) _____ the symptoms look like. Recognizing the problem is the first step to feeling better and getting your life back on (5) _____.

SubQuestion No : 16

Q.16 Select the most appropriate option for blank(1)

- Ans
- 1. appears
 - 2. pings
 - 3. injects
 - 4. signs

Question ID : 264330186326
Option 1 ID : 264330729535
Option 2 ID : 264330729532
Option 3 ID : 264330729534
Option 4 ID : 264330729533
Status : Not Answered
Chosen Option : --

Comprehension:

Read the passage carefully and select the correct answer for the given blanks out of the four alternatives.

The causes of bipolar disorder aren't completely understood, but it often (1) _____ to be hereditary. The first manic or depressive episode of bipolar disorder usually (2) _____ in the teenage years or early adulthood. The symptoms can be subtle and confusing; many people with bipolar disorder are overlooked or misdiagnosed—resulting in unnecessary (3) _____. Since bipolar disorder tends to worsen without treatment, it's important to learn (4) _____ the symptoms look like. Recognizing the problem is the first step to feeling better and getting your life back on (5) _____.

SubQuestion No : 17

Q.17 Select the most appropriate option for blank(2)

- Ans**
- 1. differs
 - 2. turns
 - 3. dwindles
 - 4. occurs

Question ID : 264330186327
Option 1 ID : 264330729537
Option 2 ID : 264330729539
Option 3 ID : 264330729536
Option 4 ID : 264330729538
Status : Not Answered
Chosen Option : --

Comprehension:

Read the passage carefully and select the correct answer for the given blanks out of the four alternatives.

The causes of bipolar disorder aren't completely understood, but it often (1) _____ to be hereditary. The first manic or depressive episode of bipolar disorder usually (2) _____ in the teenage years or early adulthood. The symptoms can be subtle and confusing; many people with bipolar disorder are overlooked or misdiagnosed—resulting in unnecessary (3) _____. Since bipolar disorder tends to worsen without treatment, it's important to learn (4) _____ the symptoms look like. Recognizing the problem is the first step to feeling better and getting your life back on (5) _____.

SubQuestion No : 18

Q.18 Select the most appropriate option for blank(3)

- Ans**
- 1. caressing
 - 2. suffering
 - 3. blunder
 - 4. chaos

Question ID : 264330186328
Option 1 ID : 264330729542
Option 2 ID : 264330729541
Option 3 ID : 264330729540
Option 4 ID : 264330729543
Status : Not Answered
Chosen Option : --

Comprehension:

Read the passage carefully and select the correct answer for the given blanks out of the four alternatives.

The causes of bipolar disorder aren't completely understood, but it often (1) _____ to be hereditary. The first manic or depressive episode of bipolar disorder usually (2) _____ in the teenage years or early adulthood. The symptoms can be subtle and confusing; many people with bipolar disorder are overlooked or misdiagnosed—resulting in unnecessary (3) _____. Since bipolar disorder tends to worsen without treatment, it's important to learn (4) _____ the symptoms look like. Recognizing the problem is the first step to feeling better and getting your life back on (5) _____.

SubQuestion No : 19

Q.19 Select the most appropriate option for blank(4)

- Ans
- 1. where
 - 2. why
 - 3. which
 - 4. what

Question ID : 264330186329
Option 1 ID : 264330729547
Option 2 ID : 264330729546
Option 3 ID : 264330729545
Option 4 ID : 264330729544
Status : Not Answered
Chosen Option : --

Comprehension:

Read the passage carefully and select the correct answer for the given blanks out of the four alternatives.

The causes of bipolar disorder aren't completely understood, but it often (1) _____ to be hereditary. The first manic or depressive episode of bipolar disorder usually (2) _____ in the teenage years or early adulthood. The symptoms can be subtle and confusing; many people with bipolar disorder are overlooked or misdiagnosed—resulting in unnecessary (3) _____. Since bipolar disorder tends to worsen without treatment, it's important to learn (4) _____ the symptoms look like. Recognizing the problem is the first step to feeling better and getting your life back on (5) _____.

SubQuestion No : 20

Q.20 Select the most appropriate option for blank(5)

- Ans
- 1. system
 - 2. time
 - 3. track
 - 4. platform

Question ID : 264330186330
Option 1 ID : 264330729550
Option 2 ID : 264330729548
Option 3 ID : 264330729551
Option 4 ID : 264330729549
Status : Not Answered
Chosen Option : --

Section : Part-D-Hindi

Q.1 दिए गए वाक्य में रेखांकित शब्द का विलोम शब्द ज्ञात कीजिए।

संसार नश्वर है।

- Ans
- 1. संपन्न
 - 2. दानव
 - 3. सहित
 - 4. अनश्वर

Question ID : 264330189156
Option 1 ID : 264330740383
Option 2 ID : 264330740384
Option 3 ID : 264330740385
Option 4 ID : 264330740382
Status : Answered
Chosen Option : 4

Q.2 निम्नलिखित वाक्य में रेखांकित भाग के लिए एक सार्थक शब्द ज्ञात कीजिए।

पुस्तकालय में हाथ से लिखी एक भी पुस्तक उपलब्ध नहीं है।

- Ans
- 1. पांडुलिपि
 - 2. चित्रपुस्तक
 - 3. प्रतिलिपि
 - 4. छायाप्रति

Question ID : 264330190054
Option 1 ID : 264330743802
Option 2 ID : 264330743805
Option 3 ID : 264330743803
Option 4 ID : 264330743804
Status : Answered
Chosen Option : 1

Q.3 दिए गए वाक्य में रेखांकित शब्द का विलोम शब्द ज्ञात कीजिए।

सामान का दुरुपयोग न करें।

- Ans
- 1. सदुपयोग
 - 2. कठोर
 - 3. निरूपयोग
 - 4. कुरूपयोग

Question ID : 264330189197
Option 1 ID : 264330740539
Option 2 ID : 264330740538
Option 3 ID : 264330740541
Option 4 ID : 264330740540
Status : Answered
Chosen Option : 1

Q.4 निम्नलिखित प्रश्न में, चार विकल्पों में से, उस विकल्प का चयन करें जो रिक्त स्थान के लिए सही पुल्लिंग रूप वाला विकल्प हो।
मैं _____ में अपने परिवार के साथ घूमने जाने वाली हूँ।

- Ans
- 1. गाड़ी
 - 2. अपनेपन
 - 3. कल
 - 4. दिसंबर

Question ID : 264330189857
Option 1 ID : 264330743057
Option 2 ID : 264330743055
Option 3 ID : 264330743054
Option 4 ID : 264330743056
Status : Answered
Chosen Option : 4

Q.5 निम्नलिखित प्रश्न में, चार विकल्पों में से, उस विकल्प का चयन करें जो कोष्ठक में दिए गए शब्द के पर्यायवाची शब्द का सही विकल्प नहीं है।
ईश्वर की शरण में जाना ही (उद्धार) _____ प्राप्ति का एक मात्र मार्ग है।

- Ans
- 1. परित्राण
 - 2. छुटकारा
 - 3. उद्गम
 - 4. विमुक्ति

Question ID : 264330189930
Option 1 ID : 264330743332
Option 2 ID : 264330743331
Option 3 ID : 264330743333
Option 4 ID : 264330743330
Status : Answered
Chosen Option : 2

Q.6 निम्नलिखित प्रश्न में, चार विकल्पों में से, उस विकल्प का चयन करें जो रिक्त स्थान के लिए सही शब्द वाला विकल्प हो।
महाभारत में कहा गया है कि जो सब धर्मों को सम्मान नहीं देता, वह धर्म नहीं _____ है।

- Ans
- 1. सधर्म
 - 2. तपस्या
 - 3. अधर्म
 - 4. आचार

Question ID : 264330189669
Option 1 ID : 264330742338
Option 2 ID : 264330742340
Option 3 ID : 264330742339
Option 4 ID : 264330742341
Status : Answered
Chosen Option : 3

Q.7 दिए गए वाक्य में उचित पर्यायवाची शब्द का चयन करके रिक्त स्थान की पूर्ति करें।

पर्वत ____ (स्थिर) है।

- Ans
- ✓ 1. निश्चल
 - ✗ 2. गिरावट
 - ✗ 3. सुगम
 - ✗ 4. मंगल

Question ID : 264330189007
Option 1 ID : 264330739816
Option 2 ID : 264330739815
Option 3 ID : 264330739817
Option 4 ID : 264330739814
Status : Answered
Chosen Option : 1

Q.8 दिए गए वाक्य में रेखांकित भाग के लिए उचित सार्थक शब्द का चयन कीजिए।

रात होते ही झभी बढ़ गई है।

- Ans
- ✓ 1. भीड़
 - ✗ 2. भड़ा
 - ✗ 3. भाड़
 - ✗ 4. झाभ

Question ID : 264330189329
Option 1 ID : 264330741044
Option 2 ID : 264330741043
Option 3 ID : 264330741042
Option 4 ID : 264330741045
Status : Answered
Chosen Option : 1

Q.9 निम्नलिखित प्रश्न में, चार विकल्पों में से, उस विकल्प का चयन करें जो दिए गए मुहावरे का सही अर्थ वाला विकल्प है।

अलाद्दीन का चिराग

- Ans
- ✗ 1. भाग्य खुलना
 - ✗ 2. आमना-सामना होना
 - ✓ 3. आश्चर्यजनक वस्तु
 - ✗ 4. पूरी तरह से वश में करना

Question ID : 264330189724
Option 1 ID : 264330742546
Option 2 ID : 264330742547
Option 3 ID : 264330742548
Option 4 ID : 264330742549
Status : Answered
Chosen Option : 3

Q.10 निम्नलिखित प्रश्न में, चार विकल्पों में से, उस विकल्प का चयन करें जो कोष्ठक में दिए गए शब्द के तत्सम रूप का सही विकल्प है।
मेरे पड़ोसी का घर बन रहा है इसलिए बहुत सी (इंट) _____ मँगवाई गई है।

- Ans
- 1. रेट
 - 2. इष्टिका
 - 3. गंडक
 - 4. अक्ष

Question ID : 264330189813
Option 1 ID : 264330742886
Option 2 ID : 264330742887
Option 3 ID : 264330742888
Option 4 ID : 264330742889
Status : Answered
Chosen Option : 2

Q.11 दिए गए वाक्य का वह भाग ज्ञात करें, जिसमें कोई त्रुटि है। यदि कोई त्रुटि नहीं है, तो 'कोई त्रुटि नहीं है' चुनें।
'विद्यार्थी' शब्द दो शब्द के योग से बना है - विद्या + अर्थी।

- Ans
- 1. कोई त्रुटि नहीं है
 - 2. शब्द के योग से
 - 3. बना है - विद्या + अर्थी।
 - 4. 'विद्यार्थी' शब्द दो

Question ID : 264330189247
Option 1 ID : 264330740733
Option 2 ID : 264330740731
Option 3 ID : 264330740732
Option 4 ID : 264330740730
Status : Answered
Chosen Option : 3

Q.12 निम्नलिखित प्रश्न में, दिए गए चार विकल्पों में से, उस विकल्प का चयन करें जो दिए गए मुहावरे के अर्थ को सर्वश्रेष्ठ रूप से व्यक्त करता है।
झाँसा देना

- Ans
- 1. धोखा मिलना
 - 2. धोखा होना
 - 3. धोखा देना
 - 4. भड़काना

Question ID : 264330189452
Option 1 ID : 264330741511
Option 2 ID : 264330741512
Option 3 ID : 264330741510
Option 4 ID : 264330741513
Status : Answered
Chosen Option : 3

Q.13 दिए गए विकल्पों में से शुद्ध वर्तनी वाले विकल्प का चयन करें।

- Ans
- ✗ 1. दिपक रोशनी प्रदान करता है।
 - ✗ 2. राम की तूलना कबीर से मत करो।
 - ✗ 3. यह मशिन सब कार्य करती है।
 - ✓ 4. औरत में बहुत शक्ति होती है।

Question ID : 264330189495
Option 1 ID : 264330741675
Option 2 ID : 264330741674
Option 3 ID : 264330741677
Option 4 ID : 264330741676
Status : Answered
Chosen Option : 4

Q.14 निम्नलिखित वाक्य में, उस वाक्यांश को पहचानिए जिसमें अशुद्धियाँ हैं। यदि कोई गलती नहीं है तो 'कोई त्रुटि नहीं है' का चुनाव कीजिए।
हर साल के विश्व पर्यावरण दिवस को कुछ न कुछ विषय के/ साथ मनाई जाती है, और यह विषय विशेष रूप से पर्यावरण पर/ किसी एक चिंता पर ध्यान आकर्षित करने के लिए होता है।

- Ans
- ✗ 1. कोई त्रुटि नहीं है
 - ✓ 2. साथ मनाई जाती है, और यह विषय विशेष रूप से पर्यावरण पर
 - ✗ 3. किसी एक चिंता पर ध्यान आकर्षित करने के लिए होता है
 - ✗ 4. हर साल के विश्व पर्यावरण दिवस को कुछ न कुछ विषय के

Question ID : 264330189916
Option 1 ID : 264330743281
Option 2 ID : 264330743279
Option 3 ID : 264330743280
Option 4 ID : 264330743278
Status : Answered
Chosen Option : 2

Q.15 निम्नलिखित वाक्य में रेखांकित भाग के लिए एक सार्थक शब्द ज्ञात कीजिए।

देवताओं का उपवन बहुत सुंदर होता है।

- Ans
- ✗ 1. अशोकवाटिका
 - ✗ 2. स्वर्ग
 - ✓ 3. नंदनकानन
 - ✗ 4. राधारणी वन

Question ID : 264330192818
Option 1 ID : 264330754624
Option 2 ID : 264330754623
Option 3 ID : 264330754622
Option 4 ID : 264330754625
Status : Answered
Chosen Option : 3

Comprehension:

नीचे दिए गए गद्य में कुछ शब्द छोड़ दिए गए हैं और प्रत्येक रिक्त स्थान के चार विकल्प दिए गए हैं। इन चारों में से कौन सा विकल्प रिक्त स्थान की पूर्ति करेगा-

डॉक्टर्स विदाउट बॉर्डर्स, जिसे मेडेसिन्स सैन्स फ्रंटियर्स (एमएसएफ) के नाम से भी जाना जाता है, फ्रांस का एक गैर-सरकारी (1)_____ है जो युद्ध क्षेत्रों और बीमारियों से (2)_____ देशों में मानवीय चिकित्सा देखभाल प्रदान करता है। यह संगठन (3)_____ बीमारियों जैसे मधुमेह, दवा-प्रतिरोधी संक्रमण, एचआईवी/एड्स, हेपेटाइटिस सी के उपचार में मदद करता है। एमएसएफ को कई महाद्वीपों पर उनके (4)_____ कार्यों के लिए 1999 में नोबेल शांति (5)_____ से सम्मानित किया गया था।

SubQuestion No : 16

Q.16 रिक्त1 के लिए सबसे उपयुक्त विकल्प का चयन कीजिए।

- Ans**
- 1. हार्डवेयर
 - 2. सांयकाल
 - 3. सॉफ्टवेयर
 - 4. संगठन

Question ID : 264330188978

Option 1 ID : 264330739703

Option 2 ID : 264330739704

Option 3 ID : 264330739702

Option 4 ID : 264330739705

Status : Answered

Chosen Option : 4

Comprehension:

नीचे दिए गए गद्य में कुछ शब्द छोड़ दिए गए हैं और प्रत्येक रिक्त स्थान के चार विकल्प दिए गए हैं। इन चारों में से कौन सा विकल्प रिक्त स्थान की पूर्ति करेगा-

डॉक्टर्स विदाउट बॉर्डर्स, जिसे मेडेसिन्स सैन्स फ्रंटियर्स (एमएसएफ) के नाम से भी जाना जाता है, फ्रांस का एक गैर-सरकारी (1)_____ है जो युद्ध क्षेत्रों और बीमारियों से (2)_____ देशों में मानवीय चिकित्सा देखभाल प्रदान करता है। यह संगठन (3)_____ बीमारियों जैसे मधुमेह, दवा-प्रतिरोधी संक्रमण, एचआईवी/एड्स, हेपेटाइटिस सी के उपचार में मदद करता है। एमएसएफ को कई महाद्वीपों पर उनके (4)_____ कार्यों के लिए 1999 में नोबेल शांति (5)_____ से सम्मानित किया गया था।

SubQuestion No : 17

Q.17 रिक्त2 के लिए सबसे उपयुक्त विकल्प का चयन कीजिए।

- Ans**
- 1. अतिक्रमण
 - 2. परिचय
 - 3. राजपथ
 - 4. प्रभावित

Question ID : 264330188979

Option 1 ID : 264330739708

Option 2 ID : 264330739707

Option 3 ID : 264330739709

Option 4 ID : 264330739706

Status : Answered

Chosen Option : 4

Comprehension:

नीचे दिए गए गद्य में कुछ शब्द छोड़ दिए गए हैं और प्रत्येक रिक्त स्थान के चार विकल्प दिए गए हैं। इन चारों में से कौन सा विकल्प रिक्त स्थान की पूर्ति करेगा-

डॉक्टर्स विदाउट बॉर्डर्स, जिसे मेडेसिन्स सैन्स फ्रंटियर्स (एमएसएफ) के नाम से भी जाना जाता है, फ्रांस का एक गैर-सरकारी (1)_____ है जो युद्ध क्षेत्रों और बीमारियों से (2)_____ देशों में मानवीय चिकित्सा देखभाल प्रदान करता है। यह संगठन (3)_____ बीमारियों जैसे मधुमेह, दवा-प्रतिरोधी संक्रमण, एचआईवी/एड्स, हेपेटाइटिस सी के उपचार में मदद करता है। एमएसएफ को कई महाद्वीपों पर उनके (4)_____ कार्यों के लिए 1999 में नोबेल शांति (5)_____ से सम्मानित किया गया था।

SubQuestion No : 18

Q.18 रिक्त3 के लिए सबसे उपयुक्त विकल्प का चयन कीजिए।

- Ans
- ✓ 1. विभिन्न
 - ✗ 2. विनाश
 - ✗ 3. अनुग्रह
 - ✗ 4. अत्यंत

Question ID : 264330188980

Option 1 ID : 264330739712

Option 2 ID : 264330739713

Option 3 ID : 264330739711

Option 4 ID : 264330739710

Status : Answered

Chosen Option : 1

Comprehension:

नीचे दिए गए गद्य में कुछ शब्द छोड़ दिए गए हैं और प्रत्येक रिक्त स्थान के चार विकल्प दिए गए हैं। इन चारों में से कौन सा विकल्प रिक्त स्थान की पूर्ति करेगा-

डॉक्टर्स विदाउट बॉर्डर्स, जिसे मेडेसिन्स सैन्स फ्रंटियर्स (एमएसएफ) के नाम से भी जाना जाता है, फ्रांस का एक गैर-सरकारी (1)_____ है जो युद्ध क्षेत्रों और बीमारियों से (2)_____ देशों में मानवीय चिकित्सा देखभाल प्रदान करता है। यह संगठन (3)_____ बीमारियों जैसे मधुमेह, दवा-प्रतिरोधी संक्रमण, एचआईवी/एड्स, हेपेटाइटिस सी के उपचार में मदद करता है। एमएसएफ को कई महाद्वीपों पर उनके (4)_____ कार्यों के लिए 1999 में नोबेल शांति (5)_____ से सम्मानित किया गया था।

SubQuestion No : 19

Q.19 रिक्त4 के लिए सबसे उपयुक्त विकल्प का चयन कीजिए।

- Ans
- ✗ 1. अनुभव
 - ✗ 2. बेकार
 - ✓ 3. मानवीय
 - ✗ 4. अतिशक्ति

Question ID : 264330188981

Option 1 ID : 264330739717

Option 2 ID : 264330739714

Option 3 ID : 264330739715

Option 4 ID : 264330739716

Status : Answered

Chosen Option : 3

Comprehension:

नीचे दिए गए गद्य में कुछ शब्द छोड़ दिए गए हैं और प्रत्येक रिक्त स्थान के चार विकल्प दिए गए हैं। इन चारों में से कौन सा विकल्प रिक्त स्थान की पूर्ति करेगा-

डॉक्टर्स विदाउट बॉर्डर्स, जिसे मेडेसिन्स सैन्स फ्रंटियर्स (एमएसएफ) के नाम से भी जाना जाता है, फ्रांस का एक गैर-सरकारी (1)_____ है जो युद्ध क्षेत्रों और बीमारियों से (2)_____ देशों में मानवीय चिकित्सा देखभाल प्रदान करता है। यह संगठन (3)_____ बीमारियों जैसे मधुमेह, दवा-प्रतिरोधी संक्रमण, एचआईवी/एड्स, हेपेटाइटिस सी के उपचार में मदद करता है। एमएसएफ को कई महाद्वीपों पर उनके (4)_____ कार्यों के लिए 1999 में नोबेल शांति (5)_____ से सम्मानित किया गया था।

SubQuestion No : 20

Q.20 रिक्त स्थानों के लिए सबसे उपयुक्त विकल्प का चयन कीजिए।

- Ans**
- 1. दंड
 - 2. भेटो
 - 3. गेम
 - 4. पुरस्कार

Question ID : **264330188982**

Option 1 ID : **264330739718**

Option 2 ID : **264330739721**

Option 3 ID : **264330739719**

Option 4 ID : **264330739720**

Status : **Answered**

Chosen Option : **4**

www.exammix.com

Constable GD in Central Armed Police Forces CAPFs SSF Rifleman GD in Assam Rifles Examination 2024

Roll Number	
Candidate Name	
Venue Name	
Exam Date	20/02/2024
Exam Time	11:30 AM - 12:30 PM
Subject	Constable GD Examination 2024

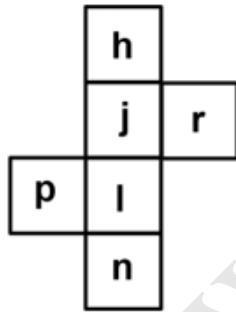
Section : Part-A-General Intelligence and Reasoning

Q.1 एक निश्चित कूट भाषा में 'TDG' को '1680' लिखा जाता है और 'BHI' को '432' लिखा जाता है। उसी कूट भाषा में 'KCE' को कैसे लिखा जाएगा?

- Ans
- 1. 465
 - 2. 425
 - 3. 495
 - 4. 520

Question ID : 264330187444
 Option 1 ID : 264330733704
 Option 2 ID : 264330733707
 Option 3 ID : 264330733706
 Option 4 ID : 264330733705
 Status : Answered
 Chosen Option : 3

Q.2 दिए गए पासे को मोड़ने पर, अक्षर 'n' के विपरीत कौन-सा अक्षर होगा?



- Ans
- 1. p
 - 2.
 - 3. r
 - 4. h

Question ID : 264330191605
 Option 1 ID : 264330749774
 Option 2 ID : 264330749776
 Option 3 ID : 264330749777
 Option 4 ID : 264330749775
 Status : Answered
 Chosen Option : 2

Q.3 A, B का पिता है। B, C का भाई है। C, D का पति है। D, E की बहन है। E, F की मां है। F, G की पत्नी है।

परिवार में कुल कितने पुरुष हैं?

- Ans
- 1. 1
 - 2. 4
 - 3. 2
 - 4.

Question ID : 264330190114

Option 1 ID : 264330744038

Option 2 ID : 264330744041

Option 3 ID : 264330744039

Option 4 ID : 264330744040

Status : Answered

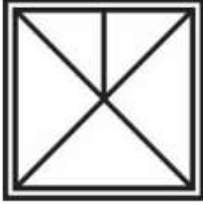
Chosen Option : 2

Q.4 नीचे दी गई विकल्प आकृतियों में से, उस आकृति का चयन कीजिए जिसमें प्रश्न आकृति छिपी/निहित है। (पूर्ण की अनुमति नहीं है)



Ans

1.



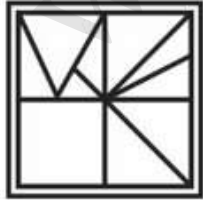
2.



3.



4.



Question ID : 264330190346

Option 1 ID : 264330744967

Option 2 ID : 264330744968

Option 3 ID : 264330744969

Option 4 ID : 264330744966

Status : Answered

Chosen Option : 4

Q.5 नीचे दिए गए समीकरण में कौन-से दो चिह्नों और दो संख्याओं को आपस में बदलने पर निम्नलिखित समीकरण सही होगा?

$$8 \div 4 \times 6 + 3 - 9 = 1$$

Ans

- ✗ 1. + और \times , 4 और 6
✗ 2. + और -, 6 और 9
✓ 3. \times और \div , 8 और 9
✗ 4. \times और +, 4 और 9

Question ID : 264330190160

Option 1 ID : 264330744224

Option 2 ID : 264330744223

Option 3 ID : 264330744225

Option 4 ID : 264330744222

Status : Not Attempted and Marked For Review

Chosen Option : --

Q.6 आठ व्यक्ति रीना, कविता, रमन, उमेश, रोहित, विकास, मोनिका और प्रिया, एक वर्गाकार मेज के चारों ओर इस प्रकार बैठे हैं कि दो व्यक्ति प्रत्येक भुजाओं पर बैठे हैं। सभी व्यक्ति मेज के केंद्र की ओर मुख करके बैठे हैं। रीना रोहित के ठीक दाईं ओर बैठी है और वे दोनों एक ही तरफ बैठे हैं। मोनिका उस व्यक्ति की ओर मुख करके बैठी है जो कविता के बाईं ओर से दूसरे स्थान पर बैठा/बैठी है। मोनिका, रीना के दाईं ओर से चौथे स्थान पर बैठी है। विकास और उमेश के बीच में दो व्यक्ति बैठे हैं (जब केवल एक तरफ से गिना जाता है) और उमेश, रोहित के आसन्न बैठा है। मोनिका और रमन के बीच में केवल एक व्यक्ति बैठा है (जब केवल एक तरफ से गिना जाता है)। रमन के बाईं ओर से दूसरे स्थान पर कौन बैठा/बैठी है?

Ans

- ✗ 1. रोहित
✗ 2. मोनिका
✗ 3. प्रिया
✓ 4. रीना

Question ID : 264330191517

Option 1 ID : 264330749422

Option 2 ID : 264330749423

Option 3 ID : 264330749425

Option 4 ID : 264330749424

Status : Not Attempted and Marked For Review

Chosen Option : --

Q.7 एक निश्चित कूट भाषा में, 'TOWARD' को '962147' लिखा जाता है और 'WANTED' को '213957' लिखा जाता है। उसी कूट भाषा में 'WARRANT' को कैसे लिखा जाएगा?

Ans

- ✗ 1. 2144129
✗ 2. 2133129
✗ 3. 2145129
✓ 4. 2144139

Question ID : 264330187445

Option 1 ID : 264330733709

Option 2 ID : 264330733710

Option 3 ID : 264330733711

Option 4 ID : 264330733708

Status : Answered

Chosen Option : 1

Q.8 निम्नलिखित विकल्पों में से उस विकल्प का चयन कीजिए जो पांचवें शब्द से ठीक उसी प्रकार संबंधित है जिस प्रकार चौथा शब्द तीसरे शब्द से संबंधित है और दूसरा शब्द पहले शब्द से संबंधित है।
चींटी : बांबी :: बत्तख : तालाब :: घोड़ा : ?

- Ans
- 1. मांद
 - 2. अस्तबल
 - 3. छत्ता
 - 4. कुत्ताघर

Question ID : 264330192312
Option 1 ID : 264330752603
Option 2 ID : 264330752602
Option 3 ID : 264330752605
Option 4 ID : 264330752604
Status : Answered
Chosen Option : 2

Q.9 नीचे एक श्रृंखला दी गई है जिसमें एक पद लुप्त है। दिए गए विकल्पों में से उस विकल्प का चयन कीजिए जो श्रृंखला को पूरा करेगा।

NRT, MQS, LPR, KOQ, ?

- Ans
- 1. JKL
 - 2. JNP
 - 3. KLR
 - 4. MNP

Question ID : 264330190187
Option 1 ID : 264330744331
Option 2 ID : 264330744330
Option 3 ID : 264330744332
Option 4 ID : 264330744333
Status : Answered
Chosen Option : 2

Q.10 निम्नलिखित में से अक्षरों का कौन-सा समूह क्रमबद्ध रूप से बाईं से दाईं ओर रखे जाने पर नीचे दी गई श्रृंखला को पूरा करेगा?
ghijkg_ijkl_hijkghij_

- Ans
- 1. kgih
 - 2. ijkg
 - 3. hhgk
 - 4. hghg

Question ID : 264330188020
Option 1 ID : 264330736011
Option 2 ID : 264330736009
Option 3 ID : 264330736008
Option 4 ID : 264330736010
Status : Answered
Chosen Option : 3

Q.11 निम्नलिखित विकल्पों में से उस विकल्प का चयन कीजिए जो पांचवें अक्षर-समूह से ठीक उसी प्रकार संबंधित है जिस प्रकार चौथा अक्षर-समूह तीसरे अक्षर-समूह से संबंधित है, और दूसरा अक्षर-समूह पहले अक्षर-समूह से संबंधित है।
TEA : ZBDFSU :: SIN : MOHJRT :: RIO : ?

- Ans**
- 1. SQJHPN
 - 2. BDSHFK
 - 3. NPHJQS
 - 4. SUDFZB

Question ID : 264330192211

Option 1 ID : 264330752200

Option 2 ID : 264330752201

Option 3 ID : 264330752199

Option 4 ID : 264330752198

Status : **Not Attempted and Marked For Review**

Chosen Option : --

Q.12 पांच सहकर्मी ज़ोई, ऐरोन, बेन, क्लोई और डैनियल एक वृत्ताकार मेज पर केंद्र की ओर मुख करके बैठे हैं। ज़ोई, ऐरोन के ठीक बाईं ओर बैठी है। क्लोई, ज़ोई के बगल में बैठी है। डैनियल, ऐरोन के ठीक दाईं ओर बैठा है। ज़ोई के ठीक बाईं ओर कौन बैठा/बैठी है?

- Ans**
- 1. क्लोई
 - 2. बेन
 - 3. ऐरोन
 - 4. डैनियल

Question ID : 264330192256

Option 1 ID : 264330752380

Option 2 ID : 264330752381

Option 3 ID : 264330752378


Option 4 ID : 264330752379

Status : **Answered**

Chosen Option : 1


www.exammix.com

Q.13 निम्नलिखित प्रश्न में, विकल्पों में दी गई उस आकृति का चयन कीजिए जिसे प्रश्न चिह्न (?) के स्थान पर रखा जा सकता है।

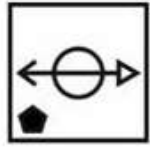


Ans

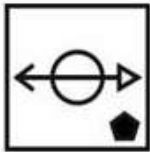
✗ 1.




✓ 2.



✗ 3.



✗ 4.



Question ID : 264330190462

Option 1 ID : 264330745433

Option 2 ID : 264330745431

Option 3 ID : 264330745432

Option 4 ID : 264330745430

Status : Answered

Chosen Option : 2

Q.14 निम्नलिखित विकल्पों में से दी गई श्रृंखला से लुप्त संख्या का चयन कीजिए।

2673, 891, 297, 99, ?, 11

Ans

✓ 1. 33

✗ 2. 43

✗ 3. 23

✗ 4. 10

Question ID : 264330190138

Option 1 ID : 264330744137

Option 2 ID : 264330744134

Option 3 ID : 264330744136

Option 4 ID : 264330744135

Status : Answered

Chosen Option : 1

Q.15 यदि $40A10B8C15 = 65$ और $15A30B9C20 = 70$, तो $7A9B3C8 = ?$

- Ans
- 1. 20
 - 2. 35
 - 3. 29
 - 4. 31

Question ID : 264330187413
Option 1 ID : 264330733580
Option 2 ID : 264330733583
Option 3 ID : 264330733581
Option 4 ID : 264330733582
Status : Answered
Chosen Option : 3

Q.16 निम्नलिखित प्रश्न में कुछ कथन और उन कथनों के आधार पर कुछ निष्कर्ष दिए गए हैं। आपको दिए गए कथनों को सत्य मानना है, चाहे वे सामान्यतः ज्ञात तथ्यों से भिन्न प्रतीत होते हों। सभी निष्कर्षों को ध्यानपूर्वक पढ़िए और निश्चय कीजिए कि दिए गए निष्कर्षों में से कौन-सा निष्कर्ष कथनों का तार्किक रूप से अनुसरण करता है।

कथन:

- I. कुछ H, R हैं।
- II. कोई P, H नहीं है।

निष्कर्ष:

- I. कुछ P, H हैं।
- II. कुछ R, P नहीं हैं।

- Ans
- 1. केवल निष्कर्ष I अनुसरण करता है
 - 2. कोई भी निष्कर्ष अनुसरण नहीं करता है
 - 3. केवल निष्कर्ष II अनुसरण करता है
 - 4. निष्कर्ष I और II दोनों अनुसरण करते हैं

Question ID : 264330190157
Option 1 ID : 264330744210
Option 2 ID : 264330744213
Option 3 ID : 264330744211
Option 4 ID : 264330744212
Status : Answered
Chosen Option : 2

Q.17 दिए गए विकल्पों में से निम्नलिखित श्रृंखला से लुप्त संख्या का चयन कीजिए।

0, 1, 5, 14, 30, ?

- Ans
- 1. 55
 - 2. 66
 - 3. 57
 - 4. 69

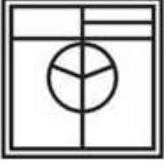
Question ID : 264330187071
Option 1 ID : 264330732213
Option 2 ID : 264330732212
Option 3 ID : 264330732214
Option 4 ID : 264330732215
Status : Answered
Chosen Option : 1

Q.18 नीचे दी गई विकल्प आकृतियों में से, उस आकृति का चयन कीजिए जिसमें प्रश्न आकृति छिपी/निहित है। (पूर्णन की अनुमति नहीं है)



Ans

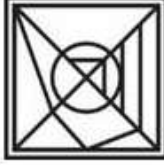
✗ 1.



✗ 2.



✓ 3.



✗ 4.



Question ID : 264330190565

Option 1 ID : 264330745844

Option 2 ID : 264330745845

Option 3 ID : 264330745843

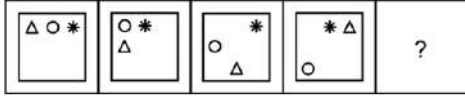
Option 4 ID : 264330745842

Status : Answered

Chosen Option : 3

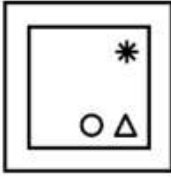
www.exammix.com

Q.19 दिए गए विकल्पों में से उस आकृति का चयन कीजिए जिसे दी गई आकृति श्रृंखला में प्रश्न चिह्न (?) के स्थान पर रखा जा सकता है।

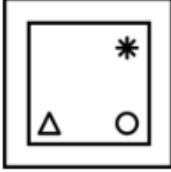


Ans

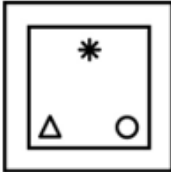
✗ 1.



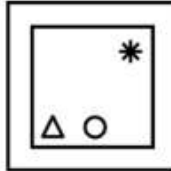
✗ 2.



✗ 3.



✓ 4.



Question ID : 264330192084

Option 1 ID : 264330751690

Option 2 ID : 264330751691

Option 3 ID : 264330751693

Option 4 ID : 264330751692

Status : Not Attempted and
Marked For Review

Chosen Option : --

www.exammix.com

Q.20 दिए गए शब्दों को उसी क्रम में व्यवस्थित कीजिए, जिस क्रम में वे अंग्रेजी शब्दकोश में आते हैं।

1. Let
2. Lethargy
3. Letter
4. Lethal
5. Lest

Ans ✓ 1. 51423
✗ 2. 15324
✗ 3. 51243
✗ 4. 15234

Question ID : 264330190529
Option 1 ID : 264330745700
Option 2 ID : 264330745701
Option 3 ID : 264330745699
Option 4 ID : 264330745698
Status : Answered
Chosen Option : 1

Section : Part-B-General Knowledge and General awareness

Q.1 स्वतंत्रता के बाद, भारत ने प्रथम प्रधानमंत्री जवाहरलाल नेहरू के _____ प्रभाव में, 1951 में अपनी पहली पंचवर्षीय योजना (FYP) लॉन्च की।

Ans ✗ 1. अधिनायकवादी पूंजीवाद
✗ 2. पूंजीवादी
✗ 3. अराजकतावाद
✓ 4. समाजवादी

Question ID : 264330190605
Option 1 ID : 264330746004
Option 2 ID : 264330746003
Option 3 ID : 264330746005
Option 4 ID : 264330746002
Status : Answered
Chosen Option : 4

Q.2 भारत में दूसरे चीफ ऑफ डिफेंस स्टाफ (CDS) के रूप में निम्नलिखित में से किसे नियुक्त किया गया है?

- Ans
- ✓ 1. लेफ्टिनेंट जनरल अनिल चौहान
 - ✗ 2. जनरल मनोज मुकुंद नरवणे
 - ✗ 3. एडमिरल आर. हरि कुमार
 - ✗ 4. जनरल मनोज पांडे

Question ID : 264330190849
Option 1 ID : 264330746752
Option 2 ID : 264330746751
Option 3 ID : 264330746750
Option 4 ID : 264330746753
Status : Answered
Chosen Option : 2

Q.3 सुप्रीम कोर्ट के किस पूर्व न्यायाधीश को आंध्रप्रदेश के राज्यपाल के रूप में नियुक्त किया गया है?

- Ans
- ✗ 1. भूषण रामकृष्ण गवई (Bhushan Ramkrishna Gavai)
 - ✗ 2. संजीव खन्ना (Sanjiv Khanna)
 - ✗ 3. संजय किशन कौल (Sanjay Kishan Kaul)
 - ✓ 4. एस अब्दुल नज़ीर (S Abdul Nazeer)

Question ID : 264330188873
Option 1 ID : 264330739297
Option 2 ID : 264330739296
Option 3 ID : 264330739294
Option 4 ID : 264330739295
Status : Not Attempted and Marked For Review
Chosen Option : --

Q.4 संगीत नाटक अकादमी संगीत, नृत्य और नाटक के लिए भारत की राष्ट्रीय अकादमी है। इसे 1952 में (तत्कालीन) _____, भारत सरकार के एक प्रस्ताव द्वारा बनाया गया था, जिसके पहले अध्यक्ष डॉ. पी.वी. राजमन्नार थे।

- Ans
- ✗ 1. कला मंत्रालय
 - ✓ 2. शिक्षा मंत्रालय
 - ✗ 3. नृत्य मंत्रालय
 - ✗ 4. परिवहन मंत्रालय

Question ID : 264330191859
Option 1 ID : 264330750793
Option 2 ID : 264330750791
Option 3 ID : 264330750792
Option 4 ID : 264330750790
Status : Answered
Chosen Option : 1

Q.5 निम्नलिखित में से कौन-सा भारतीय रिजर्व बैंक का/के कार्य है/हैं?

- I. मुद्रा जारी करना
- II. आखिरी कर्जदाता

- Ans
1. केवल I.
 2. केवल II.
 3. I और II दोनों
 4. न तो I और न ही II.

Question ID : 264330190624
Option 1 ID : 264330746078
Option 2 ID : 264330746079
Option 3 ID : 264330746080
Option 4 ID : 264330746081
Status : Answered
Chosen Option : 1

Q.6 पन्नलाल घोष निम्नलिखित में से किस वाद्ययंत्र के लिए प्रसिद्ध हैं?

- Ans
1. शहनाई
 2. तबला
 3. बांसुरी
 4. घटम

Question ID : 264330188642
Option 1 ID : 264330738373
Option 2 ID : 264330738370
Option 3 ID : 264330738371
Option 4 ID : 264330738372
Status : Not Answered
Chosen Option : --

Q.7 संविधान सभा ने _____ को भारत के संविधान को अपनाया।

- Ans
1. 26 जनवरी 1950
 2. 26 नवंबर 1949
 3. 15 अगस्त 1947
 4. 24 जनवरी 1950

Question ID : 264330188864
Option 1 ID : 264330739259
Option 2 ID : 264330739261
Option 3 ID : 264330739260
Option 4 ID : 264330739258
Status : Answered
Chosen Option : 4

Q.8 The loudness of sound is measured in which unit?

- Ans
- 1. Hertz (Hz)
 - 2. Watt/sq. Metre (w/m^2)
 - 3. Sound intensity
 - 4. Decibel (dB)

Question ID : 264330188857
Option 1 ID : 264330739230
Option 2 ID : 264330739233
Option 3 ID : 264330739232
Option 4 ID : 264330739231
Status : Answered
Chosen Option : 4

Q.9 प्रसिद्ध पुस्तक अर्थशास्त्र हमें बताती है कि मौर्य काल के दौरान उत्तर-पश्चिम कंबलों, और _____ अपने सोने और कीमती पत्थरों के लिए महत्वपूर्ण था।

- Ans
- 1. दक्षिण भारत
 - 2. पश्चिम भारत
 - 3. पूर्वी भारत
 - 4. उत्तर भारत

Question ID : 264330191436
Option 1 ID : 264330749098
Option 2 ID : 264330749101
Option 3 ID : 264330749099
Option 4 ID : 264330749100
Status : Answered
Chosen Option : 1

Q.10 भारत के निम्नलिखित में से किस राज्य में बोनालु पर्व मनाया जाता है?

- Ans
- 1. असम
 - 2. तेलंगाना
 - 3. पश्चिम बंगाल
 - 4. तमिलनाडु

Question ID : 264330191232
Option 1 ID : 264330748282
Option 2 ID : 264330748284
Option 3 ID : 264330748285
Option 4 ID : 264330748283
Status : Answered
Chosen Option : 2

Q.11 जनगणना-2011 के अनुसार, निम्नलिखित में से किस राज्य में महिला साक्षरता दर सबसे अधिक है?

- Ans
- 1. मिजोरम
 - 2. केरल
 - 3. त्रिपुरा
 - 4. पश्चिम बंगाल

Question ID : 264330191234

Option 1 ID : 264330748290

Option 2 ID : 264330748293

Option 3 ID : 264330748291

Option 4 ID : 264330748292

Status : Not Attempted and
Marked For Review

Chosen Option : --

Q.12 अमृतसर की संधि पर किस वर्ष हस्ताक्षर किए गए थे?

- Ans
- 1. 1809
 - 2. 1808
 - 3. 1811
 - 4. 1810

Question ID : 264330191937

Option 1 ID : 264330751103

Option 2 ID : 264330751102

Option 3 ID : 264330751105

Option 4 ID : 264330751104

Status : Not Answered

Chosen Option : --

Q.13 हर वर्ष अगस्त के दूसरे शनिवार को, अलाप्पुझा (Alappuzha) के पास आयोजित की जाने वाली नेहरू ट्रॉफी प्रतियोगिता, _____ श्रेणी में सबसे अधिक प्रतिस्पर्धी और लोकप्रिय है।

- Ans
- 1. घुड़दौड़
 - 2. नौका दौड़
 - 3. बास्केटबॉल
 - 4. बैडमिंटन

Question ID : 264330191463

Option 1 ID : 264330749206

Option 2 ID : 264330749208

Option 3 ID : 264330749209

Option 4 ID : 264330749207

Status : Not Answered

Chosen Option : --

Q.14 निम्नलिखित में से किस शब्द का संबंध क्रिकेट से नहीं है?

I. ईगल (Eagle)

II. बास्केट (Basket)

Ans

✗ 1. केवल II

✓ 2. I और II दोनों

✗ 3. न तो I और न ही II

✗ 4. केवल I

Question ID : 264330191082

Option 1 ID : 264330747683

Option 2 ID : 264330747684

Option 3 ID : 264330747685

Option 4 ID : 264330747682

Status : Answered

Chosen Option : 2

Q.15 जून 2023 में, _____ ने महिला उद्यमियों को सशक्त बनाने की दिशा में DAY-NULM के साथ साझेदारी की।

Ans

✗ 1. UNGA

✓ 2. UNDP

✗ 3. WHO

✗ 4. UNESCO

Question ID : 264330191007

Option 1 ID : 264330747384

Option 2 ID : 264330747383

Option 3 ID : 264330747385

Option 4 ID : 264330747382

Status : Not Answered

Chosen Option : --

Q.16 भारत में, अनुच्छेद 333 के उपबंधों के अधीन रहते हुए, प्रत्येक राज्य की विधान सभा _____ से अनधिक सदस्यों से मिलकर बनेगी।

Ans

✗ 1. चार सौ

✓ 2. पांच सौ

✗ 3. छः सौ

✗ 4. तीन सौ

Question ID : 264330188845

Option 1 ID : 264330739184

Option 2 ID : 264330739182

Option 3 ID : 264330739185

Option 4 ID : 264330739183

Status : Not Answered

Chosen Option : --

Q.17 भारतीय खिलाड़ी लिंडर पेस (Leander Paes) कौन-सा खेल खेलते हैं?

- Ans
- 1. बैडमिंटन
 - 2. क्रिकेट
 - 3. लॉन टेनिस
 - 4. टेबल टेनिस

Question ID : 264330188888
Option 1 ID : 264330739357
Option 2 ID : 264330739356
Option 3 ID : 264330739355
Option 4 ID : 264330739354
Status : Answered
Chosen Option : 3

Q.18 भारत सरकार द्वारा आयोजित सामाजिक-आर्थिक और जाति जनगणना (SECC) 2011 में अभावों को मापने के लिए निम्नलिखित में से कौन-सा एक मानदंड नहीं है?

- Ans
- 1. ऐसे घर जिनमें केवल एक कमरा है और कोई ठोस दीवार और छत नहीं है
 - 2. दिव्यांग सदस्यों वाले परिवार
 - 3. ऐसे परिवार जिनमें कोई सक्षम सदस्य नहीं है
 - 4. ऐसे परिवार जिनमें 15-59 आयु वर्ग की कोई वयस्क महिला नहीं है

Question ID : 264330190774
Option 1 ID : 264330746450
Option 2 ID : 264330746452
Option 3 ID : 264330746453
Option 4 ID : 264330746451
Status : Not Attempted and Marked For Review
Chosen Option : --

Q.19 सरकार को सलाह देने के लिए नीति आयोग नामक एक _____ की स्थापना की गई थी।

- Ans
- 1. सामाजिक विचारक समूह
 - 2. धार्मिक विचारक समूह
 - 3. नीति विचारक समूह
 - 4. नैतिक विचारक समूह

Question ID : 264330191827
Option 1 ID : 264330750662
Option 2 ID : 264330750664
Option 3 ID : 264330750663
Option 4 ID : 264330750665
Status : Answered
Chosen Option : 3

Q.20 निम्नलिखित में से उत्तरप्रदेश के इंडो-फ़ारसी नृत्य शैली का नाम बताइए।

- Ans
- 1. गरबा
 - 2. छउ
 - 3. कथकली
 - 4. कथक

Question ID : 264330190970
Option 1 ID : 264330747236
Option 2 ID : 264330747237
Option 3 ID : 264330747234
Option 4 ID : 264330747235
Status : Answered
Chosen Option : 4

Section : Part-C-Elementary Mathematics

Q.1 एक व्यापारी अपने सामान को क्रय मूल्य से 50% अधिक पर अंकित करता है और 20% की छूट देता है। छूट देने के बाद व्यापारी को कितने प्रतिशत का लाभ होता है?

- Ans
- 1. 20%
 - 2. 18%
 - 3. 12%
 - 4. 10%

Question ID : 264330188502
Option 1 ID : 264330737812
Option 2 ID : 264330737813
Option 3 ID : 264330737810
Option 4 ID : 264330737811
Status : Answered
Chosen Option : 1

Q.2 पांच संख्याओं का औसत 32 है। यदि एक संख्या हटा दी जाए, तो औसत 28 हो जाता है। हटाई गई संख्या कितनी है?

- Ans
- 1. 48
 - 2. 49
 - 3. 47
 - 4. 52

Question ID : 264330187284
Option 1 ID : 264330733064
Option 2 ID : 264330733066
Option 3 ID : 264330733067
Option 4 ID : 264330733065
Status : Answered
Chosen Option : 1

Q.3 32 से पहले की सभी अभाज्य संख्याओं का औसत कितना है?

- Ans
- ✓ 1. 14.54
 - ✗ 2. 13.26
 - ✗ 3. 17.82
 - ✗ 4. 15.60

Question ID : 264330188003
Option 1 ID : 264330735941
Option 2 ID : 264330735942
Option 3 ID : 264330735940
Option 4 ID : 264330735943
Status : Answered
Chosen Option : 1

Q.4 3 नोटबुक और 6 पेन का मूल्य 3000 रुपए है। उतने ही पैसों से एक व्यक्ति एक नोटबुक और 12 पेन खरीद सकता है। यदि राजू 15 पेन खरीदना चाहता है, तो उसे कितना भुगतान करना होगा?

- Ans
- ✗ 1. 3500 रुपए
 - ✗ 2. 2500 रुपए
 - ✓ 3. 3000 रुपए
 - ✗ 4. 2000 रुपए

Question ID : 264330192389
Option 1 ID : 264330752913
Option 2 ID : 264330752911
Option 3 ID : 264330752912
Option 4 ID : 264330752910
Status : Answered
Chosen Option : 3

Q.5 विद्यार्थियों की वह अधिकतम संख्या ज्ञात कीजिए जिनके बीच 1003 चॉकलेट और 2703 कैडी इस प्रकार बांटी जा सकती है कि प्रत्येक विद्यार्थी को प्रत्येक (चॉकलेट और कैडी) की समान संख्या मिले।

- Ans
- ✓ 1. 17
 - ✗ 2. 33
 - ✗ 3. 19
 - ✗ 4. 29

Question ID : 264330188417
Option 1 ID : 264330737536
Option 2 ID : 264330737539
Option 3 ID : 264330737537
Option 4 ID : 264330737538
Status : Answered
Chosen Option : 1

Q.6 384 मीटर लंबी एक रेलगाड़ी एक बिजली के खंभे को 12 सेकंड में पार करती है और विपरीत दिशा में यात्रा कर रही समान लंबाई की दूसरी रेलगाड़ी को 12 सेकंड में पार करती है। दूसरी रेलगाड़ी की चाल कितनी है?

- Ans**
- 1. 25 m/s
 - 2. 39 m/s
 - 3. 45 m/s
 - 4. 32 m/s

Question ID : 264330187635
Option 1 ID : 264330734470
Option 2 ID : 264330734469
Option 3 ID : 264330734471
Option 4 ID : 264330734468
Status : Answered
Chosen Option : 4

Q.7 यदि 6 पेन का क्रय मूल्य, 5 पेन के विक्रय मूल्य के समान है, तो लाभ/हानि प्रतिशत ज्ञात कीजिए।

- Ans**
- 1. 10% हानि
 - 2. 20% हानि
 - 3. 20% लाभ
 - 4. 10% लाभ

Question ID : 264330190736
Option 1 ID : 264330746376
Option 2 ID : 264330746374
Option 3 ID : 264330746377
Option 4 ID : 264330746375
Status : Answered
Chosen Option : 3

Q.8 70 cm आधार की त्रिज्या और 14 cm ऊंचाई वाले बेलन का वक्र पृष्ठीय क्षेत्रफल कितना है?

- Ans**
- 1. 6160 cm²
 - 2. 5930 cm²
 - 3. 6420 cm²
 - 4. 6350 cm²

Question ID : 264330187318
Option 1 ID : 264330733201
Option 2 ID : 264330733200
Option 3 ID : 264330733202
Option 4 ID : 264330733203
Status : Answered
Chosen Option : 1

Q.9 एक मेज का विक्रय मूल्य 6875 रुपए है। यदि लाभ प्रतिशत 25 प्रतिशत है, तो मेज का क्रय मूल्य कितना है?

- Ans
- 1. 6400 रुपए
 - 2. 5200 रुपए
 - 3. 5000 रुपए
 - 4. 5500 रुपए

Question ID : 264330188600
Option 1 ID : 264330738205
Option 2 ID : 264330738204
Option 3 ID : 264330738202
Option 4 ID : 264330738203
Status : Answered
Chosen Option : 4

Q.10 किसी धनराशि पर 5 वर्षों के लिए प्राप्त साधारण ब्याज उस धनराशि का $\frac{2}{5}$ है। वार्षिक ब्याज दर क्या है?

- Ans
- 1. 9 प्रतिशत
 - 2. 12 प्रतिशत
 - 3. 10 प्रतिशत
 - 4. 8 प्रतिशत

Question ID : 264330187253
Option 1 ID : 264330732943
Option 2 ID : 264330732941
Option 3 ID : 264330732940
Option 4 ID : 264330732942
Status : Answered
Chosen Option : 4

Q.11 $(0.1)^2 + (0.01)^2$ का मान कितना है?

- Ans
- 1. 0.0101
 - 2. 0.005
 - 3. 1.101
 - 4. 0.111

Question ID : 264330187521
Option 1 ID : 264330734013
Option 2 ID : 264330734014
Option 3 ID : 264330734015
Option 4 ID : 264330734012
Status : Answered
Chosen Option : 1

Q.12 यदि X का 45 प्रतिशत, Y के 15 प्रतिशत के बराबर है, तो X : Y का मान कितना है?

- Ans
- 1. 3 : 2
 - 2. 1 : 3
 - 3. 3 : 1
 - 4. 1 : 4

Question ID : 264330188011
Option 1 ID : 264330735973
Option 2 ID : 264330735974
Option 3 ID : 264330735972
Option 4 ID : 264330735975
Status : Answered
Chosen Option : 2

Q.13 यदि 72 जिल्दसाज़ 720 पुस्तकों की जिल्दबंदी 22 दिनों में कर सकते हैं, तो 12 दिनों में 660 पुस्तकों की जिल्दबंदी करने के लिए कितने जिल्दसाज़ों की आवश्यकता होगी?

- Ans
- 1. 123
 - 2. 120
 - 3. 121
 - 4. 124

Question ID : 264330188510
Option 1 ID : 264330737844
Option 2 ID : 264330737845
Option 3 ID : 264330737843
Option 4 ID : 264330737842
Status : Answered
Chosen Option : 2

Q.14 एक वस्तु का अंकित मूल्य उसके क्रय मूल्य से 60 प्रतिशत अधिक है। यदि उस वस्तु पर 20 प्रतिशत की छूट दी जाती है, तो लाभ प्रतिशत कितना होगा?

- Ans
- 1. 34 प्रतिशत
 - 2. 28 प्रतिशत
 - 3. 30 प्रतिशत
 - 4. 33 प्रतिशत

Question ID : 264330187570
Option 1 ID : 264330734211
Option 2 ID : 264330734209
Option 3 ID : 264330734208
Option 4 ID : 264330734210
Status : Answered
Chosen Option : 2

Q.15 किसी संख्या के 20 प्रतिशत का 25 प्रतिशत 250 के बराबर है। उस संख्या का 35 प्रतिशत कितना है?

- Ans
- 1. 1650
 - 2. 1750
 - 3. 1570
 - 4. 1560

Question ID : 264330187245
Option 1 ID : 264330732908
Option 2 ID : 264330732910
Option 3 ID : 264330732911
Option 4 ID : 264330732909
Status : Answered
Chosen Option : 2

Q.16 9000 रुपए 80 प्रतिशत की वार्षिक दर से चक्रवृद्धि ब्याज (अर्धवार्षिक रूप से संयोजित) पर उधार दिए जाते हैं। 12 महीने का चक्रवृद्धि ब्याज कितना होगा?

- Ans
- 1. 8640 रुपए
 - 2. 9000 रुपए
 - 3. 8700 रुपए
 - 4. 8760 रुपए

Question ID : 264330187974
Option 1 ID : 264330735825
Option 2 ID : 264330735826
Option 3 ID : 264330735827
Option 4 ID : 264330735824
Status : Answered
Chosen Option : 4

Q.17 P, Q और R के बीच 8400 रुपए को क्रमशः $\frac{2}{3} : 3 : \frac{1}{3}$ के अनुपात में बांटा जाता है। R का हिस्सा कितना है?

- Ans
- 1. 18000 रुपए
 - 2. 900 रुपए
 - 3. 700 रुपए
 - 4. 1400 रुपए

Question ID : 264330188585
Option 1 ID : 264330738144
Option 2 ID : 264330738145
Option 3 ID : 264330738142
Option 4 ID : 264330738143
Status : Answered
Chosen Option : 3

Q.18 एक गोले की त्रिज्या में 50 प्रतिशत की वृद्धि की जाती है। गोले के आयतन में कितने प्रतिशत की वृद्धि होगी?

- Ans
- 1. 235.5 प्रतिशत
 - 2. 237.5 प्रतिशत
 - 3. 150 प्रतिशत
 - 4. 225.5 प्रतिशत

Question ID : 264330187526

Option 1 ID : 264330734034

Option 2 ID : 264330734033

Option 3 ID : 264330734032

Option 4 ID : 264330734035

Status : **Not Attempted and Marked For Review**

Chosen Option : --

Q.19 दो संख्याओं का गुणनफल 720 और उनका महत्तम समापवर्तक 4 है। इन संख्याओं का लघुत्तम समापवर्तक कितना है?

- Ans
- 1. 240
 - 2. 120
 - 3. 180
 - 4. 480

Question ID : 264330187541

Option 1 ID : 264330734095

Option 2 ID : 264330734094

Option 3 ID : 264330734093

Option 4 ID : 264330734092

Status : **Answered**

Chosen Option : 3

Q.20 स्वप्निल 16 दिनों में एक सोफा बना सकता है। रेवती के साथ मिलकर काम करते हुए वह काम को 128/17 दिनों में पूरा कर सकता है। यदि रेवती अकेले काम करती है, तो काम पूरा करने में रेवती को कितने दिन लगेंगे?

- Ans
- 1. 128/16 दिन
 - 2. 128/9 दिन
 - 3. 128/17 दिन
 - 4. 6 दिन

Question ID : 264330192485

Option 1 ID : 264330753296

Option 2 ID : 264330753294

Option 3 ID : 264330753295

Option 4 ID : 264330753297

Status : **Not Answered**

Chosen Option : --

Section : Part-D-English

Q.1 Choose the word that is opposite in meaning to the given word.

Aqueous

- Ans
- 1. Wet
 - 2. Saturated
 - 3. Arid
 - 4. Hydrated

Question ID : 264330186269
Option 1 ID : 264330729317
Option 2 ID : 264330729319
Option 3 ID : 264330729318
Option 4 ID : 264330729316
Status : Not Answered
Chosen Option : --

Q.2 Improve the underlined part of the sentence. Choose 'No improvement' as an answer if the sentence is grammatically correct.

I was needing to buy a new pair of gloves.

- Ans
- 1. No improvement
 - 2. needed to bought
 - 3. need to buy
 - 4. needs to buy

Question ID : 264330186720
Option 1 ID : 264330731039
Option 2 ID : 264330731038
Option 3 ID : 264330731037
Option 4 ID : 264330731036
Status : Not Answered
Chosen Option : --

Q.3 Four sentences are given, out of which three have all correct spellings. Choose the sentence with the incorrect spelt word/ words.

- Ans
- 1. Rosemary was from the middle of the middle class, catapulted by her mother onto the uncharted heights of Hollywood.
 - 2. This reproach of my dependance had become a vague sing-song in my ear.
 - 3. He walked on choking and would have marched directly up into the other party, but Abe stopped him.
 - 4. They had been two days in Paris but actually they were still under the beach umbrella.

Question ID : 264330186987
Option 1 ID : 264330732055
Option 2 ID : 264330732053
Option 3 ID : 264330732052
Option 4 ID : 264330732054
Status : Not Answered
Chosen Option : --

Q.4 Select the sentence with no spelling errors.

Ans 1.

There was acute disharmony in the room, where a little time before there had been at least an outward show of harmonie.

2.

There was acute disarmony in the room, where a little time before there had been at least an outward show of harmony.

3.

There was acute disharmony in the room, where a little time before there had been at least an outward show of harmony.

4.

There was acute disharmony in the room, where a litle time before there had been at lest an outward show of harmony.

Question ID : 264330186126

Option 1 ID : 264330728775

Option 2 ID : 264330728772

Option 3 ID : 264330728773

Option 4 ID : 264330728774

Status : Not Answered

Chosen Option : --

Q.5 Find the part of the given sentence that has an error in it. If there is no error, choose 'No error'.

Do your better and avoid what others are saying about you.

Ans 1. saying about you.

2. avoid what others are

3. No error

4. Do your better and

Question ID : 264330186129

Option 1 ID : 264330728786

Option 2 ID : 264330728785

Option 3 ID : 264330728787

Option 4 ID : 264330728784

Status : Not Answered

Chosen Option : --

Q.6 Improve the underlined part of the sentence. Choose 'No improvement' as an answer if the sentence is grammatically correct.

If you don't water your houseplants, they will dies.

Ans 1. shall dies

2. No improvement

3. will die

4. will death

Question ID : 264330185922

Option 1 ID : 264330727997

Option 2 ID : 264330727999

Option 3 ID : 264330727996

Option 4 ID : 264330727998

Status : Not Answered

Chosen Option : --

Q.7 Select the most appropriate synonym of the given word.

Absolute

- Ans
- 1. Final
 - 2. Bounded
 - 3. Divine
 - 4. Complete

Question ID : 264330186919
Option 1 ID : 264330731793
Option 2 ID : 264330731795
Option 3 ID : 264330731792
Option 4 ID : 264330731794
Status : Not Answered
Chosen Option : --

Q.8 Find the part of the given sentence that has an error in it. If there is no error, choose 'No error'.
Some analysts have began to advocate for strong government involvement in the development and regulation of cyber security standards for satellites.

- Ans
- 1. Some analysts have began to advocate for strong government involvement in the development and regulation
 - 2.
 - 3. No error
 - 4. of cyber security standards for satellites.

Question ID : 264330186740
Option 1 ID : 264330731112
Option 2 ID : 264330731113
Option 3 ID : 264330731115
Option 4 ID : 264330731114
Status : Not Answered
Chosen Option : --

Q.9 Select the word segment that substitutes (replaces) the bracketed word segment correctly and completes the sentence meaningfully. Select the option 'no correction required' if the sentence is correct as given.

Presently Rosemary (seems to have know) those people herself in some deplorable past, and then got on to them and rejected them.

- Ans
- 1. seemed to have known
 - 2. seem to know
 - 3. seemed to knew
 - 4. No correction required

Question ID : 264330186931
Option 1 ID : 264330731842
Option 2 ID : 264330731840
Option 3 ID : 264330731841
Option 4 ID : 264330731843
Status : Not Answered
Chosen Option : --

Q.10 In the following question, out of the given four alternatives, select the alternative which best expresses the meaning of the Idiom/Phrase.
Go with a bang

- Ans**
- 1. To go crazy
 - 2. Decide according to the situation
 - 3. Party like there's no tomorrow
 - 4. Very exciting and successful

Question ID : 264330186039
Option 1 ID : 264330728441
Option 2 ID : 264330728443
Option 3 ID : 264330728442
Option 4 ID : 264330728440
Status : Not Answered
Chosen Option : --

Q.11 Select the most appropriate option for the given blank.

I have _____ my mind after meeting her.

- Ans**
- 1. Masked
 - 2. Granted
 - 3. Replaced
 - 4. Changed

Question ID : 264330185812
Option 1 ID : 264330727576
Option 2 ID : 264330727577
Option 3 ID : 264330727578
Option 4 ID : 264330727579
Status : Not Answered
Chosen Option : --

Q.12 Find the part of the given sentence that has an error in it. If there is no error, choose 'No error'.
The toad lay in her lap breathing heavy.

- Ans**
- 1. breathing heavy.
 - 2. The toad lay
 - 3. No error
 - 4. in her lap

Question ID : 264330186107
Option 1 ID : 264330728702
Option 2 ID : 264330728700
Option 3 ID : 264330728703
Option 4 ID : 264330728701
Status : Not Answered
Chosen Option : --

Q.13 Select the most appropriate word to fill in the blank.

With sales down, the company closed one factory down and reduced _____ workforce at another.

- Ans**
- 1. a
 - 2. an
 - 3. No article
 - 4. the

Question ID : 264330185902
Option 1 ID : 264330727920
Option 2 ID : 264330727921
Option 3 ID : 264330727923
Option 4 ID : 264330727922
Status : Not Answered
Chosen Option : --

Q.14 Choose the most appropriate antonym of the underlined word.

Visitors enter the train and snake through its corridors and opulent interiors.

- Ans**
- 1. lavish
 - 2. plush
 - 3. economical
 - 4. scary

Question ID : 264330186228
Option 1 ID : 264330729160
Option 2 ID : 264330729161
Option 3 ID : 264330729163
Option 4 ID : 264330729162
Status : Not Answered
Chosen Option : --

Q.15 Choose the idiom/phrase that can substitute the highlighted group of words meaningfully.

I have never seen someone so easily scared. She is **so nervous**.

- Ans**
- 1. Spilled the beans
 - 2. Lost cause
 - 3. Afraid of one's own shadow
 - 4. In seventh heaven

Question ID : 264330185998
Option 1 ID : 264330728284
Option 2 ID : 264330728286
Option 3 ID : 264330728285
Option 4 ID : 264330728287
Status : Not Answered
Chosen Option : --

Comprehension:

Read the passage carefully and select the correct answer for the given blanks out of the four alternatives.

Lions have large jaws and are capable of (1) _____ up to 11 inches wide. They have long canine teeth which are used to (2) _____ and kill their prey. Lions do not chew their food. Small incisors at the front of their mouth are used to grip the meat (3) _____ their sharp carnassial teeth in the back of their mouth tear it into (4) _____ they can swallow. In the wild male lions live to around 12 years of age, with females living to around 15 years of age, whereas in (5) _____ they can live up to 25 years of age.

SubQuestion No : 16

Q.16 Select the most appropriate option for blank (1)

- Ans
- 1. jumping
 - 2. standing
 - 3. signing
 - 4. opening

Question ID : 264330185905

Option 1 ID : 264330727929

Option 2 ID : 264330727928

Option 3 ID : 264330727930

Option 4 ID : 264330727931

Status : Not Answered

Chosen Option : --

Comprehension:

Read the passage carefully and select the correct answer for the given blanks out of the four alternatives.

Lions have large jaws and are capable of (1) _____ up to 11 inches wide. They have long canine teeth which are used to (2) _____ and kill their prey. Lions do not chew their food. Small incisors at the front of their mouth are used to grip the meat (3) _____ their sharp carnassial teeth in the back of their mouth tear it into (4) _____ they can swallow. In the wild male lions live to around 12 years of age, with females living to around 15 years of age, whereas in (5) _____ they can live up to 25 years of age.

SubQuestion No : 17

Q.17 Select the most appropriate option for blank (2)

- Ans
- 1. grasp
 - 2. loathe
 - 3. remiss
 - 4. host

Question ID : 264330185906

Option 1 ID : 264330727934

Option 2 ID : 264330727933

Option 3 ID : 264330727932

Option 4 ID : 264330727935

Status : Not Answered

Chosen Option : --

Comprehension:

Read the passage carefully and select the correct answer for the given blanks out of the four alternatives.

Lions have large jaws and are capable of (1) _____ up to 11 inches wide. They have long canine teeth which are used to (2) _____ and kill their prey. Lions do not chew their food. Small incisors at the front of their mouth are used to grip the meat (3) _____ their sharp carnassial teeth in the back of their mouth tear it into (4) _____ they can swallow. In the wild male lions live to around 12 years of age, with females living to around 15 years of age, whereas in (5) _____ they can live up to 25 years of age.

SubQuestion No : 18

Q.18 Select the most appropriate option for blank (3)

- Ans
- 1. Whilst
 - 2. As
 - 3. Whence
 - 4. What

Question ID : 264330185907
Option 1 ID : 264330727937
Option 2 ID : 264330727938
Option 3 ID : 264330727939
Option 4 ID : 264330727936
Status : Not Answered
Chosen Option : --

Comprehension:

Read the passage carefully and select the correct answer for the given blanks out of the four alternatives.

Lions have large jaws and are capable of (1) _____ up to 11 inches wide. They have long canine teeth which are used to (2) _____ and kill their prey. Lions do not chew their food. Small incisors at the front of their mouth are used to grip the meat (3) _____ their sharp carnassial teeth in the back of their mouth tear it into (4) _____ they can swallow. In the wild male lions live to around 12 years of age, with females living to around 15 years of age, whereas in (5) _____ they can live up to 25 years of age.

SubQuestion No : 19

Q.19 Select the most appropriate option for blank (4)

- Ans
- 1. hordes
 - 2. chunks
 - 3. pecks
 - 4. divisions

Question ID : 264330185908
Option 1 ID : 264330727943
Option 2 ID : 264330727940
Option 3 ID : 264330727942
Option 4 ID : 264330727941
Status : Not Answered
Chosen Option : --

Comprehension:

Read the passage carefully and select the correct answer for the given blanks out of the four alternatives.

Lions have large jaws and are capable of (1) _____ up to 11 inches wide. They have long canine teeth which are used to (2) _____ and kill their prey. Lions do not chew their food. Small incisors at the front of their mouth are used to grip the meat (3) _____ their sharp carnassial teeth in the back of their mouth tear it into (4) _____ they can swallow. In the wild male lions live to around 12 years of age, with females living to around 15 years of age, whereas in (5) _____ they can live up to 25 years of age.

SubQuestion No : 20

Q.20 Select the most appropriate option for blank (5)

- Ans**
- 1. disaster
 - 2. captivity
 - 3. greenery
 - 4. banality

Question ID : 264330185909

Option 1 ID : 264330727946

Option 2 ID : 264330727947

Option 3 ID : 264330727944

Option 4 ID : 264330727945

Status : Not Answered

Chosen Option : --

Section : Part-D-Hindi

Q.1 दिए गए वाक्य में रेखांकित शब्द के लिए सही वर्तनी ज्ञात कीजिए।
सड़कें चौड़ी होनी चाहिए।

- Ans**
- 1. चौड़ी
 - 2. चौड़ि
 - 3. चोड़ी
 - 4. चोड़ी

Question ID : 264330188158

Option 1 ID : 264330736548

Option 2 ID : 264330736549

Option 3 ID : 264330736550

Option 4 ID : 264330736551

Status : Answered

Chosen Option : 1

Q.2 निम्नलिखित प्रश्न में, चार विकल्पों में से, उस विकल्प का चयन करें जो रिक्त स्थान के लिए सही पुल्लिंग रूप वाला विकल्प हो।
मैं किसी काम से बाहर जा रहा हूँ, _____ को वापस आऊँगा।

- Ans
- 1. कल
 - 2. परसों
 - 3. सोमवार
 - 4. दो दिन बाद

Question ID : 264330189752
Option 1 ID : 264330742657
Option 2 ID : 264330742654
Option 3 ID : 264330742655
Option 4 ID : 264330742656
Status : Answered
Chosen Option : 3

Q.3 दिए गए शब्द का पर्यायवाची ज्ञात कीजिए।

महिला

- Ans
- 1. सीता
 - 2. स्त्री
 - 3. अचर
 - 4. पूजा

Question ID : 264330189468
Option 1 ID : 264330741573
Option 2 ID : 264330741572
Option 3 ID : 264330741571
Option 4 ID : 264330741570
Status : Answered
Chosen Option : 2

Q.4 निम्नलिखित प्रश्न में, चार विकल्पों में से, उस विकल्प का चयन करें जो कोष्ठक में दिए गए शब्द के विलोम शब्द का सही विकल्प है।
इस प्रकार राम सीता की खोज में (विरल) _____ वन के अंदर आगे बढ़ते गये।

- Ans
- 1. जटिल
 - 2. दुर्लभ
 - 3. सघन
 - 4. कठिन

Question ID : 264330189848
Option 1 ID : 264330743019
Option 2 ID : 264330743020
Option 3 ID : 264330743021
Option 4 ID : 264330743018
Status : Answered
Chosen Option : 3

Q.5 निम्नलिखित प्रश्न में, चार विकल्पों में से, उस विकल्प का चयन करें जो रिक्त स्थान के लिए सही शब्द वाला विकल्प हो।

योग से मनोरंजन भी किया जा सकता है तथा भटकते मन को _____ भी प्रदान की जा सकती है।

Ans

- ✓ 1. शांति
✗ 2. प्राप्ति
✗ 3. क्रांति
✗ 4. भ्रान्ति

Question ID : 264330189753

Option 1 ID : 264330742660

Option 2 ID : 264330742661

Option 3 ID : 264330742659

Option 4 ID : 264330742658

Status : Answered

Chosen Option : 1

Q.6 निम्नलिखित प्रश्न में, दिए गए चार विकल्पों में से, उस विकल्प का चयन करें जो दिए गए मुहावरे के अर्थ को सर्वश्रेष्ठ रूप से व्यक्त करता है।

उल्लू सीधा करना

Ans

- ✗ 1. होश ठीक होना
✗ 2. स्वाधीन होना
✓ 3. स्वार्थ सिद्ध करना
✗ 4. सबसे अलग रहना

Question ID : 264330188283

Option 1 ID : 264330737024

Option 2 ID : 264330737026

Option 3 ID : 264330737025

Option 4 ID : 264330737027

Status : Answered

Chosen Option : 3

Q.7 निम्नलिखित प्रश्न में, दिए गए चार विकल्पों में से, उस विकल्प का चयन करें जो दिए गए मुहावरे के अर्थ को सर्वश्रेष्ठ रूप से व्यक्त करता है।

ठिकाना न रहना

Ans

- ✓ 1. कहीं जगह न मिलना
✗ 2. सैर करना
✗ 3. बैचेन होना
✗ 4. दुनिया घूमना

Question ID : 264330189073

Option 1 ID : 264330740067

Option 2 ID : 264330740066

Option 3 ID : 264330740069

Option 4 ID : 264330740068

Status : Answered

Chosen Option : 1

Q.8 निम्नलिखित प्रश्न में, चार विकल्पों में से, उस विकल्प का चयन करें जो कोष्ठक में दिए गए शब्द के तद्रूप रूप का सही विकल्प है।
हमें हमेशा सबकी अच्छाई देखनी चाहिए उनके (औगुन) _____ नहीं।

- Ans
- 1. शब्द
 - 2. आचरण
 - 3. बात
 - 4. अवगुण

Question ID : 264330189875
Option 1 ID : 264330743124
Option 2 ID : 264330743123
Option 3 ID : 264330743125
Option 4 ID : 264330743122
Status : Answered
Chosen Option : 4

Q.9 निम्नलिखित प्रश्न में, चार विकल्पों में से, उस सही विकल्प का चयन करें जो वाक्यांशों के लिए एक शब्द का विकल्प हो।
जिसके हाथ में चक्र हो

- Ans
- 1. इन्दीवर
 - 2. चन्द्रमौलि
 - 3. ईशान
 - 4. चक्रपाणि

Question ID : 264330189760
Option 1 ID : 264330742684
Option 2 ID : 264330742685
Option 3 ID : 264330742683
Option 4 ID : 264330742682
Status : Answered
Chosen Option : 4

Q.10 निम्नलिखित प्रश्न में, चार विकल्पों में से, उस विकल्प का चयन करें जो रिक्त स्थान के लिए सही शब्द वाला विकल्प हो।
बाल श्रम को बच्चों द्वारा _____ के लिए किसी भी प्रकार के कार्य को करने के रूप में परिभाषित किया गया है।

- Ans
- 1. रोजगार
 - 2. अनुभव
 - 3. अध्ययन
 - 4. क्रिड़ा

Question ID : 264330189543
Option 1 ID : 264330741859
Option 2 ID : 264330741861
Option 3 ID : 264330741858
Option 4 ID : 264330741860
Status : Answered
Chosen Option : 1

Q.11 दिए गए वाक्य में रेखांकित शब्द का विलोम शब्द ज्ञात कीजिए।

हमें ढीलेपन से काम करना चाहिए।

Ans

- ✓ 1. स्फूर्ति
- ✗ 2. चौड़ापन
- ✗ 3. छोटापन
- ✗ 4. अपनापन

Question ID : 264330189135

Option 1 ID : 264330740303

Option 2 ID : 264330740302

Option 3 ID : 264330740304

Option 4 ID : 264330740305

Status : Answered

Chosen Option : 1

Q.12 निम्नलिखित वाक्य में, उस वाक्यांश को पहचानिए जिसमें मात्राओं से संबंधित अशुद्धियाँ हैं। यदि कोई गलती नहीं है तो 'कोई त्रुटि नहीं है' का चुनाव कीजिए।
लोभी धन इसलीये इकट्ठा करता हो जिसमे उससे/ किसी समय उसकी कमी न हो, परंतु उसे उसकी/ कमी हमेशा बनी ही रहती है।

Ans

- ✓ 1. लोभी धन इसलीये इकट्ठा करता हो जिसमे उससे
- ✗ 2. किसी समय उसकी कमी न हो, परंतु उसे उसकी
- ✗ 3. कमी हमेशा बनी ही रहती है
- ✗ 4. कोई त्रुटि नहीं है

Question ID : 264330189853

Option 1 ID : 264330743038

Option 2 ID : 264330743039

Option 3 ID : 264330743040

Option 4 ID : 264330743041

Status : Answered

Chosen Option : 1

Q.13 दिए गए वाक्य का वह भाग ज्ञात करें, जिसमें कोई त्रुटि है।

पुलिस ने चोरी के भ्रम में आशीश को पकड़ लिया।

Ans

- ✗ 1. पकड़ लिया।
- ✓ 2. के भ्रम में
- ✗ 3. आशीश को
- ✗ 4. पुलिस ने चोरी

Question ID : 264330188995

Option 1 ID : 264330739773

Option 2 ID : 264330739771

Option 3 ID : 264330739772

Option 4 ID : 264330739770

Status : Answered

Chosen Option : 3

Q.14 दिए गए वाक्य में निरर्थक शब्द ज्ञात कीजिए।

तुम दोनों कब से खटर-पटर कर रहे हो। अब चुप हो जाओ।

- Ans
- 1. दोनों
 - 2. खटर-पटर
 - 3. कब
 - 4. चुप

Question ID : 264330189981
Option 1 ID : 264330743528
Option 2 ID : 264330743526
Option 3 ID : 264330743527
Option 4 ID : 264330743529
Status : Answered
Chosen Option : 1

Q.15 दिए गए शब्द का पर्यायवाची ज्ञात कीजिए।

उल्लास

- Ans
- 1. क्रम
 - 2. आनंद
 - 3. औधा
 - 4. ग्राम

Question ID : 264330190077
Option 1 ID : 264330743891
Option 2 ID : 264330743893
Option 3 ID : 264330743890
Option 4 ID : 264330743892
Status : Answered
Chosen Option : 2

www.exammix.com

Comprehension:

नीचे दिए गये गद्यांश में कुछ शब्द छोड़ दिये गए हैं, प्रत्येक अनुच्छेद के सामने चार विकल्प दिए गए हैं। इस गद्यांश को ध्यानपूर्वक पढ़ें और चार विकल्पों में से सर्वोत्तम उत्तर वाला विकल्प चुनें।

भारत त्योहारों का देश है इसलिए यहाँ प्रत्येक दिन एक त्योहार के रूप में _____ जाता है। भारत का होली का त्योहार विश्व प्रसिद्ध है। होली का त्योहार हिंदू धर्म में मनाया जाने वाला दूसरा सबसे बड़ा त्योहार है। इस त्योहार को रंगों के त्योहार के नाम से भी जाना जाता है। होली का त्योहार भारत के साथ-साथ नेपाल, बांग्लादेश, अमेरिका, ऑस्ट्रेलिया, कनाडा जैसे कई देशों में भी _____ है। इस त्योहार को सभी वर्गों के लोग मनाते हैं। वर्तमान में तो अन्य धर्मों को मानने वाले लोग भी इस त्योहार को बड़ी _____ से मनाने लगे हैं। प्रकृति भी एक तरह से इस त्योहार में सम्मिलित होती है। चारों ओर रंग बिरंगे फूल बिखेर कर बसंत ऋतु _____ लुटाती है। यह खुशियाँ बांटने वाला त्योहार है, इस दिन सभी लोग एक दूसरे से गले मिलकर खुशी-खुशी इस त्योहार को मनाते हैं। इस त्योहार में ऐसी शक्ति है कि वर्षों पुरानी दुश्मनी भी इस दिन दोस्ती में बदल जाती है। इसीलिए होली को _____ का त्योहार भी कहा गया है। ऐसा माना जाता है कि होली का त्योहार हजारों वर्षों से मनाया जा रहा है। होली का त्योहार बुराई पर अच्छाई की जीत के प्रतीक के रूप में मनाया जाता है, साथ ही यह मौज-मस्ती का भी प्रतीक है।

SubQuestion No : 16

Q.16 भारत त्योहारों का देश है इसलिए यहाँ प्रत्येक दिन एक त्योहार के रूप में _____ जाता है।

- Ans
- 1. दिखाया
 - 2. बताया
 - 3. मनाया
 - 4. सुनाया

Question ID : 264330189755

Option 1 ID : 264330742662

Option 2 ID : 264330742664

Option 3 ID : 264330742665

Option 4 ID : 264330742663

Status : Answered

Chosen Option : 3

Comprehension:

नीचे दिए गये गद्यांश में कुछ शब्द छोड़ दिये गए हैं, प्रत्येक अनुच्छेद के सामने चार विकल्प दिए गए हैं। इस गद्यांश को ध्यानपूर्वक पढ़ें और चार विकल्पों में से सर्वोत्तम उत्तर वाला विकल्प चुनें।

भारत त्योहारों का देश है इसलिए यहाँ प्रत्येक दिन एक त्योहार के रूप में _____ जाता है। भारत का होली का त्योहार विश्व प्रसिद्ध है। होली का त्योहार हिंदू धर्म में मनाया जाने वाला दूसरा सबसे बड़ा त्योहार है। इस त्योहार को रंगों के त्योहार के नाम से भी जाना जाता है। होली का त्योहार भारत के साथ-साथ नेपाल, बांग्लादेश, अमेरिका, ऑस्ट्रेलिया, कनाडा जैसे कई देशों में भी _____ है। इस त्योहार को सभी वर्गों के लोग मनाते हैं। वर्तमान में तो अन्य धर्मों को मानने वाले लोग भी इस त्योहार को बड़ी _____ से मनाने लगे हैं। प्रकृति भी एक तरह से इस त्योहार में सम्मिलित होती है। चारों ओर रंग बिरंगे फूल बिखेर कर बसंत ऋतु _____ लुटाती है। यह खुशियाँ बांटने वाला त्योहार है, इस दिन सभी लोग एक दूसरे से गले मिलकर खुशी-खुशी इस त्योहार को मनाते हैं। इस त्योहार में ऐसी शक्ति है कि वर्षों पुरानी दुश्मनी भी इस दिन दोस्ती में बदल जाती है। इसीलिए होली को _____ का त्योहार भी कहा गया है। ऐसा माना जाता है कि होली का त्योहार हजारों वर्षों से मनाया जा रहा है। होली का त्योहार बुराई पर अच्छाई की जीत के प्रतीक के रूप में मनाया जाता है, साथ ही यह मौज-मस्ती का भी प्रतीक है।

SubQuestion No : 17

Q.17 होली का त्योहार भारत के साथ-साथ नेपाल, बांग्लादेश, अमेरिका, ऑस्ट्रेलिया, कनाडा जैसे कई देशों में भी _____ है।

- Ans
- 1. चित्रित
 - 2. विस्तृत
 - 3. परिवर्तित
 - 4. प्रसिद्ध

Question ID : 264330189756

Option 1 ID : 264330742666

Option 2 ID : 264330742668

Option 3 ID : 264330742669

Option 4 ID : 264330742667

Status : Answered

Chosen Option : 4

Comprehension:

नीचे दिए गये गद्यांश में कुछ शब्द छोड़ दिये गए हैं, प्रत्येक अनुच्छेद के सामने चार विकल्प दिए गए हैं। इस गद्यांश को ध्यानपूर्वक पढ़ें और चार विकल्पों में से सर्वोत्तम उत्तर वाला विकल्प चुनें।

भारत त्योहारों का देश है इसलिए यहाँ प्रत्येक दिन एक त्योहार के रूप में _____ जाता है। भारत का होली का त्योहार विश्व प्रसिद्ध है। होली का त्योहार हिंदू धर्म में मनाया जाने वाला दूसरा सबसे बड़ा त्योहार है। इस त्योहार को रंगों के त्योहार के नाम से भी जाना जाता है। होली का त्योहार भारत के साथ-साथ नेपाल, बांग्लादेश, अमेरिका, ऑस्ट्रेलिया, कनाडा जैसे कई देशों में भी _____ है। इस त्योहार को सभी वर्गों के लोग मनाते हैं। वर्तमान में तो अन्य धर्मों को मानने वाले लोग भी इस त्योहार को बड़ी _____ से मनाने लगे हैं। प्रकृति भी एक तरह से इस त्योहार में सम्मिलित होती है। चारों ओर रंग बिरंगे फूल बिखेर कर बसंत ऋतु _____ लुटाती है। यह खुशियाँ बांटने वाला त्योहार है, इस दिन सभी लोग एक दूसरे से गले मिलकर खुशी-खुशी इस त्योहार को मनाते हैं। इस त्योहार में ऐसी शक्ति है कि वर्षों पुरानी दुश्मनी भी इस दिन दोस्ती में बदल जाती है। इसलिए होली को _____ का त्योहार भी कहा गया है। ऐसा माना जाता है कि होली का त्योहार हजारों वर्षों से मनाया जा रहा है। होली का त्योहार बुराई पर अच्छाई की जीत के प्रतीक के रूप में मनाया जाता है, साथ ही यह मौज-मस्ती का भी प्रतीक है।

SubQuestion No : 18

Q.18 वर्तमान में तो अन्य धर्मों को मानने वाले लोग भी इस त्योहार को बड़ी _____ से मनाने लगे हैं।

- Ans
- 1. धनवान
 - 2. सुनसान
 - 3. पहचान
 - 4. धूमधाम

Question ID : 264330189757

Option 1 ID : 264330742673

Option 2 ID : 264330742670

Option 3 ID : 264330742671

Option 4 ID : 264330742672

Status : Answered

Chosen Option : 4

Comprehension:

नीचे दिए गये गद्यांश में कुछ शब्द छोड़ दिये गए हैं, प्रत्येक अनुच्छेद के सामने चार विकल्प दिए गए हैं। इस गद्यांश को ध्यानपूर्वक पढ़ें और चार विकल्पों में से सर्वोत्तम उत्तर वाला विकल्प चुनें।

भारत त्योहारों का देश है इसलिए यहाँ प्रत्येक दिन एक त्योहार के रूप में _____ जाता है। भारत का होली का त्योहार विश्व प्रसिद्ध है। होली का त्योहार हिंदू धर्म में मनाया जाने वाला दूसरा सबसे बड़ा त्योहार है। इस त्योहार को रंगों के त्योहार के नाम से भी जाना जाता है। होली का त्योहार भारत के साथ-साथ नेपाल, बांग्लादेश, अमेरिका, ऑस्ट्रेलिया, कनाडा जैसे कई देशों में भी _____ है। इस त्योहार को सभी वर्गों के लोग मनाते हैं। वर्तमान में तो अन्य धर्मों को मानने वाले लोग भी इस त्योहार को बड़ी _____ से मनाने लगे हैं। प्रकृति भी एक तरह से इस त्योहार में सम्मिलित होती है। चारों ओर रंग बिरंगे फूल बिखेर कर बसंत ऋतु _____ लुटाती है। यह खुशियाँ बांटने वाला त्योहार है, इस दिन सभी लोग एक दूसरे से गले मिलकर खुशी-खुशी इस त्योहार को मनाते हैं। इस त्योहार में ऐसी शक्ति है कि वर्षों पुरानी दुश्मनी भी इस दिन दोस्ती में बदल जाती है। इसलिए होली को _____ का त्योहार भी कहा गया है। ऐसा माना जाता है कि होली का त्योहार हजारों वर्षों से मनाया जा रहा है। होली का त्योहार बुराई पर अच्छाई की जीत के प्रतीक के रूप में मनाया जाता है, साथ ही यह मौज-मस्ती का भी प्रतीक है।

SubQuestion No : 19

Q.19 चारों ओर रंग बिरंगे फूल बिखेर कर बसंत ऋतु _____ लुटाती है।

- Ans
- 1. पत्ते
 - 2. धूल
 - 3. फूल
 - 4. खुशियाँ

Question ID : 264330189758

Option 1 ID : 264330742675

Option 2 ID : 264330742677

Option 3 ID : 264330742676

Option 4 ID : 264330742674

Status : Answered

Chosen Option : 4

Comprehension:

नीचे दिए गये गद्यांश में कुछ शब्द छोड़ दिये गए हैं, प्रत्येक अनुच्छेद के सामने चार विकल्प दिए गए हैं। इस गद्यांश को ध्यानपूर्वक पढ़ें और चार विकल्पों में से सर्वोत्तम उत्तर वाला विकल्प चुनें।

भारत त्योहारों का देश है इसलिए यहाँ प्रत्येक दिन एक त्योहार के रूप में _____ जाता है। भारत का होली का त्योहार विश्व प्रसिद्ध है। होली का त्योहार हिंदू धर्म में मनाया जाने वाला दूसरा सबसे बड़ा त्योहार है। इस त्योहार को रंगों के त्योहार के नाम से भी जाना जाता है। होली का त्योहार भारत के साथ-साथ नेपाल, बांग्लादेश, अमेरिका, ऑस्ट्रेलिया, कनाडा जैसे कई देशों में भी _____ है। इस त्योहार को सभी वर्गों के लोग मनाते हैं। वर्तमान में तो अन्य धर्मों को मानने वाले लोग भी इस त्योहार को बड़ी _____ से मनाने लगे हैं। प्रकृति भी एक तरह से इस त्योहार में सम्मिलित होती है। चारों ओर रंग बिरंगे फूल बिखेर कर बसंत ऋतु _____ लुटाती है। यह खुशियाँ बांटने वाला त्योहार है, इस दिन सभी लोग एक दूसरे से गले मिलकर खुशी-खुशी इस त्योहार को मनाते हैं। इस त्योहार में ऐसी शक्ति है कि वर्षों पुरानी दुश्मनी भी इस दिन दोस्ती में बदल जाती है। इसलिए होली को _____ का त्योहार भी कहा गया है। ऐसा माना जाता है कि होली का त्योहार हजारों वर्षों से मनाया जा रहा है। होली का त्योहार बुराई पर अच्छाई की जीत के प्रतीक के रूप में मनाया जाता है, साथ ही यह मौज-मस्ती का भी प्रतीक है।

SubQuestion No : 20

Q.20 इसीलिए होली को _____ का त्योहार भी कहा गया है।

- Ans
- 1. पानी बरबादी
 - 2. परमार्थ
 - 3. सौहार्द
 - 4. स्वार्थ

Question ID : 264330189759
Option 1 ID : 264330742678
Option 2 ID : 264330742679
Option 3 ID : 264330742681
Option 4 ID : 264330742680
Status : Answered
Chosen Option : 3

Constable GD in Central Armed Police Forces CAPFs SSF Rifleman GD in Assam Rifles Examination 2024

Roll Number	
Candidate Name	
Venue Name	
Exam Date	20/02/2024
Exam Time	2:30 PM - 3:30 PM
Subject	Constable GD Examination 2024

Section : Part-A-General Intelligence and Reasoning

Q.1 निम्नलिखित विकल्पों में से उस विकल्प का चयन कीजिए जो पांचवें शब्द से ठीक उसी प्रकार संबंधित है जिस प्रकार चौथा शब्द तीसरे शब्द से संबंधित है और दूसरा शब्द पहले शब्द से संबंधित है।
पत्तागोभी : सब्जी :: कस्टर्ड : मिठाई :: आड़ू : ?

- Ans**
- 1. सब्जी
 - 2. मिठाई
 - 3. फल
 - 4. शरबत

Question ID : 264330190411
Option 1 ID : 264330745226
Option 2 ID : 264330745228
Option 3 ID : 264330745227
Option 4 ID : 264330745229
Status : Answered
Chosen Option : 3

Q.2 निम्नलिखित में से कौन-सा अक्षर-संख्या समूह दी गई श्रृंखला में प्रश्न चिह्न (?) के स्थान पर आएगा?
UDF6, VFI9, ?, XJO15, YLR18, ZNU21

- Ans**
- 1. VGK11
 - 2. WHL12
 - 3.
 - 4. XHL12

Question ID : 264330188039
Option 1 ID : 264330736087
Option 2 ID : 264330736084
Option 3 ID : 264330736086
Option 4 ID : 264330736085
Status : Answered
Chosen Option : 2

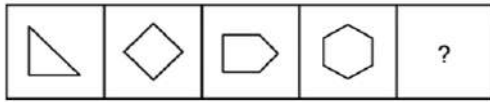
Q.3 निम्नलिखित विकल्पों में से, दी गई श्रृंखला से लुप्त संख्या का चयन कीजिए।

55, 165, 495, 1485, ?, 13365

- Ans
- 1. 7055
 - 2. 4455
 - 3. 6000
 - 4. 5055

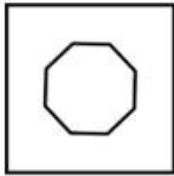
Question ID : 264330191539
Option 1 ID : 264330749513
Option 2 ID : 264330749510
Option 3 ID : 264330749512
Option 4 ID : 264330749511
Status : Answered
Chosen Option : 2

Q.4 दिए गए विकल्पों में से उस आकृति का चयन कीजिए जिसे दी गई आकृति श्रृंखला में प्रश्न चिह्न (?) के स्थान पर रखा जा सकता है।



Ans

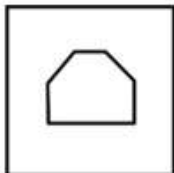
1.



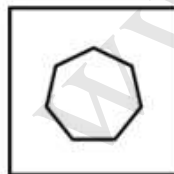
2.



3.



4.



Question ID : 264330192083
Option 1 ID : 264330751686
Option 2 ID : 264330751689
Option 3 ID : 264330751687
Option 4 ID : 264330751688
Status : Answered
Chosen Option : 4

Q.5 पांच मित्र लंदन, मैड्रिड, पेरिस, रोम और विएना को एक वृत्त में, केंद्र की ओर मुख करके व्यवस्थित किया गया है। मैड्रिड, पेरिस के ठीक बाईं ओर है। लंदन और विएना के ठीक बीच में रोम है। विएना, पेरिस के ठीक दाईं ओर है। मैड्रिड के ठीक बाईं ओर कौन-सा मित्र है?

- Ans**
- 1. रोम
 - 2. लंदन
 - 3. पेरिस
 - 4. विएना

Question ID : **264330192137**
Option 1 ID : **264330751902**
Option 2 ID : **264330751904**
Option 3 ID : **264330751903**
Option 4 ID : **264330751905**
Status : **Not Answered**
Chosen Option : --

Q.6 नीचे दिए गए शब्दों को अंग्रेजी शब्दकोश के क्रम के अनुसार व्यवस्थित करने के बाद, कौन-सा शब्द 'चौथे' स्थान पर आएगा?

1. Wheel
2. Wheat
3. Whale
4. Whet
5. When

- Ans**
- 1. Whet
 - 2. Wheel
 - 3. When
 - 4. Wheat

Question ID : **264330191550**
Option 1 ID : **264330749554**
Option 2 ID : **264330749557**
Option 3 ID : **264330749556**
Option 4 ID : **264330749555**
Status : **Answered**
Chosen Option : **3**

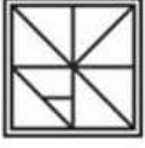
www.exammix.com

Q.7 नीचे दी गई विकल्प आकृतियों में से, उस आकृति का चयन कीजिए जिसमें प्रश्न आकृति छिपी/निहित है। (पूर्णांक की अनुमति नहीं है)

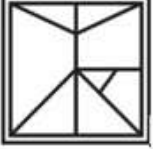


Ans

✗ 1.



✗ 2.



✗ 3.



✓ 4.



Question ID : 264330190244

Option 1 ID : 264330744560

Option 2 ID : 264330744558

Option 3 ID : 264330744559

Option 4 ID : 264330744561

Status : Answered

Chosen Option : 4

Q.8 'P × Q' का अर्थ है 'P, Q का पिता है'

'P + Q' का अर्थ है 'P, Q का भाई है'

'P ÷ Q' का अर्थ है 'P, Q का बेटा है'

'P - Q' का अर्थ है 'P, Q का पति है'

व्यंजक 'O + N ÷ M - L' में, O का L से क्या संबंध है?

Ans

✓ 1. बेटा

✗ 2. भाई

✗ 3. पति

✗ 4. पिता

Question ID : 264330192315

Option 1 ID : 264330752615

Option 2 ID : 264330752614

Option 3 ID : 264330752616

Option 4 ID : 264330752617

Status : Answered

Chosen Option : 1

Q.9 एक निश्चित कूट भाषा में, 'AMRITSAR' को 'MAIRSTRA' लिखा जाता है, 'DURGAPUR' को 'UDGRPARU' लिखा जाता है। उसी कूट भाषा में 'SHILLONG' को कैसे लिखा जाएगा?

- Ans**
- ✓ 1. HSLIOLGN
 - ✗ 2. NGLOILSH
 - ✗ 3. HSLOILGN
 - ✗ 4. GNLIOLSH

Question ID : 264330192314

Option 1 ID : 264330752610

Option 2 ID : 264330752613

Option 3 ID : 264330752611

Option 4 ID : 264330752612

Status : Answered

Chosen Option : 1

Q.10 निम्नलिखित प्रश्न में, तीन कथन और उसके बाद I और II क्रमांकित दो निष्कर्ष दिए गए हैं। दिए गए कथनों को सत्य मानते हुए, चाहे वे सामान्यतः ज्ञात तथ्यों से भिन्न प्रतीत होते हों, निश्चय कीजिए कि दिए गए निष्कर्षों में से कौन-सा निष्कर्ष कथनों का तार्किक रूप से अनुसरण करता है।

कथन I: सभी पेन, स्टेशनरी वस्तुएं हैं।

कथन II: कुछ स्टेशनरी वस्तुएं, रबर हैं।

कथन III: सभी मार्कर, पेन हैं।

निष्कर्ष I: कुछ स्टेशनरी वस्तुएं, रबर नहीं हैं।

निष्कर्ष II: कुछ मार्कर, स्टेशनरी वस्तुएं नहीं हैं।

- Ans**
- ✗ 1. केवल निष्कर्ष I अनुसरण करता है
 - ✗ 2. निष्कर्ष I और II दोनों अनुसरण करते हैं
 - ✓ 3. न तो निष्कर्ष I और न ही II अनुसरण करता है
 - ✗ 4. केवल निष्कर्ष II अनुसरण करता है

Question ID : 264330192118

Option 1 ID : 264330751826

Option 2 ID : 264330751828

Option 3 ID : 264330751829

Option 4 ID : 264330751827

Status : Answered

Chosen Option : 3

Q.11 दी गई विकल्प आकृतियों में से कौन-सी आकृति प्रश्न आकृति के पैटर्न को पूरा करेगी? (घूर्णन की अनुमति नहीं है)



Ans

✓ 1.



✗ 2.



✗ 3.



✗ 4.



Question ID : 264330187458

Option 1 ID : 264330733763

Option 2 ID : 264330733762

Option 3 ID : 264330733761

Option 4 ID : 264330733760

Status : Answered

Chosen Option : 1

Q.12 एक निश्चित कूट भाषा में, 'ALLIES' को 'REHLKA' लिखा जाता है. उसी कूट भाषा में 'BALLET' को कैसे लिखा जाएगा?

Ans

✓ 1. SEKLZB

✗ 2. SDKLZB

✗ 3. SEKZLB

✗ 4. SEKLZC

Question ID : 264330187124

Option 1 ID : 264330732425

Option 2 ID : 264330732424

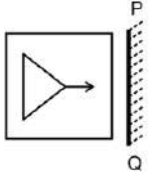
Option 3 ID : 264330732426

Option 4 ID : 264330732427

Status : Not Answered

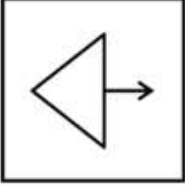
Chosen Option : --

Q.13 दी गई आकृति के उस सही दर्पण प्रतिबिंब का चयन कीजिए, जो दर्पण PQ को उस आकृति के दाईं ओर रखने पर बनेगा।

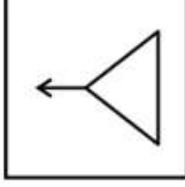


Ans

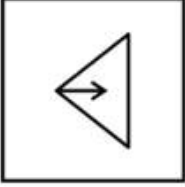
✗ 1.



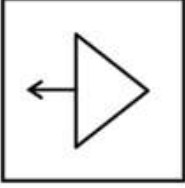
✓ 2.



✗ 3.



✗ 4.



Question ID : 264330192266

Option 1 ID : 264330752419

Option 2 ID : 264330752421

Option 3 ID : 264330752420

Option 4 ID : 264330752418

Status : Answered

Chosen Option : 4

Q.14 पांच दोस्त पूजा, भावना, चारु, गीता और हेमा एक वृताकार मेज के चारों ओर केंद्र की ओर मुख करके बैठी हैं। चारु, भावना की निकटतम पड़ोसी नहीं है। भावना, हेमा के बाईं ओर से दूसरे स्थान पर बैठी है। गीता, भावना और हेमा की निकटतम पड़ोसी है। हेमा के ठीक दाईं ओर कौन बैठा है?

Ans

✗ 1. गीता

✓ 2. चारु

✗ 3. पूजा

✗ 4. भावना

Question ID : 264330187067

Option 1 ID : 264330732196

Option 2 ID : 264330732198

Option 3 ID : 264330732197

Option 4 ID : 264330732199

Status : Not Answered

Chosen Option : --

Q.15 निम्नलिखित प्रश्न में, दिए गए विकल्पों में से उस आकृति का चयन कीजिए जिसे प्रश्न चिह्न (?) के स्थान पर रखा जा सकता है।

6			12	18			24		?
	78	72			60	42			

Ans

✓ 1.

30	
	18

✗ 2.

	30
18	

✗ 3.

24	
	30

✗ 4.

30	
	24

Question ID : 264330187075

Option 1 ID : 264330732229

Option 2 ID : 264330732231

Option 3 ID : 264330732230

Option 4 ID : 264330732228

Status : Answered

Chosen Option : 1

www.exammix.com

Q.16 दिए गए दो चिन्हों को आपस में बदलने के बाद समीकरण (I) और (II) का क्रमशः मान कितना होगा?

× और ÷

I. $18 \div 3 - 4 \times 2 + 7$

II. $18 \times 3 \div 6 - 8 + 4$

- Ans
- ✗ 1. 40 और 80
 - ✗ 2. 9 और 7
 - ✓ 3. 59 और 32
 - ✗ 4. 16 और 30

Question ID : 264330191341

Option 1 ID : 264330748719

Option 2 ID : 264330748720

Option 3 ID : 264330748718

Option 4 ID : 264330748721

Status : Answered

Chosen Option : 3

Q.17 निम्नलिखित प्रश्न में, दिए गए विकल्पों में से संबंधित अक्षरों का चयन कीजिए।

PTX : RVZ :: CGK : ?

- Ans
- ✓ 1. EIM
 - ✗ 2. ABC
 - ✗ 3. MNL
 - ✗ 4. VVW

Question ID : 264330190150

Option 1 ID : 264330744184

Option 2 ID : 264330744185

Option 3 ID : 264330744182

Option 4 ID : 264330744183

Status : Answered

Chosen Option : 1

Q.18 निम्नलिखित प्रश्न में, दी गई विकल्पों में से श्रृंखला से लुप्त संख्या का चयन कीजिए।

14, 6, 5, 6.5, 12, ?

- Ans
- ✗ 1. 25
 - ✗ 2. 20
 - ✓ 3. 29
 - ✗ 4. 17

Question ID : 264330187411

Option 1 ID : 264330733574

Option 2 ID : 264330733573

Option 3 ID : 264330733572

Option 4 ID : 264330733575

Status : Not Answered

Chosen Option : --

Q.19 निम्नलिखित अक्षर समूहों में से अक्षरों का कौन-सा समूह क्रमबद्ध रूप से बाईं से दाईं ओर रखे जाने पर नीचे दी गई श्रृंखला को पूरा करेगा?

opq_stopqrsto_qrstopqrs_opqr_t

- Ans
- ✓ 1. rpts
 - ✗ 2. qpqr
 - ✗ 3. rptp
 - ✗ 4. opqr

Question ID : 264330187400
Option 1 ID : 264330733529
Option 2 ID : 264330733528
Option 3 ID : 264330733531
Option 4 ID : 264330733530
Status : Answered
Chosen Option : 1

Q.20 दिए गए विकल्पों में से किन दो संख्याओं को आपस में बदलने पर निम्नलिखित समीकरण सही होगा?

$$8 + 7 \times 5 \div 14 - 3 = 6$$

- Ans
- ✗ 1. 8 और 7
 - ✗ 2. 3 और 5
 - ✗ 3. 14 और 6
 - ✓ 4. 8 और 5

Question ID : 264330190421
Option 1 ID : 264330745266
Option 2 ID : 264330745267
Option 3 ID : 264330745268
Option 4 ID : 264330745269
Status : Answered
Chosen Option : 4

Section : Part-B-General Knowledge and General awareness

Q.1 निम्नलिखित में से किस केंद्रीय मंत्रालय ने 'अमेज़न फ्यूचर इंजीनियर प्रोग्राम' (Amazon Future Engineer Programme) प्रारंभ करने की घोषणा की?

- Ans
- ✗ 1. शिक्षा मंत्रालय
 - ✗ 2. विज्ञान और प्रौद्योगिकी मंत्रालय
 - ✗ 3. इलेक्ट्रॉनिकी और सूचना प्रौद्योगिकी मंत्रालय
 - ✓ 4. जनजातीय कार्य मंत्रालय

Question ID : 264330191888
Option 1 ID : 264330750909
Option 2 ID : 264330750907
Option 3 ID : 264330750908
Option 4 ID : 264330750906
Status : Answered
Chosen Option : 2

Q.2 गौतम बुद्ध के संबंध में निम्नलिखित में से कौन-सा कथन सही है?

- I. बौद्ध धर्म के संस्थापक सिद्धार्थ, जिन्हें गौतम के नाम से भी जाना जाता है, का जन्म लगभग 2500 वर्ष पहले हुआ था।
- II. गौतम बुद्ध एक छोटे गण से संबंधित थे जिसे शाक्य गण के नाम से जाना जाता था।

Ans 1. न तो I और न ही II

2. केवल II

3. I और II दोनों

4. केवल I

Question ID : 264330191055

Option 1 ID : 264330747577

Option 2 ID : 264330747575

Option 3 ID : 264330747576

Option 4 ID : 264330747574

Status : Answered

Chosen Option : 3

Q.3 संविधान कई तरह से सरकार की शक्तियों को सीमित करता है। सरकार के शासन को सीमित करने का सबसे सामान्य तरीका कुछ _____ को निर्दिष्ट करना है, जो हम सभी के पास नागरिक के रूप में है और जिसका उल्लंघन करने की अनुमति किसी भी सरकार को नहीं दी जा सकती है।

Ans 1. आर्थिक कर्तव्यों

2. मौलिक अधिकारों

3. मौलिक कर्तव्यों

4. राज्य के नीति निर्देशक सिद्धांतों

Question ID : 264330188764

Option 1 ID : 264330738861

Option 2 ID : 264330738858

Option 3 ID : 264330738859

Option 4 ID : 264330738860

Status : Answered

Chosen Option : 3

Q.4 गांधी-इरविन (Gandhi-Irwin) समझौते पर किस वर्ष हस्ताक्षर किए गए थे?

Ans 1. 1921

2. 1911

3. 1941

4. 1931

Question ID : 264330190836

Option 1 ID : 264330746699

Option 2 ID : 264330746698

Option 3 ID : 264330746701

Option 4 ID : 264330746700

Status : Answered

Chosen Option : 1

Q.5 मूल्यहास के संबंध में निम्नलिखित में से कौन-सा कथन सही है?

- I. अचल संपत्तियों के उसके उपयोगी जीवन के दौरान घिसावट के कारण उसके मूल्य में होने वाली हानि को मूल्यहास कहा जाता है।
- II. मूल्यहास में अप्रत्याशित या अचानक विनाश को शामिल नहीं किया जाता है।

Ans

1. केवल I
2. I और II दोनों
3. न तो I और न ही II
4. केवल II

Question ID : 264330188829
Option 1 ID : 264330739118
Option 2 ID : 264330739120
Option 3 ID : 264330739121
Option 4 ID : 264330739119
Status : Not Answered
Chosen Option : --

Q.6 नवंबर 2023 तक, भारतीय मूल के _____, यूनाइटेड किंगडम के गृह सचिव थे।

Ans

1. कमला हैरिस (Kamala Harris)
2. ऋषि सुनक (Rishi Sunak)
3. अक्षता मूर्ति (Akshata Murty)
4. सुएला ब्रेवरमैन (Suella Braverman)

Question ID : 264330191709
Option 1 ID : 264330750193
Option 2 ID : 264330750190
Option 3 ID : 264330750192
Option 4 ID : 264330750191
Status : Answered
Chosen Option : 1

Q.7 "मैसूर दशहरा" भारत के _____ राज्य में एक भव्य उत्सव है, जिसमें शाही जुलूस, सांस्कृतिक कार्यक्रम और सजाए गए हाथियों का प्रदर्शन होता है।

Ans

1. कर्नाटक
2. तमिलनाडु
3. ओडिशा
4. केरल

Question ID : 264330190951
Option 1 ID : 264330747159
Option 2 ID : 264330747161
Option 3 ID : 264330747160
Option 4 ID : 264330747158
Status : Answered
Chosen Option : 1

Q.8 भारत की 2011 की जनगणना के अनुसार निम्नलिखित में से किस राज्य/केंद्र शासित प्रदेश में पुरुष साक्षरता दर सबसे अधिक है?

- Ans
- 1. लक्षद्वीप
 - 2. मिजोरम
 - 3. त्रिपुरा
 - 4. केरल

Question ID : 264330188878
Option 1 ID : 264330739317
Option 2 ID : 264330739314
Option 3 ID : 264330739316
Option 4 ID : 264330739315
Status : Answered
Chosen Option : 1

Q.9 अगस्त 2023 में, भारत के निम्नलिखित पूर्व मुख्य न्यायाधीश में से किसे सिंगापुर के अंतर्राष्ट्रीय मध्यस्थ पैनल (Singapore's International Mediator Panel) का सदस्य नियुक्त किया गया था?

- Ans
- 1. शरद अरविंद बोबडे
 - 2. एन. वी. रमना
 - 3. रंजन गोगोई
 - 4. यू. यू. ललित

Question ID : 264330191739
Option 1 ID : 264330750311
Option 2 ID : 264330750313
Option 3 ID : 264330750310
Option 4 ID : 264330750312
Status : Not Answered
Chosen Option : --

Q.10 मेजबान राज्य के कितने शहरों ने राष्ट्रीय खेल (National Games) 2023 की मेजबानी की?

- Ans
- 1. 10
 - 2. 8
 - 3. 2
 - 4. 5

Question ID : 264330191101
Option 1 ID : 264330747761
Option 2 ID : 264330747759
Option 3 ID : 264330747760
Option 4 ID : 264330747758
Status : Not Answered
Chosen Option : --

Q.11 भारत कितने देशों के साथ समुद्री सीमा साझा करता है?

- Ans
- 1. 6
 - 2. 2
 - 3. 4
 - 4. 8

Question ID : 264330191275
Option 1 ID : 264330748456
Option 2 ID : 264330748454
Option 3 ID : 264330748455
Option 4 ID : 264330748457
Status : Answered
Chosen Option : 1

Q.12 हरित क्रांति (Green Revolution) निम्नलिखित में से किसके आयात पर भारत की निर्भरता को कम करने में सहायक थी?

- Ans
- 1. मशीनरी
 - 2. अनाज
 - 3. कपड़ा
 - 4. पेट्रोलियम

Question ID : 264330191486
Option 1 ID : 264330749301
Option 2 ID : 264330749299
Option 3 ID : 264330749300
Option 4 ID : 264330749298
Status : Answered
Chosen Option : 2

Q.13 ध्वनि प्रदूषण को किस इकाई में मापा जाता है?

- Ans
- 1. डेसिबल (Decibel)
 - 2. सेंटीमीटर (Centimeter)
 - 3. ओम (Ohm)
 - 4. हर्ट्स (Hertz)

Question ID : 264330191753
Option 1 ID : 264330750367
Option 2 ID : 264330750368
Option 3 ID : 264330750369
Option 4 ID : 264330750366
Status : Answered
Chosen Option : 1

Q.14 ओलंपिक टेबल टेनिस स्पर्धा में, यदि अंक 10-10 पर बराबर हैं, तो एक खिलाड़ी को गेम जीतने के लिए _____ अंक की बढ़त के लिए प्रयास करना होगा।

- Ans
- 1. 4
 - 2.
 - 3. 2
 - 4. 1

Question ID : 264330191721
Option 1 ID : 264330750239
Option 2 ID : 264330750240
Option 3 ID : 264330750241
Option 4 ID : 264330750238
Status : Not Answered
Chosen Option : --

Q.15 लिण्डर पेस (Leander Paes) का संबंध _____ है।

- Ans
- 1. क्रिकेट
 - 2. बैडमिंटन
 - 3. गोल्फ
 - 4. लॉन टेनिस

Question ID : 264330191802
Option 1 ID : 264330750564
Option 2 ID : 264330750563
Option 3 ID : 264330750565
Option 4 ID : 264330750562
Status : Answered
Chosen Option : 3

Q.16 _____ बुंदेलखंड क्षेत्र की एक जीवंत नृत्य शैली है। इसका प्रदर्शन मृदंग की थाप से शुरू होता है और धीरे-धीरे गद्य और काव्यात्मक संवादों के साथ गति पकड़ता है।

- Ans
- 1. गणगौर
 - 2. स्वांग
 - 3. मटकी
 - 4. राय

Question ID : 264330191070
Option 1 ID : 264330747637
Option 2 ID : 264330747634
Option 3 ID : 264330747636
Option 4 ID : 264330747635
Status : Not Answered
Chosen Option : --

Q.17 इंटरनेशनल शूटिंग स्पोर्ट फेडरेशन विश्व कप (International Shooting Sport Federation World Cup) 2022 कहाँ आयोजित किया गया था?

- Ans
- 1. सिडनी, ऑस्ट्रेलिया
 - 2. नई दिल्ली, भारत
 - 3. म्यूनिख, जर्मनी
 - 4. काहिरा, मिस्र

Question ID : 264330191304
Option 1 ID : 264330748573
Option 2 ID : 264330748571
Option 3 ID : 264330748570
Option 4 ID : 264330748572
Status : Not Answered
Chosen Option : --

Q.18 भारत की निम्नलिखित में से किस पंचवर्षीय योजना के अंत में देश में पांच आईआईटी (IIT) स्थापित किए गए?

- Ans
- 1. तीसरी
 - 2. पहली
 - 3. चौथी
 - 4. दूसरी

Question ID : 264330192027
Option 1 ID : 264330751464
Option 2 ID : 264330751462
Option 3 ID : 264330751465
Option 4 ID : 264330751463
Status : Answered
Chosen Option : 1

Q.19 उस्ताद बिंदा खान का संबंध निम्नलिखित में से किस वाद्ययंत्र से था?

- Ans
- 1. शहनाई
 - 2. सारंगी
 - 3. तबला
 - 4. बांसुरी

Question ID : 264330191898
Option 1 ID : 264330750948
Option 2 ID : 264330750949
Option 3 ID : 264330750947
Option 4 ID : 264330750946
Status : Answered
Chosen Option : 1

Q.20 अगस्त 2023 में, केंद्र सरकार ने कैबिनेट सचिव राजीव गोबा को _____ का अतिरिक्त कार्यकाल दिया है, जिससे वह भारत के इतिहास में सबसे लंबे समय तक सेवावृत्त रहने वाले कैबिनेट सचिव बन गए हैं।

- Ans**
- 1. चार वर्ष
 - 2. तीन वर्ष
 - 3. एक वर्ष
 - 4. दो वर्ष

Question ID : 264330192030
Option 1 ID : 264330751477
Option 2 ID : 264330751476
Option 3 ID : 264330751474
Option 4 ID : 264330751475
Status : Not Answered
Chosen Option : --

Section : Part-C-Elementary Mathematics

Q.1 एक वस्तु का अंकित मूल्य 28500 रुपए है और इसका विक्रय मूल्य 15675 रुपए है। छूट प्रतिशत कितना है?

- Ans**
- 1. 52 प्रतिशत
 - 2. 45 प्रतिशत
 - 3. 42 प्रतिशत
 - 4. 48 प्रतिशत

Question ID : 264330187489
Option 1 ID : 264330733884
Option 2 ID : 264330733887
Option 3 ID : 264330733886
Option 4 ID : 264330733885
Status : Not Answered
Chosen Option : --

Q.2 $\frac{16 \times (9 + 4) - 13 \times 14}{50 - (12 + 12)}$ का मान कितना है?

- Ans**
- 1. 2
 - 2. 1
 - 3. 26
 - 4. 13

Question ID : 264330187660
Option 1 ID : 264330734569
Option 2 ID : 264330734568
Option 3 ID : 264330734571
Option 4 ID : 264330734570
Status : Answered
Chosen Option : 2

Q.3 यदि 18 आदमी एक काम को 13 दिनों में पूरा कर सकते हैं, तो 54 आदमी उसी काम को कितने दिनों में पूरा करेंगे?

- Ans
- 1. 8/5 दिन
 - 2. 13/3 दिन
 - 3. 18/4 दिन
 - 4. 9 दिन

Question ID : 264330192405
Option 1 ID : 264330752976
Option 2 ID : 264330752975
Option 3 ID : 264330752974
Option 4 ID : 264330752977
Status : Answered
Chosen Option : 2

Q.4 यदि एक निश्चित धनराशि साधारण ब्याज पर 8 वर्ष 6 माह में स्वयं की तीन गुना हो जाती है, तो वार्षिक ब्याज की दर कितनी होगी?

- Ans
- 1. 24.48 प्रतिशत
 - 2. 24.78 प्रतिशत
 - 3. 23.52 प्रतिशत
 - 4. 21.28 प्रतिशत

Question ID : 264330187753
Option 1 ID : 264330734940
Option 2 ID : 264330734943
Option 3 ID : 264330734942
Option 4 ID : 264330734941
Status : Answered
Chosen Option : 3

Q.5 एक गोले की त्रिज्या 4.2 cm है। गोले का आयतन कितना है?

- Ans
- 1. 284.62 cm³
 - 2. 329.32 cm³
 - 3. 310.46 cm³
 - 4. 348.21 cm³

Question ID : 264330188611
Option 1 ID : 264330738249
Option 2 ID : 264330738247
Option 3 ID : 264330738246
Option 4 ID : 264330738248
Status : Answered
Chosen Option : 3

Q.6 $880 + 41 \div 14 \times 84 - 26$ का मान कितना है?

- Ans 1. 1100
 2. 1150
 3. 1200
 4. 1000

Question ID : 264330191628
Option 1 ID : 264330749869
Option 2 ID : 264330749866
Option 3 ID : 264330749868
Option 4 ID : 264330749867
Status : Answered
Chosen Option : 1

Q.7 यदि किसी संख्या में से 25 घटा दिया जाए तो वह संख्या स्वयं की 50 प्रतिशत हो जाती है। वह संख्या क्या है?

- Ans 1. 50
 2. 55
 3. 40
 4. 45

Question ID : 264330187625
Option 1 ID : 264330734429
Option 2 ID : 264330734428
Option 3 ID : 264330734431
Option 4 ID : 264330734430
Status : Answered
Chosen Option : 1

Q.8 एक कुर्सी का अंकित मूल्य 5000 रुपए है। 10 प्रतिशत और x प्रतिशत की दो क्रमागत छूट देने के बाद, कुर्सी 3150 रुपए में बेची जाती है। x का मान क्या है?

- Ans 1. 40 प्रतिशत
 2. 30 प्रतिशत
 3. 25 प्रतिशत
 4. 20 प्रतिशत

Question ID : 264330187770
Option 1 ID : 264330735011
Option 2 ID : 264330735008
Option 3 ID : 264330735010
Option 4 ID : 264330735009
Status : Not Answered
Chosen Option : --

Q.9 A और B अकेले-अकेले तौर पर एक काम को क्रमशः 20 दिन और 60 दिन में पूरा कर सकते हैं। उन्होंने एक साथ काम शुरू किया लेकिन A ने कुछ दिनों के बाद काम छोड़ दिया और B ने शेष काम 12 दिनों में पूरा किया। काम की शुरुआत से कितने दिनों के बाद A ने काम छोड़ दिया?

- Ans**
- 1. 12 दिन
 - 2. 10 दिन
 - 3. 15 दिन
 - 4. 9 दिन

Question ID : **264330188630**
Option 1 ID : **264330738324**
Option 2 ID : **264330738323**
Option 3 ID : **264330738325**
Option 4 ID : **264330738322**
Status : **Answered**
Chosen Option : **1**

Q.10 छः दोस्तों की औसत ऊंचाई 144 cm है। 150 cm की ऊंचाई वाला एक लड़का समूह छोड़ देता है। समूह की नई औसत ऊंचाई ज्ञात कीजिए।

- Ans**
- 1. 108.6 cm
 - 2. 142.8 cm
 - 3. 155.5 cm
 - 4. 160.5 cm

Question ID : **264330188084**
Option 1 ID : **264330736264**
Option 2 ID : **264330736267**
Option 3 ID : **264330736266**
Option 4 ID : **264330736265**
Status : **Answered**
Chosen Option : **2**

Q.11 पीतल में तांबे और जस्ते का अनुपात 25 : 12 है। 370 kg पीतल में तांबे की कितनी मात्रा होगी?

- Ans**
- 1. 350 kg
 - 2. 150 kg
 - 3. 50 kg
 - 4. 250 kg

Question ID : **264330191139**
Option 1 ID : **264330747911**
Option 2 ID : **264330747912**
Option 3 ID : **264330747913**
Option 4 ID : **264330747910**
Status : **Not Answered**
Chosen Option : **--**

Q.12 क्रय मूल्य और विक्रय मूल्य के बीच का अंतर 264 रुपए है। यदि लाभ प्रतिशत 33 प्रतिशत है, तो विक्रय मूल्य कितना है?

- Ans
- ✓ 1. 1064 रुपए
 - ✗ 2. 1084 रुपए
 - ✗ 3. 1526 रुपए
 - ✗ 4. 1024 रुपए

Question ID : 264330187288
Option 1 ID : 264330733083
Option 2 ID : 264330733082
Option 3 ID : 264330733080
Option 4 ID : 264330733081
Status : Answered
Chosen Option : 1

Q.13 यदि किसी टेबल का विक्रय मूल्य उसके क्रय मूल्य का 25 प्रतिशत है, तो हानि प्रतिशत कितना है?

- Ans
- ✗ 1. 55 प्रतिशत
 - ✓ 2. 75 प्रतिशत
 - ✗ 3. 45 प्रतिशत
 - ✗ 4. 35 प्रतिशत

Question ID : 264330187507
Option 1 ID : 264330733959
Option 2 ID : 264330733957
Option 3 ID : 264330733958
Option 4 ID : 264330733956
Status : Answered
Chosen Option : 2

Q.14 दो संख्याएं 11 : 13 के अनुपात में हैं। यदि उनका महत्तम समापवर्तक 7 है, तो संख्याएं ज्ञात कीजिए।

- Ans
- ✗ 1. 70 और 80
 - ✗ 2. 21 और 28
 - ✗ 3. 63 और 70
 - ✓ 4. 77 और 91

Question ID : 264330191650
Option 1 ID : 264330749955
Option 2 ID : 264330749957
Option 3 ID : 264330749956
Option 4 ID : 264330749954
Status : Answered
Chosen Option : 4

Q.15 यदि ब्याज वार्षिक रूप से संयोजित हो रहा है, तो 30 प्रतिशत वार्षिक चक्रवृद्धि ब्याज की दर से कितनी धनराशि 2 वर्ष में 9464 रूपए हो जाएगी?

- Ans**
- 1. 6800 रूपए
 - 2. 5400 रूपए
 - 3. 5600 रूपए
 - 4. 5750 रूपए

Question ID : 264330187174
Option 1 ID : 264330732624
Option 2 ID : 264330732625
Option 3 ID : 264330732627
Option 4 ID : 264330732626
Status : Answered
Chosen Option : 3

Q.16 4 संख्याओं का औसत 52 है। प्रथम दो संख्याओं का औसत अन्य दो संख्याओं के औसत का तीन गुना है। प्रथम दो संख्याओं का योग कितना है?

- Ans**
- 1. 147
 - 2. 174
 - 3. 156
 - 4. 148

Question ID : 264330191632
Option 1 ID : 264330749883
Option 2 ID : 264330749882
Option 3 ID : 264330749884
Option 4 ID : 264330749885
Status : Answered
Chosen Option : 3

Q.17 एक व्यक्ति पहले 11 km की दूरी 60 मिनट में और अगले 22 km की दूरी 30 मिनट में तय करता है। पूरी यात्रा के दौरान उसकी औसत चाल कितनी है?

- Ans**
- 1. 22 km/hr
 - 2. 27 km/hr
 - 3. 18 km/hr
 - 4. 25 km/hr

Question ID : 264330187575
Option 1 ID : 264330734231
Option 2 ID : 264330734230
Option 3 ID : 264330734229
Option 4 ID : 264330734228
Status : Answered
Chosen Option : 1

Q.18 एक मूवी टिकट के मूल्य में 18% की वृद्धि की गई। टिकट के मूल्य में वृद्धि होने से दर्शकों की संख्या 25% कम हो गई। आय पर कितना प्रभाव पड़ेगा?

- Ans
- ✓ 1. 11.5% की कमी
 - ✗ 2. 9.5% की कमी
 - ✗ 3. 10% की वृद्धि
 - ✗ 4. 14% की कमी

Question ID : 264330192395
Option 1 ID : 264330752934
Option 2 ID : 264330752935
Option 3 ID : 264330752937
Option 4 ID : 264330752936
Status : Answered
Chosen Option : 1

Q.19 $[19 \times \{24 \div 4 \text{ of } (24 \times 4 \div 16)\}]$ का मान कितना है?

- Ans
- ✗ 1. 76
 - ✗ 2. 38
 - ✗ 3. 1
 - ✓ 4. 19

Question ID : 264330191128
Option 1 ID : 264330747869
Option 2 ID : 264330747868
Option 3 ID : 264330747866
Option 4 ID : 264330747867
Status : Answered
Chosen Option : 4

Q.20 यदि $P : Q : R = 9 : 10 : 11$ है, तो $(P + Q) : (Q + R) : (R + P)$ का मान कितना है?

- Ans
- ✓ 1. 19 : 21 : 20
 - ✗ 2. 19 : 21 : 22
 - ✗ 3. 19 : 21 : 19
 - ✗ 4. 19 : 21 : 23

Question ID : 264330190100
Option 1 ID : 264330743984
Option 2 ID : 264330743982
Option 3 ID : 264330743985
Option 4 ID : 264330743983
Status : Answered
Chosen Option : 1

Section : Part-D-English

Q.1 Find the part of the given sentence that has an error in it. If there is no error, choose 'No error'.

This is the most simple and basic component of life.

- Ans**
- 1. No error
 - 2. simple and basic
 - 3. component of life.
 - 4. This is the most

Question ID : 264330185898
Option 1 ID : 264330727907
Option 2 ID : 264330727905
Option 3 ID : 264330727906
Option 4 ID : 264330727904
Status : Not Answered
Chosen Option : --

Q.2 Select the most appropriate option for the given blank.

Please _____ my apology for this mistake.

- Ans**
- 1. develop
 - 2. accept
 - 3. obtain
 - 4. acquire

Question ID : 264330185602
Option 1 ID : 264330726776
Option 2 ID : 264330726777
Option 3 ID : 264330726779
Option 4 ID : 264330726778
Status : Not Answered
Chosen Option : --

Q.3 The sentence has been divided into three parts, identify the error segment in the sentence given below. Choose no error if there is no error in the sentence.

After a long day at work, he decided to switch of his' phone, disconnecting from the digital world/ to immerse himself in a good book.

- Ans**
- 1. no error
 - 2. to immerse himself in a good book.
 - 3. After a long day at work, he decided to switch of his
 - 4. phone, disconnecting from the digital world

Question ID : 264330186402
Option 1 ID : 264330729827
Option 2 ID : 264330729826
Option 3 ID : 264330729824
Option 4 ID : 264330729825
Status : Not Answered
Chosen Option : --

Q.4 In the following question, out of the given four alternatives, select the alternative which best expresses the meaning of the Idiom/Phrase.
Under the sun

- Ans**
- 1. On earth
 - 2. In public
 - 3. At high risk
 - 4. Under suspicion

Question ID : 264330185787
Option 1 ID : 264330727482
Option 2 ID : 264330727483
Option 3 ID : 264330727481
Option 4 ID : 264330727480
Status : Not Answered
Chosen Option : --

Q.5 Select the sentence with no spelling errors.

- Ans**
- 1. The man walks with a great deal of poise, in fact, very much like an elephant, but he also has the agility of the panthur.
 - 2. The man walks with a great deal of poise, in fact, very much like an elephant, but he also has the agility of the panther.
 - 3. The man walks with a great deel of poise, in fact, very much like an ephalnt, but he also has the agility of the panther.
 - 4. The man walks with a grate deal of poise, in fact, very much like an elephant, but he also has the agelity of the panther.

Question ID : 264330185769
Option 1 ID : 264330727414
Option 2 ID : 264330727412
Option 3 ID : 264330727413
Option 4 ID : 264330727415
Status : Not Answered
Chosen Option : --

Q.6 Choose the most appropriate synonym of the underlined word.

This query is no doubt a very correct and moral one, but it seems somewhat cryptic.

- Ans**
- 1. Mysterious
 - 2. Common
 - 3. Clear
 - 4. Obvious

Question ID : 264330185784
Option 1 ID : 264330727470
Option 2 ID : 264330727469
Option 3 ID : 264330727471
Option 4 ID : 264330727468
Status : Not Answered
Chosen Option : --

Q.7 Choose the idiom/phrase that can substitute the highlighted group of words meaningfully.

She never has to worry about money as she is **born into a very rich family**.

- Ans
- 1. Out of the blue
 - 2. Born with a silver spoon in mouth
 - 3. Spill the beans
 - 4. Eats like a bird

Question ID : 264330186377
Option 1 ID : 264330729730
Option 2 ID : 264330729728
Option 3 ID : 264330729729
Option 4 ID : 264330729731
Status : Not Answered
Chosen Option : --

Q.8 Choose the most appropriate antonym of the underlined word.

While some people may face legitimate obstacles, others are just **obstinate**.

- Ans
- 1. firm
 - 2. obedient
 - 3. dogged
 - 4. stubborn

Question ID : 264330186059
Option 1 ID : 264330728518
Option 2 ID : 264330728517
Option 3 ID : 264330728519
Option 4 ID : 264330728516
Status : Not Answered
Chosen Option : --

Q.9 Fill in the blank with the most appropriate option.

His first movement after the shock _____ to work in his loom; and he went on with this unremittingly.

- Ans
- 1. has being
 - 2. have been
 - 3. had been
 - 4. was been

Question ID : 264330186933
Option 1 ID : 264330731851
Option 2 ID : 264330731850
Option 3 ID : 264330731848
Option 4 ID : 264330731849
Status : Not Answered
Chosen Option : --

Q.10 Select the word segment that substitutes (replaces) the bracketed word segment correctly and completes the sentence meaningfully. Select the option 'no correction required' if the sentence is correct as given.

Sapna was abstracted, biting her lip restlessly and reading over the guide-books to the battle-field that Suraj (had brought along).

Ans ✓ 1. No correction required

✗ 2. have brought along

✗ 3. has brought along

✗ 4. have brought

Question ID : 264330186909

Option 1 ID : 264330731759

Option 2 ID : 264330731756

Option 3 ID : 264330731757

Option 4 ID : 264330731758

Status : Not Answered

Chosen Option : --

Q.11 Select the incorrectly spelt word from the given sentence.

The univarsity claims students can face a law-suit or fine for violating the UNO smoking prohibition.

Ans ✗ 1. claims

✓ 2. univarsity

✗ 3. violating

✗ 4. prohibition

Question ID : 264330186041

Option 1 ID : 264330728449

Option 2 ID : 264330728448

Option 3 ID : 264330728450

Option 4 ID : 264330728451

Status : Not Answered

Chosen Option : --

Q.12 Fill in the blank with the correct homophone.

In the dense forest, a mother _____ and her cubs roamed freely, enjoying the tranquillity of their natural habitat.

Ans ✗ 1. Ber

✗ 2. bare

✗ 3. beer

✓ 4. bear

Question ID : 264330186464

Option 1 ID : 264330730063

Option 2 ID : 264330730061

Option 3 ID : 264330730062

Option 4 ID : 264330730060

Status : Not Answered

Chosen Option : --

Q.13 Select the most appropriate word to fill in the blank.

He was dismissed for being combative and antagonistic _____ his supervisor.

- Ans**
- 1. through
 - 2. towards
 - 3. about
 - 4. above

Question ID : 264330186154
Option 1 ID : 264330728880
Option 2 ID : 264330728883
Option 3 ID : 264330728881
Option 4 ID : 264330728882
Status : Not Answered
Chosen Option : --

Q.14 Find the part of the given sentence that has an error in it. If there is no error, choose 'No error'.

We had been collected and studied over 14,000 dung beetles from 98 different species.

- Ans**
- 1. beetles from 98 different species.
 - 2. We had been collected and
 - 3. No error
 - 4. studied over 14,000 dung

Question ID : 264330186004
Option 1 ID : 264330728310
Option 2 ID : 264330728308
Option 3 ID : 264330728311
Option 4 ID : 264330728309
Status : Not Answered
Chosen Option : --

Q.15 Improve the underlined part of the sentence. Choose 'No improvement' as an answer if the sentence is grammatically correct.

I can't wait to gone camping next weekend.

- Ans**
- 1. No improvement
 - 2. going camping
 - 3. go camps
 - 4. go camping

Question ID : 264330186027
Option 1 ID : 264330728399
Option 2 ID : 264330728397
Option 3 ID : 264330728398
Option 4 ID : 264330728396
Status : Not Answered
Chosen Option : --

Comprehension:

Read the passage carefully and select the correct answer for the given blanks out of the four alternatives.

The number of measles cases (1) _____ the world increased by 18 per cent during the same period, the report said, bringing the total number of infections (2) _____ nine million.

Measles, a (3) _____ contagious viral disease, spreads through respiratory droplets (4) _____ by the breath, sneeze or cough of an infected person. It may result in serious illness or even death. Some 37 countries saw significant or disruptive measles (5) _____ in 2022, compared to 22 nations in 2021.

SubQuestion No : 16

Q.16 Select the most appropriate option for blank(1)

- Ans
- 1. for
 - 2. across
 - 3. along
 - 4. through

Question ID : 264330186284
Option 1 ID : 264330729375
Option 2 ID : 264330729372
Option 3 ID : 264330729373
Option 4 ID : 264330729374
Status : Not Answered
Chosen Option : --

Comprehension:

Read the passage carefully and select the correct answer for the given blanks out of the four alternatives.

The number of measles cases (1) _____ the world increased by 18 per cent during the same period, the report said, bringing the total number of infections (2) _____ nine million.

Measles, a (3) _____ contagious viral disease, spreads through respiratory droplets (4) _____ by the breath, sneeze or cough of an infected person. It may result in serious illness or even death. Some 37 countries saw significant or disruptive measles (5) _____ in 2022, compared to 22 nations in 2021.

SubQuestion No : 17

Q.17 Select the most appropriate option for blank(2)

- Ans
- 1. in
 - 2. to
 - 3. upon
 - 4. too

Question ID : 264330186285
Option 1 ID : 264330729378
Option 2 ID : 264330729377
Option 3 ID : 264330729379
Option 4 ID : 264330729376
Status : Not Answered
Chosen Option : --

Comprehension:

Read the passage carefully and select the correct answer for the given blanks out of the four alternatives.

The number of measles cases (1) _____ the world increased by 18 per cent during the same period, the report said, bringing the total number of infections (2) _____ nine million.

Measles, a (3) _____ contagious viral disease, spreads through respiratory droplets (4) _____ by the breath, sneeze or cough of an infected person. It may result in serious illness or even death. Some 37 countries saw significant or disruptive measles (5) _____ in 2022, compared to 22 nations in 2021.

SubQuestion No : 18

Q.18 Select the most appropriate option for blank(3)

- Ans
- 1. great
 - 2. partially
 - 3. highly
 - 4. mutant

Question ID : 264330186286

Option 1 ID : 264330729382

Option 2 ID : 264330729381

Option 3 ID : 264330729383

Option 4 ID : 264330729380

Status : Not Answered

Chosen Option : --

Comprehension:

Read the passage carefully and select the correct answer for the given blanks out of the four alternatives.

The number of measles cases (1) _____ the world increased by 18 per cent during the same period, the report said, bringing the total number of infections (2) _____ nine million.

Measles, a (3) _____ contagious viral disease, spreads through respiratory droplets (4) _____ by the breath, sneeze or cough of an infected person. It may result in serious illness or even death. Some 37 countries saw significant or disruptive measles (5) _____ in 2022, compared to 22 nations in 2021.

SubQuestion No : 19

Q.19 Select the most appropriate option for blank(4)

- Ans
- 1. transited
 - 2. transported
 - 3. transgressed
 - 4. transmitted

Question ID : 264330186287

Option 1 ID : 264330729387

Option 2 ID : 264330729385

Option 3 ID : 264330729386

Option 4 ID : 264330729384

Status : Not Answered

Chosen Option : --

Comprehension:

Read the passage carefully and select the correct answer for the given blanks out of the four alternatives.

The number of measles cases (1)_____ the world increased by 18 per cent during the same period, the report said, bringing the total number of infections (2)_____ nine million.

Measles, a (3)_____ contagious viral disease, spreads through respiratory droplets (4)_____ by the breath, sneeze or cough of an infected person. It may result in serious illness or even death. Some 37 countries saw significant or disruptive measles (5)_____ in 2022, compared to 22 nations in 2021.

SubQuestion No : 20

Q.20 Select the most appropriate option for blank(5)

- Ans**
- 1. pointer
 - 2. outbreak
 - 3. ailment
 - 4. break

Question ID : 264330186288
Option 1 ID : 264330729390
Option 2 ID : 264330729389
Option 3 ID : 264330729388
Option 4 ID : 264330729391
Status : Not Answered
Chosen Option : --

Section : Part-D-Hindi

Q.1 दिए गए वाक्य में रेखांकित शब्दों के लिए सही शब्दों वाले विकल्प का चयन करें।

कैदियों को कुत्ते की तरह घसीटा गया।

- Ans**
- 1. कैदियों के कुत्तों की तरह घसीटा गया।
 - 2. परिवर्तन की आवश्यकता नहीं है।
 - 3. कैदियों के कुत्ता को तरह घसीटा गया।
 - 4. कैदियों को कुत्तों की तरह घसीटा गया।

Question ID : 264330189165
Option 1 ID : 264330740419
Option 2 ID : 264330740421
Option 3 ID : 264330740420
Option 4 ID : 264330740418
Status : Answered
Chosen Option : 2

Q.2 निम्नलिखित प्रश्न में, चार विकल्पों में से, उस विकल्प का चयन करें जो कोष्ठक में दिए गए शब्द के पर्यायवाची शब्द का सही विकल्प नहीं है।
मेरे परिवार में सभी को (आम) _____ खाना बहुत पसंद है।

- Ans
- 1. रसाल
 - 2. फलराज
 - 3. अंकुसी
 - 4. अतिसौरभ

Question ID : 264330189805
Option 1 ID : 264330742857
Option 2 ID : 264330742855
Option 3 ID : 264330742856
Option 4 ID : 264330742854
Status : Answered
Chosen Option : 1

Q.3 दिए गए वाक्य में उचित देशज-विदेशज शब्द का चयन करके रिक्त स्थान की पूर्ति कीजिए।
वाह! तुम तो बहुत बड़े _____ बन गए हो।

- Ans
- 1. थैटर
 - 2. अफसर
 - 3. नीलाम
 - 4. लालटेन

Question ID : 264330190043
Option 1 ID : 264330743765
Option 2 ID : 264330743763
Option 3 ID : 264330743762
Option 4 ID : 264330743764
Status : Answered
Chosen Option : 2

Q.4 दिए गए वाक्य में तत्सम शब्द का चयन करके रिक्त स्थान की पूर्ति करें।
भिखारी को _____ दे दो।

- Ans
- 1. भ्रमर
 - 2. भू
 - 3. भिक्षा
 - 4. भिक्षुक

Question ID : 264330188308
Option 1 ID : 264330737123
Option 2 ID : 264330737122
Option 3 ID : 264330737121
Option 4 ID : 264330737120
Status : Answered
Chosen Option : 3

Q.5 निम्नलिखित प्रश्न में, दिए गए चार विकल्पों में से, उस विकल्प का चयन करें जो दिए गए मुहावरे के अर्थ को सर्वश्रेष्ठ रूप से व्यक्त करता है।

कहा सुनी होना

- Ans**
- 1. वश न चलना
 - 2. प्यार जताना
 - 3. वाद-विवाद होना
 - 4. दुखी हो जाना

Question ID : 264330189389

Option 1 ID : 264330741273

Option 2 ID : 264330741272

Option 3 ID : 264330741270

Option 4 ID : 264330741271

Status : Answered

Chosen Option : 2

Q.6 निम्नलिखित प्रश्न में, चार विकल्पों में से, उस विकल्प का चयन करें जो कोष्ठक में दिए गए शब्द के विलोम शब्द का सही विकल्प है।

सफर के दौरान हमने देखा कि फलों से (अवनत) _____ डालियाँ धरती को चूम रही हैं।

- Ans**
- 1. झुकी हुई
 - 2. लदी
 - 3. भरी
 - 4. उन्नत

Question ID : 264330189764

Option 1 ID : 264330742699

Option 2 ID : 264330742700

Option 3 ID : 264330742701

Option 4 ID : 264330742698

Status : Answered

Chosen Option : 4

Q.7 निम्नलिखित प्रश्न में, दिए गए चार विकल्पों में से, उस विकल्प का चयन करें जो दिए गए मुहावरे के अर्थ को सर्वश्रेष्ठ रूप से व्यक्त करता है।

तंग हाल होना

- Ans**
- 1. बहुत अधिक बीमार होना
 - 2. मानसिक बीमारी होना
 - 3. आर्थिक तंगी होना
 - 4. युद्ध में फंसना

Question ID : 264330190039

Option 1 ID : 264330743747

Option 2 ID : 264330743749

Option 3 ID : 264330743748

Option 4 ID : 264330743746

Status : Answered

Chosen Option : 3

Q.8 निम्नलिखित प्रश्न में, चार विकल्पों में से, उस विकल्प का चयन करें जो कोष्ठक में दिए गए शब्द के पर्यायवाची शब्द का सही विकल्प है।
आज की सभा में सिर्फ कुछ ही लोग (इकट्ठा) _____ हुए थे।

- Ans
- 1. आदर
 - 2. स्वीकृत
 - 3. समवेत
 - 4. संकलित

Question ID : 264330189783
Option 1 ID : 264330742770
Option 2 ID : 264330742771
Option 3 ID : 264330742772
Option 4 ID : 264330742773
Status : Answered
Chosen Option : 4

Q.9 निम्नलिखित प्रश्न में, चार विकल्पों में से, उस विकल्प का चयन करें जो रिक्त स्थान के लिए सही भाववाचक संज्ञा वाला विकल्प हो।
किसी ने सच ही कहा है, जिसे _____ आता है वही माता के दर्शन के लिए जा पता है।

- Ans
- 1. बुलाना
 - 2. बुलवाया
 - 3. बुलावा
 - 4. बुला

Question ID : 264330189730
Option 1 ID : 264330742571
Option 2 ID : 264330742570
Option 3 ID : 264330742572
Option 4 ID : 264330742573
Status : Answered
Chosen Option : 3

Q.10 दिए गए वाक्य में रेखांकित शब्द का विलोम शब्द ज्ञात कीजिए।

कृष्ण जी को उनके रंग के कारण श्याम भी कहते हैं।

- Ans
- 1. श्वेत
 - 2. जंगम
 - 3. कान्हा
 - 4. व्यास

Question ID : 264330188239
Option 1 ID : 264330736856
Option 2 ID : 264330736858
Option 3 ID : 264330736859
Option 4 ID : 264330736857
Status : Answered
Chosen Option : 2

Q.11 निम्नलिखित प्रश्न में, चार विकल्पों में से, उस विकल्प का चयन करें जो रिक्त स्थान के लिए सही शब्द वाला विकल्प हो।
आज वही देश सबसे _____ है जिसके पास ज्ञान की अद्भुत शक्ति है।

- Ans
- 1. हारा हुआ
 - 2. दुखी
 - 3. पिछड़ा
 - 4. कामयाब

Question ID : 264330188374
Option 1 ID : 264330737374
Option 2 ID : 264330737375
Option 3 ID : 264330737372
Option 4 ID : 264330737373
Status : Answered
Chosen Option : 4

Q.12 दिए गए विकल्पों में से शुद्ध वर्तनी वाले विकल्प का चयन करें।

- Ans
- 1. मेरी प्रार्थना स्वीकार करें।
 - 2. आग लगने का कारड़ सब नष्ट हो गया।
 - 3. किसकी तेयारी कर रहे हो?
 - 4. मृत्यू पर किसी का वश नहीं चलता।

Question ID : 264330189453
Option 1 ID : 264330741515
Option 2 ID : 264330741517
Option 3 ID : 264330741514
Option 4 ID : 264330741516
Status : Answered
Chosen Option : 1

Q.13 निम्नलिखित वाक्य में, उस वाक्यांश को पहचानिए जिसमें मात्राओं से संबंधित अशुद्धियाँ हैं। यदि कोई गलती नहीं है तो 'कोई त्रुटि नहीं है' का चुनाव कीजिए।
होली पर हमें अप्राकृतिक रंगों से त्यौहार को नहीं मनाना/ चाहिए बल्कि प्राकृतिक फूलों के रंग से और/ अबीर को होली खेलनी चाहिए।

- Ans
- 1. चाहिए बल्कि प्राकृतिक फूलों के रंग से और
 - 2. अबीर को होली खेलनी चाहिए
 - 3. कोई त्रुटि नहीं है
 - 4. होली पर हमें अप्राकृतिक रंगों से त्यौहार को नहीं मनाना

Question ID : 264330189706
Option 1 ID : 264330742479
Option 2 ID : 264330742480
Option 3 ID : 264330742481
Option 4 ID : 264330742478
Status : Answered
Chosen Option : 2

Q.14 दिए गए वाक्य का वह भाग ज्ञात करें, जिसमें कोई त्रुटि है।

विद्वानों के बीच बोलने का उत्साह भला कौन ही करेगा।

- Ans
- ✗ 1. विद्वानों के बीच
 - ✗ 2. ही करेगा।
 - ✗ 3. बोलने का
 - ✓ 4. उत्साह भला कौन

Question ID : 264330189962
Option 1 ID : 264330743454
Option 2 ID : 264330743457
Option 3 ID : 264330743455
Option 4 ID : 264330743456
Status : Answered
Chosen Option : 4

Q.15 दिए गए वाक्य में रेखांकित शब्दों के लिए सही शब्दों वाले विकल्प का चयन करें।

जो परिश्रम करते हैं, वह सफल होते हैं।

- Ans
- ✗ 1. जो परिश्रम करते हैं, जो सफल होते हैं।
 - ✗ 2. जो परिश्रम करते हैं, वह सफल होता है।
 - ✗ 3. जो परिश्रम करते हैं, वैसे सफल होते हैं।
 - ✓ 4. जो परिश्रम करते हैं, वे सफल होते हैं।

Question ID : 264330189060
Option 1 ID : 264330740020
Option 2 ID : 264330740018
Option 3 ID : 264330740021
Option 4 ID : 264330740019
Status : Answered
Chosen Option : 4

Comprehension:

नीचे दिए गए गद्य में कुछ शब्द छोड़ दिए गए हैं और प्रत्येक रिक्त स्थान के चार विकल्प दिए गए हैं। इन चारों में से कौन सा विकल्प रिक्त स्थान की पूर्ति करेगा-

इतिहास साक्षी है कि किसी राष्ट्र का गौरव तभी (1)_____ रहता है जब वो अपने स्वाभिमान और बलिदान की परम्पराओं को अगली (2)_____ को भी सिखाता है, संस्कारित करता है, उन्हें इसके लिए (3)_____ प्रेरित करता है। किसी राष्ट्र का भविष्य तभी (4)_____ होता है जब वो अपने अतीत के अनुभवों और विरासत के गर्व से पल-पल जुड़ा रहता है। फिर भारत के पास तो गर्व करने के लिए अथाह भंडार है, समृद्ध इतिहास है, चेतनामय सांस्कृतिक (5)_____ है।

SubQuestion No : 16

Q.16 रिक्त1 के लिए सबसे उपयुक्त विकल्प का चयन कीजिए।

- Ans
- 1. निद्रा
 - 2. प्रतिष्ठा
 - 3. जाग्रत
 - 4. चेतन

Question ID : 264330189020

Option 1 ID : 264330739863

Option 2 ID : 264330739864

Option 3 ID : 264330739862

Option 4 ID : 264330739865

Status : Answered

Chosen Option : 4

Comprehension:

नीचे दिए गए गद्य में कुछ शब्द छोड़ दिए गए हैं और प्रत्येक रिक्त स्थान के चार विकल्प दिए गए हैं। इन चारों में से कौन सा विकल्प रिक्त स्थान की पूर्ति करेगा-

इतिहास साक्षी है कि किसी राष्ट्र का गौरव तभी (1)_____ रहता है जब वो अपने स्वाभिमान और बलिदान की परम्पराओं को अगली (2)_____ को भी सिखाता है, संस्कारित करता है, उन्हें इसके लिए (3)_____ प्रेरित करता है। किसी राष्ट्र का भविष्य तभी (4)_____ होता है जब वो अपने अतीत के अनुभवों और विरासत के गर्व से पल-पल जुड़ा रहता है। फिर भारत के पास तो गर्व करने के लिए अथाह भंडार है, समृद्ध इतिहास है, चेतनामय सांस्कृतिक (5)_____ है।

SubQuestion No : 17

Q.17 रिक्त2 के लिए सबसे उपयुक्त विकल्प का चयन कीजिए।

- Ans
- 1. नवीन
 - 2. दुनिया
 - 3. प्राचीन
 - 4. पीढ़ी

Question ID : 264330189021

Option 1 ID : 264330739867

Option 2 ID : 264330739869

Option 3 ID : 264330739866

Option 4 ID : 264330739868

Status : Answered

Chosen Option : 4

Comprehension:

नीचे दिए गए गद्य में कुछ शब्द छोड़ दिए गए हैं और प्रत्येक रिक्त स्थान के चार विकल्प दिए गए हैं। इन चारों में से कौन सा विकल्प रिक्त स्थान की पूर्ति करेगा-

इतिहास साक्षी है कि किसी राष्ट्र का गौरव तभी (1)_____ रहता है जब वो अपने स्वाभिमान और बलिदान की परम्पराओं को अगली (2)_____ को भी सिखाता है, संस्कारित करता है, उन्हें इसके लिए (3)_____ प्रेरित करता है। किसी राष्ट्र का भविष्य तभी (4)_____ होता है जब वो अपने अतीत के अनुभवों और विरासत के गर्व से पल-पल जुड़ा रहता है। फिर भारत के पास तो गर्व करने के लिए अथाह भंडार है, समृद्ध इतिहास है, चेतनामय सांस्कृतिक (5)_____ है।

SubQuestion No : 18

Q.18 रिक्त3 के लिए सबसे उपयुक्त विकल्प का चयन कीजिए।

- Ans**
- 1. घनिष्ठ
 - 2. अनेक
 - 3. घोर
 - 4. निरंतर

Question ID : 264330189022

Option 1 ID : 264330739872

Option 2 ID : 264330739873

Option 3 ID : 264330739870

Option 4 ID : 264330739871

Status : Answered

Chosen Option : 4

Comprehension:

नीचे दिए गए गद्य में कुछ शब्द छोड़ दिए गए हैं और प्रत्येक रिक्त स्थान के चार विकल्प दिए गए हैं। इन चारों में से कौन सा विकल्प रिक्त स्थान की पूर्ति करेगा-

इतिहास साक्षी है कि किसी राष्ट्र का गौरव तभी (1)_____ रहता है जब वो अपने स्वाभिमान और बलिदान की परम्पराओं को अगली (2)_____ को भी सिखाता है, संस्कारित करता है, उन्हें इसके लिए (3)_____ प्रेरित करता है। किसी राष्ट्र का भविष्य तभी (4)_____ होता है जब वो अपने अतीत के अनुभवों और विरासत के गर्व से पल-पल जुड़ा रहता है। फिर भारत के पास तो गर्व करने के लिए अथाह भंडार है, समृद्ध इतिहास है, चेतनामय सांस्कृतिक (5)_____ है।

SubQuestion No : 19

Q.19 रिक्त4 के लिए सबसे उपयुक्त विकल्प का चयन कीजिए।

- Ans**
- 1. मालूम
 - 2. नीचता
 - 3. उज्वल
 - 4. चिंताजनक

Question ID : 264330189023

Option 1 ID : 264330739876

Option 2 ID : 264330739875

Option 3 ID : 264330739877

Option 4 ID : 264330739874

Status : Answered

Chosen Option : 3

Comprehension:

नीचे दिए गए गद्य में कुछ शब्द छोड़ दिए गए हैं और प्रत्येक रिक्त स्थान के चार विकल्प दिए गए हैं। इन चारों में से कौन सा विकल्प रिक्त स्थान की पूर्ति करेगा-

इतिहास साक्षी है कि किसी राष्ट्र का गौरव तभी (1)_____ रहता है जब वो अपने स्वाभिमान और बलिदान की परम्पराओं को अगली (2)_____ को भी सिखाता है, संस्कारित करता है, उन्हें इसके लिए (3)_____ प्रेरित करता है। किसी राष्ट्र का भविष्य तभी (4)_____ होता है जब वो अपने अतीत के अनुभवों और विरासत के गर्व से पल-पल जुड़ा रहता है। फिर भारत के पास तो गर्व करने के लिए अथाह भंडार है, समृद्ध इतिहास है, चेतनामय सांस्कृतिक (5)_____ है।

SubQuestion No : 20

Q.20 रिक्त5 के लिए सबसे उपयुक्त विकल्प का चयन कीजिए।

- Ans**
- 1. कोष्टक
 - 2. विरासत
 - 3. खानदान
 - 4. विडंबना

Question ID : 264330189024

Option 1 ID : 264330739881

Option 2 ID : 264330739878

Option 3 ID : 264330739879

Option 4 ID : 264330739880

Status : Answered

Chosen Option : 2

www.exammix.com

Constable GD in Central Armed Police Forces CAPFs SSF Rifleman GD in Assam Rifles Examination 2024

Roll Number	
Candidate Name	
Venue Name	
Exam Date	20/02/2024
Exam Time	5:00 PM - 6:00 PM
Subject	Constable GD Examination 2024

Section : Part-A-General Intelligence and Reasoning

Q.1 निम्नलिखित प्रश्न में कुछ कथन और उन कथनों के आधार पर कुछ निष्कर्ष दिए गए हैं। आपको दिए गए कथनों को सत्य मानना है, चाहे वे सामान्यतः ज्ञात तथ्यों से भिन्न प्रतीत होते हों। सभी निष्कर्षों को ध्यानपूर्वक पढ़िए और निश्चय कीजिए कि दिए गए निष्कर्षों में से कौन-सा/कौन-से निष्कर्ष कथनों का तार्किक रूप से अनुसरण करता है/करते हैं।

कथन:

- I. कुछ नमकीन, पिज्जा हैं।
- II. कोई पिज्जा, बिस्किट नहीं है।

निष्कर्ष:

- I. कोई बिस्किट, नमकीन नहीं है।
- II. कोई बिस्किट, पिज्जा नहीं है।
- III. कुछ पिज्जा, बिस्किट नहीं हैं।

- Ans**
- 1. निष्कर्ष I और III दोनों कथनों का अनुसरण करते हैं
 - 2. निष्कर्ष II और III दोनों कथनों का अनुसरण करते हैं
 - 3. केवल निष्कर्ष III कथनों का अनुसरण करता है
 - 4. सभी निष्कर्ष कथनों का अनुसरण करते हैं

Question ID : 264330187349

Option 1 ID : 264330733325

Option 2 ID : 264330733326

Option 3 ID : 264330733324

Option 4 ID : 264330733327

Status : Not Answered

Chosen Option : --

Q.2 एक निश्चित कूट भाषा में, 'MATURE' को '82' लिखा जाता है, 'HIGHER' को '59' लिखा जाता है। उसी कूट भाषा में, 'ASIAN' को कैसे लिखा जाएगा?

- Ans**
- 1. 46
 - 2. 48
 - 3. 42
 - 4.

Question ID : 264330190213

Option 1 ID : 264330744434

Option 2 ID : 264330744435

Option 3 ID : 264330744436

Option 4 ID : 264330744437

Status : Answered

Chosen Option : 1

Q.3 निम्नलिखित प्रश्न में, दिए गए विकल्पों में से संबंधित अक्षरों का चयन कीजिए।

KBZ : HYW :: VIF : ?

- Ans
- 1. HVA
 - 2. NOP
 - 3. SFC
 - 4. SHM

Question ID : 264330190190

Option 1 ID : 264330744342

Option 2 ID : 264330744344

Option 3 ID : 264330744345

Option 4 ID : 264330744343

Status : Answered

Chosen Option : 2

Q.4 आठ एथलीट सुनील, अभिषेक, मोहित, चीनू, राहुल, तनु, कोयल और अंकित एक वृत्ताकार मेज के चारों ओर केंद्र से बाहर की ओर मुख करके बैठे हैं (परंतु जरूरी नहीं कि वे इसी क्रम में बैठे हों)। कोयल, राहुल के बाईं ओर से तीसरे स्थान पर बैठी है। तनु, चीनू के दाईं ओर से तीसरे स्थान पर बैठी है। मोहित, सुनील के दाईं ओर से दूसरे स्थान पर बैठा है। अभिषेक, चीनू के बाईं ओर से दूसरे स्थान पर बैठा है। तनु, सुनील के बाईं ओर से दूसरे स्थान पर बैठी है। कोयल के बाईं ओर से दूसरे स्थान पर कौन बैठा/बैठी है?

- Ans
- 1. राहुल
 - 2. तनु
 - 3. मोहित
 - 4. सुनील

Question ID : 264330190456

Option 1 ID : 264330745409

Option 2 ID : 264330745407

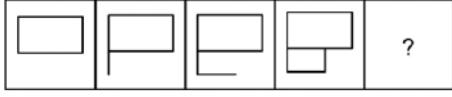
Option 3 ID : 264330745406

Option 4 ID : 264330745408

Status : Answered

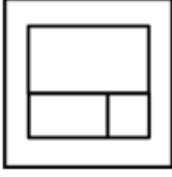
Chosen Option : 2

Q.5 दिए गए विकल्पों में से उस आकृति का चयन कीजिए जिसे दी गई आकृति श्रृंखला में प्रश्न चिह्न (?) के स्थान पर रखा जा सकता है।

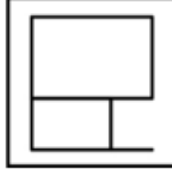


Ans


✗ 1.




✓ 2.



✗ 3.



✗ 4.



Question ID : 264330192204

Option 1 ID : 264330752170

Option 2 ID : 264330752173

Option 3 ID : 264330752172

Option 4 ID : 264330752171

Status : Answered

Chosen Option : 1

Q.6 दिए गए विकल्पों में से किन दो संख्याओं को आपस में बदलने पर निम्नलिखित समीकरण सही होगा?

$$5 - 3 \times 0 + 1 = 2$$

Ans

✗ 1. 5 और 3

✗ 2. 5 और 2

✗ 3. 1 और 3

✓ 4. 2 और 0

Question ID : 264330192322

Option 1 ID : 264330752642

Option 2 ID : 264330752644

Option 3 ID : 264330752645

Option 4 ID : 264330752643

Status : Answered

Chosen Option : 1

Q.7 निम्नलिखित प्रश्न में, दिए गए विकल्पों में से श्रृंखला से लुप्त संख्या का चयन कीजिए।

86, 107, 82, 111, 78, 115, ?

Ans ✓ 1. 74

✗ 2. 78

✗ 3. 72

✗ 4. 76

Question ID : 264330190159

Option 1 ID : 264330744221

Option 2 ID : 264330744219

Option 3 ID : 264330744220

Option 4 ID : 264330744218

Status : Answered

Chosen Option : 3

Q.8 निम्न में से कौन-सी उत्तर आकृति प्रश्न आकृति के पैटर्न को पूरा करेगी? (घूर्णन की अनुमति नहीं है)



Ans

✓ 1.



✗ 2.



✗ 3.



✗ 4.



Question ID : 264330191365

Option 1 ID : 264330748817

Option 2 ID : 264330748814

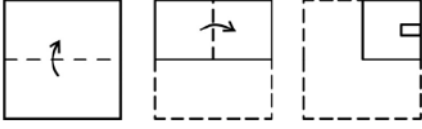
Option 3 ID : 264330748815

Option 4 ID : 264330748816

Status : Answered

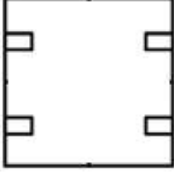
Chosen Option : 1

Q.9 नीचे दर्शाए गए अनुसार एक कागज को मोड़कर काटा जाता है। खोले जाने पर यह कैसा दिखाई देगा?

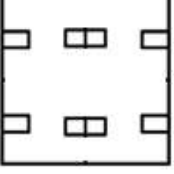


Ans

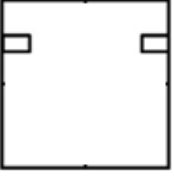
✓ 1.



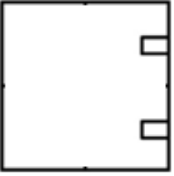
✗ 2.



✗ 3.



✗ 4.



Question ID : 264330191607

Option 1 ID : 264330749785

Option 2 ID : 264330749784

Option 3 ID : 264330749783

Option 4 ID : 264330749782

Status : Answered

Chosen Option : 1


www.exammix.com

Q.10 दी गई विकल्प आकृतियों में से उस आकृति का चयन कीजिए जिसमें प्रश्न आकृति छिपी हुई/निहित है। (पूर्णांक की अनुमति नहीं है)

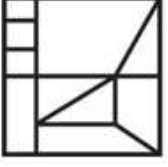


Ans

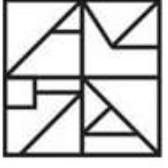
✗ 1.



✗ 2.



✓ 3.



✗ 4.



Question ID : 264330187377

Option 1 ID : 264330733439

Option 2 ID : 264330733437

Option 3 ID : 264330733436

Option 4 ID : 264330733438

Status : Answered

Chosen Option : 1

Q.11 पांच दोस्त पूजा, भावना, चारु, गीता और हेमा एक वृताकार मेज के चारों ओर केंद्र की ओर मुख करके बैठी हैं। चारु भावना की पड़ोसी नहीं है। भावना, हेमा के बाईं ओर से दूसरे स्थान पर बैठी है। गीता, भावना और हेमा की पड़ोसी है। भावना के ठीक दाईं ओर कौन बैठा है?

Ans

✗ 1. चारु

✗ 2. हेमा

✗ 3. पूजा

✓ 4. गीता

Question ID : 264330187047

Option 1 ID : 264330732119

Option 2 ID : 264330732118

Option 3 ID : 264330732116

Option 4 ID : 264330732117

Status : Answered

Chosen Option : 1

Q.12 किन दो चिन्हों और दो संख्याओं (न कि अंक) को आपस में बदलने पर समीकरण सही होगा?

$$8 + 6 \times 4 - 3 \div 1 = 2$$

- Ans
- ✓ 1. + और -, 6 और 3
 - ✗ 2. + और ÷, 1 और 8
 - ✗ 3. × और ÷, 8 और 3
 - ✗ 4. × और ÷, 6 और 3

Question ID : 264330187452
Option 1 ID : 264330733738
Option 2 ID : 264330733737
Option 3 ID : 264330733736
Option 4 ID : 264330733739
Status : Answered
Chosen Option : 4

Q.13 दिए गए विकल्पों में से निम्नलिखित श्रृंखला से लुप्त संख्या का चयन कीजिए।

6075, 2025, ?, 225, 75

- Ans
- ✓ 1. 675
 - ✗ 2. 690
 - ✗ 3. 680
 - ✗ 4. 700

Question ID : 264330187350
Option 1 ID : 264330733328
Option 2 ID : 264330733331
Option 3 ID : 264330733329
Option 4 ID : 264330733330
Status : Answered
Chosen Option : 1

Q.14 नीचे दिए गए शब्दों को अंग्रेजी शब्दकोश के क्रम के अनुसार व्यवस्थित करने के बाद, कौन-सा शब्द 'तीसरे' स्थान पर आएगा?

- 1. Small
- 2. Smart
- 3. Smack
- 4. Smash
- 5. Smatter

- Ans
- ✓ 1. Smart
 - ✗ 2. Smash
 - ✗ 3. Small
 - ✗ 4. Smack

Question ID : 264330187421
Option 1 ID : 264330733614
Option 2 ID : 264330733615
Option 3 ID : 264330733612
Option 4 ID : 264330733613
Status : Answered
Chosen Option : 1

Q.15 'Q × R' का अर्थ है 'Q, R की पत्नी है'

'Q + R' का अर्थ है 'Q, R का पति है'

'Q ÷ R' का अर्थ है 'Q, R की बेटी है'

'Q - R' का अर्थ है 'Q, R का भाई है'

व्यंजक 'S - T ÷ U + V' में, V का T से क्या संबंध है?

Ans 1. पत्नी

2. मां

3. बेटी

4. बहन

Question ID : 264330190714

Option 1 ID : 264330746287

Option 2 ID : 264330746288

Option 3 ID : 264330746289

Option 4 ID : 264330746286

Status : Answered

Chosen Option : 2

Q.16 निम्नलिखित में से कौन-सा अक्षर समूह दी गई श्रृंखला में रिक्त स्थान () पर आएगा?

PRQ, QSR, ____, SUT, TVU

Ans 1. RTS

2. RST

3. QTS

4. RUS

Question ID : 264330192249

Option 1 ID : 264330752351

Option 2 ID : 264330752350

Option 3 ID : 264330752352

Option 4 ID : 264330752353

Status : Answered

Chosen Option : 3

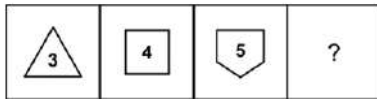
Q.17 निम्नलिखित प्रश्न में, दिए गए विकल्पों में से संबंधित अक्षर-युग्म का चयन कीजिए।

RPD : WUI :: ?

- Ans
- 1. LDK : CFK
 - 2. BAC : OTT
 - 3. XOL : UPL
 - 4. XYM : CDR

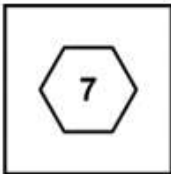
Question ID : 264330187443
Option 1 ID : 264330733700
Option 2 ID : 264330733702
Option 3 ID : 264330733703
Option 4 ID : 264330733701
Status : Answered
Chosen Option : 2

Q.18 दिए गए विकल्पों में से उस आकृति का चयन कीजिए जिसे दी गई आकृति श्रृंखला में प्रश्न चिह्न (?) के स्थान पर रखा जा सकता है।

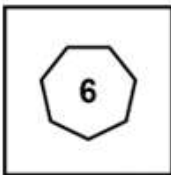


Ans

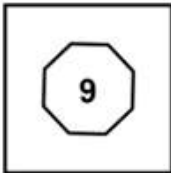
1.



2.



3.



4.



Question ID : 264330192263
Option 1 ID : 264330752406
Option 2 ID : 264330752407
Option 3 ID : 264330752409
Option 4 ID : 264330752408
Status : Answered
Chosen Option : 1

Q.19 एक निश्चित कूट भाषा में 'BEHALF' को 'DCJYND' लिखा जाता है। उसी कूट भाषा में 'CLINIC' को कैसे लिखा जाएगा?

- Ans
- 1. EJKLKB
 - 2. EJKLLB
 - 3. EJLLLA
 - 4. EJKLKA

Question ID : 264330187044
Option 1 ID : 264330732107
Option 2 ID : 264330732104
Option 3 ID : 264330732105
Option 4 ID : 264330732106
Status : Answered
Chosen Option : 1

Q.20 नीचे एक श्रृंखला दी गई है जिसमें एक पद लुप्त है। दिए गए विकल्पों में से उस विकल्प का चयन कीजिए जो श्रृंखला को पूरा करेगा।

MQ, SO, QU, WS, ?

- Ans
- 1. UY
 - 2. UX
 - 3. XT
 - 4. MH

Question ID : 264330191388
Option 1 ID : 264330748908
Option 2 ID : 264330748907
Option 3 ID : 264330748906
Option 4 ID : 264330748909
Status : Answered
Chosen Option : 3

Section : Part-B-General Knowledge and General awareness

Q.1 जलियांवाला बाग हत्याकांड, _____ के विरोध के परिणामस्वरूप हुआ।

- Ans
- 1. विनियमन अधिनियम (Regulating Act)
 - 2. पिट्स इंडिया एक्ट (Pitt's India Act)
 - 3. रौलेट एक्ट (Rowlatt Act)
 - 4. भारत सरकार अधिनियम (Government of India Act)

Question ID : 264330190896
Option 1 ID : 264330746939
Option 2 ID : 264330746940
Option 3 ID : 264330746941
Option 4 ID : 264330746938
Status : Answered
Chosen Option : 4

Q.2 जब राज्य सभा के सभापति का पद रिक्त हो, तो उसके कर्तव्यों का पालन निम्नलिखित में से किसके द्वारा किया जाएगा?

- Ans
- 1. लोक सभा के अध्यक्ष
 - 2. भारत के राष्ट्रपति
 - 3. राज्य सभा के उपाध्यक्ष
 - 4. राज्य सभा का वरिष्ठतम सदस्य

Question ID : 264330190800
Option 1 ID : 264330746557
Option 2 ID : 264330746556
Option 3 ID : 264330746555
Option 4 ID : 264330746554
Status : Answered
Chosen Option : 2

Q.3 भारत में ग्यारहवीं पंचवर्षीय योजना की समयावधि क्या थी?

- Ans
- 1. 2008 – 2013
 - 2. 2010 – 2015
 - 3. 2009 – 2014
 - 4. 2007 – 2012

Question ID : 264330188670
Option 1 ID : 264330738484
Option 2 ID : 264330738482
Option 3 ID : 264330738485
Option 4 ID : 264330738483
Status : Answered
Chosen Option : 3

Q.4 बैंकिंग विनियमन अधिनियम कब पारित किया गया था?

- Ans
- 1. 1949
 - 2. 1959
 - 3. 1999
 - 4. 1967

Question ID : 264330191905
Option 1 ID : 264330750974
Option 2 ID : 264330750975
Option 3 ID : 264330750977
Option 4 ID : 264330750976
Status : Answered
Chosen Option : 1

Q.5 आगा खान कप (Agha Khan Cup) का संबंध निम्नलिखित में से किस खेल से है?

- Ans
- 1. कबड्डी
 - 2. क्रिकेट
 - 3. रग्बी
 - 4. हॉकी

Question ID : 264330188926
Option 1 ID : 264330739509
Option 2 ID : 264330739507
Option 3 ID : 264330739508
Option 4 ID : 264330739506
Status : Answered
Chosen Option : 3

Q.6 भारत में किस धर्म की जनसंख्या बहुसंख्यक है?

- Ans
- 1. जैन
 - 2. हिन्दू
 - 3. मुस्लिम
 - 4. ईसाई

Question ID : 264330191974
Option 1 ID : 264330751253
Option 2 ID : 264330751250
Option 3 ID : 264330751251
Option 4 ID : 264330751252
Status : Answered
Chosen Option : 2

Q.7 जून 2023 में, निम्नलिखित में से किसे स्पिनोज़ा पुरस्कार (Spinoza Prize), जिसे कभी-कभी 'डच नोबेल पुरस्कार' भी कहा जाता है, से सम्मानित किया गया है?

- Ans
- 1. एम. गौरवी रेड्डी (M. Gauravi Reddy)
 - 2. माधबी पुरी बुच (Madhabi Puri Buch)
 - 3. रेखा शर्मा (Rekha Sharma)
 - 4. जॉयिता गुप्ता (Joyeeta Gupta)

Question ID : 264330188853
Option 1 ID : 264330739215
Option 2 ID : 264330739217
Option 3 ID : 264330739216
Option 4 ID : 264330739214
Status : Answered
Chosen Option : 1

Q.8 2011 की जनगणना के अनुसार, निम्नलिखित में से कौन-सा भारत का सबसे कम आबादी वाला राज्य है?

- Ans
- 1. गोवा
 - 2. सिक्किम
 - 3. मेघालय
 - 4. असम

Question ID : 264330188874
Option 1 ID : 264330739300
Option 2 ID : 264330739299
Option 3 ID : 264330739301
Option 4 ID : 264330739298
Status : Answered
Chosen Option : 4

Q.9 भारतीय संविधान के निम्नलिखित में से कौन-से भाग का संबंध राज्य के नीति निर्देशक सिद्धांतों से है?

- Ans
- 1. भाग II
 - 2. भाग IV
 - 3. भाग III
 - 4. भाग I

Question ID : 264330191240
Option 1 ID : 264330748315
Option 2 ID : 264330748317
Option 3 ID : 264330748316
Option 4 ID : 264330748314
Status : Answered
Chosen Option : 2

Q.10 किसी भी टेनिस खेल में, यदि दोनों खिलाड़ी एक खेल में तीन-तीन अंक जीतते हैं (अर्थात स्कोर 40-40 है), तो इसे _____ कहा जाता है।

- Ans
- 1. रैटल (rattle)
 - 2. ड्यूस (deuce)
 - 3. इक्वल (equal)
 - 4. बैक (back)

Question ID : 264330191063
Option 1 ID : 264330747609
Option 2 ID : 264330747608
Option 3 ID : 264330747607
Option 4 ID : 264330747606
Status : Answered
Chosen Option : 3

Q.11 1866 में, एक अंग्रेज वैज्ञानिक जॉन न्यूलैंड्स ने तत्कालीन ज्ञात तत्वों को _____ के क्रम में व्यवस्थित किया। इसे 'न्यूलैंड्स के अष्टक के नियम' के नाम से जाना जाता है।

- Ans
- 1. घटते परमाणु द्रव्यमान
 - 2. घटती परमाणु संख्या
 - 3. बढ़ते परमाणु द्रव्यमान
 - 4. बढ़ती परमाणु संख्या

Question ID : 264330190912
Option 1 ID : 264330747003
Option 2 ID : 264330747005
Option 3 ID : 264330747002
Option 4 ID : 264330747004
Status : Answered
Chosen Option : 3

Q.12 "होर्नबिल उत्सव" (Hornbill Festival) में निम्नलिखित में से कौन-सी मूल जनजातियां अपनी संस्कृति और परंपराओं का प्रदर्शन करती हैं?

- Ans
- 1. नागा
 - 2. गोंड
 - 3. भील
 - 4. गारो

Question ID : 264330191472
Option 1 ID : 264330749245
Option 2 ID : 264330749243
Option 3 ID : 264330749242
Option 4 ID : 264330749244
Status : Answered
Chosen Option : 2

Q.13 'मुंडारी' नृत्य का संबंध निम्नलिखित में से किस राज्य से है?

- Ans
- 1. उत्तरप्रदेश
 - 2. तमिलनाडु
 - 3. झारखंड
 - 4. केरल

Question ID : 264330190790
Option 1 ID : 264330746516
Option 2 ID : 264330746515
Option 3 ID : 264330746517
Option 4 ID : 264330746514
Status : Answered
Chosen Option : 3

Q.14 हरित क्रांति (Green Revolution) की शुरुआत वर्ष 1965 में हुई और _____ पंचवर्षीय योजना 1961-1966 के बीच थी।

- Ans
- 1. पांचवीं
 - 2. तृतीय
 - 3. द्वितीय
 - 4. प्रथम

Question ID : 264330191747
Option 1 ID : 264330750345
Option 2 ID : 264330750344
Option 3 ID : 264330750343
Option 4 ID : 264330750342
Status : Answered
Chosen Option : 4

Q.15 भारत के उत्तर-पश्चिम में निम्नलिखित में से किस देश की सीमा लगती है?

- Ans
- 1. अफगानिस्तान और पाकिस्तान
 - 2. म्यांमार और नेपाल
 - 3. बांग्लादेश और म्यांमार
 - 4. चीन, भूटान और नेपाल

Question ID : 264330188819
Option 1 ID : 264330739078
Option 2 ID : 264330739080
Option 3 ID : 264330739081
Option 4 ID : 264330739079
Status : Answered
Chosen Option : 1

Q.16 निम्नलिखित में से कौन-सा मौर्यकालीन शिलालेख वर्तमान भारत में स्थित नहीं है?

- Ans
- 1. कंधार
 - 2. कलसी
 - 3. गिरनार
 - 4. मस्की

Question ID : 264330188840
Option 1 ID : 264330739163
Option 2 ID : 264330739165
Option 3 ID : 264330739164
Option 4 ID : 264330739162
Status : Answered
Chosen Option : 1

Q.17 किस भारतीय नृत्य कलाकार ने छठ नृत्य के लिए 2018 में संगीत नाटक अकादमी पुरस्कार जीता?

- Ans
- 1. गोपिका वर्मा (Gopika Varma)
 - 2. डॉ. अरुणा मोहंती (Dr. Aruna Mohanty)
 - 3. अखम लक्ष्मी देवी (Akham Lakshmi Devi)
 - 4. तपन कुमार पट्टनायक (Tapan Kumar Pattanayak)

Question ID : 26433018883
Option 1 ID : 264330739336
Option 2 ID : 264330739335
Option 3 ID : 264330739337
Option 4 ID : 264330739334
Status : Answered
Chosen Option : 2

Q.18 2026 एशियाई खेलों की मेजबानी निम्नलिखित में से कौन-सा देश करेगा?

- Ans
- 1. जापान
 - 2. थाईलैंड
 - 3. कतर
 - 4. चीन

Question ID : 264330190581
Option 1 ID : 264330745908
Option 2 ID : 264330745906
Option 3 ID : 264330745907
Option 4 ID : 264330745909
Status : Answered
Chosen Option : 2

Q.19 पं. रविशंकर किस वाद्ययंत्र के वादक थे?

- Ans
- 1. सारंगी
 - 2. सरोद
 - 3. बीन
 - 4. सितार

Question ID : 264330190617
Option 1 ID : 264330746053
Option 2 ID : 264330746050
Option 3 ID : 264330746051
Option 4 ID : 264330746052
Status : Answered
Chosen Option : 1

Q.20 2023 में, कृषि और किसान कल्याण मंत्रालय ने एक पीएम -किसान (PM-KISAN) आर्टिफिशियल इंटेलिजेंस चैटबॉट ____ लॉन्च किया है, जो किसानों को पीएम-किसान योजना से संबंधित उनकी शिकायतों के लिए एक ही जगह पर समाधान प्रदान करेगा।

- Ans**
- 1. किसान ई-योजना
 - 2. किसान ई-संदेश
 - 3. किसान ई-समाधान
 - 4. किसान ई-मित्र

Question ID : 264330191708
Option 1 ID : 264330750188
Option 2 ID : 264330750186
Option 3 ID : 264330750189
Option 4 ID : 264330750187
Status : Answered
Chosen Option : 1

Section : Part-C-Elementary Mathematics

Q.1 2 वर्षों के लिए एक निश्चित ब्याज दर पर, मूलधन पर साधारण ब्याज और चक्रवृद्धि ब्याज क्रमशः 12800 रुपए और 14400 रुपए है। मूलधन कितना है?

- Ans**
- 1. 24400 रुपए
 - 2. 25600 रुपए
 - 3. 27800 रुपए
 - 4. 29900 रुपए

Question ID : 264330187554
Option 1 ID : 264330734144
Option 2 ID : 264330734145
Option 3 ID : 264330734146
Option 4 ID : 264330734147
Status : Answered
Chosen Option : 3

Q.2 यदि किसी ड्रेस का मूल्य 800 रुपए से घटाकर 720 रुपए कर दिया जाता है, तो ड्रेस के मूल्य में हुई प्रतिशत कमी कितनी है?

- Ans**
- 1. 6%
 - 2. 9%
 - 3. 10%
 - 4. 8%

Question ID : 264330188498
Option 1 ID : 264330737796
Option 2 ID : 264330737797
Option 3 ID : 264330737795
Option 4 ID : 264330737794
Status : Answered
Chosen Option : 2

Q.3 तीन व्यक्तियों की वर्तमान आयु का अनुपात 3 : 5 : 7 है। छः वर्ष पहले, उनकी आयु का योग 87 था। उनकी वर्तमान आयु (वर्षों में) ज्ञात कीजिए।

- Ans**
- 1. 18 वर्ष, 30 वर्ष, 42 वर्ष
 - 2. 27 वर्ष, 45 वर्ष, 63 वर्ष
 - 3. 21 वर्ष, 35 वर्ष, 49 वर्ष
 - 4. 24 वर्ष, 40 वर्ष, 56 वर्ष

Question ID : 264330192481
Option 1 ID : 264330753278
Option 2 ID : 264330753281
Option 3 ID : 264330753279
Option 4 ID : 264330753280
Status : Answered
Chosen Option : 1

Q.4 22 विद्यार्थियों की एक कक्षा का औसत भार 42 kg है। यदि कक्षा में 33 kg और 39 kg भार के 2 नए विद्यार्थी शामिल हो जाते हैं, तो 24 विद्यार्थियों का नया औसत भार कितना होगा?

- Ans**
- 1. 41.5 kg
 - 2. 39.5 kg
 - 3. 43 kg
 - 4. 42 kg

Question ID : 264330191613
Option 1 ID : 264330749808
Option 2 ID : 264330749806
Option 3 ID : 264330749807
Option 4 ID : 264330749809
Status : Answered
Chosen Option : 4

Q.5 पृथ्वी के पास नाशपाती और आड़ू 10 : 13 के अनुपात में हैं। सेलीन के पास नाशपाती और आड़ू 7 : 9 के अनुपात में हैं। विक्रम के पास नाशपाती और आड़ू 5 : 7 के अनुपात में हैं। किसके पास नाशपाती और आड़ू अधिक अनुपात में हैं?

- Ans**
- 1. विक्रम
 - 2. पृथ्वी
 - 3. सेलीन
 - 4. सभी के पास समान अनुपात में हैं

Question ID : 264330192480
Option 1 ID : 264330753276
Option 2 ID : 264330753274
Option 3 ID : 264330753275
Option 4 ID : 264330753277
Status : Answered
Chosen Option : 4

Q.6 $(48 - (20 - 8)) \div (4 \times 3)$ का मान कितना है?

- Ans
- 1. 2
 - 2.
 - 3. 1
 - 4. 4

Question ID : 264330188613
Option 1 ID : 264330738255
Option 2 ID : 264330738256
Option 3 ID : 264330738254
Option 4 ID : 264330738257
Status : Answered
Chosen Option : 2

Q.7 एक कुर्सी का अंकित मूल्य, उसके क्रय मूल्य से 20 प्रतिशत अधिक है। यदि 20 रुपए की छूट के बाद कुर्सी 220 रुपए में बेची जाती है, तो लाभ प्रतिशत कितना होगा?

- Ans
- 1. 10 प्रतिशत
 - 2. 20 प्रतिशत
 - 3. 15 प्रतिशत
 - 4. 30 प्रतिशत

Question ID : 264330187250
Option 1 ID : 264330732928
Option 2 ID : 264330732930
Option 3 ID : 264330732929
Option 4 ID : 264330732931
Status : Answered
Chosen Option : 3

Q.8 विक्रम ने एक परीक्षा में 32 प्रतिशत अंक प्राप्त किए और 15 अंकों से अनुत्तीर्ण हो गया। यदि वह 57 प्रतिशत अंक प्राप्त करता है, तो उसे उत्तीर्ण होने के लिए आवश्यक अंकों से 10 अंक अधिक मिलते हैं। परीक्षा में उत्तीर्ण होने के लिए कितने अंक होने चाहिए?

- Ans
- 1. 52
 - 2. 49
 - 3. 47
 - 4. 57

Question ID : 264330187886
Option 1 ID : 264330735474
Option 2 ID : 264330735475
Option 3 ID : 264330735472
Option 4 ID : 264330735473
Status : Answered
Chosen Option : 1

Q.9 सोनू अकेले एक मेज को 125 दिनों में बना सकता है जबकि मोनू अकेले इसे 250 दिनों में बना सकता है। मोनू काम शुरू करता है और 75 दिनों तक काम करता है। सोनू शेष काम कितने दिनों में पूरा कर सकता है?

- Ans**
- 1. 135 दिन
 - 2. 100 दिन
 - 3. 120 दिन
 - 4. 87.5 दिन

Question ID : 264330188569
Option 1 ID : 264330738078
Option 2 ID : 264330738081
Option 3 ID : 264330738080
Option 4 ID : 264330738079
Status : Answered
Chosen Option : 3

Q.10 13 विद्यार्थियों के औसत अंक 130 थे। लेकिन बाद में यह पाया गया कि एक विद्यार्थी के अंक गलती से 32 के स्थान पर 23 दर्ज कर लिए गए थे। उनके अंक का सही औसत क्या है?

- Ans**
- 1. 130.88
 - 2. 131.72
 - 3. 130.69
 - 4. 132.28

Question ID : 264330191612
Option 1 ID : 264330749805
Option 2 ID : 264330749804
Option 3 ID : 264330749802
Option 4 ID : 264330749803
Status : Answered
Chosen Option : 1

Q.11 $2016 \div 4 + 32 \times 6 - 26 \times 3$ का मान कितना है?

- Ans**
- 1. 628
 - 2. 618
 - 3. 624
 - 4. 626

Question ID : 264330187919
Option 1 ID : 264330735607
Option 2 ID : 264330735604
Option 3 ID : 264330735605
Option 4 ID : 264330735606
Status : Answered
Chosen Option : 1

Q.12 अंकित एक वस्तु को 10 प्रतिशत की हानि पर बेचता है। यदि वह इसे 30 प्रतिशत कम मूल्य पर खरीदता है और इसे 26 रुपए कम में बेचता है, तो उसे 10 प्रतिशत का लाभ होगा। वस्तु का क्रय मूल्य कितना है?

- Ans**
- 1. 200 रुपए
 - 2. 320 रुपए
 - 3. 300 रुपए
 - 4. 250 रुपए

Question ID : 264330188581
Option 1 ID : 264330738126
Option 2 ID : 264330738129
Option 3 ID : 264330738127
Option 4 ID : 264330738128
Status : Answered
Chosen Option : 3

Q.13 35^{29} को 10 से भाग देने पर शेषफल कितना होगा?

- Ans**
- 1. 6
 - 2. 0
 - 3. 5
 - 4. 4

Question ID : 264330187682
Option 1 ID : 264330734658
Option 2 ID : 264330734659
Option 3 ID : 264330734656
Option 4 ID : 264330734657
Status : Answered
Chosen Option : 2

Q.14 एक बस अपने निर्धारित समय से 60 मिनट देरी से रवाना होती है, लेकिन 300 km दूर स्थित गंतव्य तक समय पर पहुंचने के लिए, उसकी सामान्य चाल में 10 km/hr की वृद्धि की जाती है। बस की सामान्य चाल कितनी है?

- Ans**
- 1. 60 km/hr
 - 2. 40 km/hr
 - 3. 50 km/hr
 - 4. 30 km/hr

Question ID : 264330191624
Option 1 ID : 264330749850
Option 2 ID : 264330749852
Option 3 ID : 264330749851
Option 4 ID : 264330749853
Status : Answered
Chosen Option : 1

Q.15 एक गोले की त्रिज्या 3.5 cm है। गोले का कुल पृष्ठीय क्षेत्रफल कितना है?

- Ans
- 1. 196 cm^2
 - 2. 154 cm^2
 - 3. 128 cm^2
 - 4. 176 cm^2

Question ID : 264330187238
Option 1 ID : 264330732881
Option 2 ID : 264330732883
Option 3 ID : 264330732880
Option 4 ID : 264330732882
Status : Answered
Chosen Option : 1

Q.16 X1, X2 और X3 एक काम को क्रमशः 90, 45 और 67.5 दिनों में पूरा कर सकते हैं। तीनों ने एक साथ मिलकर काम शुरू किया, लेकिन X2 ने काम पूरा होने से 13.5 दिन पहले ही काम छोड़ दिया। काम कितने दिनों में पूरा हुआ?

- Ans
- 1. 24 दिन
 - 2. 25 दिन
 - 3. 18 दिन
 - 4. 27 दिन

Question ID : 264330187897
Option 1 ID : 264330735517
Option 2 ID : 264330735518
Option 3 ID : 264330735519
Option 4 ID : 264330735516
Status : Answered
Chosen Option : 4

Q.17 एक वस्तु का अंकित मूल्य 11800 रुपए और इसका विक्रय मूल्य 7788 रुपए है। वस्तु पर छूट प्रतिशत कितना है?

- Ans
- 1. 30 प्रतिशत
 - 2. 35 प्रतिशत
 - 3. 34 प्रतिशत
 - 4. 32 प्रतिशत

Question ID : 264330191137
Option 1 ID : 264330747905
Option 2 ID : 264330747903
Option 3 ID : 264330747904
Option 4 ID : 264330747902
Status : Answered
Chosen Option : 1

Q.18 $443 - 226 \div 2 \times 5$ का मान कितना है?

- Ans
- 1. -119
 - 2. -122
 - 3. -127
 - 4. -121

Question ID : 264330188572
Option 1 ID : 264330738090
Option 2 ID : 264330738092
Option 3 ID : 264330738093
Option 4 ID : 264330738091
Status : Answered
Chosen Option : 3

Q.19 एक आदमी एक रुपए में 35 आम खरीदता है। एक रुपए में कितने आम बेचने पर उसे 30 प्रतिशत की हानि होगी?

- Ans
- 1. 50
 - 2. 33
 - 3. 27
 - 4. 45

Question ID : 264330191616
Option 1 ID : 264330749818
Option 2 ID : 264330749820
Option 3 ID : 264330749819
Option 4 ID : 264330749821
Status : Answered
Chosen Option : 2

Q.20 एक निश्चित धनराशि साधारण ब्याज की दर पर 10 वर्षों में स्वयं की 7 गुना हो जाती है। 20 वर्षों में समान साधारण ब्याज दर पर यह स्वयं की कितने गुना हो जाएगी?

- Ans
- 1. 13
 - 2. 12
 - 3. 14
 - 4. 10

Question ID : 264330187493
Option 1 ID : 264330733900
Option 2 ID : 264330733901
Option 3 ID : 264330733902
Option 4 ID : 264330733903
Status : Answered
Chosen Option : 1

Section : Part-D-English

Q.1 Find the part of the given sentence that has an error in it. If there is no error, choose 'No error'.

I am not the most wisest person here to teach you this lesson.

- Ans**
- 1. No error
 - 2. I am not the most wisest
 - 3. person here to
 - 4. teach you this lesson.

Question ID : 264330185772
Option 1 ID : 264330727427
Option 2 ID : 264330727424
Option 3 ID : 264330727425
Option 4 ID : 264330727426
Status : Not Answered
Chosen Option : --

Q.2 Find the part of the given sentence that has an error in it. If there is no error, choose 'No error'.

Consumers sometimes has a good ability to identify counterfeit logos when the legitimate brand is well-recognized.

- Ans**
- 1. No error
 - 2. Consumers sometimes has a good ability to
 - 3. legitimate brand is well-recognized.
 - 4. identify counterfeit logos when the

Question ID : 264330186046
Option 1 ID : 264330728471
Option 2 ID : 264330728468
Option 3 ID : 264330728470
Option 4 ID : 264330728469
Status : Not Answered
Chosen Option : --

Q.3 Replace the bracketed word with one of the given options, which suitably replaces the word without changing the meaning of the sentence:

A successful outcome could ultimately lead to its use in (autonomous) planetary rovers and robot aircraft.

- Ans**
- 1. occlude
 - 2. unanimous
 - 3. independent
 - 4. obstruct

Question ID : 264330186447
Option 1 ID : 264330729998
Option 2 ID : 264330729997
Option 3 ID : 264330729999
Option 4 ID : 264330729996
Status : Not Answered
Chosen Option : --

Q.4 Select the most appropriate option for the given blank.

You must _____ your defeat now, as you are left with no soldiers.

- Ans
- 1. buy
 - 2. defer
 - 3. admit
 - 4. get

Question ID : 264330186085
Option 1 ID : 264330728619
Option 2 ID : 264330728618
Option 3 ID : 264330728616
Option 4 ID : 264330728617
Status : Not Answered
Chosen Option : --

Q.5 Choose the idiom/phrase that can substitute the highlighted group of words meaningfully.

The matter was discussed **privately without any intruders**.

- Ans
- 1. On the fence
 - 2. Run out of steam
 - 3. Through thick and thin
 - 4. Behind closed doors

Question ID : 264330186272
Option 1 ID : 264330729330
Option 2 ID : 264330729331
Option 3 ID : 264330729329
Option 4 ID : 264330729328
Status : Not Answered
Chosen Option : --

Q.6 Improve the underlined part of the sentence. Choose 'No improvement' as an answer if the sentence is grammatically correct.

A large number of people have been get clean and pure water.

- Ans
- 1. No improvement
 - 2. have been getting
 - 3. been gets
 - 4. has been got

Question ID : 264330186132
Option 1 ID : 264330728799
Option 2 ID : 264330728796
Option 3 ID : 264330728798
Option 4 ID : 264330728797
Status : Not Answered
Chosen Option : --

Q.7 Select the most appropriate word to fill in the blank.

They _____ a mammoth task ahead of them.

- Ans
- 1. has
 - 2. have
 - 3. needs
 - 4. does

Question ID : 264330186239
Option 1 ID : 264330729205
Option 2 ID : 264330729204
Option 3 ID : 264330729207
Option 4 ID : 264330729206
Status : Not Answered
Chosen Option : --

Q.8 The sentence has been divided into three parts, identify the segment which contains a spelling error in the sentence given below. Choose no error if there is no error in the sentence.

The seismic zoning displayed/ that the area had been prone/ to many earthquakes.

- Ans
- 1. that the area had been prone
 - 2. to many earthquakes.
 - 3. no error
 - 4. The seismic zoning displayed

Question ID : 264330186462
Option 1 ID : 264330730053
Option 2 ID : 264330730054
Option 3 ID : 264330730055
Option 4 ID : 264330730052
Status : Not Answered
Chosen Option : --

Q.9 Select the sentence with no spelling errors.

- Ans
- 1. We were disilusioned when we saw how the movie star acted in real life.
 - 2. We were disillusioned when we saw how the movie star acted in reale life.
 - 3. We were disillusioned when we saw how the movie star acted in real life.
 - 4. We were disillusioned when we saw how the mouvie star acted in real life.

Question ID : 264330185580
Option 1 ID : 264330726692
Option 2 ID : 264330726694
Option 3 ID : 264330726693
Option 4 ID : 264330726695
Status : Not Answered
Chosen Option : --

Q.10 Select the most appropriate option for the given blank.

There is no need to jump to a _____ so soon.

- Ans
- 1. incision
 - 2. resistance
 - 3. finale
 - 4. conclusion

Question ID : 264330185623
Option 1 ID : 264330726859
Option 2 ID : 264330726857
Option 3 ID : 264330726858
Option 4 ID : 264330726856
Status : Not Answered
Chosen Option : --

Q.11 Find the part of the given sentence that has an error in it. If there is no error, choose 'No error'.

A thousand years ago, boys and girls did not learnt to read.

- Ans
- 1. No error
 - 2. not learnt to read.
 - 3. A thousand years ago
 - 4. boys and girls did

Question ID : 264330185561
Option 1 ID : 264330726623
Option 2 ID : 264330726622
Option 3 ID : 264330726620
Option 4 ID : 264330726621
Status : Not Answered
Chosen Option : --

Q.12 Choose the most appropriate antonym of the underlined word.

The cow happily recovered, which the widow entirely attributed to the efficacy of her pastor's prayer.

- Ans
- 1. Virtue
 - 2. Effect
 - 3. Potency
 - 4. Inadequacy

Question ID : 264330186648
Option 1 ID : 264330730760
Option 2 ID : 264330730763
Option 3 ID : 264330730762
Option 4 ID : 264330730761
Status : Not Answered
Chosen Option : --

Q.13 Choose the word that means the same as the given word.

Fantastically

- Ans
- 1. Scantly
 - 2. Scarcely
 - 3. Fabulously
 - 4. Nominally

Question ID : 264330186667
Option 1 ID : 264330730832
Option 2 ID : 264330730833
Option 3 ID : 264330730834
Option 4 ID : 264330730835
Status : Not Answered
Chosen Option : --

Q.14 Fill in the blank with the most appropriate option.

The horn of the car ahead was _____ by the resistance of the thick air.

- Ans
- 1. muffled
 - 2. dim
 - 3. faint
 - 4. mute

Question ID : 264330186912
Option 1 ID : 264330731768
Option 2 ID : 264330731771
Option 3 ID : 264330731769
Option 4 ID : 264330731770
Status : Not Answered
Chosen Option : --

Q.15 In the following question, out of the given four alternatives, select the alternative which best expresses the meaning of the Idiom/Phrase.

A stick in the mud

- Ans
- 1. A person who resists change
 - 2. A person without any fear
 - 3. A generous person
 - 4. A person with no character

Question ID : 264330186628
Option 1 ID : 264330730686
Option 2 ID : 264330730685
Option 3 ID : 264330730684
Option 4 ID : 264330730687
Status : Not Answered
Chosen Option : --

Comprehension:

Read the passage carefully and select the correct answer for the given blanks out of the four alternatives.

The India Meteorological department (IMD) had (1) _____ a warning regarding a heatwave for March 8 and 9 for Goa. The warning stated, "With the strengthening of easterly winds, clear sky (2) _____ and delay in setting time of sea breeze, the maximum temperature over Goa is likely to remain 4-6°C (3) _____ than its normal value. Persistence of these conditions is likely to satisfy the criteria of a heat wave over Goa (4) _____ Thursday". Many schools in Goa are conducting exams and have been (5) _____ to advance the timing.

SubQuestion No : 16

Q.16 Select the most appropriate option for blank (1)

- Ans
- 1. distributed
 - 2. produced
 - 3. issued
 - 4. mitigated

Question ID : 264330185632

Option 1 ID : 264330726891

Option 2 ID : 264330726889

Option 3 ID : 264330726888

Option 4 ID : 264330726890

Status : Not Answered

Chosen Option : --

Comprehension:

Read the passage carefully and select the correct answer for the given blanks out of the four alternatives.

The India Meteorological department (IMD) had (1) _____ a warning regarding a heatwave for March 8 and 9 for Goa. The warning stated, "With the strengthening of easterly winds, clear sky (2) _____ and delay in setting time of sea breeze, the maximum temperature over Goa is likely to remain 4-6°C (3) _____ than its normal value. Persistence of these conditions is likely to satisfy the criteria of a heat wave over Goa (4) _____ Thursday". Many schools in Goa are conducting exams and have been (5) _____ to advance the timing.

SubQuestion No : 17

Q.17 Select the most appropriate option for blank (2)

- Ans
- 1. complications
 - 2. conditions
 - 3. adjustments
 - 4. phases

Question ID : 264330185633

Option 1 ID : 264330726895

Option 2 ID : 264330726893

Option 3 ID : 264330726892

Option 4 ID : 264330726894

Status : Not Answered

Chosen Option : --

Comprehension:

Read the passage carefully and select the correct answer for the given blanks out of the four alternatives.

The India Meteorological department (IMD) had (1) _____ a warning regarding a heatwave for March 8 and 9 for Goa. The warning stated, "With the strengthening of easterly winds, clear sky (2) _____ and delay in setting time of sea breeze, the maximum temperature over Goa is likely to remain 4-6°C (3) _____ than its normal value. Persistence of these conditions is likely to satisfy the criteria of a heat wave over Goa (4) _____ Thursday". Many schools in Goa are conducting exams and have been (5) _____ to advance the timing.

SubQuestion No : 18

Q.18 Select the most appropriate option for blank (3)

- Ans
- 1. Highest
 - 2. higher
 - 3. High
 - 4. Highly

Question ID : 264330185634
Option 1 ID : 264330726898
Option 2 ID : 264330726899
Option 3 ID : 264330726897
Option 4 ID : 264330726896
Status : Not Answered
Chosen Option : --

Comprehension:

Read the passage carefully and select the correct answer for the given blanks out of the four alternatives.

The India Meteorological department (IMD) had (1) _____ a warning regarding a heatwave for March 8 and 9 for Goa. The warning stated, "With the strengthening of easterly winds, clear sky (2) _____ and delay in setting time of sea breeze, the maximum temperature over Goa is likely to remain 4-6°C (3) _____ than its normal value. Persistence of these conditions is likely to satisfy the criteria of a heat wave over Goa (4) _____ Thursday". Many schools in Goa are conducting exams and have been (5) _____ to advance the timing.

SubQuestion No : 19

Q.19 Select the most appropriate option for blank (4)

- Ans
- 1. in
 - 2. at
 - 3. on
 - 4. over

Question ID : 264330185635
Option 1 ID : 264330726902
Option 2 ID : 264330726901
Option 3 ID : 264330726900
Option 4 ID : 264330726903
Status : Not Answered
Chosen Option : --

Comprehension:

Read the passage carefully and select the correct answer for the given blanks out of the four alternatives.

The India Meteorological department (IMD) had (1) _____ a warning regarding a heatwave for March 8 and 9 for Goa. The warning stated, "With the strengthening of easterly winds, clear sky (2) _____ and delay in setting time of sea breeze, the maximum temperature over Goa is likely to remain 4-6°C (3) _____ than its normal value. Persistence of these conditions is likely to satisfy the criteria of a heat wave over Goa (4) _____ Thursday". Many schools in Goa are conducting exams and have been (5) _____ to advance the timing.

SubQuestion No : 20

Q.20 Select the most appropriate option for blank (5)

- Ans**
- 1. said
 - 2. asking
 - 3. told
 - 4. tell

Question ID : 264330185636
Option 1 ID : 264330726906
Option 2 ID : 264330726904
Option 3 ID : 264330726907
Option 4 ID : 264330726905
Status : Not Answered
Chosen Option : --

Section : Part-D-Hindi

Q.1 दिए गए वाक्यांश के लिए सार्थक शब्द ज्ञात कीजिए।

जो संविधान के अनुकूल हो

- Ans**
- 1. कानूनी
 - 2. नियमानुकूल
 - 3. अवैध
 - 4. संवैधानिक

Question ID : 264330189110
Option 1 ID : 264330740207
Option 2 ID : 264330740209
Option 3 ID : 264330740206
Option 4 ID : 264330740208
Status : Answered
Chosen Option : 1

Q.2 दिए गए वाक्य का वह भाग ज्ञात करें, जिसमें कोई त्रुटि है। यदि कोई त्रुटि नहीं है, तो 'कोई त्रुटि नहीं है' चुनें।

यह काम चार आदमी का है। इसे अकेले मत करो।

- Ans
- 1. है। इसे अकेले मत करो।
 - 2. यह काम
 - 3. कोई त्रुटि नहीं है
 - 4. चार आदमी का

Question ID : 264330189164
Option 1 ID : 264330740416
Option 2 ID : 264330740414
Option 3 ID : 264330740417
Option 4 ID : 264330740415
Status : Answered
Chosen Option : 4

Q.3 दिए गए वाक्य में उचित पर्यायवाची शब्द का चयन करके रिक्त स्थान की पूर्ति करें।

सीता माता का नाम _____ भी है।

- Ans
- 1. जानकी
 - 2. लौकिक
 - 3. कोयल
 - 4. मनभावन

Question ID : 264330189973
Option 1 ID : 264330743496
Option 2 ID : 264330743497
Option 3 ID : 264330743495
Option 4 ID : 264330743494
Status : Answered
Chosen Option : 1

Q.4 निम्नलिखित प्रश्न में, चार विकल्पों में से, उस विकल्प का चयन करें जो दी गई लोकोक्ति का सही अर्थ वाला विकल्प है।

अपनी करनी पार उतरनी

- Ans
- 1. गुणहीन व्यक्तियों में कम गुण वाला व्यक्ति राजा माना जाता है
 - 2. जहाँ रहो वहाँ के रिवाज़ के अनुसार रहो
 - 3. मनुष्य को अपने कर्मों के अनुसार ही फल मिलता है
 - 4. संगठन में शक्ति होती है

Question ID : 264330189746
Option 1 ID : 264330742631
Option 2 ID : 264330742632
Option 3 ID : 264330742633
Option 4 ID : 264330742630
Status : Answered
Chosen Option : 3

Q.5 निम्नलिखित प्रश्न में, चार विकल्पों में से, उस विकल्प का चयन करें जो कोष्ठक में दिए गए शब्द के पर्यायवाची शब्द का सही विकल्प है।
गुलाब के फूल में बहुत से (काँटे) _____ होते हैं।

Ans

- 1. कूर्म
- 2. सूम
- 3. सुनक
- 4. शूल

Question ID : 264330188362
Option 1 ID : 264330737327
Option 2 ID : 264330737325
Option 3 ID : 264330737326
Option 4 ID : 264330737324
Status : Answered
Chosen Option : 3

Q.6 निम्नलिखित प्रश्न में, चार विकल्पों में से, उस विकल्प का चयन करें जो दिए गए मुहावरे का सही अर्थ वाला विकल्प है।
छलनी कर डालना

Ans

- 1. रौनक होना
- 2. मन में वैराग पैदा होना
- 3. शोक-विह्वल कर देना
- 4. बेफिक्र होना

Question ID : 264330188345
Option 1 ID : 264330737263
Option 2 ID : 264330737262
Option 3 ID : 264330737261
Option 4 ID : 264330737260
Status : Answered
Chosen Option : 1

Q.7 दिए गए वाक्य में से गलत वर्तनी ज्ञात कीजिए।
सभी भाईयों के बीच सम्पत्ति के लिए कलह हो रहा है।

Ans

- 1. कलह
- 2. सम्पत्ति
- 3. सभी
- 4. भाईयों

Question ID : 264330190084
Option 1 ID : 264330743920
Option 2 ID : 264330743919
Option 3 ID : 264330743921
Option 4 ID : 264330743918
Status : Answered
Chosen Option : 3

Q.8 दिए गए वाक्य में रेखांकित शब्द का विलोम शब्द ज्ञात कीजिए।

पश्चिम भारत आधुनिक मंदिरों से भरा हुआ है।

- Ans
- 1. नवीन
 - 2. पौराणिक
 - 3. नए
 - 4. अनुद्यमी

Question ID : 264330189344
Option 1 ID : 264330741098
Option 2 ID : 264330741099
Option 3 ID : 264330741101
Option 4 ID : 264330741100
Status : Answered
Chosen Option : 1

Q.9 निम्नलिखित प्रश्न में, चार विकल्पों में से, उस विकल्प का चयन करें जो कोष्ठक में दिए गए शब्द के तत्सम रूप का सही विकल्प है।
आप सभी को (यहाँ) _____ से जाने के लिए कहा गया है।

- Ans
- 1. अत्र
 - 2. अन्न
 - 3. अग्र
 - 4. अर्क

Question ID : 264330189939
Option 1 ID : 264330743369
Option 2 ID : 264330743367
Option 3 ID : 264330743366
Option 4 ID : 264330743368
Status : Answered
Chosen Option : 1

Q.10 निम्नलिखित प्रश्न में, चार विकल्पों में से, उस विकल्प का चयन करें जो कोष्ठक में दिए गए शब्द के तद्भव रूप का सही विकल्प है।
किले की सुरक्षा के लिए (परिकूट) _____ होना चाहिए, हथियारबन्द चौकीदार होने चाहिए।

- Ans
- 1. सैनिक
 - 2. परकोटा
 - 3. पर्याप्त
 - 4. पंद्रह

Question ID : 264330189560
Option 1 ID : 264330741924
Option 2 ID : 264330741922
Option 3 ID : 264330741923
Option 4 ID : 264330741925
Status : Answered
Chosen Option : 3

Q.11 दिए गए वाक्य में रेखांकित शब्दों के लिए सही शब्दों वाले विकल्प का चयन करें।

यहाँ शुद्ध गाय का दूध मिलता है।

- Ans
- ✓ 1. यहाँ गाय का शुद्ध दूध मिलता है।
 - ✗ 2. परिवर्तन की आवश्यकता नहीं है।
 - ✗ 3. यहाँ शुद्ध दूध का गाय मिलता है।
 - ✗ 4. यहाँ शुद्ध गाय की दूध मिलता है।

Question ID : 264330189249
Option 1 ID : 264330740740
Option 2 ID : 264330740741
Option 3 ID : 264330740738
Option 4 ID : 264330740739
Status : Answered
Chosen Option : 1

Q.12 दिए गए वाक्य में रेखांकित शब्द के लिए सही वर्तनी ज्ञात कीजिए।

शिघ्र ही वैद को ले आओ।

- Ans
- ✗ 1. शिर्घ
 - ✗ 2. शीग्र
 - ✓ 3. शीघ्र
 - ✗ 4. शिघ्र

Question ID : 264330189117
Option 1 ID : 264330740236
Option 2 ID : 264330740235
Option 3 ID : 264330740234
Option 4 ID : 264330740237
Status : Answered
Chosen Option : 3

Q.13 निम्नलिखित प्रश्न में, चार विकल्पों में से, उस सही विकल्प का चयन करें जो वाक्यांश के लिए एक शब्द का विकल्प हो।
जिसका उदय हाल में हुआ हो

- Ans
- ✗ 1. नवोढ़ा
 - ✗ 2. नटराज
 - ✗ 3. नवजात
 - ✓ 4. नवोदित

Question ID : 264330188339
Option 1 ID : 264330737236
Option 2 ID : 264330737239
Option 3 ID : 264330737238
Option 4 ID : 264330737237
Status : Answered
Chosen Option : 2

Q.14 दिए गए वाक्य में रेखांकित शब्द का विलोम शब्द ज्ञात कीजिए।

सुरेश बेरहमी से सबसे पेश आता है।

Ans ✓ 1. रहमदिली

✗ 2. बुराई

✗ 3. सब्र

✗ 4. कठोर

Question ID : 264330188988

Option 1 ID : 264330739743

Option 2 ID : 264330739744

Option 3 ID : 264330739745

Option 4 ID : 264330739742

Status : Answered

Chosen Option : 4

Q.15 दिए गए विकल्पों में से तीन विकल्प त्रुटियुक्त हैं, जबकि एक सही है। उस सही विकल्प का चयन करें।

Ans ✓ 1. मैं तुमसे रविवार को मिलूँगा।

✗ 2. मैं तुमसे रविवार में मिलूँगा।

✗ 3. मैं तुमसे रविवार के दिन को मिलूँगा।

✗ 4. मैं तुमसे रविवार के दिन मिलूँगा।

Question ID : 264330189331

Option 1 ID : 264330741052

Option 2 ID : 264330741053

Option 3 ID : 264330741051

Option 4 ID : 264330741050

Status : Answered

Chosen Option : 1

Comprehension:

नीचे दिए गये गद्यांश में कुछ शब्द छोड़ दिये गए हैं, प्रत्येक अनुच्छेद के सामने चार विकल्प दिए गए हैं। इस गद्यांश को ध्यानपूर्वक पढ़ें और चार विकल्पों में से सर्वोत्तम उत्तर वाला विकल्प चुनें।

वर्तमान काल में यदि संसार के किसी भी कोने में कोई भी घटना घटित हो तो उसके अगले दिन हमारे पास उसकी खबर आ जाती है। ऐसा सिर्फ समाचार पत्रों के कारण ही _____ होता है। आज के समय में बिना समाचार पत्र के जीवन की _____ करना भी काफी कठिन है। यह वो पहली और आवश्यक वस्तु है, जिसे सभी हर सुबह सबसे पहले देखते हैं। यह हमें पूरे विश्व में हो रही _____ के बारे में जानकारी देकर वर्तमान समय से जुड़े रखने में हमारी मदद करता है। समाचार पत्र व्यापारियों, राजनितियों, सामाजिक मुद्दों, बेरोजगारों, खेल, अन्तरराष्ट्रीय समाचार, विज्ञान, शिक्षा, दवाइयों, अभिनेताओं, मेलों, त्योहारों, तकनीकों आदि की जानकारी हमें देता है। यह हमारे ज्ञान कौशल और तकनीकी _____ को बढ़ाने में भी हमारी सहायता करता है। पहले के समय में, समाचार पत्रों में केवल खबरों का विवरण प्रकाशित होता था। हालांकि, अब इसमें बहुत से विषयों के बारे में खबरें और विशेषज्ञों के विचार यहाँ तक कि, लगभग सभी विषयों की जानकारी भी निहित होती है। बहुत से समाचार पत्रों की कीमत बाजार में उनकी खबरों के _____ और उस क्षेत्र में प्रसिद्धि के कारण अलग-अलग होती है। समाचार पत्र या अखबार में दैनिक जीवन की सभी वर्तमान घटनाएं नियमित रूप से छपती है।

SubQuestion No : 16

Q.16 ऐसा सिर्फ समाचार पत्रों के कारण ही _____ होता है।

- Ans
- ✓ 1. संभव
 - ✗ 2. विफल
 - ✗ 3. मुश्किल
 - ✗ 4. देखा

Question ID : 264330189986

Option 1 ID : 264330743542

Option 2 ID : 264330743545

Option 3 ID : 264330743544

Option 4 ID : 264330743543

Status : Answered

Chosen Option : 1

Comprehension:

नीचे दिए गये गद्यांश में कुछ शब्द छोड़ दिये गए हैं, प्रत्येक अनुच्छेद के सामने चार विकल्प दिए गए हैं। इस गद्यांश को ध्यानपूर्वक पढ़ें और चार विकल्पों में से सर्वोत्तम उत्तर वाला विकल्प चुनें।

वर्तमान काल में यदि संसार के किसी भी कोने में कोई भी घटना घटित हो तो उसके अगले दिन हमारे पास उसकी खबर आ जाती है। ऐसा सिर्फ समाचार पत्रों के कारण ही _____ होता है। आज के समय में बिना समाचार पत्र के जीवन की _____ करना भी काफी कठिन है। यह वो पहली और आवश्यक वस्तु है, जिसे सभी हर सुबह सबसे पहले देखते हैं। यह हमें पूरे विश्व में हो रही _____ के बारे में जानकारी देकर वर्तमान समय से जुड़े रखने में हमारी मदद करता है। समाचार पत्र व्यापारियों, राजनितियों, सामाजिक मुद्दों, बेरोजगारों, खेल, अन्तरराष्ट्रीय समाचार, विज्ञान, शिक्षा, दवाइयों, अभिनेताओं, मेलों, त्योहारों, तकनीकों आदि की जानकारी हमें देता है। यह हमारे ज्ञान कौशल और तकनीकी _____ को बढ़ाने में भी हमारी सहायता करता है। पहले के समय में, समाचार पत्रों में केवल खबरों का विवरण प्रकाशित होता था। हालांकि, अब इसमें बहुत से विषयों के बारे में खबरें और विशेषज्ञों के विचार यहाँ तक कि, लगभग सभी विषयों की जानकारी भी निहित होती है। बहुत से समाचार पत्रों की कीमत बाजार में उनकी खबरों के _____ और उस क्षेत्र में प्रसिद्धि के कारण अलग-अलग होती है। समाचार पत्र या अखबार में दैनिक जीवन की सभी वर्तमान घटनाएं नियमित रूप से छपती है।

SubQuestion No : 17

Q.17 आज के समय में बिना समाचार पत्र के जीवन की _____ करना भी काफी कठिन है।

- Ans
- ✗ 1. ज़रूरत
 - ✗ 2. आवश्यकता
 - ✗ 3. संरचना
 - ✓ 4. कल्पना

Question ID : 264330189987

Option 1 ID : 264330743549

Option 2 ID : 264330743547

Option 3 ID : 264330743546

Option 4 ID : 264330743548

Status : Answered

Chosen Option : 3

Comprehension:

नीचे दिए गये गद्यांश में कुछ शब्द छोड़ दिये गए हैं, प्रत्येक अनुच्छेद के सामने चार विकल्प दिए गए हैं। इस गद्यांश को ध्यानपूर्वक पढ़ें और चार विकल्पों में से सर्वोत्तम उत्तर वाला विकल्प चुनें।

वर्तमान काल में यदि संसार के किसी भी कोने में कोई भी घटना घटित हो तो उसके अगले दिन हमारे पास उसकी खबर आ जाती है। ऐसा सिर्फ समाचार पत्रों के कारण ही _____ होता है। आज के समय में बिना समाचार पत्र के जीवन की _____ करना भी काफी कठिन है। यह वो पहली और आवश्यक वस्तु है, जिसे सभी हर सुबह सबसे पहले देखते हैं। यह हमें पूरे विश्व में हो रही _____ के बारे में जानकारी देकर वर्तमान समय से जुड़े रखने में हमारी मदद करता है। समाचार पत्र व्यापारियों, राजनितियों, सामाजिक मुद्दों, बेरोजगारों, खेल, अन्तरराष्ट्रीय समाचार, विज्ञान, शिक्षा, दवाइयों, अभिनेताओं, मेलों, त्योहारों, तकनीकों आदि की जानकारी हमें देता है। यह हमारे ज्ञान कौशल और तकनीकी _____ को बढ़ाने में भी हमारी सहायता करता है। पहले के समय में, समाचार पत्रों में केवल खबरों का विवरण प्रकाशित होता था। हालांकि, अब इसमें बहुत से विषयों के बारे में खबरें और विशेषज्ञों के विचार यहाँ तक कि, लगभग सभी विषयों की जानकारी भी निहित होती है। बहुत से समाचार पत्रों की कीमत बाजार में उनकी खबरों के _____ और उस क्षेत्र में प्रसिद्धि के कारण अलग-अलग होती है। समाचार पत्र या अखबार में दैनिक जीवन की सभी वर्तमान घटनाएँ नियमित रूप से छपती है।

SubQuestion No : 18

Q.18 यह हमें पूरे विश्व में हो रही _____ के बारे में जानकारी देकर वर्तमान समय से जुड़े रखने में हमारी मदद करता है।

Ans

✓ 1. घटनाओं

✗ 2. संकल्पनाओं

✗ 3. खेलों

✗ 4. त्योहारों

Question ID : 264330189988

Option 1 ID : 264330743551

Option 2 ID : 264330743552

Option 3 ID : 264330743553

Option 4 ID : 264330743550

Status : Answered

Chosen Option : 3

Comprehension:

नीचे दिए गये गद्यांश में कुछ शब्द छोड़ दिये गए हैं, प्रत्येक अनुच्छेद के सामने चार विकल्प दिए गए हैं। इस गद्यांश को ध्यानपूर्वक पढ़ें और चार विकल्पों में से सर्वोत्तम उत्तर वाला विकल्प चुनें।

वर्तमान काल में यदि संसार के किसी भी कोने में कोई भी घटना घटित हो तो उसके अगले दिन हमारे पास उसकी खबर आ जाती है। ऐसा सिर्फ समाचार पत्रों के कारण ही _____ होता है। आज के समय में बिना समाचार पत्र के जीवन की _____ करना भी काफी कठिन है। यह वो पहली और आवश्यक वस्तु है, जिसे सभी हर सुबह सबसे पहले देखते हैं। यह हमें पूरे विश्व में हो रही _____ के बारे में जानकारी देकर वर्तमान समय से जुड़े रखने में हमारी मदद करता है। समाचार पत्र व्यापारियों, राजनितियों, सामाजिक मुद्दों, बेरोजगारों, खेल, अन्तरराष्ट्रीय समाचार, विज्ञान, शिक्षा, दवाइयों, अभिनेताओं, मेलों, त्योहारों, तकनीकों आदि की जानकारी हमें देता है। यह हमारे ज्ञान कौशल और तकनीकी _____ को बढ़ाने में भी हमारी सहायता करता है। पहले के समय में, समाचार पत्रों में केवल खबरों का विवरण प्रकाशित होता था। हालांकि, अब इसमें बहुत से विषयों के बारे में खबरें और विशेषज्ञों के विचार यहाँ तक कि, लगभग सभी विषयों की जानकारी भी निहित होती है। बहुत से समाचार पत्रों की कीमत बाजार में उनकी खबरों के _____ और उस क्षेत्र में प्रसिद्धि के कारण अलग-अलग होती है। समाचार पत्र या अखबार में दैनिक जीवन की सभी वर्तमान घटनाएँ नियमित रूप से छपती है।

SubQuestion No : 19

Q.19 यह हमारे ज्ञान, कौशल और तकनीकी _____ को बढ़ाने में भी हमारी सहायता करता है।

Ans

✗ 1. माँग

✓ 2. जागरूकता

✗ 3. बात

✗ 4. संख्या

Question ID : 264330189989

Option 1 ID : 264330743554

Option 2 ID : 264330743556

Option 3 ID : 264330743557

Option 4 ID : 264330743555

Status : Answered

Chosen Option : 1

Comprehension:

नीचे दिए गये गद्यांश में कुछ शब्द छोड़ दिये गए हैं, प्रत्येक अनुच्छेद के सामने चार विकल्प दिए गए हैं। इस गद्यांश को ध्यानपूर्वक पढ़ें और चार विकल्पों में से सर्वोत्तम उत्तर वाला विकल्प चुनें।

वर्तमान काल में यदि संसार के किसी भी कोने में कोई भी घटना घटित हो तो उसके अगले दिन हमारे पास उसकी खबर आ जाती है। ऐसा सिर्फ समाचार पत्रों के कारण ही _____ होता है। आज के समय में बिना समाचार पत्र के जीवन की _____ करना भी काफी कठिन है। यह वो पहली और आवश्यक वस्तु है, जिसे सभी हर सुबह सबसे पहले देखते हैं। यह हमें पूरे विश्व में हो रही _____ के बारे में जानकारी देकर वर्तमान समय से जुड़े रखने में हमारी मदद करता है। समाचार पत्र व्यापारियों, राजनितियों, सामाजिक मुद्दों, बेरोजगारों, खेल, अन्तरराष्ट्रीय समाचार, विज्ञान, शिक्षा, दवाइयों, अभिनेताओं, मेलों, त्योहारों, तकनीकों आदि की जानकारी हमें देता है। यह हमारे ज्ञान कौशल और तकनीकी _____ को बढ़ाने में भी हमारी सहायता करता है। पहले के समय में, समाचार पत्रों में केवल खबरों का विवरण प्रकाशित होता था। हालाँकि, अब इसमें बहुत से विषयों के बारे में खबरें और विशेषज्ञों के विचार यहाँ तक कि, लगभग सभी विषयों की जानकारी भी निहित होती है। बहुत से समाचार पत्रों की कीमत बाजार में उनकी खबरों के _____ और उस क्षेत्र में प्रसिद्धि के कारण अलग-अलग होती है। समाचार पत्र या अखबार में दैनिक जीवन की सभी वर्तमान घटनाएँ नियमित रूप से छपती है।

SubQuestion No : 20

Q.20 बहुत से समाचार पत्रों की कीमत बाजार में उनकी खबरों के _____ और उस क्षेत्र में प्रसिद्धि के कारण अलग-अलग होती है।

Ans

- 1. छपाई
- 2. बढ़ाई
- 3. गलती
- 4. विवरण

Question ID : 264330189990

Option 1 ID : 264330743559

Option 2 ID : 264330743560

Option 3 ID : 264330743561

Option 4 ID : 264330743558

Status : Answered

Chosen Option : 1

www.exammix.com