

# Constable GD in CAPFs SSF Rifleman GD in Assam Rifles and Sepoy in NCB Examination 2022

Roll Number	examstocks.com
Candidate Name	examstocks.com
Venue Name	iON Digital Zone iDZ5 Patliputra
Exam Date	01/02/2023
Exam Time	5:15 PM - 6:15 PM
Subject	Constable GD Examination 2022

Section : Part-A-General Intelligence and Reasoning

Q.1 Select the correct mirror image of the given figure when the mirror is placed at MN as shown below.



Ans

- ✓ 1.
- ✗ 2.
- ✗ 3.
- ✗ 4.

Question ID : 26433085560

Status : Answered

Chosen Option : 1

Q.2 In a certain code language, 'heart games' is coded as 'alarm coffee', 'wrap' is coded as 'bottle', and 'wrap games' is coded as 'bottle coffee'. What is the code word for 'heart'?

Ans

- ✓ 1. alarm
- ✗ 2. wrap
- ✗ 3. bottle
- ✗ 4. coffee

Question ID : 26433079365

Status : Answered

Chosen Option : 1

**Q.3** Select the option that is related to the fifth number in the same way as the second number is related to the first number and the fourth number is related to the third number.

15 : 4 :: 21 : 6 :: 42 : ?

- Ans
- 1. 8
  - 2. 12
  - 3. 13
  - 4. 11

Question ID : 26433069416  
Status : Answered  
Chosen Option : 3

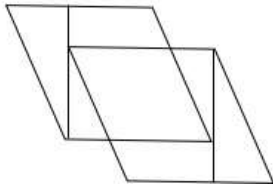
**Q.4** Select the option that is related to the third word in the same way as the second word is related to the first word. (The words must be considered as meaningful English words and must not be related to each other based on the number of letters/number of consonants/vowels in the word.)

Argentina : Peso :: Japan : ?

- Ans
- 1. Yen
  - 2. Rial
  - 3. Krona
  - 4. Guilder

Question ID : 26433067369  
Status : Answered  
Chosen Option : 1

**Q.5** Select the option figure which is embedded in the given figure. (Rotation is NOT allowed)



- Ans
- 1.
  - 2.
  - 3.
  - 4.

Question ID : 26433069334  
Status : Answered  
Chosen Option : 4

**Q.6** Which letter-cluster will replace the question mark (?) to complete the given series?  
CJEZ, ?, WFYV, TDVT, QBSR

- Ans
- 1. AGCX
  - 2. ZHBX
  - 3. BGAW
  - 4. BHAY

Question ID : 26433068039  
Status : Answered  
Chosen Option : 2

**Q.7** Which of the numbers(not digits) should be interchanged in the below equation to make it mathematically correct?  
 $108 \div 9 \times 16 + 12 - 27 = 126$

- Ans
- 1. 12 and 27
  - 2. 9 and 12
  - 3. 16 and 9
  - 4. 27 and 9

Question ID : 264330117492  
Status : Answered  
Chosen Option : 2

**Q.8** Which two signs should be interchanged to make the below equation mathematically correct?  
 $44 - 96 \times 4 \div 3 + 58 = 30$

- Ans
- 1. - and ÷
  - 2. × and +
  - 3. + and -
  - 4. ÷ and ×

Question ID : 264330114195  
Status : Answered  
Chosen Option : 4

**Q.9** In a certain code language, 'ARGUE' is written as '22620926' and 'BEACH' is written as '1924262225'. How will 'ACCEL' be written in that language?

- Ans
- 1. 1522226426
  - 2. 1524242426
  - 3. 1252242426
  - 4. 1522242426

Question ID : 26433069553  
Status : Answered  
Chosen Option : 4

Q.10 Six friends M, N, O, P, Q and R are sitting in a straight row facing north. Exactly three people are sitting to the left of N. O is sitting immediately to the right of N. M and P are immediate neighbours of Q such that M is the fourth to the left of O. Where is R seated?

- Ans
- 1. Second to the left of N
  - 2. Third to the right of P
  - 3. Immediate right of M
  - 4. Third to the left of O

Question ID : 26433074526  
Status : Answered  
Chosen Option : 2

Q.11 Which letter-cluster will replace the question mark (?) to complete the given series?  
ACEG, BDFH, ?, DFHJ, EGIK

- Ans
- 1. CDEF
  - 2. CEGI
  - 3. CFHJ
  - 4. CEHI

Question ID : 26433067710  
Status : Answered  
Chosen Option : 2

Q.12 Which option represents the correct order of the given words as they would appear in the English dictionary?

- 1 power
- 2 pour
- 3 powder
- 4 pointed
- 5 polite

- Ans
- 1. 4,2,5,3,1
  - 2. 4,5,2,3,1
  - 3. 4,3,5,2,1
  - 4. 4,2,3,1,5

Question ID : 26433069283  
Status : Answered  
Chosen Option : 2

Q.13 Which figure should replace the question mark (?) if the series were to be continued?

C	B	S	Z	4	B	S	C	
	4		C		Z		4	?
S	Z	4	B	S	C	Z	B	

Ans

✗ 1.

4	S
	C
B	Z

✗ 2.

Z	B
	S
4	C

✓ 3.

Z	B
	C
S	4

✗ 4.

C	S
	B
4	Z

Question ID : 26433076635  
 Status : Answered  
 Chosen Option : 2

Q.14 Select the option that is related to the third word in the same way as the second word is related to the first word. (The words must be considered as meaningful English words and must not be related to each other based on the number of letters/number of consonants/vowels in the word.)  
 Goldsmith : Ornaments :: Sculptor : ?

- Ans
- ✗ 1. Sand
  - ✗ 2. Museum
  - ✗ 3. Stone
  - ✓ 4. Bust

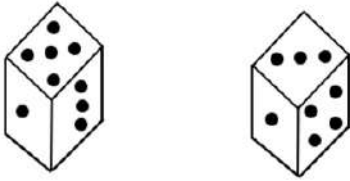
Question ID : 26433069582  
 Status : Answered  
 Chosen Option : 3

Q.15 Six people J, K, L, M, N and O are sitting around a circular table facing the centre. J sits second to the right of N. O is an immediate neighbour of M and J. K sits second to the left of L. Who sits to the immediate right of O?

- Ans
- 1. K
  - 2. N
  - 3. M
  - 4. L

Question ID : 26433069479  
Status : Answered  
Chosen Option : 3

Q.16 Two different positions of the same dice are shown having numbers 1 to 6 represented as dots. Find the number on the face opposite the face showing '5'.



- Ans
- 1. 4
  - 2. 6
  - 3. 2
  - 4. 1

Question ID : 26433085524  
Status : Answered  
Chosen Option : 1

Q.17 Three statements are given followed by two conclusions. Assuming the statements to be true, even if they seem to be at variance with commonly known facts, decide which of the conclusions logically follow(s) from the statements.

Statements:

All tables are woods.

All woods are paints.

No paint is a steel.

Conclusions:

1. All steels can be woods.

2. Some paints are steels.

- Ans
- 1. Both conclusions 1 and 2 follow.
  - 2. Neither conclusion 1 nor 2 follows.
  - 3. Only conclusion 1 follows.
  - 4. Only conclusion 2 follows.

Question ID : 26433089422  
Status : Answered  
Chosen Option : 2

Q.18 Which number will replace the question mark (?) in the following series?  
1, 5, ?, 25, 41, 61

- Ans
- 1. 10
  - 2. 13
  - 3. 8
  - 4. 12

Question ID : 26433067842  
Status : Answered  
Chosen Option : 2

Q.19 Which of the following numbers will replace the question mark (?) in the given series?  
16, 23, 34, 47, 64, ?, 106

- Ans
- 1. 83
  - 2. 90
  - 3. 98
  - 4. 86

Question ID : 26433070216  
Status : Answered  
Chosen Option : 1

Q.20 'A + B' means 'B is the father of A'  
'A - B' means 'B is the mother of A'  
'A @ B' means 'B is the brother of A'  
'A \* B' means 'B is the son of A'  
If A \* B + C @ D - E, then how is E related to A?

- Ans
- 1. Sister
  - 2. Mother
  - 3. Mother-in-law
  - 4. Brother's wife

Question ID : 26433068532  
Status : Answered  
Chosen Option : 3

Section : Part-B-General Knowledge and General awareness

Q.1 An instrument that can detect the presence of a current in a circuit is known as \_\_\_\_\_.

- Ans
- 1. odometer
  - 2. speedometer
  - 3. hygrometer
  - 4. ammeter

Question ID : 26433089647  
Status : Answered  
Chosen Option : 4

**Q.2 Who has sworn in as 50th Chief Justice of India?**

Ans  1. Uday Umesh Lalit

2. Dhananjaya Yashwant Chandrachud

3. Sharad Arvind Bobde

4. Nuthalapati Venkata Ramana

Question ID : 264330114982

Status : Answered

Chosen Option : 2

**Q.3 Radha Sridhar won the Sangeet Natak Akademi Award in 2018 in \_\_\_\_\_.**

Ans  1. Kathak

2. Odissi

3. Bharatnatyam

4. Manipuri

Question ID : 264330115876

Status : Not Answered

Chosen Option : --

**Q.4 Powers, authority and responsibilities of Municipalities are dealt under which schedule?**

Ans  1. 11th

2. 13th

3. 10th

4. 12th

Question ID : 264330115614

Status : Answered

Chosen Option : 1

**Q.5 Which political leader quit Indian National Congress following differences with party leadership in May 2022?**

Ans  1. Sonia Gandhi

2. Mallikarjun Kharge

3. Kapil Sibal

4. Shashi Tharoor

Question ID : 264330114914

Status : Answered

Chosen Option : 3



**Q.6** How many types of Bihu festival are celebrated in Assam?

- Ans  1. 6  
 2. 3  
 3. 5  
 4. 2

Question ID : 264330106203  
Status : Answered  
Chosen Option : 2

**Q.7** The concepts of Dhamma was popularized by which of the following Mauryan kings?

- Ans  1. Ashoka  
 2. Bindusara  
 3. Dasaratha  
 4. Chandragupta

Question ID : 264330115452  
Status : Answered  
Chosen Option : 1

**Q.8** The Dronacharya Sports Award is given to the\_\_\_\_\_.

- Ans  1. Captain of the Team  
 2. Best player of The team  
 3. President of the team  
 4. Coach of the Team

Question ID : 264330116290  
Status : Answered  
Chosen Option : 4

**Q.9** Planning Commission was established under \_\_\_\_\_on March 15, 1950

- Ans  1. APJ Abdul Kalam  
 2. Indira Gandhi  
 3. Subhash Chandra Bose  
 4. Jawahar Lal Nehru

Question ID : 264330115380  
Status : Answered  
Chosen Option : 4

**Q.10** Availability of \_\_\_\_\_ during winter months due to the western temperate cyclones helps in the success of rabi crops.

- Ans  1. frost  
 2. precipitation  
 3. fog  
 4. wind

Question ID : 264330115526  
Status : Answered  
Chosen Option : 1

Q.11 On September 1948 the Indian army intervened and took control of which princely state?

- Ans
- 1. Assam
  - 2. Uttar Pradesh
  - 3. Hyderabad
  - 4. Tripura

Question ID : 264330115688  
Status : Answered  
Chosen Option : 3

Q.12 Which Indian organisation is responsible for collecting data on poverty in the country?

- Ans
- 1. NITI Aayog
  - 2. National Organisation for Social Empowerment
  - 3. National Sample Survey Organisation
  - 4. Office of Registrar General and Census Commissioner of India

Question ID : 264330116076  
Status : Answered  
Chosen Option : 1

Q.13 The council of ministers is collectively responsible to the \_\_\_\_\_.

- Ans
- 1. people
  - 2. lok sabha
  - 3. chief minister
  - 4. governor

Question ID : 26433086672  
Status : Answered  
Chosen Option : 3

Q.14 The classical text, Hasthalakshana Deepika, is associated with which Indian classical dance form?

- Ans
- 1. Sattriya
  - 2. Kuchipudi
  - 3. Bharatanatyam
  - 4. Kathakali

Question ID : 26433069902  
Status : Not Answered  
Chosen Option : --

**Q.15** Government goods and services that aren't sold directly to the consumers, for example defence goods, roads are categorised under:

- Ans
- 1. private goods
  - 2. international goods
  - 3. public goods
  - 4. expensive goods

Question ID : 264330115279  
Status : Answered  
Chosen Option : 3

**Q.16** What is an area of dry land that lies on the leeward side of a mountain called?

- Ans
- 1. Rainshadow area
  - 2. Windward Side
  - 3. Leeward Side
  - 4. Mountainous areas

Question ID : 264330115981  
Status : Not Answered  
Chosen Option : --

**Q.17** The national level cricket championship, Ranji Trophy, began in \_\_\_\_\_.

- Ans
- 1. 1934-1935
  - 2. 1953-1954
  - 3. 1950-1951
  - 4. 1944-1945

Question ID : 26433089922  
Status : Not Answered  
Chosen Option : --

**Q.18** The National Food and Security Act of 2013 (NFSA2013) provides subsidised food grains to \_\_\_\_\_ of India's rural population.

- Ans
- 1. 95%
  - 2. 75%
  - 3. 65%
  - 4. 85%

Question ID : 264330116156  
Status : Answered  
Chosen Option : 2

**Q.19** Select the second step of decomposition.

- Ans  1. leaching  
 2. fragmentation  
 3. catabolism  
 4. humification

Question ID : 264330115252  
Status : Not Answered  
Chosen Option : --

**Q.20** Any person in-charge of or employed in a child care institution, who subjects a child to corporal punishment shall be liable under\_\_\_\_\_.

- Ans  1. Indian Advocate's Act  
 2. Hindu succession act  
 3. Juvenile Justice Act  
 4. Hindu adoption act

Question ID : 264330116222  
Status : Answered  
Chosen Option : 4

Section : Part-C-Elementary Mathematics

**Q.1** The LCM of 192 and 480 is 60 more than the 100 times of X. What is the value of X?

- Ans  1. 6  
 2. 12  
 3. 9  
 4. 18

Question ID : 264330116631  
Status : Answered  
Chosen Option : 3

**Q.2** Divide Rs.500 among A, B, C and D so that A and B together get thrice as much as C and D together, B gets 4 times what C gets and C gets 1.5 times as much as D. The value of B's share is:

- Ans  1. Rs.250  
 2. Rs.300  
 3. Rs.125  
 4. Rs.75

Question ID : 26433076038  
Status : Answered  
Chosen Option : 2

Q.3 A's speed is 30% more than that of B. If A and B run a race on a 117 m length race, what part of the length of the race should A give B as a head start, so that the race ends in a dead heat?

- Ans
- 1. 90 m
  - 2. 117 m
  - 3. 27 m
  - 4. 36 m

Question ID : 26433080051  
Status : Answered  
Chosen Option : 3

Q.4 A single discount equivalent to two successive discounts 15% and 25% is:

- Ans
- 1.  $21\frac{1}{4}\%$
  - 2.  $26\frac{3}{4}\%$
  - 3.  $38\frac{1}{4}\%$
  - 4.  $36\frac{1}{4}\%$

Question ID : 26433061070  
Status : Answered  
Chosen Option : 4

Q.5 A certain sum of money fetches simple interest of Rs.4,016.25 at the rate of 7% per annum in 5 years. What is the sum?

- Ans
- 1. Rs.10,475
  - 2. Rs.9,475
  - 3. Rs.11,400
  - 4. Rs.11,475

Question ID : 26433075237  
Status : Answered  
Chosen Option : 4

Q.6 A person drives for 320 kms in 8 hours, cycles for 40 kms in 5 hours and then walks for 40 kms in 7 hours. Find the average speed of the driver.

- Ans
- 1. 20 kmph
  - 2. 18 kmph
  - 3. 22 kmph
  - 4. 22.22 kmph

Question ID : 264330116686  
Status : Answered  
Chosen Option : 1

Q.7

Find the remainder of  $\frac{3126^{20} 21^{22} 23^{--}}{5}$ .

- Ans
- 1. 4
  - 2. 0
  - 3. 1
  - 4. 2

Question ID : 26433080385  
Status : Answered  
Chosen Option : 3

Q.8 Two years ago, the population of a town was 66000. The population increased by 5% in the first year and decreased by 5% in the second year. Find the present population of the town.

- Ans
- 1. 68553
  - 2. 63855
  - 3. 65835
  - 4. 65583

Question ID : 26433075196  
Status : Answered  
Chosen Option : 3

Q.9 The radius of the base of a conical vessel is 5 cm and its height is 24 cm. The vessel is full of water. This water is poured into a cylindrical vessel having the base radius 10 cm. The depth of the water in the cylindrical vessel is:

- Ans
- 1. 1 cm
  - 2. 4 cm
  - 3. 2 cm
  - 4. 3 cm

Question ID : 26433075213  
Status : Answered  
Chosen Option : 3

Q.10 Three partners A, B and C started a business and decided to share the profit in the ratio 2 : 3 : 5, respectively. If the share of B is Rs.7,50,000, then calculate the total profit.

- Ans
- 1. Rs.24,00,000
  - 2. Rs.20,00,000
  - 3. Rs.25,00,000
  - 4. Rs.27,00,000

Question ID : 26433075976  
Status : Answered  
Chosen Option : 3

Q.11 P can do as much work as Q and R together can do. P and Q can together do a piece of work in 8 hours and 24 minutes and R can do it in 42 hours. Find the time (in hours) that Q needs to do the work alone.

- Ans
- 1. 22 hours
  - 2. 24 hours
  - 3. 21 hours
  - 4. 20 hours

Question ID : 264330116906  
Status : Answered  
Chosen Option : 3

Q.12 Salary of a person is first decreased by 40 percent and then increased by 40 percent. What will be the percentage decrease in the salary ?

- Ans
- 1. 18 percent
  - 2. 12 percent
  - 3. 16 percent
  - 4. 15 percent

Question ID : 26433079854  
Status : Answered  
Chosen Option : 3

Q.13 Find the total surface area of a cylinder whose height is 8.5 mm and the base diameter is 10 mm.

- Ans
- 1.  $135\pi \text{ mm}^2$
  - 2.  $85.5\pi \text{ mm}^2$
  - 3.  $67.5\pi \text{ mm}^2$
  - 4.  $120\pi \text{ mm}^2$

Question ID : 26433080249  
Status : Answered  
Chosen Option : 1

Q.14 Excluding the stoppages, the speed of a truck is 90 km/h and including the stoppages, the speed of the truck is 36 km/h in a journey. For how many minutes does the truck stop per hour?

- Ans
- 1. 54 minutes
  - 2. 36 minutes
  - 3. 40 minutes
  - 4. 42 minutes

Question ID : 26433074939  
Status : Answered  
Chosen Option : 2

Q.15 A dealer offers 20% discount on all dolls. He offers a further discount of 5% on the reduced price to those customers who pay in cash. How much will a customer pay in cash for a doll worth Rs.1,800?

- Ans
- 1. Rs.800
  - 2. Rs.1,368
  - 3. Rs.1,225
  - 4. Rs.1,532

Question ID : 26433083041  
Status : Answered  
Chosen Option : 2

Q.16 In a storm 243 trees were left standing out of 300 trees in a garden. What is the percentage decrease in number of trees?

- Ans
- 1. 19 percent
  - 2. 22 percent
  - 3. 24 percent
  - 4. 21 percent

Question ID : 264330116826  
Status : Answered  
Chosen Option : 1

Q.17 A shopkeeper sells his goods at 10 percent loss on cost price but uses 30 percent less weight. What is his profit?

- Ans
- 1.  $28\frac{4}{7}$  percent
  - 2.  $21\frac{4}{7}$  percent
  - 3.  $25\frac{5}{7}$  percent
  - 4.  $20\frac{3}{7}$  percent

Question ID : 26433079864  
Status : Answered  
Chosen Option : 1

Q.18 If 6 men or 8 women can reap a field in 21.5 days. How long will 14 men and 10 women take to reap it?

- Ans
- 1. 9 days
  - 2. 8 days
  - 3. 6 days
  - 4. 12 days

Question ID : 26433076209  
Status : Answered  
Chosen Option : 3



Q.19 The average of the cube of the first 4 natural numbers is:

- Ans  1. 25  
 2. 100  
 3. 75  
 4. 50

Question ID : 26433075718  
Status : Answered  
Chosen Option : 1

Q.20 Rita buys a toy car for Rs.12,000 and sells it for Rs.14,500. What is her gain percent?  
(rounded off to two digits after decimal)

- Ans  1. 20.83%  
 2. 18%  
 3. 22%  
 4. 14.50%

Question ID : 26433074920  
Status : Answered  
Chosen Option : 1

Section : Part-D-English

Q.1 The sentence given below has one misspelt word. Spot the INCORRECTLY spelt word and select its correct spelling.

Too much bureacracy suppresses creativity.

- Ans  1. Bureaucracy  
 2. Burocracy  
 3. Bureaukracy  
 4. Burreaukracy

Question ID : 26433073555  
Status : Answered  
Chosen Option : 1

Q.2 Select the most appropriate option that can substitute the underlined segment in the given sentence.

The mob broke up the norms of the country.

- Ans  1. violated  
 2. invade  
 3. disturb  
 4. damaged

Question ID : 26433086464  
Status : Answered  
Chosen Option : 1

Q.3 Select the most appropriate option to fill in the blank.

The skeleton of an unknown person has been hanging on the tree \_\_\_\_\_ last Wednesday.

- Ans  1. through  
 2. since  
 3. about  
 4. for

Question ID : 26433074364  
Status : Answered  
Chosen Option : 2

Q.4 Select the most appropriate synonym of the given word.

Hesitation

- Ans  1. Readiness  
 2. Reluctance  
 3. Prudence  
 4. Creativity

Question ID : 26433073465  
Status : Answered  
Chosen Option : 2

Q.5 Select the correct word for the blanks in the given sentence.

There is a provision of \_\_\_\_\_ delivery in every courier service whereas a child can \_\_\_\_\_ his feelings at the age of 2 years or so.

- Ans  1. normal  
 2. fast  
 3. slow  
 4. express

Question ID : 26433060536  
Status : Answered  
Chosen Option : 4

Q.6 Select the most appropriate meaning of the underlined idiom in the given sentence.

The second wave of the pandemic left everyone in the doldrums.

- Ans  1. In confusion  
 2. In deep sympathy  
 3. In need of help  
 4. In low spirits and despair

Question ID : 26433073759  
Status : Answered  
Chosen Option : 4

**Q.7** Select the most appropriate word to complete the meaning of the sentence.

The new owners of the newspaper had changed the \_\_\_\_\_ completely.

- Ans
- 1. layout
  - 2. outlay
  - 3. outlook
  - 4. outlet

Question ID : 26433088875  
Status : Answered  
Chosen Option : 4

**Q.8** Select the most appropriate ANTONYM of the given word.

Dream

- Ans
- 1. Delusion
  - 2. Fancy
  - 3. Imagination
  - 4. Reality

Question ID : 26433072208  
Status : Answered  
Chosen Option : 4

**Q.9** Select the most appropriate synonym of the given word.

Colossal

- Ans
- 1. Immense
  - 2. Joyous
  - 3. Entertaining
  - 4. Fantastic

Question ID : 26433088997  
Status : Answered  
Chosen Option : 1

**Q.10** Select the most appropriate ANTONYM of the underlined word in the following sentence.

His ancestors are native to this place.

- Ans
- 1. Innate
  - 2. Community
  - 3. Enemy
  - 4. Foreign

Question ID : 26433072240  
Status : Answered  
Chosen Option : 4

Q.11 Select the most appropriate meaning of the given idiom.

Where the shoe pinches

- Ans
- 1. Tight fitting shoes
  - 2. Expensive shoes
  - 3. Where the comfort is more
  - 4. Where the difficulty lies

Question ID : 26433072221  
Status : Answered  
Chosen Option : 4

Q.12 Select the most appropriate option that can substitute the underlined segment in the given sentence.

She couldn't get over with Thomas due to his addiction to alcohol.

- Ans
- 1. get at with Thomas due to
  - 2. get along with Thomas due to
  - 3. get off with Thomas due to
  - 4. get rid with Thomas due to

Question ID : 264330100989  
Status : Answered  
Chosen Option : 2

Q.13 The following sentence has been divided into parts. One of them may contain an error. Select the part that contains the error from the given options. If you don't find any error, mark 'No error' as your answer.

For the last three years, / Sunita had been running / private hostels near this university.

- Ans
- 1. Sunita had been running
  - 2. No error
  - 3. private hostels near this university
  - 4. For the last three years

Question ID : 26433073763  
Status : Answered  
Chosen Option : 3

Q.14 Select the INCORRECTLY spelt word.

- Ans
- 1. Powerful
  - 2. Willfull
  - 3. Grateful
  - 4. Doubtful

Question ID : 26433072458  
Status : Answered  
Chosen Option : 2

**Q.15 Identify from the following options the word which is OPPOSITE in meaning to the given word.**

**Opaque**

- Ans  1. Intangible  
 2. Shadowy  
 3. Transparent  
 4. Reflector

Question ID : 26433088816

Status : Answered

Chosen Option : 3

**Comprehension:**

In the following passage, some words have been deleted. Read the passage carefully and select the most appropriate option to fill in each blank.

The life (1) \_\_\_\_\_ of a banana is a colourful one; it starts with a deep green, changes to a delicious yellow and ends at an unappetizing brown. Bananas, like most fruits, produce and (2) \_\_\_\_\_ with an airborne hormone called ethylene. This hormone helps to signal the ripening process. An unripe fruit is hard and acidic. It is likely to possess a greenish (3) \_\_\_\_\_ due to the presence of chlorophyll. When a fruit comes into contact (4) \_\_\_\_\_ ethylene, the acids in the fruit start to break down, it becomes softer and the green chlorophyll is (5) \_\_\_\_\_ and replaced, in the case of bananas, with a yellow hue.

**SubQuestion No : 16**

**Q.16 Select the most appropriate option to fill in blank number 1.**

- Ans  1. span  
 2. story  
 3. cycle  
 4. time

Question ID : 26433072056

Status : Answered

Chosen Option : 3

**Comprehension:**

In the following passage, some words have been deleted. Read the passage carefully and select the most appropriate option to fill in each blank.

The life (1) \_\_\_\_\_ of a banana is a colourful one; it starts with a deep green, changes to a delicious yellow and ends at an unappetizing brown. Bananas, like most fruits, produce and (2) \_\_\_\_\_ with an airborne hormone called ethylene. This hormone helps to signal the ripening process. An unripe fruit is hard and acidic. It is likely to possess a greenish (3) \_\_\_\_\_ due to the presence of chlorophyll. When a fruit comes into contact (4) \_\_\_\_\_ ethylene, the acids in the fruit start to break down, it becomes softer and the green chlorophyll is (5) \_\_\_\_\_ and replaced, in the case of bananas, with a yellow hue.

**SubQuestion No : 17**

**Q.17 Select the most appropriate option to fill in blank number 2.**

- Ans  1. differ  
 2. correspond  
 3. tamper  
 4. react

Question ID : 26433072057

Status : Answered

Chosen Option : 4

**Comprehension:**

In the following passage, some words have been deleted. Read the passage carefully and select the most appropriate option to fill in each blank.

The life (1) \_\_\_\_\_ of a banana is a colourful one; it starts with a deep green, changes to a delicious yellow and ends at an unappetizing brown. Bananas, like most fruits, produce and (2) \_\_\_\_\_ with an airborne hormone called ethylene. This hormone helps to signal the ripening process. An unripe fruit is hard and acidic. It is likely to possess a greenish (3) \_\_\_\_\_ due to the presence of chlorophyll. When a fruit comes into contact (4) \_\_\_\_\_ ethylene, the acids in the fruit start to break down, it becomes softer and the green chlorophyll is (5) \_\_\_\_\_ and replaced, in the case of bananas, with a yellow hue.

**SubQuestion No : 18**

**Q.18 Select the most appropriate option to fill in blank number 3.**

- Ans  1. seed  
 2. flesh  
 3. fibre  
 4. hue

Question ID : 26433072058

Status : Answered

Chosen Option : 4

**Comprehension:**

In the following passage, some words have been deleted. Read the passage carefully and select the most appropriate option to fill in each blank.

The life (1) \_\_\_\_\_ of a banana is a colourful one; it starts with a deep green, changes to a delicious yellow and ends at an unappetizing brown. Bananas, like most fruits, produce and (2) \_\_\_\_\_ with an airborne hormone called ethylene. This hormone helps to signal the ripening process. An unripe fruit is hard and acidic. It is likely to possess a greenish (3) \_\_\_\_\_ due to the presence of chlorophyll. When a fruit comes into contact (4) \_\_\_\_\_ ethylene, the acids in the fruit start to break down, it becomes softer and the green chlorophyll is (5) \_\_\_\_\_ and replaced, in the case of bananas, with a yellow hue.

**SubQuestion No : 19**

**Q.19 Select the most appropriate option to fill in blank number 4.**

- Ans  1. over  
 2. from  
 3. by  
 4. with

Question ID : 26433072059

Status : Answered

Chosen Option : 4

**Comprehension:**

In the following passage, some words have been deleted. Read the passage carefully and select the most appropriate option to fill in each blank.

The life (1) \_\_\_\_\_ of a banana is a colourful one; it starts with a deep green, changes to a delicious yellow and ends at an unappetizing brown. Bananas, like most fruits, produce and (2) \_\_\_\_\_ with an airborne hormone called ethylene. This hormone helps to signal the ripening process. An unripe fruit is hard and acidic. It is likely to possess a greenish (3) \_\_\_\_\_ due to the presence of chlorophyll. When a fruit comes into contact (4) \_\_\_\_\_ ethylene, the acids in the fruit start to break down, it becomes softer and the green chlorophyll is (5) \_\_\_\_\_ and replaced, in the case of bananas, with a yellow hue.

**SubQuestion No : 20****Q.20 Select the most appropriate option to fill in blank number 5.**

- Ans  1. broken up  
 2. brought to  
 3. fallen into  
 4. turned down

Question ID : 26433072060

Status : Answered

Chosen Option : 3

Section : Part-D-Hindi

Q.1 आधुनिक लोग गोबर को कम महत्व देते हैं।  
उपरोक्त वाक्य में 'गोबर' के बदले आप कौन सा पद प्रयोग करेंगे?

- Ans  1. अक्षत  
 2. तुलसी  
 3. कुसुम  
 4. गोमय

Question ID : 26433062689

Status : Not Answered

Chosen Option : --

Q.2 "सुजय राघव को पुस्तक दिया।"  
उपरोक्त वाक्य में कारक सम्बन्धी त्रुटि पहचानकर निम्नलिखित में से शुद्ध वाक्य का चयन कीजिए।

- Ans  1. सुजय ने राघव का पुस्तक दिया।  
 2. सुजय ने राघव को पुस्तक दी।  
 3. सुजय राघव की पुस्तक दिया।  
 4. सुजय राघव की पुस्तक दी।

Question ID : 26433066964

Status : Not Answered

Chosen Option : --

Q.3 निम्नलिखित वाक्यांश के लिए एक सार्थक शब्द क्या होगा?  
जो इच्छा के अधीन है

- Ans
- 1. आंशिक
  - 2. अमानत
  - 3. आशातीत
  - 4. ऐच्छिक

Question ID : 26433069987  
Status : Not Answered  
Chosen Option : --

Q.4 निम्नलिखित वाक्य में रेखांकित एकार्थी शब्द युग्म का उपयुक्त अर्थ बताएं।  
हमारे गाँव में पीपल के 'शप्त-सप्त' पेड़ हैं।

- Ans
- 1. शापित-सात
  - 2. शुभ-लाभ
  - 3. नापित-शापित
  - 4. दो बार सात-सात

Question ID : 26433091331  
Status : Not Answered  
Chosen Option : --

Q.5 निम्नलिखित शब्दों में से कौन सा शब्द अनेकार्थी शब्द है?

- Ans
- 1. बौरा
  - 2. मोती
  - 3. मुद्रा
  - 4. मेंढक

Question ID : 26433091317  
Status : Not Answered  
Chosen Option : --

Q.6 निम्नलिखित वाक्य में रेखांकित शब्द के विलोम शब्द का प्रयोग करके रिक्तस्थान की पूर्ति कीजिए-  
\_\_\_\_\_ बादल से वर्षा की सम्भावना कम ही होती है, स्याह बादल वर्षा के परिचायक हैं।

- Ans
- 1. श्याम
  - 2. सफेद
  - 3. अँधेरा
  - 4. काला

Question ID : 26433091346  
Status : Not Answered  
Chosen Option : --



Q.7 "जयेश ने खाना खाया।"  
उपरोक्त वाक्य का अपूर्ण वर्तमानकाल में रूपांतरण क्या होगा?

- Ans  1. जयेश खाना खा रहा है।  
 2. जयेश ने खाना खाया होगा।  
 3. जयेश ने खाना खा रहा होगा।  
 4. शायद जयेश खाना खा रहा हो।

Question ID : 26433066977  
Status : Not Answered  
Chosen Option : --

Q.8 जिस स्त्री के पुत्र और पति न हो' वाक्यांश के लिए इनमें से सही शब्द क्या है?

- Ans  1. सधवा  
 2. विधवा  
 3. कबीरा  
 4. अवीरा

Question ID : 26433092245  
Status : Not Answered  
Chosen Option : --

Q.9 कौन से विकल्प में क्रमशः अकर्मक-सकर्मक क्रिया का सही युग्म दिया गया है।

- Ans  1. खाना, लिखना  
 2. कहना, सोना  
 3. गिरना, देना  
 4. बैठना, लेटना

Question ID : 26433063046  
Status : Not Answered  
Chosen Option : --

Q.10 निम्नलिखित वाक्य के किस खंड में अशुद्धि है?  
महादेवी वर्मा बड़ी जीवंत कवयित्री थीं।

- Ans  1. जीवंत  
 2. बड़ी  
 3. थीं  
 4. कवयित्री

Question ID : 26433066750  
Status : Not Answered  
Chosen Option : --

Q.11 निम्नलिखित में से शुद्ध वाक्य है-

- Ans  1. मोहन श्याम की अपेक्षा सिष्ट है।  
 2. मोहन श्याम की अपेक्षा शिष्ट है।  
 3. मोहन श्याम की अपेक्ष शिष्ट है।  
 4. मोहन श्याम की अपेक्षा सिस्टर है।

Question ID : 26433066840  
Status : Not Answered  
Chosen Option : --

Q.12 निम्न वाक्य में रेखांकित अंश के लिए उचित मुहावरा दिए गए विकल्पों में से चुनिए।  
बेटा अच्छे अंकों से पास हो गया, माँ के मन को शांति मिली।

- Ans  1. कलेजा ठंडा होना  
 2. काँटा दूर होना  
 3. कलम तोड़ना  
 4. कली खेलना

Question ID : 26433062302  
Status : Not Answered  
Chosen Option : --

Q.13 'सुंदरी' के लिए पर्याय शब्द निम्न में से क्या होगा?

- Ans  1. भामा  
 2. सुदर्शना  
 3. वनिता  
 4. रानी

Question ID : 26433069943  
Status : Not Answered  
Chosen Option : --

Q.14 'बरसात के चार महीने' वाक्यांश के लिए सार्थक शब्द है-

- Ans  1. चारमासा  
 2. चौमासा  
 3. बारहमासा  
 4. बरसात

Question ID : 26433062227  
Status : Not Answered  
Chosen Option : --

Q.15 रीता ने समीर के स्वभाव के बारे में जो बात कही है, वह \_\_\_\_\_ आने सही है।  
उपरोक्त वाक्य में रिक्त स्थान की पूर्ति उचित मुहावरे द्वारा कीजिए।

- Ans
- 1. चार
  - 2. आठ
  - 3. बारह
  - 4. सोलह

Question ID : 26433062616

Status : Not Answered

Chosen Option : --

**Comprehension:**

निम्नलिखित गद्यांश में कुछ शब्दों को हटा दिया गया है। दिए गए विकल्पों की सहायता से रिक्त स्थानों की पूर्ति कीजिए। प्रत्येक संख्या के लिए सबसे उपयुक्त विकल्प का चयन कीजिए।  
भारत कृषि प्रधान 1. \_\_\_\_\_ है। यहाँ की अधिकांश जनता 2. \_\_\_\_\_ करती है। कृषि ही उसकी जीविका का साधन है और यही व्यवसाय है। कृषक आज भी 3. \_\_\_\_\_ में रहता है। यद्यपि कुछ दशकों से यह दिखाई दे रहा है कि भारत का किसान अपना व्यवसाय छोड़कर 4. \_\_\_\_\_ की ओर भाग रहा है। फिर भी नगर और गाँवों के बीच की भूमि पर आज भी 5. \_\_\_\_\_ होती है।

**SubQuestion No : 16**

Q.16 रिक्त स्थान 1 की पूर्ति के लिए सबसे उपयुक्त विकल्प का चयन कीजिए।

- Ans
- 1. देश
  - 2. क्षेत्र
  - 3. राज्य
  - 4. नगर

Question ID : 264330110981

Status : Not Answered

Chosen Option : --

**Comprehension:**

निम्नलिखित गद्यांश में कुछ शब्दों को हटा दिया गया है। दिए गए विकल्पों की सहायता से रिक्त स्थानों की पूर्ति कीजिए। प्रत्येक संख्या के लिए सबसे उपयुक्त विकल्प का चयन कीजिए।  
भारत कृषि प्रधान 1. \_\_\_\_\_ है। यहाँ की अधिकांश जनता 2. \_\_\_\_\_ करती है। कृषि ही उसकी जीविका का साधन है और यही व्यवसाय है। कृषक आज भी 3. \_\_\_\_\_ में रहता है। यद्यपि कुछ दशकों से यह दिखाई दे रहा है कि भारत का किसान अपना व्यवसाय छोड़कर 4. \_\_\_\_\_ की ओर भाग रहा है। फिर भी नगर और गाँवों के बीच की भूमि पर आज भी 5. \_\_\_\_\_ होती है।

**SubQuestion No : 17**

Q.17 रिक्त स्थान 2 की पूर्ति के लिए सबसे उपयुक्त विकल्प का चयन कीजिए।

- Ans
- 1. खेती
  - 2. खेल
  - 3. व्यवसाय
  - 4. नाटक

Question ID : 264330110982

Status : Not Answered

Chosen Option : --

**Comprehension:**

निम्नलिखित गद्यांश में कुछ शब्दों को हटा दिया गया है। दिए गए विकल्पों की सहायता से रिक्त स्थानों की पूर्ति कीजिए। प्रत्येक संख्या के लिए सबसे उपयुक्त विकल्प का चयन कीजिए।  
भारत कृषि प्रधान 1. \_\_\_\_\_ है। यहाँ की अधिकांश जनता 2. \_\_\_\_\_ करती है। कृषि ही उसकी जीविका का साधन है और यही व्यवसाय है। कृषक आज भी 3. \_\_\_\_\_ में रहता है। यद्यपि कुछ दशकों से यह दिखाई दे रहा है कि भारत का किसान अपना व्यवसाय छोड़कर 4. \_\_\_\_\_ की ओर भाग रहा है। फिर भी नगर और गाँवों के बीच की भूमि पर आज भी 5. \_\_\_\_\_ होती है।

**SubQuestion No : 18**

Q.18 रिक्त स्थान 3 की पूर्ति के लिए सबसे उपयुक्त विकल्प का चयन कीजिए।

- Ans  1. शहरों  
 2. गाँवों  
 3. विश्व  
 4. देश

Question ID : 264330110983

Status : Not Answered

Chosen Option : --

**Comprehension:**

निम्नलिखित गद्यांश में कुछ शब्दों को हटा दिया गया है। दिए गए विकल्पों की सहायता से रिक्त स्थानों की पूर्ति कीजिए। प्रत्येक संख्या के लिए सबसे उपयुक्त विकल्प का चयन कीजिए।  
भारत कृषि प्रधान 1. \_\_\_\_\_ है। यहाँ की अधिकांश जनता 2. \_\_\_\_\_ करती है। कृषि ही उसकी जीविका का साधन है और यही व्यवसाय है। कृषक आज भी 3. \_\_\_\_\_ में रहता है। यद्यपि कुछ दशकों से यह दिखाई दे रहा है कि भारत का किसान अपना व्यवसाय छोड़कर 4. \_\_\_\_\_ की ओर भाग रहा है। फिर भी नगर और गाँवों के बीच की भूमि पर आज भी 5. \_\_\_\_\_ होती है।

**SubQuestion No : 19**

Q.19 रिक्त स्थान 4 की पूर्ति के लिए सबसे उपयुक्त विकल्प का चयन कीजिए।

- Ans  1. खेतों  
 2. शहरों  
 3. दूसरे देशों  
 4. भूमि

Question ID : 264330110984

Status : Not Answered

Chosen Option : --

**Comprehension:**

निम्नलिखित गद्यांश में कुछ शब्दों को हटा दिया गया है। दिए गए विकल्पों की सहायता से रिक्त स्थानों की पूर्ति कीजिए। प्रत्येक संख्या के लिए सबसे उपयुक्त विकल्प का चयन कीजिए।  
भारत कृषि प्रधान 1. \_\_\_\_\_ है। यहाँ की अधिकांश जनता 2. \_\_\_\_\_ करती है। कृषि ही उसकी जीविका का साधन है और यही व्यवसाय है। कृषक आज भी 3. \_\_\_\_\_ में रहता है। यद्यपि कुछ दशकों से यह दिखाई दे रहा है कि भारत का किसान अपना व्यवसाय छोड़कर 4. \_\_\_\_\_ की ओर भाग रहा है। फिर भी नगर और गाँवों के बीच की भूमि पर आज भी 5. \_\_\_\_\_ होती है।

**SubQuestion No : 20**

**Q.20** रिक्त स्थान 5 की पूर्ति के लिए सबसे उपयुक्त विकल्प का चयन कीजिए।

- Ans**
- 1. खाद्यान्न
  - 2. देखरेख
  - 3. पूछताछ
  - 4. खेती

Question ID : 264330110985

Status : Not Answered

Chosen Option : --

# Constable GD in CAPFs SSF Rifleman GD in Assam Rifles and Sepoy in NCB Examination 2022

Roll Number	examstocks.com
Candidate Name	examstocks.com
Venue Name	iON Digital Zone iDZ Jamshedpur
Exam Date	01/02/2023
Exam Time	9:00 AM - 10:00 AM
Subject	Constable GD Examination 2022

Section : Part-A-General Intelligence and Reasoning

Q.1 Select the correct mirror image of the given figure when the mirror is placed at MN as shown below.



- Ans
- 1. tEVθEORθ
  - 2. tEV6EORθ
  - 3. tEVθVt
  - 4. tEVθEORθ

Question ID : 26433089460  
Status : Answered  
Chosen Option : 1

Q.2 Select the option that is related to the fourth term in the same way as the first term is related to the second term and the fifth term is related to the sixth term.  
104 : 13 :: ? : 37 :: 168 : 21

- Ans
- 1. 304
  - 2. 248
  - 3. 296
  - 4. 280

Question ID : 26433074548  
Status : Answered  
Chosen Option : 3

Q.3 Which of the following numbers will replace the question mark (?) in the given series?  
2880, 480, 96, ?, 8, 4

- Ans
- 1. 24
  - 2. 76
  - 3. 46
  - 4. 56

Question ID : 26433076748  
Status : Answered  
Chosen Option : 1

Q.4 In a certain code language, 'DANCE' is written as 'AECDN', 'MUSIC' is written as 'IUCMS', how will 'SONG' be written as in that language?

- Ans
- 1. GNSO
  - 2. OSNG
  - 3. OGNS
  - 4. SNGO

Question ID : 26433069654

Status : Answered

Chosen Option : 3

Q.5 Three statements are given, followed by three conclusions numbered I, II and III. Assuming the statements to be true, even if they seem to be at variance with commonly known facts, decide which of the conclusions logically follow(s) from the statements.

Statements:

Some paints are brushes.

All brushes are easels.

Some easels are tables.

Conclusions:

I. Some brushes are tables.

II. Some paints are easels.

III. Some easels are brushes.

- Ans
- 1. Only conclusions I and III follow
  - 2. All conclusions follow
  - 3. Only conclusion III follows
  - 4. Only conclusions II and III follow

Question ID : 26433090996

Status : Answered

Chosen Option : 2

Q.6 Which of the mathematical signs should be interchanged in the below equation to make it mathematically correct?

$$72 - 6 + 2 \times 216 \div 24 = 420$$

- Ans
- 1.  $\times$  and  $\div$
  - 2.  $-$  and  $\times$
  - 3.  $-$  and  $+$
  - 4.  $-$  and  $\div$

Question ID : 264330117561

Status : Answered

Chosen Option : 4

Q.7 Which letter cluster will replace the question mark (?) to complete the given series?  
DKBN, ENWS, ?, GTMC, HWHH

- Ans
- 1. QRFG
  - 2. RQFX
  - 3. GQFR
  - 4. FQRX

Question ID : 26433079424

Status : Answered

Chosen Option : 4

Q.8 Which option will replace the question mark (?) to complete the given figure series?



Ans

✗ 1.



✗ 2.



✓ 3.



✗ 4.



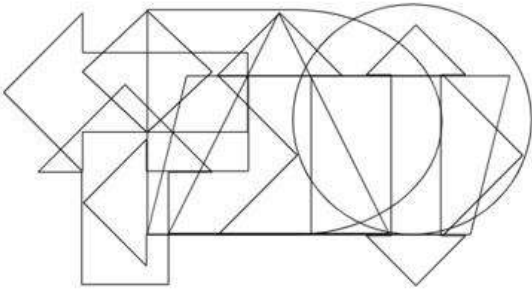
Question ID : 26433078967

Status : Answered

Chosen Option : 3

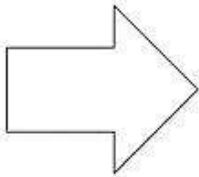


Q.9 Select the option figure which is embedded in the given figure. (Rotation is Not allowed)




Ans


✗ 1.




✓ 2.



✗ 3.



✗ 4.



Question ID : 26433085744

Status : Answered

Chosen Option : 2

Q.10 Which two signs should be interchanged to make the given equation correct?

$$790 + 5 \div 58 \times 5 - 96 = 352$$

Ans ✓ 1. + and ÷

✗ 2. + and -

✗ 3. + and ×

✗ 4. ÷ and ×

Question ID : 26433082666

Status : Answered

Chosen Option : 1

Q.11 Which letter-cluster will replace the question mark (?) to complete the given series?  
AZME, CYOG, ?, GWSK, IVUM

- Ans
- 1. FYRJ
  - 2. FXRJ
  - 3. EXQI
  - 4. FXQJ

Question ID : 26433067939  
Status : Answered  
Chosen Option : 3

Q.12 Which of the following options will replace the question mark (?) in the given series?  
103, 110, 105, ?, 107, 114, 109

- Ans
- 1. 110
  - 2. 108
  - 3. 111
  - 4. 112

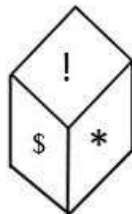
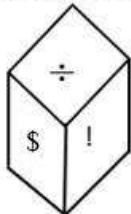
Question ID : 26433089445  
Status : Answered  
Chosen Option : 4

Q.13 Select the option that is related to the fifth term in the same way as the second term is related to the first term and the fourth term is related to the third term.  
QUEST : VUGWS :: REACH : JECGT :: SOLVE : ?

- Ans
- 1. GXNOV
  - 2. GXNQU
  - 3. VONXG
  - 4. UQNXG

Question ID : 26433087192  
Status : Answered  
Chosen Option : 2

Q.14 Two different positions of the same dice, with the symbols \$, @, !, \*, ∞, ÷, are shown. Find the symbol on the face opposite the face showing '÷'.



- Ans
- 1. @
  - 2. !
  - 3. \*
  - 4. ∞

Question ID : 26433089512  
Status : Answered  
Chosen Option : 3

Q.15 'P % Q' means 'P is the brother of Q'.  
'P + Q' means 'P is the daughter of Q'.  
'P = Q' means 'P is the son of Q'.  
'P # Q' means 'P is the wife of Q'.  
If L + M % N = O # P, how is P related to L?

- Ans  1. Father's father  
 2. Father's brother  
 3. Mother's brother  
 4. Sister's husband

Question ID : 26433087004  
Status : Answered  
Chosen Option : 1

Q.16 In a certain code language, 'MARINE' is coded as '100' and 'NORMAL' is coded as '126'. How will 'REALM' be coded in that language?

- Ans  1. 98  
 2. 88  
 3. 78  
 4. 70

Question ID : 26433081514  
Status : Not Attempted and Marked For Review  
Chosen Option : --

Q.17 Which option represents the correct order of the given words as they would appear in the English dictionary?

- 1 pointed
- 2 pollen
- 3 populate
- 4 popular
- 5 podium

- Ans  1. 5,3,4,2,1  
 2. 5,4,2,3,1  
 3. 5,1,2,4,3  
 4. 5,3,1,4,2

Question ID : 26433069298  
Status : Answered  
Chosen Option : 3

**Q.18** Select the option that is related to the third word in the same way as the second word is related to the first word.  
(The words must be considered as meaningful English words and must not be related to each other based on the number of letters/number of consonants/vowels in the word)

Friend : Foe :: Die : ?

- Ans
- 1. End
  - 2. Live
  - 3. Life
  - 4. Cry

Question ID : 26433067976  
Status : Answered  
Chosen Option : 2

**Q.19** Six friends M, N, O, P, Q and R, are sitting in a row facing South. N is exactly in between P and Q. O is to the immediate left of R. M is to the immediate right of P. If Q is at the extreme left of the row, then who is sitting to the immediate left to O?

- Ans
- 1. Q
  - 2. M
  - 3. N
  - 4. P

Question ID : 26433079062  
Status : Answered  
Chosen Option : 2

**Q.20** Eight people, D, E, G, H, M, N, Y and Z are sitting in a straight line, facing north. Y sits at one of the extreme ends of the line. Only three people sit between Y and Z. E sits second to the right of Z. Only three people sit between E and D. G sits at one of the positions to the left of D but not at an extreme end of the line. M is not an immediate neighbour of Z. N sits second to the right of H. How many people sit to the left of H?

- Ans
- 1. Three
  - 2. None
  - 3. Two
  - 4. One

Question ID : 26433092424  
Status : Answered  
Chosen Option : 1

Section : Part-B-General Knowledge and General awareness

**Q.1** Base changes the colour of the red litmus to \_\_\_\_\_.

- Ans
- 1. blue
  - 2. purple
  - 3. pink
  - 4. yellow

Question ID : 264330115264  
Status : Answered  
Chosen Option : 1

**Q.2 In 1873, he founded the Satya-Shodhak Samaj. Who is referred to as 'he' here?**

- Ans
- 1. Govindrao Phule
  - 2. Gopal Hari Deshmukh
  - 3. Savitribai Phule
  - 4. Jyotiba Phule

Question ID : 264330115725  
Status : Answered  
Chosen Option : 4

**Q.3 At Devaprayag the Bhagirathi is Joined by \_\_\_\_\_.**

- Ans
- 1. The Alaknanda
  - 2. The Ghaghra
  - 3. The Kosi
  - 4. The Yamuna

Question ID : 26433087891  
Status : Answered  
Chosen Option : 1

**Q.4 Who took over as the Chief of Army Staff on April 30, 2022?**

- Ans
- 1. Manoj Mukund Naravane
  - 2. Vineet Joshi
  - 3. Nitin Paranjape
  - 4. Manoj Pande

Question ID : 264330115051  
Status : Answered  
Chosen Option : 4

**Q.5 Who looks after the development, maintenance and management of inland water ways in India?**

- Ans
- 1. Steel Authority of India
  - 2. Inland Waterways Authority of India
  - 3. National Highway Authority of India
  - 4. Airport Authority of India

Question ID : 264330115595  
Status : Answered  
Chosen Option : 2

**Q.6 Who among the following politicians became the President of India in July 2022?**

- Ans
- 1. Jai Ram Thakur
  - 2. Ram Nath Kovind
  - 3. Droupadi Murmu
  - 4. Smriti Irani

Question ID : 264330114887  
Status : Answered  
Chosen Option : 3

**Q.7** Personal Disposable income is money that is available for household consumption, \_\_\_\_\_ and spending after accounting for income tax.

- Ans**
- 1. Goods and Service Tax
  - 2. sales tax
  - 3. interest
  - 4. savings

Question ID : 264330115348  
Status : Answered  
Chosen Option : 4

**Q.8** Which of the following Articles of the Constitution of India provides for 'protection against arrest and detention in certain cases'?

- Ans**
- 1. Article 10
  - 2. Article 47
  - 3. Article 35
  - 4. Article 22

Question ID : 26433086806  
Status : Answered  
Chosen Option : 3

**Q.9** Disadvantage of the industrial development is \_\_\_\_\_.

- Ans**
- 1. sustainable development
  - 2. pollution
  - 3. high revenue collection
  - 4. economic growth

Question ID : 264330115393  
Status : Answered  
Chosen Option : 2

**Q.10** As of November 2022, who is the Union Minister of Information & Broadcasting and Youth Affairs & Sports in India?

- Ans**
- 1. Anurag Singh Thakur
  - 2. Kiren Rijju
  - 3. Narayan Rane
  - 4. Ashwini Vaishnav

Question ID : 264330114929  
Status : Answered  
Chosen Option : 1

**Q.11** If there is need for four labourers and seven are working, then what kind of unemployment are the extra three labourers suffering from?

- Ans
- 1. Cyclic unemployment
  - 2. Frictional unemployment
  - 3. Structural unemployment
  - 4. Disguised unemployment

Question ID : 264330116091  
Status : Answered  
Chosen Option : 4

**Q.12** Which of the following is an example of indirect tax?

- Ans
- 1. Gift tax
  - 2. Corporation tax for firms
  - 3. Property tax
  - 4. G.S.T.

Question ID : 26433054802  
Status : Answered  
Chosen Option : 4

**Q.13** Limestone, chalk and marble are different forms of \_\_\_\_\_.

- Ans
- 1. Calcium oxide
  - 2. Calcium carbonate
  - 3. Calcium hydroxide
  - 4. Calcium phosphate

Question ID : 264330115164  
Status : Answered  
Chosen Option : 2

**Q.14** The annual festival of Gangaur, celebrated by the married women of Rajasthan, is observed in the Hindu month of \_\_\_\_\_.

- Ans
- 1. Phalgun
  - 2. Ashvina
  - 3. Kartika
  - 4. Chaitra

Question ID : 264330115105  
Status : Answered  
Chosen Option : 3

**Q.15 Which country won the maximum gold medal in the 2020 Summer Paralympics?**

- Ans
- 1. United States of America
  - 2. Great Britain
  - 3. China
  - 4. Russia

Question ID : 264330115924  
Status : **Marked For Review**  
Chosen Option : 3

**Q.16 'Arthashastra' was written by:**

- Ans
- 1. Kautilya
  - 2. Vishakhadutta
  - 3. Megasthenes
  - 4. Vasudeva

Question ID : 26433090572  
Status : **Answered**  
Chosen Option : 1

**Q.17 Alamel Valli is an exponent of which of the following classical dance forms?**

- Ans
- 1. Bharatanatyam
  - 2. Kathak
  - 3. Kathakali
  - 4. Odissi

Question ID : 26433071666  
Status : **Answered**  
Chosen Option : 3

**Q.18**

**In which sport is the field often oval with a rectangular area in the middle, that is 22 yards (20.12 metres) by 10 feet (3.04 metres) wide?**

- Ans
- 1. Cricket
  - 2. Lawn Tennis
  - 3. Basketball
  - 4. Volleyball

Question ID : 26433089937  
Status : **Answered**  
Chosen Option : 1



Q.19 The \_\_\_\_\_ is the sole link of communication between the Cabinet and the Governor.

- Ans
- 1. Advocate General
  - 2. Chief Minister
  - 3. Chief Election Commissioner
  - 4. Chairman of State Public Service Commission

Question ID : 26433089186  
Status : Answered  
Chosen Option : 2

Q.20 C. V. Chandrasekhar was awarded the Padma Bhushan for his contribution in \_\_\_\_\_.

- Ans
- 1. Kuchipudi
  - 2. Kathak
  - 3. Bharatnatyam
  - 4. Manipuri

Question ID : 264330115893  
Status : Answered  
Chosen Option : 3

Section : Part-C-Elementary Mathematics

Q.1 Find the absolute difference between the greatest 3-digit number and the smallest 4-digit number divisible by 12, 25 and 18.

- Ans
- 1. 900
  - 2. 300
  - 3. 600
  - 4. 1200

Question ID : 264330116646  
Status : Answered  
Chosen Option : 1

Q.2 A shopkeeper announces the following three discount schemes on the purchase of an article. Which of these schemes is the best scheme for a customer?

- A. Two successive discounts of 15% and 18%
- B. Buy 6 articles and get 2 free
- C. A flat discount of 30%

- Ans
- 1. Both schemes A and C give the same discount
  - 2. Scheme A
  - 3. Scheme B
  - 4. Scheme C

Question ID : 26433075762  
Status : Answered  
Chosen Option : 2

Q.3 If 12 men or 9 women can do a piece of work in 36 days, then how many days will 16 men and 18 women take to finish the same work?

- Ans
- 1.  $13\frac{1}{5}$
  - 2.  $12\frac{4}{5}$
  - 3.  $14\frac{3}{5}$
  - 4.  $10\frac{4}{5}$

Question ID : 26433082929  
Status : Answered  
Chosen Option : 4

Q.4 The current birth rate per ten thousand is 450, whereas the corresponding death rate is 120 per ten thousand. Find the net growth rate in terms of the population increase in percentage.

- Ans
- 1. 2.3%
  - 2. 2%
  - 3. 3%
  - 4. 3.3%

Question ID : 26433080127  
Status : Not Attempted and Marked For Review  
Chosen Option : --

Q.5 On mixing two classes A and B of students having average marks 50 and 80, respectively, the average marks obtained is 60. Find the respective ratio of the students in the classes A and B.

- Ans
- 1. 3 : 2
  - 2. 2 : 3
  - 3. 2 : 1
  - 4. 1 : 2

Question ID : 26433081009  
Status : Answered  
Chosen Option : 3

Q.6 A can paint 5 chairs in an hour and B can paint 3 chairs in an hour. Determine how much time they will require to paint 40 chairs when they work together.

- Ans
- 1. 12 hours
  - 2. 10 hours
  - 3. 8 hours
  - 4. 5 hours

Question ID : 26433071340  
Status : Answered  
Chosen Option : 4

Q.7 The weights of two persons A and B are in ratio of 5 : 3 respectively. If the weight of A increases by 5% and the total weight of A and B becomes 92 kg with an increase of 15%, then find the percentage increase in the weight of B. (Correct to 2 decimal places)

- Ans
- 1. 31.67 Percent
  - 2. 30.66 Percent
  - 3. 32.66 Percent
  - 4. 36.66 Percent

Question ID : 26433080162  
Status : Marked For Review  
Chosen Option : 3

Q.8 If a right circular cone of height 24 cm has a volume of  $392 \pi \text{ cm}^3$ , then the curved surface area is:

- Ans
- 1.  $163 \pi \text{ cm}^2$
  - 2.  $191 \pi \text{ cm}^2$
  - 3.  $175 \pi \text{ cm}^2$
  - 4.  $185 \pi \text{ cm}^2$

Question ID : 26433076088  
Status : Answered  
Chosen Option : 3

Q.9 The simplified value of  $\frac{5}{16}$  of  $\frac{7}{8} \times 6 + 15 - 10$  is:

- Ans
- 1.  $\frac{425}{64}$
  - 2.  $\frac{850}{64}$
  - 3.  $\frac{425}{128}$
  - 4.  $\frac{525}{64}$

Question ID : 26433081002  
Status : Answered  
Chosen Option : 1

Q.10 Find the mean proportional of squares of  $\frac{x}{y}$  and  $\frac{y}{z}$ .

Ans

1.  $\left(\frac{x}{z}\right)^{3/2}$

2.  $\sqrt{\frac{x}{z}}$

3.  $\frac{x}{z}$

4.  $\left(\frac{x}{z}\right)^2$

Question ID : 26433079938

Status : Answered

Chosen Option : 3

Q.11 If you are buying one jacket at ₹2,500 and buying two similar jackets at ₹4,500, then find the discount percentage. (Marked price of one jacket is ₹2500)

Ans  1. 12 Percent

2. 15 Percent

3. 10 Percent

4. 18 Percent

Question ID : 26433080173

Status : Answered

Chosen Option : 3

Q.12 A police officer follows a thief who is at a distance of 800 m from him. If they run at a speed of 8 km/h and 7 km/h, respectively, how long does the police officer have to run to catch up with the thief?

Ans  1. 4000 m

2. 4800 m

3. 5600 m

4. 6400 m

Question ID : 26433073133

Status : Answered

Chosen Option : 4

Q.13 In a college, there are two courses. In M.Com. 450 students passed out of 500, while in M.A. 1500 students passed the exam out of 2000 students. What is the combined pass percentage of the college?

- Ans
- 1. 78%
  - 2. 79%
  - 3. 75.5%
  - 4. 76.75%

Question ID : 26433082497  
Status : Answered  
Chosen Option : 1

Q.14 A sum of money amounts to ₹14,112 at the rate of 20% per annum compounded annually for 3 years. Find the sum of money.

- Ans
- 1. ₹8,099.60
  - 2. ₹7,167.70
  - 3. ₹9,166.87
  - 4. ₹8,166.67

Question ID : 26433082722  
Status : Answered  
Chosen Option : 4

Q.15 A thief started running at a speed of 15 m/s, after running for 12 sec a policeman started running to catch the thief in the same direction at a speed of 20 m/s. How many metre will the policeman run to catch the thief?

- Ans
- 1. 740 m
  - 2. 754 m
  - 3. 720 m
  - 4. 744 m

Question ID : 26433075694  
Status : Answered  
Chosen Option : 3

Q.16 If the radius of a sphere is increased by 5%, what percentage increase takes place in the surface area of the sphere?

- Ans
- 1. 18%
  - 2. 25%
  - 3. 10.25%
  - 4. 15.25%

Question ID : 26433083059  
Status : Answered  
Chosen Option : 3

Q.17 The price of a mobile first successively decreases by 5%, 2% and after that the price is increased successively by 10%, 20%, respectively. What is the final change in the price of the mobile?

Ans

1.  $17\frac{153}{250}\%$

2.  $21\frac{113}{250}\%$

3.  $22\frac{123}{250}\%$

4.  $22\frac{223}{250}\%$

Question ID : 26433076073

Status : Answered

Chosen Option : 4

Q.18 A house worth Rs.1,00,000 is sold by A to B at a profit of 6%. B sells house back to A at 3% loss. What is the gain/loss of A in the entire transaction?

Ans

1. Loss of Rs.3,280

2. Gain of Rs.2,802

3. Loss of Rs.2,280

4. Gain of Rs.2,820

Question ID : 26433076373

Status : Answered

Chosen Option : 4

Q.19 Soni sold a mobile phone to Raju at a profit of 10%, Raju sold it to Alok at a loss of 5% and Alok sold it to Sohan at a profit of 20%. If Sohan bought it for ₹ 6,270, what is the cost price (in ₹) of the mobile for Soni?

Ans

1. ₹5,000

2. ₹5,500

3. ₹4,500

4. ₹4,650

Question ID : 26433075546

Status : Answered

Chosen Option : 2

Q.20 Price of 3 CTs is ₹3,300.What would be the price (in ₹) of 10 CTs?

- Ans
- 1. ₹11,000
  - 2. ₹12,000
  - 3. ₹10,000
  - 4. ₹33,000

Question ID : 26433076010  
Status : Answered  
Chosen Option : 1

Section : Part-D-English

Q.1 Select the most appropriate homonym to fill in the blank.

This nation is \_\_\_\_\_ to each of its citizens.

- Ans
- 1. feel
  - 2. fur
  - 3. fair
  - 4. fare

Question ID : 26433088790  
Status : Answered  
Chosen Option : 3

Q.2 Select the most appropriate ANTONYM of the given word.

Truth

- Ans
- 1. Falsity
  - 2. Lay
  - 3. Loyalty
  - 4. Reality

Question ID : 26433072859  
Status : Answered  
Chosen Option : 1

Q.3 Select the option with the correct spelling of the underlined word in the given sentence.

They waited for him in the adjcent room.

- Ans
- 1. adjacentt
  - 2. adgencent
  - 3. adjacent
  - 4. addjacent

Question ID : 26433073610  
Status : Answered  
Chosen Option : 3

Q.4 Select the most appropriate synonym of the given word.

Blend

- Ans  1. Disunity  
 2. Scatter  
 3. Fusion  
 4. Destruction

Question ID : 26433072072  
Status : Answered  
Chosen Option : 3

Q.5 Select the correct spelling of the word to fill in the blank in the given sentence.

Shyam \_\_\_\_\_ an \_\_\_\_\_ letter from his employer.

- Ans  1. received; acknowledgment  
 2. reseived; knowledgement  
 3. recievid; acknowledgment  
 4. recieved; aknowlegdement

Question ID : 26433084767  
Status : Answered  
Chosen Option : 1

Q.6 Select the most appropriate ANTONYM of the underlined word in the following sentence.

It is quite comprehensible that now young people's minds are constantly being reshaped by the media's constant meddling of certain unfathomable ideas and moral standards.

- Ans  1. Constantly  
 2. Comprehensible  
 3. Meddling  
 4. Reshape

Question ID : 26433092863  
Status : Answered  
Chosen Option : 2

Q.7 Select the most appropriate synonym of the underlined word.

A leading actor has said in a new interview that nepotism does not matter, and she is the best example of that.

- Ans  1. favouritism  
 2. neutrality  
 3. unbiasedness  
 4. objectivity

Question ID : 26433088839  
Status : Answered  
Chosen Option : 1



Q.8 Select the most appropriate option that can substitute the underlined segment in the given sentence.

The teacher asked me to tell him what is his name?

- Ans
- 1. what name is he?
  - 2. what the name is.
  - 3. what his name was.
  - 4. what he is called is.

Question ID : 264330102392  
Status : Answered  
Chosen Option : 3

Q.9 Select the most appropriate option to fill in the blank.

He seized a thief by his \_\_\_\_\_ and forced him to answer.

- Ans
- 1. colour
  - 2. choler
  - 3. caller
  - 4. collar

Question ID : 26433087942  
Status : Answered  
Chosen Option : 4

Q.10 Select the correct idiom that can substitute the italicised group of words in the given sentence.

Prof. Ram Prasad was an environmental activist, and apparently, he became *annoying and irritating* to leather factories over the years.

- Ans
- 1. a vexed question
  - 2. a thorn in the flesh
  - 3. a slow coach
  - 4. an uphill task

Question ID : 26433084762  
Status : Answered  
Chosen Option : 2

Q.11 Select the most appropriate synonym for the underlined word in the given sentence.

The moral failure was the result of his lassitude.

- Ans
- 1. derision
  - 2. luxury
  - 3. weariness
  - 4. indulgence

Question ID : 26433073752  
Status : Answered  
Chosen Option : 1

Q.12 Select the most appropriate option to fill in the blank.  
The child \_\_\_\_\_ not guilty of shoplifting.

- Ans
- 1. questioned
  - 2. nagged
  - 3. said
  - 4. pleaded

Question ID : 26433085599  
Status : Answered  
Chosen Option : 4

Q.13 Select the correct option to substitute the underlined segment in the given sentence. If no substitution is required, select 'No substitution'.

Slow and steady wins the race.

- Ans
- 1. No substitution
  - 2. had won the race
  - 3. won the race
  - 4. will win the race

Question ID : 26433090808  
Status : Answered  
Chosen Option : 1

Q.14 The following sentence has been divided into parts. One of them may contain an error. Select the part that contains the error from the given options. If you don't find any error, mark 'No error' as your answer.  
The shield used by the / warrior have been one / made of strong iron.

- Ans
- 1. No error
  - 2. warrior have been one
  - 3. made of strong iron
  - 4. The shield used by the

Question ID : 26433099906  
Status : Answered  
Chosen Option : 2

Q.15 Select the most appropriate meaning of the underlined idiom that can be substituted in the following sentence.

The robber showed a clean pair of heels when the policeman came nearer.

- Ans
- 1. stole and ran away with heels
  - 2. stood so as to show the heels
  - 3. showed how clean the heels were
  - 4. ran away

Question ID : 26433072234  
Status : Answered  
Chosen Option : 4

**Comprehension:**

In the following passage, some words have been deleted. Read the passage carefully and select the most appropriate option to fill in each blank.

Transformation of a sentence means (1) \_\_\_\_\_ the words or forms of the sentence without changing (2) \_\_\_\_\_ meaning. Such changes can be in the form (3) \_\_\_\_\_ changes from negative sentences into assertive, interrogative or exclamatory sentences and vice versa (4) \_\_\_\_\_ change in narration or change in voice or changes from simple to (5) \_\_\_\_\_ or complex sentences.

**SubQuestion No : 16**

**Q.16** Select the most appropriate option to fill in blank number 1.

Ans  1. changing

2. to change

3. of change

4. change

Question ID : 26433088564

Status : Answered

Chosen Option : 1

**Comprehension:**

In the following passage, some words have been deleted. Read the passage carefully and select the most appropriate option to fill in each blank.

Transformation of a sentence means (1) \_\_\_\_\_ the words or forms of the sentence without changing (2) \_\_\_\_\_ meaning. Such changes can be in the form (3) \_\_\_\_\_ changes from negative sentences into assertive, interrogative or exclamatory sentences and vice versa (4) \_\_\_\_\_ change in narration or change in voice or changes from simple to (5) \_\_\_\_\_ or complex sentences.

**SubQuestion No : 17**

**Q.17** Select the most appropriate option to fill in blank number 2.

Ans  1. its

2. their

3. her

4. his

Question ID : 26433088565

Status : Answered

Chosen Option : 1

**Comprehension:**

In the following passage, some words have been deleted. Read the passage carefully and select the most appropriate option to fill in each blank.

Transformation of a sentence means (1) \_\_\_\_\_ the words or forms of the sentence without changing (2) \_\_\_\_\_ meaning. Such changes can be in the form (3) \_\_\_\_\_ changes from negative sentences into assertive, interrogative or exclamatory sentences and vice versa (4) \_\_\_\_\_ change in narration or change in voice or changes from simple to (5) \_\_\_\_\_ or complex sentences.

**SubQuestion No : 18**

**Q.18 Select the most appropriate option to fill in blank number 3.**

- Ans
- 1. in
  - 2. at
  - 3. on
  - 4. of

Question ID : 26433088566

Status : Answered

Chosen Option : 4

**Comprehension:**

In the following passage, some words have been deleted. Read the passage carefully and select the most appropriate option to fill in each blank.

Transformation of a sentence means (1) \_\_\_\_\_ the words or forms of the sentence without changing (2) \_\_\_\_\_ meaning. Such changes can be in the form (3) \_\_\_\_\_ changes from negative sentences into assertive, interrogative or exclamatory sentences and vice versa (4) \_\_\_\_\_ change in narration or change in voice or changes from simple to (5) \_\_\_\_\_ or complex sentences.

**SubQuestion No : 19**

**Q.19 Select the most appropriate option to fill in blank number 4.**

- Ans
- 1. but
  - 2. or
  - 3. yet
  - 4. so

Question ID : 26433088567

Status : Answered

Chosen Option : 2

**Comprehension:**

In the following passage, some words have been deleted. Read the passage carefully and select the most appropriate option to fill in each blank.

Transformation of a sentence means (1) \_\_\_\_\_ the words or forms of the sentence without changing (2) \_\_\_\_\_ meaning. Such changes can be in the form (3) \_\_\_\_\_ changes from negative sentences into assertive, interrogative or exclamatory sentences and vice versa (4) \_\_\_\_\_ change in narration or change in voice or changes from simple to (5) \_\_\_\_\_ or complex sentences.

SubQuestion No : 20

Q.20 Select the most appropriate option to fill in blank number 5.

- Ans  1. compound  
 2. negative  
 3. positive  
 4. assertive

Question ID : 26433088568  
Status : Answered  
Chosen Option : 2

Section : Part-D-Hindi

Q.1 निम्नलिखित शब्द के सही पर्यायवाची शब्द का चयन विकल्पों में से कीजिए।  
बिजली

- Ans  1. दामिनी  
 2. यामा  
 3. पद्मा  
 4. अर्कजा

Question ID : 26433066940  
Status : Not Answered  
Chosen Option : --

Q.2 'कुछ समय उपरान्त हमारा साहित्य उच्चकोटि का था।'  
उपरोक्त वाक्य के किस भाग में अनुपयुक्त शब्द का प्रयोग किया गया है?

- Ans  1. का था  
 2. हमारा  
 3. कुछ समय उपरान्त  
 4. साहित्य उच्चकोटि

Question ID : 26433062804  
Status : Not Answered  
Chosen Option : --

Q.3 निम्नलिखित में से शुद्ध वाक्य कौन सा है?

- Ans
- 1. राध अच्छ लड़की है।
  - 2. राधा अच्छी लड़का है।
  - 3. राधा अच्छी लड़की है।
  - 4. राधा अच्छा लड़की है।

Question ID : 26433080931  
Status : Not Answered  
Chosen Option : --

Q.4 'दीक्षांत समारोह \_\_\_\_\_।' उपर्युक्त वाक्य में रिक्त स्थान के लिए उपयुक्त विकल्प निम्न में से क्या होगा?

- Ans
- 1. से अभिप्राय विवाह पूर्व किए जाने वाले रीति-रिवाज से है
  - 2. से अभिप्राय उपनयन संस्कार से होता है
  - 3. से अभिप्राय संन्यास लेने के लिए किए जाने वाले रीति-रिवाज से है
  - 4. से अभिप्राय शिक्षा के समापन पर किए जाने वाले संस्कार से है

Question ID : 26433067049  
Status : Not Answered  
Chosen Option : --

Q.5 निम्न वाक्यांश के लिए उपयुक्त एक शब्द का चयन विकल्पों में से कीजिए।  
'जो युद्ध में स्थिर रहता है'

- Ans
- 1. योजक
  - 2. युयुत्सु
  - 3. युद्धस्थ
  - 4. युधिष्ठिर

Question ID : 26433070092  
Status : Not Answered  
Chosen Option : --

Q.6 'आग में \_\_\_\_\_ डालना' उपर्युक्त मुहावरे में रिक्त स्थान की पूर्ति उचित शब्द द्वारा कीजिए।

- Ans
- 1. तेल
  - 2. घी
  - 3. मिर्च
  - 4. नमक

Question ID : 26433069689  
Status : Not Answered  
Chosen Option : --

Q.7 दिए गए विकल्पों में से कौन सा शब्द निम्नलिखित वाक्य में रेखांकित शब्द का पर्यायवाची नहीं है?  
भारतीय जनमानस के बीच माता 'सरस्वती' संगीत कला की जननी के रूप में पूजनीय हैं।

- Ans
- 1. शारदा
  - 2. विमला
  - 3. सहचरी
  - 4. हंस वाहिनी

Question ID : 26433091339  
Status : Not Answered  
Chosen Option : --

Q.8 निम्न वाक्य में रेखांकित शब्द के स्थान पर सर्वोचित विकल्प चुनिए।  
'वह अमीर होने पर भी संतुष्ट नहीं है।'

- Ans
- 1. दुःखी
  - 2. सुखी
  - 3. योगी
  - 4. मर्यादित

Question ID : 26433084962  
Status : Not Answered  
Chosen Option : --

Q.9 निम्नलिखित मुहावरे के लिए उपयुक्त सार्थक शब्द क्या होगा?  
आसमान पर चढ़ना

- Ans
- 1. अभिमान होना
  - 2. डर लगना
  - 3. बहुत नाराज होना
  - 4. उड़ते रहना

Question ID : 26433065769  
Status : Not Answered  
Chosen Option : --

Q.10 निम्नलिखित में से 'माता' का समानार्थी शब्द नहीं है-

- Ans
- 1. वामा
  - 2. अंबा
  - 3. मैया
  - 4. जननी

Question ID : 26433085081  
Status : Not Answered  
Chosen Option : --

Q.11 निम्नलिखित वाक्यांश के लिए एक सार्थक शब्द चुनिए।  
जो अस्त-व्यस्त हो

- Ans  1. विज्ञप्ति  
 2. विपर्यस्त  
 3. विकीर्ण  
 4. विद्युत्प्रभ

Question ID : 26433062739  
Status : Not Answered  
Chosen Option : --

Q.12 निम्नलिखित विकल्पों में से किस एक वाक्य में सर्वनाम के प्रयोग सम्बन्धी अशुद्धि है?

- Ans  1. माता जी ! मुझे आपकी बहुत याद आती है।  
 2. मैंने अपना काम कर लिया।  
 3. पुनीत ने महेश से कहा, तुम घर चलो मैं दो घंटे बाद आऊँगा।  
 4. उसके हाथ में जो कलम है, यह मेरी है।

Question ID : 26433062975  
Status : Not Answered  
Chosen Option : --

Q.13 'महात्मा गांधी की साधना \_\_\_\_\_ थी।'  
उपरोक्त वाक्य में 'अलौकिक' शब्द के एकार्थी शब्द से वाक्य पूर्ण कीजिए।

- Ans  1. असाधारण  
 2. अनुस्यूत  
 3. अकथनीय  
 4. असहनीय

Question ID : 26433079241  
Status : Not Answered  
Chosen Option : --

Q.14 'कैंसर रोग बड़ा \_\_\_\_\_ है।' इस वाक्य में रिक्त स्थान की पूर्ति शुद्ध शब्द द्वारा कीजिए।

- Ans  1. दूसाध्य  
 2. दुरसाध्य  
 3. दुःसाध्य  
 4. दुसाध्य

Question ID : 26433080906  
Status : Not Answered  
Chosen Option : --



Q.15 'अनु बहुत सुंदर लड़की है।'  
उपरोक्त वाक्य में रेखांकित शब्द क्या है?

- Ans
- 1. विशेषण
  - 2. क्रियाविशेषण
  - 3. विशेष्य
  - 4. प्रविशेषण

Question ID : 26433063053  
Status : Not Answered  
Chosen Option : --

**Comprehension:**

निम्नलिखित गद्यांश में कुछ शब्दों को हटा दिया गया है। दिए गए विकल्पों की सहायता से रिक्त स्थानों की पूर्ति कीजिए। प्रत्येक संख्या के लिए सबसे उपयुक्त विकल्प का चयन कीजिए।  
विद्या अभ्यास से 1. \_\_\_\_\_ होती है। जन्म से ही कोई व्यक्ति किसी काम में 2. \_\_\_\_\_ नहीं होता। अभ्यास के द्वारा जड़ बुद्धि वाले व्यक्ति सुजान अर्थात् 3. \_\_\_\_\_ बन जाते हैं। जो पहले से सुजान होते हैं, अभ्यास उन्हें और अधिक 4. \_\_\_\_\_ बना देता है, जिससे वे कार्य में पारंगत हो जाते हैं। अभ्यास को 5. \_\_\_\_\_ की सीमा में नहीं बाँधा जा सकता है।

**SubQuestion No : 16**

Q.16 रिक्त स्थान 1 की पूर्ति के लिए सबसे उपयुक्त विकल्प का चयन कीजिए।

- Ans
- 1. दूर
  - 2. समझ
  - 3. प्राप्त
  - 4. सफल

Question ID : 264330111071  
Status : Not Answered  
Chosen Option : --

**Comprehension:**

निम्नलिखित गद्यांश में कुछ शब्दों को हटा दिया गया है। दिए गए विकल्पों की सहायता से रिक्त स्थानों की पूर्ति कीजिए। प्रत्येक संख्या के लिए सबसे उपयुक्त विकल्प का चयन कीजिए।  
विद्या अभ्यास से 1. \_\_\_\_\_ होती है। जन्म से ही कोई व्यक्ति किसी काम में 2. \_\_\_\_\_ नहीं होता। अभ्यास के द्वारा जड़ बुद्धि वाले व्यक्ति सुजान अर्थात् 3. \_\_\_\_\_ बन जाते हैं। जो पहले से सुजान होते हैं, अभ्यास उन्हें और अधिक 4. \_\_\_\_\_ बना देता है, जिससे वे कार्य में पारंगत हो जाते हैं। अभ्यास को 5. \_\_\_\_\_ की सीमा में नहीं बाँधा जा सकता है।

**SubQuestion No : 17**

Q.17 रिक्त स्थान 2 की पूर्ति के लिए सबसे उपयुक्त विकल्प का चयन कीजिए।

- Ans
- 1. पारंगत
  - 2. हार
  - 3. धैर्य
  - 4. उत्पन्न

Question ID : 264330111072  
Status : Not Answered  
Chosen Option : --

**Comprehension:**

निम्नलिखित गद्यांश में कुछ शब्दों को हटा दिया गया है। दिए गए विकल्पों की सहायता से रिक्त स्थानों की पूर्ति कीजिए। प्रत्येक संख्या के लिए सबसे उपयुक्त विकल्प का चयन कीजिए।  
विद्या अभ्यास से 1. \_\_\_\_\_ होती है। जन्म से ही कोई व्यक्ति किसी काम में 2. \_\_\_\_\_ नहीं होता। अभ्यास के द्वारा जड़ बुद्धि वाले व्यक्ति सुजान अर्थात् 3. \_\_\_\_\_ बन जाते हैं। जो पहले से सुजान होते हैं, अभ्यास उन्हें और अधिक 4. \_\_\_\_\_ बना देता है, जिससे वे कार्य में पारंगत हो जाते हैं। अभ्यास को 5. \_\_\_\_\_ की सीमा में नहीं बाँधा जा सकता है।

**SubQuestion No : 18**

Q.18 रिक्त स्थान 3 की पूर्ति के लिए सबसे उपयुक्त विकल्प का चयन कीजिए।

- Ans
- 1. अभ्यास
  - 2. कमज़ोर
  - 3. बुद्धिमान
  - 4. बुद्धि

Question ID : 264330111073

Status : Not Answered

Chosen Option : --

**Comprehension:**

निम्नलिखित गद्यांश में कुछ शब्दों को हटा दिया गया है। दिए गए विकल्पों की सहायता से रिक्त स्थानों की पूर्ति कीजिए। प्रत्येक संख्या के लिए सबसे उपयुक्त विकल्प का चयन कीजिए।  
विद्या अभ्यास से 1. \_\_\_\_\_ होती है। जन्म से ही कोई व्यक्ति किसी काम में 2. \_\_\_\_\_ नहीं होता। अभ्यास के द्वारा जड़ बुद्धि वाले व्यक्ति सुजान अर्थात् 3. \_\_\_\_\_ बन जाते हैं। जो पहले से सुजान होते हैं, अभ्यास उन्हें और अधिक 4. \_\_\_\_\_ बना देता है, जिससे वे कार्य में पारंगत हो जाते हैं। अभ्यास को 5. \_\_\_\_\_ की सीमा में नहीं बाँधा जा सकता है।

**SubQuestion No : 19**

Q.19 रिक्त स्थान 4 की पूर्ति के लिए सबसे उपयुक्त विकल्प का चयन कीजिए।

- Ans
- 1. अकुशल
  - 2. मजबूत
  - 3. कुशल
  - 4. सफलता

Question ID : 264330111074

Status : Not Answered

Chosen Option : --

**Comprehension:**

निम्नलिखित गद्यांश में कुछ शब्दों को हटा दिया गया है। दिए गए विकल्पों की सहायता से रिक्त स्थानों की पूर्ति कीजिए। प्रत्येक संख्या के लिए सबसे उपयुक्त विकल्प का चयन कीजिए।  
विद्या अभ्यास से 1. \_\_\_\_\_ होती है। जन्म से ही कोई व्यक्ति किसी काम में 2. \_\_\_\_\_ नहीं होता। अभ्यास के द्वारा जड़ बुद्धि वाले व्यक्ति सुजान अर्थात् 3. \_\_\_\_\_ बन जाते हैं। जो पहले से सुजान होते हैं, अभ्यास उन्हें और अधिक 4. \_\_\_\_\_ बना देता है, जिससे वे कार्य में पारंगत हो जाते हैं। अभ्यास को 5. \_\_\_\_\_ की सीमा में नहीं बाँधा जा सकता है।

**SubQuestion No : 20**

**Q.20** रिक्त स्थान 5 की पूर्ति के लिए सबसे उपयुक्त विकल्प का चयन कीजिए।

- Ans**  1. मज़बूती  
 2. समय  
 3. मात्रा  
 4. शिक्षा

Question ID : 264330111075

Status : Not Answered

Chosen Option : --

Our Best Seller Book for SSC Banking and other govt. exams



**"BLACKBOOK OF ENGLISH VOCABULARY"**  
(English/Hindi Medium)

Topper's choice For SSC, Railways, Defence and other competitive exams.

# BLACKBOOK of ENGLISH VOCABULARY

March 2023 Edition

- One Word Substitutions
- Idioms / Phrases
- Synonyms + Antonyms + Spellings
- The Hindu Vocabulary
- Homonyms + Phrasal Verbs
- Special Word-Lists
- Root Words
- 100+ Practice Sets



Must Check  
3D Hologram

**15000** words (English /Hindi)

NIKHIL GUPTA

(Coming soon, in a week)

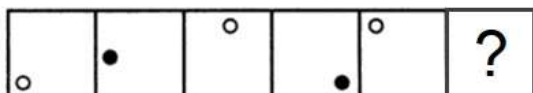
Download from [www.MsEducationTv.com](http://www.MsEducationTv.com)

## Constable GD in CAPFs SSF Rifleman GD in Assam Rifles and Sepoy in NCB Examination 2022

Roll Number	@Qmaths Telegram Channel
Candidate Name	@Qmaths Telegram Channel
Venue Name	ION Digital Zone iDZ Siliguri
Exam Date	01/02/2023
Exam Time	2:30 PM - 3:30 PM
Subject	Constable GD Examination 2022


### Section : Part-A-General Intelligence and Reasoning

**Q.1** Select the figure from among the given options that can replace the question mark (?) in the following series.

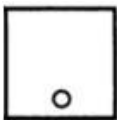


Ans

1.



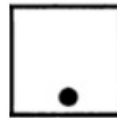
2.



3.



4.



Question ID : 26433080503  
Status : Answered  
Chosen Option : 4

**Q.2** Which option represents the correct order of the given words as they would appear in the English dictionary?

- 1 riddle
- 2 river
- 3 rightful
- 4 ring
- 5 risk

Ans  1. 1,3,4,5,2

2. 1,2,3,4,5

3. 1,3,2,4,5

4. 1,2,4,5,3

Question ID : 26433069325  
Status : Answered  
Chosen Option : 1

**Q.3** In a certain code language, 'EXAM' is written as '625214' and 'TEST' is written as '2162021'. How will 'ASSESSMENT' be written in that language?

- Ans**
- 1. 22020620201465121
  - 2. 22020620201461512
  - 3. 22020602201461521
  - 4. 22020620201461521

Question ID : 26433087254  
Status : Answered  
Chosen Option : 4

**Q.4** Six family members Viraaj, Deepu, Noor, Prince, Suman and Taran are sitting around a circular table facing the centre. Viraaj is sitting to the immediate right of Noor. Prince is an immediate neighbour of both Viraaj and Deepu. Suman is sitting third to the right of Viraaj. Noor is sitting second to the left of Prince. Who is the immediate neighbour of Deepu and Viraaj?

- Ans**
- 1. Suman
  - 2. Prince
  - 3. Taran
  - 4. Noor

Question ID : 26433068866  
Status : Answered  
Chosen Option : 2

**Q.5** In a certain code language, FATHER is written as 'IFWMHW', and SISTER is written as 'VNVYHW'. How will 'UNCLE' be written in the same code language?

- Ans**
- 1. XSHQI
  - 2. XTGRH
  - 3. XSFQH
  - 4. XSGQH

Question ID : 26433067989  
Status : Answered  
Chosen Option : 4

**Q.6** Six students are sitting around a circular table facing the centre. Brianna is sitting second to the right of Mark. Felix is sitting second to the left of Mark. Ann is the immediate neighbour of Brianna and Felix. James is sitting third to the left of Brianna. Afreen is sitting second to the right of James. Who is sitting between Afreen and Ann?

- Ans**
- 1. Mark
  - 2. James
  - 3. Brianna
  - 4. Felix

Question ID : 26433081782  
Status : Answered  
Chosen Option : 3

Q.7 Which two numbers(not digits) should be interchanged in the following equation to make it correct?

$$56 \div 16 \times 8 + 45 \times 13 = 697$$

- Ans
- 1. 8 and 13
  - 2. 16 and 8
  - 3. 16 and 45
  - 4. 8 and 45

Question ID : 26433090136  
Status : Answered  
Chosen Option : 2

Q.8 Select the option figure in which the given figure is embedded as its part (rotation is not allowed).



Ans

- 1.
- 2.
- 3.
- 4.

Question ID : 26433069535  
Status : Answered  
Chosen Option : 2

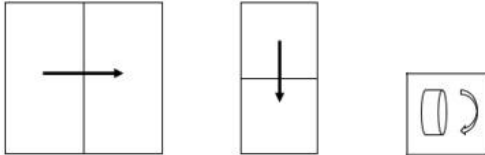
**Q.9** Which two signs should be interchanged to make the below equation mathematically correct?

$$24 - 36 \times 5 + 108 \div 18 = 18$$

- Ans**
- 1.  $\div$  and  $-$
  - 2.  $-$  and  $+$
  - 3.  $+$  and  $\times$
  - 4.  $+$  and  $\div$

Question ID : 264330117523  
 Status : Answered  
 Chosen Option : 3

**Q.10** A paper is folded and cut as shown below. How will it appear when unfolded?



**Ans**

- 1.
- 2.
- 3.
- 4.

Question ID : 26433089787  
 Status : Answered  
 Chosen Option : 4



**Q.11** Which of the following numbers will replace the question mark and complete the given number series?  
125, 88, 63, 46, ?

- Ans
- 1. 35
  - 2. 33
  - 3. 38
  - 4. 37

Question ID : 26433069595  
Status : Not Answered  
Chosen Option : --

**Q.12** Select the letter-cluster from among the given options that can replace the question mark (?) in the following series.  
GSLC, AMOF, UGRI, ? , IUXO

- Ans
- 1. OULC
  - 2. DPGE
  - 3. DSTN
  - 4. OAUL

Question ID : 26433074751  
Status : Answered  
Chosen Option : 4

**Q.13** Which of the following terms will replace the question mark (?) in the given series?  
?, LSEO, NRDN, PQCM, RPBL

- Ans
- 1. PFJO
  - 2. FPJI
  - 3. TFPJ
  - 4. JTFP

Question ID : 26433068983  
Status : Answered  
Chosen Option : 4

**Q.14** Select the correct mirror image of the given figure when the mirror is placed at MN as shown below.

6 Z k B M V d  
M ————— N

- Ans
- 1. e Z K B W Λ q
  - 2. e ζ K B W Λ q
  - 3. q V M B K ζ e
  - 4. e ζ K B W Λ q

Question ID : 26433080798  
Status : Answered  
Chosen Option : 4

Q.15 In a certain code language,  
'A + B' means 'A is the sister of B',  
'A - B' means 'A is the father of B' and  
'A x B' means 'A is the brother of B'.  
How is R related to S if  $Q + R - P \times N - S$ ?

- Ans
- 1. Father
  - 2. Father's father
  - 3. Father's brother
  - 4. Brother

Question ID : 26433070370  
Status : Answered  
Chosen Option : 2

Q.16 In this question, three statements are given, followed by two conclusions numbered I and II. Assuming the statements to be true, even if they seem to be at variance with commonly known facts, decide which of the conclusions logically follows/follow from the statements.

Statements:

All mobiles are computers.  
Some computers are furniture.  
Some furniture are tables.

Conclusions:

I. Some tables are computers.  
II. Some mobiles are furniture.

- Ans
- 1. Both conclusions I and II follow.
  - 2. Only conclusion I follows.
  - 3. Neither conclusion I nor II follows.
  - 4. Only conclusion II follows.

Question ID : 26433070387  
Status : Answered  
Chosen Option : 4

Q.17 Select the option that is related to the fifth letter-cluster in the same way as the second letter-cluster is related to the first letter-cluster and the fourth letter-cluster is related to the third letter-cluster.

TIDE: RRAU :: REST : PVPF :: GAME : ?

- Ans
- 1. EZJU
  - 2. HBNF
  - 3. ICOG
  - 4. TZNN

Question ID : 26433057485  
Status : Answered  
Chosen Option : 1

Q.18 Select the option that is related to the third word in the same way as the second word is related to the first word.

(The words must be considered as meaningful English words and must not be related to each other based on the number of letters/number of consonants/vowels in the word)

Education : Teacher :: Treatment : ?

- Ans
- 1. Hospital
  - 2. Labour
  - 3. Medicine
  - 4. Doctor

Question ID : 26433079472  
Status : Answered  
Chosen Option : 4

Q.19 Which of the following numbers will replace the question mark (?) in the given series?  
5, 31, 161, 811, ?

- Ans
- 1. 4500
  - 2. 4825
  - 3. 4444
  - 4. 4061

Question ID : 26433082010  
Status : Not Answered  
Chosen Option : --

Q.20 Select the set in which the numbers are related in the same way as are the numbers of the following set.

(NOTE : Operations should be performed on the whole numbers, without breaking down the numbers into its constituent digits. E.g. 13 – Operations on 13 such as adding /subtracting/multiplying etc. to 13 can be performed. Breaking down 13 into 1 and 3 and then performing mathematical operations on 1 and 3 is NOT allowed)

(25, 280, 45)  
(18, 192, 30)

- Ans
- 1. (12, 156, 24)
  - 2. (14, 192, 24)
  - 3. (12, 148, 25)
  - 4. (13, 168, 54)

Question ID : 26433076481  
Status : Not Answered  
Chosen Option : --

Section : Part-B-General Knowledge and General awareness

Q.1 "to defend the country and render national service when called upon to do so" is stated under\_\_\_\_\_.

- Ans
- 1. Preamble of the Constitution
  - 2. Directive Principles
  - 3. Fundamental Duties
  - 4. Fundamental Rights

Question ID : 264330115628  
Status : Not Answered  
Chosen Option : --

Q.2 On the banks of which river was the war between Harshavardhana and Pulakeshin II fought?

- Ans
- 1. Narmada
  - 2. Krishna
  - 3. Godavari
  - 4. Ganga

Question ID : 26433089128  
Status : Not Answered  
Chosen Option : --

**Q.3** In shot put, the shot which is a metal ball weighs how many kg for men and women?

- Ans**
- 1. Men-7.5 kg Women-4.5kg
  - 2. Men-7.3 kg Women-4.5kg
  - 3. Men-7kg Women-4kg
  - 4. Men-7.26 kg Women-4kg

Question ID : 264330115942  
Status : Not Answered  
Chosen Option : --

**Q.4** How many pathways are constructed as independently organized conducting tubes in plants?

- Ans**
- 1. two
  - 2. four
  - 3. five
  - 4. one

Question ID : 264330115204  
Status : Not Answered  
Chosen Option : --

**Q.5** The tenure of the UPSC members is .

- Ans**
- 1. 6 years or age of 65 whichever is earlier
  - 2. 6 years or age of 62 years
  - 3. 5 years or age of 65 years
  - 4. 4 years or age of 62 years

Question ID : 26433089963  
Status : Not Answered  
Chosen Option : --

**Q.6** The ultimate goal of Mission Indradhanush is to ensure full immunization with all available vaccines for children up to \_\_\_\_\_ years of age.

- Ans**
- 1. three
  - 2. two
  - 3. eight
  - 4. five

Question ID : 264330116167  
Status : Not Answered  
Chosen Option : --

**Q.7** What was the term of 10th Five Year Plan?

- Ans**
- 1. 2002-2007
  - 2. 2007-2012
  - 3. 2005-2010
  - 4. 2004-2009

Question ID : 264330116120  
Status : Answered  
Chosen Option : 1

**Q.8 Who among the following inaugurated 2-day PM Kisan Samman Sammelan of India in October 2022?**

- Ans**
- 1. Nirmala Sitharaman
  - 2. Amit Shah
  - 3. Narendra Modi
  - 4. Rajnath Singh

Question ID : 264330114956  
Status : Not Answered  
Chosen Option : --

**Q.9 In India, in relation to Census, what is the full form of NPR?**

- Ans**
- 1. National People Register
  - 2. National Population Record
  - 3. National Population Register
  - 4. National People Record

Question ID : 264330116030  
Status : Not Answered  
Chosen Option : --

**Q.10 Which sector runs nearly 60 percent of dispensaries in India?**

- Ans**
- 1. Cooperative sector
  - 2. Private Sector
  - 3. Joint Sector
  - 4. Public Sector

Question ID : 264330115557  
Status : Not Answered  
Chosen Option : --

**Q.11 Saga Dawa is primarily celebrated by which of the following communities of India in Sikkim?**

- Ans**
- 1. Sikhs
  - 2. Hindus
  - 3. Buddhists
  - 4. Jains

Question ID : 264330105968  
Status : Answered  
Chosen Option : 3

**Q.12 Microfinance is a \_\_\_\_\_ service.**

- Ans**
- 1. financial
  - 2. production
  - 3. software production
  - 4. waste management

Question ID : 264330115310  
Status : Not Answered  
Chosen Option : --

Q.13 Bihu is the popular dance form of which of the following states?

- Ans  1. Tamil Nadu  
 2. Telangana  
 3. Kerala  
 4. Assam

Question ID : 26433071420  
Status : Answered  
Chosen Option : 4

Q.14 The Hindustan Socialist Republican Association (HSRA) was founded at \_\_\_\_\_ in Delhi.

- Ans  1. Ferozeshah Kotla  
 2. Mughal Garden  
 3. Red Fort  
 4. Safdarjung Tomb

Question ID : 26433089888  
Status : Not Answered  
Chosen Option : --

Q.15 Who is the new Managing Director of the National Bank for Financing Infrastructure and Development (NaBFID) effective August 8, 2022?

- Ans  1. Sumita Dawra  
 2. Rajkiran Rai  
 3. Arun Kumar Singh  
 4. Pankaj Jain

Question ID : 264330115013  
Status : Not Answered  
Chosen Option : --

Q.16 In India, the Green Revolution increased the production of which of the following?

- Ans  1. Eggs  
 2. Wheat  
 3. Cotton  
 4. Coal

Question ID : 264330115418  
Status : Answered  
Chosen Option : 2

Q.17 Which among the following elements behaves like alkali metals as well as halogens in its properties?

- Ans  1. Neon  
 2. Helium  
 3. Hydrogen  
 4. Lithium

Question ID : 264330115175  
Status : Not Answered  
Chosen Option : --

Q.18 In which year the Asian Games were held for the second time in India?

- Ans
- 1. 1941
  - 2. 2015
  - 3. 1982
  - 4. 1978

Question ID : 264330116249  
Status : Not Answered  
Chosen Option : --

Q.19 What is used to measure the magnitude of an earthquake?

- Ans
- 1. Anemometer
  - 2. Pressure sensors
  - 3. Gravimeter
  - 4. Richter Scale

Question ID : 264330115993  
Status : Answered  
Chosen Option : 4

Q.20 Who won the Sangeet Natak Akademi Award in Manipuri in 2018?

- Ans
- 1. Radha Sridhar
  - 2. Pasumurthy Ramalinga Sastry
  - 3. Madambi Subramanian Namboodiri
  - 4. Akham Lakshmi Devi

Question ID : 264330115821  
Status : Not Answered  
Chosen Option : --

Section : Part-C-Elementary Mathematics

Q.1 The ratio of two numbers is 4 : 5 and their HCF is 6. Their LCM is:

- Ans
- 1. 120
  - 2. 88
  - 3. 168
  - 4. 72

Question ID : 26433091517  
Status : Answered  
Chosen Option : 1

Q.2 A toy is bought for Rs.950 and sold at Rs.1140. Find the gain percentage.

- Ans
- 1. 16%
  - 2. 21%
  - 3. 20%
  - 4. 19%

Question ID : 26433075144  
Status : Answered  
Chosen Option : 3

Q.3 ₹x were borrowed at the compound interest rate of 5% per annum, 3 years back, where interest were compounding annually. If the present value of the money borrowed is ₹ 18,522, what is the value of x?

- Ans
- 1. ₹16,000
  - 2. ₹15,500
  - 3. ₹15,000
  - 4. ₹16,500

Question ID : 26433075562  
Status : Not Answered  
Chosen Option : --

Q.4 The total surface area of a hemisphere of diameter 14 cm is (Use  $\pi = \frac{22}{7}$ ):

- Ans
- 1.  $308 \text{ cm}^2$
  - 2.  $462 \text{ cm}^2$
  - 3.  $1232 \text{ cm}^2$
  - 4.  $2156 \text{ cm}^2$

Question ID : 26433075747  
Status : Answered  
Chosen Option : 2

Q.5 Reeta can do a piece of work in 14 days and Geeta can do the same work in 21 days. How many days Reeta and Geeta take together to complete the same work?

- Ans
- 1. 8.4
  - 2. 6.4
  - 3. 8.8
  - 4. 6.8

Question ID : 26433075700  
Status : Answered  
Chosen Option : 1

Q.6 Find the greatest number which on dividing 1780 and 2452 leaves the remainder 4 in each case.

- Ans
- 1. 48
  - 2. 52
  - 3. 16
  - 4. 24

Question ID : 26433081468  
Status : Answered  
Chosen Option : 4



Q.7 The mean proportional between  $4 + 2\sqrt{3}$  and  $6 - 3\sqrt{3}$  is:

- Ans
- 1.  $\sqrt{6}$
  - 2.  $\sqrt{18}$
  - 3.  $\sqrt{12}$
  - 4.  $\sqrt{8}$

Question ID : 26433081026  
Status : Answered  
Chosen Option : 1

Q.8 If the price of petrol is increased by 40%, by what percentage (rounded off to 1 decimal place) should its consumption be decreased so that the expenditure on petrol remains the same?

- Ans
- 1. 25.7%
  - 2. 28.6%
  - 3. 40.5%
  - 4. 35.5%

Question ID : 26433082780  
Status : Not Answered  
Chosen Option : --

Q.9 The total surface area of a cuboid is  $4200 \text{ cm}^2$ . If the length and breadth of the cuboid are 15 cm and 16 cm, then find the height of the cuboid.

- Ans
- 1. 3720 cm
  - 2. 62 cm
  - 3. 60 cm
  - 4. 70 cm

Question ID : 26433085494  
Status : Answered  
Chosen Option : 3

Q.10 Sumati travelled from point A to point B at 475 m/min. The moment that Sumati reached point B, Rachna set off from point B, at a speed 1.6 times the speed at which Sumati travelled and reached point C. If the total distance covered from A to C through B was 45.6 km and the time taken from when Sumati started from point A to when Rachna reached point C was 75 minutes, what is the distance between A and B?

- Ans
- 1. 19 km
  - 2. 20 km
  - 3. 18 km
  - 4. 17 km

Question ID : 26433075295  
Status : Not Answered  
Chosen Option : --

Q.11 Two numbers P and Q are such that the sum of 8% of P and 4% of Q is two-third of the sum of 5% of P and 7% of Q. Find the ratio P : Q.

- Ans
- 1. 7 : 1
  - 2. 2 : 5
  - 3. 1 : 7
  - 4. 4 : 9

Question ID : 26433081573  
Status : Not Answered  
Chosen Option : --

Q.12 In a golf club, 90% of members are men and the remaining are women. The average height of men is 170 cm and the average height of women is 165 cm. Find the average height of the club members.

- Ans
- 1. 168.5
  - 2. 167.5
  - 3. 170.5
  - 4. 169.5

Question ID : 26433075905  
Status : Answered  
Chosen Option : 4

Q.13 A can do a piece of work in 18 days. B can do this work in 24 days. A started the work alone. After how many days should B join him, so that the work is finished in 15 days?

- Ans
- 1. 11 days
  - 2. 19 days
  - 3. 13 days
  - 4. 14 days

Question ID : 264330116851  
Status : Not Answered  
Chosen Option : --

Q.14 Find the distance covered by a car moving at a speed of 48 km/h for 3 hours 15 minutes.

- Ans
- 1. 156 km
  - 2. 165 km
  - 3. 145 km
  - 4. 154 km

Question ID : 26433076199  
Status : Not Answered  
Chosen Option : --

Q.15 Successive discounts of 10%, 15% and 4% on ₹12,500 are equal to:

- Ans
- 1. ₹3,320
  - 2. ₹4,150
  - 3. ₹5,240
  - 4. ₹4,520

Question ID : 26433080221  
Status : Not Answered  
Chosen Option : --

Q.16 After giving a discount of 25 percent, selling price of an article becomes Rs. 9510. What is the marked price of the article?

- Ans
- 1. Rs. 11640
  - 2. Rs. 10200
  - 3. Rs. 12680
  - 4. Rs. 10850

Question ID : 264330116736  
Status : Answered  
Chosen Option : 3

Q.17 By selling a commodity for Rs.15,000, Subir loses Rs.2,000. What is his percentage loss?

- Ans
- 1.  $11\frac{13}{17}\%$
  - 2. 11%
  - 3. 10%
  - 4.  $10\frac{13}{17}\%$

Question ID : 26433080305  
Status : Answered  
Chosen Option : 1

Q.18 The average marks in geography exam of a class of 25 students are 64. If the marks of three students were misread as 44, 46 and 61 in lieu of the actual marks 54, 64 and 67 respectively, then find the correct average.

- Ans
- 1. 65.45
  - 2. 65.36
  - 3. 64.55
  - 4. 64.54

Question ID : 26433076220  
Status : Answered  
Chosen Option : 2

**Q.19** What will be the difference in the compound interest if a sum of Rs.12,000 is compounded annually and half-yearly at an annual rate of 10% for a period of 2 years?  
Note :Round off the decimal to the nearest number.

- Ans**  1. Rs.66  
 2. Rs.196  
 3. Rs.166  
 4. Rs.46

Question ID : 26433075075  
Status : Not Answered  
Chosen Option : --

**Q.20** Teena spends 30% of her salary on food, 30% of the rest on fuel and saves the remaining Rs.4,900. What is Teena's salary?

- Ans**  1. Rs.6,000  
 2. Rs.12,000  
 3. Rs.8,000  
 4. Rs.10,000

Question ID : 26433076033  
Status : Answered  
Chosen Option : 4

Section : Part-D-English

**Q.1** Select the most appropriate ANTONYM of the word given in brackets to fill in the blank.

The company of friends made her feel \_\_\_\_\_ (cranky), as she was all alone in her apartment.

- Ans**  1. awful  
 2. wishful  
 3. cheerful  
 4. fearful

Question ID : 26433089747  
Status : Not Answered  
Chosen Option : --

**Q.2** Select the most appropriate synonym of the given word.

**Fascinating**

- Ans**  1. Interesting  
 2. Dominating  
 3. Revolting  
 4. Intimidating

Question ID : 26433073982  
Status : Not Answered  
Chosen Option : --

**Q.3 Select the most appropriate ANTONYM of the given word.**  
Symbolise

- Ans  1. Hide  
 2. Link  
 3. Slide  
 4. Align

Question ID : 26433066088  
Status : **Answered**  
Chosen Option : 1

**Q.4 Select the INCORRECTLY spelt word.**

- Ans  1. Coherent  
 2. Frekquent  
 3. Collide  
 4. Ferocious

Question ID : 26433073731  
Status : **Not Answered**  
Chosen Option : --

**Q.5 Select the most appropriate meaning of the given idiom.**

Silver tongue

- Ans  1. Speaking to annoy people  
 2. Speaking to bore people  
 3. Speaking with an eloquent expression to convince people  
 4. Speaking to discourage people

Question ID : 26433074442  
Status : **Answered**  
Chosen Option : 3

**Q.6 The given sentence is divided into three segments. Select the option that has the segment with a grammatical error. If there is no error, select 'no error' as your answer.**

She have / left by the time / I reach home.

- Ans  1. I reach home  
 2. left by the time  
 3. She have  
 4. No error

Question ID : 26433071860  
Status : **Answered**  
Chosen Option : 3

**Q.7 Select the most appropriate synonym of the given word.**

Splendid

- Ans  1. Stationary  
 2. Authentic  
 3. Spectacular  
 4. Enticing

Question ID : 26433087913  
Status : **Not Answered**  
Chosen Option : --

Q.8 Select the INCORRECTLY spelt word.

- Ans  1. Enterprising  
 2. Maticulous  
 3. Erroneous  
 4. Potable

Question ID : 26433073507  
Status : Not Answered  
Chosen Option : --

Q.9 Select the most appropriate meaning of the given idiom.

Public enemy number one

- Ans  1. A person who always smiles  
 2. Someone who is the greatest threat to a group or community  
 3. The opposition party leader  
 4. One who helps the poor

Question ID : 26433072573  
Status : Answered  
Chosen Option : 2

Q.10 Select the word segment that substitutes (replaces) the bracketed word segment correctly and completes the sentence meaningfully:  
Shakespeare was both a dramatist (better than) a poet.

- Ans  1. when not  
 2. as well as  
 3. or  
 4. and

Question ID : 26433088798  
Status : Answered  
Chosen Option : 4

Q.11 Select the most appropriate option that can substitute the underlined segment in the given sentence.

I am been working here for the past ten years.

- Ans  1. have been working here  
 2. is been working here  
 3. was been working here  
 4. having been working here

Question ID : 26433091372  
Status : Answered  
Chosen Option : 1

Q.12 Select the most appropriate ANTONYM of the given word.

Dignify

- Ans  1. Condemn  
 2. Adorn  
 3. Oblige  
 4. Cure

Question ID : 26433090781  
Status : Not Answered  
Chosen Option : --

**Q.13** Select the most appropriate homophone to substitute the underlined word in the given sentence.

These ornaments are coated with gold.

- Ans
- 1. gilled
  - 2. gel
  - 3. gild
  - 4. guild

Question ID : 26433074013  
Status : Not Answered  
Chosen Option : --

**Q.14** Select the most appropriate option to substitute the underlined segment in the given sentence to make it a meaningful sentence. If no substitution is required, select 'No substitution'.

One must not only have the ability to read voraciously but have the necessary training in comprehending and remembering all the relevant details.

- Ans
- 1. not only have the ability for read voraciously but also have
  - 2. not only have the ability to read voraciously but also had
  - 3. No substitution
  - 4. not only have the ability to read voraciously but also have

Question ID : 26433092045  
Status : Answered  
Chosen Option : 4

**Q.15** Select the most appropriate option to fill in the blank.

Scientists are able to quickly \_\_\_\_\_ the outbreak through a new immunisation.

- Ans
- 1. quench
  - 2. scatter
  - 3. quest
  - 4. quash

Question ID : 26433060336  
Status : Not Answered  
Chosen Option : --

**Comprehension:**

In the following passage, some words have been deleted. Read the passage carefully and select the most appropriate option to fill in each blank.

The ability to think clearly and calmly while addressing an 1. \_\_\_\_\_ is neither inborn nor difficult to develop. The presence of an audience should act as a stimulus and not as a 2. \_\_\_\_\_ to thought. Audience fright can be overcome through training and practice. Even great speakers 3. \_\_\_\_\_ stage fright and self-consciousness. Every speaker gets worked up and experiences strain, shock, and excitement before he or she begins to talk. But every speaker who is struggling to gain 4. \_\_\_\_\_ should remember that all meritorious public speaking is accompanied by a little 5. \_\_\_\_\_.

**SubQuestion No : 16**

**Q.16** Select the most appropriate option to fill in blank no. 1.

- Ans
- 1. audience
  - 2. adult
  - 3. accomplice
  - 4. association

Question ID : 26433091359  
Status : Answered  
Chosen Option : 1

**Comprehension:**

In the following passage, some words have been deleted. Read the passage carefully and select the most appropriate option to fill in each blank.

The ability to think clearly and calmly while addressing an 1. \_\_\_\_\_ is neither inborn nor difficult to develop. The presence of an audience should act as a stimulus and not as a 2. \_\_\_\_\_ to thought. Audience fright can be overcome through training and practice. Even great speakers 3. \_\_\_\_\_ stage fright and self-consciousness. Every speaker gets worked up and experiences strain, shock, and excitement before he or she begins to talk. But every speaker who is struggling to gain 4. \_\_\_\_\_ should remember that all meritorious public speaking is accompanied by a little 5. \_\_\_\_\_.

**SubQuestion No : 17**

**Q.17 Select the most appropriate option to fill in blank no. 2.**

**Ans** ✓ 1. hindrance

✗ 2. briefing

✗ 3. catch

✗ 4. choice

Question ID : 26433091360

Status : Answered

Chosen Option : 1

**Comprehension:**

In the following passage, some words have been deleted. Read the passage carefully and select the most appropriate option to fill in each blank.

The ability to think clearly and calmly while addressing an 1. \_\_\_\_\_ is neither inborn nor difficult to develop. The presence of an audience should act as a stimulus and not as a 2. \_\_\_\_\_ to thought. Audience fright can be overcome through training and practice. Even great speakers 3. \_\_\_\_\_ stage fright and self-consciousness. Every speaker gets worked up and experiences strain, shock, and excitement before he or she begins to talk. But every speaker who is struggling to gain 4. \_\_\_\_\_ should remember that all meritorious public speaking is accompanied by a little 5. \_\_\_\_\_.

**SubQuestion No : 18**

**Q.18 Select the most appropriate option to fill in blank no. 3.**

**Ans** ✓ 1. experience

✗ 2. accorded

✗ 3. keened

✗ 4. saved

Question ID : 26433091361

Status : Answered

Chosen Option : 1



**Comprehension:**

In the following passage, some words have been deleted. Read the passage carefully and select the most appropriate option to fill in each blank.

The ability to think clearly and calmly while addressing an 1. \_\_\_\_\_ is neither inborn nor difficult to develop. The presence of an audience should act as a stimulus and not as a 2. \_\_\_\_\_ to thought. Audience fright can be overcome through training and practice. Even great speakers 3. \_\_\_\_\_ stage fright and self-consciousness. Every speaker gets worked up and experiences strain, shock, and excitement before he or she begins to talk. But every speaker who is struggling to gain 4. \_\_\_\_\_ should remember that all meritorious public speaking is accompanied by a little 5. \_\_\_\_\_.

**SubQuestion No : 19**

**Q.19** Select the most appropriate option to fill in blank no. 4.

- Ans**
- 1. merit
  - 2. profit
  - 3. money
  - 4. confidence

Question ID : 26433091362

Status : **Answered**

Chosen Option : 4

**Comprehension:**

In the following passage, some words have been deleted. Read the passage carefully and select the most appropriate option to fill in each blank.

The ability to think clearly and calmly while addressing an 1. \_\_\_\_\_ is neither inborn nor difficult to develop. The presence of an audience should act as a stimulus and not as a 2. \_\_\_\_\_ to thought. Audience fright can be overcome through training and practice. Even great speakers 3. \_\_\_\_\_ stage fright and self-consciousness. Every speaker gets worked up and experiences strain, shock, and excitement before he or she begins to talk. But every speaker who is struggling to gain 4. \_\_\_\_\_ should remember that all meritorious public speaking is accompanied by a little 5. \_\_\_\_\_.

**SubQuestion No : 20**

**Q.20** Select the most appropriate option to fill in blank no. 5.

- Ans**
- 1. childishness
  - 2. happiness
  - 3. nervousness
  - 4. trick

Question ID : 26433091363

Status : **Not Answered**

Chosen Option : --

Section : **Part-D-Hindi**

**Q.1** वर्तनीगत अशुद्धियाँ न रहने वाला वाक्य चुनिए।

- Ans**
- 1. मैंने दस रुपये का दही खरीदा।
  - 2. उस कारखाना में बहुत मजदूर है।
  - 3. धूँआँ का रंग काला है।
  - 4. बच्चों, मेरी बातों सुनों।

Question ID : 26433063065

Status : **Not Answered**

Chosen Option : --

Q.2 निम्नलिखित में से अशुद्ध वाक्य कौन-सा है?

- Ans  1. मेरे पर कृपा करो।  
 2. वरुण प्रतिदिन घूमने जाता है।  
 3. मनाली अत्यंत सुन्दर शहर है।  
 4. कल मैंने दिनभर पढ़ाई की।

Question ID : 26433085138  
Status : Not Answered  
Chosen Option : --

Q.3 निम्नलिखित वाक्यांश के लिए उपयुक्त सार्थक शब्द है-  
ईश्वर में विश्वास करने वाला

- Ans  1. आस्तिक  
 2. दैवीय  
 3. इन्सान  
 4. भगवान

Question ID : 26433065750  
Status : Not Answered  
Chosen Option : --

Q.4 सद् कार्यों को हमेशा समर्थन मिलता है और गलत का \_\_\_\_\_ होता है।

समर्थन के विलोम शब्द से वाक्य पूर्ण करें।

- Ans  1. असमर्थ  
 2. असमंजस  
 3. विरोध  
 4. असहयोग

Question ID : 26433080875  
Status : Not Answered  
Chosen Option : --

Q.5 निम्नलिखित वाक्य के रिक्त स्थान में सबसे उपयुक्त मुहावरा क्या होगा?  
'नेता बनना हो तो मंत्री जी के साथ \_\_\_\_\_ बन जाओ'

- Ans  1. दुश्मन  
 2. पेड़  
 3. दोस्त  
 4. अमरबेल

Question ID : 26433066736  
Status : Not Answered  
Chosen Option : --

Q.6 वाक्य में रेखांकित शब्द को दिए गए शब्दों में से उचित शब्द से बदले।

इलाहाबाद के लोगों के आश्वासन पर यमुना नदी पर पुल बना दिया गया।

- Ans  1. विनती  
 2. आग्रह  
 3. प्रार्थना  
 4. आदेश

Question ID : 26433074411  
Status : Not Answered  
Chosen Option : --

Q.7 आज क्रिकेट के खेल में साहिल ने \_\_\_\_\_ मार लिया।  
रिक्त स्थान की पूर्ति उचित शब्द द्वारा करके मुहावरे को पूरा कीजिए।

- Ans
- 1. मन
  - 2. इनाम
  - 3. मैदान
  - 4. मक्खियाँ

Question ID : 26433062612  
Status : Not Answered  
Chosen Option : --

Q.8 'जड़' शब्द के विलोम से दिए गए वाक्य के रिक्त स्थान की पूर्ति कीजिए।  
हमें अपने \_\_\_\_\_ मन से ईश्वर को अनुभव करना चाहिए।

- Ans
- 1. मूल
  - 2. चेतन
  - 3. मधुर
  - 4. निम्न

Question ID : 26433063088  
Status : Not Answered  
Chosen Option : --

Q.9 निम्नलिखित विकल्पों में से कौन सा एक वाक्य क्रिया-विशेषण से सम्बन्ध रखता है?

- Ans
- 1. डाकिया आता होगा।
  - 2. बुशरा यहाँ आ रही है।
  - 3. हो सकता है आँधी आए।
  - 4. विश्व का कल्याण हो।

Question ID : 26433062955  
Status : Not Answered  
Chosen Option : --

Q.10 नीचे दिए शब्द के लिए उचित वाक्यांश दिए गए विकल्पों में से चुनिए।  
अलौकिक

- Ans
- 1. जो इस लोक का हो
  - 2. जो इस लोक का न हो
  - 3. जिसका अस्तित्व अल्पकाल तक रहे
  - 4. जो कम जानता हो

Question ID : 26433062391  
Status : Not Answered  
Chosen Option : --

Q.11 निम्नलिखित वाक्य में रेखांकित शब्द के स्थान पर उपयुक्त पर्यायवाची शब्द कौन-सा होगा?

बारिश के साथ ही दामिनी चमकने लगी।

- Ans
- 1. आँधी
  - 2. तड़ित
  - 3. ओला
  - 4. बुँदे

Question ID : 26433066901  
Status : Not Answered  
Chosen Option : --

Q.12 'लंबोदर' शब्द के लिए उचित वाक्यांश है-

- Ans
- 1. जिसका उधार लंबा हो
  - 2. जिसका हाथ लंबा हो
  - 3. जिसका उदर लंबा हो
  - 4. जिसकी गर्दन लंबी हो

Question ID : 26433065870  
Status : Not Answered  
Chosen Option : --

Q.13 वाक्य में रेखांकित शब्द के स्थान पर सर्वोचित शब्द का चयन कीजिए।

प्रेम करना तलवार की नोक पर चलना है।

- Ans
- 1. मूठ
  - 2. चपलता
  - 3. म्यान
  - 4. धार

Question ID : 26433065696  
Status : Not Answered  
Chosen Option : --

Q.14 कौन से विकल्प में विशेषण से बने भाववाचक संज्ञा शब्दों में त्रुटि है?

- Ans
- 1. ममत्व, अपनापन, निकटता
  - 2. लड़कपन, मित्रता, बुढ़ापा
  - 3. चतुरा, मीठा, दुर्बला
  - 4. गर्मी, सर्दी, नरमी

Question ID : 26433063030  
Status : Not Answered  
Chosen Option : --

Q.15 श्री कृष्ण ने माँ यशोदा से खेलने के लिए विभाकर को खिलौने के रूप में माँगा।

वाक्य में प्रयुक्त शब्द विभाकर का पर्यायवाची शब्द है-

- Ans
- 1. दानव
  - 2. घोड़ा
  - 3. सिंह
  - 4. चंद्रमा

Question ID : 26433080858  
Status : Not Answered  
Chosen Option : --

**Comprehension:**

निम्नलिखित गद्यांश में से कुछ शब्द हटा दिए गए हैं। दिए गए विकल्पों की सहायता से रिक्त स्थानों की पूर्ति कीजिए। प्रत्येक संख्या के लिए उपयुक्त विकल्प का चयन कीजिए।

दुनिया में अब 1. \_\_\_\_\_ करोड़ों 2. \_\_\_\_\_ छप चुकी हैं। हजारों पुस्तकें रोज़ छपती हैं। तरह-तरह 3. \_\_\_\_\_ अक्षरों में हजारों की तादाद में रोज़ 4. \_\_\_\_\_ समाचार-पत्र छपते रहते हैं। इन सबके मूल में 5. \_\_\_\_\_, अक्षर।

**SubQuestion No : 16**

Q.16 रिक्त स्थान 1 की पूर्ति के लिए सर्वाधिक उपयुक्त विकल्प का चयन कीजिए।

Ans  1. तक

2. से

3. सब

4. कब

Question ID : 26433079597

Status : Not Answered

Chosen Option : --

**Comprehension:**

निम्नलिखित गद्यांश में से कुछ शब्द हटा दिए गए हैं। दिए गए विकल्पों की सहायता से रिक्त स्थानों की पूर्ति कीजिए। प्रत्येक संख्या के लिए उपयुक्त विकल्प का चयन कीजिए।

दुनिया में अब 1. \_\_\_\_\_ करोड़ों 2. \_\_\_\_\_ छप चुकी हैं। हजारों पुस्तकें रोज़ छपती हैं। तरह-तरह 3. \_\_\_\_\_ अक्षरों में हजारों की तादाद में रोज़ 4. \_\_\_\_\_ समाचार-पत्र छपते रहते हैं। इन सबके मूल में 5. \_\_\_\_\_, अक्षर।

**SubQuestion No : 17**

Q.17 रिक्त स्थान 2 की पूर्ति के लिए सर्वाधिक उपयुक्त विकल्प का चयन कीजिए।

Ans  1. पाठ

2. परिणाम

3. पुस्तकों

4. पुस्तकें

Question ID : 26433079598

Status : Not Answered

Chosen Option : --

**Comprehension:**

निम्नलिखित गद्यांश में से कुछ शब्द हटा दिए गए हैं। दिए गए विकल्पों की सहायता से रिक्त स्थानों की पूर्ति कीजिए। प्रत्येक संख्या के लिए उपयुक्त विकल्प का चयन कीजिए।

दुनिया में अब 1. \_\_\_\_\_ करोड़ों 2. \_\_\_\_\_ छप चुकी हैं। हजारों पुस्तकें रोज़ छपती हैं। तरह-तरह 3. \_\_\_\_\_ अक्षरों में हजारों की तादाद में रोज़ 4. \_\_\_\_\_ समाचार-पत्र छपते रहते हैं। इन सबके मूल में 5. \_\_\_\_\_, अक्षर।

**SubQuestion No : 18**

Q.18 रिक्त स्थान 3 की पूर्ति के लिए सर्वाधिक उपयुक्त विकल्प का चयन कीजिए।

Ans  1. का

2. के

3. की

4. में

Question ID : 26433079599

Status : Not Answered

Chosen Option : --

**Comprehension:**

निम्नलिखित गद्यांश में से कुछ शब्द हटा दिए गए हैं। दिए गए विकल्पों की सहायता से रिक्त स्थानों की पूर्ति कीजिए। प्रत्येक संख्या के लिए उपयुक्त विकल्प का चयन कीजिए।

दुनिया में अब 1. \_\_\_\_\_ करोड़ों 2. \_\_\_\_\_ छप चुकी हैं। हजारों पुस्तकें रोज़ छपती हैं। तरह-तरह 3. \_\_\_\_\_ अक्षरों में हजारों की तादाद में रोज़ 4. \_\_\_\_\_ समाचार-पत्र छपते रहते हैं। इन सबके मूल में 5. \_\_\_\_\_, अक्षर।

**SubQuestion No : 19**

Q.19 रिक्त स्थान 4 की पूर्ति के लिए सर्वाधिक उपयुक्त विकल्प का चयन कीजिए।

- Ans  1. ही  
 2. भर  
 3. तक  
 4. भी

Question ID : 26433079600

Status : Not Answered

Chosen Option : --

**Comprehension:**

निम्नलिखित गद्यांश में से कुछ शब्द हटा दिए गए हैं। दिए गए विकल्पों की सहायता से रिक्त स्थानों की पूर्ति कीजिए। प्रत्येक संख्या के लिए उपयुक्त विकल्प का चयन कीजिए।

दुनिया में अब 1. \_\_\_\_\_ करोड़ों 2. \_\_\_\_\_ छप चुकी हैं। हजारों पुस्तकें रोज़ छपती हैं। तरह-तरह 3. \_\_\_\_\_ अक्षरों में हजारों की तादाद में रोज़ 4. \_\_\_\_\_ समाचार-पत्र छपते रहते हैं। इन सबके मूल में 5. \_\_\_\_\_, अक्षर।

**SubQuestion No : 20**

Q.20 रिक्त स्थान 5 की पूर्ति के लिए सर्वाधिक उपयुक्त विकल्प का चयन कीजिए।

- Ans  1. हैं  
 2. होना  
 3. होती  
 4. क्योंकि

Question ID : 26433079601

Status : Not Answered

Chosen Option : --

## Constable GD in CAPFs SSF Rifleman GD in Assam Rifles and Sepoy in NCB Examination 2022

Roll Number	@Qmaths Telegram Channel
Candidate Name	@Qmaths Telegram Channel
Venue Name	ION Digital Zone iDZ 2 Sector 62
Exam Date	01/02/2023
Exam Time	11:45 AM - 12:45 PM
Subject	Constable GD Examination 2022

### Section : Part-A-General Intelligence and Reasoning

**Q.1** Eight people are sitting in two parallel rows with 4 people each in such a way that there is equal distance between adjacent persons.  
In row I – A, B, C and D are seated and all of them are facing south.  
In row II – V, X, Y and Z are seated and all of them are facing north.  
B is the only neighbour of A and A sits exactly opposite Y. V sits at the extreme left end of their row and is exactly opposite C. D sits to the immediate left of C and exactly opposite X.  
Who sits at the immediate left of Y?

- Ans
- 1. X
  - 2. Z
  - 3. V
  - 4. A

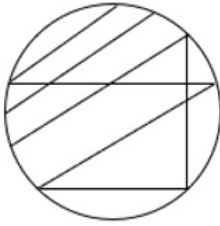
Question ID : 26433068746  
Status : Answered  
Chosen Option : 1

**Q.2** Which option represents the correct order of the given words as they would appear in the English dictionary?  
1 universe  
2 unicorn  
3 understood  
4 unhappy  
5 uniform

- Ans
- 1. 3,4,2,5,1
  - 2. 3,4,5,1,2
  - 3. 3,2,1,5,4
  - 4. 3,2,1,4,5

Question ID : 26433069323  
Status : Answered  
Chosen Option : 1

**Q.3** Select the option figure which is embedded in the given figure. (Rotation is NOT allowed)

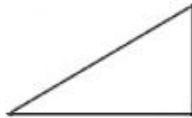


**Ans**

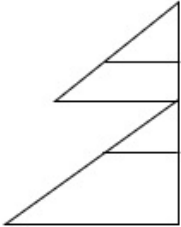
1.




2.



3.



4.



Question ID : 26433069351

Status : Answered

Chosen Option : 2

**Q.4** Three Statements are given followed by Three conclusions numbered I, II and III. Assuming the statements to be true, even if they seem to be at variance with commonly known facts, decide which of the conclusions logically follow(s) from the statements.

**Statements:**

Some tapes are glue.

Some glue are paints.

All paints are computers.

**Conclusions:**

I. Some tapes are paints.

II. All glue are paints.

III. Some glue are computers.

**Ans**

1. Only conclusion II follows.

2. Only conclusion I follows.

3. None of the conclusions follow.

4. Only conclusion III follows.

Question ID : 26433081793

Status : Answered

Chosen Option : 4



**Q.5** Which of the following terms will replace the question mark (?) in the given series?  
BSWG, CTXE, DUYC, ?, FWAY

- Ans
- 1. AAZV
  - 2. EVZA
  - 3. VEAZ
  - 4. ZVEA

Question ID : 26433068981  
Status : Answered  
Chosen Option : 2

**Q.6** Which number will replace the question mark (?) in the following series?  
63, 60, 66, 57, ?

- Ans
- 1. 69
  - 2. 70
  - 3. 55
  - 4. 65

Question ID : 26433068473  
Status : Answered  
Chosen Option : 1

**Q.7** Select the option that is related to the fifth letter-cluster in the same way as the second letter-cluster is related to the first letter-cluster and the fourth letter-cluster is related to the third letter-cluster.  
KBT : PEU :: UQA : ZTB :: FJR : ?

- Ans
- 1. LNT
  - 2. KMQ
  - 3. JMU
  - 4. KMS

Question ID : 26433057746  
Status : Answered  
Chosen Option : 1

**Q.8** Which two signs should be interchanged to make the below equation mathematically correct?  
 $112 - 14 \div 40 + 4 \times 18 = 40$

- Ans
- 1.  $\div$  and  $-$
  - 2.  $+$  and  $+$
  - 3.  $+$  and  $\times$
  - 4.  $-$  and  $+$

Question ID : 264330117507  
Status : Answered  
Chosen Option : 1

**Q.9** In a code language, 'our son's car' is coded as 'fu da be', 'son's birthday today' is coded as 'la fu ja', 'today our match' is coded as 'he da la'. What is the code for the words 'car match'?

- Ans
- 1. da he
  - 2. fu be
  - 3. la he
  - 4. he be

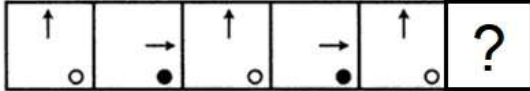
Question ID : 26433086986  
Status : Answered  
Chosen Option : 4

**Q.10** Which of the following numbers will replace the question mark (?) in the given series?  
1, 5, 17, 53, ?

- Ans
- 1. 157
  - 2. 145
  - 3. 161
  - 4. 178

Question ID : 26433082008  
Status : Answered  
Chosen Option : 3

**Q.11** Select the figure from among the given options that can replace the question mark (?) in the following series.



Ans

- 1.
- 2.
- 3.
- 4.

Question ID : 26433080501  
Status : Answered  
Chosen Option : 1

**Q.12** Select the correct combination of mathematical signs to sequentially replace the \* signs and to balance the given equation.  
 $45 * 15 * 13 * 52 * 26 * 37$

- Ans
- 1. =, -, +, +, +
  - 2. +, x, =, +, x
  - 3. ÷, x, =, ÷, +
  - 4. =, x, +, -, -

Question ID : 26433087191  
Status : Answered  
Chosen Option : 3

Q.13 A @ B means 'A is the husband of B'.  
 A & B means 'A is the mother of B'.  
 A # B means 'A is the daughter of B'.  
 A % B means 'A is the sibling of B'.  
 If R # P @ W % F & K, then how is R related to K?

Ans  1. Mother's sister's daughter

2. Brother

3. Brother-in-law

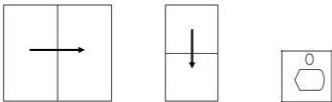
4. Nephew

Question ID : 26433069616

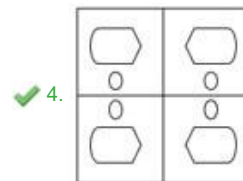
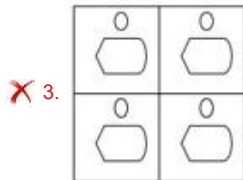
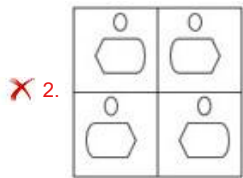
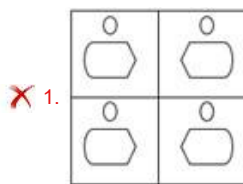
Status : Answered

Chosen Option : 1

Q.14 एक कागज को नीचे दिखाये गए रूप में मोड़ा और काटा जाता है। खोलने पर यह कैसे दिखाई देगा?



Ans



Question ID : 26433089785

Status : Answered

Chosen Option : 4

Q.15 Select the set in which the numbers are related in the same way as are the numbers of the following sets.

(NOTE : Operations should be performed on the whole numbers, without breaking down the numbers into its constituent digits. E.g. 13 – Operations on 13 such as adding/subtracting/multiplying etc. to 13 can be performed. Breaking down 13 into 1 and 3 and then performing mathematical operations on 1 and 3 is not allowed)  
(40, 175, 15)  
(30, 133, 11)

- Ans  1. (29, 110, 13)  
 2. (25, 91, 12)  
 3. (17, 45, 10)  
 4. (25, 108, 10)

Question ID : 26433076547  
Status : Answered  
Chosen Option : 4

Q.16 Select the correct mirror image of the given figure when the mirror is placed at MN as shown below.



- Ans  1. l k h n t f r w m  
 2. l k h u t f r w m  
 3. l k h n t f r w m  
 4. l k h n t f r w w

Question ID : 26433082332  
Status : Answered  
Chosen Option : 1

Q.17 उस विकल्प का चयन कीजिए जो तीसरे शब्द से उसी प्रकार संबंधित है जिस प्रकार दूसरा शब्द पहले शब्द से संबंधित है (शब्दों को अर्थपूर्ण शब्दों के रूप में माना जाना चाहिए और शब्द में अक्षरों/व्यंजनों /स्वरों की संख्या के आधार पर एक दूसरे से संबंधित नहीं किया जाना चाहिए)  
शंकु : आकृति :: कार : \_\_\_\_\_

- Ans  1. स्टेयरिंग  
 2. टायर  
 3. वाहन  
 4. सड़क

Question ID : 26433078825  
Status : Answered  
Chosen Option : 3

Q.18 Six people A, B, C, D, E and F are sitting around a circular table, facing the centre. E is sitting second to the right of B. F is the immediate neighbour of B and A. D is sitting second to the left of F. Who is sitting to the immediate right of C?

- Ans  1. D  
 2. E  
 3. B  
 4. A

Question ID : 26433081515  
Status : Answered  
Chosen Option : 2

Q.19 In a certain code language, 'PEOPLE' is written as 'QEOQME' and 'MONKEY' is written as 'NOOLEZ'. How will 'SILVER' be written in that language?

- Ans
- 1. TJWMES
  - 2. TIMWES
  - 3. TWJMSE
  - 4. TJWMSE

Question ID : 26433068890  
Status : Answered  
Chosen Option : 2

Q.20 Which of the following terms will replace the question mark (?) in the given series?  
ZLJI, XJHG, VHFE, ?, RDBA

- Ans
- 1. TFDC
  - 2. TFEC
  - 3. RFDC
  - 4. TFDE

Question ID : 26433068633  
Status : Answered  
Chosen Option : 1

Section : Part-B-General Knowledge and General awareness

Q.1 Who among the following was the court poet of Harshavardhana and the author of 'Harshacharita'?

- Ans
- 1. Rajashekhar
  - 2. Kalidas
  - 3. Aryabhata
  - 4. Banabhatta

Question ID : 26433089126  
Status : Answered  
Chosen Option : 4

Q.2 माइक्रोफाइनेंस ऋण को किसी संपार्श्विक की आवश्यकता \_\_\_\_\_ है।

- Ans
- 1. नहीं होती
  - 2. होती
  - 3. हमेशा होती
  - 4. अधिकांशतः होती

Question ID : 264330115294  
Status : Not Answered  
Chosen Option : --

Q.3 उत्तर-पूर्वी पवनें कहां से उत्पन्न होती हैं?

- Ans
- 1. दक्षिणी गोलार्ध के उष्ण कटिबंधीय उच्च दाब कटिबंध
  - 2. उत्तरी गोलार्ध के उपोष्णकटिबंधीय उच्च दाब कटिबंध
  - 3. उत्तरी गोलार्ध के उष्ण कटिबंधीय निम्न दाब कटिबंध
  - 4. दक्षिणी गोलार्ध के उपोष्णकटिबंधीय उच्च दाब कटिबंध

Question ID : 26433087883  
Status : Answered  
Chosen Option : 3

**Q.4 Who was recognized as the Global Peace Ambassador at the India International Conclave 2022?**

- Ans**
- 1. Aadesh Gindodiya
  - 2. Ankita Sharma
  - 3. Anchal Kumar Srivastava
  - 4. Babita Singh

Question ID : 264330114997  
Status : Not Answered  
Chosen Option : --

**Q.5 How many points advantage must a freestyle wrestler must have against his/ her opponent for the bout to be declared over?**

- Ans**
- 1. 10
  - 2. 14
  - 3. 12
  - 4. 8

Question ID : 264330115934  
Status : Not Answered  
Chosen Option : --

**Q.6 In India Green Revolution was led by :**

- Ans**
- 1. Norman Borlaug
  - 2. M.S. Swaminathan
  - 3. Jawahar Lal Nehru
  - 4. Mahatma Gandhi

Question ID : 264330115416  
Status : Answered  
Chosen Option : 2

**Q.7 Which of the following is known as the Flying Sikh of India?**

- Ans**
- 1. Mohinder Singh
  - 2. Ajit Pal Singh
  - 3. Joginder Singh
  - 4. Milkha Singh

Question ID : 264330116259  
Status : Answered  
Chosen Option : 4

**Q.8 Skill India Mission was launched under the flagship of \_\_\_\_\_.**

- Ans**
- 1. Ministry of Skill Development and Entrepreneurship
  - 2. Ministry of Information and Broadcasting
  - 3. Ministry of Labour and Employment
  - 4. Ministry of Commerce and Industry

Question ID : 264330116191  
Status : Answered  
Chosen Option : 3

**Q.9** What was the approximate percentage contribution of the industrial sector to GDP in 1950-51?

- Ans**  1. 11.8  
 2. 15.2  
 3. 22.4  
 4. 6.2

Question ID : 264330116140  
Status : Not Answered  
Chosen Option : --

**Q.10** The Sattriya Dance in Assam is inspired by \_\_\_\_\_.

- Ans**  1. Shakti Movement  
 2. Bhakti Movement  
 3. Tantrism  
 4. Sufi Movement

Question ID : 26433086564  
Status : Answered  
Chosen Option : 3

**Q.11** What is the atomic mass of Nitrogen?

- Ans**  1. 18  
 2. 14  
 3. 16  
 4. 12

Question ID : 264330115173  
Status : Answered  
Chosen Option : 2

**Q.12** In 1866, who among the following founded the East India Association in London?

- Ans**  1. Raja Ram Mohan Roy  
 2. Dadabhai Naoroji  
 3. Satyendra Nath Tagore  
 4. Sayyid Ahmad Khan

Question ID : 26433090584  
Status : Answered  
Chosen Option : 1

**Q.13** Rukmini Devi Arundale won various accolades in which dance form?

- Ans**  1. Kathak  
 2. Kathakali  
 3. Bharatnatyam  
 4. Lavani

Question ID : 264330115845  
Status : Answered  
Chosen Option : 3

Q.14 Which article of the Indian Constitution states that India is a 'Union of States'?

- Ans  1. Article 1  
 2. Article 2  
 3. Article 10  
 4. Article 11

Question ID : 26433089908  
Status : Answered  
Chosen Option : 1

Q.15 प्रत्येक बारह वर्ष बाद मनाया जाने वाला 'महामस्तकाभिषेक' एक \_\_\_\_\_ त्योहार है।

- Ans  1. सिख  
 2. बौद्ध  
 3. जैन  
 4. हिंदू

Question ID : 26433094889  
Status : Answered  
Chosen Option : 4

Q.16 Pick the odd one out. (Hint: farm processes)

- Ans  1. ploughing  
 2. sowing  
 3. eating  
 4. spraying

Question ID : 264330115541  
Status : Answered  
Chosen Option : 3

Q.17 According to the Census 2011, which state has the lowest female literacy rate in India?

- Ans  1. Bihar  
 2. Rajasthan  
 3. Himachal Pradesh  
 4. Uttar Pradesh

Question ID : 264330116054  
Status : Answered  
Chosen Option : 1

Q.18 भारत के किस केंद्रीय मंत्री ने नवंबर 2022 में भारत अंतर्राष्ट्रीय व्यापार मेले में खादी इंडिया पवेलियन का उद्घाटन किया?

- Ans  1. नारायण राणे  
 2. निर्मला सीतारमण  
 3. सुब्रह्मण्यम जयशंकर  
 4. किरण रिजिजू

Question ID : 264330114954  
Status : Answered  
Chosen Option : 3



**Q.19** Under article 100(3) of the Constitution of India, the quorum to constitute a sitting of either House of Parliament is \_\_\_\_\_ of the total number of Members of the House.

- Ans**
- 1. one-fifth
  - 2. one-third
  - 3. half
  - 4. one-tenth

Question ID : 26433089913  
Status : Answered  
Chosen Option : 2

**Q.20** Which of the following is a symptom of bacterial infection?

- Ans**
- 1. cardiac arrest
  - 2. fracture
  - 3. heart attack
  - 4. fever

Question ID : 264330115228  
Status : Answered  
Chosen Option : 4

Section : Part-C-Elementary Mathematics

**Q.1** The total surface area of a cube whose side is 0.75 cm is:

- Ans**
- 1. 3.735 cm<sup>2</sup>
  - 2. 3.357 cm<sup>2</sup>
  - 3. 3.375 cm<sup>2</sup>
  - 4. 3.537 cm<sup>2</sup>

Question ID : 26433073050  
Status : Answered  
Chosen Option : 3

**Q.2** The compound interest, compounded annually, on Rs.30,000 at 9% per annum is Rs.5,643. The time period (in years) is:

- Ans**
- 1. three
  - 2. Five
  - 3. two
  - 4. four

Question ID : 26433075239  
Status : Answered  
Chosen Option : 3

**Q.3** After the successive discounts of 10% and 12% on the marked price of an item, it is sold for Rs.9,504, then the marked price is \_\_\_\_\_.

- Ans**
- 1. Rs.12,000
  - 2. Rs.15,000
  - 3. Rs.13,000
  - 4. Rs.14,000

Question ID : 26433061306  
Status : Answered  
Chosen Option : 1

Q.4 On a certain sum of money lent out at 40% per annum, the difference between the compound interest for 1 year, payable half yearly, simple interest for 1 year is ₹200. The sum is:

- Ans
- 1. ₹4,500
  - 2. ₹4,000
  - 3. ₹5,500
  - 4. ₹5,000

Question ID : 26433090291  
Status : Answered  
Chosen Option : 4

Q.5 A vendor buys 20 apples for Rs.300 and sells them at 15 for Rs.300. How many apples should be bought and sold to earn a profit of Rs.300?

- Ans
- 1. 65
  - 2. 50
  - 3. 55
  - 4. 60

Question ID : 26433080359  
Status : Answered  
Chosen Option : 4

Q.6 A scooter's value was reduced by 20 percent and is now worth Rs. 72000. What was its original price?

- Ans
- 1. Rs. 88000
  - 2. Rs. 94000
  - 3. Rs. 90000
  - 4. Rs. 100000

Question ID : 264330116795  
Status : Answered  
Chosen Option : 3

Q.7 The score of the eleven players of a cricket team is as follows. 12, 9, 52, 34, 30, 22, 0, 56, 16, 27 and 72. Find the average score of the team.

- Ans
- 1. 35
  - 2. 30
  - 3. 27
  - 4. 34

Question ID : 26433075965  
Status : Answered  
Chosen Option : 2

Q.8 Calculate the volume of a cylinder having a height of 56 cm and a base radius of 28 cm. (Use  $\pi = \frac{22}{7}$ )

- Ans
- 1. 216135 cm<sup>3</sup>
  - 2. 154853 cm<sup>3</sup>
  - 3. 123962 cm<sup>3</sup>
  - 4. 137984 cm<sup>3</sup>

Question ID : 26433080072  
Status : Answered  
Chosen Option : 4

**Q.9** Mohan and Sohan are going from same place at 8 km/h and 9 km/h respectively. If Mohan and Sohan are going in the same direction, then what is the distance between Mohan and Sohan after 4.5 h?

- Ans**  1. 4.5 km  
 2. 5.5 km  
 3. 5.0 km  
 4. 4.0 km

Question ID : 26433075688  
Status : Answered  
Chosen Option : 1

**Q.10** Find the fourth proportional to 7, 4 and 7.

- Ans**  1. 9  
 2. 6  
 3. 4  
 4. 7

Question ID : 26433080033  
Status : Answered  
Chosen Option : 3

**Q.11** The cost of a washing machine is Rs.25,000. The cost was first increased by 20% and later on it was reduced by 20%. The present cost of the washing machine is:

- Ans**  1. Rs.24,000  
 2. Rs.25,500  
 3. Rs.25,000  
 4. Rs.24,500

Question ID : 26433082362  
Status : Answered  
Chosen Option : 1

**Q.12** Kapil, Mohan, and Raju can do a piece of work separately in 18, 36, and 54 days. They started the work together but Mohan left the work 8 days before the completion of work and Raju left the work 6 days before the completion of the work. Find the (approximate) time in which the work is completed.

- Ans**  1. 19 days  
 2. 13 days  
 3. 15 days  
 4. 12 days

Question ID : 264330116875  
Status : Answered  
Chosen Option : 2

**Q.13** Find the ratio in which rice at Rs.120 per kg is mixed with rice at Rs.155 per kg to get a mixture worth Rs.135 a kg.

- Ans**  1. 3 : 4  
 2. 2 : 3  
 3. 1 : 3  
 4. 4 : 3

Question ID : 26433074915  
Status : Answered  
Chosen Option : 4

**Q.14** Amol raised the price of their products by 20 percent. How much discount should they give so as to sell the products on no gain no loss basis?

- Ans**  1.  $50/3$  percent  
 2.  $22/5$  percent  
 3.  $27/5$  percent  
 4.  $35/3$  percent

Question ID : 264330116760  
Status : Answered  
Chosen Option : 1

**Q.15** The HCF of two numbers is 6 and their LCM is 253080. If one of the numbers is 4218, what is the second number?

- Ans**  1. 488  
 2. 120  
 3. 245  
 4. 360

Question ID : 26433080271  
Status : Answered  
Chosen Option : 4

**Q.16** Ramesh and Naresh start running on a circular track of length 1920 metres from the same point simultaneously in the same direction with speed of 40 m/sec and 64 m/sec. After how much time from the start will they meet for the first time anywhere on the track?

- Ans**  1. 60 sec  
 2. 90 sec  
 3. 80 sec  
 4. 70 sec

Question ID : 26433075530  
Status : Answered  
Chosen Option : 3

**Q.17** The highest common factor and the least common multiple of 432, 648 and 576 are \_\_\_\_\_ and \_\_\_\_\_, respectively.

- Ans**  1. 72, 5184  
 2. 36, 5184  
 3. 36, 2592  
 4. 72, 2592

Question ID : 26433085417  
Status : Answered  
Chosen Option : 2

**Q.18** By selling a computer for Rs.26,000, a man gains 4%. If he sells the computer for Rs.19,000, then his loss will be:

- Ans**  1. 24%  
 2. 14%  
 3. 20%  
 4. 16%

Question ID : 26433074986  
Status : Answered  
Chosen Option : 1

Q.19 Samreen and Garima completed a piece of work together in 8 days. If Samreen can complete the same work in 10 days working independently, in how many days will Garima complete the same work alone?

- Ans
- 1. 20
  - 2. 35
  - 3. 40
  - 4. 45

Question ID : 26433075566  
Status : Answered  
Chosen Option : 3

Q.20 Which of the following fractions is the largest?

$$\frac{3}{5}, \frac{7}{10}, \frac{11}{15}, \frac{13}{20}$$

- Ans
- 1.  $\frac{11}{15}$
  - 2.  $\frac{13}{20}$
  - 3.  $\frac{7}{10}$
  - 4.  $\frac{3}{5}$

Question ID : 26433080320  
Status : Answered  
Chosen Option : 1

Section : Part-D-English

Q.1 Select the most appropriate meaning of the given idiom.

Face the music

- Ans
- 1. Listening to melodies from music albums
  - 2. Music for peace and health
  - 3. Dance according to the tune
  - 4. To face the unpleasant consequences of one's actions

Question ID : 26433072576  
Status : Answered  
Chosen Option : 4

Q.2 Select the INCORRECTLY spelt word.

- Ans
- 1. Sentence
  - 2. Tendancy
  - 3. Artificial
  - 4. Matrimony

Question ID : 26433073503  
Status : Answered  
Chosen Option : 2

Q.3 Select the most appropriate synonym of the given word.

Queer

- Ans
- 1. Expedite
  - 2. Ordinary
  - 3. Valid
  - 4. Strange

Question ID : 26433072189  
Status : Answered  
Chosen Option : 4

Q.4 Select the most appropriate option that can substitute the underlined segment in the given sentence. If there is no need to substitute it, select 'No substitution'.  
Some passengers misplaced their luggages before boarding the train.

- Ans
- 1. misplaced their luggage
  - 2. No substitution
  - 3. misplaces their luggages
  - 4. misplaced his luggages

Question ID : 26433093078  
Status : Answered  
Chosen Option : 1

Q.5 Fill in the blanks with the correct homophone.

\_\_\_\_\_ of anything is destructive in nature.

- Ans
- 1. Excess
  - 2. Access
  - 3. Axes
  - 4. Axis

Question ID : 26433092935  
Status : Answered  
Chosen Option : 1

Q.6 Select the most appropriate option that can substitute the underlined segment in the given sentence.

Land with unoccupied possession is pretending to be more valuable.

- Ans
- 1. was similarly to be
  - 2. are likely to be
  - 3. have likely to be
  - 4. is likely to be

Question ID : 26433088506  
Status : Answered  
Chosen Option : 4

Q.7 Select the option that expresses the given sentence in simple past tense.

- A. Arun knew the concepts of geometry.
- B. Arun had been knowing the concepts of geometry.
- C. Arun had known the concepts of geometry.
- D. Arun was knowing the concepts of geometry.

- Ans
- 1. A
  - 2. D
  - 3. C
  - 4. B

Question ID : 26433073515  
Status : Answered  
Chosen Option : 1

Q.8 Select the correct option to substitute the underlined segment in the given sentence. If no substitution is required, select 'No substitution'.

She is married with a doctor.

- Ans
- 1. a doctor
  - 2. for a doctor
  - 3. to a doctor
  - 4. No substitution

Question ID : 26433090817  
Status : Answered  
Chosen Option : 3

Q.9 Select the most appropriate ANTONYM of the underlined word.

As a boy, Charles was a boor who bullied other kids in his neighbourhood.

- Ans
- 1. creep
  - 2. blighter
  - 3. gentleman
  - 4. scum

Question ID : 26433088840  
Status : Answered  
Chosen Option : 3

Q.10 Select the most appropriate synonym of the given word.

Competent

- Ans
- 1. Capable
  - 2. Overqualified
  - 3. Unfit
  - 4. Unskilled

Question ID : 26433086484  
Status : Answered  
Chosen Option : 1

Q.11 Select the most appropriate meaning of the given idiom.

Royal road

- Ans  1. Achieving something by birth  
 2. Achieving something by truth  
 3. Achieving something by false means  
 4. Achieving something trouble free

Question ID : 26433084754  
Status : Answered  
Chosen Option : 1

Q.12 Select the most appropriate ANTONYM of the given word.

Perplex

- Ans  1. Comprehensive  
 2. Complex  
 3. Simplify  
 4. Classify

Question ID : 26433072272  
Status : Answered  
Chosen Option : 1

Q.13 Select the INCORRECTLY spelt word.

- Ans  1. Jeweller  
 2. Naturally  
 3. Maintainance  
 4. Laundry

Question ID : 26433073739  
Status : Answered  
Chosen Option : 3

Q.14 Select the most appropriate option to fill in the blanks and make the sentence meaningful.

She hurt her \_\_\_\_\_ and \_\_\_\_\_.

- Ans  1. heal; tow  
 2. heal; toe  
 3. heel; toe  
 4. heel; tow

Question ID : 26433092102  
Status : Answered  
Chosen Option : 3

Q.15 Select the most appropriate ANTONYM of the word given in the bracket to fill in the blank.

My stomach is so \_\_\_\_\_ (empty) I couldn't possibly eat more.

- Ans  1. teeming  
 2. overfed  
 3. flush  
 4. drained

Question ID : 26433084613  
Status : Answered  
Chosen Option : 2



**Comprehension:**

In the following passage, some words have been deleted. Read the passage carefully and select the most appropriate option to fill in each blank.

The oldest hub of carpet weaving in India is Mirzapur in Bhadohi district of Uttar Pradesh. The Ganga (1)\_\_\_\_\_ past this town with its ghats, ancient temples and waterfalls. The genesis of carpet making in Mirzapur can be (2)\_\_\_\_\_ to the Mughal emperor, Akbar, in the 16th century. A (3)\_\_\_\_\_ of Persian carpet weavers, it is said, on its way to the Mughal court was (4)\_\_\_\_\_ and injured by dacoits on the Grand Trunk Road. The weavers were rescued and given shelter by local villagers. The master weaver of the group decided to settle down here and share his skills with his (5)\_\_\_\_\_. That is how the renowned carpet industry of Mirzapur took root.

**SubQuestion No : 16**

**Q.16 Select the most appropriate option to fill in blank 1.**

- Ans**  1. spreads  
 2. grows  
 3. sets  
 4. flows

Question ID : 26433090525

Status : Answered

Chosen Option : 4

**Comprehension:**

In the following passage, some words have been deleted. Read the passage carefully and select the most appropriate option to fill in each blank.

The oldest hub of carpet weaving in India is Mirzapur in Bhadohi district of Uttar Pradesh. The Ganga (1)\_\_\_\_\_ past this town with its ghats, ancient temples and waterfalls. The genesis of carpet making in Mirzapur can be (2)\_\_\_\_\_ to the Mughal emperor, Akbar, in the 16th century. A (3)\_\_\_\_\_ of Persian carpet weavers, it is said, on its way to the Mughal court was (4)\_\_\_\_\_ and injured by dacoits on the Grand Trunk Road. The weavers were rescued and given shelter by local villagers. The master weaver of the group decided to settle down here and share his skills with his (5)\_\_\_\_\_. That is how the renowned carpet industry of Mirzapur took root.

**SubQuestion No : 17**

**Q.17 Select the most appropriate option to fill in blank 2.**

- Ans**  1. extracted  
 2. reduced  
 3. traced  
 4. found

Question ID : 26433090526

Status : Answered

Chosen Option : 3

**Comprehension:**

In the following passage, some words have been deleted. Read the passage carefully and select the most appropriate option to fill in each blank.

The oldest hub of carpet weaving in India is Mirzapur in Bhadohi district of Uttar Pradesh. The Ganga (1)\_\_\_\_\_ past this town with its ghats, ancient temples and waterfalls. The genesis of carpet making in Mirzapur can be (2)\_\_\_\_\_ to the Mughal emperor, Akbar, in the 16th century. A (3)\_\_\_\_\_ of Persian carpet weavers, it is said, on its way to the Mughal court was (4)\_\_\_\_\_ and injured by dacoits on the Grand Trunk Road. The weavers were rescued and given shelter by local villagers. The master weaver of the group decided to settle down here and share his skills with his (5)\_\_\_\_\_. That is how the renowned carpet industry of Mirzapur took root.

**SubQuestion No : 18**

**Q.18** Select the most appropriate option to fill in blank 3.

- Ans**  1. crowd  
 2. army  
 3. caravan  
 4. band

Question ID : 26433090527

Status : Answered

Chosen Option : 3

**Comprehension:**

In the following passage, some words have been deleted. Read the passage carefully and select the most appropriate option to fill in each blank.

The oldest hub of carpet weaving in India is Mirzapur in Bhadohi district of Uttar Pradesh. The Ganga (1)\_\_\_\_\_ past this town with its ghats, ancient temples and waterfalls. The genesis of carpet making in Mirzapur can be (2)\_\_\_\_\_ to the Mughal emperor, Akbar, in the 16th century. A (3)\_\_\_\_\_ of Persian carpet weavers, it is said, on its way to the Mughal court was (4)\_\_\_\_\_ and injured by dacoits on the Grand Trunk Road. The weavers were rescued and given shelter by local villagers. The master weaver of the group decided to settle down here and share his skills with his (5)\_\_\_\_\_. That is how the renowned carpet industry of Mirzapur took root.

**SubQuestion No : 19**

**Q.19** Select the most appropriate option to fill in blank 4.

- Ans**  1. encroached  
 2. lost  
 3. hindered  
 4. waylaid

Question ID : 26433090528

Status : Answered

Chosen Option : 3

**Comprehension:**

In the following passage, some words have been deleted. Read the passage carefully and select the most appropriate option to fill in each blank.

The oldest hub of carpet weaving in India is Mirzapur in Bhadohi district of Uttar Pradesh. The Ganga (1)\_\_\_\_\_ past this town with its ghats, ancient temples and waterfalls. The genesis of carpet making in Mirzapur can be (2)\_\_\_\_\_ to the Mughal emperor, Akbar, in the 16th century. A (3)\_\_\_\_\_ of Persian carpet weavers, it is said, on its way to the Mughal court was (4)\_\_\_\_\_ and injured by dacoits on the Grand Trunk Road. The weavers were rescued and given shelter by local villagers. The master weaver of the group decided to settle down here and share his skills with his (5)\_\_\_\_\_. That is how the renowned carpet industry of Mirzapur took root.

**SubQuestion No : 20**

**Q.20** Select the most appropriate option to fill in blank 5.

**Ans** ✓ 1. benefactors

✗ 2. beneficiaries

✗ 3. recipients

✗ 4. sponsors

Question ID : 26433090529

Status : Answered

Chosen Option : 4

**Section : Part-D-Hindi**

**Q.1** प्रातःकाल में सूरज की किरणें मन को भाती हैं।

उपरोक्त वाक्य में रेखांकित शब्द के उचित पर्यायवाची शब्द का चयन विकल्पों में से कीजिए।

**Ans** ✓ 1. रश्मि

✗ 2. ईख

✗ 3. जया

✗ 4. प्रभात

Question ID : 26433079720

Status : Not Answered

Chosen Option : --

**Q.2** "उसे यहाँ आने के लिए बोल दो।"

उपरोक्त वाक्य में क्रिया सम्बन्धी त्रुटि पहचानकर निम्नलिखित में से शुद्ध वाक्य का चयन कीजिए।

**Ans** ✓ 1. उसे यहाँ आने के लिए कह दो।

✗ 2. उसे यहाँ आने के लिए सूचना दो।

✗ 3. उसे यहाँ आने के लिए भेज दो।

✗ 4. उसे यहाँ आने के लिए बता दो।

Question ID : 26433066973

Status : Not Answered

Chosen Option : --

**Q.3** निम्नलिखित वाक्य में रेखांकित शब्द के स्थान पर उपयुक्त पर्यायवाची शब्द कौन-सा होगा?

राम कुशल कारीगर है।

**Ans** ✗ 1. भुवन

✗ 2. अलक

✗ 3. चंचल

✓ 4. निपुण

Question ID : 26433066899

Status : Not Answered

Chosen Option : --

Q.4 जिसको लाँघना कठिन हो।  
ऊपर दिए गए वाक्यांश के लिए एक शब्द क्या होगा?

- Ans
- 1. दुर्लभ
  - 2. दुर्दम्य
  - 3. दुर्लघ्य
  - 4. दुःसाध्य

Question ID : 26433070058  
Status : Not Answered  
Chosen Option : --

Q.5 निम्न वाक्य में रेखांकित शब्द के स्थान पर सर्वोचित शब्द का चयन कीजिए।  
इस पर 'जिसकी लाठी उसकी भैंस' वाली कथा चरितार्थ होती है।

- Ans
- 1. आख्यायिका
  - 2. गाथा
  - 3. कहावत
  - 4. कहानी

Question ID : 26433065694  
Status : Not Answered  
Chosen Option : --

Q.6 'जो अंडे से जन्म लेता है' वाक्यांश के लिए इनमें से उपयुक्त शब्द कौन-सा है?

- Ans
- 1. अंत्यज
  - 2. जलज
  - 3. अंडज
  - 4. मलयज

Question ID : 26433066886  
Status : Not Answered  
Chosen Option : --

Q.7 'बीज बोने के थोड़े दिन बाद आंकुर निकलने लगे।' वाक्य के किस भाग में अशुद्ध वर्तनी वाला शब्द है?

- Ans
- 1. बीज बोने
  - 2. बाद आंकुर
  - 3. निकलने लगे।
  - 4. के थोड़े दिन

Question ID : 26433069699  
Status : Not Answered  
Chosen Option : --

Q.8 'महिला जब भाषण दे रही थी, उसकी आवाज में एक आकर्षण था।' निम्न में से कौन सा इस वाक्य में प्रयुक्त 'आकर्षण' शब्द का विलोम नहीं है?

- Ans
- 1. अनाकर्षण
  - 2. विपकर्षण
  - 3. अपकर्षण
  - 4. विकर्षण

Question ID : 26433069746  
Status : Not Answered  
Chosen Option : --

Q.9 'पीतांबर \_\_\_\_\_।' उपर्युक्त वाक्य में रिक्त स्थान के लिए उपयुक्त विकल्प निम्न में से क्या होगा?

- Ans
- 1. का अर्थ है – पीले रंग का आकाश
  - 2. का अर्थ है – पीले रंग का व्यक्ति
  - 3. का अर्थ है – पीले रंग का रथ
  - 4. का अर्थ है – पीले रंग का वस्त्र

Question ID : 26433067043  
Status : Not Answered  
Chosen Option : --

Q.10 निम्नलिखित मुहावरे का उपयुक्त अर्थ क्या होगा?  
कागजी घोड़े दौड़ाना

- Ans
- 1. बिना मतलब का काम करना
  - 2. बहुत पढ़ना लिखना
  - 3. अत्याधिक प्रयास करना
  - 4. पढ़ाई लिखाई करना

Question ID : 26433065777  
Status : Not Answered  
Chosen Option : --

Q.11 उद्यम से ही सफलता मिलती है। उपरोक्त वाक्य में रेखांकित शब्द के विलोम शब्द का चयन विकल्पों में से कीजिए।

- Ans
- 1. नकारा
  - 2. प्रयत्न
  - 3. उद्यमी
  - 4. निरुद्यम

Question ID : 26433079747  
Status : Not Answered  
Chosen Option : --

Q.12 निम्नलिखित अर्थ वाले मुहावरे का चयन विकल्पों में से कीजिए।  
किसी व्यक्ति का पुरानी परंपरा के साथ चलना

- Ans
- 1. मक्खी मारना
  - 2. शोधी बघारना
  - 3. राई का पहाड़ बनाना
  - 4. लकीर का फकीर होना

Question ID : 26433070003  
Status : Not Answered  
Chosen Option : --

Q.13 निम्नलिखित में से अशुद्ध वाक्य कौन-सा है?

- Ans
- 1. प्रत्येक व्यक्ति कविता नहीं कर सकते।
  - 2. मैं बचपन में वहाँ जाता था।
  - 3. रघु ने निकिता को मिठाई दी।
  - 4. बैल और बकरी घास चरते हैं।

Question ID : 26433066985  
Status : Not Answered  
Chosen Option : --

Q.14 क्षेत्र को लेकर भारत में संघर्ष अब आम बात हो गई है।  
उपरोक्त वाक्य में रेखांकित शब्द के स्थान पर भाववाचक संज्ञा शब्द क्या होगा?

- Ans
- 1. क्षेत्रित
  - 2. क्षत्रिय
  - 3. क्षेत्रीय
  - 4. क्षेत्रीयता

Question ID : 26433062857  
Status : Not Answered  
Chosen Option : --

Q.15 'आशा से बहुत अधिक' इस वाक्यांश के लिए सार्थक शब्द है -

- Ans
- 1. आशातीत
  - 2. वांछित
  - 3. प्रतीक्षित
  - 4. इच्छित

Question ID : 26433062332  
Status : Not Answered  
Chosen Option : --

**Comprehension:**

निम्नलिखित गद्यांश में से कुछ शब्द हटा दिए गए हैं। दिए गए विकल्पों की सहायता से रिक्त स्थानों की पूर्ति कीजिए। प्रत्येक संख्या के लिए उपयुक्त विकल्प का चयन कीजिए।  
एक बार बिल्ली ने उचककर दो में से 1. \_\_\_\_\_ अंडा तोड़ दिया। मेरी माँ ने 2. \_\_\_\_\_ तो उसे दुख हुआ। उसने स्टूल 3. \_\_\_\_\_ चढ़कर दूसरे अंडे को बचाने की कोशिश की। लेकिन 4. \_\_\_\_\_ कोशिश में दूसरा अंडा उसी के हाथ से गिरकर टूट 5. \_\_\_\_\_।

**SubQuestion No : 16**

Q.16 रिक्त स्थान 1 की पूर्ति के लिए सर्वाधिक उपयुक्त विकल्प का चयन कीजिए।

- Ans
- 1. चार
  - 2. पाँच
  - 3. तीन
  - 4. एक

Question ID : 26433079585  
Status : Not Answered  
Chosen Option : --

**Comprehension:**

निम्नलिखित गद्यांश में से कुछ शब्द हटा दिए गए हैं। दिए गए विकल्पों की सहायता से रिक्त स्थानों की पूर्ति कीजिए। प्रत्येक संख्या के लिए उपयुक्त विकल्प का चयन कीजिए।  
एक बार बिल्ली ने उचककर दो में से 1. \_\_\_\_\_ अंडा तोड़ दिया। मेरी माँ ने 2. \_\_\_\_\_ तो उसे दुख हुआ। उसने स्टूल 3. \_\_\_\_\_ चढ़कर दूसरे अंडे को बचाने की कोशिश की। लेकिन 4. \_\_\_\_\_ कोशिश में दूसरा अंडा उसी के हाथ से गिरकर टूट 5. \_\_\_\_\_।

**SubQuestion No : 17**

Q.17 रिक्त स्थान 2 की पूर्ति के लिए सर्वाधिक उपयुक्त विकल्प का चयन कीजिए।

- Ans
- 1. सूँघा
  - 2. देखा
  - 3. पकड़ा
  - 4. सोचा

Question ID : 26433079586  
Status : Not Answered  
Chosen Option : --

**Comprehension:**

निम्नलिखित गद्यांश में से कुछ शब्द हटा दिए गए हैं। दिए गए विकल्पों की सहायता से रिक्त स्थानों की पूर्ति कीजिए। प्रत्येक संख्या के लिए उपयुक्त विकल्प का चयन कीजिए।

एक बार बिल्ली ने उचककर दो में से 1. \_\_\_\_\_ अंडा तोड़ दिया। मेरी माँ ने 2. \_\_\_\_\_ तो उसे दुख हुआ। उसने स्टूल 3. \_\_\_\_\_ चढ़कर दूसरे अंडे को बचाने की कोशिश की। लेकिन 4. \_\_\_\_\_ कोशिश में दूसरा अंडा उसी के हाथ से गिरकर टूट 5. \_\_\_\_\_।

**SubQuestion No : 18**

Q.18 रिक्त स्थान 3 की पूर्ति के लिए सर्वाधिक उपयुक्त विकल्प का चयन कीजिए।

- Ans
- 1. के लिए
  - 2. तक
  - 3. में
  - 4. पर

Question ID : 26433079587

Status : Not Answered

Chosen Option : --

**Comprehension:**

निम्नलिखित गद्यांश में से कुछ शब्द हटा दिए गए हैं। दिए गए विकल्पों की सहायता से रिक्त स्थानों की पूर्ति कीजिए। प्रत्येक संख्या के लिए उपयुक्त विकल्प का चयन कीजिए।

एक बार बिल्ली ने उचककर दो में से 1. \_\_\_\_\_ अंडा तोड़ दिया। मेरी माँ ने 2. \_\_\_\_\_ तो उसे दुख हुआ। उसने स्टूल 3. \_\_\_\_\_ चढ़कर दूसरे अंडे को बचाने की कोशिश की। लेकिन 4. \_\_\_\_\_ कोशिश में दूसरा अंडा उसी के हाथ से गिरकर टूट 5. \_\_\_\_\_।

**SubQuestion No : 19**

Q.19 रिक्त स्थान 4 की पूर्ति के लिए सर्वाधिक उपयुक्त विकल्प का चयन कीजिए।

- Ans
- 1. इससे
  - 2. इसलिए
  - 3. इस
  - 4. इसकी

Question ID : 26433079588

Status : Not Answered

Chosen Option : --

**Comprehension:**

निम्नलिखित गद्यांश में से कुछ शब्द हटा दिए गए हैं। दिए गए विकल्पों की सहायता से रिक्त स्थानों की पूर्ति कीजिए। प्रत्येक संख्या के लिए उपयुक्त विकल्प का चयन कीजिए।

एक बार बिल्ली ने उचककर दो में से 1. \_\_\_\_\_ अंडा तोड़ दिया। मेरी माँ ने 2. \_\_\_\_\_ तो उसे दुख हुआ। उसने स्टूल 3. \_\_\_\_\_ चढ़कर दूसरे अंडे को बचाने की कोशिश की। लेकिन 4. \_\_\_\_\_ कोशिश में दूसरा अंडा उसी के हाथ से गिरकर टूट 5. \_\_\_\_\_।

**SubQuestion No : 20**

Q.20 रिक्त स्थान 5 की पूर्ति के लिए सर्वाधिक उपयुक्त विकल्प का चयन कीजिए।

- Ans
- 1. गए
  - 2. हुआ
  - 3. गया
  - 4. गई

Question ID : 26433079589

Status : Not Answered

Chosen Option : --

# Constable GD in CAPFs SSF Rifleman GD in Assam Rifles and Sepoy in NCB Examination 2022

Roll Number	
Candidate Name	
Venue Name	
Exam Date	01/02/2023
Exam Time	9:00 AM - 10:00 AM
Subject	Constable GD Examination 2022

## Section : Part-A-General Intelligence and Reasoning

Q.1 एक निश्चित कूट भाषा में 'MARINE' को '100' और 'NORMAL' को '126' के रूप में कूटबद्ध किया जाता है। उसी भाषा में 'REALM' को किस प्रकार कूटबद्ध किया जाएगा?

- Ans  1. 78  
 2. 88  
 3. 98  
 4. 70

Q.2 आठ व्यक्ति, D, E, G, H, M, N, Y और Z एक सीधी पंक्ति में उत्तर की ओर मुख करके बैठे हैं। Y पंक्ति के किसी एक सिरे पर बैठा है। Y और Z के बीच केवल तीन व्यक्ति बैठे हैं। E, Z के दाईं ओर दूसरे स्थान पर बैठा है। E और D के बीच केवल तीन व्यक्ति बैठे हैं। G, D के बाईं ओर किसी एक स्थान पर बैठा है, लेकिन पंक्ति के किसी भी सिरे पर नहीं बैठा है। M, Z के ठीक बगल में नहीं बैठा है। N, H के दाईं ओर दूसरे स्थान पर बैठा है। H के बाईं ओर कितने व्यक्ति बैठे हैं?

- Ans  1. तीन  
 2. दो  
 3. एक  
 4. कोई नहीं

Q.3 कौन-सा अक्षर-समूह दी गई श्रृंखला में प्रश्नचिह्न (?) के स्थान पर आकर श्रृंखला को पूर्ण करेगा?  
DKBN, ENWS, ?, GTMC, HWHH

- Ans  1. RQFX  
 2. QRFG  
 3. FQRX  
 4. GQFR



Q.4 उस विकल्प का चयन कीजिए जो तीसरे शब्द से उसी प्रकार संबंधित है जिस प्रकार दूसरा शब्द पहले शब्द से संबंधित है। (शब्दों को अर्थपूर्ण शब्दों के रूप में मानना है और उन्हें शब्द में अक्षरों/व्यंजनों/स्वरों की संख्या के आधार पर एक-दूसरे से संबंधित नहीं करना है।)

दोस्त : दुश्मन :: मरना : ?

- Ans
- 1. रोना
  - 2. जीवन
  - 3. अंत
  - 4. जीना

Question ID : 26433067976

Status : Answered

Chosen Option : 4

Q.5 दी गई आकृति के सही दर्पण प्रतिबिंब का चयन करें जब दर्पण नीचे दर्शाए गए

अनुसार MN पर रखा जाता है।

GRO36VEt

M

N

- Ans
- 1. tEVθεORθ
  - 2. tEV6εORθ
  - 3. tEVθεORθ
  - 4. tEVθεORθ

Question ID : 26433089460

Status : Answered

Chosen Option : 3

Q.6 नीचे दिए गए समीकरण को गणितीय रूप से सही बनाने के लिए किन दो गणितीय चिन्हों को परस्पर बदलना चाहिए?

$$72 - 6 + 2 \times 216 \div 24 = 420$$

- Ans
- 1. - और ÷
  - 2. - और ×
  - 3. × और ÷
  - 4. - और +

Question ID : 264330117561

Status : Answered

Chosen Option : 1

Q.7 तीन कथन दिए गए हैं, जिनके बाद तीन निष्कर्ष I, II और III दिए गए हैं। कथनों को सत्य मानते हुए, भले ही वे सामान्य रूप से ज्ञात तथ्यों से भिन्न प्रतीत होते हों, निर्धारित करें कि कौन-सा/से निष्कर्ष कथनों का तार्किक रूप से अनुसरण करता है/करते हैं।

कथन:

कुछ पेंट ब्रश हैं।

सभी ब्रश चित्रफलक हैं।

कुछ चित्रफलक टेबल हैं।

निष्कर्ष:

I. कुछ ब्रश टेबल हैं।

II. कुछ पेंट चित्रफलक हैं।

III. कुछ चित्रफलक ब्रश हैं।

- Ans
- 1. सभी निष्कर्ष अनुसरण करते हैं
  - 2. केवल निष्कर्ष III अनुसरण करता है
  - 3. केवल निष्कर्ष II और III अनुसरण करते हैं
  - 4. केवल निष्कर्ष I और III अनुसरण करते हैं

Question ID : 26433090996

Status : Answered

Chosen Option : 3

Q.8 दिए गए समीकरण को संतुलित करने के लिए विकल्पों में दिए गए किन दो चिह्नों को परस्पर बदलना होगा?

$$790 + 5 \div 58 \times 5 - 96 = 352$$

- Ans
- 1. + और  $\div$
  - 2. + और -
  - 3.  $\div$  और  $\times$
  - 4.  $\div$  और -

Question ID : 26433082666

Status : Answered

Chosen Option : 1

Q.9 उस विकल्प का चयन करें, जो चौथे पद से उसी प्रकार संबंधित है, जिस प्रकार पहला पद दूसरे पद से संबंधित है और पाँचवाँ पद छठे पद से संबंधित है।

$$104 : 13 :: ? : 37 :: 168 : 21$$

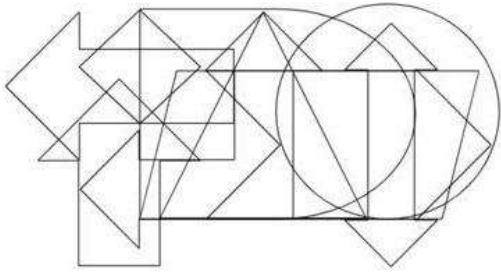
- Ans
- 1. 296
  - 2. 248
  - 3. 304
  - 4. 280

Question ID : 26433074548

Status : Answered

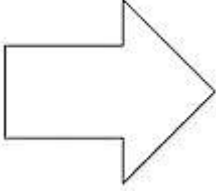
Chosen Option : 1

Q.10 उस विकल्प आकृति का चयन करें जो नीचे दी गई आकृति में अंतर्निहित है।  
(आकृति घुमाने की अनुमति नहीं है)

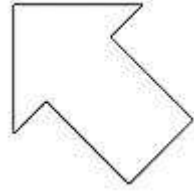


Ans


✗ 1.



✗ 2.



✓ 3.



✗ 4.



Question ID : 26433085744

Status : Answered

Chosen Option : 3

Q.11 एक निश्चित कूट भाषा में, 'DANCE' को 'AECDN' के रूप में लिखा जाता है, 'MUSIC' को 'IUCMS' के रूप में लिखा जाता है, उसी भाषा में 'SONG' को कैसे लिखा जाएगा?

Ans ✗ 1. SNGO

✗ 2. OSNG

✗ 3. GNSO

✓ 4. OGNS

Question ID : 26433069654

Status : Answered

Chosen Option : 4

Q.12 कौनसा विकल्प दी गयी श्रृंखला में प्रश्नचिन्ह (?) के स्थान पर आकर आकृति श्रृंखला को पूर्ण करेगा?



Ans

✗ 1.



✓ 2.



✗ 3.



✗ 4.



Question ID : 26433078967

Status : Answered

Chosen Option : 2

Q.13 निम्नलिखित में से कौन सा विकल्प दी गई श्रृंखला में प्रश्नचिह्न (?) को प्रतिस्थापित करेगा?  
103, 110, 105, ?, 107, 114, 109

Ans ✗ 1. 111

✗ 2. 110

✓ 3. 112

✗ 4. 108

Question ID : 26433089445

Status : Answered

Chosen Option : 3

Q.14 निम्न में से कौन सी संख्या दी गई श्रृंखला में प्रश्नचिह्न (?) के स्थान पर आएगी?  
2880, 480, 96, ?, 8, 4

- Ans  1. 24  
 2. 46  
 3. 56  
 4. 76

Question ID : 26433076748

Status : Answered

Chosen Option : 1

Q.15 छः दोस्त - M, N, O, P, Q और R दक्षिण की ओर मुख करके एक पंक्ति में बैठे हैं। N, P और Q के ठीक मध्य में है। O, R के बाईं ओर ठीक बगल में है। M, P के दाईं ओर ठीक बगल में है। यदि Q पंक्ति के बाएं सिरे पर बैठा है, तो O के बाईं ओर ठीक बगल में कौन बैठा है?

- Ans  1. N  
 2. M  
 3. Q  
 4. P

Question ID : 26433079062

Status : Answered

Chosen Option : 2

Q.16 कौन-सा अक्षर-समूह दी गई श्रृंखला में प्रश्नचिह्न (?) के स्थान पर आकर श्रृंखला को पूर्ण करेगा?  
AZME, CYOG, ?, GWSK, IVUM

- Ans  1. FXQJ  
 2. FYRJ  
 3. FXRJ  
 4. EXQI

Question ID : 26433067939

Status : Answered

Chosen Option : 4

Q.17 किस विकल्प में निम्नलिखित शब्दों का वह क्रम दिया गया है, जिस क्रम में वे अंग्रेजी शब्दकोश में आते हैं?

- 1 pointed  
2 pollen  
3 populate  
4 popular  
5 podium

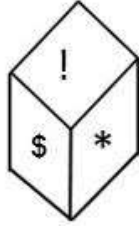
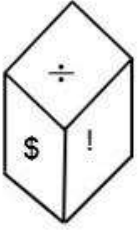
- Ans  1. 5,3,1,4,2  
 2. 5,3,4,2,1  
 3. 5,4,2,3,1  
 4. 5,1,2,4,3

Question ID : 26433069298

Status : Answered

Chosen Option : 4

Q.18 \$, @, !, \*, ∞, ÷ प्रतीकों वाले एक ही पासे की दो अलग-अलग स्थितियों को दर्शाया गया है। '÷' दर्शाने वाले फलक के विपरीत फलक पर प्रतीक ज्ञात कीजिए।



- Ans
- 1. !
  - 2. @
  - 3. \*
  - 4. ∞

Question ID : 26433089512  
Status : Answered  
Chosen Option : 1

Q.19 उस विकल्प का चयन करें जो पाँचवें पद से उसी प्रकार संबंधित है जिस प्रकार दूसरा पद पहले पद से संबंधित है और चौथा पद तीसरे पद से संबंधित है।  
QUEST : VUGWS :: REACH : JECGT :: SOLVE : ?

- Ans
- 1. UQNXG
  - 2. VONXG
  - 3. GXNQU
  - 4. GXNOV

Question ID : 26433087192  
Status : Answered  
Chosen Option : 3

Q.20 'P % Q' का अर्थ है 'P, Q का भाई है'।  
'P + Q' का अर्थ है 'P, Q की बेटी है'।  
'P = Q' का अर्थ है 'P, Q का बेटा है'।  
'P # Q' का अर्थ है 'P, Q की पत्नी है'।  
यदि  $L + M \% N = O \# P$  है, तो P, L से किस प्रकार संबंधित है?

- Ans
- 1. मामा
  - 2. दादा
  - 3. जीजा
  - 4. ताऊ/चाचा

Question ID : 26433087004  
Status : Answered  
Chosen Option : 2

Q.1 1873 में, उन्होंने 'सत्य-शोधक समाज' की स्थापना की। यहां 'उन्होंने' किसे कहा जा रहा है?

- Ans
- 1. जोतिबा फुले
  - 2. गोविंदराव फुले
  - 3. गोपाल हरि देशमुख
  - 4. सावित्रीबाई फुले

Question ID : 264330115725

Status : Answered

Chosen Option : 1

Q.2 देवप्रयाग में भागीरथी \_\_\_\_\_ से मिलती है।

- Ans
- 1. कोसी
  - 2. यमुना
  - 3. अलकनंदा
  - 4. धाधरा

Question ID : 26433087891

Status : Answered

Chosen Option : 3

Q.3 भारत में अंतर्देशीय जलमार्गों के विकास, रखरखाव और प्रबंधन की देखभाल कौन करता है?

- Ans
- 1. भारतीय इस्पात प्राधिकरण
  - 2. भारतीय विमानपत्तन प्राधिकरण
  - 3. भारतीय अंतर्देशीय जलमार्ग प्राधिकरण
  - 4. भारतीय राष्ट्रीय राजमार्ग प्राधिकरण

Question ID : 264330115595

Status : Answered

Chosen Option : 3

Q.4 'अर्थशास्त्र' किसके द्वारा लिखा गया था?

- Ans
- 1. वासुदेव
  - 2. कौटिल्य
  - 3. मेगस्थनीज
  - 4. विशाखदत्त

Question ID : 26433090572

Status : Answered

Chosen Option : 2

Q.5 किस खेल का मैदान प्रायः अंडाकार होता है जिसके बीच में एक आयताकार क्षेत्र होता है, जो 22 गज (20.12 मीटर) लंबा और 10 फीट (3.04 मीटर) चौड़ा होता है?

- Ans
- 1. क्रिकेट
  - 2. लॉन टेनिस
  - 3. वॉलीबॉल
  - 4. बास्केटबॉल

Question ID : 26433089937

Status : Answered

Chosen Option : 1

Q.6 भारत के संविधान का निम्नलिखित में से कौन सा अनुच्छेद 'कुछ दशाओं में गिरफ्तारी और निरोध से संरक्षण' प्रदान करता है?

- Ans
- 1. अनुच्छेद 35
  - 2. अनुच्छेद 22
  - 3. अनुच्छेद 47
  - 4. अनुच्छेद 10

Question ID : 26433086806

Status : Answered

Chosen Option : 2

Q.7 राजस्थान की विवाहित महिलाओं द्वारा मनाया जाने वाला गणगौर का वार्षिक त्यौहार, हिंदू माह \_\_\_\_\_ में मनाया जाता है।

- Ans
- 1. कार्तिक
  - 2. अश्विन
  - 3. फाल्गुन
  - 4. चैत्र

Question ID : 264330115105

Status : Answered

Chosen Option : 2

Q.8 2020 ग्रीष्मकालीन पैरालंपिक में किस देश ने सर्वाधिक स्वर्ण पदक जीता?

- Ans
- 1. चीन
  - 2. संयुक्त राज्य अमेरिका
  - 3. ग्रेट ब्रिटेन
  - 4. रूस

Question ID : 264330115924

Status : Marked For Review

Chosen Option : 2



Q.9 निम्नलिखित में से कौन सा अप्रत्यक्ष कर का उदाहरण है ?

- Ans
- 1. फिर्मों के लिए निगम कर
  - 2. उपहार कर
  - 3. जी. एस. टी.
  - 4. संपत्ति कर

Question ID : 26433054802

Status : Answered

Chosen Option : 3

Q.10 वैयक्तिक प्रयोज्य आय, वह धन है जो घरेलू उपभोग, \_\_\_\_\_ और आयकर के लेखांकन के बाद खर्च के लिए उपलब्ध होता है।

- Ans
- 1. बचत
  - 2. माल और सेवा कर
  - 3. बिक्री कर
  - 4. ब्याज

Question ID : 264330115348

Status : Not Attempted and Marked For Review

Chosen Option : --

Q.11 यदि चार मजदूरों की जरूरत है और सात काम कर रहे हैं तो तीन अतिरिक्त मजदूर किस तरह की बेरोजगारी से पीड़ित हैं?

- Ans
- 1. चक्रीय बेरोजगारी
  - 2. प्रच्छन्न बेरोजगारी
  - 3. संरचनात्मक बेरोजगारी
  - 4. संघर्षजनित बेरोजगारी

Question ID : 264330116091

Status : Answered

Chosen Option : 2

Q.12 चूना-पत्थर, खड़िया एवं संगमरमर \_\_\_\_\_ के विविध रूप है।

- Ans
- 1. कैल्शियम फॉस्फेट
  - 2. कैल्शियम ऑक्साइड
  - 3. कैल्शियम हाइड्रोऑक्साइड
  - 4. कैल्शियम कार्बोनेट

Question ID : 264330115164

Status : Answered

Chosen Option : 4

Q.13 सीवी चन्द्रशेखर को \_\_\_\_\_ में उनके योगदान के लिए पद्म भूषण से सम्मानित किया गया था।

- Ans
- 1. मणिपुरी
  - 2. कथक
  - 3. कुचिपुड़ी
  - 4. भरतनाट्यम

Question ID : 264330115893

Status : Not Attempted and Marked For Review

Chosen Option : --

Q.14 क्षारक लाल लिटमस पत्र को \_\_\_\_\_ कर देता है।

- Ans
- 1. बैंगनी
  - 2. गुलाबी
  - 3. नीला
  - 4. पीला

Question ID : 264330115264

Status : Answered

Chosen Option : 3

Q.15 निम्न में से क्या औद्योगिक विकास की हानि है?

- Ans
- 1. प्रदूषण
  - 2. उच्च राजस्व संग्रह
  - 3. सतत विकास
  - 4. आर्थिक विकास

Question ID : 264330115393

Status : Answered

Chosen Option : 1

Q.16 निम्नलिखित राजनेताओं में से कौन जुलाई 2022 में भारत के राष्ट्रपति बने?

- Ans
- 1. रामनाथ कोविंद
  - 2. द्रौपदी मुर्मू
  - 3. जयराम ठाकुर
  - 4. स्मृति ईरानी

Question ID : 264330114887

Status : Answered

Chosen Option : 2

Q.17 \_\_\_\_\_ कैबिनेट और राज्यपाल के बीच संपर्क की एकमात्र कड़ी है।

Ans  1. मुख्यमंत्री

2. राज्य लोक सेवा आयोग अध्यक्ष

3. महाधिवक्ता

4. मुख्य चुनाव आयुक्त

Question ID : 26433089186

Status : Answered

Chosen Option : 1

Q.18 30 अप्रैल, 2022 को चीफ ऑफ आर्मी स्टाफ का पदभार किसने संभाला?

Ans  1. मनोज पांडे

2. नितिन परांजपे

3. विनीत जोशी

4. मनोज मुकुंद नरवणे

Question ID : 264330115051

Status : Answered

Chosen Option : 4

Q.19 नवंबर 2022 तक की स्थिति के अनुसार, भारत में केंद्रीय सूचना और प्रसारण, और युवा कार्यक्रम और खेल मंत्री कौन हैं?

Ans  1. अश्विनी वैष्णव

2. अनुराग सिंह ठाकुर

3. नारायण राणे

4. किरण रिजिजू

Question ID : 264330114929

Status : Answered

Chosen Option : 4

Q.20 अलरमेल वल्ली निम्नलिखित में से किस शास्त्रीय नृत्य के प्रतिपादक हैं?

Ans  1. भरतनाट्यम

2. कथकली

3. ओडिसी

4. कथक

Question ID : 26433071666

Status : Not Answered

Chosen Option : --

Section : Part-C-Elementary Mathematics

Q.1 एक मोबाइल की कीमत में पहले क्रमिक रूप से 5%, 2% की कमी होती है और उसके बाद कीमत में क्रमिक रूप से क्रमशः 10%, 20% की वृद्धि होती है। मोबाइल की कीमत में अंतिम परिवर्तन क्या है?

Ans

- ✓ 1.  $22\frac{223}{250}\%$   
✗ 2.  $22\frac{123}{250}\%$   
✗ 3.  $17\frac{153}{250}\%$   
✗ 4.  $21\frac{113}{250}\%$

Question ID : 26433076073

Status : Not Answered

Chosen Option : --

Q.2 एक पुलिस अधिकारी एक चोर का पीछा करता है जो उससे 800 m की दूरी पर है। यदि वे क्रमशः 8 km/h और 7 km/h की चाल से दौड़ते हैं, तो चोर को पकड़ने के लिए पुलिस अधिकारी को कितनी दूर तक दौड़ना होगा?

Ans ✗ 1. 4000 m

✓ 2. 6400 m

✗ 3. 5600 m

✗ 4. 4800 m

Question ID : 26433073133

Status : Answered

Chosen Option : 3

Q.3 यदि एक गोले की त्रिज्या में 5% की वृद्धि की जाती है, तो गोले के पृष्ठीय क्षेत्रफल में कितने प्रतिशत की वृद्धि होगी?

Ans ✓ 1. 10.25%

✗ 2. 25%

✗ 3. 15.25%

✗ 4. 18%

Question ID : 26433083059

Status : Not Answered

Chosen Option : --

Q.4  $\frac{5}{16}$  of  $\frac{7}{8} \times 6 + 15 - 10$  का सरलीकृत मान क्या है?

- Ans
- 1.  $\frac{850}{64}$
  - 2.  $\frac{425}{128}$
  - 3.  $\frac{425}{64}$
  - 4.  $\frac{525}{64}$

Question ID : 26433081002

Status : Answered

Chosen Option : 3

Q.5 वर्तमान जन्म दर प्रति दस हजार 450 है, जबकि संगत मृत्यु दर प्रति दस हजार 120 है। प्रतिशत में जनसंख्या वृद्धि के संदर्भ में शुद्ध संवृद्धि दर ज्ञात करें।

- Ans
- 1. 3%
  - 2. 3.3%
  - 3. 2.3%
  - 4. 2%

Question ID : 26433080127

Status : Not Answered

Chosen Option : --

Q.6 एक चोर 15 m/s की चाल से दौड़ना शुरू करता है, 12 सेकंड दौड़ने के बाद एक पुलिसकर्मी उसी दिशा में 20 m/s की चाल से चोर को पकड़ने के लिए दौड़ना शुरू करता है। पुलिसकर्मी को चोर को पकड़ने के लिए कितने मीटर तक दौड़ना पड़ेगा?

- Ans
- 1. 754 m
  - 2. 720 m
  - 3. 740 m
  - 4. 744 m

Question ID : 26433075694

Status : Answered

Chosen Option : 2

Q.7 एक घंटे में, A 5 कुर्सियों पर पेंट कर सकता है और B 3 कुर्सियों पर पेंट कर सकता है। निर्धारित कीजिए कि जब वे एक साथ मिलकर काम करेंगे तो उन्हें 40 कुर्सियों को पेंट करने में कितना समय लगेगा?

- Ans
- 1. 10 घंटे
  - 2. 5 घंटे
  - 3. 12 घंटे
  - 4. 8 घंटे

Question ID : 26433071340

Status : Answered

Chosen Option : 2

Q.8 सोनी ने एक मोबाइल फोन राजू को 10% के लाभ पर बेचा, राजू ने इसे आलोक को 5% की हानि पर बेच दिया और आलोक ने इसे सोहन को 20% के लाभ पर बेच दिया। यदि सोहन ने इसे ₹ 6,270 में खरीदा, तो सोनी के लिए मोबाइल का क्रय मूल्य (₹ में) क्या था?

- Ans
- 1. ₹4,650
  - 2. ₹5,000
  - 3. ₹4,500
  - 4. ₹5,500

Question ID : 26433075546

Status : Answered

Chosen Option : 2

Q.9 यदि आप ₹2,500 में एक जैकेट खरीद रहे हों और ₹4,500 में वैसे ही दो जैकेट खरीद रहे हों, तो छूट प्रतिशत ज्ञात कीजिये। (एक जैकेट का अंकित मूल्य ₹2500 है)

- Ans
- 1. 18 प्रतिशत
  - 2. 10 प्रतिशत
  - 3. 12 प्रतिशत
  - 4. 15 प्रतिशत

Question ID : 26433080173

Status : Answered

Chosen Option : 2

Q.10 12, 25 और 18 से विभाज्य 3 अंकीय सबसे बड़ी संख्या और 4 अंकीय सबसे छोटी संख्या के बीच पूर्ण अंतर ज्ञात करें।

- Ans
- 1. 1200
  - 2. 600
  - 3. 900
  - 4. 300

Question ID : 264330116646

Status : Answered

Chosen Option : 3

Q.11 एक दुकानदार किसी वस्तु की खरीद पर निम्नलिखित तीन छूट योजनाओं की घोषणा करता है। इनमें से कौन-सी योजना ग्राहक के लिए सबसे अच्छी योजना है?

- A. 15% और 18% की दो क्रमागत छूट
- B. 6 वस्तुएँ खरीदें और 2 मुफ्त पाएँ
- C. 30% की एक एकल छूट

Ans  1. A और C दोनों योजनाएँ समान छूट प्रदान करती हैं

2. योजना A

3. योजना B

4. योजना C

Question ID : 26433075762

Status : Answered

Chosen Option : 2

Q.12 यदि 24 cm ऊँचाई वाले एक लम्ब वृत्तीय शंकु का आयतन  $392\pi\text{ cm}^3$  है, तो उसका वक्र पृष्ठीय क्षेत्रफल क्या है?

Ans  1.  $185\pi\text{ cm}^2$

2.  $191\pi\text{ cm}^2$

3.  $163\pi\text{ cm}^2$

4.  $175\pi\text{ cm}^2$

Question ID : 26433076088

Status : Not Answered

Chosen Option : --

Q.13 दो व्यक्तियों A और B के भार का अनुपात क्रमशः 5 : 3 है। यदि A के भार में 5% की वृद्धि हो जाए और A तथा B का कुल भार 15% बढ़कर 92 kg हो जाए, तो B के भार में हुई प्रतिशत-वृद्धि (दशमलव के 2 स्थान तक शुद्ध) ज्ञात कीजिए।

Ans  1. 31.67 प्रतिशत

2. 36.66 प्रतिशत

3. 32.66 प्रतिशत

4. 30.66 प्रतिशत

Question ID : 26433080162

Status : Not Answered

Chosen Option : --

Q.14 क्रमशः 50 और 80 के औसत अंक वाले छात्रों की दो कक्षाओं A और B को मिलाने पर, प्राप्त औसत अंक 60 है। कक्षा A और B में छात्रों का क्रमशः अनुपात ज्ञात कीजिए।

Ans  1. 3 : 2

2. 1 : 2

3. 2 : 1

4. 2 : 3

Question ID : 26433081009

Status : Answered

Chosen Option : 3

Q.15 एक धनराशि वार्षिक रूप से चक्रवृद्धि होकर 3 वर्षों में 20% प्रतिवर्ष की दर से ₹14,112 हो जाती है। धनराशि ज्ञात कीजिए।

- Ans
- 1. ₹8,099.60
  - 2. ₹9,166.87
  - 3. ₹7,167.70
  - 4. ₹8,166.67

Question ID : 26433082722

Status : Not Answered

Chosen Option : --

Q.16  $\frac{x}{y}$  और  $\frac{y}{z}$  के वर्गों का मध्यानुपाती ज्ञात करें।

- Ans
- 1.  $\left(\frac{x}{z}\right)^2$
  - 2.  $\left(\frac{x}{z}\right)^{3/2}$
  - 3.  $\sqrt{\frac{x}{z}}$
  - 4.  $\frac{x}{z}$

Question ID : 26433079938

Status : Answered

Chosen Option : 3

Q.17 3 सीटी की कीमत ₹3,300 है। 10 सीटी की कीमत (₹ में) क्या होगी?

- Ans
- 1. ₹10,000
  - 2. ₹12,000
  - 3. ₹11,000
  - 4. ₹33,000

Question ID : 26433076010

Status : Answered

Chosen Option : 3



Q.18 यदि 12 पुरुष या 9 महिलाएं किसी काम को 36 दिन में कर सकती हैं, तो 16 पुरुष और 18 महिलाएं उसी काम को पूरा करने में कितने दिन का समय लेंगी?

- Ans
- 1.  $13\frac{1}{5}$
  - 2.  $14\frac{3}{5}$
  - 3.  $10\frac{4}{5}$
  - 4.  $12\frac{4}{5}$

Question ID : 26433082929

Status : Not Answered

Chosen Option : --

Q.19 Rs.1,00,000 का एक घर A द्वारा B को 6% के लाभ पर बेचा जाता है। B घर वापस A को 3% हानि पर बेचता है। पूरे लेनदेन में A का लाभ/हानि क्या है?

- Ans
- 1. Rs.2,280 की हानि
  - 2. Rs.3,280 की हानि
  - 3. Rs.2,802 का लाभ
  - 4. Rs.2,820 का लाभ

Question ID : 26433076373

Status : Not Answered

Chosen Option : --

Q.20 एक कॉलेज में दो कोर्स होते हैं। एम. कॉम. में 500 में से 450 छात्र पास हुए, जबकि एम.ए. में 2000 छात्रों में से 1500 छात्र पास हुए। कॉलेज का संयुक्त पास प्रतिशत क्या है?

- Ans
- 1. 76.75%
  - 2. 75.5%
  - 3. 78%
  - 4. 79%

Question ID : 26433082497

Status : Not Answered

Chosen Option : --

Section : Part-D-English

Q.1 Select the correct idiom that can substitute the italicised group of words in the given sentence.

Prof. Ram Prasad was an environmental activist, and apparently, he became *annoying and irritating* to leather factories over the years.

- Ans
- 1. a vexed question
  - 2. a slow coach
  - 3. an uphill task
  - 4. a thorn in the flesh

Question ID : 26433084762  
Status : Not Answered  
Chosen Option : --

Q.2 Select the correct option to substitute the underlined segment in the given sentence. If no substitution is required, select 'No substitution'.

Slow and steady wins the race.

- Ans
- 1. will win the race
  - 2. No substitution
  - 3. had won the race
  - 4. won the race

Question ID : 26433090808  
Status : Not Answered  
Chosen Option : --

Q.3 Select the most appropriate synonym of the given word.

Blend

- Ans
- 1. Scatter
  - 2. Disunity
  - 3. Fusion
  - 4. Destruction

Question ID : 26433072072  
Status : Not Answered  
Chosen Option : --

Q.4 Select the most appropriate homonym to fill in the blank.

This nation is \_\_\_\_\_ to each of its citizens.

- Ans
- 1. fur
  - 2. fair
  - 3. fare
  - 4. feel

Question ID : 26433088790  
Status : Not Answered  
Chosen Option : --

Q.5 Select the most appropriate ANTONYM of the underlined word in the following sentence.

It is quite comprehensible that now young people's minds are constantly being reshaped by the media's constant meddling of certain unfathomable ideas and moral standards.

- Ans
- 1. Constantly
  - 2. Meddling
  - 3. Comprehensible
  - 4. Reshape

Question ID : 26433092863  
Status : Not Answered  
Chosen Option : --

Q.6 Select the most appropriate synonym for the underlined word in the given sentence.

The moral failure was the result of his lassitude.

- Ans
- 1. luxury
  - 2. derision
  - 3. indulgence
  - 4. weariness

Question ID : 26433073752  
Status : Not Answered  
Chosen Option : --

Q.7 Select the most appropriate synonym of the underlined word.

A leading actor has said in a new interview that nepotism does not matter, and she is the best example of that.

- Ans
- 1. unbiasedness
  - 2. objectivity
  - 3. neutrality
  - 4. favouritism

Question ID : 26433088839  
Status : Not Answered  
Chosen Option : --

Q.8 The following sentence has been divided into parts. One of them may contain an error. Select the part that contains the error from the given options. If you don't find any error, mark 'No error' as your answer.

The shield used by the / warrior have been one / made of strong iron.

- Ans
- 1. No error
  - 2. made of strong iron
  - 3. warrior have been one
  - 4. The shield used by the

Question ID : 26433099906  
Status : Not Answered  
Chosen Option : --

Q.9 Select the correct spelling of the word to fill in the blank in the given sentence.

Shyam \_\_\_\_\_ an \_\_\_\_\_ letter from his employer.

- Ans
- 1. reseived; knowledgement
  - 2. recievid; acknowledgment
  - 3. recieved; aknowlegdement
  - 4. received; acknowledgment

Question ID : 26433084767

Status : Not Answered

Chosen Option : --

Q.10 Select the most appropriate meaning of the underlined idiom that can be substituted in the following sentence.

The robber showed a clean pair of heels when the policeman came nearer.

- Ans
- 1. stole and ran away with heels
  - 2. showed how clean the heels were
  - 3. stood so as to show the heels
  - 4. ran away

Question ID : 26433072234

Status : Not Answered

Chosen Option : --

Q.11 Select the most appropriate ANTONYM of the given word.

Truth

- Ans
- 1. Reality
  - 2. Lay
  - 3. Loyalty
  - 4. Falsity

Question ID : 26433072859

Status : Not Answered

Chosen Option : --

Q.12 Select the option with the correct spelling of the underlined word in the given sentence.

They waited for him in the adjcent room.

- Ans
- 1. adgencent
  - 2. adjacent
  - 3. adjacentt
  - 4. addjacent

Question ID : 26433073610

Status : Not Answered

Chosen Option : --

Q.13 Select the most appropriate option to fill in the blank.

He seized a thief by his \_\_\_\_\_ and forced him to answer.

- Ans
- 1. colour
  - 2. caller
  - 3. choler
  - 4. collar

Question ID : 26433087942  
Status : Not Answered  
Chosen Option : --

Q.14 Select the most appropriate option that can substitute the underlined segment in the given sentence.

The teacher asked me to tell him what is his name?

- Ans
- 1. what he is called is.
  - 2. what the name is.
  - 3. what his name was.
  - 4. what name is he?

Question ID : 264330102392  
Status : Not Answered  
Chosen Option : --

Q.15 Select the most appropriate option to fill in the blank.  
The child \_\_\_\_\_ not guilty of shoplifting.

- Ans
- 1. questioned
  - 2. said
  - 3. pleaded
  - 4. nagged

Question ID : 26433085599  
Status : Not Answered  
Chosen Option : --

**Comprehension:**

In the following passage, some words have been deleted. Read the passage carefully and select the most appropriate option to fill in each blank.

Transformation of a sentence means (1) \_\_\_\_\_ the words or forms of the sentence without changing (2) \_\_\_\_\_ meaning. Such changes can be in the form (3) \_\_\_\_\_ changes from negative sentences into assertive, interrogative or exclamatory sentences and vice versa (4) \_\_\_\_\_ change in narration or change in voice or changes from simple to (5) \_\_\_\_\_ or complex sentences.

**SubQuestion No : 16**

**Q.16** Select the most appropriate option to fill in blank number 1.

- Ans  1. change  
 2. of change  
 3. to change  
 4. changing

Question ID : 26433088564

Status : Not Answered

Chosen Option : --

**Comprehension:**

In the following passage, some words have been deleted. Read the passage carefully and select the most appropriate option to fill in each blank.

Transformation of a sentence means (1) \_\_\_\_\_ the words or forms of the sentence without changing (2) \_\_\_\_\_ meaning. Such changes can be in the form (3) \_\_\_\_\_ changes from negative sentences into assertive, interrogative or exclamatory sentences and vice versa (4) \_\_\_\_\_ change in narration or change in voice or changes from simple to (5) \_\_\_\_\_ or complex sentences.

**SubQuestion No : 17**

**Q.17** Select the most appropriate option to fill in blank number 2.

- Ans  1. its  
 2. her  
 3. his  
 4. their

Question ID : 26433088565

Status : Not Answered

Chosen Option : --

**Comprehension:**

In the following passage, some words have been deleted. Read the passage carefully and select the most appropriate option to fill in each blank.

Transformation of a sentence means (1) \_\_\_\_\_ the words or forms of the sentence without changing (2) \_\_\_\_\_ meaning. Such changes can be in the form (3) \_\_\_\_\_ changes from negative sentences into assertive, interrogative or exclamatory sentences and vice versa (4) \_\_\_\_\_ change in narration or change in voice or changes from simple to (5) \_\_\_\_\_ or complex sentences.

**SubQuestion No : 18**

**Q.18** Select the most appropriate option to fill in blank number 3.

- Ans  1. in  
 2. on  
 3. at  
 4. of

Question ID : 26433088566

Status : Not Answered

Chosen Option : --

**Comprehension:**

In the following passage, some words have been deleted. Read the passage carefully and select the most appropriate option to fill in each blank.

Transformation of a sentence means (1) \_\_\_\_\_ the words or forms of the sentence without changing (2) \_\_\_\_\_ meaning. Such changes can be in the form (3) \_\_\_\_\_ changes from negative sentences into assertive, interrogative or exclamatory sentences and vice versa (4) \_\_\_\_\_ change in narration or change in voice or changes from simple to (5) \_\_\_\_\_ or complex sentences.

**SubQuestion No : 19**

**Q.19** Select the most appropriate option to fill in blank number 4.

- Ans  1. but  
 2. or  
 3. so  
 4. yet

Question ID : 26433088567

Status : Not Answered

Chosen Option : --

### Comprehension:

In the following passage, some words have been deleted. Read the passage carefully and select the most appropriate option to fill in each blank.

Transformation of a sentence means (1) \_\_\_\_\_ the words or forms of the sentence without changing (2) \_\_\_\_\_ meaning. Such changes can be in the form (3) \_\_\_\_\_ changes from negative sentences into assertive, interrogative or exclamatory sentences and vice versa (4) \_\_\_\_\_ change in narration or change in voice or changes from simple to (5) \_\_\_\_\_ or complex sentences.

SubQuestion No : 20

Q.20 Select the most appropriate option to fill in blank number 5.

- Ans
- 1. negative
  - 2. assertive
  - 3. positive
  - 4. compound

Question ID : 26433088568

Status : Not Answered

Chosen Option : --

Section : Part-D-Hindi

Q.1 'आग में \_\_\_\_\_ डालना'  
उपर्युक्त मुहावरे में रिक्त स्थान की पूर्ति उचित शब्द द्वारा कीजिए।

- Ans
- 1. घी
  - 2. तेल
  - 3. नमक
  - 4. मिर्च

Question ID : 26433069689

Status : Answered

Chosen Option : 1

Q.2 निम्नलिखित वाक्यांश के लिए एक सार्थक शब्द चुनिए।  
जो अस्त-व्यस्त हो

- Ans
- 1. विपर्यस्त
  - 2. विद्युत्प्रभ
  - 3. विकीर्ण
  - 4. विज्ञप्ति

Question ID : 26433062739

Status : Answered

Chosen Option : 1



Q.3 'महात्मा गांधी की साधना \_\_\_\_\_ थी।'  
उपरोक्त वाक्य में 'अलौकिक' शब्द के एकार्थी शब्द से वाक्य पूर्ण कीजिए।

- Ans
- 1. अकथनीय
  - 2. असाधारण
  - 3. असहनीय
  - 4. अनुस्यूत

Question ID : 26433079241  
Status : Answered  
Chosen Option : 2

Q.4 निम्नलिखित में से शुद्ध वाक्य कौन सा है?

- Ans
- 1. राधा अच्छा लड़की है।
  - 2. राधा अच्छी लड़का है।
  - 3. राध अच्छ लड़की है।
  - 4. राधा अच्छी लड़की है।

Question ID : 26433080931  
Status : Answered  
Chosen Option : 4

Q.5 निम्नलिखित विकल्पों में से किस एक वाक्य में सर्वनाम के प्रयोग सम्बन्धी अशुद्धि है?

- Ans
- 1. माता जी ! मुझे आपकी बहुत याद आती है।
  - 2. उसके हाथ में जो कलम है, यह मेरी है।
  - 3. मैंने अपना काम कर लिया।
  - 4. पुनीत ने महेश से कहा, तुम घर चलो मैं दो घंटे बाद आऊँगा।

Q.6 दिए गए विकल्पों में से कौन सा शब्द निम्नलिखित वाक्य में रेखांकित शब्द का पर्यायवाची नहीं है?  
भारतीय जनमानस के बीच माता 'सरस्वती' संगीत कला की जननी के रूप में पूजनीय हैं।

- Ans
- 1. हंस वाहिनी
  - 2. विमला
  - 3. सहचरी
  - 4. शारदा

Question ID : 26433091339  
Status : Answered  
Chosen Option : 3

Q.7 'कैंसर रोग बड़ा \_\_\_\_\_ है।' इस वाक्य में रिक्त स्थान की पूर्ति शुद्ध शब्द द्वारा कीजिए।

- Ans
- 1. दुसाध्य
  - 2. दुरसाध्य
  - 3. दूसाध्य
  - 4. दुःसाध्य

Question ID : 26433080906

Status : Answered

Chosen Option : 4

Q.8 निम्न वाक्यांश के लिए उपयुक्त एक शब्द का चयन विकल्पों में से कीजिए।  
'जो युद्ध में स्थिर रहता है'

- Ans
- 1. योजक
  - 2. युद्धस्थ
  - 3. युयुत्सु
  - 4. युधिष्ठिर

Question ID : 26433070092

Status : Answered

Chosen Option : 4

Q.9 निम्न वाक्य में रेखांकित शब्द के स्थान पर सर्वोचित विकल्प चुनिए।  
'वह अमीर होने पर भी संतुष्ट नहीं है।'

- Ans
- 1. सुखी
  - 2. योगी
  - 3. मर्यादित
  - 4. दुःखी

Question ID : 26433084962

Status : Answered

Chosen Option : 1

Q.10 'दीक्षांत समारोह \_\_\_\_\_।' उपर्युक्त वाक्य में रिक्त स्थान के लिए उपयुक्त विकल्प निम्न में से क्या होगा?

- Ans
- 1. से अभिप्राय विवाह पूर्व किए जाने वाले रीति-रिवाज से है
  - 2. से अभिप्राय संन्यास लेने के लिए किए जाने वाले रीति-रिवाज से है
  - 3. से अभिप्राय उपनयन संस्कार से होता है
  - 4. से अभिप्राय शिक्षा के समापन पर किए जाने वाले संस्कार से है

Question ID : 26433067049

Status : Answered

Chosen Option : 4

Q.11 'कुछ समय उपरान्त हमारा साहित्य उच्चकोटि का था।' उपरोक्त वाक्य के किस भाग में अनुपयुक्त शब्द का प्रयोग किया गया है?

- Ans
- 1. साहित्य उच्चकोटि
  - 2. कुछ समय उपरान्त
  - 3. का था
  - 4. हमारा

Question ID : 26433062804  
Status : Answered  
Chosen Option : 2

Q.12 'अनु बहुत सुंदर लड़की है।' उपरोक्त वाक्य में रेखांकित शब्द क्या है?

- Ans
- 1. प्रविशेषण
  - 2. विशेषण
  - 3. विशेष्य
  - 4. क्रियाविशेषण

Question ID : 26433063053  
Status : Answered  
Chosen Option : 3

Q.13 निम्नलिखित शब्द के सही पर्यायवाची शब्द का चयन विकल्पों में से कीजिए।  
बिजली

- Ans
- 1. पद्मा
  - 2. यामा
  - 3. दामिनी
  - 4. अर्कजा

Question ID : 26433066940  
Status : Answered  
Chosen Option : 4

Q.14 निम्नलिखित में से 'माता' का समानार्थी शब्द नहीं है-

- Ans
- 1. जननी
  - 2. वामा
  - 3. अंबा
  - 4. मैया

Question ID : 26433085081  
Status : Answered  
Chosen Option : 2

Q.15 निम्नलिखित मुहावरे के लिए उपयुक्त सार्थक शब्द क्या होगा?  
आसमान पर चढ़ना

- Ans  1. बहुत नाराज होना  
 2. अभिमान होना  
 3. डर लगना  
 4. उड़ते रहना

Question ID : 26433065769

Status : Answered

Chosen Option : 2

**Comprehension:**

निम्नलिखित गद्यांश में कुछ शब्दों को हटा दिया गया है। दिए गए विकल्पों की सहायता से रिक्त स्थानों की पूर्ति कीजिए। प्रत्येक संख्या के लिए सबसे उपयुक्त विकल्प का चयन कीजिए।

विद्या अभ्यास से 1. \_\_\_\_\_ होती है। जन्म से ही कोई व्यक्ति किसी काम में 2. \_\_\_\_\_ नहीं होता। अभ्यास के द्वारा जड़ बुद्धि वाले व्यक्ति सुजान अर्थात् 3. \_\_\_\_\_ बन जाते हैं। जो पहले से सुजान होते हैं, अभ्यास उन्हें और अधिक 4. \_\_\_\_\_ बना देता है, जिससे वे कार्य में पारंगत हो जाते हैं। अभ्यास को 5. \_\_\_\_\_ की सीमा में नहीं बाँधा जा सकता है।

**SubQuestion No : 16**

Q.16 रिक्त स्थान 1 की पूर्ति के लिए सबसे उपयुक्त विकल्प का चयन कीजिए।

- Ans  1. दूर  
 2. प्राप्त  
 3. समझ  
 4. सफल

Question ID : 264330111071

Status : Answered

Chosen Option : 2

**Comprehension:**

निम्नलिखित गद्यांश में कुछ शब्दों को हटा दिया गया है। दिए गए विकल्पों की सहायता से रिक्त स्थानों की पूर्ति कीजिए। प्रत्येक संख्या के लिए सबसे उपयुक्त विकल्प का चयन कीजिए।

विद्या अभ्यास से 1. \_\_\_\_\_ होती है। जन्म से ही कोई व्यक्ति किसी काम में 2. \_\_\_\_\_ नहीं होता। अभ्यास के द्वारा जड़ बुद्धि वाले व्यक्ति सुजान अर्थात् 3. \_\_\_\_\_ बन जाते हैं। जो पहले से सुजान होते हैं, अभ्यास उन्हें और अधिक 4. \_\_\_\_\_ बना देता है, जिससे वे कार्य में पारंगत हो जाते हैं। अभ्यास को 5. \_\_\_\_\_ की सीमा में नहीं बाँधा जा सकता है।

**SubQuestion No : 17**

Q.17 रिक्त स्थान 2 की पूर्ति के लिए सबसे उपयुक्त विकल्प का चयन कीजिए।

- Ans  1. हार  
 2. उत्पन्न  
 3. धैर्य  
 4. पारंगत

Question ID : 264330111072

Status : Answered

Chosen Option : 4

**Comprehension:**

निम्नलिखित गद्यांश में कुछ शब्दों को हटा दिया गया है। दिए गए विकल्पों की सहायता से रिक्त स्थानों की पूर्ति कीजिए। प्रत्येक संख्या के लिए सबसे उपयुक्त विकल्प का चयन कीजिए।

विद्या अभ्यास से 1. \_\_\_\_\_ होती है। जन्म से ही कोई व्यक्ति किसी काम में 2. \_\_\_\_\_ नहीं होता। अभ्यास के द्वारा जड़ बुद्धि वाले व्यक्ति सुजान अर्थात् 3. \_\_\_\_\_ बन जाते हैं। जो पहले से सुजान होते हैं, अभ्यास उन्हें और अधिक 4. \_\_\_\_\_ बना देता है, जिससे वे कार्य में पारंगत हो जाते हैं। अभ्यास को 5. \_\_\_\_\_ की सीमा में नहीं बाँधा जा सकता है।

**SubQuestion No : 18**

Q.18 रिक्त स्थान 3 की पूर्ति के लिए सबसे उपयुक्त विकल्प का चयन कीजिए।

- Ans
- 1. कमज़ोर
  - 2. बुद्धिमान
  - 3. बुद्धि
  - 4. अभ्यास

Question ID : 264330111073

Status : Answered

Chosen Option : 2

**Comprehension:**

निम्नलिखित गद्यांश में कुछ शब्दों को हटा दिया गया है। दिए गए विकल्पों की सहायता से रिक्त स्थानों की पूर्ति कीजिए। प्रत्येक संख्या के लिए सबसे उपयुक्त विकल्प का चयन कीजिए।

विद्या अभ्यास से 1. \_\_\_\_\_ होती है। जन्म से ही कोई व्यक्ति किसी काम में 2. \_\_\_\_\_ नहीं होता। अभ्यास के द्वारा जड़ बुद्धि वाले व्यक्ति सुजान अर्थात् 3. \_\_\_\_\_ बन जाते हैं। जो पहले से सुजान होते हैं, अभ्यास उन्हें और अधिक 4. \_\_\_\_\_ बना देता है, जिससे वे कार्य में पारंगत हो जाते हैं। अभ्यास को 5. \_\_\_\_\_ की सीमा में नहीं बाँधा जा सकता है।

**SubQuestion No : 19**

Q.19 रिक्त स्थान 4 की पूर्ति के लिए सबसे उपयुक्त विकल्प का चयन कीजिए।

- Ans
- 1. अकुशल
  - 2. मजबूत
  - 3. सफलता
  - 4. कुशल

Question ID : 264330111074

Status : Answered

Chosen Option : 4

**Comprehension:**

निम्नलिखित गद्यांश में कुछ शब्दों को हटा दिया गया है। दिए गए विकल्पों की सहायता से रिक्त स्थानों की पूर्ति कीजिए। प्रत्येक संख्या के लिए सबसे उपयुक्त विकल्प का चयन कीजिए।

विद्या अभ्यास से 1. \_\_\_\_\_ होती है। जन्म से ही कोई व्यक्ति किसी काम में 2. \_\_\_\_\_ नहीं होता। अभ्यास के द्वारा जड़ बुद्धि वाले व्यक्ति सुजान अर्थात् 3. \_\_\_\_\_ बन जाते हैं। जो पहले से सुजान होते हैं, अभ्यास उन्हें और अधिक 4. \_\_\_\_\_ बना देता है, जिससे वे कार्य में पारंगत हो जाते हैं। अभ्यास को 5. \_\_\_\_\_ की सीमा में नहीं बाँधा जा सकता है।

**SubQuestion No : 20**

Q.20 रिक्त स्थान 5 की पूर्ति के लिए सबसे उपयुक्त विकल्प का चयन कीजिए।

- Ans
- 1. शिक्षा
  - 2. मात्रा
  - 3. मज़बूती
  - 4. समय

Question ID : 264330111075

Status : Answered

Chosen Option : 4

# Constable GD in CAPFs SSF Rifleman GD in Assam Rifles and Sepoy in NCB Examination 2022

Roll Number	
Candidate Name	
Venue Name	
Exam Date	01/02/2023
Exam Time	11:45 AM - 12:45 PM
Subject	Constable GD Examination 2022

## Section : Part-A-General Intelligence and Reasoning

Q.1 निम्नलिखित में से कौन-सी संख्या दी गई श्रृंखला में प्रश्न-चिह्न (?) के स्थान पर आएगी?  
1, 5, 17, 53, ?

- Ans
- 1. 157
  - 2. 161
  - 3. 145
  - 4. 178

Q.2 उस समुच्चय का चयन करें, जिसकी संख्याओं के बीच ठीक वही संबंध है, जो संबंध निम्नांकित समुच्चयों की संख्याओं में हैं।

(नोट: संख्याओं को उसके घटक अंकों में विभाजित किए बिना, पूर्ण संख्याओं पर ही गणितीय संक्रियाएँ की जानी चाहिए। जैसे 13 - मान लीजिए 13 पर गणितीय संक्रियाएँ जैसे कि 13 में जोड़ना/घटाना/गुणा करना आदि किया जा सकता है। 13 को 1 और 3 में तोड़कर और फिर 1 और 3 पर गणितीय संक्रियाएँ करने की अनुमति नहीं है।)

(40, 175, 15)  
(30, 133, 11)

- Ans
- 1. (25, 91, 12)
  - 2. (29, 110, 13)
  - 3. (25, 108, 10)
  - 4. (17, 45, 10)

Question ID : 26433076547

Status : Not Answered

Chosen Option : --

Q.3 एक निश्चित कूट भाषा में, 'PEOPLE' को 'QEOQME' लिखा जाता है और 'MONKEY' को 'NOOLEZ' लिखा जाता है। उसी भाषा में 'SILVER' कैसे लिखा जाएगा?

- Ans
- 1. TJWMSE
  - 2. TIMWES
  - 3. TWJMSE
  - 4. TJWMES

Q.4 किस विकल्प में निम्नलिखित शब्दों का वह क्रम दिया गया है, जिस क्रम में वे अंग्रेजी शब्दकोश में आते हैं?

- 1 universe
- 2 unicorn
- 3 understood
- 4 unhappy
- 5 uniform

- Ans
- 1. 3,2,1,4,5
  - 2. 3,2,1,5,4
  - 3. 3,4,2,5,1
  - 4. 3,4,5,1,2

Question ID : 26433069323

Status : Answered

Chosen Option : 3

Q.5 निम्नलिखित में से कौन-सा पद दी गई श्रृंखला में प्रश्न-चिह्न (?) के स्थान पर आएगा?  
BSWG, CTXE, DUYC, ?, FWAY

- Ans
- 1. ZVEA
  - 2. EVZA
  - 3. AAZV
  - 4. VEAZ

Question ID : 26433068981

Status : Answered

Chosen Option : 2

Q.6 एक कूट भाषा में, 'our son's car' को 'fu da be' के रूप में कूटबद्ध किया जाता है, 'son's birthday today' को 'la fu ja' के रूप में कूटबद्ध किया जाता है और 'today our match' को 'he da la' के रूप में कूटबद्ध किया जाता है। शब्द 'car match' के लिए कूट क्या होगा?

- Ans
- 1. he be
  - 2. la he
  - 3. da he
  - 4. fu be

Question ID : 26433086986

Status : Answered

Chosen Option : 1

Q.7 निम्न श्रृंखला में प्रश्न-चिह्न (?) के स्थान पर कौन सी संख्या आएगी?  
63, 60, 66, 57, ?

- Ans
- 1. 69
  - 2. 70
  - 3. 55
  - 4. 65

Question ID : 26433068473

Status : Answered

Chosen Option : 1



Q.8 आठ व्यक्ति दो समानांतर पंक्तियों में, प्रत्येक में 4 व्यक्ति के अनुसार, इस प्रकार बैठे हैं कि आसन्न व्यक्तियों के बीच की दूरी समान है।  
पंक्ति I में - A, B, C और D बैठे हैं, और उन सभी का मुख दक्षिण की ओर है।  
पंक्ति II में - V, X, Y और Z बैठे हैं, और उन सभी का मुख उत्तर की ओर है।  
B, A के बगल में बैठा एकमात्र व्यक्ति है, और A, Y के ठीक सामने बैठा है। V अपनी पंक्ति के अंतिम बाएं सिरे पर बैठा है, और C के ठीक सामने है। D, C के बाईं ओर ठीक बगल में, और X के ठीक सामने बैठा है।  
Y के बाईं ओर ठीक बगल में कौन बैठा है?

- Ans  1. X  
 2. Z  
 3. A  
 4. V

Question ID : 26433068746  
Status : Not Answered  
Chosen Option : --

Q.9 निम्नलिखित में से कौन-सा पद दी गई श्रृंखला में प्रश्न-चिह्न (?) के स्थान पर आएगा?  
ZLJI, XJHG, VHFE, ?, RDBA

- Ans  1. RFDC  
 2. TFDC  
 3. TFDE  
 4. TFEC

Question ID : 26433068633  
Status : Answered  
Chosen Option : 2

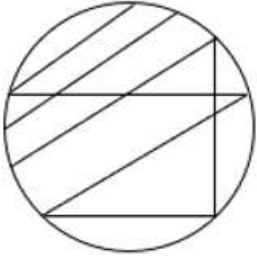
Q.10 छः व्यक्ति A, B, C, D, E और F एक वृत्ताकार मेज के परितः मेज के केंद्र की ओर मुख करके बैठे हैं। E, B के दाईं ओर दूसरे स्थान पर बैठा है। F, B और A के ठीक बगल में बैठा है। D, F के बाईं ओर दूसरे स्थान पर बैठा है। C के दाईं ओर ठीक बगल में कौन बैठा है?

- Ans  1. A  
 2. E  
 3. B  
 4. D

Question ID : 26433081515  
Status : Answered  
Chosen Option : 4


Q.11 वह विकल्प चित्र चुनिए, जो प्रस्तुत चित्र में अंतर्निहित है। (घुमाना अनुमन्य नहीं है)

है)

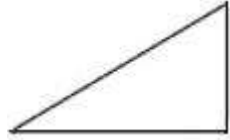


Ans

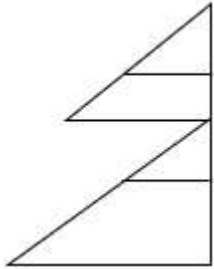
✗ 1.



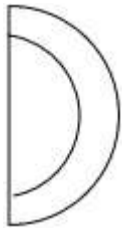
✓ 2.



✗ 3.



✗ 4.



Question ID : 26433069351

Status : Answered

Chosen Option : 2

Q.12 तीन कथनों के बाद तीन निष्कर्ष I, II और III दिए गए हैं। कथनों को सत्य मानते हुए, भले ही वे सामान्य रूप से ज्ञात तथ्यों से भिन्न प्रतीत होते हों, निर्णय लीजिए कि कौन-सा/से निष्कर्ष कथनों का तार्किक रूप से अनुसरण करता/करते है/हैं।

कथन:

कुछ टेप ग्लू हैं।

कुछ ग्लू पेंट हैं।

सभी पेंट कंप्यूटर हैं।

निष्कर्ष:

I. कुछ टेप पेंट हैं।

II. सभी ग्लू पेंट हैं।

III. कुछ ग्लू कंप्यूटर हैं।

- Ans
- 1. केवल निष्कर्ष I अनुसरण करता है।
  - 2. कोई भी निष्कर्ष अनुसरण नहीं करता है।
  - 3. केवल निष्कर्ष II अनुसरण करता है।
  - 4. केवल निष्कर्ष III अनुसरण करता है।

Question ID : 26433081793

Status : Answered

Chosen Option : 4

Q.13 उस विकल्प का चयन करें जो पांचवें अक्षर-समूह से उसी प्रकार संबंधित है जिस प्रकार दूसरा अक्षर-समूह पहले अक्षर-समूह से संबंधित है और चौथा अक्षर-समूह तीसरे अक्षर-समूह से संबंधित है।  
KBT : PEU :: UQA : ZTB :: FJR : ?

- Ans
- 1. KMQ
  - 2. KMS
  - 3. JMU
  - 4. LNT

Question ID : 26433057746

Status : Answered

Chosen Option : 2

Q.14 उस विकल्प का चयन कीजिए जो तीसरे शब्द से उसी प्रकार संबंधित है जिस प्रकार दूसरा शब्द पहले शब्द से संबंधित है (शब्दों को अर्थपूर्ण शब्दों के रूप में माना जाना चाहिए और शब्द में अक्षरों/व्यंजनों/स्वरों की संख्या के आधार पर एक दूसरे से संबंधित नहीं किया जाना चाहिए)  
शंकु : आकृति :: कार : \_\_\_\_\_

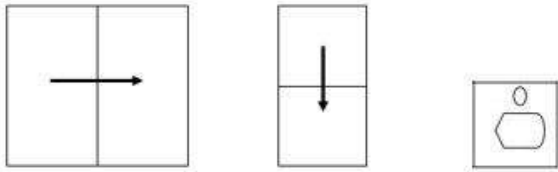
- Ans
- 1. वाहन
  - 2. सड़क
  - 3. स्टेयरिंग
  - 4. टायर

Question ID : 26433078825

Status : Answered

Chosen Option : 1

Q.15 A paper is folded and cut as shown below. How will it appear when unfolded?



Ans

- ✗ 1.
- ✗ 2.
- ✓ 3.
- ✗ 4.

Question ID : 26433089785

Status : Answered

Chosen Option : 1

Q.16 A @ B का अर्थ है 'A, B का पति है'।  
 A & B का अर्थ है 'A, B की माता है'।  
 A # B का अर्थ है 'A, B की पुत्री है'।  
 A % B का अर्थ है 'A, B का सहोदर है'।  
 यदि R # P @ W % F & K है, तो R, K से किस प्रकार संबंधित है?

- Ans ✗ 1. साला
- ✓ 2. मौसेरी बहन
- ✗ 3. भाई
- ✗ 4. भतीजा

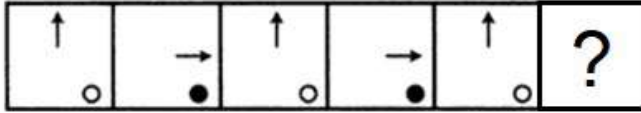
Question ID : 26433069616

Status : Not Answered

Chosen Option : --

Q.17 दिए गए विकल्पों में से उस आकृति का चयन करें जो निम्नलिखित श्रृंखला में

प्रश्नवाचक चिह्न (?) का स्थान ले सकती है।



Ans

- ✗ 1.
- ✗ 2.
- ✗ 3.
- ✓ 4.

Question ID : 26433080501

Status : Answered

Chosen Option : 4

Q.18 दिए गए समीकरण में \* चिह्नों को क्रमिक रूप से बदलने और समीकरण को संतुलित (सही) करने के लिए निम्नलिखित विकल्पों में से गणितीय चिह्नों के सही संयोजन का चयन करें।

$$45 * 15 * 13 * 52 * 26 * 37$$

- ✗ 1. +, ×, =, ÷, ×
- ✓ 2. ÷, ×, =, ÷, +
- ✗ 3. =, -, +, ÷, +
- ✗ 4. =, ×, +, -, -

Question ID : 26433087191

Status : Answered

Chosen Option : 2

Q.19 नीचे दिए गए समीकरण को गणितीय रूप से सही बनाने के लिए किन दो चिह्नों को परस्पर बदलना चाहिए?

$$112 - 14 \div 40 + 4 \times 18 = 40$$

- ✗ 1. + और ×
- ✗ 2. + और ÷
- ✗ 3. - और +
- ✓ 4. ÷ और -

Question ID : 264330117507

Status : Answered

Chosen Option : 4

Q.20 दर्पण को चित्र में दिखाए अनुसार MN पर रखे जाने पर दी गई आकृति के सही

दर्पण प्रतिबिंब का चयन करें।



- Ans
- 1. l k h n t r m w
  - 2. l k h n t r w m
  - 3. l k h n t r w m
  - 4. l k h n t r w m

Question ID : 26433082332

Status : Answered

Chosen Option : 4

Section : Part-B-General Knowledge and General awareness

Q.1 जनगणना 2011 के अनुसार भारत के किस राज्य में महिला साक्षरता दर सबसे कम है?

- Ans
- 1. राजस्थान
  - 2. हिमाचल प्रदेश
  - 3. बिहार
  - 4. उत्तर प्रदेश

Question ID : 264330116054

Status : Answered

Chosen Option : 4

Q.2 निम्नलिखित में से किसे भारत का 'फ्लाइंग सिख' कहा जाता है?

- Ans
- 1. मोहिन्दर सिंह
  - 2. अजीत पाल सिंह
  - 3. जोगिन्दर सिंह
  - 4. मिल्खा सिंह

Question ID : 264330116259

Status : Not Answered

Chosen Option : --

Q.3 1950-51 में, सकल घरेलू उत्पाद में औद्योगिक क्षेत्र का योगदान लगभग कितने प्रतिशत था?

Ans  1. 11.8

2. 15.2

3. 6.2

4. 22.4

Question ID : 264330116140

Status : Not Answered

Chosen Option : --

Q.4 निम्नलिखित में से कौन हर्षवर्धन के दरबारी कवि और 'हर्षचरित' के लेखक थे?

Ans  1. बाणभट्ट

2. कालिदास

3. राजशेखर

4. आर्यभट्ट

Question ID : 26433089126

Status : Answered

Chosen Option : 2

Q.5 भारत के संविधान के अनुच्छेद 100(3) के तहत, संसद के किसी भी सदन की बैठक का गठन करने के लिए आवश्यक गणपूर्ति, सदन के सदस्यों की कुल संख्या का \_\_\_\_\_ भाग है।

Ans  1. एक बटे पांचवां

2. एक बटे दसवां

3. आधा

4. एक तिहाई

Question ID : 26433089913

Status : Not Answered

Chosen Option : --

Q.6 प्रत्येक बारह वर्ष बाद मनाया जाने वाला 'महामस्तकाभिषेक' एक \_\_\_\_\_ त्योहार है।

Ans  1. बौद्ध

2. सिख

3. हिंदू

4. जैन

Question ID : 26433094889

Status : Not Answered

Chosen Option : --

Q.7 कौशल भारत मिशन को \_\_\_\_\_ के प्रमुख कार्यक्रम के तहत लॉन्च किया गया था।

- Ans
- 1. वाणिज्य एवं उद्योग मंत्रालय
  - 2. श्रम एवं रोजगार मंत्रालय
  - 3. कौशल विकास और उद्यमशीलता मंत्रालय
  - 4. सूचना एवं प्रसारण मंत्रालय

Question ID : 264330116191

Status : Not Answered

Chosen Option : --

Q.8 रुक्मिणी देवी अरुंडेल ने किस नृत्य शैली में विभिन्न पुरस्कार जीते हैं?

- Ans
- 1. भरतनाट्यम
  - 2. कथकली
  - 3. कथक
  - 4. लावणी

Question ID : 264330115845

Status : Answered

Chosen Option : 1

Q.9 भारतीय संविधान के किस अनुच्छेद में कहा गया है कि भारत अर्थात् इंडिया 'राज्यों का संघ' होगा?

- Ans
- 1. अनुच्छेद 2
  - 2. अनुच्छेद 1
  - 3. अनुच्छेद 11
  - 4. अनुच्छेद 10

Question ID : 26433089908

Status : Answered

Chosen Option : 2

Q.10 1866 में, लंदन में ईस्ट इंडिया एसोसिएशन की स्थापना निम्नलिखित में से किसने की थी?

- Ans
- 1. राजा राम मोहन राय
  - 2. सत्येंद्र नाथ टैगोर
  - 3. सैय्यद अहमद खान
  - 4. दादाभाई नौरोजी

Question ID : 26433090584

Status : Answered

Chosen Option : 3



Q.11 भारत के किस केंद्रीय मंत्री ने नवंबर 2022 में भारत अंतर्राष्ट्रीय व्यापार मेले में खादी इंडिया पवेलियन का उद्घाटन किया?

- Ans
- 1. नारायण राणे
  - 2. निर्मला सीतारमण
  - 3. सुब्रह्मण्यम जयशंकर
  - 4. किरण रिजिजू

Question ID : 264330114954  
Status : Answered  
Chosen Option : 2

Q.12 भारत में हरित क्रांति का नेतृत्व निम्न में से किसने किया था?

- Ans
- 1. महात्मा गांधी
  - 2. जवाहर लाल नेहरू
  - 3. नॉर्मन बोरलॉग
  - 4. एमएस स्वामीनाथन

Question ID : 264330115416  
Status : Not Answered  
Chosen Option : --

Q.13 मुक्राबले को समाप्त घोषित करने के लिए एक फ्रीस्टाइल पहलवान के पास अपने प्रतिद्वन्दी के विरुद्ध कितने अंक होने चाहिए?

- Ans
- 1. 10
  - 2. 8
  - 3. 14
  - 4. 12

Question ID : 264330115934  
Status : Not Answered  
Chosen Option : --

Q.14 उत्तर-पूर्वी पवनें कहां से उत्पन्न होती हैं?

- Ans
- 1. उत्तरी गोलार्द्ध के उष्ण कटिबंधीय निम्न दाब कटिबंध
  - 2. दक्षिणी गोलार्ध के उष्ण कटिबंधीय उच्च दाब कटिबंध
  - 3. उत्तरी गोलार्ध के उपोष्णकटिबंधीय उच्च दाब कटिबंध
  - 4. दक्षिणी गोलार्ध के उपोष्णकटिबंधीय उच्च दाब कटिबंध

Question ID : 26433087883  
Status : Answered  
Chosen Option : 3

Q.15 नाइट्रोजन का परमाणु द्रव्यमान कितना है?

- Ans  1. 18  
 2. 14  
 3. 12  
 4. 16

Question ID : 264330115173  
Status : Answered  
Chosen Option : 2

Q.16 असम का सत्रीया नृत्य \_\_\_\_\_ से प्रेरित है।

- Ans  1. शक्ति आंदोलन  
 2. तंत्रवाद  
 3. भक्ति आंदोलन  
 4. सूफी आंदोलन

Question ID : 26433086564  
Status : Answered  
Chosen Option : 2

Q.17 माइक्रोफाइनेंस ऋण को किसी संपार्श्विक की आवश्यकता \_\_\_\_\_ है।

- Ans  1. अधिकांशतः होती  
 2. होती  
 3. हमेशा होती  
 4. नहीं होती

Question ID : 264330115294  
Status : Answered  
Chosen Option : 3

Q.18 इंडिया इंटरनेशनल कॉन्क्लेव 2022 में, ग्लोबल पीस एंबेसडर के रूप में किसे सम्मानित किया गया?

- Ans  1. आदेश गिंदोडिया  
 2. अंचल कुमार श्रीवास्तव  
 3. अंकिता शर्मा  
 4. बबीता सिंह

Question ID : 264330114997  
Status : Not Answered  
Chosen Option : --

Q.19 निम्नलिखित में से कौन सा जीवाणु संक्रमण का एक लक्षण है?

- Ans
- 1. हृदय रोध
  - 2. फ्रैक्चर
  - 3. बुखार
  - 4. दिल का दौरा

Question ID : 264330115228

Status : Not Answered

Chosen Option : --

Q.20 विषम का चयन करें। (संकेत: कृषि प्रक्रियाएं)

- Ans
- 1. छिड़काव
  - 2. खाना
  - 3. बुवाई
  - 4. जोतना

Question ID : 264330115541

Status : Answered

Chosen Option : 2

Section : Part-C-Elementary Mathematics

Q.1 किसी वस्तु के अंकित मूल्य पर 10% और 12% की क्रमिक छूट के बाद, उसे Rs.9,504 में बेचा जाता है, तो उसका अंकित मूल्य \_\_\_\_\_ है।

- Ans
- 1. Rs.13,000
  - 2. Rs.12,000
  - 3. Rs.15,000
  - 4. Rs.14,000

Question ID : 26433061306

Status : Not Answered

Chosen Option : --

Q.2 दो संख्याओं का महत्तम समापवर्तक (HCF) 6 है और उनका लघुत्तम समापवर्त्य (LCM) 253080 है। यदि एक संख्या 4218 है, तो दूसरी संख्या क्या होगी?

- Ans
- 1. 488
  - 2. 120
  - 3. 245
  - 4. 360

Question ID : 26433080271

Status : Not Answered

Chosen Option : --

Q.3 निम्नलिखित में से कौन सी भिन्न सबसे बड़ी है?

$$\frac{3}{5}, \frac{7}{10}, \frac{11}{15}, \frac{13}{20}$$

Ans

1.  $\frac{7}{10}$

2.  $\frac{3}{5}$

3.  $\frac{11}{15}$

4.  $\frac{13}{20}$

Question ID : 26433080320

Status : Answered

Chosen Option : 2

Q.4 मोहन और सोहन एक ही स्थान से क्रमशः 8 km/h और 9 km/h की चाल से चलते हैं। यदि मोहन और सोहन एक ही दिशा में जा रहे हैं, तो 4.5 h के बाद मोहन और सोहन के बीच की दूरी क्या होगी?

Ans  1. 4.5 km

2. 5.0 km

3. 4.0 km

4. 5.5 km

Question ID : 26433075688

Status : Not Answered

Chosen Option : --

Q.5 एक क्रिकेट टीम के ग्यारह खिलाड़ियों का स्कोर 12, 9, 52, 34, 30, 22, 0, 56, 16, 27 और 72 है। टीम का औसत स्कोर ज्ञात कीजिए।

Ans  1. 34

2. 30

3. 27

4. 35

Question ID : 26433075965

Status : Answered

Chosen Option : 2

Q.6 कपिल, मोहन और राजू एक कार्य को अलग-अलग 18, 36 और 54 दिनों में कर सकते हैं। उन्होंने एक साथ काम शुरू किया लेकिन मोहन ने काम पूरा होने से 8 दिन पहले काम छोड़ दिया और राजू ने काम पूरा होने से 6 दिन पहले काम छोड़ दिया। वह समय (लगभग) ज्ञात करें जिसमें कार्य पूरा हुआ है।

- Ans
- 1. 13 दिन
  - 2. 15 दिन
  - 3. 19 दिन
  - 4. 12 दिन

Question ID : 264330116875

Status : Answered

Chosen Option : 2

Q.7 एक विक्रेता 20 सेब Rs.300 में खरीदता है और 15 सेब Rs.300 में बेचता है। Rs.300 का लाभ अर्जित करने के लिए कितने सेब खरीदे और बेचे जाने चाहिए?

- Ans
- 1. 50
  - 2. 55
  - 3. 60
  - 4. 65

Question ID : 26433080359

Status : Answered

Chosen Option : 4

Q.8 9% वार्षिक की दर से वार्षिक आधार पर चक्रवृद्धि होने वाले Rs.30,000 का चक्रवृद्धि ब्याज Rs.5,643 बनता है। तो समय अवधि (वर्षों में) ज्ञात कीजिए।

- Ans
- 1. तीन
  - 2. चार
  - 3. पाँच
  - 4. दो

Question ID : 26433075239

Status : Not Answered

Chosen Option : --

Q.9 अमोल ने अपने उत्पादों का मूल्य 20 प्रतिशत से बढ़ा दिया। न लाभ न हानि के आधार पर उत्पादों को बेचने के लिए उन्हें कितनी छूट देनी चाहिए?

- Ans
- 1. 22/5 प्रतिशत
  - 2. 50/3 प्रतिशत
  - 3. 27/5 प्रतिशत
  - 4. 35/3 प्रतिशत

Question ID : 264330116760

Status : Not Answered

Chosen Option : --

Q.10 एक बेलन का आयतन ज्ञात कीजिए जिसकी ऊँचाई 56 cm और आधार त्रिज्या 28 cm है। ( $\pi = \frac{22}{7}$  का प्रयोग करें)

- Ans
- 1. 123962 cm<sup>3</sup>
  - 2. 154853 cm<sup>3</sup>
  - 3. 137984 cm<sup>3</sup>
  - 4. 216135 cm<sup>3</sup>

Question ID : 26433080072  
Status : Answered  
Chosen Option : 3

Q.11 समरीन और गरिमा एक साथ मिलकर एक काम को 8 दिनों में पूरा करते हैं। यदि समरीन अकेले काम करते हुए उसी काम को 10 दिनों में पूरा कर सकती है, तो गरिमा अकेले उसी काम को कितने दिनों में पूरा करेगी?

- Ans
- 1. 20
  - 2. 45
  - 3. 35
  - 4. 40

Question ID : 26433075566  
Status : Answered  
Chosen Option : 4

Q.12 40% वार्षिक दर से उधार दी गई एक निश्चित राशि पर, 1 वर्ष के लिए, अर्धवार्षिक रूप से देय, चक्रवृद्धि ब्याज, और 1 वर्ष के लिए साधारण ब्याज के बीच का अंतर ₹200 है। राशि \_\_\_\_\_ है।

- Ans
- 1. ₹4,000
  - 2. ₹4,500
  - 3. ₹5,500
  - 4. ₹5,000

Question ID : 26433090291  
Status : Answered  
Chosen Option : 4

Q.13 एक स्कूटर की कीमत में 20 प्रतिशत की कमी की गई और अब इसकी कीमत 72000 रुपए है। इसका मूल मूल्य क्या था?

- Ans
- 1. 94000 रुपए
  - 2. 100000 रुपए
  - 3. 90000 रुपए
  - 4. 88000 रुपए

Question ID : 264330116795  
Status : Answered  
Chosen Option : 3

Q.14 432, 648 और 576 का महत्तम समापवर्तक और लघुत्तम समापवर्त्य क्रमशः \_\_\_\_\_ और \_\_\_\_\_ हैं।

- Ans  1. 72, 2592  
 2. 72, 5184  
 3. 36, 5184  
 4. 36, 2592

Question ID : 26433085417  
Status : Not Answered  
Chosen Option : --

Q.15 वह अनुपात ज्ञात कीजिए, जिसमें Rs.120 प्रति kg वाले चावल को Rs.155 प्रति kg वाले चावल के साथ मिलाकर Rs.135 प्रति kg की दर वाला चावल-मिश्रण प्राप्त किया गया हो।

- Ans  1. 3 : 4  
 2. 1 : 3  
 3. 2 : 3  
 4. 4 : 3

Question ID : 26433074915  
Status : Not Answered  
Chosen Option : --

Q.16 रमेश और नरेश एक ही बिंदु से 1920 मीटर लंबे एक वृत्ताकार पथ पर एक साथ समान दिशा में 40 m/sec और 64 m/sec की चाल से दौड़ना आरंभ करते हैं। आरंभ से कितने समय बाद वे पहली बार पथ पर कहीं मिलेंगे?

- Ans  1. 90 sec  
 2. 70 sec  
 3. 80 sec  
 4. 60 sec

Question ID : 26433075530  
Status : Not Answered  
Chosen Option : --

Q.17 एक वॉशिंग मशीन का मूल्य Rs.25,000 है। मूल्य में पहले 20% की वृद्धि की गई और बाद में इसे 20% कम किया गया। वॉशिंग मशीन का वर्तमान मूल्य \_\_\_\_\_ है।

- Ans  1. Rs.25,000  
 2. Rs.24,000  
 3. Rs.25,500  
 4. Rs.24,500

Question ID : 26433082362  
Status : Answered  
Chosen Option : 2

Q.18 7, 4 और 7 का चतुर्थानुपाती ज्ञात कीजिए।

Ans  1. 4

2. 7

3. 6

4. 9

Question ID : 26433080033

Status : Answered

Chosen Option : 1

Q.19 एक कंप्यूटर को Rs.26,000 में बेचने पर एक व्यक्ति को 4% का लाभ होता है। यदि वह कंप्यूटर को Rs.19,000 में बेचता है, तो उसे कितनी हानि होगी?

Ans  1. 16%

2. 20%

3. 14%

4. 24%

Question ID : 26433074986

Status : Not Answered

Chosen Option : --

Q.20 उस घन का संपूर्ण पृष्ठीय क्षेत्रफल \_\_\_\_\_ है, जिसकी भुजा 0.75 cm है।

Ans  1.  $3.375 \text{ cm}^2$

2.  $3.735 \text{ cm}^2$

3.  $3.357 \text{ cm}^2$

4.  $3.537 \text{ cm}^2$

Question ID : 26433073050

Status : Answered

Chosen Option : 1

Section : Part-D-English

Q.1 Select the correct option to substitute the underlined segment in the given sentence. If no substitution is required, select 'No substitution'.

She is married with a doctor.

Ans  1. No substitution

2. to a doctor

3. a doctor

4. for a doctor

Question ID : 26433090817

Status : Not Answered

Chosen Option : --



Q.2 Select the most appropriate meaning of the given idiom.

Face the music

- Ans  1. Music for peace and health
2. To face the unpleasant consequences of one's actions
3. Listening to melodies from music albums
4. Dance according to the tune

Question ID : 26433072576

Status : Not Answered

Chosen Option : --

Q.3 Select the option that expresses the given sentence in simple past tense.

- A. Arun knew the concepts of geometry.
- B. Arun had been knowing the concepts of geometry.
- C. Arun had known the concepts of geometry.
- D. Arun was knowing the concepts of geometry.

- Ans  1. C
2. A
3. D
4. B

Q.4 Select the most appropriate synonym of the given word.

Queer

- Ans  1. Strange
2. Expedite
3. Ordinary
4. Valid

Q.5 Select the most appropriate synonym of the given word.

Competent

- Ans  1. Unfit
2. Capable
3. Overqualified
4. Unskilled

Question ID : 26433086484

Status : Not Answered

Chosen Option : --

Q.6 Select the INCORRECTLY spelt word.

- Ans
- 1. Naturally
  - 2. Laundry
  - 3. Maintainance
  - 4. Jeweller

Question ID : 26433073739  
Status : Not Answered  
Chosen Option : --

Q.7 Select the most appropriate meaning of the given idiom.

Royal road

- Ans
- 1. Achieving something by birth
  - 2. Achieving something by truth
  - 3. Achieving something by false means
  - 4. Achieving something trouble free

Question ID : 26433084754  
Status : Not Answered  
Chosen Option : --

Q.8 Select the INCORRECTLY spelt word.

- Ans
- 1. Sentence
  - 2. Artificial
  - 3. Tendancy
  - 4. Matrimony

Question ID : 26433073503  
Status : Not Answered  
Chosen Option : --

Q.9 Select the most appropriate ANTONYM of the underlined word.

As a boy, Charles was a boor who bullied other kids in his neighbourhood.

- Ans
- 1. creep
  - 2. scum
  - 3. blighter
  - 4. gentleman

Question ID : 26433088840  
Status : Not Answered  
Chosen Option : --

Q.10 Select the most appropriate option to fill in the blanks and make the sentence meaningful.

She hurt her \_\_\_\_\_ and \_\_\_\_\_.

- Ans
- 1. heal; toe
  - 2. heal; tow
  - 3. heel; tow
  - 4. heel; toe

Question ID : 26433092102

Status : Not Answered

Chosen Option : --

Q.11 Select the most appropriate ANTONYM of the word given in the bracket to fill in the blank.

My stomach is so \_\_\_\_\_ (empty) I couldn't possibly eat more.

- Ans
- 1. overfed
  - 2. drained
  - 3. flush
  - 4. teeming

Question ID : 26433084613

Status : Not Answered

Chosen Option : --

Q.12 Select the most appropriate option that can substitute the underlined segment in the given sentence. If there is no need to substitute it, select 'No substitution'.  
Some passengers misplaced their luggages before boarding the train.

- Ans
- 1. No substitution
  - 2. misplaced his luggages
  - 3. misplaces their luggages
  - 4. misplaced their luggage

Question ID : 26433093078

Status : Not Answered

Chosen Option : --

Q.13 Fill in the blanks with the correct homophone.

\_\_\_\_\_ of anything is destructive in nature.

- Ans
- 1. Axes
  - 2. Excess
  - 3. Axis
  - 4. Access

Question ID : 26433092935

Status : Not Answered

Chosen Option : --

Q.14 Select the most appropriate option that can substitute the underlined segment in the given sentence.

Land with unoccupied possession is pretending to be more valuable.

- Ans
- 1. are likely to be
  - 2. was similarly to be
  - 3. is likely to be
  - 4. have likely to be

Question ID : 26433088506  
Status : Not Answered  
Chosen Option : --

Q.15 Select the most appropriate ANTONYM of the given word.

Perplex

- Ans
- 1. Complex
  - 2. Simplify
  - 3. Comprehensive
  - 4. Classify

Question ID : 26433072272  
Status : Not Answered  
Chosen Option : --

**Comprehension:**

In the following passage, some words have been deleted. Read the passage carefully and select the most appropriate option to fill in each blank.

The oldest hub of carpet weaving in India is Mirzapur in Bhadohi district of Uttar Pradesh. The Ganga (1)\_\_\_\_\_ past this town with its ghats, ancient temples and waterfalls. The genesis of carpet making in Mirzapur can be (2)\_\_\_\_\_ to the Mughal emperor, Akbar, in the 16th century. A (3)\_\_\_\_\_ of Persian carpet weavers, it is said, on its way to the Mughal court was (4)\_\_\_\_\_ and injured by dacoits on the Grand Trunk Road. The weavers were rescued and given shelter by local villagers. The master weaver of the group decided to settle down here and share his skills with his (5)\_\_\_\_\_. That is how the renowned carpet industry of Mirzapur took root.

**SubQuestion No : 16**

Q.16 Select the most appropriate option to fill in blank 1.

- Ans
- 1. sets
  - 2. spreads
  - 3. flows
  - 4. grows

Question ID : 26433090525  
Status : Not Answered  
Chosen Option : --

### Comprehension:

In the following passage, some words have been deleted. Read the passage carefully and select the most appropriate option to fill in each blank.

The oldest hub of carpet weaving in India is Mirzapur in Bhadohi district of Uttar Pradesh. The Ganga (1)\_\_\_\_\_ past this town with its ghats, ancient temples and waterfalls. The genesis of carpet making in Mirzapur can be (2)\_\_\_\_\_ to the Mughal emperor, Akbar, in the 16th century. A (3)\_\_\_\_\_ of Persian carpet weavers, it is said, on its way to the Mughal court was (4)\_\_\_\_\_ and injured by dacoits on the Grand Trunk Road. The weavers were rescued and given shelter by local villagers. The master weaver of the group decided to settle down here and share his skills with his (5)\_\_\_\_\_. That is how the renowned carpet industry of Mirzapur took root.

#### SubQuestion No : 17

Q.17 Select the most appropriate option to fill in blank 2.

- Ans  1. traced  
 2. found  
 3. extracted  
 4. reduced

Question ID : 26433090526

Status : Not Answered

Chosen Option : --

### Comprehension:

In the following passage, some words have been deleted. Read the passage carefully and select the most appropriate option to fill in each blank.

The oldest hub of carpet weaving in India is Mirzapur in Bhadohi district of Uttar Pradesh. The Ganga (1)\_\_\_\_\_ past this town with its ghats, ancient temples and waterfalls. The genesis of carpet making in Mirzapur can be (2)\_\_\_\_\_ to the Mughal emperor, Akbar, in the 16th century. A (3)\_\_\_\_\_ of Persian carpet weavers, it is said, on its way to the Mughal court was (4)\_\_\_\_\_ and injured by dacoits on the Grand Trunk Road. The weavers were rescued and given shelter by local villagers. The master weaver of the group decided to settle down here and share his skills with his (5)\_\_\_\_\_. That is how the renowned carpet industry of Mirzapur took root.

#### SubQuestion No : 18

Q.18 Select the most appropriate option to fill in blank 3.

- Ans  1. caravan  
 2. crowd  
 3. army  
 4. band

Question ID : 26433090527

Status : Not Answered

Chosen Option : --

### Comprehension:

In the following passage, some words have been deleted. Read the passage carefully and select the most appropriate option to fill in each blank.

The oldest hub of carpet weaving in India is Mirzapur in Bhadohi district of Uttar Pradesh. The Ganga (1)\_\_\_\_\_ past this town with its ghats, ancient temples and waterfalls. The genesis of carpet making in Mirzapur can be (2)\_\_\_\_\_ to the Mughal emperor, Akbar, in the 16th century. A (3)\_\_\_\_\_ of Persian carpet weavers, it is said, on its way to the Mughal court was (4)\_\_\_\_\_ and injured by dacoits on the Grand Trunk Road. The weavers were rescued and given shelter by local villagers. The master weaver of the group decided to settle down here and share his skills with his (5)\_\_\_\_\_. That is how the renowned carpet industry of Mirzapur took root.

#### SubQuestion No : 19

Q.19 Select the most appropriate option to fill in blank 4.

- Ans
- 1. hindered
  - 2. waylaid
  - 3. encroached
  - 4. lost

Question ID : 26433090528

Status : Not Answered

Chosen Option : --

### Comprehension:

In the following passage, some words have been deleted. Read the passage carefully and select the most appropriate option to fill in each blank.

The oldest hub of carpet weaving in India is Mirzapur in Bhadohi district of Uttar Pradesh. The Ganga (1)\_\_\_\_\_ past this town with its ghats, ancient temples and waterfalls. The genesis of carpet making in Mirzapur can be (2)\_\_\_\_\_ to the Mughal emperor, Akbar, in the 16th century. A (3)\_\_\_\_\_ of Persian carpet weavers, it is said, on its way to the Mughal court was (4)\_\_\_\_\_ and injured by dacoits on the Grand Trunk Road. The weavers were rescued and given shelter by local villagers. The master weaver of the group decided to settle down here and share his skills with his (5)\_\_\_\_\_. That is how the renowned carpet industry of Mirzapur took root.

#### SubQuestion No : 20

Q.20 Select the most appropriate option to fill in blank 5.

- Ans
- 1. recipients
  - 2. beneficiaries
  - 3. sponsors
  - 4. benefactors

Question ID : 26433090529

Status : Not Answered

Chosen Option : --

Section : Part-D-Hindi

Q.1 निम्नलिखित में से अशुद्ध वाक्य कौन-सा है?

- Ans
- 1. रघु ने निकिता को मिठाई दी।
  - 2. मैं बचपन में वहाँ जाता था।
  - 3. प्रत्येक व्यक्ति कविता नहीं कर सकते।
  - 4. बैल और बकरी घास चरते हैं।

Question ID : 26433066985

Status : Answered

Chosen Option : 2

Q.2 निम्न वाक्य में रेखांकित शब्द के स्थान पर सर्वोचित शब्द का चयन कीजिए।  
इस पर 'जिसकी लाठी उसकी भैंस' वाली कथा चरितार्थ होती है।

- Ans
- 1. कहावत
  - 2. आख्यायिका
  - 3. कहानी
  - 4. गाथा

Question ID : 26433065694

Status : Answered

Chosen Option : 1

Q.3 निम्नलिखित वाक्य में रेखांकित शब्द के स्थान पर उपयुक्त पर्यायवाची शब्द कौन-सा होगा?  
राम कुशल कारीगर है।

- Ans
- 1. चंचल
  - 2. भुवन
  - 3. निपुण
  - 4. अलक

Question ID : 26433066899

Status : Answered

Chosen Option : 2

Q.4 "उसे यहाँ आने के लिए बोल दो।"  
उपरोक्त वाक्य में क्रिया सम्बन्धी त्रुटि पहचानकर निम्नलिखित में से शुद्ध वाक्य का चयन कीजिए।

- Ans
- 1. उसे यहाँ आने के लिए बता दो।
  - 2. उसे यहाँ आने के लिए भेज दो।
  - 3. उसे यहाँ आने के लिए कह दो।
  - 4. उसे यहाँ आने के लिए सूचना दो।

Question ID : 26433066973

Status : Answered

Chosen Option : 2

Q.5 क्षेत्र को लेकर भारत में संघर्ष अब आम बात हो गई है।  
उपरोक्त वाक्य में रेखांकित शब्द के स्थान पर भाववाचक संज्ञा शब्द क्या होगा?

- Ans
- 1. क्षत्रिय
  - 2. क्षेत्रीयता
  - 3. क्षेत्रित
  - 4. क्षेत्रीय

Question ID : 26433062857  
Status : Answered  
Chosen Option : 4

Q.6 निम्नलिखित मुहावरे का उपयुक्त अर्थ क्या होगा?  
कागजी घोड़े दौड़ाना

- Ans
- 1. पढ़ाई लिखाई करना
  - 2. अत्याधिक प्रयास करना
  - 3. बहुत पढ़ना लिखना
  - 4. बिना मतलब का काम करना

Question ID : 26433065777  
Status : Answered  
Chosen Option : 2

Q.7 निम्नलिखित अर्थ वाले मुहावरे का चयन विकल्पों में से कीजिए।  
किसी व्यक्ति का पुरानी परंपरा के साथ चलना

- Ans
- 1. शेघी बघारना
  - 2. लकीर का फकीर होना
  - 3. राई का पहाड़ बनाना
  - 4. मक्खी मारना

Question ID : 26433070003  
Status : Answered  
Chosen Option : 3

Q.8 'पीतांबर \_\_\_\_\_।'।  
उपर्युक्त वाक्य में रिक्त स्थान के लिए उपयुक्त विकल्प निम्न में से क्या होगा?

- Ans
- 1. का अर्थ है – पीले रंग का वस्त्र
  - 2. का अर्थ है – पीले रंग का व्यक्ति
  - 3. का अर्थ है – पीले रंग का रथ
  - 4. का अर्थ है – पीले रंग का आकाश

Question ID : 26433067043  
Status : Answered  
Chosen Option : 1



Q.9 प्रातःकाल में सूरज की किरणें मन को भाती हैं।  
उपरोक्त वाक्य में रेखांकित शब्द के उचित पर्यायवाची शब्द का चयन विकल्पों में से कीजिए।

- Ans
- 1. ईख
  - 2. प्रभात
  - 3. जया
  - 4. रश्मि

Question ID : 26433079720  
Status : Answered  
Chosen Option : 1

Q.10 'आशा से बहुत अधिक' इस वाक्यांश के लिए सार्थक शब्द है -

- Ans
- 1. वांछित
  - 2. प्रतीक्षित
  - 3. आशातीत
  - 4. इच्छित

Question ID : 26433062332  
Status : Answered  
Chosen Option : 2

Q.11 'महिला जब भाषण दे रही थी, उसकी आवाज में एक आकर्षण था।' निम्न में से कौन सा इस वाक्य में प्रयुक्त 'आकर्षण' शब्द का विलोम नहीं है?

- Ans
- 1. विकर्षण
  - 2. अनाकर्षण
  - 3. विपकर्षण
  - 4. अपकर्षण

Question ID : 26433069746  
Status : Answered  
Chosen Option : 1

Q.12 'बीज बोने के थोड़े दिन बाद आंकुर निकलने लगे।' वाक्य के किस भाग में अशुद्ध वर्तनी वाला शब्द है?

- Ans
- 1. के थोड़े दिन
  - 2. निकलने लगे।
  - 3. बाद आंकुर
  - 4. बीज बोने

Question ID : 26433069699  
Status : Answered  
Chosen Option : 3

Q.13 'जो अंडे से जन्म लेता है' वाक्यांश के लिए इनमें से उपयुक्त शब्द कौन-सा है?

- Ans
- 1. मलयज
  - 2. अंत्यज
  - 3. जलज
  - 4. अंडज

Question ID : 26433066886

Status : Answered

Chosen Option : 4

Q.14 उद्यम से ही सफलता मिलती है।

उपरोक्त वाक्य में रेखांकित शब्द के विलोम शब्द का चयन विकल्पों में से कीजिए।

- Ans
- 1. निरुद्यम
  - 2. उद्यमी
  - 3. नकारा
  - 4. प्रयत्न

Question ID : 26433079747

Status : Answered

Chosen Option : 2

Q.15 जिसको लॉघना कठिन हो।

ऊपर दिए गए वाक्यांश के लिए एक शब्द क्या होगा?

- Ans
- 1. दुर्लभ
  - 2. दुःसाध्य
  - 3. दुर्दम्य
  - 4. दुर्लघ्य

Question ID : 26433070058

Status : Answered

Chosen Option : 1

#### Comprehension:

निम्नलिखित गद्यांश में से कुछ शब्द हटा दिए गए हैं। दिए गए विकल्पों की सहायता से रिक्त स्थानों की पूर्ति कीजिए। प्रत्येक संख्या के लिए उपयुक्त विकल्प का चयन कीजिए।

एक बार बिल्ली ने उचककर दो में से 1. \_\_\_\_\_ अंडा तोड़ दिया। मेरी माँ ने 2. \_\_\_\_\_ तो उसे दुख हुआ। उसने स्टूल 3. \_\_\_\_\_ चढ़कर दूसरे अंडे को बचाने की कोशिश की। लेकिन 4. \_\_\_\_\_ कोशिश में दूसरा अंडा उसी के हाथ से गिरकर टूट 5. \_\_\_\_\_।

SubQuestion No : 16

Q.16 रिक्त स्थान 1 की पूर्ति के लिए सर्वाधिक उपयुक्त विकल्प का चयन कीजिए।

- Ans
- 1. पाँच
  - 2. तीन
  - 3. चार
  - 4. एक

Question ID : 26433079585

Status : Answered

Chosen Option : 4

**Comprehension:**

निम्नलिखित गद्यांश में से कुछ शब्द हटा दिए गए हैं। दिए गए विकल्पों की सहायता से रिक्त स्थानों की पूर्ति कीजिए। प्रत्येक संख्या के लिए उपयुक्त विकल्प का चयन कीजिए।  
एक बार बिल्ली ने उचककर दो में से 1. \_\_\_\_\_ अंडा तोड़ दिया। मेरी माँ ने 2. \_\_\_\_\_ तो उसे दुख हुआ। उसने स्टूल 3. \_\_\_\_\_ चढ़कर दूसरे अंडे को बचाने की कोशिश की। लेकिन 4. \_\_\_\_\_ कोशिश में दूसरा अंडा उसी के हाथ से गिरकर टूट 5. \_\_\_\_\_।

**SubQuestion No : 17**

Q.17 रिक्त स्थान 2 की पूर्ति के लिए सर्वाधिक उपयुक्त विकल्प का चयन कीजिए।

- Ans  1. देखा  
 2. पकड़ा  
 3. सूँघा  
 4. सोचा

Question ID : 26433079586

Status : Answered

Chosen Option : 1

**Comprehension:**

निम्नलिखित गद्यांश में से कुछ शब्द हटा दिए गए हैं। दिए गए विकल्पों की सहायता से रिक्त स्थानों की पूर्ति कीजिए। प्रत्येक संख्या के लिए उपयुक्त विकल्प का चयन कीजिए।  
एक बार बिल्ली ने उचककर दो में से 1. \_\_\_\_\_ अंडा तोड़ दिया। मेरी माँ ने 2. \_\_\_\_\_ तो उसे दुख हुआ। उसने स्टूल 3. \_\_\_\_\_ चढ़कर दूसरे अंडे को बचाने की कोशिश की। लेकिन 4. \_\_\_\_\_ कोशिश में दूसरा अंडा उसी के हाथ से गिरकर टूट 5. \_\_\_\_\_।

**SubQuestion No : 18**

Q.18 रिक्त स्थान 3 की पूर्ति के लिए सर्वाधिक उपयुक्त विकल्प का चयन कीजिए।

- Ans  1. के लिए  
 2. में  
 3. तक  
 4. पर

Question ID : 26433079587

Status : Answered

Chosen Option : 4

**Comprehension:**

निम्नलिखित गद्यांश में से कुछ शब्द हटा दिए गए हैं। दिए गए विकल्पों की सहायता से रिक्त स्थानों की पूर्ति कीजिए। प्रत्येक संख्या के लिए उपयुक्त विकल्प का चयन कीजिए।  
एक बार बिल्ली ने उचककर दो में से 1. \_\_\_\_\_ अंडा तोड़ दिया। मेरी माँ ने 2. \_\_\_\_\_ तो उसे दुख हुआ। उसने स्टूल 3. \_\_\_\_\_ चढ़कर दूसरे अंडे को बचाने की कोशिश की। लेकिन 4. \_\_\_\_\_ कोशिश में दूसरा अंडा उसी के हाथ से गिरकर टूट 5. \_\_\_\_\_।

**SubQuestion No : 19**

Q.19 रिक्त स्थान 4 की पूर्ति के लिए सर्वाधिक उपयुक्त विकल्प का चयन कीजिए।

- Ans  1. इससे  
 2. इसलिए  
 3. इसकी  
 4. इस

Question ID : 26433079588

Status : Answered

Chosen Option : 4

**Comprehension:**

निम्नलिखित गद्यांश में से कुछ शब्द हटा दिए गए हैं। दिए गए विकल्पों की सहायता से रिक्त स्थानों की पूर्ति कीजिए। प्रत्येक संख्या के लिए उपयुक्त विकल्प का चयन कीजिए।

एक बार बिल्ली ने उचककर दो में से 1. \_\_\_\_\_ अंडा तोड़ दिया। मेरी माँ ने 2. \_\_\_\_\_ तो उसे दुख हुआ। उसने स्टूल 3. \_\_\_\_\_ चढ़कर दूसरे अंडे को बचाने की कोशिश की। लेकिन 4. \_\_\_\_\_ कोशिश में दूसरा अंडा उसी के हाथ से गिरकर टूट 5. \_\_\_\_\_।

**SubQuestion No : 20**

Q.20 रिक्त स्थान 5 की पूर्ति के लिए सर्वाधिक उपयुक्त विकल्प का चयन कीजिए।

Ans  1. हुआ

2. गया

3. गए

4. गई

Question ID : 26433079589

Status : Answered

Chosen Option : 4

## Constable GD in CAPFs SSF Rifleman GD in Assam Rifles and Sepoy in NCB Examination 2022

Roll Number	
Candidate Name	
Venue Name	
Exam Date	01/02/2023
Exam Time	2:30 PM - 3:30 PM
Subject	Constable GD Examination 2022

Section : Part-A-General Intelligence and Reasoning

Q.1 दिए गए विकल्पों में से उस अक्षर-समूह का चयन कीजिए जो निम्न श्रृंखला में प्रश्न-चिह्न (?) के स्थान पर आ सकता है।  
GSLC, AMOF, UGRI, ? , IU XO

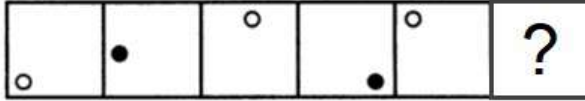
- Ans
- 1. DSTN
  - 2. OULC
  - 3. OAUL
  - 4. DPGE

Q.2 दिए गए समीकरण को संतुलित करने के लिए विकल्पों में दी गई किन दो संख्याओं(अंको को नहीं) को परस्पर बदलना होगा?  
 $56 \div 16 \times 8 + 45 \times 13 = 697$

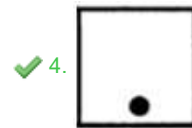
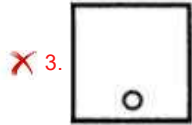
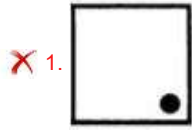
- Ans
- 1. 8 और 13
  - 2. 8 और 45
  - 3. 16 और 45
  - 4. 16 और 8

Q.3 दिए गए विकल्पों में से उस आकृति का चयन करें जो निम्नलिखित श्रृंखला में

प्रश्नवाचक चिह्न (?) का स्थान ले सकती है।



Ans



Question ID : 26433080503

Status : Answered

Chosen Option : 4

Q.4 निम्नलिखित में से कौन-सी संख्या दी गई श्रृंखला में प्रश्न-चिह्न (?) के स्थान पर आकर उसे पूर्ण करेगी?

125, 88, 63, 46, ?

Ans ✗ 1. 35

✗ 2. 37

✓ 3. 33

✗ 4. 38

Question ID : 26433069595

Status : Answered

Chosen Option : 3

Q.5 इस प्रश्न में तीन कथन दिए गए हैं, जिसके बाद दो निष्कर्ष I और II दिए गए हैं। कथनों को सत्य मानते हुए, भले ही वे सर्वज्ञात तथ्यों से भिन्न प्रतीत होते हों, निर्णय कीजिए कि कौन-सा/से निष्कर्ष कथनों का तार्किक रूप से अनुसरण करता है/अनुसरण करते हैं।

कथन:

सभी मोबाइल कंप्यूटर हैं।

कुछ कंप्यूटर फर्नीचर हैं।

कुछ फर्नीचर टेबल हैं।

निष्कर्ष:

I. कुछ टेबल कंप्यूटर हैं।

II. कुछ मोबाइल फर्नीचर हैं।

Ans  1. न तो निष्कर्ष I और न ही II अनुसरण करता है।

2. निष्कर्ष I और II दोनों अनुसरण करते हैं।

3. केवल निष्कर्ष I अनुसरण करता है।

4. केवल निष्कर्ष II अनुसरण करता है।

Question ID : 26433070387

Status : Answered

Chosen Option : 2

Q.6 एक निश्चित कूट भाषा में, 'EXAM' को '625214' और 'TEST' को '2162021' के रूप में लिखा जाता है। इसी कूट भाषा में 'ASSESSMENT' को किस प्रकार से लिखा जाएगा?

Ans  1. 22020620201461512

2. 22020620201461521

3. 22020620201465121

4. 22020602201461521

Question ID : 26433087254

Status : Answered

Chosen Option : 2

Q.7 छः विद्यार्थी एक वृत्ताकार मेज के परितः मेज के केंद्र की ओर मुख करके बैठे हैं। ब्रियाना, मार्क के दाईं ओर दूसरे स्थान पर बैठी है। फेलिक्स, मार्क के बाईं ओर दूसरे स्थान पर बैठा है। ऐन, ब्रियाना और फेलिक्स के ठीक बगल में है। जेम्स, ब्रियाना के बाईं ओर तीसरे स्थान पर बैठा है। आफरीन, जेम्स के दाईं ओर दूसरे स्थान पर बैठी है। आफरीन और ऐन के बीच में कौन बैठा है?

Ans  1. जेम्स

2. ब्रियाना

3. मार्क

4. फेलिक्स

Question ID : 26433081782

Status : Answered

Chosen Option : 3

Q.8 उस विकल्प का चयन करें, जो तीसरे शब्द से उसी प्रकार संबंधित है, जिस प्रकार दूसरा शब्द पहले शब्द से संबंधित है।  
(शब्दों को अर्थपूर्ण शब्दों के रूप में माना जाना चाहिए और इन्हें शब्द में अक्षरों की संख्या / व्यंजनों की संख्या / स्वरों की संख्या के आधार पर एक दूसरे से संबद्ध नहीं किया जाना चाहिए।)  
शिक्षा : अध्यापक :: उपचार : ?

Ans  1. चिकित्सक

2. दवाई

3. मजदूर

4. अस्पताल

Question ID : 26433079472

Status : Answered

Chosen Option : 1

Q.9 निम्नलिखित में से कौन-सा पद दी गई श्रृंखला में प्रश्न-चिह्न (?) के स्थान पर आएगा?  
?, LSEO, NRDN, PQCM, RPBL

Ans  1. JTFP

2. PFJO

3. TFPJ

4. FPJI

Question ID : 26433068983

Status : Answered

Chosen Option : 1

Q.10 नीचे दिए गए समीकरण को सही बनाने के लिए किन दो चिन्हों को गणितीय रूप से परस्पर बदलना चाहिए?

$$24 - 36 \times 5 + 108 \div 18 = 18$$

Ans  1. + और -

2. - और +

3. + और ×

4. + और ÷

Question ID : 264330117523

Status : Answered

Chosen Option : 3

Q.11 उस समुच्चय का चयन करें, जिसमें संख्याएँ उसी प्रकार संबंधित हैं, जिस प्रकार निम्नलिखित समुच्चयों की संख्याएँ हैं।

(नोट: संख्याओं को उसके घटक अंकों में विभाजित किए बिना, पूर्ण संख्याओं पर ही गणितीय संक्रियाएँ की जानी चाहिए। जैसे 13 - मान लीजिए 13 पर गणितीय संक्रियाएँ जैसे कि 13 में जोड़ना/घटाना/गुणा करना आदि किया जा सकता है। 13 को 1 और 3 में तोड़कर और फिर 1 और 3 पर गणितीय संक्रियाएँ करने की अनुमति नहीं है।)

(25, 280, 45)

(18, 192, 30)

Ans  1. (13, 168, 54)

2. (12, 148, 25)

3. (14, 192, 24)

4. (12, 156, 24)

Question ID : 26433076481

Status : Answered

Chosen Option : 4



Q.12 दर्पण को नीचे दिए गए चित्र के अनुसार MN पर रखे जाने पर दी गई आकृति

का दर्पण में निर्मित सही प्रतिबिंब चयनित कीजिए।

6 Z k B M V d

M ————— N

Ans

- ✗ 1. b V M B k Z e
- ✓ 2. e Z k B W Λ q
- ✗ 3. e Z k B W Λ q
- ✗ 4. e Z k B W Λ q

Question ID : 26433080798

Status : Answered

Chosen Option : 1

Q.13 एक निश्चित कूट भाषा में,  
'A + B' का अर्थ है कि 'A, B की बहन है',  
'A - B' का अर्थ है कि 'A, B का पिता है' और  
'A x B' का अर्थ है कि 'A, B का भाई है'.  
यदि  $Q + R - P x N - S$  है, तो R का S से क्या संबंध है?

Ans

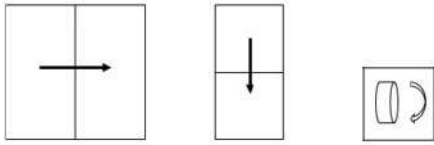
- ✗ 1. ताऊ/चाचा
- ✗ 2. भाई
- ✗ 3. पिता
- ✓ 4. दादा

Question ID : 26433070370

Status : Answered

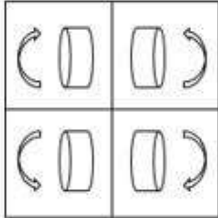
Chosen Option : 1

Q.14 एक कागज को नीचे दिखाये गए रूप में मोड़ा और काटा जाता है। खोलने पर यह कैसे दिखाई देगा?

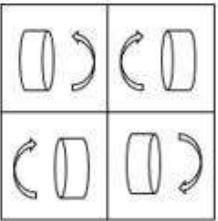


Ans

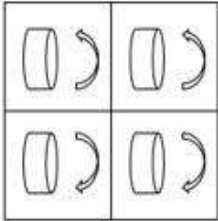
✓ 1.



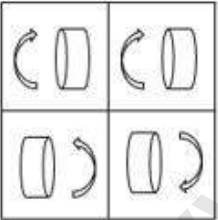
✗ 2.



✗ 3.



✗ 4.



Question ID : 26433089787

Status : Answered

Chosen Option : 3

Q.15 निम्नलिखित में से कौन-सी संख्या दी गई श्रृंखला में प्रश्न-चिह्न (?) के स्थान पर आएगी?  
5, 31, 161, 811, ?

Ans ✗ 1. 4825

✓ 2. 4061

✗ 3. 4444

✗ 4. 4500

Question ID : 26433082010

Status : Answered

Chosen Option : 2

Q.16 किस विकल्प में निम्नलिखित शब्दों का वह क्रम दिया गया है, जिस क्रम में वे अंग्रेजी शब्दकोश में आते हैं?

- 1 riddle
- 2 river
- 3 rightful
- 4 ring
- 5 risk

Ans  1. 1,2,4,5,3

2. 1,3,4,5,2

3. 1,2,3,4,5

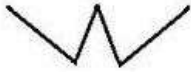
4. 1,3,2,4,5

Question ID : 26433069325

Status : Answered

Chosen Option : 2

Q.17 निम्नलिखित विकल्पों में से उस आकृति का चयन करें जिसमें नीचे दी गई आकृति निहित है (आकृति को घुमाने की अनुमति नहीं है)।

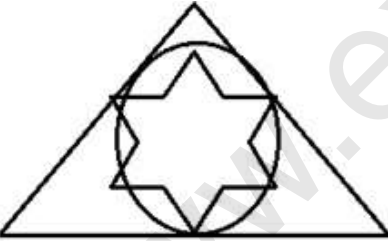


Ans


1.




2.



3.



4.



Question ID : 26433069535

Status : Answered

Chosen Option : 3

Q.18 एक निश्चित कूट भाषा में, FATHER को 'IFWMHW' लिखा जाता है, और SISTER को 'VNVYHW' लिखा जाता है। उसी कूट भाषा में 'UNCLE' को किस प्रकार लिखा जाएगा?

- Ans
- 1. XSHQI
  - 2. XSGQH
  - 3. XSFQH
  - 4. XTGRH

Question ID : 26433067989  
Status : Answered  
Chosen Option : 3

Q.19 एक ही परिवार के छः सदस्य विराज, दीपू, नूर, प्रिंस, सुमन और तारन एक वृत्ताकार मेज के परितः मेज के केंद्र की ओर मुख करके बैठे हैं। विराज, नूर के दाईं ओर ठीक बगल में बैठा है। प्रिंस, विराज और दीपू दोनों के ठीक बगल में बैठा है। सुमन, विराज के दाईं ओर तीसरे स्थान पर बैठी है। नूर, प्रिंस के बाईं ओर दूसरे स्थान पर बैठी है। इनमें से कौन दीपू और विराज के ठीक बगल में बैठा/बैठी है?

- Ans
- 1. तारन
  - 2. सुमन
  - 3. नूर
  - 4. प्रिंस

Question ID : 26433068866  
Status : Not Answered  
Chosen Option : --

Q.20 उस विकल्प का चयन कीजिए जो पांचवें अक्षर-समूह से उसी प्रकार संबंधित है जिस प्रकार दूसरा अक्षर-समूह पहले अक्षर-समूह से संबंधित है और चौथा अक्षर-समूह तीसरे अक्षर-समूह से संबंधित है।  
TIDE: RRAU :: REST : PVPF :: GAME : ?

- Ans
- 1. EZJU
  - 2. TZNN
  - 3. HBNF
  - 4. ICOG

Question ID : 26433057485  
Status : Not Answered  
Chosen Option : --

Section : Part-B-General Knowledge and General awareness

Q.1 निम्नलिखित में से कौन सा तत्व अपने गुणों में क्षार धातुओं के साथ-साथ हैलोजन की तरह व्यवहार करता है?

- Ans
- 1. हीलियम
  - 2. लिथियम
  - 3. नियॉन
  - 4. हाइड्रोजन

Question ID : 264330115175  
Status : Not Answered  
Chosen Option : --

Q.2 भारत में जनगणना के संबंध में, NPR का पूर्ण रूप क्या है?

- Ans  1. National Population Register (नेशनल पोप्युलेशन रजिस्टर)  
 2. National Population Record (नेशनल पोप्युलेशन रिकॉर्ड)  
 3. National People Record (नेशनल पीपल रिकॉर्ड)  
 4. National People Register (नेशनल पीपल रजिस्टर)

Question ID : 264330116030  
Status : Answered  
Chosen Option : 1

Q.3 निम्नलिखित में से किसने अक्टूबर 2022 में भारत के 2 दिवसीय पीएम किसान सम्मान सम्मेलन का उद्घाटन किया?

- Ans  1. राजनाथ सिंह  
 2. नरेन्द्र मोदी  
 3. निर्मला सीतारमण  
 4. अमित शाह

Question ID : 264330114956  
Status : Answered  
Chosen Option : 3

Q.4 हर्षवर्धन और पुलकेशिन द्वितीय का युद्ध किस नदी के तट पर हुआ था?

- Ans  1. नर्मदा  
 2. गोदावरी  
 3. कृष्णा  
 4. गंगा

Question ID : 26433089128  
Status : Not Answered  
Chosen Option : --

Q.5 भारत में दूसरी बार एशियाई खेलों का आयोजन किस वर्ष किया गया था?

- Ans  1. 1982  
 2. 1941  
 3. 1978  
 4. 2015

Question ID : 264330116249  
Status : Not Answered  
Chosen Option : --

Q.6 माइक्रोफाइनेंस एक \_\_\_\_\_ सेवा है।

- Ans
- 1. सॉफ्टवेयर उत्पादन
  - 2. उत्पादन
  - 3. वित्तीय
  - 4. अपशिष्ट प्रबंधन

Question ID : 264330115310  
Status : Not Answered  
Chosen Option : --

Q.7 8 अगस्त, 2022 से प्रभावी, राष्ट्रीय अवसंरचना वित्तपोषण एवं विकास बैंक (NaBFID) के नए प्रबंध निदेशक कौन हैं?

- Ans
- 1. सुमिता डावरा
  - 2. पंकज जैन
  - 3. अरुण कुमार सिंह
  - 4. राजकिरण राय

Question ID : 264330115013  
Status : Not Answered  
Chosen Option : --

Q.8 सागा दावा मुख्य रूप से सिक्किम में भारत के निम्नलिखित में से किस समुदाय द्वारा मनाया जाता है?

- Ans
- 1. सिख
  - 2. बौद्ध
  - 3. हिंदू
  - 4. जैन

Question ID : 264330105968  
Status : Not Answered  
Chosen Option : --

Q.9 2018 में, मणिपुरी में संगीत नाटक अकादमी पुरस्कार किसने जीता?

- Ans
- 1. राधा श्रीधर
  - 2. मादम्बी सुब्रमण्यम नंबूदरी
  - 3. पसुमूर्ति रामलिंग शास्त्री
  - 4. अखम लक्ष्मी देवी

Question ID : 264330115821  
Status : Not Answered  
Chosen Option : --

Q.10 भूकंप की तीव्रता मापने के लिए किसका प्रयोग किया जाता है?

- Ans
- 1. ग्रेविमीटर
  - 2. एनीमोमीटर
  - 3. रिक्टर स्केल
  - 4. दाब सेंसर

Question ID : 264330115993  
Status : Answered  
Chosen Option : 3

Q.11 बिहू निम्नलिखित में से किस राज्य का लोकप्रिय नृत्य है?

- Ans
- 1. केरल
  - 2. तेलंगाना
  - 3. असम
  - 4. तमिलनाडु

Question ID : 26433071420  
Status : Answered  
Chosen Option : 3

Q.12 पौधों में स्वतंत्र रूप से संगठित संवाहक नलियों के रूप में कितने पथ निर्मित होते हैं?

- Ans
- 1. चार
  - 2. पांच
  - 3. एक
  - 4. दो

Question ID : 264330115204  
Status : Not Answered  
Chosen Option : --

Q.13 भारत में हरित क्रांति ने निम्नलिखित में से किसके उत्पादन में वृद्धि की?

- Ans
- 1. गेहूँ
  - 2. कोयले
  - 3. अंडे
  - 4. कपास

Question ID : 264330115418  
Status : Answered  
Chosen Option : 1

Q.14 10वीं पंचवर्षीय योजना की अवधि क्या थी?

- Ans
- 1. 2004-2009
  - 2. 2002-2007
  - 3. 2007-2012
  - 4. 2005-2010

Question ID : 264330116120  
Status : Not Answered  
Chosen Option : --

Q.15 हिंदुस्तान सोशलिस्ट रिपब्लिकन एसोसिएशन (HSRA) की स्थापना दिल्ली के \_\_\_\_\_ में हुई थी।

- Ans
- 1. मुगल गार्डन
  - 2. फिरोजशाह कोटला
  - 3. सफदरजंग का मकबरा
  - 4. लाल किला

Question ID : 26433089888  
Status : Not Answered  
Chosen Option : --

Q.16 शॉट पुट में, शॉट जो एक धातु की गेंद है, पुरुषों और महिलाओं के लिए उसका वजन कितना kg होता है?

- Ans
- 1. पुरुष- 7.26 kg महिला- 4 kg
  - 2. पुरुष- 7.5 kg महिला- 4.5 kg
  - 3. पुरुष- 7.3 kg महिला- 4.5 kg
  - 4. पुरुष - 7 kg महिला - 4 kg

Question ID : 264330115942  
Status : Answered  
Chosen Option : 2

Q.17 UPSC के सदस्यों का कार्यकाल \_\_\_\_\_ होता है।

- Ans
- 1. 5 वर्ष या 65 वर्ष की आयु
  - 2. 4 वर्ष या 62 वर्ष की आयु
  - 3. 6 वर्ष या 65 वर्ष की आयु जो भी पहले हो
  - 4. 6 वर्ष या 62 वर्ष की आयु

Question ID : 26433089963  
Status : Not Answered  
Chosen Option : --

Q.18 'देश की रक्षा करने और आह्वान किए जाने पर राष्ट्र की सेवा के लिए तत्पर रहने' का उल्लेख \_\_\_\_\_ के तहत किया गया है।

- Ans
- 1. मूल कर्तव्यों
  - 2. मूल अधिकारों
  - 3. निर्देशक सिद्धांतों
  - 4. संविधान की प्रस्तावना

Question ID : 264330115628  
Status : Not Answered  
Chosen Option : --



Q.19 मिशन इन्द्रधनुष का अंतिम लक्ष्य \_\_\_\_\_ वर्ष की आयु तक के बच्चों के लिए सभी उपलब्ध टीकों के साथ पूर्ण टीकाकरण सुनिश्चित करना है।

- Ans
- 1. तीन
  - 2. पांच
  - 3. दो
  - 4. आठ

Question ID : 264330116167  
Status : Answered  
Chosen Option : 2

Q.20 कौन सा क्षेत्र भारत में लगभग 60 प्रतिशत औषधालय (dispensaries) चलाता है?

- Ans
- 1. सहकारी क्षेत्र
  - 2. सार्वजनिक क्षेत्र
  - 3. संयुक्त क्षेत्र
  - 4. निजी क्षेत्र

Question ID : 264330115557  
Status : Not Answered  
Chosen Option : --

Section : Part-C-Elementary Mathematics

Q.1 एक खिलौना Rs.950 में खरीदा जाता है और Rs.1140 में बेचा जाता है। लाभ प्रतिशत ज्ञात कीजिए।

- Ans
- 1. 16%
  - 2. 21%
  - 3. 19%
  - 4. 20%

Question ID : 26433075144  
Status : Answered  
Chosen Option : 4

Q.2 वह सबसे बड़ी संख्या ज्ञात करें, जिससे 1780 और 2452 को विभाजित करने पर प्रत्येक स्थिति में 4 शेष बचता है।

- Ans
- 1. 24
  - 2. 48
  - 3. 16
  - 4. 52

Question ID : 26433081468  
Status : Answered  
Chosen Option : 2

Q.3 एक वस्तु को Rs.15,000 में बेचने पर, सुबीर को Rs.2,000 की हानि होती है। उसकी प्रतिशत हानि क्या है?

- Ans
- 1. 11%
  - 2. 10%
  - 3.  $11\frac{13}{17}\%$
  - 4.  $10\frac{13}{17}\%$

Question ID : 26433080305

Status : Answered

Chosen Option : 3

Q.4 25 छात्रों की एक कक्षा के भूगोल की परीक्षा में औसत अंक 64 हैं। यदि तीन छात्रों के अंकों को वास्तविक प्राप्तांक क्रमशः 54, 64 और 67 के स्थान पर गलती से 44, 46 और 61 पढ़ लिया गया है, तो सही औसत की गणना करें।

- Ans
- 1. 65.45
  - 2. 64.55
  - 3. 65.36
  - 4. 64.54

Question ID : 26433076220

Status : Answered

Chosen Option : 2

Q.5 यदि Rs.12,000 की राशि 2 वर्ष की अवधि के लिए 10% वार्षिक दर से वार्षिक और छमाही रूप से चक्रवृद्धि होती है, तो चक्रवृद्धि ब्याज में क्या अंतर होगा?  
नोट: दशमलव को निकटतम पूर्णांक में लिखें।

- Ans
- 1. Rs.66
  - 2. Rs.46
  - 3. Rs.166
  - 4. Rs.196

Question ID : 26433075075

Status : Answered

Chosen Option : 3

Q.6 ₹x की धनराशि 3 वर्ष पहले 5% वार्षिक की चक्रवृद्धि ब्याज दर पर उधार ली गई थी, जहां ब्याज वार्षिक रूप से चक्रवृद्धि था। यदि उधार ली गई धनराशि का वर्तमान मान ₹18,522 है, तो x का मान क्या है?

- Ans
- 1. ₹16,000
  - 2. ₹15,000
  - 3. ₹15,500
  - 4. ₹16,500

Question ID : 26433075562

Status : Not Answered

Chosen Option : --

Q.7 एक गोल्फ क्लब में 90% सदस्य पुरुष हैं और शेष महिलाएं हैं। पुरुषों की औसत ऊंचाई 170 cm और महिलाओं की औसत ऊंचाई 165 cm है। क्लब के सदस्यों की औसत ऊंचाई ज्ञात कीजिये।

- Ans
- 1. 170.5
  - 2. 169.5
  - 3. 167.5
  - 4. 168.5

Question ID : 26433075905  
Status : Answered  
Chosen Option : 2

Q.8 25 प्रतिशत की छूट देने के बाद एक वस्तु का विक्रय मूल्य 9510 रुपए हो जाता है। वस्तु का अंकित मूल्य क्या है?

- Ans
- 1. 11640 रुपए
  - 2. 12680 रुपए
  - 3. 10850 रुपए
  - 4. 10200 रुपए

Question ID : 264330116736  
Status : Answered  
Chosen Option : 2

Q.9 रीता एक कार्य को 14 दिनों में कर सकती है और गीता उसी कार्य को 21 दिनों में कर सकती है। रीता और गीता उसी कार्य को एक साथ पूरा करने में कितने दिन लेंगी?

- Ans
- 1. 6.8
  - 2. 8.8
  - 3. 8.4
  - 4. 6.4

Question ID : 26433075700  
Status : Answered  
Chosen Option : 3

Q.10 एक घनाभ का कुल पृष्ठीय क्षेत्रफल  $4200 \text{ cm}^2$  है। यदि घनाभ की लंबाई और चौड़ाई 15 cm और 16 cm है, तो घनाभ की ऊंचाई ज्ञात कीजिए।

- Ans
- 1. 60 cm
  - 2. 70 cm
  - 3. 62 cm
  - 4. 3720 cm

Question ID : 26433085494  
Status : Answered  
Chosen Option : 2

Q.11  $4 + 2\sqrt{3}$  और  $6 - 3\sqrt{3}$  का मध्यानुपाती कितना है?

- Ans
- 1.  $\sqrt{12}$
  - 2.  $\sqrt{8}$
  - 3.  $\sqrt{18}$
  - 4.  $\sqrt{6}$

Question ID : 26433081026  
Status : Not Answered  
Chosen Option : --

Q.12 यदि पेट्रोल की कीमत में 40% की वृद्धि हो जाती है, तो इसकी खपत को कितने प्रतिशत (1 दशमलव स्थान तक पूर्णांकित) कम किया जाना चाहिए, ताकि पेट्रोल पर खर्च समान रहे?

- Ans
- 1. 25.7%
  - 2. 40.5%
  - 3. 35.5%
  - 4. 28.6%

Question ID : 26433082780  
Status : Not Answered  
Chosen Option : --

Q.13 दो संख्याओं का अनुपात 4 : 5 है और उनका महत्तम समापवर्तक 6 है। उनका लघुत्तम समापवर्त्य क्या है?

- Ans
- 1. 168
  - 2. 120
  - 3. 72
  - 4. 88

Question ID : 26433091517  
Status : Answered  
Chosen Option : 2

Q.14 48 km/h की चाल से चलने वाली कार द्वारा 3 घंटे 15 मिनट में तय की गई दूरी ज्ञात कीजिए।

- Ans
- 1. 145 km
  - 2. 154 km
  - 3. 165 km
  - 4. 156 km

Question ID : 26433076199  
Status : Answered  
Chosen Option : 4

Q.15 टीना अपने वेतन का 30% भोजन पर, शेष का 30% ईंधन पर खर्च करती है और शेष Rs.4,900 बचाती है। टीना का वेतन क्या है?

- Ans
- 1. Rs.6,000
  - 2. Rs.10,000
  - 3. Rs.8,000
  - 4. Rs.12,000

Question ID : 26433076033  
Status : Answered  
Chosen Option : 2

Q.16 14 cm के व्यास वाले अर्धगोले का संपूर्ण पृष्ठीय क्षेत्रफल ज्ञात कीजिए। ( $\pi = \frac{22}{7}$ )

- Ans
- 1. 1232 cm<sup>2</sup>
  - 2. 308 cm<sup>2</sup>
  - 3. 2156 cm<sup>2</sup>
  - 4. 462 cm<sup>2</sup>

Question ID : 26433075747  
Status : Answered  
Chosen Option : 2

Q.17 दो संख्याएं P और Q इस प्रकार हैं कि P के 8% और Q के 4% का योग P के 5% और Q के 7% के योग का दो-तिहाई है। अनुपात P : Q ज्ञात करें।

- Ans
- 1. 7 : 1
  - 2. 4 : 9
  - 3. 2 : 5
  - 4. 1 : 7

Question ID : 26433081573  
Status : Not Answered  
Chosen Option : --

Q.18 ₹12,500 पर 10%, 15% और 4% की क्रमिक छूट किसके बराबर है?

- Ans
- 1. ₹3,320
  - 2. ₹4,150
  - 3. ₹5,240
  - 4. ₹4,520

Question ID : 26433080221  
Status : Answered  
Chosen Option : 3

Q.19 A एक कार्य को 18 दिनों में कर सकता है। B इस कार्य को 24 दिनों में कर सकता है। A अकेले काम शुरू करता है। कितने दिनों के बाद B को उसके साथ जुड़ना चाहिए, ताकि कार्य 15 दिनों में समाप्त हो जाए?

- Ans
- 1. 13 दिन
  - 2. 14 दिन
  - 3. 11 दिन
  - 4. 19 दिन

Question ID : 264330116851  
Status : Answered  
Chosen Option : 1

Q.20 सुमाति ने बिंदु A से बिंदु B तक 475 मीटर/मिनट की चाल से यात्रा की। जिस क्षण सुमाति बिंदु B पर पहुँची, रचना बिंदु B से उस चाल की 1.6 गुना चाल से रवाना हुई, जिस चाल से सुमाति ने यात्रा की थी और बिंदु C पर पहुँची। यदि B से होते हुए A से C से तक तय की गई कुल दूरी 45.6 km थी और जबसे सुमाति ने बिंदु A से चलना आरंभ किया और जब रचना बिंदु C पर पहुँची तब तक लिया गया समय 75 मिनट था, तो A और B के बीच की दूरी कितनी है?

- Ans
- 1. 19 km
  - 2. 17 km
  - 3. 18 km
  - 4. 20 km

Question ID : 26433075295  
Status : Not Answered  
Chosen Option : --

Section : Part-D-English

Q.1 Select the most appropriate option that can substitute the underlined segment in the given sentence.

I am been working here for the past ten years.

- Ans
- 1. have been working here
  - 2. was been working here
  - 3. is been working here
  - 4. having been working here

Question ID : 26433091372  
Status : Not Answered  
Chosen Option : --

Q.2 Select the INCORRECTLY spelt word.

- Ans
- 1. Potable
  - 2. Maticulous
  - 3. Erroneous
  - 4. Enterprising

Question ID : 26433073507  
Status : Not Answered  
Chosen Option : --

Q.3 Select the most appropriate meaning of the given idiom.

Public enemy number one

- Ans  1. Someone who is the greatest threat to a group or community  
 2. One who helps the poor  
 3. The opposition party leader  
 4. A person who always smiles

Question ID : 26433072573  
Status : Not Answered  
Chosen Option : --

Q.4 Select the most appropriate option to substitute the underlined segment in the given sentence to make it a meaningful sentence. If no substitution is required, select 'No substitution'.

One must not only have the ability to read voraciously but have the necessary training in comprehending and remembering all the relevant details.

- Ans  1. not only have the ability for read voraciously but also have  
 2. not only have the ability to read voraciously but also had  
 3. not only have the ability to read voraciously but also have  
 4. No substitution

Question ID : 26433092045  
Status : Not Answered  
Chosen Option : --

Q.5 Select the most appropriate option to fill in the blank.

Scientists are able to quickly \_\_\_\_\_ the outbreak through a new immunisation.

- Ans  1. quest  
 2. quash  
 3. scatter  
 4. quench

Question ID : 26433060336  
Status : Not Answered  
Chosen Option : --

Q.6 Select the most appropriate ANTONYM of the given word.

Dignify

- Ans  1. Cure  
 2. Adorn  
 3. Oblige  
 4. Condemn

Question ID : 26433090781  
Status : Not Answered  
Chosen Option : --

Q.7 Select the most appropriate synonym of the given word.

Fascinating

- Ans
- 1. Revolting
  - 2. Dominating
  - 3. Intimidating
  - 4. Interesting

Question ID : 26433073982  
Status : Not Answered  
Chosen Option : --

Q.8 Select the word segment that substitutes (replaces) the bracketed word segment correctly and completes the sentence meaningfully:  
Shakespeare was both a dramatist (better than) a poet.

- Ans
- 1. and
  - 2. when not
  - 3. as well as
  - 4. or

Question ID : 26433088798  
Status : Not Answered  
Chosen Option : --

Q.9 Select the INCORRECTLY spelt word.

- Ans
- 1. Frekquent
  - 2. Ferocious
  - 3. Collide
  - 4. Coherent

Question ID : 26433073731  
Status : Not Answered  
Chosen Option : --

Q.10 Select the most appropriate ANTONYM of the word given in brackets to fill in the blank.

The company of friends made her feel \_\_\_\_\_ (cranky), as she was all alone in her apartment.

- Ans
- 1. awful
  - 2. wishful
  - 3. fearful
  - 4. cheerful

Question ID : 26433089747  
Status : Not Answered  
Chosen Option : --



Q.11 Select the most appropriate ANTONYM of the given word.  
Symbolise

- Ans  1. Link  
 2. Align  
 3. Slide  
 4. Hide

Question ID : 26433066088  
Status : Not Answered  
Chosen Option : --

Q.12 Select the most appropriate homophone to substitute the underlined word in the given sentence.

These ornaments are coated with gold.

- Ans  1. guild  
 2. gilled  
 3. gel  
 4. gild

Question ID : 26433074013  
Status : Not Answered  
Chosen Option : --

Q.13 The given sentence is divided into three segments. Select the option that has the segment with a grammatical error. If there is no error, select 'no error' as your answer.

She have / left by the time / I reach home.

- Ans  1. She have  
 2. I reach home  
 3. left by the time  
 4. No error

Question ID : 26433071860  
Status : Not Answered  
Chosen Option : --

Q.14 Select the most appropriate meaning of the given idiom.

Silver tongue

- Ans  1. Speaking to discourage people  
 2. Speaking with an eloquent expression to convince people  
 3. Speaking to annoy people  
 4. Speaking to bore people

Question ID : 26433074442  
Status : Not Answered  
Chosen Option : --

**Q.15 Select the most appropriate synonym of the given word.**

**Splendid**

- Ans  1. Authentic  
 2. Enticing  
 3. Spectacular  
 4. Stationary

Question ID : 26433087913  
Status : Not Answered  
Chosen Option : --

**Comprehension:**

In the following passage, some words have been deleted. Read the passage carefully and select the most appropriate option to fill in each blank.

The ability to think clearly and calmly while addressing an 1. \_\_\_\_\_ is neither inborn nor difficult to develop. The presence of an audience should act as a stimulus and not as a 2. \_\_\_\_\_ to thought. Audience fright can be overcome through training and practice. Even great speakers 3. \_\_\_\_\_ stage fright and self-consciousness. Every speaker gets worked up and experiences strain, shock, and excitement before he or she begins to talk. But every speaker who is struggling to gain 4. \_\_\_\_\_ should remember that all meritorious public speaking is accompanied by a little 5. \_\_\_\_\_.

**SubQuestion No : 16**

**Q.16 Select the most appropriate option to fill in blank no. 1.**

- Ans  1. adult  
 2. audience  
 3. association  
 4. accomplice

Question ID : 26433091359  
Status : Not Answered  
Chosen Option : --

**Comprehension:**

In the following passage, some words have been deleted. Read the passage carefully and select the most appropriate option to fill in each blank.

The ability to think clearly and calmly while addressing an 1. \_\_\_\_\_ is neither inborn nor difficult to develop. The presence of an audience should act as a stimulus and not as a 2. \_\_\_\_\_ to thought. Audience fright can be overcome through training and practice. Even great speakers 3. \_\_\_\_\_ stage fright and self-consciousness. Every speaker gets worked up and experiences strain, shock, and excitement before he or she begins to talk. But every speaker who is struggling to gain 4. \_\_\_\_\_ should remember that all meritorious public speaking is accompanied by a little 5. \_\_\_\_\_.

**SubQuestion No : 17**

**Q.17 Select the most appropriate option to fill in blank no. 2.**

- Ans  1. choice  
 2. briefing  
 3. catch  
 4. hindrance

Question ID : 26433091360  
Status : Not Answered  
Chosen Option : --

**Comprehension:**

In the following passage, some words have been deleted. Read the passage carefully and select the most appropriate option to fill in each blank.

The ability to think clearly and calmly while addressing an 1. \_\_\_\_\_ is neither inborn nor difficult to develop. The presence of an audience should act as a stimulus and not as a 2. \_\_\_\_\_ to thought. Audience fright can be overcome through training and practice. Even great speakers 3. \_\_\_\_\_ stage fright and self-consciousness. Every speaker gets worked up and experiences strain, shock, and excitement before he or she begins to talk. But every speaker who is struggling to gain 4. \_\_\_\_\_ should remember that all meritorious public speaking is accompanied by a little 5. \_\_\_\_\_.

**SubQuestion No : 18**

**Q.18 Select the most appropriate option to fill in blank no. 3.**

- Ans  1. accorded  
 2. experience  
 3. keened  
 4. saved

Question ID : 26433091361

Status : Not Answered

Chosen Option : --

**Comprehension:**

In the following passage, some words have been deleted. Read the passage carefully and select the most appropriate option to fill in each blank.

The ability to think clearly and calmly while addressing an 1. \_\_\_\_\_ is neither inborn nor difficult to develop. The presence of an audience should act as a stimulus and not as a 2. \_\_\_\_\_ to thought. Audience fright can be overcome through training and practice. Even great speakers 3. \_\_\_\_\_ stage fright and self-consciousness. Every speaker gets worked up and experiences strain, shock, and excitement before he or she begins to talk. But every speaker who is struggling to gain 4. \_\_\_\_\_ should remember that all meritorious public speaking is accompanied by a little 5. \_\_\_\_\_.

**SubQuestion No : 19**

**Q.19 Select the most appropriate option to fill in blank no. 4.**

- Ans  1. money  
 2. profit  
 3. merit  
 4. confidence

Question ID : 26433091362

Status : Not Answered

Chosen Option : --

**Comprehension:**

In the following passage, some words have been deleted. Read the passage carefully and select the most appropriate option to fill in each blank.

The ability to think clearly and calmly while addressing an 1. \_\_\_\_\_ is neither inborn nor difficult to develop. The presence of an audience should act as a stimulus and not as a 2. \_\_\_\_\_ to thought. Audience fright can be overcome through training and practice. Even great speakers 3. \_\_\_\_\_ stage fright and self-consciousness. Every speaker gets worked up and experiences strain, shock, and excitement before he or she begins to talk. But every speaker who is struggling to gain 4. \_\_\_\_\_ should remember that all meritorious public speaking is accompanied by a little 5. \_\_\_\_\_.

**SubQuestion No : 20****Q.20 Select the most appropriate option to fill in blank no. 5.**

- Ans  1. happiness  
 2. trick  
 3. nervousness  
 4. childishness

Question ID : 26433091363

Status : Not Answered

Chosen Option : --

Section : Part-D-Hindi

**Q.1 कौन से विकल्प में विशेषण से बने भाववाचक संज्ञा शब्दों में त्रुटि है?**

- Ans  1. चतुरा, मीठा, दुर्बला  
 2. गर्मी, सर्दी, नरमी  
 3. लड़कपन, मित्रता, बुढ़ापा  
 4. ममत्व, अपनापन, निकटता

Question ID : 26433063030

Status : Answered

Chosen Option : 1

**Q.2 निम्नलिखित वाक्य में रेखांकित शब्द के स्थान पर उपयुक्त पर्यायवाची शब्द कौन-सा होगा?**

बारिश के साथ ही दामिनी चमकने लगी।

- Ans  1. आंधी  
 2. तड़ित  
 3. बुँदे  
 4. ओला

Question ID : 26433066901

Status : Answered

Chosen Option : 2

Q.3 आज क्रिकेट के खेल में साहिल ने \_\_\_\_\_ मार लिया।  
रिक्त स्थान की पूर्ति उचित शब्द द्वारा करके मुहावरे को पूरा कीजिए।

- Ans
- 1. इनाम
  - 2. मन
  - 3. मैदान
  - 4. मक्खियाँ

Question ID : 26433062612  
Status : Answered  
Chosen Option : 3

Q.4 नीचे दिए शब्द के लिए उचित वाक्यांश दिए गए विकल्पों में से चुनिए।  
अलौकिक

- Ans
- 1. जो इस लोक का न हो
  - 2. जिसका अस्तित्व अल्पकाल तक रहे
  - 3. जो इस लोक का हो
  - 4. जो कम जानता हो

Question ID : 26433062391  
Status : Answered  
Chosen Option : 1

Q.5 निम्नलिखित वाक्यांश के लिए उपयुक्त सार्थक शब्द है-  
ईश्वर में विश्वास करने वाला

- Ans
- 1. आस्तिक
  - 2. इन्सान
  - 3. भगवान
  - 4. दैवीय

Question ID : 26433065750  
Status : Answered  
Chosen Option : 1

Q.6 श्री कृष्ण ने माँ यशोदा से खेलने के लिए विभाकर को खिलौने के रूप में माँगा।

वाक्य में प्रयुक्त शब्द विभाकर का पर्यायवाची शब्द है-

- Ans
- 1. चंद्रमा
  - 2. घोड़ा
  - 3. सिंह
  - 4. दानव

Question ID : 26433080858  
Status : Answered  
Chosen Option : 1

Q.7 'लंबोदर' शब्द के लिए उचित वाक्यांश है-

- Ans
- 1. जिसका हाथ लंबा हो
  - 2. जिसका उदर लंबा हो
  - 3. जिसकी गर्दन लंबी हो
  - 4. जिसका उधार लंबा हो

Question ID : 26433065870  
Status : Answered  
Chosen Option : 2

Q.8 निम्नलिखित में से अशुद्ध वाक्य कौन-सा है?

- Ans
- 1. वरुण प्रतिदिन घूमने जाता है।
  - 2. कल मैंने दिनभर पढ़ाई की।
  - 3. मेरे पर कृपा करो।
  - 4. मनाली अत्यंत सुन्दर शहर है।

Question ID : 26433085138  
Status : Answered  
Chosen Option : 3

Q.9 निम्नलिखित वाक्य के रिक्त स्थान में सबसे उपयुक्त मुहावरा क्या होगा?  
'नेता बनना हो तो मंत्री जी के साथ \_\_\_\_\_ बन जाओ'

- Ans
- 1. अमरबेल
  - 2. पेड़
  - 3. दुश्मन
  - 4. दोस्त

Question ID : 26433066736  
Status : Answered  
Chosen Option : 4

Q.10 निम्नलिखित विकल्पों में से कौन सा एक वाक्य क्रिया-विशेषण से सम्बन्ध रखता है?

- Ans
- 1. हो सकता है आँधी आए।
  - 2. विश्व का कल्याण हो।
  - 3. डाकिया आता होगा।
  - 4. बुशरा यहाँ आ रही है।

Question ID : 26433062955  
Status : Answered  
Chosen Option : 3

Q.11 वाक्य में रेखांकित शब्द के स्थान पर सर्वोचित शब्द का चयन कीजिए।

प्रेम करना तलवार की नोक पर चलना है।

- Ans
- 1. म्यान
  - 2. चपलता
  - 3. धार
  - 4. मूठ

Question ID : 26433065696  
Status : Answered  
Chosen Option : 3

Q.12 'जड़' शब्द के विलोम से दिए गए वाक्य के रिक्त स्थान की पूर्ति कीजिए।

हमें अपने \_\_\_\_\_ मन से ईश्वर को अनुभव करना चाहिए।

- Ans
- 1. मधुर
  - 2. निम्न
  - 3. मूल
  - 4. चेतन

Question ID : 26433063088  
Status : Answered  
Chosen Option : 1

Q.13 वाक्य में रेखांकित शब्द को दिए गए शब्दों में से उचित शब्द से बदले।

इलाहाबाद के लोगों के आश्वासन पर यमुना नदी पर पुल बना दिया गया।

- Ans
- 1. आग्रह
  - 2. विनती
  - 3. प्रार्थना
  - 4. आदेश

Question ID : 26433074411  
Status : Answered  
Chosen Option : 1

Q.14 वर्तनीगत अशुद्धियाँ न रहने वाला वाक्य चुनिए।

- Ans
- 1. धूआँ का रंग काला है।
  - 2. बच्चों, मेरी बातों सुनों।
  - 3. उस कारखाना में बहुत मजदूर है।
  - 4. मैंने दस रुपये का दही खरीदा।

Question ID : 26433063065  
Status : Answered  
Chosen Option : 1

Q.15 सद् कार्यो को हमेशा समर्थन मिलता है और गलत का \_\_\_\_\_ होता है।

समर्थन के विलोम शब्द से वाक्य पूर्ण करें।

- Ans
- 1. असमंजस
  - 2. असहयोग
  - 3. विरोध
  - 4. असमर्थ

Question ID : 26433080875

Status : Answered

Chosen Option : 3

**Comprehension:**

निम्नलिखित गद्यांश में से कुछ शब्द हटा दिए गए हैं। दिए गए विकल्पों की सहायता से रिक्त स्थानों की पूर्ति कीजिए। प्रत्येक संख्या के लिए उपयुक्त विकल्प का चयन कीजिए।

दुनिया में अब 1. \_\_\_\_\_ करोड़ों 2. \_\_\_\_\_ छप चुकी हैं। हजारों पुस्तकें रोज़ छपती हैं। तरह-तरह 3. \_\_\_\_\_ अक्षरों में हजारों की तादाद में रोज़ 4. \_\_\_\_\_ समाचार-पत्र छपते रहते हैं। इन सबके मूल में 5. \_\_\_\_\_, अक्षर।

SubQuestion No : 16

Q.16 रिक्त स्थान 1 की पूर्ति के लिए सर्वाधिक उपयुक्त विकल्प का चयन कीजिए।

- Ans
- 1. सब
  - 2. से
  - 3. कब
  - 4. तक

Question ID : 26433079597

Status : Answered

Chosen Option : 2

**Comprehension:**

निम्नलिखित गद्यांश में से कुछ शब्द हटा दिए गए हैं। दिए गए विकल्पों की सहायता से रिक्त स्थानों की पूर्ति कीजिए। प्रत्येक संख्या के लिए उपयुक्त विकल्प का चयन कीजिए।

दुनिया में अब 1. \_\_\_\_\_ करोड़ों 2. \_\_\_\_\_ छप चुकी हैं। हजारों पुस्तकें रोज़ छपती हैं। तरह-तरह 3. \_\_\_\_\_ अक्षरों में हजारों की तादाद में रोज़ 4. \_\_\_\_\_ समाचार-पत्र छपते रहते हैं। इन सबके मूल में 5. \_\_\_\_\_, अक्षर।

SubQuestion No : 17

Q.17 रिक्त स्थान 2 की पूर्ति के लिए सर्वाधिक उपयुक्त विकल्प का चयन कीजिए।

- Ans
- 1. पुस्तकें
  - 2. पुस्तकों
  - 3. परिणाम
  - 4. पाठ

Question ID : 26433079598

Status : Answered

Chosen Option : 1



**Comprehension:**

निम्नलिखित गद्यांश में से कुछ शब्द हटा दिए गए हैं। दिए गए विकल्पों की सहायता से रिक्त स्थानों की पूर्ति कीजिए। प्रत्येक संख्या के लिए उपयुक्त विकल्प का चयन कीजिए।

दुनिया में अब 1. \_\_\_\_\_ करोड़ों 2. \_\_\_\_\_ छप चुकी हैं। हजारों पुस्तकें रोज़ छपती हैं। तरह-तरह 3. \_\_\_\_\_ अक्षरों में हजारों की तादाद में रोज़ 4. \_\_\_\_\_ समाचार-पत्र छपते रहते हैं। इन सबके मूल में 5. \_\_\_\_\_, अक्षर।

**SubQuestion No : 18**

Q.18 रिक्त स्थान 3 की पूर्ति के लिए सर्वाधिक उपयुक्त विकल्प का चयन कीजिए।

- Ans  1. के  
 2. का  
 3. में  
 4. की

Question ID : 26433079599

Status : Answered

Chosen Option : 1

**Comprehension:**

निम्नलिखित गद्यांश में से कुछ शब्द हटा दिए गए हैं। दिए गए विकल्पों की सहायता से रिक्त स्थानों की पूर्ति कीजिए। प्रत्येक संख्या के लिए उपयुक्त विकल्प का चयन कीजिए।

दुनिया में अब 1. \_\_\_\_\_ करोड़ों 2. \_\_\_\_\_ छप चुकी हैं। हजारों पुस्तकें रोज़ छपती हैं। तरह-तरह 3. \_\_\_\_\_ अक्षरों में हजारों की तादाद में रोज़ 4. \_\_\_\_\_ समाचार-पत्र छपते रहते हैं। इन सबके मूल में 5. \_\_\_\_\_, अक्षर।

**SubQuestion No : 19**

Q.19 रिक्त स्थान 4 की पूर्ति के लिए सर्वाधिक उपयुक्त विकल्प का चयन कीजिए।

- Ans  1. भी  
 2. तक  
 3. भर  
 4. ही

Question ID : 26433079600

Status : Answered

Chosen Option : 4

**Comprehension:**

निम्नलिखित गद्यांश में से कुछ शब्द हटा दिए गए हैं। दिए गए विकल्पों की सहायता से रिक्त स्थानों की पूर्ति कीजिए। प्रत्येक संख्या के लिए उपयुक्त विकल्प का चयन कीजिए।

दुनिया में अब 1. \_\_\_\_\_ करोड़ों 2. \_\_\_\_\_ छप चुकी हैं। हजारों पुस्तकें रोज़ छपती हैं। तरह-तरह 3. \_\_\_\_\_ अक्षरों में हजारों की तादाद में रोज़ 4. \_\_\_\_\_ समाचार-पत्र छपते रहते हैं। इन सबके मूल में 5. \_\_\_\_\_, अक्षर।

**SubQuestion No : 20**

**Q.20** रिक्त स्थान 5 की पूर्ति के लिए सर्वाधिक उपयुक्त विकल्प का चयन कीजिए।

**Ans**

✓ 1. हैं

✗ 2. होती

✗ 3. होना

✗ 4. क्योंकि

Question ID : 26433079601

Status : Not Answered

Chosen Option : --

## Constable GD in CAPFs SSF Rifleman GD in Assam Rifles and Sepoy in NCB Examination 2022

Roll Number	
Candidate Name	
Venue Name	
Exam Date	01/02/2023
Exam Time	5:15 PM - 6:15 PM
Subject	Constable GD Examination 2022

### Section : Part-A-General Intelligence and Reasoning

Q.1 तीन कथनों के बाद दो निष्कर्ष दिए गए हैं। कथनों को सत्य मानते हुए, भले ही वे सामान्य रूप से ज्ञात तथ्यों से भिन्न प्रतीत होते हों, निर्णय करें कि कौन सा/से निष्कर्ष कथनों का तार्किक रूप से अनुसरण करता/करते है/हैं।

कथन:

सभी मेज लकड़ी हैं।

सभी लकड़ी पेंट हैं।

कोई पेंट स्टील नहीं है।

निष्कर्ष:

1. सभी स्टील लकड़ी हो सकते हैं।

2. कुछ पेंट स्टील हैं।

Ans  1. निष्कर्ष 1 और 2 दोनों अनुसरण करते हैं।

2. न तो निष्कर्ष 1 और न ही 2 अनुसरण करता है।

3. केवल निष्कर्ष 1 अनुसरण करता है।

4. केवल निष्कर्ष 2 अनुसरण करता है।

Q.2 निम्नलिखित में से कौन-सी संख्या दी गई श्रृंखला में प्रश्न चिह्न (?) के स्थान पर आएगी?  
16, 23, 34, 47, 64, ? , 106

Ans  1. 90

2. 98

3. 83

4. 86

Q.3 छः मित्र M, N, O, P, Q और R एक सीधी पंक्ति में उत्तर की ओर मुख करके बैठे हैं। N के बाईं ओर केवल तीन व्यक्ति बैठे हैं। O, N के दाईं ओर ठीक बगल में बैठा है। M और P, Q के ठीक बगल में इस प्रकार बैठे हैं, कि M, O के बाईं ओर चौथे स्थान पर है। R कहां बैठा है?

- Ans
- 1. O के बाईं ओर तीसरे स्थान पर
  - 2. M के दाईं ओर ठीक बगल में
  - 3. P के दाईं ओर तीसरे स्थान पर
  - 4. N के बाईं ओर दूसरे स्थान पर

Question ID : 26433074526

Status : Not Answered

Chosen Option : --

Q.4 उस विकल्प का चयन कीजिए जो तीसरे शब्द से उसी प्रकार संबंधित है जिस प्रकार दूसरा शब्द पहले शब्द से संबंधित है। (शब्दों को अर्थपूर्ण शब्दों के रूप में मानना है और उन्हें शब्द में अक्षरों/व्यंजनों/स्वरों की संख्या के आधार पर एक-दूसरे से संबंधित नहीं करना है।)  
अर्जेंटीना : पेसो :: जापान : ?

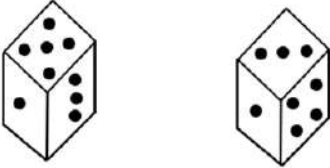
- Ans
- 1. येन
  - 2. क्रोना
  - 3. गिल्डर
  - 4. रियाल

Question ID : 26433067369

Status : Answered

Chosen Option : 1

Q.5 एक ही पासे की दो अलग-अलग स्थितियों को दर्शाया गया है जिस पर संख्या 1 से 6 को बिंदुओं के रूप में दर्शाया गया है। '5' दर्शाने वाले फलक के विपरीत फलक पर स्थित संख्या ज्ञात कीजिए।



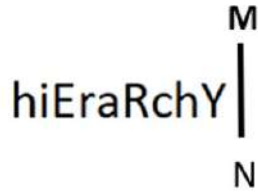
- Ans
- 1. 6
  - 2. 1
  - 3. 2
  - 4. 4

Question ID : 26433085524

Status : Answered

Chosen Option : 4

Q.6 दी गई आकृति के सही दर्पण प्रतिबिम्ब का चयन करें जब दर्पण को MN पर रखा जाए जैसा कि नीचे दर्शाया गया है।



Ans

✓ 1.

✗ 2.

✗ 3.

✗ 4.

Question ID : 26433085560

Status : Answered

Chosen Option : 1

Q.7 नीचे दिए गए समीकरण को गणितीय रूप से सही बनाने के लिए किन दो गणितीय चिह्नों को परस्पर बदलना चाहिए?

$$44 - 96 \times 4 \div 3 + 58 = 30$$

Ans ✓ 1. + और x

✗ 2. + और -

✗ 3. x और +

✗ 4. - और ÷

Q.8 कौन-सा अक्षर-समूह दी गई श्रृंखला में प्रश्नचिह्न (?) के स्थान पर आकर श्रृंखला को पूर्ण करेगा?  
ACEG, BDFH, ?, DFHJ, EGIK

Ans ✗ 1. CEHI

✗ 2. CFHJ

✓ 3. CEGI

✗ 4. CDEF

Question ID : 26433067710

Status : Answered

Chosen Option : 3

Q.9 किस विकल्प में निम्नलिखित शब्दों का वह क्रम दिया गया है, जिस क्रम में वे अंग्रेजी शब्दकोश में आते हैं।

- 1 power
- 2 pour
- 3 powder
- 4 pointed
- 5 polite

- Ans
- 1. 4,2,5,3,1
  - 2. 4,2,3,1,5
  - 3. 4,3,5,2,1
  - 4. 4,5,2,3,1

Question ID : 26433069283

Status : Answered

Chosen Option : 4

Q.10 उस विकल्प का चयन करें, जो पाँचवीं संख्या से उसी प्रकार संबंधित है, जिस प्रकार दूसरी संख्या, पहली संख्या से संबंधित है और चौथी संख्या, तीसरी संख्या से संबंधित है।  
15 : 4 :: 21 : 6 :: 42 : ?

- Ans
- 1. 8
  - 2. 12
  - 3. 11
  - 4. 13

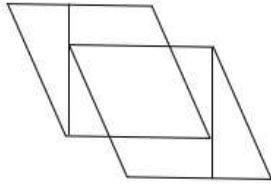
Question ID : 26433069416

Status : Answered

Chosen Option : 4

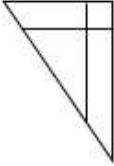
Q.11 वह विकल्प चित्र चुनिए, जो प्रस्तुत चित्र में अंतर्निहित है। (घुमाना अनुमन्य नहीं

है)

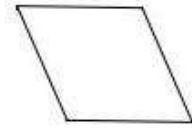


Ans

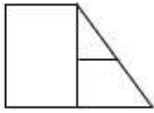
✗ 1.



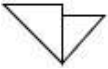
✓ 2.



✗ 3.



✗ 4.



Question ID : 26433069334

Status : Answered

Chosen Option : 2

Q.12 यदि श्रृंखला जारी रखनी है तो कौन-सी आकृति प्रश्न चिह्न (?) के स्थान पर

आएगी?

C	B	S	Z	4	B	S	C	?
4		C		Z		4		
S	Z	4	B	S	C	Z	B	

Ans

✓ 1.

Z	B
	C
S	4

✗ 2.

Z	B
	S
4	C

✗ 3.

4	S
	C
B	Z

✗ 4.

C	S
	B
4	Z

Question ID : 26433076635

Status : Answered

Chosen Option : 1

Q.13 कौन-सा अक्षर-समूह दी गई श्रृंखला में प्रश्नचिह्न (?) के स्थान पर आकर श्रृंखला को पूर्ण करेगा?  
CJEZ, ?, WFYV, TDVT, QBSR

Ans ✓ 1. ZHBX

✗ 2. BHAY

✗ 3. AGCX

✗ 4. BGAW

Question ID : 26433068039

Status : Answered

Chosen Option : 1



Q.14 एक निश्चित कूट भाषा में, 'ARGUE' को '22620926' और 'BEACH' को '1924262225' के रूप में लिखा जाता है। इसी कूट भाषा में 'ACCEL' को किस प्रकार से लिखा जाएगा?

- Ans
- 1. 1524242426
  - 2. 1252242426
  - 3. 1522242426
  - 4. 1522226426

Question ID : 26433069553  
Status : Answered  
Chosen Option : 3

Q.15 उस विकल्प का चयन कीजिए जो तीसरे शब्द से उसी प्रकार संबंधित है जिस प्रकार दूसरा शब्द पहले शब्द से संबंधित है। (शब्दों को अर्थपूर्ण शब्दों के रूप में मानना है और उन्हें शब्द में अक्षरों/व्यंजनों/स्वरों की संख्या के आधार पर एक-दूसरे से संबंधित नहीं करना है।)

सुनार : आभूषण :: मूर्तिकार : ?

- Ans
- 1. रेत
  - 2. रत्न
  - 3. संग्रहालय
  - 4. आवक्षमूर्ति

Question ID : 26433069582  
Status : Answered  
Chosen Option : 3

Q.16 नीचे दिए गए समीकरण को गणितीय रूप से सही बनाने के लिए किन संख्याओं(अंकों को नहीं) को परस्पर बदलना चाहिए?

$$108 \div 9 \times 16 + 12 - 27 = 126$$

- Ans
- 1. 27 और 9
  - 2. 16 और 9
  - 3. 12 और 27
  - 4. 9 और 12

Question ID : 264330117492  
Status : Answered  
Chosen Option : 4

Q.17 छह व्यक्ति J, K, L, M, N और O एक वृत्ताकार मेज के परितः केंद्र की ओर मुख करके बैठे हैं। J, N के दाईं ओर दूसरे स्थान पर बैठा है। O, M और J के ठीक बगल में बैठा है। K, L के बाईं ओर दूसरे स्थान पर बैठा है। O के दाईं ओर ठीक बगल में कौन बैठा है?

- Ans
- 1. L
  - 2. N
  - 3. M
  - 4. K

Question ID : 26433069479  
Status : Not Answered  
Chosen Option : --

Q.18 निम्न श्रंखला में प्रश्न-चिह्न (?) के स्थान पर कौन सी संख्या आएगी?  
1, 5, ?, 25, 41, 61

- Ans
- 1. 8
  - 2. 10
  - 3. 13
  - 4. 12

Question ID : 26433067842  
Status : Answered  
Chosen Option : 3

Q.19 एक निश्चित कूट भाषा में, 'heart games' को 'alarm coffee' के रूप में कूटबद्ध किया जाता है, 'wrap' को 'bottle' के रूप में कूटबद्ध किया जाता है और 'wrap games' को 'bottle coffee' के रूप में कूटबद्ध किया जाता है। 'heart' के लिए कूट शब्द क्या होगा?

- Ans
- 1. alarm
  - 2. wrap
  - 3. coffee
  - 4. bottle

Question ID : 26433079365  
Status : Answered  
Chosen Option : 1

Q.20 'A + B' का अर्थ है 'B, A का पिता है'  
'A - B' का अर्थ है 'B, A की माता है'  
'A @ B' का अर्थ है 'B, A का भाई है'  
'A \* B' का अर्थ है 'B, A का पुत्र है'  
यदि  $A * B + C @ D - E$  है, तो E, A से किस प्रकार संबंधित है?

- Ans
- 1. सास
  - 2. बहन
  - 3. माता
  - 4. भाभी

Question ID : 26433068532  
Status : Answered  
Chosen Option : 1

Section : Part-B-General Knowledge and General awareness

Q.1 राष्ट्रीय स्तर की क्रिकेट चैंपियनशिप, रणजी ट्रॉफी, \_\_\_\_\_ में शुरू हुई थी।

- Ans
- 1. 1944-1945
  - 2. 1934-1935
  - 3. 1953-1954
  - 4. 1950-1951

Question ID : 26433089922  
Status : Answered  
Chosen Option : 2

Q.2 2013 का राष्ट्रीय खाद्य और सुरक्षा अधिनियम (NFSA2013) भारत की ग्रामीण आबादी के \_\_\_\_\_ को सब्सिडी वाला खाद्यान्न प्रदान करता है।

- Ans
- 1. 85%
  - 2. 65%
  - 3. 75%
  - 4. 95%

Question ID : 264330116156  
Status : Not Answered  
Chosen Option : --

Q.3 राधा श्रीधर ने 2018 में \_\_\_\_\_ में संगीत नाटक अकादमी पुरस्कार जीता।

- Ans
- 1. ओडिसी
  - 2. मणिपुरी
  - 3. कथक
  - 4. भरतनाट्यम

Question ID : 264330115876  
Status : Answered  
Chosen Option : 1

Q.4 किसने भारत के 50वें मुख्य न्यायाधीश के रूप में शपथ ली है?

- Ans
- 1. उदय उमेश ललित
  - 2. नुथलापति वेंकट रमण
  - 3. धनंजय यशवंत चंद्रचूड़
  - 4. शरद अरविंद बोबडे

Question ID : 264330114982  
Status : Answered  
Chosen Option : 3

Q.5 द्रोणाचार्य खेल पुरस्कार \_\_\_\_\_ को दिया जाता है।

- Ans
- 1. टीम के अध्यक्ष
  - 2. टीम के कप्तान
  - 3. टीम के सर्वश्रेष्ठ खिलाड़ी
  - 4. टीम के कोच

Question ID : 264330116290  
Status : Answered  
Chosen Option : 4

Q.6 शिशु देखभाल संस्थान का कोई भी प्रभारी या कार्यरत कोई भी व्यक्ति, जो बच्चे को शारीरिक दंड देता है, वह \_\_\_\_\_ के अंतर्गत उत्तरदायी होगा।

- Ans
- 1. किशोर न्याय अधिनियम
  - 2. हिंदू उत्तराधिकार अधिनियम
  - 3. हिन्दू दत्तक अधिनियम
  - 4. भारतीय अधिवक्ता अधिनियम

Question ID : 264330116222  
Status : Answered  
Chosen Option : 1

Q.7 नगरपालिकाओं की शक्तियां, प्राधिकार और उत्तरदायित्व किस अनुसूची के अंतर्गत आते हैं?

- Ans
- 1. 10वीं
  - 2. 13वीं
  - 3. 11वीं
  - 4. 12वीं

Question ID : 264330115614  
Status : Answered  
Chosen Option : 4

Q.8 पश्चिमी समशीतोष्ण चक्रवातों के कारण सर्दियों के महीनों में \_\_\_\_\_ की उपलब्धता रबी फसलों की सफलता में मदद करती है।

- Ans
- 1. पाले (frost)
  - 2. पवन (wind)
  - 3. कोहरे (fog)
  - 4. वर्षण (precipitation)

Question ID : 264330115526  
Status : Answered  
Chosen Option : 4

Q.9 निम्न में से कौन सा अपघटन का दूसरा चरण है?

- Ans
- 1. विखंडन
  - 2. ह्यूमसीभवन
  - 3. निक्षालन
  - 4. अपचय

Question ID : 264330115252  
Status : Answered  
Chosen Option : 1

Q.10 कौन सा भारतीय संगठन देश में गरीबी पर डेटा एकत्र करने के लिए जिम्मेदार है?

- Ans  1. राष्ट्रीय नमूना सर्वेक्षण संगठन  
 2. नीति (NITI) आयोग  
 3. राष्ट्रीय सामाजिक अधिकारिता संगठन  
 4. भारतीय रजिस्ट्रार जनरल और जनगणना आयुक्त का कार्यालय

Question ID : 264330116076  
Status : Answered  
Chosen Option : 4

Q.11 सितंबर 1948 में, भारतीय सेना ने अपने हस्तक्षेप द्वारा किस रियासत पर अधिकार स्थापित कर लिया था?

- Ans  1. त्रिपुरा  
 2. असम  
 3. हैदराबाद  
 4. उत्तर प्रदेश

Question ID : 264330115688  
Status : Answered  
Chosen Option : 3

Q.12 निम्नलिखित में से किस मौर्य राजा ने धम्म की अवधारणा को लोकप्रिय बनाया था?

- Ans  1. अशोक  
 2. बिंदुसार  
 3. चंद्रगुप्त  
 4. दशरथ

Question ID : 264330115452  
Status : Answered  
Chosen Option : 1

Q.13 एक उपकरण, जो परिपथ में धारा की उपस्थिति का पता लगा सकता है, उसे \_\_\_\_\_ के रूप में जाना जाता है।

- Ans  1. ओडोमीटर  
 2. स्पीडोमीटर  
 3. एमीटर  
 4. हाइग्रोमीटर

Question ID : 26433089647  
Status : Answered  
Chosen Option : 3

Q.14 किसी पर्वत के प्रतिपवन दिशा में स्थित शुष्क भूमि के क्षेत्र को क्या कहते हैं?

- Ans  1. वर्षा वंचित क्षेत्र  
 2. पहाड़ी क्षेत्र  
 3. अनुवात दिशा  
 4. प्रतिपवन दिशा

Question ID : 264330115981  
Status : Answered  
Chosen Option : 1

Q.15 मई 2022 में किस राजनीतिक नेता ने पार्टी नेतृत्व के साथ मतभेदों के चलते भारतीय राष्ट्रीय कांग्रेस छोड़ दी?

- Ans  1. मल्लिकार्जुन खड़गे  
 2. शशि थरूर  
 3. कपिल सिब्बल  
 4. सोनिया गांधी

Question ID : 264330114914  
Status : Answered  
Chosen Option : 1

Q.16 15 मार्च, 1950 को योजना आयोग का गठन \_\_\_\_\_ की अध्यक्षता में किया गया था।

- Ans  1. एपीजे अब्दुल कलाम  
 2. सुभाष चंद्र बोस  
 3. जवाहर लाल नेहरू  
 4. इंदिरा गांधी

Question ID : 264330115380  
Status : Answered  
Chosen Option : 3

Q.17 मंत्रिपरिषद सामूहिक रूप से \_\_\_\_\_ के प्रति उत्तरदायी होती है।

- Ans  1. लोक सभा  
 2. राज्यपाल  
 3. जनता  
 4. मुख्यमंत्री

Question ID : 26433086672  
Status : Answered  
Chosen Option : 3

Q.18 ऐसी सरकारी वस्तुएं और सेवाएं जो सीधे उपभोक्ताओं को नहीं बेची जाती हैं, उदाहरण के लिए रक्षा सामान, सड़कें निम्न में से किसके अंतर्गत वर्गीकृत की जाती हैं?

- Ans  1. सार्वजनिक वस्तुएं  
 2. निजी वस्तुएं  
 3. महंगी वस्तुएं  
 4. अंतरराष्ट्रीय वस्तुएं

Question ID : 264330115279  
Status : Answered  
Chosen Option : 1

Q.19 असम में कितने प्रकार के बिहू उत्सव मनाए जाते हैं?

- Ans  1. 3  
 2. 2  
 3. 6  
 4. 5

Question ID : 264330106203  
Status : Answered  
Chosen Option : 2

Q.20 कालजयी कृति, 'हस्तलक्षण दीपिका' किस भारतीय शास्त्रीय नृत्य शैली से संबंधित है?

- Ans  1. कुचिपुड़ी  
 2. सत्रीया  
 3. भरतनाट्यम  
 4. कथकली

Question ID : 26433069902  
Status : Answered  
Chosen Option : 2

Section : Part-C-Elementary Mathematics

Q.1 एक तूफान में एक बगीचे के 300 पेड़ों में से 243 पेड़ स्थिर रह गए। पेड़ों की संख्या में प्रतिशत कमी क्या है?

- Ans  1. 19 प्रतिशत  
 2. 22 प्रतिशत  
 3. 21 प्रतिशत  
 4. 24 प्रतिशत

Question ID : 264330116826  
Status : Answered  
Chosen Option : 1

Q.2

$$\frac{3126^{20} 21^{22} 23^{---}}{5}$$

का शेषफल ज्ञात कीजिए

- Ans
- 1. 0
  - 2. 1
  - 3. 4
  - 4. 2

Question ID : 26433080385

Status : Answered

Chosen Option : 2

Q.3 A की चाल B की चाल से 30% अधिक है। यदि A और B, 117 m लंबी दौड़ में दौड़ लगाते हैं, तो A को दौड़ की लंबाई का कितना भाग B को शुरुआती बढ़त के रूप में देना चाहिए, ताकि दौड़ बराबरी पर समाप्त हो सके?

- Ans
- 1. 117 m
  - 2. 90 m
  - 3. 36 m
  - 4. 27 m

Question ID : 26433080051

Status : Not Attempted and Marked For Review

Chosen Option : --

Q.4 एक व्यक्ति 8 घंटे में 320 kms ड्राइव करता है, 5 घंटे में 40 kms साइकिल चलाता है और फिर 7 घंटे में 40 kms चलता है। चालक की औसत गति ज्ञात करें।

- Ans
- 1. 22 kmph
  - 2. 22.22 kmph
  - 3. 18 kmph
  - 4. 20 kmph

Question ID : 264330116686

Status : Answered

Chosen Option : 4



Q.5 एक दुकानदार अपने माल को क्रय मूल्य पर 10 प्रतिशत की हानि पर बेचता है लेकिन 30 प्रतिशत कम वजन के बाट का उपयोग करता है। उसका लाभ क्या है?

Ans

✗ 1.  $20\frac{3}{7}$  प्रतिशत

✗ 2.  $25\frac{5}{7}$  प्रतिशत

✗ 3.  $21\frac{4}{7}$  प्रतिशत

✓ 4.  $28\frac{4}{7}$  प्रतिशत

Question ID : 26433079864

Status : Answered

Chosen Option : 4

Q.6 दो वर्ष पहले, एक शहर की जनसंख्या 66000 थी। पहले वर्ष में जनसंख्या में 5% की वृद्धि हुई और दूसरे वर्ष में 5% की कमी हुई। शहर की वर्तमान जनसंख्या ज्ञात कीजिए।

Ans

✗ 1. 65583

✗ 2. 63855

✓ 3. 65835

✗ 4. 68553

Question ID : 26433075196

Status : Answered

Chosen Option : 3

Q.7 15% और 25% की दो क्रमिक छूट के बराबर एकल छूट कितनी होगी?

Ans

✗ 1.  $38\frac{1}{4}\%$

✓ 2.  $36\frac{1}{4}\%$

✗ 3.  $21\frac{1}{4}\%$

✗ 4.  $26\frac{3}{4}\%$

Question ID : 26433061070

Status : Answered

Chosen Option : 2

Q.8 एक डीलर सभी गुड़ियों पर 20% की छूट प्रदान करता है। वह उन ग्राहकों को कम हुई कीमत पर 5% की अतिरिक्त छूट प्रदान करता है जो नकद भुगतान करते हैं। एक ग्राहक Rs.1,800 की कीमत वाली गुड़िया के लिए नकद में कितना भुगतान करेगा?

- Ans
- 1. Rs.1,225
  - 2. Rs.800
  - 3. Rs.1,532
  - 4. Rs.1,368

Question ID : 26433083041

Status : Answered

Chosen Option : 4

Q.9 Rs.500 को A, B, C और D में इस तरह से विभाजित कीजिये जिससे A और B की धनराशि मिलाकर, C और D को मिलाकर मिली धनराशि की तीन गुना हो, B की धनराशि C की धनराशि की 4 गुना हो और C की धनराशि D की धनराशि की 1.5 गुना हो। B के हिस्से का मान ज्ञात कीजिए।

- Ans
- 1. Rs.125
  - 2. Rs.75
  - 3. Rs.250
  - 4. Rs.300

Question ID : 26433076038

Status : Answered

Chosen Option : 1

Q.10 एक व्यक्ति के वेतन में पहले 40 प्रतिशत की कमी की जाती है और फिर 40 प्रतिशत की वृद्धि की जाती है। वेतन में प्रतिशत कमी क्या है?

- Ans
- 1. 15 प्रतिशत
  - 2. 16 प्रतिशत
  - 3. 18 प्रतिशत
  - 4. 12 प्रतिशत

Question ID : 26433079854

Status : Answered

Chosen Option : 2

Q.11 एक शंकाकार बर्तन के आधार की त्रिज्या 5 cm है और इसकी ऊंचाई 24 cm है। बर्तन पूरी तरह से पानी से भरा हुआ है। इस पानी को एक ऐसे बेलनाकार बर्तन में डाला जाता है जिसके आधार की त्रिज्या 10 cm है। बेलनाकार बर्तन में पानी की गहराई क्या होगी?

- Ans
- 1. 1 cm
  - 2. 4 cm
  - 3. 2 cm
  - 4. 3 cm

Question ID : 26433075213

Status : Not Answered

Chosen Option : --

Q.12 P उतना कार्य कर सकता है जितना Q और R मिलकर कर सकते हैं। P और Q मिलकर एक कार्य को 8 घंटे और 24 मिनट में कर सकते हैं और R इसे 42 घंटे में कर सकता है। वह समय (घंटों में) ज्ञात करें जो Q को अकेले कार्य करने के लिए चाहिए।

- Ans
- 1. 24 घंटे
  - 2. 20 घंटे
  - 3. 21 घंटे
  - 4. 22 घंटे

Question ID : 264330116906  
Status : Not Answered  
Chosen Option : --

Q.13 एक बेलन का कुल पृष्ठीय क्षेत्रफल ज्ञात कीजिए जिसकी ऊँचाई 8.5 mm और आधार व्यास 10 mm है।

- Ans
- 1.  $85.5\pi \text{ mm}^2$
  - 2.  $67.5\pi \text{ mm}^2$
  - 3.  $135\pi \text{ mm}^2$
  - 4.  $120\pi \text{ mm}^2$

Question ID : 26433080249  
Status : Answered  
Chosen Option : 2

Q.14 तीन साझेदार A, B और C ने एक व्यवसाय शुरू किया और लाभ को क्रमशः 2 : 3 : 5 के अनुपात में बाँटने का फैसला किया। यदि B का हिस्सा Rs.7,50,000 है, तो कुल लाभ की गणना कीजिए।

- Ans
- 1. Rs.27,00,000
  - 2. Rs.25,00,000
  - 3. Rs.20,00,000
  - 4. Rs.24,00,000

Question ID : 26433075976  
Status : Answered  
Chosen Option : 2

Q.15 एक निश्चित राशि पर 5 वर्षों में 7% वार्षिक की दर से Rs.4,016.25 का साधारण ब्याज प्राप्त होता है। मूल राशि ज्ञात कीजिए?

- Ans
- 1. Rs.10,475
  - 2. Rs.11,475
  - 3. Rs.11,400
  - 4. Rs.9,475

Question ID : 26433075237  
Status : Answered  
Chosen Option : 2

Q.16 प्रथम 4 प्राकृत संख्याओं के घन का औसत क्या होगा?

- Ans  1. 100  
 2. 25  
 3. 50  
 4. 75

Question ID : 26433075718  
Status : Answered  
Chosen Option : 2

Q.17 यदि 6 पुरुष या 8 महिलाएं 21.5 दिनों में एक खेत की कटाई कर सकते हैं। 14 पुरुष और 10 महिलाएं इसे काटने में कितना समय लेंगे?

- Ans  1. 9 दिन  
 2. 8 दिन  
 3. 12 दिन  
 4. 6 दिन

Question ID : 26433076209  
Status : Answered  
Chosen Option : 4

Q.18 192 और 480 का लघुत्तम समापवर्त्य X के 100 गुना से 60 अधिक है। X का मान क्या है?

- Ans  1. 18  
 2. 12  
 3. 6  
 4. 9

Question ID : 264330116631  
Status : Answered  
Chosen Option : 4

Q.19 एक यात्रा में, ठहरावों को छोड़कर एक ट्रक की चाल 90 km/h है, और ठहरावों के साथ ट्रक की चाल 36 km/h है। वह ट्रक प्रति घंटे कितने मिनट के लिए रुकता है?

- Ans  1. 54 मिनट  
 2. 40 मिनट  
 3. 42 मिनट  
 4. 36 मिनट

Question ID : 26433074939  
Status : Answered  
Chosen Option : 1

Q.20 रीता Rs.12,000 में एक खिलौना कार खरीदती है और उसे Rs.14,500 में बेच देती है। उसका लाभ प्रतिशत (दशमलव के बाद दो अंक तक पूर्णांकित) ज्ञात कीजिए।

- Ans  1. 20.83%
2. 14.50%
3. 22%
4. 18%

Question ID : 26433074920  
Status : Answered  
Chosen Option : 1

Section : Part-D-English

Q.1 Select the most appropriate word to complete the meaning of the sentence.

The new owners of the newspaper had changed the \_\_\_\_\_ completely.

- Ans  1. outlet
2. layout
3. outlay
4. outlook

Question ID : 26433088875  
Status : Not Answered  
Chosen Option : --

Q.2 The following sentence has been divided into parts. One of them may contain an error. Select the part that contains the error from the given options. If you don't find any error, mark 'No error' as your answer.

For the last three years, / Sunita had been running / private hostels near this university.

- Ans  1. For the last three years
2. No error
3. private hostels near this university
4. Sunita had been running

Question ID : 26433073763  
Status : Not Answered  
Chosen Option : --

Q.3 Identify from the following options the word which is OPPOSITE in meaning to the given word.  
Opaque

- Ans  1. Intangible
2. Transparent
3. Shadowy
4. Reflector

Question ID : 26433088816  
Status : Not Answered  
Chosen Option : --

Q.4 Select the most appropriate option to fill in the blank.

The skeleton of an unknown person has been hanging on the tree \_\_\_\_\_ last Wednesday.

- Ans
- 1. about
  - 2. through
  - 3. for
  - 4. since

Question ID : 26433074364  
Status : Not Answered  
Chosen Option : --

Q.5 Select the most appropriate meaning of the underlined idiom in the given sentence.

The second wave of the pandemic left everyone in the doldrums.

- Ans
- 1. In low spirits and despair
  - 2. In deep sympathy
  - 3. In need of help
  - 4. In confusion

Question ID : 26433073759  
Status : Not Answered  
Chosen Option : --

Q.6 The sentence given below has one misspelt word. Spot the INCORRECTLY spelt word and select its correct spelling.

Too much bureacracy suppresses creativity.

- Ans
- 1. Burocracy
  - 2. Bureaukracy
  - 3. Bureaucracy
  - 4. Burreaukracy

Question ID : 26433073555  
Status : Not Answered  
Chosen Option : --

Q.7 Select the most appropriate synonym of the given word.

Hesitation

- Ans
- 1. Creativity
  - 2. Readiness
  - 3. Reluctance
  - 4. Prudence

Question ID : 26433073465  
Status : Not Answered  
Chosen Option : --

**Q.8** Select the most appropriate option that can substitute the underlined segment in the given sentence.

She couldn't get over with Thomas due to his addiction to alcohol.

- Ans
- 1. get rid with Thomas due to
  - 2. get at with Thomas due to
  - 3. get along with Thomas due to
  - 4. get off with Thomas due to

Question ID : 264330100989  
Status : Not Answered  
Chosen Option : --

**Q.9** Select the correct word for the blanks in the given sentence.

There is a provision of \_\_\_\_\_ delivery in every courier service whereas a child can \_\_\_\_\_ his feelings at the age of 2 years or so.

- Ans
- 1. normal
  - 2. slow
  - 3. express
  - 4. fast

Question ID : 26433060536  
Status : Not Answered  
Chosen Option : --

**Q.10** Select the most appropriate ANTONYM of the underlined word in the following sentence.

His ancestors are native to this place.

- Ans
- 1. Community
  - 2. Innate
  - 3. Foreign
  - 4. Enemy

Question ID : 26433072240  
Status : Not Answered  
Chosen Option : --

**Q.11** Select the INCORRECTLY spelt word.

- Ans
- 1. Doubtful
  - 2. Willfull
  - 3. Powerful
  - 4. Grateful

Question ID : 26433072458  
Status : Not Answered  
Chosen Option : --

Q.12 Select the most appropriate synonym of the given word.

Colossal

- Ans  1. Fantastic  
 2. Immense  
 3. Joyous  
 4. Entertaining

Question ID : 26433088997  
Status : Not Answered  
Chosen Option : --

Q.13 Select the most appropriate ANTONYM of the given word.

Dream

- Ans  1. Fancy  
 2. Imagination  
 3. Delusion  
 4. Reality

Question ID : 26433072208  
Status : Not Answered  
Chosen Option : --

Q.14 Select the most appropriate option that can substitute the underlined segment in the given sentence.

The mob broke up the norms of the country.

- Ans  1. disturb  
 2. damaged  
 3. violated  
 4. invade

Question ID : 26433086464  
Status : Not Answered  
Chosen Option : --

Q.15 Select the most appropriate meaning of the given idiom.

Where the shoe pinches

- Ans  1. Tight fitting shoes  
 2. Where the comfort is more  
 3. Expensive shoes  
 4. Where the difficulty lies

Question ID : 26433072221  
Status : Not Answered  
Chosen Option : --



**Comprehension:**

In the following passage, some words have been deleted. Read the passage carefully and select the most appropriate option to fill in each blank.

The life (1) \_\_\_\_\_ of a banana is a colourful one; it starts with a deep green, changes to a delicious yellow and ends at an unappetizing brown. Bananas, like most fruits, produce and (2) \_\_\_\_\_ with an airborne hormone called ethylene. This hormone helps to signal the ripening process. An unripe fruit is hard and acidic. It is likely to possess a greenish (3) \_\_\_\_\_ due to the presence of chlorophyll. When a fruit comes into contact (4) \_\_\_\_\_ ethylene, the acids in the fruit start to break down, it becomes softer and the green chlorophyll is (5) \_\_\_\_\_ and replaced, in the case of bananas, with a yellow hue.

**SubQuestion No : 16**

**Q.16 Select the most appropriate option to fill in blank number 1.**

Ans  1. span

2. cycle

3. story

4. time

Question ID : 26433072056

Status : **Not Answered**

Chosen Option : --

**Comprehension:**

In the following passage, some words have been deleted. Read the passage carefully and select the most appropriate option to fill in each blank.

The life (1) \_\_\_\_\_ of a banana is a colourful one; it starts with a deep green, changes to a delicious yellow and ends at an unappetizing brown. Bananas, like most fruits, produce and (2) \_\_\_\_\_ with an airborne hormone called ethylene. This hormone helps to signal the ripening process. An unripe fruit is hard and acidic. It is likely to possess a greenish (3) \_\_\_\_\_ due to the presence of chlorophyll. When a fruit comes into contact (4) \_\_\_\_\_ ethylene, the acids in the fruit start to break down, it becomes softer and the green chlorophyll is (5) \_\_\_\_\_ and replaced, in the case of bananas, with a yellow hue.

**SubQuestion No : 17**

**Q.17 Select the most appropriate option to fill in blank number 2.**

Ans  1. differ

2. correspond

3. tamper

4. react

Question ID : 26433072057

Status : **Not Answered**

Chosen Option : --

**Comprehension:**

In the following passage, some words have been deleted. Read the passage carefully and select the most appropriate option to fill in each blank.

The life (1) \_\_\_\_\_ of a banana is a colourful one; it starts with a deep green, changes to a delicious yellow and ends at an unappetizing brown. Bananas, like most fruits, produce and (2) \_\_\_\_\_ with an airborne hormone called ethylene. This hormone helps to signal the ripening process. An unripe fruit is hard and acidic. It is likely to possess a greenish (3) \_\_\_\_\_ due to the presence of chlorophyll. When a fruit comes into contact (4) \_\_\_\_\_ ethylene, the acids in the fruit start to break down, it becomes softer and the green chlorophyll is (5) \_\_\_\_\_ and replaced, in the case of bananas, with a yellow hue.

**SubQuestion No : 18**

**Q.18 Select the most appropriate option to fill in blank number 3.**

- Ans  1. hue  
 2. fibre  
 3. seed  
 4. flesh

Question ID : 26433072058

Status : Not Answered

Chosen Option : --

**Comprehension:**

In the following passage, some words have been deleted. Read the passage carefully and select the most appropriate option to fill in each blank.

The life (1) \_\_\_\_\_ of a banana is a colourful one; it starts with a deep green, changes to a delicious yellow and ends at an unappetizing brown. Bananas, like most fruits, produce and (2) \_\_\_\_\_ with an airborne hormone called ethylene. This hormone helps to signal the ripening process. An unripe fruit is hard and acidic. It is likely to possess a greenish (3) \_\_\_\_\_ due to the presence of chlorophyll. When a fruit comes into contact (4) \_\_\_\_\_ ethylene, the acids in the fruit start to break down, it becomes softer and the green chlorophyll is (5) \_\_\_\_\_ and replaced, in the case of bananas, with a yellow hue.

**SubQuestion No : 19**

**Q.19 Select the most appropriate option to fill in blank number 4.**

- Ans  1. with  
 2. from  
 3. over  
 4. by

Question ID : 26433072059

Status : Not Answered

Chosen Option : --

**Comprehension:**

In the following passage, some words have been deleted. Read the passage carefully and select the most appropriate option to fill in each blank.

The life (1) \_\_\_\_\_ of a banana is a colourful one; it starts with a deep green, changes to a delicious yellow and ends at an unappetizing brown. Bananas, like most fruits, produce and (2) \_\_\_\_\_ with an airborne hormone called ethylene. This hormone helps to signal the ripening process. An unripe fruit is hard and acidic. It is likely to possess a greenish (3) \_\_\_\_\_ due to the presence of chlorophyll. When a fruit comes into contact (4) \_\_\_\_\_ ethylene, the acids in the fruit start to break down, it becomes softer and the green chlorophyll is (5) \_\_\_\_\_ and replaced, in the case of bananas, with a yellow hue.

**SubQuestion No : 20**

**Q.20** Select the most appropriate option to fill in blank number 5.

- Ans
- 1. brought to
  - 2. fallen into
  - 3. turned down
  - 4. broken up

Question ID : 26433072060

Status : Not Answered

Chosen Option : --

**Section : Part-D-Hindi**

**Q.1** निम्नलिखित वाक्य में रेखांकित शब्द के विलोम शब्द का प्रयोग करके रिक्तस्थान की पूर्ति कीजिए-  
बादल से वर्षा की सम्भावना कम ही होती है, स्याह बादल वर्षा के परिचायक हैं।

- Ans
- 1. श्याम
  - 2. अंधेरा
  - 3. काला
  - 4. सफेद

Question ID : 26433091346

Status : Answered

Chosen Option : 1

**Q.2** 'सुंदरी' के लिए पर्याय शब्द निम्न में से क्या होगा?

- Ans
- 1. भामा
  - 2. सुदर्शना
  - 3. वनिता
  - 4. रानी

Question ID : 26433069943

Status : Answered

Chosen Option : 1

Q.3 'जिस स्त्री के पुत्र और पति न हो' वाक्यांश के लिए इनमें से सही शब्द क्या है?

- Ans  1. अवीरा  
 2. सधवा  
 3. कबीरा  
 4. विधवा

Question ID : 26433092245  
Status : Answered  
Chosen Option : 1

Q.4 'बरसात के चार महीने' वाक्यांश के लिए सार्थक शब्द है-

- Ans  1. बारहमासा  
 2. चारमासा  
 3. चौमासा  
 4. बरसात

Question ID : 26433062227  
Status : Answered  
Chosen Option : 3

Q.5 निम्नलिखित वाक्य के किस खंड में अशुद्धि है?  
महादेवी वर्मा बड़ी जीवंत कवयित्री थीं।

- Ans  1. जीवंत  
 2. थीं  
 3. कवयित्री  
 4. बड़ी

Question ID : 26433066750  
Status : Answered  
Chosen Option : 3

Q.6 रीता ने समीर के स्वभाव के बारे में जो बात कही है, वह \_\_\_\_\_ आने सही है।  
उपरोक्त वाक्य में रिक्त स्थान की पूर्ति उचित मुहावरे द्वारा कीजिए।

- Ans  1. बारह  
 2. आठ  
 3. चार  
 4. सोलह

Question ID : 26433062616  
Status : Answered  
Chosen Option : 4

Q.7 निम्न वाक्य में रेखांकित अंश के लिए उचित मुहावरा दिए गए विकल्पों में से चुनिए।  
बेटा अच्छे अंकों से पास हो गया, माँ के मन को शांति मिली।

- Ans  1. कलेजा ठंडा होना  
 2. कलम तोड़ना  
 3. कली खिलना  
 4. काँटा दूर होना

Question ID : 26433062302  
Status : Answered  
Chosen Option : 1

Q.8 “जयेश ने खाना खाया।”  
उपरोक्त वाक्य का अपूर्ण वर्तमानकाल में रूपांतरण क्या होगा?

- Ans  1. जयेश खाना खा रहा है।  
 2. शायद जयेश खाना खा रहा हो।  
 3. जयेश ने खाना खाया होगा।  
 4. जयेश ने खाना खा रहा होगा।

Question ID : 26433066977  
Status : Answered  
Chosen Option : 1

Q.9 निम्नलिखित में से शुद्ध वाक्य है-

- Ans  1. मोहन श्याम की अपेक्षा शिष्ट है।  
 2. मोहन श्याम की अपेक्षा सिष्ट है।  
 3. मोहन श्याम की अपेक्ष शिष्ट है।  
 4. मोहन श्याम की अपेक्षा सिस्टर है।

Question ID : 26433066840  
Status : Answered  
Chosen Option : 1

Q.10 निम्नलिखित शब्दों में से कौन सा शब्द अनेकार्थी शब्द है?

- Ans  1. मेंढक  
 2. मुद्रा  
 3. बोरा  
 4. मोती

Question ID : 26433091317  
Status : Answered  
Chosen Option : 2

Q.11 निम्नलिखित वाक्यांश के लिए एक सार्थक शब्द क्या होगा?  
जो इच्छा के अधीन है

- Ans
- 1. आंशिक
  - 2. अमानत
  - 3. ऐच्छिक
  - 4. आशातीत

Question ID : 26433069987  
Status : Answered  
Chosen Option : 3

Q.12 कौन से विकल्प में क्रमशः अकर्मक-सकर्मक क्रिया का सही युग्म दिया गया है।

- Ans
- 1. गिरना, देना
  - 2. खाना, लिखना
  - 3. बैठना, लेटना
  - 4. कहना, सोना

Question ID : 26433063046  
Status : Answered  
Chosen Option : 3

Q.13 "सुजय राघव को पुस्तक दिया।"  
उपरोक्त वाक्य में कारक सम्बन्धी त्रुटि पहचानकर निम्नलिखित में से शुद्ध वाक्य का चयन कीजिए।

- Ans
- 1. सुजय राघव की पुस्तक दी।
  - 2. सुजय राघव की पुस्तक दिया।
  - 3. सुजय ने राघव का पुस्तक दिया।
  - 4. सुजय ने राघव को पुस्तक दी।

Question ID : 26433066964  
Status : Answered  
Chosen Option : 4

Q.14 निम्नलिखित वाक्य में रेखांकित एकार्थी शब्द युग्म का उपयुक्त अर्थ बताएं।  
हमारे गाँव में पीपल के 'शाप्त-सप्त' पेड़ हैं।

- Ans
- 1. शापित-सात
  - 2. नापित-शापित
  - 3. शुभ-लाभ
  - 4. दो बार सात-सात

Question ID : 26433091331  
Status : Answered  
Chosen Option : 1

Q.15 आधुनिक लोग गोबर को कम महत्व देते हैं।  
उपरोक्त वाक्य में 'गोबर' के बदले आप कौन सा पद प्रयोग करेंगे?

- Ans
- 1. कुसुम
  - 2. अक्षत
  - 3. तुलसी
  - 4. गोमय

Question ID : 26433062689  
Status : Answered  
Chosen Option : 4

**Comprehension:**

निम्नलिखित गद्यांश में कुछ शब्दों को हटा दिया गया है। दिए गए विकल्पों की सहायता से रिक्त स्थानों की पूर्ति कीजिए। प्रत्येक संख्या के लिए सबसे उपयुक्त विकल्प का चयन कीजिए।  
भारत कृषि प्रधान 1. \_\_\_\_\_ है। यहाँ की अधिकांश जनता 2. \_\_\_\_\_ करती है। कृषि ही उसकी जीविका का साधन है और यही व्यवसाय है। कृषक आज भी 3. \_\_\_\_\_ में रहता है। यद्यपि कुछ दशकों से यह दिखाई दे रहा है कि भारत का किसान अपना व्यवसाय छोड़कर 4. \_\_\_\_\_ की ओर भाग रहा है। फिर भी नगर और गाँवों के बीच की भूमि पर आज भी 5. \_\_\_\_\_ होती है।

**SubQuestion No : 16**

Q.16 रिक्त स्थान 1 की पूर्ति के लिए सबसे उपयुक्त विकल्प का चयन कीजिए।

- Ans
- 1. क्षेत्र
  - 2. नगर
  - 3. देश
  - 4. राज्य

Question ID : 264330110981  
Status : Answered  
Chosen Option : 3

**Comprehension:**

निम्नलिखित गद्यांश में कुछ शब्दों को हटा दिया गया है। दिए गए विकल्पों की सहायता से रिक्त स्थानों की पूर्ति कीजिए। प्रत्येक संख्या के लिए सबसे उपयुक्त विकल्प का चयन कीजिए।  
भारत कृषि प्रधान 1. \_\_\_\_\_ है। यहाँ की अधिकांश जनता 2. \_\_\_\_\_ करती है। कृषि ही उसकी जीविका का साधन है और यही व्यवसाय है। कृषक आज भी 3. \_\_\_\_\_ में रहता है। यद्यपि कुछ दशकों से यह दिखाई दे रहा है कि भारत का किसान अपना व्यवसाय छोड़कर 4. \_\_\_\_\_ की ओर भाग रहा है। फिर भी नगर और गाँवों के बीच की भूमि पर आज भी 5. \_\_\_\_\_ होती है।

**SubQuestion No : 17**

Q.17 रिक्त स्थान 2 की पूर्ति के लिए सबसे उपयुक्त विकल्प का चयन कीजिए।

- Ans
- 1. व्यवसाय
  - 2. खेती
  - 3. खेल
  - 4. नाटक

Question ID : 264330110982  
Status : Answered  
Chosen Option : 2

**Comprehension:**

निम्नलिखित गद्यांश में कुछ शब्दों को हटा दिया गया है। दिए गए विकल्पों की सहायता से रिक्त स्थानों की पूर्ति कीजिए। प्रत्येक संख्या के लिए सबसे उपयुक्त विकल्प का चयन कीजिए।  
भारत कृषि प्रधान 1. \_\_\_\_\_ है। यहाँ की अधिकांश जनता 2. \_\_\_\_\_ करती है। कृषि ही उसकी जीविका का साधन है और यही व्यवसाय है। कृषक आज भी 3. \_\_\_\_\_ में रहता है। यद्यपि कुछ दशकों से यह दिखाई दे रहा है कि भारत का किसान अपना व्यवसाय छोड़कर 4. \_\_\_\_\_ की ओर भाग रहा है। फिर भी नगर और गाँवों के बीच की भूमि पर आज भी 5. \_\_\_\_\_ होती है।

**SubQuestion No : 18**

Q.18 रिक्त स्थान 3 की पूर्ति के लिए सबसे उपयुक्त विकल्प का चयन कीजिए।

- Ans
- 1. शहरों
  - 2. विश्व
  - 3. गाँवों
  - 4. देश

Question ID : 264330110983

Status : Answered

Chosen Option : 3

**Comprehension:**

निम्नलिखित गद्यांश में कुछ शब्दों को हटा दिया गया है। दिए गए विकल्पों की सहायता से रिक्त स्थानों की पूर्ति कीजिए। प्रत्येक संख्या के लिए सबसे उपयुक्त विकल्प का चयन कीजिए।  
भारत कृषि प्रधान 1. \_\_\_\_\_ है। यहाँ की अधिकांश जनता 2. \_\_\_\_\_ करती है। कृषि ही उसकी जीविका का साधन है और यही व्यवसाय है। कृषक आज भी 3. \_\_\_\_\_ में रहता है। यद्यपि कुछ दशकों से यह दिखाई दे रहा है कि भारत का किसान अपना व्यवसाय छोड़कर 4. \_\_\_\_\_ की ओर भाग रहा है। फिर भी नगर और गाँवों के बीच की भूमि पर आज भी 5. \_\_\_\_\_ होती है।

**SubQuestion No : 19**

Q.19 रिक्त स्थान 4 की पूर्ति के लिए सबसे उपयुक्त विकल्प का चयन कीजिए।

- Ans
- 1. दूसरे देशों
  - 2. भूमि
  - 3. खेतों
  - 4. शहरों

Question ID : 264330110984

Status : Answered

Chosen Option : 4



**Comprehension:**

निम्नलिखित गद्यांश में कुछ शब्दों को हटा दिया गया है। दिए गए विकल्पों की सहायता से रिक्त स्थानों की पूर्ति कीजिए। प्रत्येक संख्या के लिए सबसे उपयुक्त विकल्प का चयन कीजिए।  
भारत कृषि प्रधान 1. \_\_\_\_\_ है। यहाँ की अधिकांश जनता 2. \_\_\_\_\_ करती है। कृषि ही उसकी जीविका का साधन है और यही व्यवसाय है। कृषक आज भी 3. \_\_\_\_\_ में रहता है। यद्यपि कुछ दशकों से यह दिखाई दे रहा है कि भारत का किसान अपना व्यवसाय छोड़कर 4. \_\_\_\_\_ की ओर भाग रहा है। फिर भी नगर और गाँवों के बीच की भूमि पर आज भी 5. \_\_\_\_\_ होती है।

**SubQuestion No : 20**

**Q.20** रिक्त स्थान 5 की पूर्ति के लिए सबसे उपयुक्त विकल्प का चयन कीजिए।

- Ans**
- 1. पूछताछ
  - 2. देखरेख
  - 3. खेती
  - 4. खाद्यान्न

www.exammix.com