

## Combined Higher Secondary Level Examination 2023 Tier II

Roll Number	
Candidate Name	
Venue Name	
Exam Date	10/01/2024
Exam Time	9:00 AM - 12:00 PM
Subject	CHSL 2023 Tier II

Section : **Mathematical Abilities**[www.exammix.com](http://www.exammix.com)

**Q.1** एक पुत्र और पिता की आयु का योग 52 वर्ष है; चार वर्ष बाद पिता की आयु पुत्र की आयु की चार गुना हो जायेगी। पुत्र की वर्तमान आयु (वर्षों में) क्या है?

- Ans**
- 1. 9 वर्ष
  - 2. 12 वर्ष
  - 3. 10 वर्ष
  - 4. 8 वर्ष

Question ID : **264330171771**  
 Option 1 ID : **264330673688**  
 Option 2 ID : **264330673690**  
 Option 3 ID : **264330673689**  
 Option 4 ID : **264330673687**  
 Status : **Answered**  
 Chosen Option : **4**

**Q.2** दो पाइप एक टंकी को अलग-अलग तौर पर क्रमशः 36 मिनट और 45 मिनट में भर सकते हैं। टंकी में लगा एक निकास पाइप प्रति मिनट 40 लीटर पानी निकाल सकता है। यदि तीनों पाइप एक साथ खोल दिए जाएं, तो टंकी एक घंटे में भर जाती है। टंकी की क्षमता/धारिता (लीटर में) ज्ञात कीजिए।

- Ans**
- 1. 600
  - 2. 400
  - 3. 300
  - 4. 1200

Question ID : **264330171334**  
 Option 1 ID : **264330671951**  
 Option 2 ID : **264330671954**  
 Option 3 ID : **264330671953**  
 Option 4 ID : **264330671952**  
 Status : **Answered**  
 Chosen Option : **2**

Q.3 एक कारखाने में कार्यरत 100 श्रमिकों का उनके मासिक वेतन के अनुसार बंटन, औसत वेतन ₹4,500 प्रति माह दर्शाता है। यदि मासिक वेतन ₹4,900 पाया जाता है, तो बहुलक वेतन ज्ञात कीजिए।

- Ans
- 1. ₹5,600
  - 2. ₹5,500
  - 3. ₹5,800
  - 4. ₹5,700

Question ID : 264330171763  
Option 1 ID : 264330673656  
Option 2 ID : 264330673655  
Option 3 ID : 264330673658  
Option 4 ID : 264330673657  
Status : Answered  
Chosen Option : 4

Q.4 A hollow cube is made of paper to have a volume of 512 cubic units. How much paper in square units will be required to make the cube?

- Ans
- 1. 384
  - 2. 328
  - 3. 348
  - 4. 288

Question ID : 264330170792  
Option 1 ID : 264330669800  
Option 2 ID : 264330669802  
Option 3 ID : 264330669799  
Option 4 ID : 264330669801  
Status : Answered  
Chosen Option : 1

Q.5 एक लंब आयताकार डिब्बे की माप, लंबाई - 1.6 m, चौड़ाई - 90 cm, ऊंचाई - 60 cm है।  $6\text{ cm} \times 5\text{ cm} \times 40\text{ mm}$  आयामों वाले साबुन के केकों को डिब्बे में इस प्रकार पैक किया जाना कि डिब्बे में कोई खाली जगह न बचे। डिब्बे में कितने केक पैक किए जा सकते हैं?

- Ans
- 1. 6500
  - 2. 5600
  - 3. 6000
  - 4. 7200

Question ID : 264330171298  
Option 1 ID : 264330671807  
Option 2 ID : 264330671808  
Option 3 ID : 264330671810  
Option 4 ID : 264330671809  
Status : Answered  
Chosen Option : 4

Q.6 10 वर्ष पहले पिता की आयु उसके पुत्र की आयु की तीन गुना थी। दस वर्ष बाद, पिता की आयु उसके पुत्र की आयु की दोगुनी होगी। उनकी वर्तमान आयु का अनुपात क्या है?

- Ans  1. 7 : 3  
 2. 5 : 2  
 3. 3 : 2  
 4. 5 : 3

Question ID : 264330171772  
Option 1 ID : 264330673692  
Option 2 ID : 264330673693  
Option 3 ID : 264330673694  
Option 4 ID : 264330673691  
Status : Answered  
Chosen Option : 1

Q.7 क्रिकेट मैच में 11 खिलाड़ियों द्वारा बनाए गए रन इस प्रकार हैं।  
7, 16, 121, 51, 101, 81, 1, 16, 9, 11, 16  
डेटा के माधिका की गणना करें।

- Ans  1. 51  
 2. 11  
 3. 22  
 4. 16

Question ID : 264330171764  
Option 1 ID : 264330673661  
Option 2 ID : 264330673659  
Option 3 ID : 264330673662  
Option 4 ID : 264330673660  
Status : Answered  
Chosen Option : 4

Q.8 16% वार्षिक साधारण ब्याज की दर से निवेश की गई ₹2,500 की धनराशि कितने वर्षों में ₹4,100 हो जाएगी?

- Ans  1. 3  
 2. 5  
 3. 4  
 4. 6

Question ID : 264330170550  
Option 1 ID : 264330668839  
Option 2 ID : 264330668841  
Option 3 ID : 264330668840  
Option 4 ID : 264330668842  
Status : Answered  
Chosen Option : 3

Q.9 ₹7,786 की धनराशि को A, B और C के बीच इस प्रकार बांटा जाता है कि A की धनराशि और B की धनराशि का अनुपात 3 : 4 है तथा B की धनराशि और C की धनराशि का अनुपात 12 : 13 है। B को प्राप्त होने वाली धनराशि कितनी है?

- Ans
- 1. ₹2,977
  - 2. ₹5,038
  - 3. ₹2,748
  - 4. ₹7,138

Question ID : 264330171330  
Option 1 ID : 264330671938  
Option 2 ID : 264330671935  
Option 3 ID : 264330671936  
Option 4 ID : 264330671937  
Status : Answered  
Chosen Option : 3

Q.10  $\triangle XYZ$  में, यदि  $XY = 5\text{cm}$ ,  $XZ = 7\text{cm}$  और Q, YZ पर एक बिंदु इस प्रकार है कि XQ,  $\angle X$  को समद्विभाजित करता है, तो  $YQ : QZ$  का मान ज्ञात कीजिए।

- Ans
- 1. 7 : 5
  - 2. 5 : 12
  - 3. 7 : 12
  - 4. 5 : 7

Question ID : 264330170566  
Option 1 ID : 264330668904  
Option 2 ID : 264330668905  
Option 3 ID : 264330668906  
Option 4 ID : 264330668903  
Status : Answered  
Chosen Option : 4

Q.11 69 और 92 के बीच आने वाली अभाज्य संख्याओं का औसत ज्ञात कीजिए।

- Ans
- 1. 82
  - 2. 79
  - 3. 80
  - 4. 81

Question ID : 264330170540  
Option 1 ID : 264330668799  
Option 2 ID : 264330668802  
Option 3 ID : 264330668801  
Option 4 ID : 264330668800  
Status : Answered  
Chosen Option : 2

Q.12 एक चुनाव में, 90% मत पाने वाला उम्मीदवार 800 मतों के अंतर से चुना जाता है। डाले गए कुल मतों की संख्या कितनी है?

ध्यान दें: चुनाव में केवल दो उम्मीदवार भाग ले रहे हैं और मान लीजिए सभी मत वैध हैं।

- Ans
- 1. 900
  - 2. 1000
  - 3. 1050
  - 4. 950

Question ID : 264330170543  
Option 1 ID : 264330668811  
Option 2 ID : 264330668813  
Option 3 ID : 264330668814  
Option 4 ID : 264330668812  
Status : Answered  
Chosen Option : 2

Q.13  $\sqrt{625} + \sqrt{\frac{625}{100}} + \sqrt{\frac{625}{10000}} + \sqrt{\frac{625}{1000000}}$  का मान ज्ञात कीजिए।

- Ans
- 1. 27.025
  - 2. 27.775
  - 3. 27.075
  - 4. 27.75

Question ID : 264330172297  
Option 1 ID : 264330675747  
Option 2 ID : 264330675749  
Option 3 ID : 264330675748  
Option 4 ID : 264330675750  
Status : Answered  
Chosen Option : 2

Q.14 यदि ब्याज दर पहले वर्ष के लिए 2.5% प्रति वर्ष और दूसरे वर्ष के लिए 2% प्रति वर्ष है, तो दो वर्षों में ₹6,000 का चक्रवृद्धि ब्याज ज्ञात करें।

- Ans
- 1. ₹240
  - 2. ₹270
  - 3. ₹273
  - 4. ₹135

Question ID : 264330171332  
Option 1 ID : 264330671946  
Option 2 ID : 264330671943  
Option 3 ID : 264330671945  
Option 4 ID : 264330671944  
Status : Answered  
Chosen Option : 3

Q.15 सुदर्शन और अब्राहम दो रिक्तियों के लिए साक्षात्कार के लिए उपस्थित हुए। सुदर्शन के चयन की प्रायिकता  $\frac{1}{3}$  है और अब्राहम के चयन की प्रायिकता  $\frac{2}{3}$  है। उनमें से किसी के भी चयनित न होने की प्रायिकता ज्ञात कीजिए।

Ans

✓ 1.  $\frac{8}{15}$

✗ 2.  $\frac{14}{15}$

✗ 3.  $\frac{1}{15}$

✗ 4.  $\frac{22}{15}$

Question ID : 264330171338

Option 1 ID : 264330671969

Option 2 ID : 264330671970

Option 3 ID : 264330671967

Option 4 ID : 264330671968

Status : Not Answered

Chosen Option : --

Q.16  $(\sqrt[3]{\sqrt[3]{343}})^3 \times (\sqrt[3]{\sqrt[3]{216}})^3$  का मान ज्ञात कीजिए।

Ans

✗ 1.  $42^2$

✗ 2. 56

✓ 3. 42

✗ 4.  $\sqrt[3]{42}$

Question ID : 264330171361

Option 1 ID : 264330672060

Option 2 ID : 264330672062

Option 3 ID : 264330672061

Option 4 ID : 264330672059

Status : Answered

Chosen Option : 3

Q.17 A, B को 33% लाभ पर एक घड़ी बेचता है और B उसे 20% हानि पर C को बेचता है। यदि C ₹532 का भुगतान करता है, तो A के लिए क्रय मूल्य क्या था?

- Ans
- 1. ₹800
  - 2. ₹500
  - 3. ₹400
  - 4. ₹600

Question ID : 264330170926  
Option 1 ID : 264330670334  
Option 2 ID : 264330670333  
Option 3 ID : 264330670332  
Option 4 ID : 264330670331  
Status : Answered  
Chosen Option : 2

Q.18 ऋचा के व्यय और बचत का अनुपात 2:1 है। यदि उसकी आय और व्यय में क्रमशः 20% और 15% की वृद्धि होती है, तो उसकी बचत में प्रतिशतता वृद्धि ज्ञात कीजिए।

- Ans
- 1. 20%
  - 2. 35%
  - 3. 25%
  - 4. 30%

Question ID : 264330170544  
Option 1 ID : 264330668815  
Option 2 ID : 264330668818  
Option 3 ID : 264330668816  
Option 4 ID : 264330668817  
Status : Answered  
Chosen Option : 4

Q.19 एक लंब प्रिज्म का आधार एक समबाहु त्रिभुज है जिसकी प्रत्येक भुजा 4 cm की है। यदि पार्श्व पृष्ठीय क्षेत्रफल  $120 \text{ cm}^2$  है, तो प्रिज्म का आयतन ( $\text{cm}^3$  में) ज्ञात कीजिए।

- Ans
- 1.  $10\sqrt{3}$
  - 2.  $20\sqrt{3}$
  - 3.  $30\sqrt{3}$
  - 4.  $40\sqrt{3}$

Question ID : 264330171776  
Option 1 ID : 264330673707  
Option 2 ID : 264330673708  
Option 3 ID : 264330673709  
Option 4 ID : 264330673710  
Status : Answered  
Chosen Option : 4

Q.20 सोहन क्रय मूल्य पर चीनी बेचता है लेकिन वह खराब बांटों का प्रयोग करता है और इस प्रकार 28% का लाभ अर्जित करता है। वह 3.2 kg चीनी के बदले कितने g (ग्राम) चीनी दे रहा है?

- Ans
- 1. 1900
  - 2. 1500
  - 3. 2500
  - 4. 2200

Question ID : 264330170546  
Option 1 ID : 264330668824  
Option 2 ID : 264330668823  
Option 3 ID : 264330668826  
Option 4 ID : 264330668825  
Status : Answered  
Chosen Option : 3

Q.21 6 के प्रथम आठ गुणजों का औसत ज्ञात कीजिए।

- Ans
- 1. 25
  - 2. 24
  - 3. 27
  - 4. 30

Question ID : 264330170293  
Option 1 ID : 264330667831  
Option 2 ID : 264330667833  
Option 3 ID : 264330667834  
Option 4 ID : 264330667832  
Status : Answered  
Chosen Option : 3

Q.22 एक निश्चित बिल पर 27% की छूट, और 20% तथा 10% की दो क्रमिक छूटों के बीच का अंतर ₹56 था। बिल की धनराशि ज्ञात कीजिए।

- Ans
- 1. ₹5,600
  - 2. ₹1,120
  - 3. ₹1,866
  - 4. ₹5,500

Question ID : 264330171329  
Option 1 ID : 264330671932  
Option 2 ID : 264330671931  
Option 3 ID : 264330671933  
Option 4 ID : 264330671934  
Status : Answered  
Chosen Option : 1



Q.23 कॉफी और चाय के मूल्य का अनुपात 3: 4 है और एक परिवार द्वारा उपभोग की जाने वाली उनकी मात्रा का अनुपात 4: 7 है। कॉफी और चाय पर होने वाले व्यय का अनुपात ज्ञात कीजिए।

- Ans
- 1. 7 : 4
  - 2. 3 : 7
  - 3. 4 : 7
  - 4. 7 : 3

Question ID : 264330170548  
Option 1 ID : 264330668831  
Option 2 ID : 264330668834  
Option 3 ID : 264330668832  
Option 4 ID : 264330668833  
Status : Answered  
Chosen Option : 2

Q.24 एक नाव धारा की प्रतिकूल दिशा में 1 h में 3 km चलती है और धारा की अनुकूल दिशा में 12 min में 1 km चलती है। नाव को स्थिर जल में 6 km जाने में कितना समय लगेगा?

- Ans
- 1. 1 h 30 min
  - 2. 1 h 25 min
  - 3. 1 h 20 min
  - 4. 1 h 15 min

Question ID : 264330171759  
Option 1 ID : 264330673642  
Option 2 ID : 264330673641  
Option 3 ID : 264330673640  
Option 4 ID : 264330673639  
Status : Answered  
Chosen Option : 1

Q.25 जब सूर्य का शीर्षलंब  $45^\circ$  की तुलना में  $30^\circ$  होता है, तो समतल ज़मीन पर खड़े एक टॉवर की छाया 40 m अधिक लंबी बनती है। टॉवर की ऊंचाई (मीटर में) ज्ञात कीजिए।

- Ans
- 1.  $20(\sqrt{3} - 1)$
  - 2.  $10(\sqrt{3} + 1)$
  - 3.  $20(\sqrt{3} + 1)$
  - 4.  $10(\sqrt{3} - 1)$

Question ID : 264330171781  
Option 1 ID : 264330673728  
Option 2 ID : 264330673729  
Option 3 ID : 264330673727  
Option 4 ID : 264330673730  
Status : Answered  
Chosen Option : 3

Q.26 एक त्रिभुज के दो कोणों की माप 3 : 7 के अनुपात में है। यदि इन दोनों मापों का योग तीसरे कोण की माप के बराबर है, तो सबसे छोटा कोण ज्ञात कीजिए।

- Ans
- 1.  $9^\circ$
  - 2.  $3^\circ$
  - 3.  $36^\circ$
  - 4.  $27^\circ$

Question ID : 264330171348  
 Option 1 ID : 264330672007  
 Option 2 ID : 264330672008  
 Option 3 ID : 264330672010  
 Option 4 ID : 264330672009  
 Status : Answered  
 Chosen Option : 4

Q.27 यदि एक तिर्यक छेदी रेखा दो समानांतर रेखाओं को प्रतिच्छेदित करती है, और तिर्यक छेदी रेखा के एक ही तरफ के दो आंतरिक कोणों के बीच का अंतर  $40^\circ$  है, तो आंतरिक कोणों में सबसे छोटा कोण ज्ञात कीजिए।

- Ans
- 1.  $60^\circ$
  - 2.  $50^\circ$
  - 3.  $40^\circ$
  - 4.  $70^\circ$

Question ID : 264330171778  
 Option 1 ID : 264330673716  
 Option 2 ID : 264330673717  
 Option 3 ID : 264330673718  
 Option 4 ID : 264330673715  
 Status : Answered  
 Chosen Option : 4

Q.28 व्यंजक  $\frac{(x^2-9) \times (9x^2-1)}{(x-\frac{1}{3}) \times (1-\frac{x}{3})} \times \frac{9}{(x+\frac{1}{3})(1+\frac{x}{3})}$  का सरलीकृत रूप \_\_\_\_\_ है।

- Ans
- 1. -729
  - 2. 81
  - 3. 729
  - 4. -81

Question ID : 264330167766  
 Option 1 ID : 264330658022  
 Option 2 ID : 264330658019  
 Option 3 ID : 264330658021  
 Option 4 ID : 264330658020  
 Status : Answered  
 Chosen Option : 1

Q.29 एक आदमी ने दो अलग-अलग अवलोकन बिंदुओं P और Q से क्रमशः  $60^\circ$  और  $30^\circ$  के उन्नयन कोण पर विजली के एक खंभे के शीर्ष का अवलोकन किया। यदि P और Q के बीच की दूरी 10 m है, तो खंभे की ऊंचाई (m में) ज्ञात कीजिए।

- Ans
- 1.  $15\sqrt{3}$
  - 2. 15
  - 3.  $5\sqrt{3}$
  - 4. 5

Question ID : 264330172302  
Option 1 ID : 264330675770  
Option 2 ID : 264330675769  
Option 3 ID : 264330675767  
Option 4 ID : 264330675768  
Status : Answered  
Chosen Option : 3

Q.30 एक विद्यालय के 35 गैर-शिक्षण स्टाफ सदस्यों सहित सभी 40 कर्मचारियों का औसत वेतन ₹4,000 है। यदि गैर-शिक्षण स्टाफ सदस्यों का औसत वेतन ₹4,200 है, तो विद्यालय के शेष स्टाफ का औसत वेतन ज्ञात कीजिए।

- Ans
- 1. ₹2,800
  - 2. ₹2,300
  - 3. ₹2,600
  - 4. ₹3,600

Question ID : 264330171307  
Option 1 ID : 264330671843  
Option 2 ID : 264330671844  
Option 3 ID : 264330671845  
Option 4 ID : 264330671846  
Status : Answered  
Chosen Option : 3

Section : Reasoning and General Intelligence

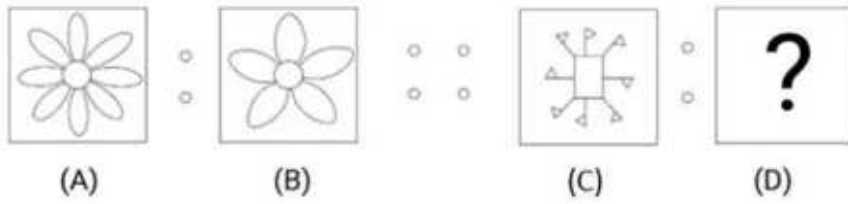
Q.1 अक्षरों के उस संयोजन को चुनिए, जिसे दी गई श्रृंखला के रिक्त स्थानों में क्रमिक रूप से रखने पर श्रृंखला पूरी हो जाएगी।

C\_EF HNE\_ \_NEP RN\_U WNE\_

- Ans
- 1. FHOSM
  - 2. CAHKL
  - 3. PAWER
  - 4. NKMEZ

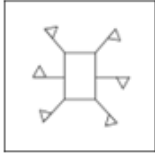
Question ID : 264330171061  
Option 1 ID : 264330670862  
Option 2 ID : 264330670861  
Option 3 ID : 264330670859  
Option 4 ID : 264330670860  
Status : Answered  
Chosen Option : 4

Q.2 आकृति A एक निश्चित पैटर्न में आकृति B से संबंधित है। उसी पैटर्न के अनुसार, आकृति C, आकृति D से संबंधित है। पैटर्न का अध्ययन कीजिए और उस आकृति को चुनिए, जो आकृति D के स्थान पर आ सकती है।

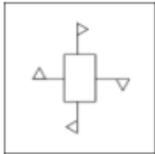


Ans

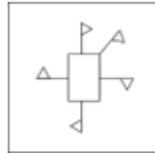
✗ 1.



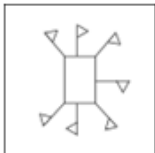
✗ 2.



✓ 3.



✗ 4.



Question ID : 264330170530

Option 1 ID : 264330668760

Option 2 ID : 264330668762


Option 3 ID : 264330668761

Option 4 ID : 264330668759

Status : Answered

Chosen Option : 3

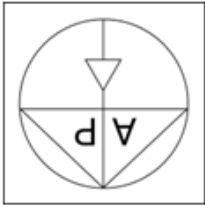
Q.3 यदि नीचे दी गई आकृति में दर्शाए गए अनुसार, जल स्रोत को X-Y के अनुदिश रखा जाए, तो निम्नलिखित में से कौन-सा विकल्प दी गई आकृति का जल प्रतिबिंब होगा?



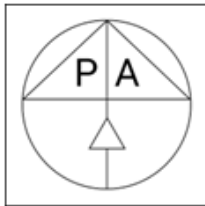
X ~~~~~ Y

Ans

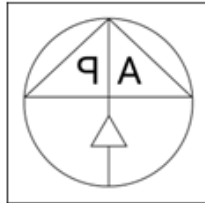
✗ 1.



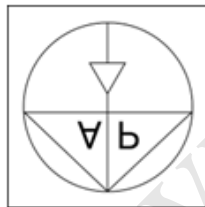
✗ 2.



✗ 3.



✓ 4.



Question ID : 264330168400

Option 1 ID : 264330660461

Option 2 ID : 264330660459

Option 3 ID : 264330660460

Option 4 ID : 264330660462

Status : Answered

Chosen Option : 4

Q.4 यदि '+' और '-' को आपस में बदल दिया जाए तथा 'x' और '÷' को आपस में बदल दिया जाए तो निम्नलिखित समीकरण में '?' के स्थान पर क्या आएगा?

$$163 \div 5 + 147 \times 7 - 19 = ?$$

- Ans
- 1. 819
  - 2. 813
  - 3. 816
  - 4. 817

Question ID : 264330170742  
Option 1 ID : 264330669610  
Option 2 ID : 264330669607  
Option 3 ID : 264330669608  
Option 4 ID : 264330669609  
Status : Answered  
Chosen Option : 2

Q.5 निम्नलिखित चार शब्द-युग्मों में से तीन शब्द-युग्म एक जैसे हैं और इस प्रकार एक समूह बनाते हैं। उस शब्द-युग्म का चयन कीजिए जो उस समूह से संबंधित नहीं है।

- Ans
- 1. धन - बटुए
  - 2. चावल - खाना
  - 3. कपड़े - अलमारियां
  - 4. पानी - बोतलें

Question ID : 264330171085  
Option 1 ID : 264330670956  
Option 2 ID : 264330670957  
Option 3 ID : 264330670955  
Option 4 ID : 264330670958  
Status : Answered  
Chosen Option : 2

Q.6 एक कथन के बाद दो कार्रवाइयां I और II क्रमांकित हैं। आपको कथन में दी गई सभी बातों को सत्य मानना होगा, और कथन में दी गई जानकारी के आधार पर निर्णय लेना होगा, कि तार्किक रूप से किस कार्रवाई का अनुसरण किया जाना चाहिए।

कथन: A के घर में वोल्टेज के उतार-चढ़ाव से उसके कई नए विद्युत उपकरण खराब हो गए हैं।

कार्रवाई:

I) A को एक इलेक्ट्रीशियन से परामर्श लेना चाहिए और वोल्टेज में उतार-चढ़ाव से विद्युत उपकरणों की सुरक्षा के लिए एक युक्ति स्थापित करनी चाहिए।

II) A को सभी खराब हुए उपकरण को नए उपकरणों से बदल देना चाहिए।

- Ans
- 1. केवल I का अनुसरण किया जाना चाहिए।
  - 2. केवल II का अनुसरण किया जाना चाहिए।
  - 3. न तो I और न ही II का अनुसरण किया जाना चाहिए।
  - 4. I और II दोनों का अनुसरण किया जाना चाहिए।

Question ID : 264330171089  
Option 1 ID : 264330670971  
Option 2 ID : 264330670972  
Option 3 ID : 264330670973  
Option 4 ID : 264330670974  
Status : Answered  
Chosen Option : 1

Q.7 एक निश्चित तर्क का अनुसरण करते हुए 4, 40 से संबंधित है। समान तर्क का अनुसरण करते हुए 12, 120 से संबंधित है। समान तर्क का अनुसरण करते हुए 15 निम्नलिखित में से किससे संबंधित है?

(ध्यान दें: संख्याओं को उनके घटक अंकों में अलग-अलग किए बिना, संक्रियाएं पूर्ण संख्याओं पर की जानी चाहिए। उदा. 13 - संख्या 13 पर संक्रियाएं जैसे 13 को जोड़ना/घटाना/गुणा करना आदि किया जा सकता है। 13 को 1 और 3 में अलग-अलग करने की, और फिर 1 और 3 पर गणितीय संक्रियाएं करने की अनुमति नहीं है)

Ans  1. 100

2. 150

3. 200

4. 205

Question ID : 264330170683

Option 1 ID : 264330669371

Option 2 ID : 264330669372

Option 3 ID : 264330669373

Option 4 ID : 264330669374

Status : Answered

Chosen Option : 2

Q.8 एक कक्षा में सभी 20 विद्यार्थी उत्तर की ओर मुख करके एक सीधी रेखा में खड़े हैं। नेहा दाईं ओर के छोर से 10वें स्थान पर है, जबकि नलिन बाईं ओर के छोर से 12वें स्थान पर हैं। नेहा और नलिन के बीच कितने विद्यार्थी खड़े हैं?

Ans  1. तीन

2. एक

3. दो

4. एक भी नहीं

Question ID : 264330171015

Option 1 ID : 264330670678

Option 2 ID : 264330670676

Option 3 ID : 264330670677

Option 4 ID : 264330670675

Status : Answered

Chosen Option : 4

Q.9 एक निश्चित तर्क का अनुसरण करते हुए 11, 55 से संबंधित है। समान तर्क का अनुसरण करते हुए 12, 60 से संबंधित है। समान तर्क का अनुसरण करते हुए 15 निम्नलिखित में से किससे संबंधित है?

(ध्यान दें: संख्याओं को उनके घटक अंकों में अलग-अलग किए बिना, संक्रियाएं पूर्ण संख्याओं पर की जानी चाहिए। उदा. 13 - संख्या 13 पर संक्रियाएं जैसे 13 को जोड़ना/घटाना/गुणा करना आदि किया जा सकता है। 13 को 1 और 3 में अलग-अलग करने की, और फिर 1 और 3 पर गणितीय संक्रियाएं करने की अनुमति नहीं है)

Ans  1. 80

2. 70

3. 85

4. 75

Question ID : 264330170682

Option 1 ID : 264330669369

Option 2 ID : 264330669367

Option 3 ID : 264330669370

Option 4 ID : 264330669368

Status : Answered

Chosen Option : 4

Q.10 इस प्रश्न में शब्दों का एक युग्म है, जिसका एक-दूसरे के साथ एक निश्चित संबंध है। विकल्पों में से उस युग्म का चयन कीजिए जिसमें वही संबंध है, जो संबंध नीचे दिए गए शब्दों के युग्म में है।

द्विधा में पड़ना : भ्रमित, सुसंगति : सामंजस्य

- Ans
- 1. विनम्र: उदंड
  - 2. उग्र: कोमल
  - 3. डरपोक: साहसी
  - 4. विचार करना: मनन करना

Question ID : 264330171040  
Option 1 ID : 264330670778  
Option 2 ID : 264330670776  
Option 3 ID : 264330670775  
Option 4 ID : 264330670777  
Status : Answered  
Chosen Option : 4

Q.11 एक निश्चित तर्क का अनुसरण करते हुए 82, 41 से संबंधित है। समान तर्क का अनुसरण करते हुए 94, 47 से संबंधित है। समान तर्क का अनुसरण करते हुए 66 निम्नलिखित में से किससे संबंधित है?

(ध्यान दें: संख्याओं को उनके घटक अंकों में अलग-अलग किए बिना, संक्रियाएं पूर्ण संख्याओं पर की जानी चाहिए। उदा. 13 – संख्या 13 पर संक्रियाएं जैसे 13 को जोड़ना/घटाना/गुणा करना आदि किया जा सकता है। 13 को 1 और 3 में अलग-अलग करने की, और फिर 1 और 3 पर गणितीय संक्रियाएं करने की अनुमति नहीं है)

- Ans
- 1. 23
  - 2. 13
  - 3. 43
  - 4. 33

Question ID : 264330170684  
Option 1 ID : 264330669376  
Option 2 ID : 264330669375  
Option 3 ID : 264330669378  
Option 4 ID : 264330669377  
Status : Answered  
Chosen Option : 4



Q.12 निम्नलिखित चार विकल्पों में से तीन किसी प्रकार से समान हैं और इस प्रकार एक समूह बनाते हैं। वह विकल्प कौन-सा है जो उस समूह से संबंधित नहीं है?

(ध्यान दें: संख्याओं को उनके घटक अंकों में अलग-अलग किए बिना, संक्रियाएं पूर्ण संख्याओं पर की जानी चाहिए। उदा. 13 – संख्या 13 पर संक्रियाएं जैसे 13 को जोड़ना/घटाना/गुणा करना आदि किया जा सकता है। 13 को 1 और 3 में अलग-अलग करने की, और फिर 1 और 3 पर गणितीय संक्रियाएं करने की अनुमति नहीं है।)

Ans  1. 31-280

2. 14-126

3. 25-225

4. 12-108

Question ID : 264330170704

Option 1 ID : 264330669458

Option 2 ID : 264330669455

Option 3 ID : 264330669457

Option 4 ID : 264330669456

Status : Answered

Chosen Option : 1

Q.13 अक्षरों के उस संयोजन को चुनिए, जिसे दी गई श्रृंखला के रिक्त स्थानों में क्रमिक रूप से रखने पर श्रृंखला पूरी हो जाएगी।

GA\_B M\_PB SA\_B YAB\_\_AHB

Ans  1. CHFJK

2. JAVBE

3. AWBUY

4. MFGTY

Question ID : 264330171062

Option 1 ID : 264330670866

Option 2 ID : 264330670863

Option 3 ID : 264330670865

Option 4 ID : 264330670864

Status : Not Answered

Chosen Option : --

Q.14 नीचे दिए गए कथनों और निष्कर्षों को ध्यानपूर्वक पढ़िए। आपको मानना है कि दिए गए कथन सत्य हैं चाहे वे सामान्यतः ज्ञात तथ्यों से अलग प्रतीत होते हों। आपको निश्चय करना है कि कौन-सा/कौन-से निष्कर्ष तार्किक रूप से दिए गए कथन/कथनों के अनुसार है/हैं।

कथन:

कुछ घंटियां, पंप हैं।  
सभी पंप, स्केट हैं।  
सभी घंटियां, पतंगें हैं।

निष्कर्ष:

1. कुछ पतंगें, स्केट हैं।
2. कुछ स्केट, घंटियां हैं।
3. कुछ स्केट, पंप हैं।

- Ans
- 1. निष्कर्ष 1 और 2, दोनों कथनों के अनुसार हैं।
  - 2. निष्कर्ष 1, 2 और 3, सभी कथनों के अनुसार हैं।
  - 3. निष्कर्ष 2 और 3, दोनों कथनों के अनुसार हैं।
  - 4. निष्कर्ष 1 और 3, दोनों कथनों के अनुसार हैं।

Question ID : 264330170306

Option 1 ID : 264330667884

Option 2 ID : 264330667883

Option 3 ID : 264330667886

Option 4 ID : 264330667885

Status : Marked For Review

Chosen Option : 2

Q.15 प्रत्येक शब्द में प्रत्येक अक्षर का केवल एक बार प्रयोग करके 'TOURIST' शब्द के दूसरे, तीसरे, पांचवें और सातवें अक्षरों (बाईं ओर से दाईं ओर गिनने पर) का प्रयोग करके चार अक्षरों वाले कितने सार्थक अंग्रेजी शब्द बनाए जा सकते हैं?

- Ans
- 1. एक भी नहीं
  - 2. दो
  - 3. दो से अधिक
  - 4. एक

Question ID : 264330170475

Option 1 ID : 264330668539

Option 2 ID : 264330668541

Option 3 ID : 264330668542

Option 4 ID : 264330668540

Status : Not Answered

Chosen Option : --

Q.16 यदि '+' और '-' को आपस में बदल दिया जाए तथा 'x' और '÷' को आपस में बदल दिया जाए तो निम्नलिखित समीकरण में '?' के स्थान पर क्या आएगा?

$$617 \div 3 - 84 + 515 \times 5 = ?$$

- Ans
- 1. 1836
  - 2. 1834
  - 3. 1832
  - 4. 1838

Question ID : 264330170743  
Option 1 ID : 264330669613  
Option 2 ID : 264330669612  
Option 3 ID : 264330669611  
Option 4 ID : 264330669614  
Status : Answered  
Chosen Option : 3

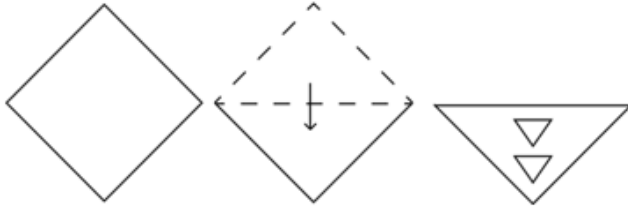
Q.17 एक निश्चित कूट भाषा में, '4378' को 'IDOL' और '7832' को 'IDLE' लिखा जाता है। उसी कूट भाषा में '2' को क्या लिखा जाएगा?

- Ans
- 1. L
  - 2. E
  - 3. I
  - 4. O

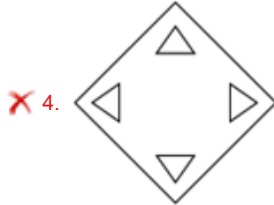
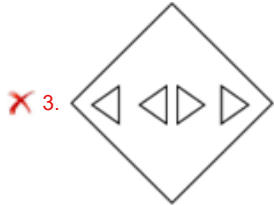
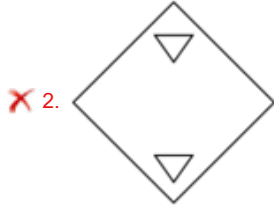
Question ID : 264330171079  
Option 1 ID : 264330670933  
Option 2 ID : 264330670934  
Option 3 ID : 264330670931  
Option 4 ID : 264330670932  
Status : Answered  
Chosen Option : 2

www.exammix.com

Q.18 कागज की एक वर्गाकार शीट को दर्शाई गई दिशाओं में बिंदीदार रेखा पर अनुक्रमशः मोड़ा जाता है और आखिर में उसमें छेद किया जाता है। खोलने पर यह कागज कैसा दिखाई देगा?



Ans



Question ID : 264330168441

Option 1 ID : 264330660617

Option 2 ID : 264330660615

Option 3 ID : 264330660618

Option 4 ID : 264330660616

Status : Answered

Chosen Option : 1

Q.19 निम्नलिखित पांच आकृतियों में से चार किसी प्रकार से समान हैं और इस प्रकार एक समूह बनाती हैं। वह आकृति कौन-सी है जो उस समूह से संबंधित नहीं है?



(A)



(B)



(C)



(D)



(E)

- Ans
- 1. E
  - 2. D
  - 3. B
  - 4. C

Question ID : 264330166975

Option 1 ID : 264330654910

Option 2 ID : 264330654909

Option 3 ID : 264330654907

Option 4 ID : 264330654908

Status : Answered

Chosen Option : 3

Q.20 एक निश्चित कूट भाषा में, 'KENT' को '9^\*7' और 'BENT' को '\*~79' लिखा जाता है। उसी कूट भाषा में 'B' को क्या लिखा जाएगा?

- Ans
- 1. ^
  - 2. \*
  - 3. ~
  - 4. 9

Question ID : 264330171080

Option 1 ID : 264330670936

Option 2 ID : 264330670935

Option 3 ID : 264330670937

Option 4 ID : 264330670938

Status : Answered

Chosen Option : 3

Q.21 उस शब्द-युग्म का चयन कीजिए जो नीचे दिए गए शब्दों के युग्म में व्यक्त किए गए समान संबंध का सबसे अच्छा निरूपण करता है।

(शब्दों को अर्थपूर्ण हिंदी शब्दों के रूप में माना जाना चाहिए और उन्हें शब्द में अक्षरों की संख्या/व्यंजनों/स्वरों की संख्या के आधार पर एक दूसरे से संबद्ध नहीं किया जाना चाहिए।)

तसल्ली देना : संतुष्ट करना, पालन-पोषण करना: पोषित करना

- Ans
- 1. ईर्ष्यालु : संतुष्ट
  - 2. सुस्त: ऊर्जावान
  - 3. समर्पण: विरोध
  - 4. होशियार : चतुर

Question ID : 264330171039  
Option 1 ID : 264330670773  
Option 2 ID : 264330670772  
Option 3 ID : 264330670774  
Option 4 ID : 264330670771  
Status : Answered  
Chosen Option : 4

Q.22 नीचे दिए गए कथनों और निष्कर्षों को ध्यानपूर्वक पढ़िए। आपको मानना है कि दिए गए कथन सत्य हैं चाहे वे सामान्यतः ज्ञात तथ्यों से अलग प्रतीत होते हों। आपको निश्चय करना है कि कौन-सा/कौन-से निष्कर्ष तार्किक रूप से दिए गए कथन/कथनों के अनुसार है/हैं।

कथन:

सभी सेब, आलूबुखारे हैं।  
कुछ आलूबुखारे, बेरी हैं।  
कुछ बेरी, नारियल हैं।

निष्कर्ष:

1. कुछ बेरी, आलूबुखारे हैं।
2. सभी आलूबुखारे, सेब हैं।
3. कुछ नारियल, बेरी हैं।

- Ans
- 1. केवल निष्कर्ष 3, कथनों के अनुसार है।
  - 2. निष्कर्ष 1 और 3, दोनों कथनों के अनुसार हैं।
  - 3. केवल निष्कर्ष 2, कथनों के अनुसार है।
  - 4. केवल निष्कर्ष 1, कथनों के अनुसार है।

Question ID : 264330170305  
Option 1 ID : 264330667881  
Option 2 ID : 264330667882  
Option 3 ID : 264330667879  
Option 4 ID : 264330667880  
Status : Answered  
Chosen Option : 2

Q.23 A, B, C, D, E और F एक ही इमारत के छः अलग-अलग माले पर रहते हैं। इमारत के सबसे निचले माले का क्रमांक 1, उसके ठीक ऊपर वाले माले का क्रमांक 2 और इसी तरह जारी रखते हुए सबसे ऊपरी माले का क्रमांक 6 है। E एक विषम क्रमांक वाले माले पर रहता है परंतु वह क्रमांक 5 वाले माले पर नहीं रहता है। E और C के बीच में केवल एक व्यक्ति रहता है। D, F के ठीक ऊपर रहता है। B, C के नीचे वाले माले पर रहता है। A सबसे ऊपरी माले पर नहीं रहता है। सबसे ऊपरी माले पर कौन रहता है?

Ans  1. D

2. A

3. B

4. C

Question ID : 264330171014

Option 1 ID : 264330670671

Option 2 ID : 264330670674

Option 3 ID : 264330670673

Option 4 ID : 264330670672

Status : Answered

Chosen Option : 1

Q.24 एक कथन के बाद I और II क्रमांकित दो निष्कर्ष दिए गए हैं। ज्ञात कीजिए कि दिए गए कथन के आधार पर कौन-सा/कौन-से निष्कर्ष सत्य है/हैं।

कथन:  $P \leq L \geq M \geq N = U < V < G$

निष्कर्ष:

I.  $P > V$

II.  $G \leq L$

Ans  1. न तो निष्कर्ष I, और न ही निष्कर्ष II, सत्य है

2. निष्कर्ष I और II, दोनों सत्य हैं

3. केवल निष्कर्ष I, सत्य है

4. केवल निष्कर्ष II, सत्य है

Question ID : 264330171055

Option 1 ID : 264330670838

Option 2 ID : 264330670837

Option 3 ID : 264330670835

Option 4 ID : 264330670836

Status : Answered

Chosen Option : 1

Q.25 अक्षरों के उस संयोजन को चुनिए जिसे दी गई श्रृंखला के रिक्त स्थानों में क्रमिक रूप से रखने पर श्रृंखला पूरी हो जाएगी।

CB\_W V\_SP\_NLIHG\_B A\_XU

Ans  1. XUOEZ

2. ZUOEZ

3. XUOFY

4. XUOEY

Question ID : 264330171021

Option 1 ID : 264330670701

Option 2 ID : 264330670702

Option 3 ID : 264330670699

Option 4 ID : 264330670700

Status : Answered

Chosen Option : 4

**Q.26** Read the given statement and inferences carefully. Assuming that the information given in the statements is true, even if it appears to be at variance with commonly known facts, decide which of the given inferences can be derived from the statement.

(An inference is something which is not directly stated but can be derived from the given facts/information in the statement.)

**Statement:** All mammals are warm-blooded animals.

**Inferences:**

I. Dogs are warm-blooded animals.

II. All warm-blooded creatures are mammals.

- Ans**
- 1. Only (I)
  - 2. Only (II)
  - 3. Neither (I) nor (II)
  - 4. Both (I) and (II)

Question ID : 264330171050

Option 1 ID : 264330670815

Option 2 ID : 264330670816

Option 3 ID : 264330670817

Option 4 ID : 264330670818

Status : Answered

Chosen Option : 3

**Q.27** एक कथन के बाद I और II क्रमांकित दो निष्कर्ष दिए गए हैं। ज्ञात कीजिए कि दिए गए कथन के आधार पर कौन-सा/कौन-से निष्कर्ष सत्य है/हैं।

कथन:  $T \geq M < W = P \geq Q > R \leq S$

निष्कर्ष:

I.  $P \leq M$

II.  $Q > T$

- Ans**
- 1. केवल निष्कर्ष II, सत्य है
  - 2. न तो निष्कर्ष I, और न ही निष्कर्ष II, सत्य है
  - 3. केवल निष्कर्ष I, सत्य है
  - 4. निष्कर्ष I और II, दोनों सत्य हैं

Question ID : 264330171056

Option 1 ID : 264330670840

Option 2 ID : 264330670842

Option 3 ID : 264330670839

Option 4 ID : 264330670841

Status : Answered

Chosen Option : 2



Q.28 प्रत्येक शब्द में प्रत्येक अक्षर का केवल एक बार प्रयोग करके 'SAVOUR' शब्द के पहले, चौथे, पांचवें और छठे अक्षरों (बाईं ओर से दाईं ओर गिनने पर) का प्रयोग करके चार अक्षरों वाले कितने सार्थक अंग्रेजी शब्द बनाए जा सकते हैं?

- Ans
- 1. एक भी नहीं
  - 2. दो से अधिक
  - 3. दो
  - 4. एक

Question ID : 264330170477

Option 1 ID : 264330668547

Option 2 ID : 264330668550

Option 3 ID : 264330668549

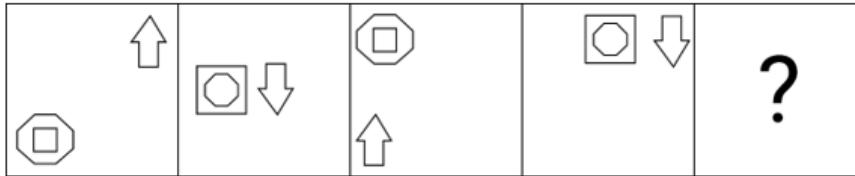
Option 4 ID : 264330668548

Status : Not Answered

Chosen Option : --

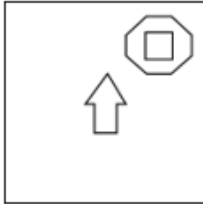
[www.exammix.com](http://www.exammix.com)

Q.29 विकल्पों में दी गई उस आकृति को पहचानिए जिसे प्रश्न चिह्न (?) के स्थान पर रखने पर श्रृंखला तार्किक रूप से पूरी हो जाएगी।

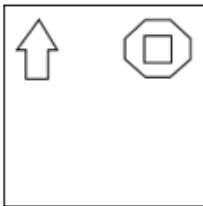


Ans

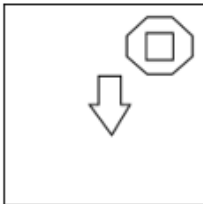
✓ 1.



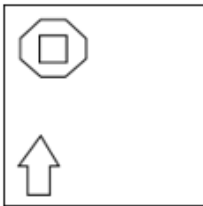
✗ 2.



✗ 3.



✗ 4.



Question ID : 264330166986

Option 1 ID : 264330654951

Option 2 ID : 264330654952

Option 3 ID : 264330654954

Option 4 ID : 264330654953

Status : Answered

Chosen Option : 1

Q.30 निम्नलिखित चार विकल्पों में से तीन किसी प्रकार से समान हैं और इस प्रकार एक समूह बनाते हैं। वह विकल्प कौन-सा है जो उस समूह से संबंधित नहीं है?

(ध्यान दें: संख्याओं को उनके घटक अंकों में अलग-अलग किए बिना, संक्रियाएं पूर्ण संख्याओं पर की जानी चाहिए। उदा. 13 – संख्या 13 पर संक्रियाएं जैसे 13 को जोड़ना/घटाना/गुणा करना आदि किया जा सकता है। 13 को 1 और 3 में अलग-अलग करने की, और फिर 1 और 3 पर गणितीय संक्रियाएं करने की अनुमति नहीं है।)

- Ans
- 1. 364-182
  - 2. 986-493
  - 3. 438-219
  - 4. 524-260

Question ID : 264330170705  
Option 1 ID : 264330669462  
Option 2 ID : 264330669460  
Option 3 ID : 264330669459  
Option 4 ID : 264330669461  
Status : Answered  
Chosen Option : 4

Section : English Language and Comprehension

Q.1 Select the most appropriate synonym of the given word.  
Decadence

- Ans
- 1. Dispirited
  - 2. Flowering
  - 3. Liberate
  - 4. Decline

Question ID : 264330166781  
Option 1 ID : 264330654166  
Option 2 ID : 264330654164  
Option 3 ID : 264330654163  
Option 4 ID : 264330654165  
Status : Answered  
Chosen Option : 4

Q.2 Select the option that can be used as a one-word substitute for the given group of words.

Someone who has too much admiration for himself or herself

- Ans
- 1. Pantheist
  - 2. Misanthropist
  - 3. Misogamist
  - 4. Narcissist

Question ID : 264330163172  
Option 1 ID : 264330640005  
Option 2 ID : 264330640004  
Option 3 ID : 264330640006  
Option 4 ID : 264330640003  
Status : Answered  
Chosen Option : 4

**Q.3** The following sentence has been divided into parts. One of them may contain an error. Select the part that contains the error from the given options. If you don't find any error, mark 'No error' as your answer.  
A man who has been accused of fraud / in an earlier job, he will never be / welcome in any other organisation.

- Ans**
- 1. No error
  - 2. A man who has been accused of fraud
  - 3. in an earlier job, he will never be
  - 4. welcome in any other organisation

Question ID : 264330166580  
Option 1 ID : 264330653366  
Option 2 ID : 264330653363  
Option 3 ID : 264330653364  
Option 4 ID : 264330653365  
Status : Answered  
Chosen Option : 4

**Q.4** Select the INCORRECTLY spelt word.

- Ans**
- 1. Maxim
  - 2. Quandary
  - 3. Lisentious
  - 4. Profligate

Question ID : 264330166785  
Option 1 ID : 264330654182  
Option 2 ID : 264330654179  
Option 3 ID : 264330654181  
Option 4 ID : 264330654180  
Status : Answered  
Chosen Option : 3

**Q.5** The following sentence has been divided into parts. One of them may contain an error. Select the part that contains the error from the given options.

While astrology has/ a long history / it is generally/ considered pseudoscience.

- Ans**
- 1. While astrology has
  - 2. it is generally
  - 3. a long history
  - 4. considered pseudoscience

Question ID : 264330168405  
Option 1 ID : 264330660479  
Option 2 ID : 264330660481  
Option 3 ID : 264330660480  
Option 4 ID : 264330660482  
Status : Answered  
Chosen Option : 4

**Q.6** Select the most appropriate option to fill in the blank.  
I did not \_\_\_\_\_ to university yesterday.

- Ans
- 1. went
  - 2. going
  - 3. go
  - 4. gone

Question ID : 264330166923  
Option 1 ID : 264330654717  
Option 2 ID : 264330654716  
Option 3 ID : 264330654715  
Option 4 ID : 264330654718  
Status : Answered  
Chosen Option : 3

**Q.7** Select the most appropriate option to fill in the blank.

Currently, Mittu and Bittu \_\_\_\_\_ hard to meet the project deadline.

- Ans
- 1. were working
  - 2. worked
  - 3. have worked
  - 4. are working

Question ID : 264330168465  
Option 1 ID : 264330660707  
Option 2 ID : 264330660708  
Option 3 ID : 264330660710  
Option 4 ID : 264330660709  
Status : Answered  
Chosen Option : 3

**Q.8** Select the option that can be used as a one-word substitute for the given group of words/phrase.

A drug or other substance that induces sleep

- Ans
- 1. Stimulant
  - 2. Energetic
  - 3. Sedative
  - 4. Reviver

Question ID : 264330168415  
Option 1 ID : 264330660520  
Option 2 ID : 264330660521  
Option 3 ID : 264330660522  
Option 4 ID : 264330660519  
Status : Answered  
Chosen Option : 3

**Q.9** Select the option that expresses the given sentence in passive voice.  
They built a new house last year.

- Ans**
- 1. A new house is being built by them last year.
  - 2. A new house was built by them last year.
  - 3. They had been building a new house last year.
  - 4. A new house was being built by them last year.

Question ID : 264330163097  
Option 1 ID : 264330639703  
Option 2 ID : 264330639704  
Option 3 ID : 264330639705  
Option 4 ID : 264330639706  
Status : Answered  
Chosen Option : 2

**Q.10** The following sentence has been divided into parts. One of them may contain an error.  
Select the part that contains the error from the given options.

It is a well-known fact/ that the Monarchy is / not the best form /of governance.

- Ans**
- 1. It is a well-known fact
  - 2. of governance.
  - 3. not the best form
  - 4. that the Monarchy is

Question ID : 264330168404  
Option 1 ID : 264330660475  
Option 2 ID : 264330660478  
Option 3 ID : 264330660477  
Option 4 ID : 264330660476  
Status : Answered  
Chosen Option : 4

**Q.11** Select the most appropriate idiom that means the same as the given sentence.  
Shyama looks innocent, but in reality, she is cunning.

- Ans**
- 1. Don't put all your eggs in one basket.
  - 2. Fortune favours the brave.
  - 3. Don't judge a book by its cover.
  - 4. Beauty lies in the eyes of the beholder.

Question ID : 264330167010  
Option 1 ID : 264330655049  
Option 2 ID : 264330655050  
Option 3 ID : 264330655048  
Option 4 ID : 264330655047  
Status : Answered  
Chosen Option : 3

**Q.12** Select the most appropriate option that best expresses the meaning of the proverb in the given sentence.

The salesperson for the project offered a **sneak peek** of the project as we expressed our interest in the area and amenities.

- Ans**
- 1. To try something new
  - 2. Getting a preview of something
  - 3. To be in a winning position
  - 4. Sending a brief letter

Question ID : 264330166793  
Option 1 ID : 264330654211  
Option 2 ID : 264330654214  
Option 3 ID : 264330654212  
Option 4 ID : 264330654213  
Status : Answered  
Chosen Option : 4

**Q.13** Select the most appropriate synonym of the given word.

**Serene**

- Ans**
- 1. Calm
  - 2. Chaotic
  - 3. Agitated
  - 4. Angry

Question ID : 264330163120  
Option 1 ID : 264330639798  
Option 2 ID : 264330639795  
Option 3 ID : 264330639797  
Option 4 ID : 264330639796  
Status : Answered  
Chosen Option : 1

**Q.14** Select the most appropriate option to fill in the blank.

The war \_\_\_\_\_ badly damaged the country's infrastructure.

- Ans**
- 1. is
  - 2. has
  - 3. was
  - 4. have

Question ID : 264330166924  
Option 1 ID : 264330654719  
Option 2 ID : 264330654722  
Option 3 ID : 264330654720  
Option 4 ID : 264330654721  
Status : Answered  
Chosen Option : 2

Q.15 Select the option that can be used as a one-word substitute for the given group of words.

A sudden violent event that brings about great loss or destruction

- Ans
- 1. Blockbuster
  - 2. Catastrophe
  - 3. Intrigue
  - 4. Farce

Question ID : 264330163171  
Option 1 ID : 264330639999  
Option 2 ID : 264330640000  
Option 3 ID : 264330640001  
Option 4 ID : 264330640002  
Status : Answered  
Chosen Option : 2

Q.16 Select the correct spelling of the underlined word in the given sentence.  
He made a surreptitious phone call while his boss was out of the room.

- Ans
- 1. surreptitious
  - 2. surreptitous
  - 3. sureptitious
  - 4. sarreptitious

Question ID : 264330143161  
Option 1 ID : 264330560922  
Option 2 ID : 264330560921  
Option 3 ID : 264330560919  
Option 4 ID : 264330560920  
Status : Answered  
Chosen Option : 1

Q.17 Select the option that expresses the given sentence in reported speech.  
Anil said to Ria, "I know where everything is kept in the kitchen."

- Ans
- 1. Anil asked Ria that he knows where everything was kept in the kitchen.
  - 2. Anil told Ria that he knew where everything was kept in the kitchen.
  - 3. Anil told Ria that he knows where everything was kept in the kitchen.
  - 4. Anil told Ria that he knew where everything is kept in the kitchen.

Question ID : 264330166591  
Option 1 ID : 264330653407  
Option 2 ID : 264330653410  
Option 3 ID : 264330653408  
Option 4 ID : 264330653409  
Status : Answered  
Chosen Option : 2



**Q.18** Select the most appropriate ANTONYM of the given word.  
Denote

- Ans**  1. Conceal  
 2. Convey  
 3. Conclude  
 4. Convince

Question ID : 264330169518  
Option 1 ID : 264330664811  
Option 2 ID : 264330664814  
Option 3 ID : 264330664812  
Option 4 ID : 264330664813  
Status : Answered  
Chosen Option : 1

**Q.19** Select the option that expresses the given sentence in passive voice.  
The teacher will explain the lesson tomorrow.

- Ans**  1. The lesson will have been explained by the teacher tomorrow.  
 2. The lesson was explained by the teacher tomorrow.  
 3. The lesson will be explained by the teacher tomorrow.  
 4. The lesson is being explained by the teacher tomorrow.

Question ID : 264330163096  
Option 1 ID : 264330639700  
Option 2 ID : 264330639699  
Option 3 ID : 264330639701  
Option 4 ID : 264330639702  
Status : Answered  
Chosen Option : 3

**Q.20** The following sentence has been divided into parts. One of them may contain an error.  
Select the part that contains the error from the given options. If you don't find any error, mark 'No error' as your answer.  
I have three sisters: / Meera is the elder / and Charu is the youngest.

- Ans**  1. and Charu is the youngest  
 2. No error  
 3. Meera is the elder  
 4. I have three sisters:

Question ID : 264330166584  
Option 1 ID : 264330653381  
Option 2 ID : 264330653382  
Option 3 ID : 264330653380  
Option 4 ID : 264330653379  
Status : Answered  
Chosen Option : 3

**Q.21** Select the option that expresses the given sentence in reported speech.  
He said to the mechanic, "Will you have the car ready by tomorrow morning?"

- Ans**  1. He asked the mechanic if he would have the car ready by the next morning.  
 2. He told the mechanic if he will have the car ready for the next morning.  
 3. He said the mechanic whether he would has the car ready by the following morning.  
 4. He asked the mechanic if he will have the car ready by the previous morning.

Question ID : 264330166587  
Option 1 ID : 264330653394  
Option 2 ID : 264330653391  
Option 3 ID : 264330653393  
Option 4 ID : 264330653392  
Status : Answered  
Chosen Option : 1

**Q.22** Select the option that converts the given sentence into the superlative degree.  
The river Ganga has some of the purer water on earth.

- Ans**  1. The river Ganga has some of the most purest water on earth.  
 2. The river Ganga has some of the purest water on earth.  
 3. The river Ganga has some of the very purest water on earth.  
 4. The river Ganga has some of the more purest water on earth.

Question ID : 264330166585  
Option 1 ID : 264330653383  
Option 2 ID : 264330653384  
Option 3 ID : 264330653385  
Option 4 ID : 264330653386  
Status : Answered  
Chosen Option : 2

**Q.23** Select the most appropriate tense form to fill in the blank.  
Tania \_\_\_\_\_ to the canteen.

- Ans**  1. were gone  
 2. was going  
 3. had going  
 4. were going

Question ID : 264330169447  
Option 1 ID : 264330664546  
Option 2 ID : 264330664545  
Option 3 ID : 264330664544  
Option 4 ID : 264330664543  
Status : Answered  
Chosen Option : 2

**Q.24** Select the most appropriate phrasal verb to fill in the blank.  
The teacher asked the students to \_\_\_\_\_ their essays before the deadline.

- Ans
- 1. land in
  - 2. put off
  - 3. hand up
  - 4. hand in

Question ID : 264330156695  
Option 1 ID : 264330614169  
Option 2 ID : 264330614170  
Option 3 ID : 264330614167  
Option 4 ID : 264330614168  
Status : Not Answered  
Chosen Option : --

**Q.25** Select the sentence that gives the most appropriate meaning of the idiom 'Keep your chin up'.

- Ans
- 1. The students diligently completed their homework assignments before the deadline.
  - 2. The hiker enjoyed the breathtaking view from the mountaintop, taking in the natural beauty.
  - 3. Despite facing setbacks, she remained positive and determined to achieve her goals.
  - 4. The scientist conducted experiments and gathered data to support his research hypothesis.

Question ID : 264330163130  
Option 1 ID : 264330639836  
Option 2 ID : 264330639837  
Option 3 ID : 264330639835  
Option 4 ID : 264330639838  
Status : Answered  
Chosen Option : 1

**Q.26** Select the option that expresses the given sentence in passive voice.

Perumal has given a challenging assignment to the newly admitted students.

- Ans
- 1. A challenging assignment was given by Perumal to the newly admitted students.
  - 2. A challenging assignment has been given by Perumal to the newly admitted students.
  - 3. A challenging assignment had been given by Perumal to the newly admitted students.
  - 4. A challenging assignment will have been given by Perumal to the newly admitted students.

Question ID : 264330168462  
Option 1 ID : 264330660697  
Option 2 ID : 264330660696  
Option 3 ID : 264330660695  
Option 4 ID : 264330660698  
Status : Answered  
Chosen Option : 2

**Q.27** Identify the INCORRECTLY spelt word in the following sentence and select its correct spelling from the given options.

The remoteness of the location made it difficult for the authorities to reach out to the people.

- Ans**
- 1. locasion
  - 2. authorities
  - 3. deficult
  - 4. remotness

Question ID : 264330142645  
Option 1 ID : 264330558856  
Option 2 ID : 264330558858  
Option 3 ID : 264330558857  
Option 4 ID : 264330558855  
Status : Answered  
Chosen Option : 2

**Q.28** Select the most appropriate phrasal verb to fill in the blank.  
The teacher asked the students to \_\_\_\_\_ their ideas during the class discussion.

- Ans**
- 1. put off
  - 2. get on
  - 3. bring about
  - 4. bring up

Question ID : 264330156697  
Option 1 ID : 264330614175  
Option 2 ID : 264330614178  
Option 3 ID : 264330614177  
Option 4 ID : 264330614176  
Status : Answered  
Chosen Option : 4

www.exammix.com

**Comprehension:**

In the following passage, some words have been deleted. Read the passage carefully and select the most appropriate option to fill in each blank.

He looks out of the window at the (1)\_\_\_\_\_ snow, then turns and takes his wife in his arms, feeling grateful to be here even as he wonders what he is going to do with his life in strictly practical terms. For years, he had (2)\_\_\_\_\_ himself to do one thing, and he did it well, but he doesn't know whether he wants to keep doing it for the rest of his life, for that matter, whether anyone will let him. He is still worrying when they go to bed.

They've been learning to get by with less, and they'll keep learning. It seems to him as if they're taking a course in loss lately. And as he feels himself falling asleep he has an (3)\_\_\_\_\_ he believes is important, which he hopes he will remember in the morning, although it is one of those thoughts that seldom (4)\_\_\_\_\_ translation to the language of daylight hours.

**SubQuestion No : 29**

**Q.29** Select the most appropriate option to fill in blank no. 1.

- Ans  1. dashing  
 2. blazing  
 3. praying  
 4. falling

Question ID : 264330168477  
Option 1 ID : 264330660751  
Option 2 ID : 264330660754  
Option 3 ID : 264330660753  
Option 4 ID : 264330660752  
Status : Answered  
Chosen Option : 4

**Comprehension:**

In the following passage, some words have been deleted. Read the passage carefully and select the most appropriate option to fill in each blank.

He looks out of the window at the (1)\_\_\_\_\_ snow, then turns and takes his wife in his arms, feeling grateful to be here even as he wonders what he is going to do with his life in strictly practical terms. For years, he had (2)\_\_\_\_\_ himself to do one thing, and he did it well, but he doesn't know whether he wants to keep doing it for the rest of his life, for that matter, whether anyone will let him. He is still worrying when they go to bed.

They've been learning to get by with less, and they'll keep learning. It seems to him as if they're taking a course in loss lately. And as he feels himself falling asleep he has an (3)\_\_\_\_\_ he believes is important, which he hopes he will remember in the morning, although it is one of those thoughts that seldom (4)\_\_\_\_\_ translation to the language of daylight hours.

**SubQuestion No : 30**

**Q.30** Select the most appropriate option to fill in blank no. 2.

- Ans  1. penalised  
 2. trained  
 3. abstained  
 4. mesmerised

Question ID : 264330168478  
Option 1 ID : 264330660758  
Option 2 ID : 264330660755  
Option 3 ID : 264330660756  
Option 4 ID : 264330660757  
Status : Answered  
Chosen Option : 2

**Comprehension:**

In the following passage, some words have been deleted. Read the passage carefully and select the most appropriate option to fill in each blank.

He looks out of the window at the (1)\_\_\_\_\_ snow, then turns and takes his wife in his arms, feeling grateful to be here even as he wonders what he is going to do with his life in strictly practical terms. For years, he had (2)\_\_\_\_\_ himself to do one thing, and he did it well, but he doesn't know whether he wants to keep doing it for the rest of his life, for that matter, whether anyone will let him. He is still worrying when they go to bed.

They've been learning to get by with less, and they'll keep learning. It seems to him as if they're taking a course in loss lately. And as he feels himself falling asleep he has an (3)\_\_\_\_\_ he believes is important, which he hopes he will remember in the morning, although it is one of those thoughts that seldom (4)\_\_\_\_\_ translation to the language of daylight hours.

**SubQuestion No : 31**

**Q.31** Select the most appropriate option to fill in blank no. 3.

- Ans
- 1. implication
  - 2. instance
  - 3. insurance
  - 4. insight

Question ID : 264330168479  
Option 1 ID : 264330660760  
Option 2 ID : 264330660762  
Option 3 ID : 264330660759  
Option 4 ID : 264330660761  
Status : Answered  
Chosen Option : 4

**Comprehension:**

In the following passage, some words have been deleted. Read the passage carefully and select the most appropriate option to fill in each blank.

He looks out of the window at the (1)\_\_\_\_\_ snow, then turns and takes his wife in his arms, feeling grateful to be here even as he wonders what he is going to do with his life in strictly practical terms. For years, he had (2)\_\_\_\_\_ himself to do one thing, and he did it well, but he doesn't know whether he wants to keep doing it for the rest of his life, for that matter, whether anyone will let him. He is still worrying when they go to bed.

They've been learning to get by with less, and they'll keep learning. It seems to him as if they're taking a course in loss lately. And as he feels himself falling asleep he has an (3)\_\_\_\_\_ he believes is important, which he hopes he will remember in the morning, although it is one of those thoughts that seldom (4)\_\_\_\_\_ translation to the language of daylight hours.

**SubQuestion No : 32**

**Q.32** Select the most appropriate option to fill in blank no. 4.

- Ans
- 1. proliferate
  - 2. install
  - 3. fabricate
  - 4. survive

Question ID : 264330168480  
Option 1 ID : 264330660766  
Option 2 ID : 264330660764  
Option 3 ID : 264330660765  
Option 4 ID : 264330660763  
Status : Answered  
Chosen Option : 4

**Comprehension:**

Read the given passage and answer the questions that follow.

Leadership does not exist without followership. A leader has to be accepted by the group which the former is supposed to lead. To gain acceptability, the leader should cause an emotive impact on the group members. The strength of character exhibited by leaders makes them dear to their followers. A leader is one who effectively inspires followers to achieve worthwhile things. What character of the leader motivates the followers? It is not pomp and show, neither flattery nor sanctioning more incentives. Pomp and show creates a sense of awe and the leader is deified rather as emulated. Flattery is unrealistic and cannot serve as a long-term motivational tool. A leader's style should be one that can be emulated by all irrespective of cadre, class and calibre. Simplicity in one's day- to- day conduct is the only thing that can be adopted by all.

**SubQuestion No : 33**

**Q.33** According to the passage, why should the leader generate an emotive impact?

- Ans**
- 1. To acquire social knowledge
  - 2. To mould the character of a leader
  - 3. To exhibit the character of his followers
  - 4. To gain acceptance by the members of the group

Question ID : 264330169337

Option 1 ID : 264330664122

Option 2 ID : 264330664119

Option 3 ID : 264330664120

Option 4 ID : 264330664121

Status : Answered

Chosen Option : 4

**Comprehension:**

Read the given passage and answer the questions that follow.

Leadership does not exist without followership. A leader has to be accepted by the group which the former is supposed to lead. To gain acceptability, the leader should cause an emotive impact on the group members. The strength of character exhibited by leaders makes them dear to their followers. A leader is one who effectively inspires followers to achieve worthwhile things. What character of the leader motivates the followers? It is not pomp and show, neither flattery nor sanctioning more incentives. Pomp and show creates a sense of awe and the leader is deified rather as emulated. Flattery is unrealistic and cannot serve as a long-term motivational tool. A leader's style should be one that can be emulated by all irrespective of cadre, class and calibre. Simplicity in one's day- to- day conduct is the only thing that can be adopted by all.

**SubQuestion No : 34**

**Q.34** Which of the following desired qualities of a leader is mentioned in the passage?

- Ans**
- 1. Deified
  - 2. Pomp and show
  - 3. Flattery
  - 4. Simplicity

Question ID : 264330169339

Option 1 ID : 264330664130

Option 2 ID : 264330664127

Option 3 ID : 264330664129

Option 4 ID : 264330664128

Status : Answered

Chosen Option : 4

**Comprehension:**

Read the given passage and answer the questions that follow.

Leadership does not exist without followership. A leader has to be accepted by the group which the former is supposed to lead. To gain acceptability, the leader should cause an emotive impact on the group members. The strength of character exhibited by leaders makes them dear to their followers. A leader is one who effectively inspires followers to achieve worthwhile things. What character of the leader motivates the followers? It is not pomp and show, neither flattery nor sanctioning more incentives. Pomp and show creates a sense of awe and the leader is deified rather as emulated. Flattery is unrealistic and cannot serve as a long-term motivational tool. A leader's style should be one that can be emulated by all irrespective of cadre, class and calibre. Simplicity in one's day- to- day conduct is the only thing that can be adopted by all.

**SubQuestion No : 35**

**Q.35 Select the best summary of the passage?**

- Ans**
- 1. A leader's style cannot serve as a long-term motivation among the group.
  - 2. A leader effectively inspires and guides his followers to achieve desired goals.
  - 3. Motivation is the innate quality that enables an individual to be intellectually strong.
  - 4. Administrative knowledge is essential for the followers to get success.

Question ID : 264330169338

Option 1 ID : 264330664126

Option 2 ID : 264330664125

Option 3 ID : 264330664123

Option 4 ID : 264330664124

Status : Answered

Chosen Option : 1

**Comprehension:**

Read the given passage and answer the questions that follow.

Leadership does not exist without followership. A leader has to be accepted by the group which the former is supposed to lead. To gain acceptability, the leader should cause an emotive impact on the group members. The strength of character exhibited by leaders makes them dear to their followers. A leader is one who effectively inspires followers to achieve worthwhile things. What character of the leader motivates the followers? It is not pomp and show, neither flattery nor sanctioning more incentives. Pomp and show creates a sense of awe and the leader is deified rather as emulated. Flattery is unrealistic and cannot serve as a long-term motivational tool. A leader's style should be one that can be emulated by all irrespective of cadre, class and calibre. Simplicity in one's day- to- day conduct is the only thing that can be adopted by all.

**SubQuestion No : 36**

**Q.36 Select the most appropriate synonym of the given word.**

**Emulate**

- Ans**
- 1. Relax
  - 2. Exhibit
  - 3. Imitate
  - 4. Suppose

Question ID : 264330169340

Option 1 ID : 264330664131

Option 2 ID : 264330664133

Option 3 ID : 264330664132

Option 4 ID : 264330664134

Status : Answered

Chosen Option : 3



**Comprehension:**

Read the given passage and answer the questions that follow.

In 1888, an Atlantic contributor made the case for a "science of names."

"Parents are strangely careless and unscientific in giving names to children," the contributor complained. "They forget that not only from the social point of view it is very advantageous to have one's name remembered, but that from the business point of view notoriety is capital, and must be obtained by persistent and ingenious advertising." Indeed, the contributor argued, a good name will give a child "a start in life equivalent to a cash capital of at least fifteen thousand dollars." One way to ensure this head start? "Be guided by euphonic quality only."

Although not all of this contributor's guidance can or should still apply today, the importance of a name to a child's identity has stayed front of mind for many parents. A name can determine whether a child fits in or stands out—and many parents differ on which of those outcomes is preferable.

**SubQuestion No : 37**

**Q.37** What will be given to a child if he gets a good name?

- Ans**
- 1. A perfect address
  - 2. A headstart in life
  - 3. A professional attitude
  - 4. A good bank balance

Question ID : 264330168483

Option 1 ID : 264330660772

Option 2 ID : 264330660774

Option 3 ID : 264330660773

Option 4 ID : 264330660771

Status : Answered

Chosen Option : 2

**Comprehension:**

Read the given passage and answer the questions that follow.

In 1888, an Atlantic contributor made the case for a "science of names."

"Parents are strangely careless and unscientific in giving names to children," the contributor complained. "They forget that not only from the social point of view it is very advantageous to have one's name remembered, but that from the business point of view notoriety is capital, and must be obtained by persistent and ingenious advertising." Indeed, the contributor argued, a good name will give a child "a start in life equivalent to a cash capital of at least fifteen thousand dollars." One way to ensure this head start? "Be guided by euphonic quality only."

Although not all of this contributor's guidance can or should still apply today, the importance of a name to a child's identity has stayed front of mind for many parents. A name can determine whether a child fits in or stands out—and many parents differ on which of those outcomes is preferable.

**SubQuestion No : 38**

**Q.38** Select the most appropriate word in the passage which means 'pleasing and sweet sound'.

- Ans**  1. Advantageous  
 2. Euphonic  
 3. Outcomes  
 4. Identity

Question ID : 264330168484

Option 1 ID : 264330660775

Option 2 ID : 264330660776

Option 3 ID : 264330660778

Option 4 ID : 264330660777

Status : Answered

Chosen Option : 2

**Comprehension:**

Read the given passage and answer the questions that follow.

In 1888, an Atlantic contributor made the case for a "science of names."

"Parents are strangely careless and unscientific in giving names to children," the contributor complained. "They forget that not only from the social point of view it is very advantageous to have one's name remembered, but that from the business point of view notoriety is capital, and must be obtained by persistent and ingenious advertising." Indeed, the contributor argued, a good name will give a child "a start in life equivalent to a cash capital of at least fifteen thousand dollars." One way to ensure this head start? "Be guided by euphonic quality only."

Although not all of this contributor's guidance can or should still apply today, the importance of a name to a child's identity has stayed front of mind for many parents. A name can determine whether a child fits in or stands out—and many parents differ on which of those outcomes is preferable.

**SubQuestion No : 39**

**Q.39** What is the tone of the speaker in the passage?

- Ans**
- 1. Humorous
  - 2. Persuasive
  - 3. Melancholic
  - 4. Sarcastic

Question ID : 264330168485

Option 1 ID : 264330660780

Option 2 ID : 264330660781

Option 3 ID : 264330660779

Option 4 ID : 264330660782

Status : Answered

Chosen Option : 2

**Comprehension:**

Read the given passage and answer the questions that follow.

In 1888, an Atlantic contributor made the case for a "science of names."

"Parents are strangely careless and unscientific in giving names to children," the contributor complained. "They forget that not only from the social point of view it is very advantageous to have one's name remembered, but that from the business point of view notoriety is capital, and must be obtained by persistent and ingenious advertising." Indeed, the contributor argued, a good name will give a child "a start in life equivalent to a cash capital of at least fifteen thousand dollars." One way to ensure this head start? "Be guided by euphonic quality only."

Although not all of this contributor's guidance can or should still apply today, the importance of a name to a child's identity has stayed front of mind for many parents. A name can determine whether a child fits in or stands out—and many parents differ on which of those outcomes is preferable.

**SubQuestion No : 40**

**Q.40** According to the contributor, the parents are strangely careless and unscientific in giving names to children because \_\_\_\_\_.

- Ans** ✓ 1. they do it without considering the business point of view  
✗ 2. they do it without discussing it with their relatives and friends  
✗ 3. they do it without considering the actual meaning of the name  
✗ 4. they do it without considering the latter's interest in it

Question ID : 264330168482

Option 1 ID : 264330660769

Option 2 ID : 264330660770

Option 3 ID : 264330660768

Option 4 ID : 264330660767

Status : Answered

Chosen Option : 1

**Section : General Awareness**

**Q.1** भारत में कौन-सा संगठन खाद्य सामग्रियों में कीटनाशकों की अधिकतम अवशेष सीमाएं (MRLs) निर्धारित करने के लिए जिम्मेदार होता है?

- Ans** ✓ 1. भारतीय खाद्य सुरक्षा और मानक प्राधिकरण (FSSAI)  
✗ 2. भारतीय सांख्यिकी संस्थान (ISI)  
✗ 3. खाद्य प्रसंस्करण उद्योग मंत्रालय  
✗ 4. भारतीय खाद्य निगम (FCI)

Question ID : 264330169094

Option 1 ID : 264330663181

Option 2 ID : 264330663182

Option 3 ID : 264330663180

Option 4 ID : 264330663179

Status : Not Attempted and Marked For Review

Chosen Option : --

Q.2 पहचानिए कि निम्नलिखित कथन सही हैं या गलत।

कथन 1: खासी और जैतिया पहाड़ियों में सबसे अधिक वर्षा होती है, जो 1000 cm से अधिक है।

कथन 2: लद्दाख और अधिकांश पश्चिमी राजस्थान में 150 cm से अधिक वर्षा होती है।

- Ans
- 1. दोनों कथन गलत हैं
  - 2. केवल कथन 2 सही है
  - 3. केवल कथन 1 सही है
  - 4. दोनों कथन सही हैं

Question ID : 264330167678  
Option 1 ID : 264330657684  
Option 2 ID : 264330657686  
Option 3 ID : 264330657685  
Option 4 ID : 264330657683  
Status : Answered  
Chosen Option : 4

Q.3 नीति-निर्माण के लिए राज्य द्वारा पालन किया जाने वाला कौन-सा निर्देशक सिद्धांत नहीं है?

- Ans
- 1. समुदाय के भौतिक संसाधनों का स्वामित्व सामान्य हित के लिए है
  - 2. आर्थिक व्यवस्था के संचालन से धन का संकेन्द्रण करना
  - 3. बच्चों की कम उम्र का दुरुपयोग नहीं किया जाना चाहिए
  - 4. समान काम के लिए समान वेतन

Question ID : 264330170337  
Option 1 ID : 264330668010  
Option 2 ID : 264330668009  
Option 3 ID : 264330668008  
Option 4 ID : 264330668007  
Status : Answered  
Chosen Option : 2

Q.4 Gases, especially oxygen and carbon dioxide, are essential for the survival of aquatic animals and plants. The gases from the atmosphere reach the aquatic animals and plants through:

- Ans
- 1. sublimation
  - 2. evaporation
  - 3. condensation
  - 4. diffusion

Question ID : 264330170335  
Option 1 ID : 264330668000  
Option 2 ID : 264330667999  
Option 3 ID : 264330668002  
Option 4 ID : 264330668001  
Status : Answered  
Chosen Option : 4

Q.5 2022 में एजबेस्टन में क्रिकेटर जसप्रीत बुमरा के रेकॉर्ड के संबंध में निम्नलिखित में से कौन-सा कथन सही है?

- 1) भारतीय कप्तान जसप्रीत बुमरा ने एक ओवर में 32 रन बनाकर ब्रायन लारा का विश्व रेकॉर्ड तोड़ दिया।
- 2) विश्व रेकॉर्ड ब्रायन लारा के नाम 18 वर्षों तक रहा।
- 3) ब्रायन लारा ने अपने इस रेकॉर्ड के लिए दक्षिण अफ्रीका के बाएं हाथ के स्पिनर रॉबिन पीटरसन को निशाना बनाया था।
- 4) जसप्रीत बुमरा ने स्टुअर्ट ब्रॉड को पछाड़कर टेस्ट क्रिकेट में एक ओवर में सर्वाधिक रन बनाने का विश्व रेकॉर्ड बनाया।

- Ans
- 1. 1, 2 और 3
  - 2. 2, 3 और 4
  - 3. 1, 3 और 4
  - 4. 1, 2 और 4

Question ID : 264330171250

Option 1 ID : 264330671615

Option 2 ID : 264330671617

Option 3 ID : 264330671616

Option 4 ID : 264330671618

Status : Not Attempted and Marked For Review

Chosen Option : --

Q.6 प्रार्थना समाज (Prarthana Samaj) के बारे में निम्नलिखित में से कौन-सा/कौन-से कथन सही है/हैं?

- A. संस्कृत में प्रार्थना समाज या ('Prayer Society') धार्मिक और सामाजिक सुधारों के लिए एक आंदोलन था।
- B. प्रार्थना समाज की स्थापना 1863 में दादोबा पांडुरंग और उनके भाई आत्माराम पांडुरंग ने की थी।

- Ans
- 1. A और B, दोनों
  - 2. केवल B
  - 3. केवल A
  - 4. न तो A, और न ही B

Question ID : 264330170641

Option 1 ID : 264330669205

Option 2 ID : 264330669204

Option 3 ID : 264330669203

Option 4 ID : 264330669206

Status : Answered

Chosen Option : 1

Q.7 निम्नलिखित खिलाड़ियों ने 2022 में अपने खेल में एक रिकॉर्ड बनाया है। खिलाड़ियों (सूची I) को उनके खेल (सूची II) से मिलाएं।

सूची I (खिलाड़ी)	सूची II (खेल)
a) मनजीत कौर	i) गोला फेंक
b) अविनाश साबले	ii) घावक
c) मीराबाई चानू	iii) तीरंदाजी
d) पूजा जाटयान	iv) भारोत्तोलन

- Ans  1. a – ii; b – i; c – iv; d – iii  
 2. a – ii; b – i; c – iii; d – iv  
 3. a – i; b – ii; c – iv; d – iii  
 4. a – i; b – ii; c – iii; d – iv

Question ID : 264330170069  
Option 1 ID : 264330666953  
Option 2 ID : 264330666954  
Option 3 ID : 264330666952  
Option 4 ID : 264330666951  
Status : Answered  
Chosen Option : 1

Q.8 भारत की जनगणना-2011 के अनुसार, निम्नलिखित में से कौन-सा विकल्प भारत में सबसे अधिक शहरीकृत केंद्र शासित प्रदेशों के समूह को दर्शाता है?

- Ans  1. चंडीगढ़ और लक्षद्वीप  
 2. दिल्ली और चंडीगढ़  
 3. पुडुचेरी और दिल्ली  
 4. लक्षद्वीप और पुडुचेरी

Question ID : 264330167679  
Option 1 ID : 264330657688  
Option 2 ID : 264330657687  
Option 3 ID : 264330657690  
Option 4 ID : 264330657689  
Status : Answered  
Chosen Option : 2

Q.9 भारत में निम्नलिखित में से कौन सा शहर सबसे पहले मानसूनी वर्षा का सामना करता है?

- Ans  1. चेन्नई  
 2. कोलकाता  
 3. भुवनेश्वर  
 4. तिरुवनंतपुरम

Question ID : 264330170030  
Option 1 ID : 264330666795  
Option 2 ID : 264330666798  
Option 3 ID : 264330666796  
Option 4 ID : 264330666797  
Status : Answered  
Chosen Option : 4

Q.10 किसी पारिस्थितिकी तंत्र के ऊर्जा प्रवाह आरेख में, ऊर्जा का प्रवाह शाकाहारी जीवों में \_\_\_\_\_ से होता है।

- Ans
- 1. उत्पादकों
  - 2. शीर्ष मांसाहारियों
  - 3. सूरज की रोशनी
  - 4. मांसाहारियों

Question ID : 264330170323  
Option 1 ID : 264330667952  
Option 2 ID : 264330667953  
Option 3 ID : 264330667954  
Option 4 ID : 264330667951  
Status : Answered  
Chosen Option : 1

Q.11 निम्नलिखित में से कौन-से कथन गलत हैं?

- 1) मूल क्षेत्राधिकार, संघीय मामलों से संबंधित सभी विवादों में सर्वोच्च न्यायालय को एक अंपायर (umpire) के रूप में स्थापित करता है।
- 2) सर्वोच्च न्यायालय रिट के रूप में विशेष आदेश दे सकता है।
- 3) भारतीय संविधान के अनुच्छेद 129 में भारत के कार्यकारी मुख्य न्यायाधीश की नियुक्ति के बारे में उल्लेख किया गया है।
- 4) भारत के सर्वोच्च न्यायालय के प्रत्येक न्यायाधीश की नियुक्ति भारत के प्रधानमंत्री द्वारा की जाएगी।

- Ans
- 1. 1 और 4
  - 2. 3 और 4
  - 3. 3 और 2
  - 4. 2 और 1

Question ID : 264330170806  
Option 1 ID : 264330669858  
Option 2 ID : 264330669855  
Option 3 ID : 264330669857  
Option 4 ID : 264330669856  
Status : Answered  
Chosen Option : 2



Q.12 निम्नलिखित अधिनियमों/नीतियों का उन संबंधित वर्षों के साथ मिलान करें जिनमें उन्हें लागू किया गया था।

अधिनियम/नीतियां	वर्ष
A. पिट्स इंडिया अधिनियम	1. 1784
B. बंगाल का स्थायी बंदोबस्त	2. 1793
C. सहायक संधि प्रणाली का परिचय	3. 1798
D. सती प्रथा का उन्मूलन	4. 1829

- Ans
- 1. A-2, B-1, C-4, D-3
  - 2. A-2, B-1, C-3, D-4
  - 3. A-1, B-2, C-3, D-4
  - 4. A-4, B-3, C-2, D-1

Question ID : 264330169692  
Option 1 ID : 264330665469  
Option 2 ID : 264330665468  
Option 3 ID : 264330665467  
Option 4 ID : 264330665470  
Status : Answered  
Chosen Option : 3

Q.13 दीनदयाल अंत्योदय योजना - राष्ट्रीय शहरी आजीविका मिशन (DAY-NULM) के साथ, संयुक्त राष्ट्र विकास कार्यक्रम (UNDP) की साझेदारी से संबंधित निम्नलिखित में से कौन से कथन सही हैं?

- 1) UNDP और DAY-NULM ने एक सहयोगी साझेदारी में प्रवेश किया है जिसका उद्देश्य महिलाओं को उद्यमिता के क्षेत्र में अच्छी तरह से सूचित करीयर विकल्पों को चुनने के लिए सशक्त बनाना है।
- 2) साझेदारी अपने स्वयं के उद्यम शुरू करने और उन्हें विस्तारित करने की इच्छुक महिलाओं को सहायता प्रदान करेगी, विशेष रूप से देखभाल अर्थव्यवस्था, डिजिटल अर्थव्यवस्था, वैद्युत गतिशीलता, अपशिष्ट प्रबंधन, खाद्य पैकेजिंग और अन्य क्षेत्रों में।
- 3) उद्यमिता विकास को बढ़ावा देने और उद्यम विकास में तेजी लाने पर केंद्रित, पांच वर्ष की परियोजना, जिसे 2027 से आगे बढ़ाया जा सकता है, प्रारंभिक चरण में दस शहरों को कवर करेगी।
- 4) UNDP, चयनित परियोजना स्थानों में 'बिज़-सखी' नामक सामुदायिक व्यवसाय सलाहकार विकसित करके इस पहल में योगदान देगा।

- Ans
- 1. 1, 3 और 4
  - 2. 1, 2 और 3
  - 3. 1, 2 और 4
  - 4. 2, 3 और 4

Question ID : 264330171266  
Option 1 ID : 264330671680  
Option 2 ID : 264330671679  
Option 3 ID : 264330671681  
Option 4 ID : 264330671682  
Status : Not Attempted and Marked For Review  
Chosen Option : --

Q.14 सीधी सड़क पर 10 km/h की चाल से गति करती हुई एक बस 2 मिनट में अपनी चाल 70 km/h तक बढ़ा देती है। बस का औसत त्वरण (acceleration) ज्ञात कीजिए।

- Ans
- 1. 2 km/min<sup>2</sup>
  - 2. 1 km/min<sup>2</sup>
  - 3. 0.5 km/min<sup>2</sup>
  - 4. 30 km/min<sup>2</sup>

Question ID : 264330170332  
Option 1 ID : 264330667988  
Option 2 ID : 264330667989  
Option 3 ID : 264330667990  
Option 4 ID : 264330667987  
Status : Answered  
Chosen Option : 3

Q.15 भारत में सूक्ष्म वित्त संस्थाओं के लिए दिशानिर्देश किसने जारी किए थे?

- Ans
- 1. राज्य सरकार
  - 2. नाबार्ड (NABARD)
  - 3. भारतीय रिजर्व बैंक
  - 4. वित्त मंत्रालय

Question ID : 264330169903  
Option 1 ID : 264330666287  
Option 2 ID : 264330666290  
Option 3 ID : 264330666289  
Option 4 ID : 264330666288  
Status : Answered  
Chosen Option : 3

Q.16 अंतरण अदायगियों (transfer payments) के बारे में निम्नलिखित में से कौन-सा कथन सही है?

- 1) परिवारों को अंतरण अदायगियां (transfer payments) सरकार द्वारा की जाती हैं।
- 2) पेंशन, छात्रवृत्ति आदि अंतरण अदायगियों (transfer payments) का हिस्सा नहीं हैं।
- 3) अंतरण अदायगियों का उपयोग प्रायः समाज के भीतर आय को पुनःवितरित करने के लिए एक माध्यम के रूप में किया जाता है।

- Ans
- 1. केवल 1 और 3
  - 2. 1, 2 और 3
  - 3. केवल 2 और 3
  - 4. केवल 1 और 2

Question ID : 264330169707  
Option 1 ID : 264330665528  
Option 2 ID : 264330665530  
Option 3 ID : 264330665529  
Option 4 ID : 264330665527  
Status : Not Attempted and Marked For Review  
Chosen Option : --

Q.17 Severe undernutrition due to the deficiency of food and energy is termed as \_\_\_\_\_.

- Ans
- 1. kwashiorkor
  - 2. marasmus
  - 3. dementia
  - 4. wasting

Question ID : 264330170035  
Option 1 ID : 264330666816  
Option 2 ID : 264330666815  
Option 3 ID : 264330666818  
Option 4 ID : 264330666817  
Status : Marked For Review  
Chosen Option : 1

Q.18 सितंबर 2022 में, \_\_\_\_\_ में दशपारा गांव (Daspara village) - जो पूरी तरह से कृषि और मत्स्य पालन पर निर्भर है, ने रासायनिक उर्वरकों के प्रयोग को कम करते हुए प्रकृति-आधारित जीवनशैली और आजीविका (nature-based lifestyle and livelihood) को अपनाकर भारत का पहला संशोधित जैव गांव (modified bio village) बन गया।

- Ans
- 1. पश्चिम बंगाल
  - 2. ओड़िशा
  - 3. त्रिपुरा
  - 4. आंध्र प्रदेश

Question ID : 264330171261  
Option 1 ID : 264330671662  
Option 2 ID : 264330671661  
Option 3 ID : 264330671660  
Option 4 ID : 264330671659  
Status : Not Attempted and Marked For Review  
Chosen Option : --

Q.19 ग्रीनहाउस प्रभाव में वृद्धि के लिए प्रमुख रूप से क्या उत्तरदायी है?

- Ans
- 1. SO<sub>2</sub> का बढ़ता स्तर
  - 2. क्लोरोफ्लोरोकार्बन की मात्रा में वृद्धि
  - 3. CO<sub>2</sub> की बढ़ती मात्रा
  - 4. ओजोन परत में छेद

Question ID : 264330144483  
Option 1 ID : 264330566187  
Option 2 ID : 264330566190  
Option 3 ID : 264330566189  
Option 4 ID : 264330566188  
Status : Answered  
Chosen Option : 1

Q.20 एक 100 mL घोल में 0.01 मोल NaOH घुला हुआ है। घोल का pH कितना होगा?

- Ans
- 1. 2
  - 2. 1
  - 3. 10
  - 4. 13

Question ID : 264330170800

Option 1 ID : 264330669834

Option 2 ID : 264330669833

Option 3 ID : 264330669831

Option 4 ID : 264330669832

Status : Not Attempted and  
Marked For Review

Chosen Option : --

Section : Computer Knowledge Module

Q.1 ई-मेल भेजने और प्राप्त करने के लिए सामान्यतः किस प्रोटोकॉल का उपयोग किया जाता है?

- Ans
- 1. HTTP (हाइपरटेक्स्ट ट्रांसफर प्रोटोकॉल)
  - 2. FTP (फ़ाइल ट्रांसफर प्रोटोकॉल)
  - 3. SMTP (सिंपल मेल ट्रांसफर प्रोटोकॉल)
  - 4. SSH (सिक्वोर शेल प्रोटोकॉल)

Question ID : 264330184309

Option 1 ID : 264330721973

Option 2 ID : 264330721974

Option 3 ID : 264330721975

Option 4 ID : 264330721976

Status : Not Answered

Chosen Option : --

Q.2 सेंट्रल प्रोसेसिंग यूनिट (CPU) में, अरिथमेटिक लॉजिक यूनिट (ALU) का क्या उद्देश्य होता है?

- Ans
- 1. यह CPU को पेरिफेरल उपकरणों से जोड़ता है।
  - 2. यह CPU फैन की गति को नियंत्रित करता है।
  - 3. यह CPU और मेमोरी के बीच डेटा प्रवाह को मैनेज करता है।
  - 4.

यह गणनाएं और तार्किक तुलना करके प्रोग्राम निर्देशों को निष्पादित करता है।

Question ID : 264330184316

Option 1 ID : 264330722004

Option 2 ID : 264330722003

Option 3 ID : 264330722001

Option 4 ID : 264330722002

Status : Answered

Chosen Option : 4

Q.3 नेटवर्क सुरक्षा के संदर्भ में, "फ़िशिंग (Phishing)" क्या है?

Ans  1.

एक प्रकार का मैलवेयर (malware) जो संक्रमित USB ड्राइव से फैलता है।

2.

एक ऐसा हमला जो किसी नेटवर्क को अत्यधिक ट्रैफ़िक से भर देता है और उसके संचालन को बाधित करता है।

3.

एक सामाजिक अभियंत्रिकी (social engineering) हमला जो उपयोगकर्ताओं द्वारा सचेतनशील जानकारी प्रकट करने के लिए छल करता है।

4.

एक प्रकार का कंप्यूटर वर्म (worm) जो ई-मेल अटैचमेंट के माध्यम से फैलता है।

Question ID : 264330184322

Option 1 ID : 264330722026

Option 2 ID : 264330722025

Option 3 ID : 264330722027

Option 4 ID : 264330722028

Status : Answered

Chosen Option : 3

Q.4 ई-मेल संरचना में "BCC" फ़ील्ड का मुख्य उद्देश्य क्या होता है?

Ans

1. एक ही फ़ील्ड में एकाधिक प्राप्तकर्ताओं को शामिल करना।

2. ई-मेल के महत्व को इंगित करना।

3.

अन्य प्राप्तकर्ताओं के एड्रेस का खुलासा किए बिना ई-मेल की प्रतियां भेजना।

4. ई-मेल में फ़ाइलें संलग्न करना।

Question ID : 264330184313

Option 1 ID : 264330721991

Option 2 ID : 264330721990

Option 3 ID : 264330721992

Option 4 ID : 264330721989

Status : Answered

Chosen Option : 3

Q.5 विंडोज 10 में, फाइल एक्सप्लोरर (जिसे पहले विंडोज एक्सप्लोरर के नाम से जाना जाता था) को खोलने के लिए किस की बोर्ड शॉर्टकट का उपयोग किया जाता है?

- Ans
- 1. **Ctrl + C**
  - 2. **Ctrl + F**
  - 3. **Win + E**
  - 4. **Alt + Tab**

Question ID : 264330184320  
Option 1 ID : 264330722017  
Option 2 ID : 264330722018  
Option 3 ID : 264330722019  
Option 4 ID : 264330722020  
Status : **Answered**  
Chosen Option : 3

Q.6 What is a workbook in Excel?

- Ans
- 1. A file containing multiple worksheets
  - 2. A chart that visualises data
  - 3. A collection of cells with related data
  - 4. A set of predefined formatting styles

Question ID : 264330184308  
Option 1 ID : 264330721972  
Option 2 ID : 264330721970  
Option 3 ID : 264330721969  
Option 4 ID : 264330721971  
Status : **Not Answered**  
Chosen Option : --

Q.7 निम्नलिखित में से क्या URL (यूनिफॉर्म रिसोर्स लोकेटर) का एक हिस्सा है?

- Ans
- 1. पोर्ट नंबर
  - 2. सर्वर
  - 3. मल्टीप्लायर
  - 4. एर कोड

Question ID : 264330184315  
Option 1 ID : 264330722000  
Option 2 ID : 264330721998  
Option 3 ID : 264330721997  
Option 4 ID : 264330721999  
Status : **Not Answered**  
Chosen Option : --

Q.8 इंटरनेट पर सर्च इंजन का उद्देश्य क्या होता है?

- Ans
- 1. सोशल मीडिया प्लेटफॉर्म पर लोगों के साथ नेटवर्क बनाना।
  - 2. वेब से प्रासंगिक जानकारी खोजना और पुनः प्राप्त करना।
  - 3. सॉफ्टवेयर डाउनलोड करने की निःशुल्क सुविधा प्रदान करना।
  - 4. ऑनलाइन डॉक्युमेंट बनाना और एडिट करना।

Question ID : 264330184314  
Option 1 ID : 264330721994  
Option 2 ID : 264330721995  
Option 3 ID : 264330721993  
Option 4 ID : 264330721996  
Status : Answered  
Chosen Option : 2

Q.9 निम्नलिखित में से कौन-सा आउटपुट डिवाइस का एक उदाहरण है?

- Ans
- 1. माउस
  - 2. स्कैनर
  - 3. माइक्रोफोन
  - 4. प्रिंटर

Question ID : 264330184319  
Option 1 ID : 264330722013  
Option 2 ID : 264330722014  
Option 3 ID : 264330722016  
Option 4 ID : 264330722015  
Status : Not Answered  
Chosen Option : --

Q.10 अधिकांश विरोज एप्लिकेशंस ने विंडोजबोर्ड से कॉपी किए गए कंटेन्ट को 'मेस्ट' करने के लिए की बोर्ड शॉर्टकट क्या होता है?

- Ans
- 1. Ctrl + C
  - 2. Ctrl + Z
  - 3. Ctrl + V
  - 4. Ctrl + X

Question ID : 264330184318  
Option 1 ID : 264330722010  
Option 2 ID : 264330722012  
Option 3 ID : 264330722011  
Option 4 ID : 264330722009  
Status : Answered  
Chosen Option : 3

Q.11 माइक्रोसॉफ्ट वर्ड में, "अलाइनमेंट (Alignment)" विकल्प का क्या उद्देश्य होता है?

Ans  1. टेक्स्ट की पंक्तियों के बीच के अंतराल को एडजस्ट करना।

2. चित्रों और ग्राफ़िक्स को इन्सर्ट करना।

3. टेक्स्ट के फॉन्ट रंग को बदलना।

4.

मार्जिन्स के भीतर टेक्स्ट की क्षैतिज या ऊर्ध्वाधर स्थिति को नियंत्रित करना।

Question ID : 264330184312

Option 1 ID : 264330721987

Option 2 ID : 264330721985

Option 3 ID : 264330721986

Option 4 ID : 264330721988

Status : Answered

Chosen Option : 4

Q.12 किसी नेटवर्क पर डिवाइसों को गतिशील रूप से IP एड्रेस निर्दिष्ट करने के लिए किस नेटवर्किंग प्रोटोकॉल का उपयोग किया जाता है?

Ans  1. DHCP (डायनामिक होस्ट कॉन्फ़िगरेशन प्रोटोकॉल)

2. HTTP (हाइपरटेक्स्ट ट्रांसफर प्रोटोकॉल)

3. SMTP (सिंपल मेल ट्रांसफर प्रोटोकॉल)

4. FTP (फ़ाइल ट्रांसफर प्रोटोकॉल)

Question ID : 264330184321

Option 1 ID : 264330722023

Option 2 ID : 264330722022

Option 3 ID : 264330722024

Option 4 ID : 264330722021

Status : Answered

Chosen Option : 2



Q.13 नेटवर्क सुरक्षा के संदर्भ में, "DDoS हमला" क्या है?

Ans  1.

एक सामाजिक अभियांत्रिकी (social engineering) हमला जो विशिष्ट व्यक्तियों को लक्षित करता है।

2.

एक प्रकार का मालवेयर (malware) जो स्वयं की प्रतिकृति बनाता है और नेटवर्क के माध्यम से फैलता है।

3.

एक ऐसा हमला जो किसी नेटवर्क को अत्यधिक ट्रैफिक से भर देता है और उसके संचालन को बाधित करता है।

4.

एक हमला जिसका उद्देश्य सॉफ्टवेयर की कमजोरियों का फायदा उठाना है।

Question ID : 264330184311

Option 1 ID : 264330721982

Option 2 ID : 264330721981

Option 3 ID : 264330721984

Option 4 ID : 264330721983

Status : Not Answered

Chosen Option : --

Q.14 कंप्यूटर सिस्टम में, ROM (रीड-ओनली मेमोरी) की क्या भूमिका होती है?

Ans

1. नेटवर्क कनेक्शंस को मैनेज करना।

2. यूजर-जनित फ़ाइलों और डॉक्यूमेंट्स को संग्रहीत करना।

3. कंप्यूटर के फ़र्मवेयर और स्टार्टअप निर्देशों को संग्रहीत करना।

4. रन कर रहे एप्लिकेशंस के लिए अस्थायी भंडारण प्रदान करना।

Question ID : 264330184317

Option 1 ID : 264330722008

Option 2 ID : 264330722005

Option 3 ID : 264330722007

Option 4 ID : 264330722006

Status : Answered

Chosen Option : 2

Q.15 माइक्रोसॉफ्ट वर्ड 2016 में, आप एक मौजूदा डॉक्यूमेंट को कैसे खोल सकते हैं?

Ans

1. **Ctrl + N** दबाने पर

2. **Ctrl + B** दबाने पर

3. **Ctrl + E** दबाने पर

4. **Ctrl + O** दबाने पर

Question ID : 264330184310

Option 1 ID : 264330721977

Option 2 ID : 264330721979

Option 3 ID : 264330721980

Option 4 ID : 264330721978

Status : Answered

Chosen Option : 4