

Combined Higher Secondary Level Examination Tier I 2022

Roll Number	
Candidate Name	
Venue Name	
Exam Date	09/03/2023
Exam Time	9:00 AM - 10:00 AM
Subject	CHSL Exam 2022 Tier I

Section : English Language

www.exammix.com

Q.1 Rearrange the parts of the sentence in correct order.

Climate change is

P. climate caused by natural forces in combination

Q. a broad topic that includes periodic alterations in Earth's

R. with the effects of various human activities like burning of

S. fossil fuels and changes in land cover and biodiversity

Ans 1. PSQR

2. QPRS

3. RSQP

4. SRPQ

Q.2 Find the part of the given sentence that has an error in it. If there is no error, choose 'No error'.

The recent discoveries have risen hopes about possible applications.

Ans 1. have risen hopes

2. No error

3. about possible applications.

4. The recent discoveries

Q.3 Choose the word that means the same as the given word.
Apologetic

Ans 1. Contrite

2. Solid

3. Stagnant

4. Derisive

Q.4 Select the correct indirect form of the given sentence.
The sage said, "Man proposes and God disposes."

- Ans**
- 1. The sage said that man had proposed and God had disposed.
 - 2. The sage said that man proposed and God disposed.
 - 3. The sage said that man propose and God dispose.
 - 4. The sage said that man proposes and God disposes.

Q.5 Select the most appropriate meaning of the given idiom.
Slap on the wrist

- Ans**
- 1. A mild punishment
 - 2. Misunderstand each other
 - 3. Wild with excitement
 - 4. Criticize someone strongly and angrily

Question ID : 264330124774
Status : Not Answered
Chosen Option : --

Q.6 Choose the word that means the same as the given word.
Magnanimity

- Ans**
- 1. Virulence
 - 2. Volatile
 - 3. Invidiousness
 - 4. Altruism

Question ID : 264330124572
Status : Not Answered
Chosen Option : --

Q.7 Improve the underlined part of the sentence. Choose 'No improvement' as an answer if the sentence is grammatically correct.

A man may die, nations may rise and fall, but an idea lived on.

- Ans**
- 1. lives on
 - 2. lives in
 - 3. live on
 - 4. No improvement

Question ID : 264330124198
Status : Answered
Chosen Option : 1

Q.8 Identify the segment in the sentence which contains a grammatical error. If there is no error, then select the option "No error".
And it just recently awarded/ a million-dollar contract/ that reeks of corruption.

- Ans**
- 1. a million-dollar contract
 - 2. that reeks of corruption.
 - 3. No error
 - 4. And it just recently awarded

Question ID : 264330124760
Status : Not Answered
Chosen Option : --

**Q.9 Choose the option that is the correct passive form of the sentence.
Ravi gave you the information?**

- Ans** 1. You have been given the information?
 2. Was the information given to you by Ravi?
 3. Have the information been given to you?
 4. Has the information given to you?

Question ID : 264330124757
Status : Answered
Chosen Option : 2

**Q.10 In the following question, out of the given four alternatives, select the alternative which best expresses the meaning of the Idiom/Phrase.
Body and soul**

- Ans** 1. Life and death
 2. To solve a difficulty
 3. Wholly and entirely
 4. Happiness and sorrow

Question ID : 264330124097
Status : Answered
Chosen Option : 3

Q.11 Choose the sentence with no spelling error.

- Ans** 1. You remind me of someone I knew onse.
 2. You reminde me of someone I knew once.
 3. You remind me of someone I knew once.
 4. You remiend me of somone I knew once.

Question ID : 264330124100
Status : Answered
Chosen Option : 3

**Q.12 Fill in the blank with an appropriate option.
My feet don't _____ the ground for the rest of the day.**

- Ans** 1. slab
 2. touch
 3. deal
 4. purify

Question ID : 264330124547
Status : Answered
Chosen Option : 2

**Q.13 Choose the word that can substitute the given group of words.
Study of heavenly bodies**

- Ans** 1. Numerology
 2. Astrology
 3. Stargazing
 4. Astronomy

Question ID : 264330124309
Status : Answered
Chosen Option : 4

Q.14 Select the most appropriate option to fill in the blank.
However, even after Independence in 1947, British expatriate firms did not suddenly _____ from India.

- Ans** 1. divest
 2. consecrate
 3. close
 4. disallow

Question ID : 264330124756
Status : Answered
Chosen Option : 1

Q.15 Choose the incorrectly spelt word.

- Ans** 1. Shuot
 2. Broom
 3. Bloom
 4. Gloomy

Question ID : 264330124099
Status : Answered
Chosen Option : 1

Q.16 Select the most appropriate 'one word' for the expression given below.
One who has persistent neurotic impulse to steal

- Ans** 1. Iconoclast
 2. Kleptomaniac
 3. Hypocrite
 4. Connoisseur

Question ID : 264330125779
Status : Answered
Chosen Option : 2

Q.17 Choose the word that is opposite in meaning to the given word.
Frustrate

- Ans** 1. Foster
 2. Fetter
 3. Circumvent
 4. Irk

Question ID : 264330124173
Status : Not Answered
Chosen Option : --

Q.18 Rearrange the parts of the sentence in correct order.
P. versions of the European poor laws, charitable and
Q. in former colonies, such as Ghana, Jamaica, India and the
R. missionary activities, and the introduction of Western juvenile justice procedures
S. Philippines the basic welfare services grew out of modified

- Ans** 1. PSQR
 2. QPRS
 3. PRSQ
 4. QSPR

Question ID : 264330124092
Status : Answered
Chosen Option : 4

Q.19 Choose the word that can substitute the given group of words.
One who hates institution of marriage

- Ans** 1. Pedantic
 2. Polyglot
 3. Misogamist
 4. Coquette

Question ID : 264330124414
 Status : Answered
 Chosen Option : 3

Q.20 Choose the word that means the same as the given word.
Quandary

- Ans** 1. Breeze
 2. Impasse
 3. Clique
 4. Cinch

Question ID : 264330124052
 Status : Not Answered
 Chosen Option : --

Comprehension:

In the following passage some of the words have been deleted. Read the passage carefully and select the correct answer for the given blank out of the four alternatives.

Many fruits and vegetables change (1) _____ as they ripen. For example, tomatoes, strawberries, and red bell peppers all change from green to red. Colour is just one way along with size, texture, and smell that you can tell if a fruit or vegetable is (2) _____ to be harvested or eaten. Imagine a factory that (3) _____ strawberries into plastic containers to be (4) _____ to grocery stores across the country. It might be useful to have a machine that automatically (5) _____ any green strawberries that were picked before they were ripe. Or, you might want a machine on the farm that automatically recognizes strawberries by colour and only picks the red ones to begin with.

SubQuestion No : 21

Q.21 Select the most appropriate option to fill in blank number 1.

- Ans** 1. clothes
 2. shape
 3. colour
 4. size

Question ID : 264330124086
 Status : Answered
 Chosen Option : 3

Comprehension:

In the following passage some of the words have been deleted. Read the passage carefully and select the correct answer for the given blank out of the four alternatives.

Many fruits and vegetables change (1) _____ as they ripen. For example, tomatoes, strawberries, and red bell peppers all change from green to red. Colour is just one way along with size, texture, and smell that you can tell if a fruit or vegetable is (2) _____ to be harvested or eaten. Imagine a factory that (3) _____ strawberries into plastic containers to be (4) _____ to grocery stores across the country. It might be useful to have a machine that automatically (5) _____ any green strawberries that were picked before they were ripe. Or, you might want a machine on the farm that automatically recognizes strawberries by colour and only picks the red ones to begin with.

SubQuestion No : 22

Q.22 Select the most appropriate option to fill in blank number 2.

- Ans** 1. sober
 2. ready
 3. trepid
 4. steady

Question ID : 264330124087

Status : Answered

Chosen Option : 2

Comprehension:

In the following passage some of the words have been deleted. Read the passage carefully and select the correct answer for the given blank out of the four alternatives.

Many fruits and vegetables change (1) _____ as they ripen. For example, tomatoes, strawberries, and red bell peppers all change from green to red. Colour is just one way along with size, texture, and smell that you can tell if a fruit or vegetable is (2) _____ to be harvested or eaten. Imagine a factory that (3) _____ strawberries into plastic containers to be (4) _____ to grocery stores across the country. It might be useful to have a machine that automatically (5) _____ any green strawberries that were picked before they were ripe. Or, you might want a machine on the farm that automatically recognizes strawberries by colour and only picks the red ones to begin with.

SubQuestion No : 23

Q.23 Select the most appropriate option to fill in blank number 3.

- Ans** 1. breaks
 2. packs
 3. tapes
 4. halts

Question ID : 264330124088

Status : Answered

Chosen Option : 2

Comprehension:

In the following passage some of the words have been deleted. Read the passage carefully and select the correct answer for the given blank out of the four alternatives.

Many fruits and vegetables change (1) _____ as they ripen. For example, tomatoes, strawberries, and red bell peppers all change from green to red. Colour is just one way along with size, texture, and smell that you can tell if a fruit or vegetable is (2) _____ to be harvested or eaten. Imagine a factory that (3) _____ strawberries into plastic containers to be (4) _____ to grocery stores across the country. It might be useful to have a machine that automatically (5) _____ any green strawberries that were picked before they were ripe. Or, you might want a machine on the farm that automatically recognizes strawberries by colour and only picks the red ones to begin with.

SubQuestion No : 24

Q.24 Select the most appropriate option to fill in blank number 4.

- Ans** 1. shipped off
 2. suited to
 3. managed of
 4. accounted to

Question ID : 264330124089
 Status : Answered
 Chosen Option : 1

Comprehension:

In the following passage some of the words have been deleted. Read the passage carefully and select the correct answer for the given blank out of the four alternatives.

Many fruits and vegetables change (1) _____ as they ripen. For example, tomatoes, strawberries, and red bell peppers all change from green to red. Colour is just one way along with size, texture, and smell that you can tell if a fruit or vegetable is (2) _____ to be harvested or eaten. Imagine a factory that (3) _____ strawberries into plastic containers to be (4) _____ to grocery stores across the country. It might be useful to have a machine that automatically (5) _____ any green strawberries that were picked before they were ripe. Or, you might want a machine on the farm that automatically recognizes strawberries by colour and only picks the red ones to begin with.

SubQuestion No : 25

Q.25 Select the most appropriate option to fill in blank number 5.

- Ans** 1. sustains
 2. rejects
 3. proceeds
 4. detains

Question ID : 264330124090
 Status : Answered
 Chosen Option : 4

Section : General Intelligence

Q.1 निम्नलिखित प्रश्न में, दिए गए विकल्पों में से अलग अक्षर/अक्षरों को चुनिए।

- Ans** 1. BDEF
 2. LMNO
 3. IJKL
 4. ABCD

Question ID : 264330126779
 Status : Answered
 Chosen Option : 1

Q.2 S, T की बहन है। R, S का भाई है। U, W की पत्नी है। T, U का पिता है। T, W से कैसे संबंधित है?

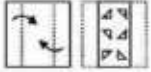
- Ans
- 1. पिता
 - 2. ससुर
 - 3. मामा
 - 4. बेटा

Question ID : 264330126777

Status : Answered

Chosen Option : 2

Q.3 कागज के एक टुकड़े को मोड़र जाता है और उसमें छेद किया जाता है, जैसा कि नीचे घन आकृतियों में दिखाया गया है। टी गड़ उत्तर आकृतियों में से बताइए कि खोले जाने के बाद वह किस उत्तर आकृति के समान दिखाई देगी?



Ans

- 1.
- 2.
- 3.
- 4.

Question ID : 264330127236

Status : Answered

Chosen Option : 1

Q.4 निम्नलिखित प्रश्न में चार संख्या युग्म दिए गए हैं। प्रत्येक युग्म में (-) के बायीं ओर की संख्या (-) के दायीं ओर की संख्या से किसी तर्क/नियम/संबंध से संबंधित है। समान तर्क/नियम/संबंध के आधार पर तीन युग्म समान हैं। दिए गए विकल्पों में से अलग युग्म को चुनिए। (ध्यान दें: संख्याओं को उनके घटक अंकों में अलग अलग किए बिना, पूर्ण संख्याओं पर संक्रियाएँ की जानी चाहिए। उदा. 13 - 13 पर संक्रियाएँ जैसे 13 को जोड़ना / घटाना / गुणा करना आदि किया जा सकता है। 13 को 1 एवं 3 में अलग करने की और फिर 1 एवं 3 पर गणितीय संक्रियाएँ करने की अनुमति नहीं है)

- Ans
- 1. 2222 - 4444
 - 2. 3333 - 6666
 - 3. 4444 - 8888
 - 4. 5555 - 7777

Question ID : 264330127220

Status : Answered

Chosen Option : 4

Q.5 दिए गए विकल्पों में से उस आकृति को चुनिए जो निम्नलिखित श्रृंखला में प्रश्न चिह्न (?) के स्थान पर आ सकती है।



Ans

✗ 1.



✗ 2.



✓ 3.



✗ 4.



Question ID : 264330126783
Status : Answered
Chosen Option : 3

Q.6 किसी एक खास कूट भाषा में, 'GIRL' को 'QWNL' लिखा जाता है। इस कूट भाषा में 'KEPT' को कैसे लिखा जाएगा?

Ans ✓ 1. YUJP

✗ 2. YVJP

✗ 3. YUKR

✗ 4. YUKP

Question ID : 264330126772
Status : Answered
Chosen Option : 1

Q.7 किसी एक खास कूट भाषा में, 'TEFLOANS' को '2056121226138' लिखा जाता है, 'SERGEANT' को '1951872226137' लिखा जाता है। इस कूट भाषा में 'UNIQUELY' को कैसे लिखा जाएगा?

Ans ✗ 1. 2115917623152

✗ 2. 2114917632142

✓ 3. 2114917622152

✗ 4. 2124917623152

Question ID : 264330126773
Status : Answered
Chosen Option : 3

Q.8 (::) के बायीं ओर दिए गए शब्द एक-दूसरे से किसी तर्क/नियम/संबंध से संबंधित हैं। उसी तर्क/नियम/संबंध के आधार पर दिए गए विकल्पों में से (::) के दाईं ओर लुप्त शब्द/शब्द युग्म को चुनिए।
चाय : कप :: ?

Ans ✗ 1. कागज : लुगदी

✗ 2. दूध : पीना

✓ 3. भोजन : प्लेट

✗ 4. ग्लास : जल

Question ID : 264330127053
Status : Answered
Chosen Option : 3

Q.9 निम्नलिखित प्रश्न में, दी गई श्रृंखला में से लुप्त संख्या को चुनिए।
129, 126, 123, 120, 117, ?

- Ans 1. 114
 2. 113
 3. 112
 4. 115


Question ID : 264330126339
Status : Answered
Chosen Option : 1

Q.10 (::) के बायीं ओर दिए गए शब्द किसी तर्क/नियम/संबंध के आधार पर एक-दूसरे से संबंधित हैं। समान तर्क/नियम/संबंध के आधार पर दिए गए विकल्पों में से (::) के दायीं ओर लुप्त शब्द/शब्द युग्म को चुनिए।
कलम : लेखक :: कुल्हाड़ी : ?

- Ans 1. शिक्षक
 2. रसोइया
 3. लकड़हारा
 4. मोची

Question ID : 264330126338
Status : Answered
Chosen Option : 3

Q.11 दी गई आकृति में कितने चतुर्भुज हैं?



- Ans 1. 22
 2. 23
 3. 25
 4. 24

Question ID : 264330126859
Status : Answered
Chosen Option : 3

Q.12 उस विकल्प को चुनिए जो तीसरी संख्या से ठीक उसी तरह संबंधित है जिस तरह पहली संख्या दूसरी संख्या से संबंधित है और पाँचवीं संख्या छठी संख्या से संबंधित है।
14 : 210 :: 13 : ? :: 16 : 272

- Ans 1. 204
 2. 162
 3. 174
 4. 182

Question ID : 264330126841
Status : Answered
Chosen Option : 4

Q.13 उस विकल्प आकृति को चुनिए जिसमें दी गई आकृति निहित है। (घूर्णन की अनुमति नहीं है)।




Ans

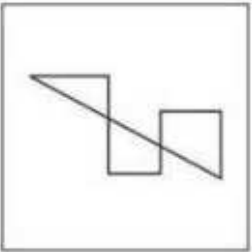
✓ 1.



✗ 2.



✗ 3.



✗ 4.



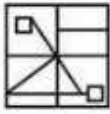
Question ID : 264330127635
Status : Answered
Chosen Option : 1

Q.14 यदि एक दर्पण को रेखा AB पर रखा जाए, तो विकल्प आकृतियों में से कौन-सी आकृति प्रश्न आकृति का सही प्रतिबिम्ब होगी?

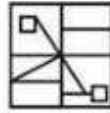


Ans

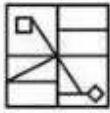
✗ 1.



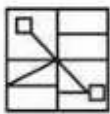
✓ 2.



✗ 3.



✗ 4.

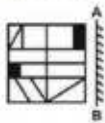


Question ID : 264330126712

Status : Answered

Chosen Option : 2

Q.15 यदि एक दर्पण को रेखा AB पर रखा जाए, तो दो नई विकल्प आकृतियों में से कौन-सी आकृति प्रश्न आकृति का सही प्रतिबिम्ब होगी?



Ans

✗ 1.



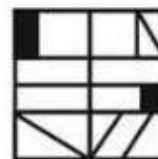
✗ 2.



✗ 3.



✓ 4.



Question ID : 264330126962

Status : Answered

Chosen Option : 4

Q.16 एक अनुक्रम दिया गया है जिसमें एक पद लुप्त है। दिए गए विकल्पों में से वह सही विकल्प चुनिए जो अनुक्रम को पूरा करेगा।
LOG, FLH, ZII, TFJ, NCK, ?

- Ans
- 1. HYL
 - 2. HAL
 - 3. HZL
 - 4. HZM

Question ID : 264330126776

Status : Answered

Chosen Option : 3

Q.17 निम्नलिखित प्रश्न में चार संख्या युग्म दिए गए हैं। प्रत्येक युग्म में (-) के बायीं ओर की संख्या (-) के दायीं ओर की संख्या से किसी तर्क/नियम/संबंध से संबंधित है। समान तर्क/नियम/संबंध के आधार पर तीन युग्म समान हैं। दिए गए विकल्पों में से अलग युग्म को चुनिए। (ध्यान दें: संख्याओं को उनके घटक अंकों में अलग अलग किए बिना, पूर्ण संख्याओं पर संक्रियाएँ की जानी चाहिए। उदा. 13 - 13 पर संक्रियाएँ जैसे 13 को जोड़ना / घटाना / गुणा करना आदि किया जा सकता है। 13 को 1 एवं 3 में अलग करने की और फिर 1 एवं 3 पर गणितीय संक्रियाएँ करने की अनुमति नहीं है)

- Ans
- 1. 2125 - 8600
 - 2. 3375 - 13500
 - 3. 1595 - 6380
 - 4. 2685 - 10740

Question ID : 264330127045

Status : Answered

Chosen Option : 1

Q.18 दिए गए दो चिन्हों को आपस में बदलने के बाद निम्नलिखित समीकरण का मान क्या होगा?
x और +
 $47 + 13 \div 65 \times 5 - 16$

- Ans
- 1. 190
 - 2. 195
 - 3. 205
 - 4. 200

Question ID : 264330126361

Status : Answered

Chosen Option : 4

Q.19 नीचे दिए गए प्रश्न में कुछ कथन दिए गए हैं और उन कथनों के आधार पर कुछ निष्कर्ष दिए गए हैं। आपको मानना है कि दिए गए कथन सत्य हैं चाहे वे समान्यतः ज्ञात तथ्यों से अलग प्रतीत होते हों। सभी निष्कर्षों को पढ़िए और फिर निश्चय कीजिए कि दिए गए निष्कर्षों में से कौन-सा निष्कर्ष तार्किक रूप से दिए गए कथनों के अनुसार है।

कथन:

- I. सभी Z, D हैं।
- II. कोई भी Y, Z नहीं है।

निष्कर्ष:

- I. कुछ D, Y नहीं हैं।
- II. कुछ Z, Y नहीं हैं।
- III. कुछ D, Z हैं।

- Ans
- 1. सभी निष्कर्ष कथनों के अनुसार है।
 - 2. निष्कर्ष I और II दोनों कथनों के अनुसार है।
 - 3. निष्कर्ष II और III दोनों कथनों के अनुसार है।
 - 4. केवल निष्कर्ष I कथनों के अनुसार है।

Question ID : 264330126781

Status : Answered

Chosen Option : 3

Q.20 दिए गए शब्दों को शब्दकोश के क्रमानुसार व्यवस्थित करें।

- 1. Wage
- 2. Waist
- 3. Waste
- 4. West
- 5. Wave

Ans ✓ 1. 12354

✗ 2. 42135

✗ 3. 24351

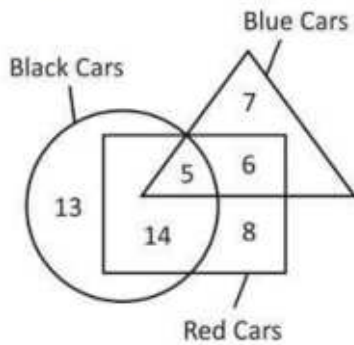
✗ 4. 35241

Question ID : 264330127421

Status : Answered

Chosen Option : 1

Q.21 दिए गए आरेख में, कितनी लाल कारें हैं?



Black Car: काली कार Blue Car: नीली कार Red Car: लाल कार

Ans ✗ 1. 31

✗ 2. 22

✗ 3. 28

✓ 4. 33

Question ID : 264330126863

Status : Answered

Chosen Option : 4

Q.22 दिए गए शब्दों में से, तीन किसी प्रकार समान हैं। हालाँकि, एक विकल्प अन्य तीन के समान नहीं है। उस विकल्प को चुनिए जो बाकियों से अलग है।

Ans ✓ 1. फूलगोभी

✗ 2. सेब

✗ 3. अंगूर

✗ 4. केला

Question ID : 264330127430

Status : Answered

Chosen Option : 1

Q.23 (::) के बायीं ओर दिए गए शब्द एक-दूसरे से किसी तर्क/नियम/संबंध से संबंधित हैं। उसी तर्क/नियम/संबंध के आधार पर दिए गए विकल्पों में से (::) के दाईं ओर लुप्त शब्द/शब्द युग्म को चुनिए।
डिज़ाइन: वास्तुकार :: ?

- Ans
- 1. किताब : कविता
 - 2. संपादक : अखबार
 - 3. जूते : कवि
 - 4. फर्नीचर : बढ़ई

Question ID : 264330127228

Status : Answered

Chosen Option : 4

Q.24 उस विकल्प को चुनिए जिसमें समुच्चय की संख्याएँ वही संबंध साझा करती हैं जो दिए गए समुच्चय में संख्याओं द्वारा साझा किया जाता है। (ध्यान दें: संख्याओं को उनके घटक अंकों में अलग अलग किए बिना, पूर्ण संख्याओं पर संक्रियाएँ की जानी चाहिए। उदा. 13 - 13 पर संक्रियाएँ जैसे 13 को जोड़ना/घटाना/गुणा करना आदि किया जा सकता है। 13 को 1 एवं 3 में अलग करने की और फिर 1 एवं 3 पर गणितीय संक्रियाएँ करने की अनुमति नहीं है)
(79, 89, 101)
(31, 41, 47)

- Ans
- 1. (17, 19, 23)
 - 2. (29, 37, 43)
 - 3. (53, 61, 67)
 - 4. (43, 47, 59)

Question ID : 264330126768

Status : Not Answered

Chosen Option : --

Q.25 यदि $96 C 3 = 32$ और $288 C 8 = 36$, तो $408 C 6 = ?$

- Ans
- 1. 64
 - 2. 60
 - 3. 68
 - 4. 62

Question ID : 264330126341

Status : Answered

Chosen Option : 3

Section : Quantitative Aptitude

Q.1 एक व्यक्ति 25 प्रतिशत के लाभ पर गेहूँ बेचता है। यदि वह इसका विक्रय मूल्य 40 रुपए से घटा देता है, तो उसे 25 प्रतिशत की हानि होती है। गेहूँ का प्रारंभिक विक्रय मूल्य क्या था?

- Ans
- 1. 80 रुपए
 - 2. 120 रुपए
 - 3. 60 रुपए
 - 4. 100 रुपए

Question ID : 264330127845

Status : Answered

Chosen Option : 1

Q.2 टीना अकेले किसी कार्य को 12 दिनों में कर सकती है और भीना अकेले उसी कार्य को 15 दिनों में कर सकती है। यदि टीना और भीना को Rs.18,000 में इस कार्य को करने की जिम्मेदारी सौंपी जाती है, तो भीना को कितनी धनराशि प्राप्त होगी, यदि वे दोनों साथ मिलकर काम करें?

- Ans
- 1. Rs.6,000
 - 2. Rs.8,000
 - 3. Rs.10,000
 - 4. Rs.12,000

Question ID : 264330128414
Status : Answered
Chosen Option : 2

Q.3 यदि $\sec \theta + \tan \theta = 5$, तो $\sec \theta - \tan \theta$ का मान क्या है?

- Ans
- 1. 1/3
 - 2. 1/5
 - 3. 1/6
 - 4. 1/2

Question ID : 264330128159
Status : Answered
Chosen Option : 2

Q.4 अंकित मूल्य का 2/5 भाग विक्रय मूल्य के 5/8 भाग के बराबर है। छूट प्रतिशत क्या है?

- Ans
- 1. 40 प्रतिशत
 - 2. 50 प्रतिशत
 - 3. 42 प्रतिशत
 - 4. 36 प्रतिशत

Question ID : 264330127843
Status : Answered
Chosen Option : 4

Q.5 नीचे दी गई तालिका में दो दुकानदारों P और Q द्वारा 5 महीनों में बेची गई कलमों की संख्या को दर्शाया गया है।

महीने	दुकानदार	
	P	Q
A	100	10
B	80	20
C	40	120
D	30	60
E	10	50

J1 = सभी पाँच महीनों में P द्वारा बेचे गए कलमों की औसत संख्या का मूल्य।

J2 = सभी पाँच महीनों में Q द्वारा बेचे गए कलमों की औसत संख्या का मूल्य।

(J1/J2) का मान क्या है?

- Ans
- 1. 3
 - 2. 1
 - 3. 2
 - 4. 4

Question ID : 264330128061
 Status : Answered
 Chosen Option : 2

Q.6 $\left(\frac{1+\sec^2 A}{1+\cos^2 A}\right) \left(\frac{1+\sin^2 A}{1+\operatorname{cosec}^2 A}\right)$ का मान क्या है?

- Ans
- 1. $\operatorname{cosec}^2 A$
 - 2. $\tan^2 A$
 - 3. $\cos^2 A$
 - 4. $\sec^2 A$

Question ID : 264330127783
 Status : Answered
 Chosen Option : 2

Q.7 32, 34, 38, 21, 26 और x का औसत 30 है। तो x का मान क्या होगा?

- Ans
- 1. 31
 - 2. 27
 - 3. 29
 - 4. 28

Question ID : 264330126474
 Status : Answered
 Chosen Option : 3

Q.8 30 छात्रों की औसत आयु 15 वर्ष है। यह पाया गया कि औसत आयु की गणना करते समय एक छात्र की आयु 9 वर्ष के बजाय 15 वर्ष ली गई थी। सही औसत आयु क्या होगी?

- Ans
- 1. 14.2 वर्ष
 - 2. 14.8 वर्ष
 - 3. 16.4 वर्ष
 - 4. 15.6 वर्ष

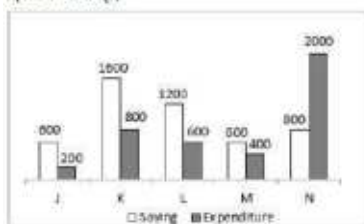
Question ID : 264330127767
Status : Answered
Chosen Option : 2

Q.9 वार्षिक रूप से संयोजित 10% वार्षिक दर पर 2 वर्षों के लिए Rs.14,000 पर चक्रवृद्धि ब्याज क्या होगा?

- Ans
- 1. Rs.1,490
 - 2. Rs.2,940
 - 3. Rs.6,940
 - 4. Rs.3,490

Question ID : 264330128422
Status : Answered
Chosen Option : 2

Q.10 नीचे दिए गए दंड आलेख में 5 कंपनियों J, K, L, M और N की बचत (saving) और व्यय (expenditure) को दर्शाया गया है।



सभी कंपनियों की औसत बचत, सभी कंपनियों की औसत व्यय का कितना प्रतिशत है?

- Ans
- 1. 150 प्रतिशत
 - 2. 120 प्रतिशत
 - 3. 100 प्रतिशत
 - 4. 90 प्रतिशत

Question ID : 264330128285
Status : Answered
Chosen Option : 3

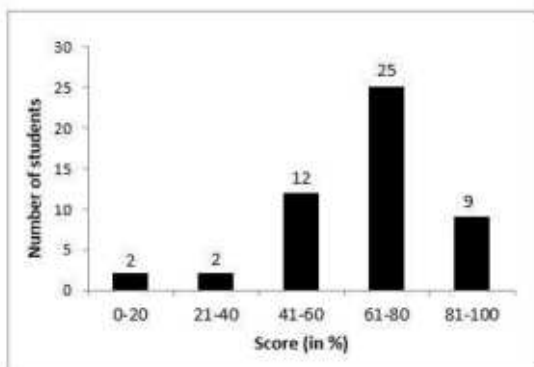
Q.11 यदि P का 20 प्रतिशत Q के 40 प्रतिशत में जोड़ा जाए, तो परिणाम Q का 80 प्रतिशत आता है। P, Q का कितना प्रतिशत है?

- Ans
- 1. 225 प्रतिशत
 - 2. 125 प्रतिशत
 - 3. 200 प्रतिशत
 - 4. 150 प्रतिशत

Question ID : 264330127769
Status : Answered
Chosen Option : 3

Q.12 निम्नलिखित आयतचित्र में कक्षा 10 के छात्रों द्वारा प्राप्त अंकों को दर्शाया गया है।

कुल कितने प्रतिशत छात्रों ने 60% से अधिक अंक प्राप्त किए?



छात्रों की संख्या (Number of students)

अंक % में (Score in %)

- Ans
- 1. 50%
 - 2. 34%
 - 3. 25%
 - 4. 68%

Question ID : 264330128438

Status : Answered

Chosen Option : 4

Q.13 एक कार एकसमान गति से 60 km की दूरी तय करती है। यदि कार की गति में 8 km/hr की वृद्धि कर दी जाए, तो यही दूरी तय करने में इसे 2 घंटे कम लगते हैं। कार की वास्तविक गति क्या है?

- Ans
- 1. 16 km/hr
 - 2. 12 km/hr
 - 3. 10 km/hr
 - 4. 15 km/hr

Question ID : 264330127765

Status : Answered

Chosen Option : 2

Q.14 यदि $\cot y = \frac{12}{5}$, तो $\cos^2 y$ का मान क्या है?

- Ans
- 1. $\frac{144}{169}$
 - 2. $\frac{84}{143}$
 - 3. $\frac{72}{91}$
 - 4. $\frac{72}{143}$

Question ID : 264330126476

Status : Answered

Chosen Option : 1

Q.15 एक विभुज की प्रत्येक भुजा की लंबाई 13 इंच, 15 इंच और 14 इंच है। इस विभुज का क्षेत्रफल ज्ञात कीजिए।

- Ans
- 1. 84.2 वर्ग इंच (square inches)
 - 2. 42.1 वर्ग इंच (square inches)
 - 3. 81.2 वर्ग इंच (square inches)
 - 4. 84 वर्ग इंच (square inches)

Question ID : 264330127776
 Status : Answered
 Chosen Option : 4

Q.16 एक वृत्त जिसकी त्रिज्या 17 cm है, उसमें एक जीवा की लंबाई 30 cm है। उस वृत्त की इस जीवा की केंद्र से दूरी क्या होगी?

- Ans
- 1. 15 cm
 - 2. 12 cm
 - 3. 8 cm
 - 4. 9 cm

Question ID : 264330128123
 Status : Answered
 Chosen Option : 3

Q.17 यदि $p/q = r/s = t/u = 2/5$, तो $(4p + 3r + 7t) : (4q + 3s + 7u)$ का मान क्या है?

- Ans
- 1. 5 : 9
 - 2. 2 : 5
 - 3. 4 : 11
 - 4. 3 : 7

Question ID : 264330127771
 Status : Answered
 Chosen Option : 2

Q.18 $\frac{\frac{5}{2} + \frac{2}{5} \times \frac{1}{5} + \frac{1}{5} + \frac{3}{5} \times \frac{5}{2}}{\frac{2}{5} + \frac{1}{5} + \frac{1}{2} \times \frac{5}{2} + \frac{25}{4} + \frac{1}{2} + \frac{2}{5} \times \frac{1}{5}}$ का मान क्या है?

- Ans
- 1. 28/125
 - 2. 31/127
 - 3. 32/127
 - 4. 25/123

Question ID : 264330127781
 Status : Answered
 Chosen Option : 4

Q.19 एक पहिए की त्रिज्या 14 cm है। 10 चक्कर में पहिया कितनी दूरी तय करेगा?

- Ans
- 1. 800 cm
 - 2. 880 cm
 - 3. 820 cm
 - 4. 910 cm

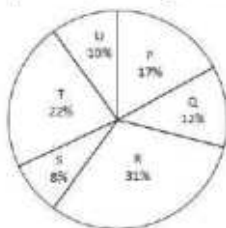
Question ID : 264330127766
 Status : Answered
 Chosen Option : 2

Q.20 यदि $a + b + c = 0$, तो $a^3 + b^3 + c^3 - 3abc$ का मान क्या है?

- Ans
- 1. 2
 - 2. -1
 - 3. 0
 - 4. 1

Question ID : 264330127777
 Status : Answered
 Chosen Option : 3

Q.21 नीचे दिए गए वृत्त आलेख में छः स्कूलों P, Q, R, S, T और U में लड़कियों की संख्या को दर्शाया गया है। इन सभी छः स्कूलों में लड़कियों की कुल संख्या 3000 है। किन्ती विशिष्ट स्कूल में लड़कियों की संख्या को इन सभी छः स्कूलों में लड़कियों की कुल संख्या के प्रतिशत के रूप में दर्शाया गया है।



स्कूल P और R में लड़कियों की कुल संख्या कितनी है?

- Ans
- 1. 930
 - 2. 1620
 - 3. 870
 - 4. 1440

Question ID : 264330127862
 Status : Answered
 Chosen Option : 4

Q.22 $44 \times 12 - (25 + 13 \times 10)$ का मान क्या है?

- Ans
- 1. 613
 - 2. 633
 - 3. 373
 - 4. 573

Question ID : 264330126485
 Status : Answered
 Chosen Option : 3

Q.23 किसी वृत्त के केंद्र पर एक जीवा XY द्वारा अंतरित कोण 180 डिग्री है। यदि जीवा की लंबाई 36 cm है, तो इस वृत्त की विज्या कितनी होगी?

- Ans
- 1. 21 cm
 - 2. 24 cm
 - 3. 18 cm
 - 4. 27 cm

Question ID : 264330126475
 Status : Answered
 Chosen Option : 3

Q.24 दो वृत्तों की विज्याएँ 12 cm और 5 cm हैं। उनके केंद्रों के बीच की दूरी 25 cm है। सीधी अभ्यन्तर स्पर्श रेखा की लंबाई क्या है?

- Ans
- 1. 24 cm
 - 2. 23 cm
 - 3. 22 cm
 - 4. 21 cm

Question ID : 264330127774
 Status : Answered
 Chosen Option : 1

Q.25 $\frac{1+x^2}{1-x} \div \frac{1-x^4}{x-1} \times \frac{x(1-x)}{(1+x)}$ का मान क्या है?

- Ans
- 1. $\frac{-x}{1+x^2}$
 - 2. $\frac{-x}{(1+x)^2}$
 - 3. $\frac{-x}{1+x}$
 - 4. $\frac{-x}{1+2x^2}$

Question ID : 264330127854
 Status : Answered
 Chosen Option : 2

Section : General awareness

Q.1 महात्मा गांधी ने किस वर्ष किसानों के समर्थन में गुजरात के खेड़ा जिले में एक सत्याग्रह का आयोजन किया था?

- Ans
- 1. 1918
 - 2. 1920
 - 3. 1919
 - 4. 1916

Question ID : 264330124874
 Status : Answered
 Chosen Option : 4

Q.2 निम्नलिखित में से किस शहर ने 2022 में लगातार छठी बार भारत के सबसे स्वच्छ शहर का पुरस्कार जीता है?

- Ans
- 1. पुणे
 - 2. कोलकाता
 - 3. इंदौर
 - 4. गुरुग्राम

Question ID : 264330125514
Status : Answered
Chosen Option : 3

Q.3 वरली चित्रकला भारत के _____ राज्य की लोक चित्रकला है।

- Ans
- 1. मणिपुर
 - 2. महाराष्ट्र
 - 3. मिज़ोरम
 - 4. कर्नाटक

Question ID : 264330125360
Status : Not Answered
Chosen Option : --

Q.4 निम्नलिखित में से किसने यूएस ओपन 2022 के पुरुष एकल का खिताब जीता है?

- Ans
- 1. स्टेफानोस सितसिपास
 - 2. कैस्पर रुड
 - 3. राफेल नडाल
 - 4. कार्लोस अल्कारेज

Question ID : 264330125532
Status : Answered
Chosen Option : 3

Q.5 एक _____ इलेक्ट्रॉनिक उपकरण है जो एक कमजोर संकेत प्राप्त करता है और इसे पुनः प्रेषित (रिजनेरेट) करता है।

- Ans
- 1. हब
 - 2. स्विच
 - 3. राऊटर
 - 4. रिपीटर

Question ID : 264330124933
Status : Answered
Chosen Option : 4

Q.6 रज़िया को दिल्ली सल्तनत के सिंहासन से किस वर्ष हटाया गया था?

- Ans
- 1. 1240
 - 2. 1244
 - 3. 1238
 - 4. 1236

Question ID : 264330124950
Status : Answered
Chosen Option : 1

Q.7 भारतीय संविधान का निम्नलिखित में से कौन सा उपबंध कनाडा के संविधान से लिया गया है?

- Ans
- 1. उच्चतम न्यायालय का परामर्शदायी क्षेत्राधिकार
 - 2. गणराज्य की संकल्पना
 - 3. समवर्ती सूची की संकल्पना
 - 4. न्यायपालिका की स्वतंत्रता

Question ID : 264330124879
Status : Answered
Chosen Option : 3

Q.8 कर्नाटक संगीत _____ तक ही सीमित है।

- Ans
- 1. गुजरात, महाराष्ट्र, राजस्थान और हरियाणा
 - 2. उत्तर प्रदेश, बिहार, पश्चिम बंगाल और हरियाणा
 - 3. कर्नाटक, महाराष्ट्र, गुजरात और राजस्थान
 - 4. कर्नाटक, आंध्रप्रदेश, तमिलनाडु और केरल

Question ID : 264330124811
Status : Answered
Chosen Option : 4

Q.9 The value added of a firm is calculated as _____.

- Ans
- 1. value of production of the firm – value of intermediate goods used by the firm
 - 2. value of production of the firm + value of capital goods used by the firm
 - 3. value of production of the firm / value of intermediate goods used by the firm
 - 4. value of production of the firm + value of intermediate goods used by the firm

Question ID : 264330124865
Status : Answered
Chosen Option : 2

Q.10 मिश्रण के संदर्भ में निम्नलिखित में से कौन-सा कथन सही नहीं है?

- Ans
- 1. विलयन के बड़े अवयव को विलायक कहते हैं।
 - 2. विलयन के छोटे अवयव को विलेय कहते हैं।
 - 3. कोलाइड एक विषमांगी मिश्रण है, जिसके कणों का आकार बड़ा होता है।
 - 4. विलयन दो या दो से अधिक पदार्थों का समांगी मिश्रण है।

Question ID : 264330124869
Status : Answered
Chosen Option : 3

Q.11 फीफा (FIFA) महिला विश्व कप 2023 मेज़बानी कौन-सा देश करेगा?

- Ans
- 1. जापान और चीन
 - 2. संयुक्त राज्य अमेरिका और कनाडा
 - 3. इटली और फ्रांस
 - 4. ऑस्ट्रेलिया और न्यूज़ीलैंड

Question ID : 264330125331
Status : Answered
Chosen Option : 2

Q.12 किस राज्य के मुख्यमंत्री ने फुटबॉल की संस्कृति को जमीनी स्तर पर ले जाने के लिए राज्य में "फुटबॉल फॉर ऑल" लॉन्च किया?

- Ans 1. ओडिशा
 2. मध्यप्रदेश
 3. पश्चिम बंगाल
 4. झारखंड

Question ID : 264330125513
Status : Not Answered
Chosen Option : --

Q.13 खेलो इंडिया यूथ गेम्स का पाँचवाँ संस्करण मध्यप्रदेश के _____ शहरों में आयोजित किया जाएगा।

- Ans 1. छः
 2. आठ
 3. नौ
 4. सात

Question ID : 264330125156
Status : Answered
Chosen Option : 3

Q.14 निम्नलिखित में से कौन-सा कथन सही नहीं है?

- Ans 1. द्वितीयक बाज़ार पूर्व निर्गमित प्रतिभूतियों को बेचने और खरीदने वाला बाज़ार है।
 2. प्राथमिक बाज़ार को नए निर्गमन बाज़ार (new issue market) के नाम से भी जाना जाता है।
 3. आरबीआई अपने 'खुले बाज़ार परिचालन (Open Market Operations)' के माध्यम से श्रेष्ठ प्रतिभूति बाज़ार में एक प्रमुख भूमिका निभाता है।
 4. औद्योगिक प्रतिभूति बाज़ार को श्रेष्ठ प्रतिभूति बाज़ार (gilt-edged market) के नाम से भी जाना जाता है।

Question ID : 264330125516
Status : Not Answered
Chosen Option : --

Q.15 कर्क रेखा (23°30' N) भारत के _____ राज्य से होकर गुजरती है।

- Ans 1. पंजाब
 2. महाराष्ट्र
 3. छत्तीसगढ़
 4. केरल

Question ID : 264330125646
Status : Answered
Chosen Option : 3

Q.16 वायुदाब के संबंध में निम्नलिखित में से कौन सा कथन सही है?

- Ans 1. समुद्र तल पर वायुदाब सबसे कम होता है और ऊँचाई पर जाने पर बढ़ता जाता है।
 2. निम्न दाब स्पष्ट और साफ़ मौसम के साथ जुड़ा हुआ है।
 3. उच्च दाब बादलयुक्त आकाश और नम मौसम के साथ जुड़ा हुआ है।
 4. वायु हमेशा उच्च दाब क्षेत्र से निम्न दाब क्षेत्र की ओर गमन करती है।

Question ID : 264330124947
Status : Answered
Chosen Option : 4

Q.17 क्षोभमंडल की औसत ऊँचाई कितनी है?

- Ans
- 1. 30 km
 - 2. 6 km
 - 3. 13 km
 - 4. 50 km

Question ID : 264330124870
Status : Answered
Chosen Option : 1

Q.18 धिनोदर पहाड़ियाँ (Dhinodhar Hills) किस भारतीय राज्य/केंद्र शासित प्रदेश में स्थित है?

- Ans
- 1. महाराष्ट्र
 - 2. गुजरात
 - 3. अंडमान और निकोबार द्वीप समूह
 - 4. पश्चिम बंगाल

Question ID : 264330125523
Status : Not Answered
Chosen Option : --

Q.19 भारत का पहला 24 × 7 सौर ऊर्जा से संचालित गाँव मोढेरा किस राज्य में स्थित है?

- Ans
- 1. मध्यप्रदेश
 - 2. राजस्थान
 - 3. हिमाचल प्रदेश
 - 4. गुजरात

Question ID : 264330124862
Status : Answered
Chosen Option : 4

Q.20 बिहार केसरी के नाम से किसे जाना जाता है?

- Ans
- 1. लाला लाजपत राय
 - 2. श्री कृष्ण सिन्हा
 - 3. राजेंद्र प्रसाद
 - 4. कर्पूरी ठाकुर

Question ID : 264330125651
Status : Not Answered
Chosen Option : --

Q.21 निम्नलिखित में से किस वनस्पति जगत के पौधों को शैवाल के नाम से जाना जाता है?

- Ans
- 1. ब्रायोफाइट
 - 2. थैलोफाइट
 - 3. एंजियोस्पर्म
 - 4. टेरिडोफाइट

Question ID : 264330125518
Status : Answered
Chosen Option : 1

Q.22 न्यूट्रॉन की खोज निम्नलिखित में से किसने की थी?

- Ans
- 1. जे. चैडविक (J. Chadwick)
 - 2. ई. गोल्डस्टीन (E. Goldstein)
 - 3. नील्स बोर (Neils Bohr)
 - 4. अर्नेस्ट रदरफोर्ड (Ernest Rutherford)

Question ID : 264330124867
Status : Answered
Chosen Option : 1

Q.23 भारतीय संविधान के किस अनुच्छेद में उल्लेख किया गया है कि बाहरी आक्रमण और आंतरिक अशांति से राज्यों की रक्षा करना केंद्र सरकार का कर्तव्य है?

- Ans
- 1. 358
 - 2. 353
 - 3. 356
 - 4. 355

Question ID : 264330124953
Status : Not Answered
Chosen Option : --

Q.24 निम्नलिखित में से किस शॉर्टकट कुंजी (की) का इस्तेमाल MS-Excel 365 में खुली हुई वर्कबुक को बंद करने के लिए किया जाता है?

- Ans
- 1. Ctrl + X
 - 2. Ctrl + L
 - 3. Ctrl + W
 - 4. Ctrl + C

Question ID : 264330124859
Status : Answered
Chosen Option : 3

Q.25 निम्नलिखित में से किस फ़िल्म को 2022 में बेस्ट फ़िल्म पॉपुलर चॉइस का फ़िल्मफेयर पुरस्कार मिला था?

- Ans
- 1. शेरशाह
 - 2. रामप्रसाद की तेहरवीं
 - 3. सरदार उधम
 - 4. रश्मि रॉकेट

Question ID : 264330125527
Status : Answered
Chosen Option : 1

Combined Higher Secondary Level Examination Tier I 2022

Roll Number	
Candidate Name	
Venue Name	
Exam Date	09/03/2023
Exam Time	11:45 AM - 12:45 PM
Subject	CHSL Exam 2022 Tier I

Section : **English Language**

Q.1 Identify the segment in the sentence which contains a grammatical error. If there is no error, then select the option "No error".

Today, in fit of frenzied rage and / jealousy, you would have/ killed me, your brother.

- Ans**
- 1. killed me, your brother.
 - 2. No error
 - 3. jealousy, you would have
 - 4. Today, in fit of frenzied rage and

Question ID : 264330124708

Status : **Answered**

Chosen Option : 3

Q.2 Select the correct indirect form of the given sentence.
Aditi said, "I am not invested in the project anymore."

- Ans**
- 1. Aditi said that she is not invested in the project anymore.
 - 2. Aditi said that she was not invested in the project anymore.
 - 3. Aditi said that she had not invested in the project anymore.
 - 4. Aditi said that she do not invested in the project anymore.

Question ID : 264330124030

Status : **Answered**

Chosen Option : 2

Q.3 Choose the sentence with no spelling error.

- Ans**
- 1. Lights flikered in the bush behind him.
 - 2. Lights flickered in the bush behind him.
 - 3. Lites flickered in the bussh behind him.
 - 4. Lights flicered in the bush behind him.

Question ID : 264330124048

Status : **Answered**

Chosen Option : 2

Q.4 Choose the word that can substitute the given group of words.
A specialist of kidney

- Ans**
- 1. Pathologist
 - 2. Nephrologist
 - 3. Primatologist
 - 4. Obstetrician

Question ID : 264330124024

Status : **Answered**

Chosen Option : 2

Q.5 Choose the word that means the same as the given word.
Slick

- Ans 1. New
 2. Fractions
 3. Slippery
 4. Novice

Question ID : 264330124051
 Status : Answered
 Chosen Option : 3

Q.6 Select the most appropriate meaning of the given idiom.
A shot in the dark.

- Ans 1. Randomly doing something, the outcome of which is unknown
 2. A blind man's cane
 3. Shooting in the night
 4. Looking at the stars

Question ID : 264330124722
 Status : Answered
 Chosen Option : 1

Q.7 Rearrange the parts of the sentence in correct order.
 P. fish, or other potential food item that happen
 Q. to be floating by with stinging cells called nematocysts
 R. at night and capture tiny organisms like zooplankton, small
 S. corals are predators and they extend their tentacles

- Ans 1. RSPQ
 2. RPQS
 3. SRPQ
 4. PQRS

Question ID : 264330124040
 Status : Answered
 Chosen Option : 3

Q.8 Improve the underlined part of the sentence. Choose 'No improvement' as an answer if the sentence is grammatically correct.

She cuts her haired short in the summer.

- Ans 1. hairy short
 2. hair short
 3. No improvement
 4. hair shortest

Question ID : 264330124431
 Status : Answered
 Chosen Option : 2

Q.9 Choose the incorrectly spelt word.

- Ans 1. Clover
 2. Sunrise
 3. Sharpen
 4. Happen

Question ID : 264330124047
 Status : Answered
 Chosen Option : 1

Q.10 Fill in the blank with an appropriate option.
One of his rules was to always _____ and await instruction to enter.

- Ans
- 1. resist
 - 2. blink
 - 3. knock
 - 4. rub

Question ID : 264330124183
Status : Answered
Chosen Option : 3

Q.11 Choose the word that is opposite in meaning to the given word.
Accessory

- Ans
- 1. Substitute
 - 2. Option
 - 3. Essential
 - 4. Surplus

Question ID : 264330124641
Status : Answered
Chosen Option : 2

Q.12 Fill in the blank with the most suitable word.
Remember that, little sister: wait for a man to _____ your honour, and you'll wait forever.

- Ans
- 1. avenge
 - 2. comfort
 - 3. repeal
 - 4. cheer

Question ID : 264330125862
Status : Answered
Chosen Option : 4

Q.13 Choose the option that is the correct passive form of the sentence.
The culture was losing its meaning.

- Ans
- 1. The culture lost it's meaning.
 - 2. The meaning of the culture will lost.
 - 3. The meaning of the culture was lost.
 - 4. The meaning of the culture was being lost.

Question ID : 264330124705
Status : Answered
Chosen Option : 4

Q.14 Choose the word that can substitute the given group of words.
Compulsory enlistment for military service

- Ans
- 1. Armament
 - 2. Abdication
 - 3. Militaristic
 - 4. Conscription

Question ID : 264330124570
Status : Answered
Chosen Option : 1

Q.15 In the following question, out of the given four alternatives, select the alternative which best expresses the meaning of the Idiom/Phrase.

To burn one's finger

- Ans
- 1. To have one's finger chopped
 - 2. To accidentally touch a hot utensil
 - 3. A question without any agreed answer
 - 4. To suffer a loss by acting rashly

Question ID : 264330124045
Status : Answered
Chosen Option : 4

Q.16 Choose the word that means the same as the given word.
Sacrilige

- Ans
- 1. Blasphemy
 - 2. Consecration
 - 3. Modification
 - 4. Reverence

Question ID : 264330124026
Status : Answered
Chosen Option : 1

Q.17 Choose the word that means the same as the given word.
Laggard

- Ans
- 1. Prompt
 - 2. Expeditious
 - 3. Hustler
 - 4. Dawdling

Question ID : 264330124546
Status : Not Answered
Chosen Option : --

Q.18 Select the option that will improve the underlined part of the sentence. In case no improvement is needed, select 'No improvement'.

Herbalism had become an all but extinct skill in the Western world.

- Ans
- 1. Herbalism has become but an extinct skill
 - 2. No improvement
 - 3. Herbalism has become but all an extinct skill
 - 4. Herbalism become an extinct skill

Question ID : 264330125901
Status : Answered
Chosen Option : 2

Q.19 Find the part of the given sentence that has an error in it. If there is no error, choose 'No error'.

India has turned 70 years older as a Republic.

- Ans
- 1. 70 years older
 - 2. India has turned
 - 3. as a Republic.
 - 4. No error

Question ID : 264330124031
Status : Answered
Chosen Option : 1

Q.20 Improve the underlined part of the sentence. Choose 'No improvement' as an answer if the sentence is grammatically correct.

The Government has been building more schools to provided education at the secondary level.

- Ans**
- 1. No improvement
 - 2. providing education to
 - 3. provide educationally on
 - 4. provide education at

Question ID : 264330124536

Status : Answered

Chosen Option : 4

Comprehension:

In the following passage some of the words have been deleted. Read the passage carefully and select the correct answer for the given blank out of the four alternatives.

In a new study (1)_____ in Nature Human Behaviour, we have now shown that, in 2021, (2)_____ expectancy rebounded somewhat in most western European countries (3)_____ eastern Europe and the US witnessed additional losses. However, only Norway (4)_____ its pre-pandemic life expectancy in 2021, and everywhere is worse off than it would (5)_____ have been without the pandemic.

SubQuestion No : 21

Q.21 Select the most appropriate option to fill in blank number 1.

- Ans**
- 1. published
 - 2. established
 - 3. surrounded
 - 4. registered

Question ID : 264330124034

Status : Answered

Chosen Option : 4

Comprehension:

In the following passage some of the words have been deleted. Read the passage carefully and select the correct answer for the given blank out of the four alternatives.

In a new study (1)_____ in Nature Human Behaviour, we have now shown that, in 2021, (2)_____ expectancy rebounded somewhat in most western European countries (3)_____ eastern Europe and the US witnessed additional losses. However, only Norway (4)_____ its pre-pandemic life expectancy in 2021, and everywhere is worse off than it would (5)_____ have been without the pandemic.

SubQuestion No : 22

Q.22 Select the most appropriate option to fill in blank number 2.

- Ans**
- 1. hunger
 - 2. animal
 - 3. life
 - 4. game

Question ID : 264330124035

Status : Answered

Chosen Option : 3

Comprehension:

In the following passage some of the words have been deleted. Read the passage carefully and select the correct answer for the given blank out of the four alternatives.

In a new study (1)_____ in Nature Human Behaviour, we have now shown that, in 2021, (2)_____ expectancy rebounded somewhat in most western European countries (3)_____ eastern Europe and the US witnessed additional losses. However, only Norway (4)_____ its pre-pandemic life expectancy in 2021, and everywhere is worse off than it would (5)_____ have been without the pandemic.

SubQuestion No : 23

Q.23 Select the most appropriate option to fill in blank number 3.

- Ans 1. behind
 2. as
 3. so
 4. while

Question ID : 264330124036

Status : Answered

Chosen Option : 4

Comprehension:

In the following passage some of the words have been deleted. Read the passage carefully and select the correct answer for the given blank out of the four alternatives.

In a new study (1)_____ in Nature Human Behaviour, we have now shown that, in 2021, (2)_____ expectancy rebounded somewhat in most western European countries (3)_____ eastern Europe and the US witnessed additional losses. However, only Norway (4)_____ its pre-pandemic life expectancy in 2021, and everywhere is worse off than it would (5)_____ have been without the pandemic.

SubQuestion No : 24

Q.24 Select the most appropriate option to fill in blank number 4.

- Ans 1. beats
 2. clubs
 3. lifts
 4. probes

Question ID : 264330124037

Status : Answered

Chosen Option : 4

Comprehension:

In the following passage some of the words have been deleted. Read the passage carefully and select the correct answer for the given blank out of the four alternatives.

In a new study (1)_____ in Nature Human Behaviour, we have now shown that, in 2021, (2)_____ expectancy rebounded somewhat in most western European countries (3)_____ eastern Europe and the US witnessed additional losses. However, only Norway (4)_____ its pre-pandemic life expectancy in 2021, and everywhere is worse off than it would (5)_____ have been without the pandemic.

SubQuestion No : 25

Q.25 Select the most appropriate option to fill in blank number 5.

- Ans 1. nicely
 2. bluntly
 3. shortly
 4. likely

Question ID : 264330124038

Status : Answered

Chosen Option : 3

Section : General Intelligence

Q.1 दी गई दो संख्याओं (अंको को नहीं) को आपस में बदलने पर निम्नलिखित में से कौन-सा समीकरण सही होगा?

4 और 3

Ans 1. $4 + 3 \times 7 - 2 = 29$

2. $3 \times 4 \div 2 + 7 = 17$

3. $4 \times 3 + 7 - 5 = 16$

4. $7 \times 4 + 3 + 1 = 30$

Question ID : 264330127065

Status : Answered

Chosen Option : 1

Q.2 एक अनुक्रम दिया गया है जिसमें एक पद लुप्त है। दिए गए विकल्पों में से वह सही विकल्प चुनिए जो अनुक्रम को पूरा करेगा।

ABC, EJM, IRY, ?, QHU

Ans 1. MZJ

2. MZK

3. MZI

4. MYJ

Question ID : 264330126726

Status : Answered

Chosen Option : 1

Q.3 दिए गए विकल्पों में से दर्पण के उस सही प्रतिबिंब को चुनिए, जो नीचे दर्शाए गए संयोजन के अनुसार दर्पण को रेखा AB पर रखने पर बनेगा।

KNFJESD

A
B

Ans

1.

K N F J E S D

2.

D S E J E N K

3.

D S E J E N K

4.

K N F J E S D

Question ID : 264330127612

Status : Answered

Chosen Option : 3

Q.4 किसी एक खास कूट भाषा में, 'PROTEINS' को '119127591419' लिखा जाता है, 'REFLECTS' को '9222115532019' लिखा जाता है। इस कूट भाषा में 'SCENARIO' को कैसे लिखा जाएगा?

- Ans 1. 8242213118915
 2. 8242213118951
 3. 8242213119815
 4. 8242113128915

Question ID : 264330126723
Status : Answered
Chosen Option : 1

Q.5 दिए गए शब्दों को शब्दकोश के क्रमानुसार में व्यवस्थित कीजिए।

1. Taken
2. Tactless
3. Tackle
4. Tactful
5. Talent

- Ans 1. 12543
 2. 54132
 3. 24351
 4. 34215

Question ID : 264330127371
Status : Answered
Chosen Option : 4

Q.6 (::) के बायीं ओर दिए गए शब्द किसी न किसी तर्क/नियम/संबंध के आधार पर आपस में संबंधित हैं। समान तर्क/नियम/संबंध के आधार पर दिए गए विकल्पों में से (::) के दायीं ओर लुप्त शब्द/शब्द युग्म को चुनिए।

एकरियम : मछली :: ?

- Ans 1. शराब: तहखाना
 2. पशु: चिड़ियाघर
 3. छत्ता : मधुमक्खी
 4. हवाई जहाज: विमानशाला

Question ID : 264330127203
Status : Answered
Chosen Option : 3

Q.7 नीचे दिए गए प्रश्न में कुछ कथन दिए गए हैं और उन कथनों के आधार पर कुछ निष्कर्ष दिए गए हैं। आपको मानना है कि दिए गए कथन सत्य हैं चाहे वे समान्यतः ज्ञात तथ्यों से अलग प्रतीत होते हों। सभी निष्कर्षों को पढ़िए और फिर निश्चय कीजिए कि दिए गए निष्कर्षों में से कौन-सा निष्कर्ष तार्किक रूप से दिए गए कथनों के अनुसार है।

कथन:

I. सभी N, Q हैं।

II. कुछ H, Q हैं।

निष्कर्ष:

I. कुछ Q, N हैं।

II. कुछ Q, H हैं।

III. कुछ N, H हैं।

- Ans 1. निष्कर्ष I और II दोनों कथनों के अनुसार हैं।
 2. केवल निष्कर्ष III कथनों के अनुसार है।
 3. निष्कर्ष II और III दोनों कथनों के अनुसार हैं।
 4. केवल निष्कर्ष II कथनों के अनुसार है।

Question ID : 264330126731
Status : Answered
Chosen Option : 1

Q.8 निम्नलिखित प्रश्न में, दी गई श्रृंखला में से लुप्त संख्या को चुनिए।
2, 3, 5, 7, 11, ?

- Ans
- 1. 19
 - 2. 13
 - 3. 20
 - 4. 16

Question ID : 264330126325
Status : Answered
Chosen Option : 1

Q.9 किसी एक खास कूट भाषा में, 'MANAGE' को 'HJDQDP' लिखा जाता है। इस कूट भाषा में 'LATTER' को कैसे लिखा जाएगा?

- Ans
- 1. UHWWOD
 - 2. UHVVDO
 - 3. UHWWDO
 - 4. UHWXDO

Question ID : 264330126722
Status : Answered
Chosen Option : 3

Q.10 (::) के बायीं ओर दिए गए शब्द किसी तर्क/नियम/संबंध के आधार पर एक-दूसरे से संबंधित हैं। समान तर्क/नियम/संबंध के आधार पर दिए गए विकल्पों में से (::) के दायीं ओर लुप्त शब्द/शब्द युग्म को चुनिए।
कुत्ता : चार :: तोता : ?

- Ans
- 1. दो
 - 2. छः
 - 3. चार
 - 4. सात

Question ID : 264330126324
Status : Answered
Chosen Option : 1

Q.11 H, I की बहन है। B, H की माँ है। J, R की बेटी है। I, J की बहन है। R, H से कैसे संबंधित है?

- Ans
- 1. दादाजी
 - 2. पिता
 - 3. दामाद
 - 4. मामा

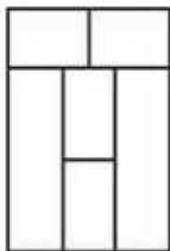
Question ID : 264330126727
Status : Answered
Chosen Option : 2

Q.12 निम्नलिखित प्रश्न में, दिए गए विकल्पों में से अलग अक्षर/अक्षरों को चुनिए।

- Ans
- 1. OSX
 - 2. FJN
 - 3. IMQ
 - 4. NRV

Question ID : 264330126729
Status : Answered
Chosen Option : 1

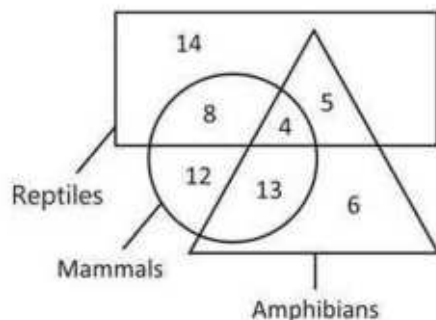
Q.13 दी गई आकृति में कितने चतुर्भुज हैं?



- Ans
- 1. 13
 - 2. 11
 - 3. 14
 - 4. 12

Question ID : 264330127309
 Status : Answered
 Chosen Option : 4

Q.14 दिए गए आरेख में, कितने सरीसृप न तो स्तनपायी हैं और न ही उभयचर हैं?



Reptiles- सरीसृप, Mammals- स्तनपायी, Amphibians- उभयचर

- Ans
- 1. 9
 - 2. 12
 - 3. 13
 - 4. 14

Question ID : 264330127313
 Status : Answered
 Chosen Option : 4

Q.15 निम्नलिखित प्रश्न में चार संख्या युग्म दिए गए हैं। प्रत्येक युग्म में (-) के बाईं ओर की संख्या (-) के दाईं ओर की संख्या से किसी तर्क/नियम/संबंध से संबंधित है। तर्क/नियम/संबंध के आधार पर तीन युग्म समान हैं। दिए गए विकल्पों में से अलग युग्म को चुनिए। (ध्यान दें : संख्याओं को उनके घटक अंकों में अलग अलग किए बिना, पूर्ण संख्याओं पर संक्रियाएँ की जानी चाहिए। उदाहरण के लिए 13 - 13 पर संक्रियाएँ जैसे जोड़ना/घटाना/गुणा करना आदि किया जा सकता है। 13 को 1 एवं 3 में अलग करने की और फिर 1 एवं 3 पर गणितीय संक्रियाएँ करने की अनुमति नहीं है)

- Ans
- 1. 104 - 1124864
 - 2. 102 - 1061208
 - 3. 106 - 1191016
 - 4. 108 - 1257912

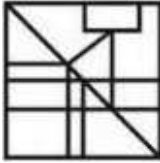
Question ID : 264330127195
 Status : Answered
 Chosen Option : 3

Q.16 उस विकल्प आकृति को चुनिए जिसमें दी गई आकृति निहित है। (घूर्णन की अनुमति नहीं है)



Ans

✓ 1.



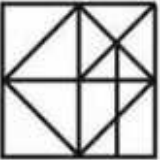
✗ 2.



✗ 3.

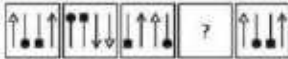


✗ 4.




Question ID : 264330126960
Status : Answered
Chosen Option : 1

Q.17 दिए गए विकल्पों में से उस आकृति को चुनिए जो निम्नलिखित श्रृंखला में प्रथम चित्र (?) के स्थान पर आ सकती है।



Ans

✗ 1.



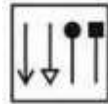
✗ 2.



✗ 3.



✓ 4.



Question ID : 264330126733
Status : Answered
Chosen Option : 4

Q.18 उस विकल्प को चुनिए जिसमें समुच्चय की संख्याएँ वही संबंध साझा करती हैं जो दिए गए समुच्चय में संख्याओं द्वारा साझा किया जाता है। (ध्यान दें: संख्याओं को उनके घटक अंकों में अलग अलग किए बिना, पूर्ण संख्याओं पर संक्रियाएँ की जानी चाहिए। उदा. 13 - 13 पर संक्रियाएँ जैसे 13 को जोड़ना/घटाना/गुणा करना आदि किया जा सकता है। 13 को 1 एवं 3 में अलग करने की और फिर 1 एवं 3 पर गणितीय संक्रियाएँ करने की अनुमति नहीं है)
(36, 99, 106)
(72, 207, 214)

- Ans
- 1. (48, 125, 132)
 - 2. (64, 193, 200)
 - 3. (52, 157, 164)
 - 4. (24, 63, 70)

Question ID : 264330126718
Status : Answered
Chosen Option : 4

Q.19 उस विकल्प को चुनिए जो छठी संख्या से ठीक उसी तरह संबंधित है जिस तरह पहली संख्या दूसरी संख्या से संबंधित है और तीसरी संख्या चौथी संख्या से संबंधित है।
11 : 81 :: 22 : 400 :: ? : 225

- Ans
- 1. 17
 - 2. 13
 - 3. 11
 - 4. 15

Question ID : 264330127291
Status : Answered
Chosen Option : 1

Q.20 निम्नलिखित प्रश्न में, दिए गए विकल्पों में से अलग शब्द युग्म को चुनिए।

- Ans
- 1. ढाका - बांग्लादेश
 - 2. नई दिल्ली - भारत
 - 3. बीजिंग - चीन
 - 4. लाहौर - पाकिस्तान

Question ID : 264330127380
Status : Answered
Chosen Option : 3

Q.21 यदि $14A13A3 = 30$ और $39A14A3 = 56$, तो $28A11A4 = ?$

- Ans
- 1. 40
 - 2. 63
 - 3. 43
 - 4. 57

Question ID : 264330126327
Status : Answered
Chosen Option : 3

Q.22 उस विकल्प आकृति को चुनिए जिसमें दी गई आकृति निहित है। (घूर्णन की अनुमति नहीं है)

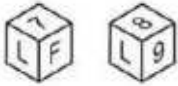


Ans

- 1.
- 2.
- 3.
- 4.

Question ID : 264330126710
Status : Answered
Chosen Option : 3

Q.23 नीचे एक पासे की दो स्थितियाँ दी गई हैं। 'F' वाले फलक के आसन्न फलक पर क्या आ सकता है?



Ans

- 1. L और 9
- 2. 9 और 8
- 3. 7 और 9
- 4. 8 और L

Question ID : 264330127357
Status : Answered
Chosen Option : 1

Q.24 (::) के बायीं ओर दिए गए शब्द एक-दूसरे से किसी तर्क/नियम/संबंध से संबंधित हैं। उसी तर्क/नियम/संबंध के आधार पर दिए गए विकल्पों में से (::) के दाईं ओर लुप्त शब्द/शब्द युग्म को चुनिए।
संपादक : अखबार :: ?

Ans

- 1. किसान : फ़सल
- 2. नक्शा : वास्तुकार
- 3. भोजन : रसोइया
- 4. कविता : कवि

Question ID : 264330127028
Status : Answered
Chosen Option : 3

Q.25 निम्नलिखित प्रश्न में चार संख्या युग्म दिए गए हैं। प्रत्येक युग्म में (-) के बायीं ओर की संख्या (-) के दायीं ओर की संख्या से किसी तर्क/नियम/संबंध से संबंधित है। समान तर्क/नियम/संबंध के आधार पर तीन युग्म समान हैं। दिए गए विकल्पों में से अलग युग्म को चुनिए। (ध्यान दें: संख्याओं को उनके घटक अंकों में अलग अलग किए बिना, पूर्ण संख्याओं पर संक्रियाएँ की जानी चाहिए। उदा. 13 - 13 पर संक्रियाएँ जैसे 13 को जोड़ना / घटाना / गुणा करना आदि किया जा सकता है। 13 को 1 एवं 3 में अलग करने की और फिर 1 एवं 3 पर गणितीय संक्रियाएँ करने की अनुमति नहीं है)

- Ans
- 1. 638 - 2552
 - 2. 1074 - 4396
 - 3. 508 - 2032
 - 4. 618 - 2472

Question ID : 264330127020

Status : Answered

Chosen Option : 2

Section : Quantitative Aptitude

Q.1 यदि $K + \frac{1}{K} - 2 = 0$ और $K > 0$, तो $K^{17} + \frac{1}{K^{12}}$ का मान क्या है?

- Ans
- 1. 2
 - 2. 12
 - 3. 1
 - 4. 0

Question ID : 264330127727

Status : Answered

Chosen Option : 1

Q.2 $\frac{\frac{1}{1} + \frac{1}{2} \times \frac{1}{2} + \frac{1}{2} \times \frac{1}{2} + \frac{1}{2}}{\frac{1}{4} \times \frac{1}{4} + \frac{1}{2} + \frac{1}{4} + \frac{1}{4} \times \frac{1}{2} + \frac{1}{2} \times \frac{1}{2}}$ का मान क्या है?

- Ans
- 1. 4
 - 2. 1
 - 3. 2
 - 4. 8

Question ID : 264330127731

Status : Answered

Chosen Option : 1

Q.3 यदि $x^4 + \frac{1}{x^4} = 47$, तो $x^3 + \frac{1}{x^3}$ का मान क्या है?

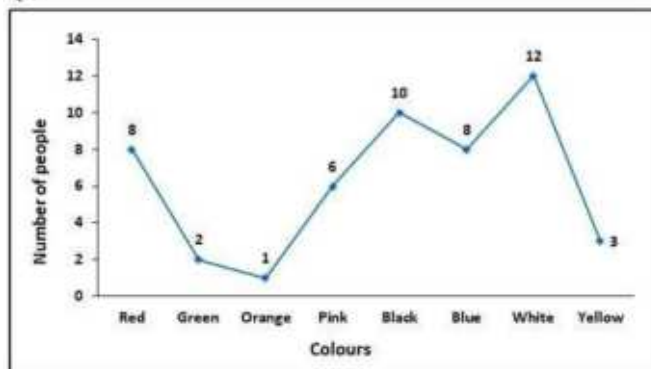
- Ans
- 1. 9
 - 2. 27
 - 3. 36
 - 4. 18

Question ID : 264330128304

Status : Answered

Chosen Option : 4

Q.4 निम्नलिखित रेखा आलेख में लोगों के एक समूह के पसंदीदा रंग को दर्शाया गया है।



कुल कितने प्रतिशत लोगों को काला रंग पसंद है?

लोगों की संख्या (Number of people)

रंग (Colours)

लाल (Red), हरा (Green), नारंगी (Orange), गुलाबी (Pink), काला (Black), नीला (Blue), सफेद (White), पीला (Yellow)

- Ans
- 1. 50%
 - 2. 10%
 - 3. 20%
 - 4. 33.3%

Question ID : 264330128388
Status : Answered
Chosen Option : 3

Q.5 यदि किसी वृत्त के शीर्ष चाप पर एक जीवा द्वारा अंतरित कोण 55 डिग्री है, तो वृत्त के केंद्र पर समान जीवा द्वारा अंतरित कोण कितना होगा?

- Ans
- 1. 110 डिग्री
 - 2. 125 डिग्री
 - 3. 140 डिग्री
 - 4. 135 डिग्री

Question ID : 264330126467
Status : Answered
Chosen Option : 1

Q.6 A की आय का 20 प्रतिशत B की आय के 10 प्रतिशत के बराबर है। यदि A की आय Rs. 2550 है, तो B की आय क्या है?

- Ans
- 1. Rs.7650
 - 2. Rs.5000
 - 3. Rs.5100
 - 4. Rs.4900

Question ID : 264330127719
Status : Answered
Chosen Option : 3

Q.7 एक धनराशि साधारण ब्याज पर 10% वार्षिक दर से 3 वर्ष में Rs.403 हो जाती है। उस धनराशि का मूल्य क्या है?

- Ans
- ✓ 1. Rs.310
 - ✗ 2. Rs.400
 - ✗ 3. Rs.345
 - ✗ 4. Rs.380

Question ID : 264330128372
Status : Answered
Chosen Option : 1

Q.8 यदि $\cos B = \frac{5}{9}$, तो cosec B का मान क्या है?

- Ans
- ✗ 1. $\frac{4}{\sqrt{14}}$
 - ✗ 2. $\frac{9}{\sqrt{14}}$
 - ✗ 3. $\frac{5}{\sqrt{14}}$
 - ✓ 4. $\frac{9}{2\sqrt{14}}$

Question ID : 264330126468
Status : Answered
Chosen Option : 4

Q.9 $\frac{\tan A - \sin A}{\tan A + \sin A}$ का मान क्या है?

- Ans
- ✓ 1. $\frac{\sec A - 1}{\sec A + 1}$
 - ✗ 2. sec A
 - ✗ 3. $\frac{\sec A + 1}{\sec A - 1}$
 - ✗ 4. 1

Question ID : 264330127733
Status : Answered
Chosen Option : 1

Q.10 रोहित एक गैर को Rs.700 में खरीदता है। रोहित इस गैर पर बाहक को 20 प्रतिशत और 40 प्रतिशत के दो क्रमागत बड़े देता है। गैर का विक्रय मूल्य क्या होगा?

- Ans
- ✓ 1. Rs. 336
 - ✗ 2. Rs. 442
 - ✗ 3. Rs. 372
 - ✗ 4. Rs. 325

Question ID : 264330128293
Status : Answered
Chosen Option : 1

Q.11 एक कार 40 km की दूरी 24 मिनट में तय करती है। यदि कार की गति को 40 km/hr से घटा दिया जाए, तो कार द्वारा यही दूरी तय करने में कितना समय लगेगा?

- Ans
- 1. 36 मिनट
 - 2. 40 मिनट
 - 3. 48 मिनट
 - 4. 45 मिनट

Question ID : 264330127715
Status : Answered
Chosen Option : 2

Q.12 एक लम्बवृत्तीय शंकु के आधार की परिधि 88 cm है। यदि शंकु की उंचाई 28 cm है, तो शंकु का वक्र पृष्ठीय क्षेत्रफल क्या है?

- Ans
- 1. $616\sqrt{5} \text{ cm}^2$
 - 2. $561\sqrt{5} \text{ cm}^2$
 - 3. $627\sqrt{3} \text{ cm}^2$
 - 4. $670\sqrt{3} \text{ cm}^2$

Question ID : 264330127716
Status : Answered
Chosen Option : 1

Q.13 एक वृत्त की परिधि 88 cm है। जीवा XY इस वृत्त की परिधि पर 90 डिग्री का कोण बनाता है। XY की लंबाई कितनी है?

- Ans
- 1. 28 cm
 - 2. 21 cm
 - 3. 42 cm
 - 4. 14 cm

Question ID : 264330128098
Status : Answered
Chosen Option : 2

Q.14 व्यंजक $1 - 2 + 3 - 4 + 5 - 6 \dots$ से लेकर 100 पदों तक का मान क्या है?

- Ans
- 1. -49
 - 2. -60
 - 3. -55
 - 4. -50

Question ID : 264330128080
Status : Answered
Chosen Option : 4

Q.15 6 cm त्रिज्या वाले दो वृत्त एक-दूसरे को इस प्रकार प्रतिच्छेद करते हैं कि प्रत्येक वृत्त दूसरे के केंद्र से होकर गुजरता है। वृत्तों की उभयनिष्ठ जीवा की लंबाई कितनी है?

- Ans
- 1. 12cm
 - 2. $9\sqrt{3}$ cm
 - 3. $6\sqrt{3}$ cm
 - 4. 8cm

Question ID : 264330127724
Status : Answered
Chosen Option : 2

Q.16 एक सोसाइटी के 120 सदस्यों की औसत आयु 62.5 वर्ष है। 30 नए सदस्यों को शामिल करने पर औसत आयु 58.2 वर्ष हो जाती है। नए शामिल हुए सदस्यों की औसत आयु कितनी है?

- Ans
- 1. 41 वर्ष
 - 2. 42 वर्ष
 - 3. 40 वर्ष
 - 4. 39 वर्ष

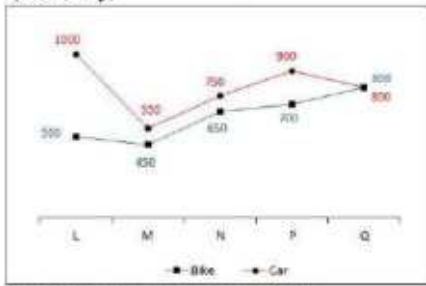
Question ID : 264330127717
Status : Answered
Chosen Option : 1

Q.17 Δ STU में, X और Y क्रमशः भुजाओं ST और SU पर स्थित बिंदु हैं। XY, TU के समांतर है। यदि $SX : XT = 2 : 5$ और $UY = 20$ cm है, तो SU का मान क्या है?

- Ans
- 1. 32 cm
 - 2. 28 cm
 - 3. 26 cm
 - 4. 24 cm

Question ID : 264330127726
Status : Answered
Chosen Option : 2

Q.18 नीचे दिए गए रेखा आलेख में पांच कंपनियों L, M, N, P और Q की बाइकों (bikes) और कारों (cars) की बिक्री को दर्शाया गया है।



निम्नलिखित में से सही सा कथन सही है?

I. कंपनी L और M द्वारा की गयी बाइकों की कुल बिक्री, कंपनी P और Q द्वारा की गयी कारों की कुल बिक्री का 45.88 प्रतिशत है।

II. बाइकों की कुल बिक्री कारों की कुल बिक्री का 77.5 प्रतिशत है।

- Ans
- 1. न तो I और न ही II
 - 2. केवल I
 - 3. I और II दोनों
 - 4. केवल II

Question ID : 264330128312
Status : Answered
Chosen Option : 4

Q.19 नीचे दी गई तालिका में दो कंपनियों J और K द्वारा 5 वर्षों में कार के उत्पादन को दर्शाया गया है।

वर्ष	कंपनियाँ	
	J	K
A	120	50
B	80	60
C	40	120
D	30	100
E	20	70

L1 = सभी वर्षों में J द्वारा कार का कुल उत्पादन।

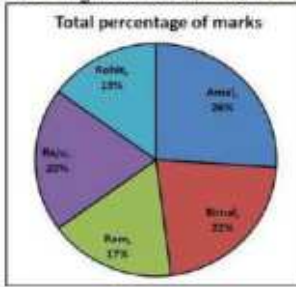
L2 = सभी वर्षों में K द्वारा कार का कुल उत्पादन।

(L2 - L1) का मान क्या है?

- Ans
- 1. 90
 - 2. 70
 - 3. 110
 - 4. 140

Question ID : 264330128036
Status : Answered
Chosen Option : 3

Q.20 निम्नलिखित वृत्त आलेख में एक परीक्षा में 5 लड़कों के कुल अंकों का प्रतिशत दर्शाया गया है। इस परीक्षा में इन लड़कों के कुल अंक 800 हैं। रोहित के अंक राजू के अंक से कितने प्रतिशत कम हैं ?



कुल अंकों का प्रतिशत (Total percentage of marks)

रोहित (Rohit), अमल (Amal), बिमल (Bimal), राम (Ram), राजू (Raju)

- Ans
- 1. 30%
 - 2. 25%
 - 3. 20%
 - 4. 33.33%

Question ID : 264330128510
Status : Answered
Chosen Option : 2

Q.21 $\sqrt{(1 - \sin A) / (1 + \sin A)}$ का मान क्या है?

- Ans
- 1. $\tan^2 A$
 - 2. $\sec A + \tan A$
 - 3. $\sec A - \tan A$
 - 4. $\sec^2 A$

Question ID : 264330128384
Status : Answered
Chosen Option : 2

Q.22 राहुल अपनी आय का कुछ भाग खर्च करके शेष भाग की बचत करता है। उसके खर्च और बचत का अनुपात 5:4 है। यदि राहुल की आय Rs.36000 है, तो उसके द्वारा खर्च की जाने वाली धनराशि कितनी होगी?

- Ans
- 1. Rs.15000
 - 2. Rs.20000
 - 3. Rs.25000
 - 4. Rs.16000

Question ID : 264330127721
Status : Answered
Chosen Option : 2

Q.23 20 व्यक्तियों का औसत भार 60 kg है। एक नया व्यक्ति समूह में शामिल हो जाता है और 21 व्यक्तियों का औसत भार 59 kg हो जाता है। नए व्यक्ति का भार कितना होगा?

- Ans
- 1. 40 kg
 - 2. 41 kg
 - 3. 39 kg
 - 4. 29 kg

Question ID : 264330126466
Status : Answered
Chosen Option : 3

Q.24 एक व्यक्ति ने Rs.80 प्रति पेन के दर पर 80 पेन खरीदे। वह 40 पेन 20 प्रतिशत की हानि पर बेचना है। यदि सभी पेनों को मिलाकर उन पर 20 प्रतिशत का लाभ अर्जित किया जाता है, तो शेष 40 पेनों पर लाभ प्रतिशत क्या होगा?

- Ans
- 1. 60 प्रतिशत
 - 2. 90 प्रतिशत
 - 3. 70 प्रतिशत
 - 4. 80 प्रतिशत

Question ID : 264330128295
Status : Answered
Chosen Option : 1

Q.25 P और Q मिलकर किसी कार्य को 20 दिनों में पूरा कर सकते हैं। यदि Q अकेले उसी कार्य को 25 दिनों में पूरा कर सकता है, तो P अकेले उसी कार्य को कितने दिनों में पूरा कर सकता है?

- Ans
- 1. 50 दिन
 - 2. 100 दिन
 - 3. 20 दिन
 - 4. 25 दिन

Question ID : 264330128364
Status : Answered
Chosen Option : 2

Section : General awareness

Q.1 निम्नलिखित में से कौन भारतीय संविधान की 7वीं अनुसूची की संघ सूची के अंतर्गत आता है?

- Ans
- 1. अस्पताल और औषधालय
 - 2. लोक स्वास्थ्य और स्वच्छता
 - 3. बांटो और मार्गों के मानक नियत करना
 - 4. लोक व्यवस्था

Question ID : 264330124829
Status : Not Answered
Chosen Option : --

Q.2 निम्नलिखित में से किस राज्य में 2021 की स्थिति के अनुसार भारत में सोने के अयस्क का सबसे बड़ा भंडार है?

- Ans
- 1. कर्नाटक
 - 2. राजस्थान
 - 3. बिहार
 - 4. झारखंड

Question ID : 264330125621
Status : Not Answered
Chosen Option : --

Q.3 भारतीय संविधान का निम्नलिखित में से कौन सा अनुच्छेद उच्च न्यायालयों की रिट से संबंधित है?

- Ans
- 1. 76
 - 2. 32
 - 3. 226
 - 4. 126

Question ID : 264330125403
Status : Not Answered
Chosen Option : --

Q.4 Which Indian financial institution protects investors in a stock market?

- Ans
- 1. Reserve Bank of India
 - 2. Bombay Stock Exchange
 - 3. National Stock Exchange
 - 4. Securities and Exchange Board of India

Question ID : 264330125466
Status : Answered
Chosen Option : 4

Q.5 अक्टूबर 2022 में प्रधानमंत्री नरेंद्र मोदी ने किस राज्य में बल्क ड्रग पार्क की आधारशिला रखी?

- Ans
- 1. बिहार
 - 2. हिमाचल प्रदेश
 - 3. पंजाब
 - 4. उत्तराखंड

Question ID : 264330125464
Status : Not Answered
Chosen Option : --

Q.6 निम्नलिखित में से किस शॉर्टकट कुंजी (की) का इस्तेमाल एमएस-वर्ड 365 में प्रिंट प्रीव्यू पर जाने के लिए किया जाता है?

- Ans
- 1. Ctrl + Alt + P
 - 2. Alt + I
 - 3. Ctrl + Alt + I
 - 4. Alt + P

Question ID : 264330124809
Status : Answered
Chosen Option : 1

Q.7 निम्नलिखित में से कौन-सी नदी का उद्गम स्थल राजस्थान में है?

- Ans
- 1. माही
 - 2. तापी
 - 3. बनास
 - 4. नर्मदा

Question ID : 264330125473
Status : Not Answered
Chosen Option : --

Q.8 किस मशहूर पुरुष लॉन टेनिस खिलाड़ी ने सितंबर 2022 में लॉन टेनिस से सन्यास ले लिया है?

- Ans
- 1. राफेल नडाल
 - 2. नोवाक जोकोविच
 - 3. रोजर फ़ेडरर
 - 4. कार्लोस अल्कारेज

Question ID : 264330125482
Status : Answered
Chosen Option : 3

Q.9 भारत की कौन सी नदी बंगाल की खाड़ी में जा कर मिलती है?

- Ans
- 1. नर्मदा
 - 2. गोदावरी
 - 3. माही
 - 4. तापी

Question ID : 264330125397
Status : Answered
Chosen Option : 2

Q.10 निम्न में से पल्लवों की राजधानी कौन सी थी?

- Ans
- 1. ऐहोल
 - 2. रायचूर दोआब
 - 3. पुहार
 - 4. कांचीपुरम

Question ID : 264330124824
Status : Not Answered
Chosen Option : --

Q.11 भारत में, अंडमान और निकोबार तथा लक्षद्वीप सहित मुख्य भूमि के समुद्र तट की कुल लंबाई कितनी है?

- Ans
- 1. 8,123.1 km
 - 2. 8,514.4 km
 - 3. 7,818.7 km
 - 4. 7,516.6 km

Question ID : 264330125095
Status : Not Answered
Chosen Option : --

Q.12 बड़े बांधों के संबंध में निम्नलिखित में से कौनसा कथन सही है?
I. इनकी सामाजिक समस्याएँ हैं, क्योंकि इससे बड़ी संख्या में किसान और आदिवासी विस्थापित होते हैं और उन्हें मुआवजा भी नहीं मिलता।
II. इनकी पर्यावरणीय समस्याएँ हैं, क्योंकि इनसे बड़े स्तर पर वनों का विनाश होता है तथा जैव विविधता की क्षति होती है।

- Ans 1. I और II दोनों
 2. केवल I
 3. न तो I और न ही II
 4. केवल II

Question ID : 264330124819
Status : Not Answered
Chosen Option : --

Q.13 निम्नलिखित में से किसने सितंबर 2022 में ई-बाल निदान ऑनलाइन पोर्टल को नया रूप दिया है?

- Ans 1. राष्ट्रीय बाल अधिकार संरक्षण आयोग
 2. यूनिसेफ इंडिया
 3. नीति आयोग
 4. महिला एवं बाल विकास मंत्रालय

Question ID : 264330125087
Status : Answered
Chosen Option : 4

Q.14 ब्रिटिश ईस्ट इंडिया कंपनी की ओर से प्लासी के युद्ध का नेतृत्व किसने किया था?

- Ans 1. जेम्स लैंकेस्टर (James Lancaster)
 2. वॉरेन हेस्टिंग्स (Warren Hastings)
 3. रॉबर्ट क्लाइव (Robert Clive)
 4. चार्ल्स स्टुअर्ट (Charles Stuart)

Question ID : 264330125400
Status : Not Answered
Chosen Option : --

Q.15 किस भारतीय लेखक ने प्रसिद्ध पुस्तक "मानसरोवर" लिखी?

- Ans 1. प्रेमचंद
 2. गीता सहगल
 3. यशपाल
 4. राम प्रसाद बिस्मिल

Question ID : 264330125626
Status : Not Answered
Chosen Option : --

Q.16 किस टीम ने 2021-22 की I - लीग जीती?

- Ans 1. गोकुलम केरल एफ़सी
 2. राजस्थान यूनाइटेड
 3. नेरोका एफ़सी
 4. मोहम्मडन एससी

Question ID : 264330125306
Status : Not Answered
Chosen Option : --

Q.17 प्रोग्राम निर्देशों को संचालित करने के लिए किसका उपयोग किया जाता है जिसे कंप्यूटर में कभी भी बदला नहीं जा सकता है?

- Ans
- 1. कैश (Cache)
 - 2. रजिस्टर (Register)
 - 3. रोम (ROM)
 - 4. रेम (RAM)

Question ID : 264330125383
Status : Answered
Chosen Option : 3

Q.18 भारत में सितार के उस्ताद (सितार माएस्ट्रो) के रूप में किसे जाना जाता है?

- Ans
- 1. महर्षि पतंजलि
 - 2. सितारा देवी
 - 3. पं. रवि शंकर
 - 4. उस्ताद बिस्मिल्ला ख़ाँ

Question ID : 264330124786
Status : Not Answered
Chosen Option : --

Q.19 प्रसिद्ध स्मारक, आराम बाग (Aram Bagh), बाबर द्वारा बनवाया गया था। यह _____ में स्थित है।

- Ans
- 1. दिल्ली
 - 2. उत्तर प्रदेश
 - 3. बिहार
 - 4. हैदराबाद

Question ID : 264330125585
Status : Not Answered
Chosen Option : --

Q.20 निम्नलिखित में से किस कंपनी ने सितंबर 2022 में मूनलाइटिंग के आरोपों के तहत लगभग 300 कर्मचारियों को बर्खास्त कर दिया था?

- Ans
- 1. विप्रो
 - 2. माइंडट्री
 - 3. माइक्रोसॉफ्ट इंडिया
 - 4. अमेज़ोन इंडिया

Question ID : 264330125463
Status : Answered
Chosen Option : 1

Q.21 1956 के औद्योगिक नीति प्रस्ताव ने _____ का आधार बनाया।

- Ans
- 1. पाँचवीं पंचवर्षीय योजना
 - 2. द्वितीय पंचवर्षीय योजना
 - 3. चतुर्थ पंचवर्षीय योजना
 - 4. तृतीय पंचवर्षीय योजना

Question ID : 264330124815
Status : Answered
Chosen Option : 2

Q.22 PKL के 8वें संस्करण के फ़ाइनल मैच में निम्नलिखित में से किन दो टीमों के बीच मुकाबला हुआ था?

- Ans 1. दबंग दिल्ली बनाम पटना पाइरेट्स
 2. दबंग दिल्ली बनाम बेंगलुरु बुल्स
 3. दबंग दिल्ली बनाम बंगाल वॉरियर्स
 4. बंगाल वॉरियर्स बनाम पटना पाइरेट्स

Question ID : 264330125131
Status : Not Answered
Chosen Option : --

Q.23 भारतीय परमाणु कार्यक्रम का जनक किसे माना जाता है?

- Ans 1. विक्रम साराभाई
 2. होमी जे. भाभा
 3. सी. वी. रमन
 4. वेंकटरमन राधाकृष्णन

Question ID : 264330125477
Status : Not Answered
Chosen Option : --

Q.24 बड़ी मात्रा में, _____ कैंसर कोशिकाओं को मारती है या उनके डीएनए (DNA) को नष्ट करके उनकी वृद्धि को धीमा कर देती है। कैंसर कोशिकाएँ जिनका डीएनए इतना क्षतिग्रस्त हो जाता है कि उन्हें ठीक नहीं किया जा सकता, विभाजित होना बंद हो जाती हैं या नष्ट हो जाती हैं। जब क्षतिग्रस्त कोशिकाएँ नष्ट हो जाती हैं, तो वे टूट जाती हैं और शरीर द्वारा बाहर निकाल दी जाती हैं।

- Ans 1. सर्जरी (Surgery)
 2. विकिरण चिकित्सा (Radiation therapy)
 3. भौतिक चिकित्सा (Physiotherapy)
 4. कीमोथेरेपी (Chemotherapy)

Question ID : 264330125468
Status : Not Answered
Chosen Option : --

Q.25 निम्नलिखित में से कौन सा कोलाइड फ़ोम का एक उदाहरण है?

- Ans 1. चीज़
 2. कुहासा
 3. स्पंज
 4. मक्खन

Question ID : 264330124817
Status : Not Answered
Chosen Option : --

Combined Higher Secondary Level Examination Tier I 2022

Roll Number	
Candidate Name	
Venue Name	
Exam Date	09/03/2023
Exam Time	2:30 PM - 3:30 PM
Subject	CHSL Exam 2022 Tier I

Section : **English Language**

Q.1 Choose the word that can substitute the given group of words.
One who offers one's services without being forced

- Ans
- 1. Scholar
 - 2. Skeptic
 - 3. Altruist
 - 4. Volunteer

Question ID : 264330124543
 Status : Answered
 Chosen Option : 4

Q.2 Select the correct indirect form of the given sentence.
The father said to his daughter, "Your mother will be waiting for me."

- Ans
- 1. The father told his daughter that her mother will be waiting for him.
 - 2. The father told his daughter that my mother would be waiting for him.
 - 3. The father told his daughter that her mother would be waiting for him.
 - 4. The father told his daughter that her mother was waiting for me.

Question ID : 264330124056
 Status : Answered
 Chosen Option : 3

Q.3 Improve the underlined part of the sentence. Choose 'No improvement' as an answer if the sentence is grammatically correct.
Fashion is not something that exists in dresses only.

- Ans
- 1. which exist on
 - 2. No improvement
 - 3. that exist of
 - 4. that existing at

Question ID : 264330124171
 Status : Answered
 Chosen Option : 1

Q.4 Fill in the blank with an appropriate option.
Illusions are usually related with _____ processes.

- Ans
- 1. oratory
 - 2. visual
 - 3. digital
 - 4. audio

Question ID : 264330124365

Status : **Not Attempted and Marked For Review**

Chosen Option : --

Q.5 Fill in the blank with the most suitable word.
We won an unprecedented pardon from _____ -President Karzai, and Gulnaz was freed.

- Ans
- 1. then
 - 2. at time
 - 3. those
 - 4. later

Question ID : 264330125784

Status : **Answered**

Chosen Option : 3

Q.6 Choose the word that means the same as the given word.
Ponderous

- Ans
- 1. Heavy
 - 2. Bluff
 - 3. Unruly
 - 4. Wondrous

Question ID : 264330124077

Status : **Not Attempted and Marked For Review**

Chosen Option : --

Q.7 Choose the incorrectly spelt word.

- Ans
- 1. Prunke
 - 2. Sober
 - 3. Tension
 - 4. Hinder

Question ID : 264330124073

Status : **Answered**

Chosen Option : 1

Q.8 Find the part of the given sentence that has an error in it. If there is no error, choose 'No error'.
A study finds that the average staff cost at a public sector bank is high than that at its private sector counterpart.

- Ans
- 1. A study finds that the average staff cost at
 - 2. its private sector counterpart.
 - 3. No error
 - 4. a public sector bank is high than that at

Question ID : 264330124630

Status : **Answered**

Chosen Option : 4

Q.9 Choose the word that can substitute the given group of words.
A person who is indifferent to pain and pleasures of life

- Ans**
- 1. Recluse
 - 2. Vagabond
 - 3. Stoic
 - 4. Amateur

Question ID : 264330124492
Status : Answered
Chosen Option : 2

Q.10 Choose the word that is opposite in meaning to the given word.
Despondent

- Ans**
- 1. Despaired
 - 2. Reproach
 - 3. Precise
 - 4. Hopeful

Question ID : 264330124564
Status : Answered
Chosen Option : 4

Q.11 Fill in the blank with the most suitable word.
I _____ pay too much attention to the stories.

- Ans**
- 1. didn't
 - 2. haven't
 - 3. wasn't
 - 4. hasn't

Question ID : 264330125835
Status : Answered
Chosen Option : 1

Q.12 Choose the word that is opposite in meaning to the given word.
Worried

- Ans**
- 1. Leisure
 - 2. Unconcerned
 - 3. Proceed
 - 4. Withdraw

Question ID : 264330124407
Status : Answered
Chosen Option : 2

Q.13 Rearrange the parts of the sentence in correct order.
P. to focus more on edible oils/oilseeds than on wheat
Q. the MSP for wheat is up by 2 per cent while
R. that of rapeseed-mustard is up by 8.6 per cent,
S. perhaps indicating that the government wants

- Ans**
- 1. QRSP
 - 2. RSPQ
 - 3. PSRQ
 - 4. PRQS

Question ID : 264330124066
Status : Answered
Chosen Option : 1

Q.14 Fill in the blank with an appropriate option.
The makers of sports drinks spend tens to hundreds of millions of dollars _____ their products each year.

- Ans** 1. advertising
 2. snacking
 3. lingering
 4. varying

Question ID : 264330124028
 Status : Answered
 Chosen Option : 1

Q.15 Select the correct passive form of the given sentence.
The extremists have assassinated the President.

- Ans** 1. The President had been assassinated by the extremists.
 2. The President has been assassinated by the extremists.
 3. The President was assassinated by the extremists.
 4. The President is assassinated by the extremists.

Question ID : 264330124627
 Status : Answered
 Chosen Option : 2

Q.16 Choose the word that is opposite in meaning to the given word.
Amiss

- Ans** 1. Gaily
 2. Vitiated
 3. Impeccable
 4. Marred

Question ID : 264330124044
 Status : Not Attempted and Marked For Review
 Chosen Option : --

Q.17 In the following question, out of the given four alternatives, select the alternative which best expresses the meaning of the Idiom/Phrase.
A bull market

- Ans** 1. A fertile field
 2. To boast
 3. A market where cattle is traded
 4. Market where prices are rising

Question ID : 264330124071
 Status : Answered
 Chosen Option : 4

Q.18 In the following question, out of the given four alternatives, select the alternative which best expresses the meaning of the Idiom/Phrase.
Take your eye off the ball

- Ans** 1. To stop paying attention for a moment
 2. Take someone for granted
 3. Take an advice from a wrong person
 4. Deteriorating and headed for complete disaster

Question ID : 264330124644
 Status : Answered
 Chosen Option : 1

Q.19 Choose the sentence with no spelling error.

- Ans** 1. Fine fthers do not make fine birds.
 2. Figne feathers do not make fine brds.
 3. Fine fathears do not make fine birds.
 4. Fine feathers do not make fine birds.

Question ID : 264330124074
Status : Answered
Chosen Option : 4

**Q.20 Find the part of the given sentence that has an error in it. If there is no error, choose 'No error'.
In the five next years, the migration will surely stop.**

- Ans** 1. No error
 2. will surely stop.
 3. In the five next
 4. years, the migration

Question ID : 264330124057
Status : Not Attempted and Marked For Review
Chosen Option : --

Comprehension:

In the following passage some of the words have been deleted. Read the passage carefully and select the correct answer for the given blank out of the four alternatives.
First, the e-commerce industry has historically struggled with (1) _____ issues. The Internet has made it possible for customers to place (2) _____ from any location, but that convenience comes with a cost in (3) _____ of shipping costs and order fulfillment times. But by hosting their e-commerce sites on cloud computing platforms, merchants can offload (4) _____ of the server processing work. These third-party systems still (5) _____ full control over the look and feel of their online stores.

SubQuestion No : 21

Q.21 Select the most appropriate option to fill in blank number 1.

- Ans** 1. placing
 2. flipping
 3. delivery
 4. storing

Question ID : 264330124060
Status : Answered
Chosen Option : 1

Comprehension:

In the following passage some of the words have been deleted. Read the passage carefully and select the correct answer for the given blank out of the four alternatives.

First, the e-commerce industry has historically struggled with (1)_____ issues. The Internet has made it possible for customers to place (2) _____ from any location, but that convenience comes with a cost in (3) _____ of shipping costs and order fulfillment times. But by hosting their e-commerce sites on cloud computing platforms, merchants can offload (4) _____ of the server processing work. These third-party systems still (5) _____ full control over the look and feel of their online stores.

SubQuestion No : 22**Q.22 Select the most appropriate option to fill in blank number 2.**

- Ans 1. systems
 2. series
 3. orders
 4. locals

Question ID : 264330124061

Status : Answered

Chosen Option : 3

Comprehension:

In the following passage some of the words have been deleted. Read the passage carefully and select the correct answer for the given blank out of the four alternatives.

First, the e-commerce industry has historically struggled with (1)_____ issues. The Internet has made it possible for customers to place (2) _____ from any location, but that convenience comes with a cost in (3) _____ of shipping costs and order fulfillment times. But by hosting their e-commerce sites on cloud computing platforms, merchants can offload (4) _____ of the server processing work. These third-party systems still (5) _____ full control over the look and feel of their online stores.

SubQuestion No : 23**Q.23 Select the most appropriate option to fill in blank number 3.**

- Ans 1. tags
 2. shifts
 3. firms
 4. terms

Question ID : 264330124062

Status : Answered

Chosen Option : 2

Comprehension:

In the following passage some of the words have been deleted. Read the passage carefully and select the correct answer for the given blank out of the four alternatives.

First, the e-commerce industry has historically struggled with (1)_____ issues. The Internet has made it possible for customers to place (2) _____ from any location, but that convenience comes with a cost in (3) _____ of shipping costs and order fulfillment times. But by hosting their e-commerce sites on cloud computing platforms, merchants can offload (4) _____ of the server processing work. These third-party systems still (5) _____ full control over the look and feel of their online stores.

SubQuestion No : 24**Q.24 Select the most appropriate option to fill in blank number 4.**

- Ans 1. more
 2. much
 3. must
 4. many

Question ID : 264330124063

Status : Answered

Chosen Option : 2

Comprehension:

In the following passage some of the words have been deleted. Read the passage carefully and select the correct answer for the given blank out of the four alternatives.

First, the e-commerce industry has historically struggled with (1) _____ issues. The Internet has made it possible for customers to place (2) _____ from any location, but that convenience comes with a cost in (3) _____ of shipping costs and order fulfillment times. But by hosting their e-commerce sites on cloud computing platforms, merchants can offload (4) _____ of the server processing work. These third-party systems still (5) _____ full control over the look and feel of their online stores.

SubQuestion No : 25**Q.25** Select the most appropriate option to fill in blank number 5.

- Ans 1. discard
 2. retain
 3. fumigate
 4. placate

Question ID : 264330124064

Status : **Not Attempted and Marked For Review**

Chosen Option : --

Section : **General Intelligence****Q.1** किसी एक खास कूटभाषा में, 'RAMEN' को 'RIQEV' लिखा जाता है। इस कूट भाषा में 'MODEL' को कैसे लिखा जाएगा?

- Ans 1. PIHSQ
 2. PHHSQ
 3. PHHHR
 4. PIISR

Question ID : 264330126747

Status : **Not Attempted and Marked For Review**

Chosen Option : --

Q.2 उस विकल्प को चुनिए जिसमें समुच्चय की संख्याएँ वही संबंध साझा करती हैं जो दिए गए समुच्चय में संख्याओं द्वारा साझा किया जाता है। (ध्यान दें: संख्याओं को उनके घटक अंकों में अलग अलग किए बिना, पूर्ण संख्याओं पर संक्रियाएँ की जानी चाहिए। उदा. 13 - 13 पर संक्रियाएँ जैसे 13 को जोड़ना /घटाना /गुणा करना आदि किया जा सकता है। 13 को 1 एवं 3 में अलग करने की और फिर 1 एवं 3 पर गणितीय संक्रियाएँ करने की अनुमति नहीं है)
 (59, 118, 236)
 (64, 128, 256)

- Ans 1. (63, 126, 242)
 2. (44, 88, 186)
 3. (82, 164, 328)
 4. (37, 74, 138)

Question ID : 264330126992

Status : **Answered**

Chosen Option : 3

Q.3 यदि $27 A 11 A 8 = 8$ और $48 A 37 A 2 = 9$, तो $56 A 5 A 3 = ?$

- Ans 1. 48
 2. 46
 3. 47
 4. 45

Question ID : 264330126334

Status : **Answered**

Chosen Option : 1

Q.4 यदि रेखा AB पर एक दर्पण रखा जाता है, तो विकल्प आकृतियों में से सही आकृति प्रश्न आकृति का सही प्रतिचित्र होगी?



Ans

✗ 1.



✗ 2.



✓ 3.



✗ 4.



Question ID : 264330127287

Status : Not Attempted and Marked For Review

Chosen Option : --

Q.5 उस विकल्प को चुनिए जो पाँचवीं संख्या से ठीक उसी तरह संबंधित है जिस तरह पहली संख्या दूसरी संख्या से संबंधित है और तीसरी संख्या चौथी संख्या से संबंधित है।
5432 : 2345 :: 6192 : 1269 :: 7835 : ?

Ans ✗ 1. 3587

✗ 2. 5387

✗ 3. 5378

✓ 4. 3578

Question ID : 264330127066

Status : Not Attempted and Marked For Review

Chosen Option : --

Q.6 (::) के बायीं ओर दिए गए शब्द एक-दूसरे से किसी तर्क/नियम/संबंध से संबंधित हैं। उसी तर्क/नियम/संबंध के आधार पर दिए गए विकल्पों में से (::) के दाईं ओर लुप्त शब्द/शब्द युग्म को चुनिए।
कलम : लिखना :: कुदाल : ?

Ans ✗ 1. चित्र बनाना

✗ 2. पीसना

✗ 3. आवर्धन करना

✓ 4. खोदना

Question ID : 264330127000

Status : Answered

Chosen Option : 4

Q.7 M, L का पिता है। R, M का पिता है। Q, S का पति है। L, Q का भाई है। S, M से कैसे संबंधित है?

- Ans
- 1. भांजी
 - 2. माँ
 - 3. बहू
 - 4. बेटी

Question ID : 264330126752
Status : Answered
Chosen Option : 3

Q.8 एक अनुक्रम दिया गया है जिसमें एक पद लुप्त है। दिए गए विकल्पों में से वह सही विकल्प चुनिए जो अनुक्रम को पूरा करेगा।
TDS, SIJ, RNA, QSR, ?

- Ans
- 1. POI
 - 2. PXI
 - 3. PXK
 - 4. PYM

Question ID : 264330126751
Status : Not Attempted and Marked For Review
Chosen Option : --

Q.9 शब्दों के चार समूहों में से तीन किसी प्रकार समान हैं। शब्दों के उस अलग समूह को चुनिए।

- Ans
- 1. (इंजीनियर, नौकर, दुकानदार)
 - 2. (मैकेनिक, खगोलविद, योद्धा)
 - 3. (नाविक, चिकित्सक, चित्रकार)
 - 4. (कारखाना, गैरेज, जुआघर)

Question ID : 264330127305
Status : Answered
Chosen Option : 4

Q.10 दिए गए विकल्पों में से उस आकृति को चुनिए जो निम्नलिखित श्रृंखला में प्रथम चित्र (?) के स्थान पर आ सकती है।



- Ans
- 1.
 - 2.
 - 3.
 - 4.

Question ID : 264330126758
Status : Answered
Chosen Option : 2

Q.11 दिए गए दो चिन्हों को आपस में बदलने पर निम्नलिखित में से कौन सा समीकरण सही नहीं होगा?

+ और ÷

I. $27 \div 3 - 18 \times 3 + 9 = 24$

II. $12 \div 8 \times 12 + 16 - 7 = 19$

- Ans 1. I और II दोनों
 2. केवल II
 3. न तो I और न ही II
 4. केवल I

Question ID : 264330126840
Status : Answered
Chosen Option : 3

Q.12 (::) के बायीं ओर दिए गए शब्द किसी तर्क/नियम/संबंध के आधार पर एक-दूसरे से संबंधित हैं। समान तर्क/नियम/संबंध के आधार पर दिए गए विकल्पों में से (::) के दायीं ओर लुप्त शब्द/शब्द युग्म को चुनिए।
युआन : चीन :: येन : ?

- Ans 1. पाकिस्तान
 2. श्रीलंका
 3. जापान
 4. यूनाइटेड किंगडम

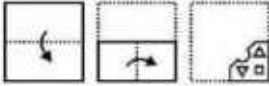
Question ID : 264330126331
Status : Answered
Chosen Option : 3

Q.13 निम्नलिखित प्रश्न में, दिए गए विकल्पों में से अलग अक्षर/अक्षरों को चुनिए।

- Ans 1. ACF
 2. OQT
 3. PRV
 4. XZC

Question ID : 264330126754
Status : Answered
Chosen Option : 3

Q.14 कागज़ के एक टुकड़े को मोड़ा जाता है और उसमें छेद किया जाता है, जैसा कि नीचे प्रश्न आकृतियों में दिखाया गया है। दी गई उत्तर आकृतियों में से बताइए कि खोले जाने के बाद वह किस उत्तर आकृति के समान दिखाई देगी?



Ans



Question ID : 264330126961
Status : Answered
Chosen Option : 1

Q.15 निम्नलिखित प्रश्न में, दी गई श्रृंखला में से लुप्त संख्या को चुनिए।
20, 22, 26, 32, 40, ?

- Ans
- ✓ 1. 50
 - ✗ 2. 52
 - ✗ 3. 48
 - ✗ 4. 54

Question ID : 264330126332
Status : Answered
Chosen Option : 1

Q.16 दिए गए शब्दों को शब्दकोश के क्रमानुसार व्यवस्थित करने पर, कौन-सा शब्द 'चौथी' स्थान पर आएगा?

1. Convert
2. Convex
3. Convector
4. Convent
5. Convict

- Ans
- ✗ 1. Convert
 - ✗ 2. Convent
 - ✗ 3. Convict
 - ✓ 4. Convex

Question ID : 264330127296
Status : Answered
Chosen Option : 4

Q.17 उस विकल्प को चुनिए जिसमें समुच्चय की संख्याएँ वही संबंध साझा करती हैं जो दिए गए समुच्चय में संख्याओं द्वारा साझा किया जाता है।
(ध्यान दें: संख्याओं को उनके घटक अंकों में अलग अलग किए बिना, पूर्ण संख्याओं पर संक्रियाएँ की जानी चाहिए।
उदा. 13 – 13 पर संक्रियाएँ जैसे 13 को जोड़ना /घटाना /गुणा करना आदि किया जा सकता है। 13 को 1 एवं 3 में अलग करने की और फिर 1 एवं 3 पर गणितीय संक्रियाएँ करने की अनुमति नहीं है)
(56, 121, 242)
(78, 165, 726)


- Ans
- 1. (44, 88, 166)
 - 2. (28, 110, 220)
 - 3. (36, 99, 198)
 - 4. (62, 98, 187)

Question ID : 264330126743

Status : Answered

Chosen Option : 3

Q.18 कागज के एक टुकड़े को मोड़ा जाता है और उसमें छेद किया जाता है, जैसा कि नीचे प्रश्न आकृतियों में दिखाया गया है। डी गई उत्तर आकृतियों में से बतझए कि खोले जाने के बाद वह किस उत्तर आकृति के समान दिखाई देगी?



Ans

- 1.
- 2.
- 3.
- 4.

Question ID : 264330126711

Status : Answered

Chosen Option : 1

Q.19 नीचे दिए गए प्रश्न में कुछ कथन दिए गए हैं और उन कथनों के आधार पर कुछ निष्कर्ष दिए गए हैं। आपको मानना है कि दिए गए कथन सत्य हैं चाहे वे समान्यतः ज्ञात तथ्यों से अलग प्रतीत होते हों। सभी निष्कर्षों को पढ़िए और फिर निश्चय कीजिए कि दिए गए निष्कर्षों में से कौन-सा निष्कर्ष तार्किक रूप से दिए गए कथनों के अनुसार है।

कथन:

- I. सभी चेरी गुलाबी हैं।
- II. कुछ नीले गुलाबी हैं।

निष्कर्ष:

- I. कुछ नीले चेरी नहीं हैं।
- II. सभी गुलाबी चेरी हैं।
- III. कुछ गुलाबी चेरी हैं।

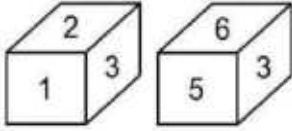
- Ans
- 1. केवल निष्कर्ष III कथनों के अनुसार है।
 - 2. सभी निष्कर्ष कथनों के अनुसार हैं।
 - 3. निष्कर्ष I और II दोनों कथनों के अनुसार हैं।
 - 4. कोई भी निष्कर्ष कथनों के अनुसार नहीं है।

Question ID : 264330126756

Status : Answered

Chosen Option : 1

Q.20 एक ही पात्रों की दो अलग-अलग स्थितियाँ दिखाई गई हैं, जिनके छः फलकों पर 1 से 6 तक संख्याएँ अंकित हैं। उस संख्या को चुनिए जो '4' वाले फलक के विपरीत फलक पर होगी।



- Ans
- 1. 2
 - 2. 1
 - 3. 5
 - 4. 3

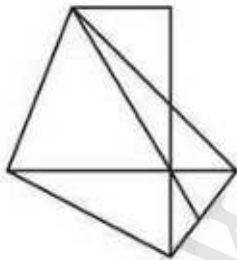
Question ID : 264330127607
Status : Answered
Chosen Option : 4

Q.21 उस विकल्प को चुनिए जिसमें समुच्चय की संख्याएँ वही संबंध साझा करती हैं जो दिए गए समुच्चय में संख्याओं द्वारा साझा किया जाता है। (ध्यान दें: संख्याओं को उनके घटक अंकों में अलग अलग किए बिना, पूर्ण संख्याओं पर संक्रियाएँ की जानी चाहिए। उदा. $13 - 13$ पर संक्रियाएँ जैसे 13 को जोड़ना /घटाना /गुणा करना आदि किया जा सकता है। 13 को 1 एवं 3 में अलग करने की और फिर 1 एवं 3 पर गणितीय संक्रियाएँ करने की अनुमति नहीं है)
(18, 9, 36)
(36, 18, 72)

- Ans
- 1. (32, 16, 64)
 - 2. (46, 33, 132)
 - 3. (58, 29, 118)
 - 4. (24, 12, 36)

Question ID : 264330127217
Status : Answered
Chosen Option : 1

Q.22 दी गई आकृति में कितने त्रिभुज हैं?



- Ans
- 1. 13
 - 2. 12
 - 3. 11
 - 4. 14

Question ID : 264330127084
Status : Not Attempted and Marked For Review
Chosen Option : --

Q.23 किसी एक खास कूट भाषा में, 'CAPTURES' को '24111206182219' लिखा जाता है, 'DECORATE' को '23524159175' लिखा जाता है। इस कूट भाषा में 'EDUCATOR' को कैसे लिखा जाएगा?

- Ans
- 1. 224632620218
 - 2. 2246326201219
 - 3. 2246326201218
 - 4. 2246322601218

Question ID : 264330126748

Status : **Not Attempted and Marked For Review**

Chosen Option : --

Q.24 (::) के बायीं ओर दिए गए शब्द एक-दूसरे से किसी तर्क/नियम/संबंध से संबंधित हैं। उसी तर्क/नियम/संबंध के आधार पर दिए गए विकल्पों में से (::) के दाईं ओर लुप्त शब्द/शब्द युग्म को चुनिए।
कुत्ता : कुतिया :: बैल : ?

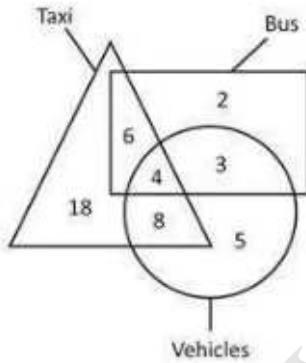
- Ans
- 1. बत्तख
 - 2. गाय
 - 3. मधुमक्खी
 - 4. लोमड़ी

Question ID : 264330127225

Status : **Answered**

Chosen Option : 2

Q.25 दिए गए आरेख में, बसों की कुल संख्या कितनी है?



Taxi - टैक्सी, Bus - बस, Vehicles - वाहन

- Ans
- 1. 15
 - 2. 13
 - 3. 7
 - 4. 14

Question ID : 264330127088

Status : **Answered**

Chosen Option : 1

Section : **Quantitative Aptitude**

Q.1 दो वृत्तों की परिधि क्रमशः 77 cm और 154 cm है। उनकी बिन्दुओं के बीच का अंतर कितना है?

- Ans
- 1. 15 cm
 - 2. 13.25 cm
 - 3. 12.25 cm
 - 4. 16 cm

Question ID : 264330127741
Status : Answered
Chosen Option : 3

Q.2 8 लड़कियों की एक कक्षा की औसत आयु x वर्ष है। $x - 2$, $x + 4$, $x + 8$ और $x + 10$ आयु वाली चार नई लड़कियाँ कक्षा में शामिल होती हैं। कक्षा की नई औसत आयु क्या है?

- Ans
- 1. $x + 1$
 - 2. $x - 2$
 - 3. $x + 5$
 - 4. $x + 2$

Question ID : 264330127742
Status : Answered
Chosen Option : 2

Q.3 $(a + b + 2c)(a^2 + b^2 + 4c^2 - ab - 2bc - 2ca)$ का मान क्या है?

- Ans
- 1. $a^3 - b^3 - c^3 - 6abc$
 - 2. $a^3 + b^3 + 4c^3 - 6abc$
 - 3. $a^3 - b^3 - 8c^3 - 3abc$
 - 4. $a^3 + b^3 + 8c^3 - 6abc$

Question ID : 264330128079
Status : Answered
Chosen Option : 4

Q.4 यदि $\tan x = \frac{10}{17}$, तो $\sin X$ का मान क्या है?

- Ans
- 1. $\frac{17}{\sqrt{389}}$
 - 2. $\frac{9}{\sqrt{389}}$
 - 3. $\frac{7}{\sqrt{389}}$
 - 4. $\frac{10}{\sqrt{389}}$

Question ID : 264330126472
Status : Answered
Chosen Option : 4

Q.5 15 व्यक्तियों का औसत भार 30 kg है। एक नया व्यक्ति जिसका भार 78 kg है, समूह में शामिल हो जाता है। 16 व्यक्तियों का औसत भार कितना होगा?

- Ans
- 1. 31.5 kg
 - 2. 32 kg
 - 3. 33 kg
 - 4. 34 kg

Question ID : 264330126470
Status : Answered
Chosen Option : 3

Q.6 दो संख्याओं में से, छोटी संख्या का 20 प्रतिशत बड़ी संख्या के 14 प्रतिशत के बराबर है। यदि दोनों संख्याओं का योग 8942 है, तो बड़ी संख्या का मान क्या है?

- Ans
- 1. 5260
 - 2. 4920
 - 3. 5160
 - 4. 5040

Question ID : 264330127744
Status : Answered
Chosen Option : 1

Q.7 एक घड़ी को अंकित मूल्य के 4/5 भाग पर बेचने पर 10 प्रतिशत की हानि होती है। घड़ी के अंकित मूल्य और क्रय मूल्य का अनुपात क्या होगा?

- Ans
- 1. 9 : 8
 - 2. 6 : 5
 - 3. 9 : 5
 - 4. 8 : 5

Question ID : 264330128068
Status : Answered
Chosen Option : 1

Q.8 एक निश्चित राशि का 1/5, 20 प्रतिशत ब्याज दर पर उधार दिया जाता है। शेष राशि का 2/5, 25 प्रतिशत ब्याज दर पर उधार दिया जाता है। शेष राशि को 10 प्रतिशत ब्याज दर पर उधार दिया जाता है। यदि कुल राशि पर 2 वर्ष के लिए Rs. 360 साधारण ब्याज प्राप्त होता है, तो कुल राशि कितनी है?

- Ans
- 1. Rs. 1200
 - 2. Rs. 800
 - 3. Rs. 1000
 - 4. Rs. 1400

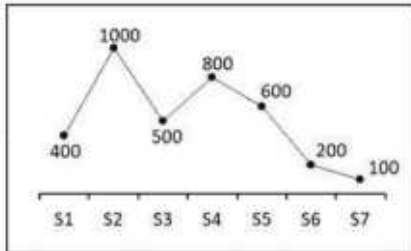
Question ID : 264330128297
Status : Not Attempted and Marked For Review
Chosen Option : --

Q.9 यदि $P : Q = 2 : 3$, $Q : R = 4 : 5$ और $R : S = 2 : 1$ है, तो $P : R : S$ का मान क्या है?

- Ans
- ✓ 1. 16 : 30 : 15
 - ✗ 2. 12 : 25 : 10
 - ✗ 3. 10 : 5 : 4
 - ✗ 4. 9 : 10 : 15

Question ID : 264330127746
 Status : Answered
 Chosen Option : 1

Q.10 नीचे दिए गए रेखा आलेख में 7 स्कूलों में लड़कियों की संख्या को दर्शाया गया है।

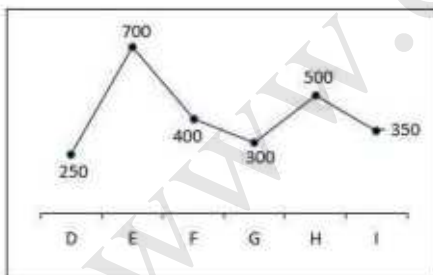


S1 में लड़कियों की संख्या S2 में लड़कियों की संख्या से कितने प्रतिशत कम है?

- Ans
- ✗ 1. 100 प्रतिशत
 - ✓ 2. 60 प्रतिशत
 - ✗ 3. 150 प्रतिशत
 - ✗ 4. 80 प्रतिशत

Question ID : 264330128087
 Status : Answered
 Chosen Option : 2

Q.11 नीचे दिए गए रेखा आलेख में एक कंपनी के 6 कर्मचारियों का वेतन दर्शाया गया है।



F के वेतन का H के वेतन से अनुपात कितना है?

- Ans
- ✗ 1. 5 : 6
 - ✗ 2. 3 : 2
 - ✗ 3. 5 : 4
 - ✓ 4. 4 : 5

Question ID : 264330128010
 Status : Answered
 Chosen Option : 4

Q.12 $\frac{1}{2} + \frac{3}{4} \div \frac{1}{3} + \frac{3}{4} \div \frac{1}{2} + \frac{1}{3}$
 $\frac{2}{3} \times \frac{4}{4} \div \frac{4}{2} \div \frac{2}{2} \div \frac{4}{4} \times \frac{1}{4}$ का मान क्या है?

- Ans
- ✓ 1. 126/5
 - ✗ 2. 116/5
 - ✗ 3. 49/8
 - ✗ 4. 89/6

Question ID : 264330127756
 Status : Answered
 Chosen Option : 1

Q.13 एक कार निर्धारित समय से 60 मिनट पहले निकल जाती है लेकिन 280 km दूर अपने गंतव्य तक समय पर पहुँचने के लिए उसे अपनी सामान्य चाल 14 km/hr धीमी करनी पड़ती है। कार की सामान्य चाल क्या है?

- Ans
- ✗ 1. 63 km/hr
 - ✓ 2. 70 km/hr
 - ✗ 3. 66 km/hr
 - ✗ 4. 77 km/hr

Question ID : 264330127740
 Status : Not Attempted and Marked For Review
 Chosen Option : --

Q.14 यदि 5A72B, 11 से भाज्य है, तो B - A का मान क्या है?

- Ans
- ✓ 1. 1
 - ✗ 2. 3
 - ✗ 3. 4
 - ✗ 4. 2

Question ID : 264330127855
 Status : Not Attempted and Marked For Review
 Chosen Option : --

Q.15 $\triangle DEF$ में, M और N क्रमशः DE और DF भुजाओं पर बिंदु हैं। MN, EF के समांतर है और $MN : EF = 2 : 5$ । यदि $DE = 60$ cm है, तो ME की लंबाई क्या है?

- Ans
- ✓ 1. 36 cm
 - ✗ 2. 24 cm
 - ✗ 3. 48 cm
 - ✗ 4. 54 cm

Question ID : 264330128100
 Status : Answered
 Chosen Option : 1

Q.16 यदि $K + \frac{1}{K} + 2 = 0$ और $K < 0$, तो $K^{17} + \frac{1}{K^{11}}$ का मान क्या है?

- Ans
- 1. -1
 - 2. -17
 - 3. 0
 - 4. -2

Question ID : 264330127752
Status : Answered
Chosen Option : 4

Q.17 X अकेले एक काम को 18 दिनों में पूरा कर सकता है और Y अकेला उसी काम को X द्वारा लिए गए समय के आधे समय में कर सकता है। एक साथ काम करते हुए वे एक दिन में उसी काम का कितना हिस्सा पूरा कर सकते हैं?

- Ans
- 1. 1/6
 - 2. 1/5
 - 3. 1/4
 - 4. 1/3

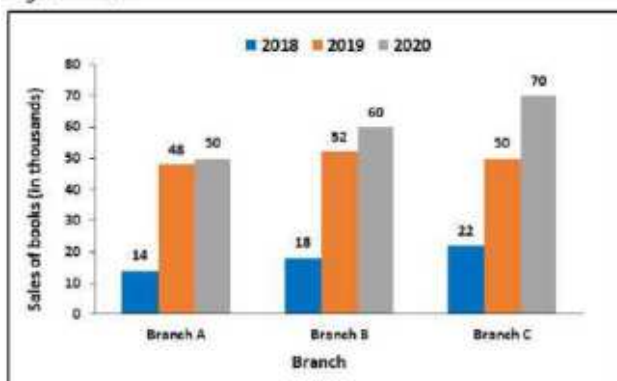
Question ID : 264330128289
Status : Answered
Chosen Option : 1

Q.18 $(1 + \tan \theta - \sec \theta)(1 + \cot \theta + \operatorname{cosec} \theta)$ का मान क्या है?

- Ans
- 1. 2
 - 2. 1
 - 3. 0
 - 4. -1

Question ID : 264330127758
Status : Answered
Chosen Option : 1

Q.19 निम्नलिखित दंड आलेख में किसी कंपनी की 3 शाखाओं द्वारा तीन क्रमागत वर्षों 2018, 2019 और 2020 में पुस्तकों की बिक्री (हजार में) (the sales of books in thousands) को दर्शाया गया है। वर्ष 2018 में शाखा A (branch A) की कुल बिक्री और वर्ष 2020 में शाखा C (branch C) की कुल बिक्री का अनुपात क्या है?



- Ans**
- 1. 4 : 3
 - 2. 1 : 5
 - 3. 1 : 1
 - 4. 5 : 1

Question ID : 264330128386
 Status : Answered
 Chosen Option : 2

Q.20 नीचे दी गई तालिका में पांच कंपनियों द्वारा किए गए बाइक और ट्रक के उत्पादन को दर्शाया गया है।

कंपनी	उत्पादन	
	बाइक	ट्रक
D	700	500
E	450	300
F	500	200
G	250	600
H	300	650

A1 = सभी 5 कंपनियों द्वारा किया गया बाइकों और ट्रकों के कुल उत्पादन के बीच का अंतर।
 A2 = कंपनी D, F और H द्वारा किया गया बाइक का औसत उत्पादन।
 (A2/A1) का मान क्या है?

- Ans**
- 1. 1
 - 2. 50
 - 3. 10
 - 4. 5

Question ID : 264330128313
 Status : Answered
 Chosen Option : 3

Q.21 $\sin^2 21 + \sin^2 69$ का मान क्या है?

- Ans**
- 1. 2
 - 2. 1
 - 3. 0.5
 - 4. 0

Question ID : 264330128282
 Status : Answered
 Chosen Option : 2

Q.22 एक समबाहु त्रिभुज की भुजा 12 cm है। इस समबाहु त्रिभुज के अंतःवृत्त की त्रिज्या क्या होगी?

- Ans
- 1. 4 cm
 - 2. 3 cm
 - 3. $2\sqrt{3}$ cm
 - 4. $4\sqrt{3}$ cm

Question ID : 264330127751

Status : Answered

Chosen Option : 3

Q.23 किसी वृत्त की परिधि पर एक जीवा AB द्वारा अंतरित कोण 90 डिग्री है। यदि जीवा AB की लंबाई 16 cm है, तो इस वृत्त की त्रिज्या कितनी होगी?

- Ans
- 1. 12 cm
 - 2. 10 cm
 - 3. 9 cm
 - 4. 8 cm

Question ID : 264330126471

Status : Answered

Chosen Option : 4

Q.24 राम Rs.3500 में दो घड़ियाँ खरीदता है। एक घड़ी को 25 प्रतिशत के लाभ पर और दूसरी को 10 प्रतिशत की हानि पर बेचकर वह पूरे लेन-देन में न तो लाभ अर्जित करता है और न ही हानि उठाता है। प्रत्येक घड़ी का क्रय मूल्य क्या है?

- Ans
- 1. Rs.1000 और Rs.2500
 - 2. Rs.1500 और Rs.2000
 - 3. Rs.1250 और Rs.2250
 - 4. Rs.1500 और Rs.1720

Question ID : 264330128070

Status : Answered

Chosen Option : 1

Q.25 दो समरूप वृत्त एक दूसरे को बाह्य बिंदु Z पर स्पर्श करते हैं। XY एक सीधी अभ्यन्तस्थ स्पर्श रेखा है, जो वृत्तों को क्रमशः X और Y पर स्पर्श करती है। $\angle XYZ$ का माप कितना है?

- Ans
- 1. 90 डिग्री
 - 2. 95 डिग्री
 - 3. 80 डिग्री
 - 4. 85 डिग्री

Question ID : 264330127749

Status : Answered

Chosen Option : 1

Section : General awareness

Q.1 कौन सी पंचवर्षीय योजना महालनोबिस के विचारों पर आधारित थी?

- Ans 1. द्वितीय पंचवर्षीय योजना
 2. प्रथम पंचवर्षीय योजना
 3. चतुर्थ पंचवर्षीय योजना
 4. तृतीय पंचवर्षीय योजना

Question ID : 264330124840
Status : Answered
Chosen Option : 1

Q.2 हड़प नीति/ विलय नीति (द डॉक्ट्रिन ऑफ लैप्स) के नाम से जानी जाने वाली नीति निम्नलिखित में से किसने अपनाई थी?

- Ans 1. लॉर्ड कॉर्नवालिस
 2. लॉर्ड मिंटो
 3. लॉर्ड हेस्टिंग्स
 4. लॉर्ड डलहौज़ी

Question ID : 264330124849
Status : Answered
Chosen Option : 4

Q.3 निम्नलिखित में से कौन सा/से कथन सही नहीं है/हैं?

- I. प्रति एकांक आयतन पर लगने वाला बल दाब कहलाता है।
II. द्रव बर्तनों की दीवारों पर दाब डाल सकते हैं।
III. किसी वस्तु पर लगने वाला बल उसकी गति की अवस्था में परिवर्तन कर सकता है लेकिन उसकी आकृति में नहीं।

- Ans 1. केवल III
 2. केवल I और III
 3. I, II और III
 4. केवल I और II

Question ID : 264330124844
Status : Answered
Chosen Option : 2

Q.4 निम्नलिखित में से कौन-सा एक आउटपुट डिवाइस नहीं है?

- Ans 1. मॉनिटर
 2. डॉट मैट्रिक्स प्रिंटर
 3. प्लॉटर
 4. बार कोड रीडर

Question ID : 264330125158
Status : Answered
Chosen Option : 4

Q.5 दक्षिण में छोटा अण्डमान, निकोबार द्वीप समूह से _____ द्वारा अलग होता है।

- Ans 1. 10 डिग्री चैनल
 2. 8 डिग्री चैनल
 3. 9 डिग्री चैनल
 4. 7 डिग्री चैनल

Question ID : 264330125595
Status : Not Answered
Chosen Option : --

Q.6 किस भारतीय भाला फेंक खिलाड़ी को डोपिंग के लिए 2022 में (2025 तक) निलंबित कर दिया गया था?

- Ans
- 1. शिवपाल सिंह
 - 2. देवेंद्र झाझरिया
 - 3. काशीनाथ नाईक
 - 4. नीरज चोपड़ा

Question ID : 264330125407
Status : Answered
Chosen Option : 1

Q.7 फील्ड मार्शल के पद पर पदोन्नत होने वाले पहले भारतीय सेना अधिकारी कौन थे?

- Ans
- 1. सैम मानेकशॉ
 - 2. विक्रम बत्रा
 - 3. के. एम. करियप्पा
 - 4. करम सिंह

Question ID : 264330125402
Status : Not Attempted and Marked For Review
Chosen Option : --

Q.8 आईसीसी (ICC) पुरुष क्रिकेट विश्व कप 2023 की मेज़बानी कौन-सा देश करेगा?

- Ans
- 1. वेस्टइंडीज
 - 2. ऑस्ट्रेलिया
 - 3. दक्षिण अफ्रीका
 - 4. भारत

Question ID : 264330125330
Status : Answered
Chosen Option : 4

Q.9 भारतीयों को हथियार रखने से रोकने वाला आर्म्स एक्ट किस वर्ष पारित किया गया था?

- Ans
- 1. 1878
 - 2. 1877
 - 3. 1876
 - 4. 1875

Question ID : 264330125175
Status : Not Attempted and Marked For Review
Chosen Option : --

Q.10 महानदी द्रोणी का विस्तार किस राज्य में नहीं है?

- Ans
- 1. कर्नाटक
 - 2. उड़ीसा
 - 3. छत्तीसगढ़
 - 4. झारखंड

Question ID : 264330125398
Status : Answered
Chosen Option : 1

Q.11 निम्नलिखित में से कौन-सा राज्य लॉजिस्टिक्स ईज अक्रॉस डिफरेंट स्टेट्स (लीड्स) 2022 में "अचीवर्स" राज्यों में प्रथम स्थान पर है?

- Ans
- 1. तमिलनाडु
 - 2. महाराष्ट्र
 - 3. आंध्र प्रदेश
 - 4. असम

Question ID : 264330125587
Status : Not Attempted and Marked For Review
Chosen Option : --

Q.12 28 जुलाई, 2022 को भारतीय नौसेना को कौनसा स्वदेशी विमानवाहक पोत सौंपा गया था?

- Ans
- 1. आईएनएस अरिहंत
 - 2. आईएनएस विक्रान्त
 - 3. आईएनएस विक्रमादित्य
 - 4. आईएनएस शिवाजी

Question ID : 264330125389
Status : Answered
Chosen Option : 2

Q.13 2020 टोक्यो ओलंपिक खेलों में भारत ने कितने स्वर्ण पदक जीते?

- Ans
- 1. 2
 - 2. 3
 - 3. 1
 - 4. 0

Question ID : 264330125105
Status : Answered
Chosen Option : 3

Q.14 निम्नलिखित में से किस शॉर्टकट कुंजी (की) का इस्तेमाल एमएस-वर्ड 365 में किसी फ़ाइल को सेव करने के लिए किया जाता है?

- Ans
- 1. Alt + F
 - 2. Alt + S
 - 3. Ctrl + S
 - 4. Ctrl + F

Question ID : 264330124834
Status : Answered
Chosen Option : 3

Q.15 निम्नलिखित में से किन तरीकों (प्रक्रमों) द्वारा ऊष्मा स्थानांतरण के लिए किसी माध्यम की आवश्यकता नहीं होती?

- Ans
- 1. विकिरण और चालन दोनों
 - 2. विकिरण
 - 3. चालन
 - 4. संवहन

Question ID : 264330124842
Status : Answered
Chosen Option : 4

Q.16 गुजरात यूनिवर्सिटी स्टार्टअप एंड एंटरप्रेन्योरशिप द्वारा लागू की गई herSTART नाम की पहल का शुभारंभ अक्टूबर 2022 में _____ द्वारा किया गया था।

- Ans
- 1. प्रधानमंत्री नरेंद्र मोदी
 - 2. राष्ट्रपति द्रौपदी मुर्मू
 - 3. रक्षामंत्री राजनाथ सिंह
 - 4. वित्तमंत्री निर्मला सीतारमण

Question ID : 264330125388
Status : Answered
Chosen Option : 4

Q.17 एक _____ खाता वह खाता है जिसका रख-रखाव एक भारतीय बैंक द्वारा विदेशों में लेनदेन करने के उद्देश्य से आमतौर पर उस देश की मुद्रा में किया जाता है।

- Ans
- 1. LIBOR (लिबोर)
 - 2. VOSTRO (वोस्ट्रो)
 - 3. NOSTRO (नोस्ट्रो)
 - 4. MIBOR (मिबोर)

Question ID : 264330125391
Status : Not Attempted and Marked For Review
Chosen Option : --

Q.18 _____ भारत में 2019-20 के दौरान कुल उत्पादन का 33% मैंगनीज़ अयस्क का अग्रणी उत्पादक राज्य था।

- Ans
- 1. मध्य प्रदेश
 - 2. ओडिशा
 - 3. महाराष्ट्र
 - 4. कर्नाटक

Question ID : 264330124971
Status : Not Answered
Chosen Option : --

Q.19 निम्नलिखित में से किस फिल्म के लिए अक्षय कुमार ने राष्ट्रीय पुरस्कार जीता है?

- Ans
- 1. रुस्तम
 - 2. मिशन मंगल
 - 3. रक्षाबंधन
 - 4. बेल बॉटम

Question ID : 264330124976
Status : Answered
Chosen Option : 2

Q.20 लिंगराज मंदिर भारत के निम्नलिखित में से किस राज्य में स्थित है?

- Ans
- 1. तमिलनाडु
 - 2. कर्नाटक
 - 3. ओडिशा
 - 4. महाराष्ट्र

Question ID : 264330124810
Status : Answered
Chosen Option : 3

Q.21 उत्तरी गोलार्द्ध के उच्च अक्षांशों (50°-70°) में शानदार शंकुधारी वन पाए जाते हैं। इन्हें _____ भी कहा जाता है।

- Ans
- 1. लानोज (Llanos)
 - 2. वॅल्ड (Veld)
 - 3. टुंड्रा (Tundra)
 - 4. टैगा (Taiga)

Question ID : 264330125172
Status : Answered
Chosen Option : 3

Q.22 भारतीय संविधान की प्रस्तावना _____ के संविधान से ली गई है।

- Ans
- 1. कनाडा
 - 2. ब्रिटेन
 - 3. संयुक्त राज्य अमेरिका (यूनाइटेड स्टेट्स ऑफ अमेरिका)
 - 4. यूएसएसआर (वर्तमान रूस)

Question ID : 264330124854
Status : Answered
Chosen Option : 1

Q.23 निम्नलिखित में से कौन सा रोग मच्छर के काटने से नहीं होता है?

- Ans
- 1. हेपेटाइटिस
 - 2. मलेरिया
 - 3. फ़ीलपाँव
 - 4. डेंगू

Question ID : 264330125393
Status : Answered
Chosen Option : 1

Q.24 धुस्का, _____ राज्य का सबसे लोकप्रिय खाद्य पदार्थ है।

- Ans
- 1. झारखंड
 - 2. केरल
 - 3. आंध्रप्रदेश
 - 4. पंजाब

Question ID : 264330125461
Status : Not Attempted and Marked For Review
Chosen Option : --

Q.25 भारतीय संविधान का 42वां संशोधन अधिनियम, 1976 ने संविधान की प्रस्तावना में निम्नलिखित में से किसे शामिल किया है?

- Ans
- 1. लोकतंत्रात्मक (Democratic)
 - 2. गणराज्य (Republic)
 - 3. पंथनिरपेक्ष (Secular)
 - 4. संपूर्ण प्रभुत्व-संपन्न (Sovereign)

Question ID : 264330125178
Status : Answered
Chosen Option : 3

Combined Higher Secondary Level Examination Tier I 2022

Roll Number	
Candidate Name	
Venue Name	
Exam Date	09/03/2023
Exam Time	5:15 PM - 6:15 PM
Subject	CHSL Exam 2022 Tier I

Section : **English Language**

Q.1 Choose the word that is opposite in meaning to the given word.
Knack

- Ans
- 1. Vile
 - 2. Lesson
 - 3. Process
 - 4. Inability

Question ID : 264330124642
Status : Not Answered
Chosen Option : --

Q.2 Improve the underlined part of the sentence. Choose 'No improvement' as an answer if the sentence is grammatically correct.

The medieval knight was knew for his horsemanship.

- Ans
- 1. was known
 - 2. were known
 - 3. was knows
 - 4. No improvement

Question ID : 264330124587
Status : Answered
Chosen Option : 1

Q.3 Improve the underlined part of the sentence. Choose 'No improvement' as an answer if the sentence is grammatically correct.

He sharpened his pencil, but the lead broken as soon as he started writing.

- Ans
- 1. led break
 - 2. lead breaking
 - 3. lead broke
 - 4. No improvement

Question ID : 264330124068
Status : Answered
Chosen Option : 3

Q.4 Fill in the blank with an appropriate option.

The U.S. has military _____ in many Middle Eastern countries.

- Ans
- 1. townies
 - 2. forces
 - 3. denizens
 - 4. personal

Question ID : 264330124470
Status : Answered
Chosen Option : 2

Q.5 Select the correct indirect form of the given sentence.
He said, "I will never hurt you."

- Ans**
- 1. He said he should never hurt me.
 - 2. He said that he will never hurt me.
 - 3. He says that he will never hurt me.
 - 4. He said that he would never hurt me.

Question ID : 264330124212
Status : Answered
Chosen Option : 4

Q.6 Find the part of the given sentence that has an error in it. If there is no error, choose 'No error'.
Plastic debris in the ocean can become coated with algae and other marine microbes that produces a chemical scent.

- Ans**
- 1. No error
 - 2. marine microbes that produces a chemical scent.
 - 3. coated with algae and other
 - 4. Plastic debris in the ocean can become

Question ID : 264330124240
Status : Answered
Chosen Option : 4

Q.7 Find the part of the given sentence that has an error in it. If there is no error, choose 'No error'.
No doubt, human minds are good on predicting the worst.

- Ans**
- 1. No doubt, human minds
 - 2. are good on
 - 3. predicting the worst.
 - 4. No error

Question ID : 264330124213
Status : Answered
Chosen Option : 2

Q.8 Fill in the blank with an appropriate option.
Wash, rinse and drain water from quinoa and _____.

- Ans**
- 1. set off
 - 2. set aside
 - 3. set in
 - 4. set upon

Question ID : 264330124080
Status : Answered
Chosen Option : 2

Q.9 Choose the sentence with no spelling error.

- Ans**
- 1. I take this issue vary seriously.
 - 2. I take this issue very serisly.
 - 3. I take this issue very seriously.
 - 4. I take this issue very seriously.

Question ID : 264330124230
Status : Answered
Chosen Option : 3

Q.10 Select the correct passive form of the given sentence.
The maid washes the windows every week.

- Ans**
- 1. The windows were washed every week by the maid.
 - 2. The windows are washed every week by the maid.
 - 3. The windows was washed every week by the maid.
 - 4. The windows are wash every week by the maid.

Question ID : 264330124237
Status : Answered
Chosen Option : 2

Q.11 Choose the word that is opposite in meaning to the given word.
Anomalous

- Ans**
- 1. Outlandish
 - 2. Customary
 - 3. Endemic
 - 4. Alien

Question ID : 264330124122
Status : Answered
Chosen Option : 2

Q.12 Rearrange the parts of the sentence in correct order.
P. plastics, and not available in sufficient quantities in India
Q. rather one for specific, targeted applications as a majority of
R. compostable plastics are more expensive than conventional
S. compostable plastic packaging is not a blanket solution, but

- Ans**
- 1. RPQS
 - 2. SRPQ
 - 3. PQRS
 - 4. SQRP

Question ID : 264330124222
Status : Answered
Chosen Option : 4

Q.13 In the following question, out of the given four alternatives, select the alternative which best expresses the meaning of the Idiom/Phrase.
To shake in one's shoes

- Ans**
- 1. To be afraid
 - 2. An unpleasant scenario
 - 3. To leave no remark
 - 4. To fail to understand

Question ID : 264330124254
Status : Answered
Chosen Option : 1

Q.14 Improve the underlined part of the sentence. Choose 'No improvement' as an answer if the sentence is grammatically correct.

The Blue House is practising it's songs for the competition.

- Ans**
- 1. practised it's
 - 2. practise its
 - 3. No improvement
 - 4. practising its

Question ID : 264330124354
Status : Answered
Chosen Option : 4

Q.15 In the following question, out of the given four alternatives, select the alternative which best expresses the meaning of the Idiom/Phrase.

A fish out of water

- Ans**
- 1. A person out of accustomed environment
 - 2. To kill somebody
 - 3. To criticize someone
 - 4. A dead person

Question ID : 264330124227
Status : Answered
Chosen Option : 1

Q.16 Choose the word that is opposite in meaning to the given word.
Nadir

- Ans**
- 1. Bottom
 - 2. Base
 - 3. Docile
 - 4. Climax

Question ID : 264330124355
Status : Answered
Chosen Option : 4

Q.17 Choose the word that means the same as the given word.
Ridicule

- Ans**
- 1. Pathology
 - 2. Derision
 - 3. Resolute
 - 4. Derivation

Question ID : 264330124233
Status : Answered
Chosen Option : 2

Q.18 Some parts of one or more sentences have been jumbled up, and labelled A, B, C and D. Select the option that gives the correct sequence in which these parts can be rearranged to form a meaningful and grammatically correct sentence.

- Nurses, unlike physicians, have
A. been slow to adopt these technologies
B. and the reasons for this may relate to the status
C. of both these professions
D. within the hospital setting

- Ans** 1. DBAC
 2. ABCD
 3. CDBA
 4. BCDA

Question ID : 264330125769
 Status : Answered
 Chosen Option : 2

Q.19 Select the option that will improve the (bracketed) part of the sentence. In case of no improvement select the option 'No improvement'.
 When you ride a horse, (you sat on it and control it's) movements.

- Ans** 1. you seated on it and control it's
 2. you sit on it and afterwards control it's
 3. you sit on it and control its
 4. No improvement

Question ID : 264330125824
 Status : Answered
 Chosen Option : 3

Q.20 Choose the incorrectly spelt word.

- Ans** 1. Agravate
 2. Cramp
 3. Stamp
 4. Damp

Question ID : 264330124229
 Status : Answered
 Chosen Option : 1

Comprehension:

In the following passage some of the words have been deleted. Read the passage carefully and select the correct answer for the given blank out of the four alternatives.

I have always been bad at journaling. All my childhood diaries include major gaps: In one (1) _____, I am 8, visiting my aunt. In the very (2) _____, I have experienced puberty and have a crush on Mohit, the kid (3) _____ sits behind me in biology. Today, my journal and I are something like estranged acquaintances, who check in every now and then just to keep in (4) _____, without really understanding why. Yep, we say to each other in passing, everything's good. Hope all is (5) _____ with you!

SubQuestion No : 21

Q.21 Select the most appropriate option to fill in blank number 1.

- Ans** 1. entry
 2. section
 3. passing
 4. terms

Question ID : 264330124216
 Status : Answered
 Chosen Option : 2

Comprehension:

In the following passage some of the words have been deleted. Read the passage carefully and select the correct answer for the given blank out of the four alternatives.

I have always been bad at journaling. All my childhood diaries include major gaps: In one (1) _____, I am 8, visiting my aunt. In the very (2) _____, I have experienced puberty and have a crush on Mohit, the kid (3) _____ sits behind me in biology. Today, my journal and I are something like estranged acquaintances, who check in every now and then just to keep in (4) _____, without really understanding why. Yep, we say to each other in passing, everything's good. Hope all is (5) _____ with you!

SubQuestion No : 22**Q.22 Select the most appropriate option to fill in blank number 2.**

- Ans 1. over
 2. earlier
 3. next
 4. former

Question ID : 264330124217
 Status : Answered
 Chosen Option : 2

Comprehension:

In the following passage some of the words have been deleted. Read the passage carefully and select the correct answer for the given blank out of the four alternatives.

I have always been bad at journaling. All my childhood diaries include major gaps: In one (1) _____, I am 8, visiting my aunt. In the very (2) _____, I have experienced puberty and have a crush on Mohit, the kid (3) _____ sits behind me in biology. Today, my journal and I are something like estranged acquaintances, who check in every now and then just to keep in (4) _____, without really understanding why. Yep, we say to each other in passing, everything's good. Hope all is (5) _____ with you!

SubQuestion No : 23**Q.23 Select the most appropriate option to fill in blank number 3.**

- Ans 1. who
 2. whom
 3. which
 4. whose

Question ID : 264330124218
 Status : Answered
 Chosen Option : 1

Comprehension:

In the following passage some of the words have been deleted. Read the passage carefully and select the correct answer for the given blank out of the four alternatives.

I have always been bad at journaling. All my childhood diaries include major gaps: In one (1) _____, I am 8, visiting my aunt. In the very (2) _____, I have experienced puberty and have a crush on Mohit, the kid (3) _____ sits behind me in biology. Today, my journal and I are something like estranged acquaintances, who check in every now and then just to keep in (4) _____, without really understanding why. Yep, we say to each other in passing, everything's good. Hope all is (5) _____ with you!

SubQuestion No : 24**Q.24 Select the most appropriate option to fill in blank number 4.**

- Ans 1. touch
 2. vision
 3. taste
 4. glory

Question ID : 264330124219
 Status : Answered
 Chosen Option : 1

Comprehension:

In the following passage some of the words have been deleted. Read the passage carefully and select the correct answer for the given blank out of the four alternatives.

I have always been bad at journaling. All my childhood diaries include major gaps: In one (1) _____, I am 8, visiting my aunt. In the very (2) _____, I have experienced puberty and have a crush on Mohit, the kid (3) _____ sits behind me in biology. Today, my journal and I are something like estranged acquaintances, who check in every now and then just to keep in (4) _____, without really understanding why. Yep, we say to each other in passing, everything's good. Hope all is (5) _____ with you!

SubQuestion No : 25

Q.25 Select the most appropriate option to fill in blank number 5.

- Ans** 1. mild
 2. virtuous
 3. bling
 4. well

Question ID : 264330124220

Status : Answered

Chosen Option : 4

Section : General Intelligence

Q.1 नीचे दिए गए प्रश्न में कुछ कथन दिए गए हैं और उन कथनों के आधार पर कुछ निष्कर्ष दिए गए हैं। आपको मानना है कि दिए गए कथन सत्य हैं चाहे वे समान्यतः ज्ञात तथ्यों से अलग प्रतीत होते हों। सभी निष्कर्षों को पढ़िए और फिर निश्चय कीजिए कि दिए गए निष्कर्षों में से कौन-सा निष्कर्ष तार्किक रूप से दिए गए कथनों के अनुसार है।

कथन:

I. कुछ F, T हैं।

II कुछ T, P हैं।

निष्कर्ष:

I. कुछ P, T हैं।

II कोई F, T नहीं है।

III कोई P, F नहीं है।

- Ans** 1. सभी निष्कर्ष कथनों के अनुसार है
 2. केवल निष्कर्ष I कथनों के अनुसार है
 3. केवल निष्कर्ष II कथनों के अनुसार है
 4. केवल निष्कर्ष III कथनों के अनुसार है

Question ID : 264330126906

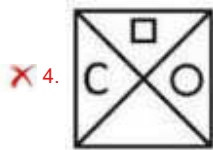
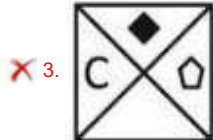
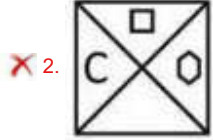
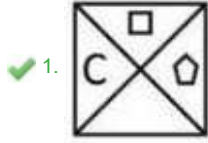
Status : Answered

Chosen Option : 2

Q.2 दिए गए विकल्पों में से उस आकृति को चुनिए जो निम्नलिखित श्रृंखला में प्रश्न चिह्न (?)के स्थान पर आ सकती है।



Ans



Question ID : 264330126908

Status : Answered

Chosen Option : 2

Q.3 उस विकल्प को चुनिए जिसमें समुच्चय की संख्याएँ वही संबंध साझा करती हैं जो दिए गए समुच्चय में संख्याओं द्वारा साझा किया जाता है। (ध्यान दें: संख्याओं को उनके घटक अंकों में अलग अलग किए बिना, पूर्ण संख्याओं पर संक्रियाएँ की जानी चाहिए। उदा. 13 - 13 पर संक्रियाएँ जैसे 13 को जोड़ना /घटाना /गुणा करना आदि किया जा सकता है। 13 को 1 एवं 3 में अलग करने की और फिर 1 एवं 3 पर गणितीय संक्रियाएँ करने की अनुमति नहीं है)
(39, 78, 81)
(42, 84, 87)


- Ans
- ✗ 1. (60, 120, 124)
 - ✗ 2. (21, 42, 49)
 - ✗ 3. (43, 86, 95)
 - ✓ 4. (84, 168, 171)

Question ID : 264330127292

Status : Answered

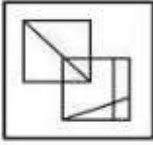
Chosen Option : 4

Q.4 उस विकल्प आकृति को चुनिए जिसमें दी गई आकृति निहित है। (घूर्णन की अनुमति नहीं है)



Ans

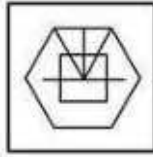
✗ 1.



✗ 2.



✓ 3.



✗ 4.



Question ID : 264330127510
Status : Answered
Chosen Option : 3

Q.5 निम्नलिखित प्रश्न में, दिए गए विकल्पों में से अलग शब्द युग्म को चुनिए।

Ans

✗ 1. वृत्त – आकृति

✗ 2. पेंसिल – लेखन सामग्री

✓ 3. जानवर – बिल्ली

✗ 4. ट्रक – वाहन

Question ID : 264330126930
Status : Answered
Chosen Option : 3

Q.6 (::) के बायीं ओर दिए गए शब्द किसी तर्क/नियम/संबंध के आधार पर एक-दूसरे से संबंधित हैं। समान तर्क/नियम/संबंध के आधार पर दिए गए विकल्पों में से (::) के दायीं ओर लुप्त शब्द/शब्द युग्म को चुनिए।
दीवार : ईट :: बोरी : ?

Ans

✗ 1. भूरा

✗ 2. मोटा

✓ 3. जूट

✗ 4. चूहा

Question ID : 264330126373
Status : Answered
Chosen Option : 3

Q.7 किसी एक खास कूट भाषा में, 'BOWLER' को 'TFNXQC' लिखा जाता है। उस कूट भाषा में 'BOWMAN' को क्या लिखा जाएगा?

- Ans
- 1. PBOXCQ
 - 2. PBXOOB
 - 3. PBOXCC
 - 4. PBOXQC

Question ID : 264330126897
Status : Answered
Chosen Option : 4

Q.8 दिए गए दो चिन्हों को आपस में बदलने पर निम्नलिखित में से कौन सा समीकरण सही होगा?
+ and -

- I. $11 - 16 \times 3 \div 4 + 12 = 11$
II. $15 \times 3 - 45 \div 5 + 30 = 28$

- Ans
- 1. I और II दोनों
 - 2. न तो I और न ही II
 - 3. केवल I
 - 4. केवल II

Question ID : 264330126790
Status : Answered
Chosen Option : 3

Q.9 एक महिला की फोटो की ओर इशारा करते हुए प्रिया ने कहा, "वह मेरे भाई के इकलौते बेटे की मां है"। वह महिला प्रिया से कैसे संबंधित है?

- Ans
- 1. भाभी
 - 2. बहन
 - 3. बहू
 - 4. माँ

Question ID : 264330126902
Status : Answered
Chosen Option : 1

Q.10 (::) के बायीं ओर दिए गए शब्द एक-दूसरे से किसी तर्क/नियम/संबंध से संबंधित हैं। उसी तर्क/नियम/संबंध के आधार पर दिए गए विकल्पों में से (::) के दाईं ओर लुप्त शब्द/शब्द युग्म को चुनिए।
येन : जापान ::?

- Ans
- 1. लीरा: तुर्की
 - 2. बाहट: बांग्लादेश
 - 3. दिनार: ग्रीस
 - 4. युआन: अर्जेंटीना

Question ID : 264330126803
Status : Answered
Chosen Option : 1

Q.11 निम्नलिखित प्रश्न में चार संख्या युग्म दिए गए हैं। प्रत्येक युग्म में (-) के बायीं ओर की संख्या (-) के दायीं ओर की संख्या से किसी तर्क/नियम/संबंध से संबंधित है। समान तर्क/नियम/संबंध के आधार पर तीन युग्म समान हैं। दिए गए विकल्पों में से अलग युग्म को चुनिए।
(ध्यान दें: संख्याओं को उनके घटक अंकों में अलग अलग किए बिना, पूर्ण संख्याओं पर संक्रियाएँ की जानी चाहिए।
उदा. 13 - 13 पर संक्रियाएँ जैसे 13 को जोड़ना / घटाना / गुणा करना आदि किया जा सकता है। 13 को 1 एवं 3 में अलग करने की और फिर 1 एवं 3 पर गणितीय संक्रियाएँ करने की अनुमति नहीं है)

- Ans
- 1. 20 - 18
 - 2. 15 - 13
 - 3. 14 - 12
 - 4. 25 - 19

Question ID : 264330126795
Status : Answered
Chosen Option : 4

Q.12 उस विकल्प को चुनिए जिसमें समुच्चय की संख्याएँ वही संबंध साझा करती हैं जो दिए गए समुच्चय में संख्याओं द्वारा साझा किया जाता है। (ध्यान दें: संख्याओं को उनके घटक अंकों में अलग अलग किए बिना, पूर्ण संख्याओं पर संक्रियाएँ की जानी चाहिए। उदा. 13 - 13 पर संक्रियाएँ जैसे 13 को जोड़ना / घटाना / गुणा करना आदि किया जा सकता है। 13 को 1 एवं 3 में अलग करने की और फिर 1 एवं 3 पर गणितीय संक्रियाएँ करने की अनुमति नहीं है)
(18, 69, 279)
(12, 45, 183)

- Ans
- 1. (14, 39, 159)
 - 2. (22, 85, 345)
 - 3. (32, 125, 503)
 - 4. (16, 67, 265)

Question ID : 264330126893
Status : Answered
Chosen Option : 3

Q.13 किसी एक खास भाषा में, 'FAMILY * LONG' को '24' लिखा जाता है, 'COUPLE * THE' को '18' लिखा जाता है। उसी कूट भाषा में 'OVER * HOSPITAL' को क्या लिखा जाएगा?

- Ans
- 1. 18
 - 2. 20
 - 3. 32
 - 4. 6

Question ID : 264330126898
Status : Answered
Chosen Option : 3

Q.14 एक श्रृंखला दी गई है जिसमें एक पद लुप्त है। दिए गए विकल्पों में से वह सही विकल्प चुनिए जो श्रृंखला को पूरा करे।
PQRS, VNZR, BKHQ, HHPP, ?

- Ans
- 1. NEXO
 - 2. PQRT
 - 3. NEYO
 - 4. NQXO

Question ID : 264330126901
Status : Answered
Chosen Option : 1

Q.15 उस विकल्प आकृति को चुनिए जिसमें दी गई आकृति निहित है। (घूर्णन की अनुमति नहीं है)

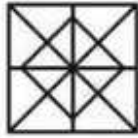


Ans

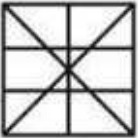
✗ 1.



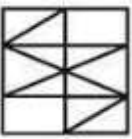
✓ 2.



✗ 3.

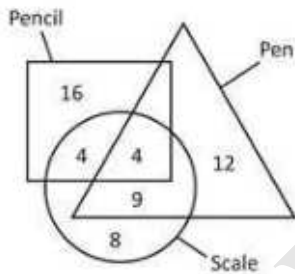


✗ 4.



Question ID : 264330127285
 Status : Answered
 Chosen Option : 2

Q.16 दिए गए आरेख में, कितनी पेन हैं ?



Pencil - पेंसिल, pen - पेन, Scale - स्केल

Ans

✗ 1. 20

✓ 2. 25

✗ 3. 21

✗ 4. 16

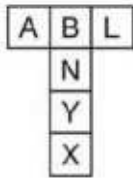
Question ID : 264330127038
 Status : Answered
 Chosen Option : 2

Q.17 निम्नलिखित प्रश्न में दिए गए विकल्पों में से अलग अक्षर/अक्षरों को चुनिए।

- Ans 1. UVTX
 2. PQOR
 3. ZAYB
 4. FGEH

Question ID : 264330126904
 Status : Answered
 Chosen Option : 1

Q.18 दिए गए कागज को मोड़कर, निम्नलिखित में से कौन सा बक्सा नहीं बनाया जा सकता है?



- Ans 1. 2. 3. 4.

Question ID : 264330126757
 Status : Answered
 Chosen Option : 4

Q.19 नीचे एक पासे की तीन स्थितियाँ दी गई हैं। '4' वाले फलक के विपरीत फलक पर क्या आएगा ?



- Ans 1. 6
 2. 5
 3. R
 4. M

Question ID : 264330127007
 Status : Answered
 Chosen Option : 4

Q.20 यदि $8 \# 6 = 28$ और $7 \# 4 = 22$, तो $9 \# 3 = ?$

- Ans
- 1. 4
 - 2. 24
 - 3. 8
 - 4. 10

Question ID : 264330126376
Status : Answered
Chosen Option : 2

Q.21 निम्नलिखित प्रश्न में, दी गई श्रृंखला में से लुप्त संख्या को चुनिए।
17, 27, 37, 47, 57, 67, ?

- Ans
- 1. 117
 - 2. 107
 - 3. 127
 - 4. 77

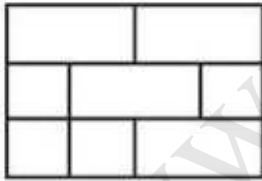
Question ID : 264330126374
Status : Answered
Chosen Option : 4

Q.22 (::) के बायीं ओर दिए गए शब्द एक-दूसरे से किसी तर्क/नियम/संबंध से संबंधित हैं। उसी तर्क/नियम/संबंध के आधार पर दिए गए विकल्पों में से (::) के दाईं ओर लुप्त शब्द/शब्द युग्म को चुनिए।
नायरोबी : केन्या :: ओस्लो : ?

- Ans
- 1. नॉर्वे
 - 2. थायलैंड
 - 3. डेन्मार्क
 - 4. क्यूबा

Question ID : 264330127300
Status : Answered
Chosen Option : 1

Q.23 दी गई आकृति में कितने चतुर्भुज हैं ?



- Ans
- 1. 20
 - 2. 17
 - 3. 19
 - 4. 18

Question ID : 264330127034
Status : Answered
Chosen Option : 2

Q.24 उस विकल्प को चुनिए जो तीसरी संख्या से ठीक उसी तरह संबंधित है जिस तरह पहली संख्या दूसरी संख्या से संबंधित है और पाँचवीं संख्या छठी संख्या से संबंधित है।
38 : 78 :: 102 : ? :: 46 : 94

- Ans
- 1. 204
 - 2. 202
 - 3. 214
 - 4. 206

Question ID : 264330127016
Status : Answered
Chosen Option : 4

Q.25 उस सही विकल्प को चुनिए जो दिए गए शब्दों की व्यवस्था को तार्किक और सार्थक क्रम में दिखाता हो।

1. बीमारी
2. दवाई की दूकान
3. चिकित्सक
4. दवा
5. परामर्श

- Ans
- 1. 5,3,1,2,4
 - 2. 3,5,1,2,4
 - 3. 2,3,5,1,4
 - 4. 1,3,5,2,4

Question ID : 264330126921
Status : Answered
Chosen Option : 4

Section : Quantitative Aptitude

Q.1 किसी ΔRST में, भुजा ST पर Z एक बिंदु है और $SZ = ZT$ है। यदि $\angle RZS = 90^\circ$ डिग्री और $RS = 10$ cm है, तो RT का मान क्या है?

- Ans
- 1. 10 cm
 - 2. 8 cm
 - 3. 12 cm
 - 4. 15 cm

Question ID : 264330128175
Status : Answered
Chosen Option : 1

Q.2 9 क्रमबद्ध विषम संख्याओं का औसत 27 है। यदि इन 9 विषम संख्याओं की पिछली और अगली विषम संख्या को भी शामिल कर लिया जाए, तो नया औसत क्या होगा?

- Ans
- 1. 28
 - 2. 29
 - 3. 32
 - 4. 27

Question ID : 264330127892
Status : Answered
Chosen Option : 4

Q.3 यदि $A = \frac{36+18 \times 5}{36+(3 \times 4)}$ और $B = \frac{5+15 \times 5+6 \times 2-5}{15+5 \times 25-2 \times 3+6}$, तो $(A + B)$ का मान क्या है?

- Ans
- ✓ 1. 776/225
 - ✗ 2. 401/225
 - ✗ 3. 772/225
 - ✗ 4. 424/225

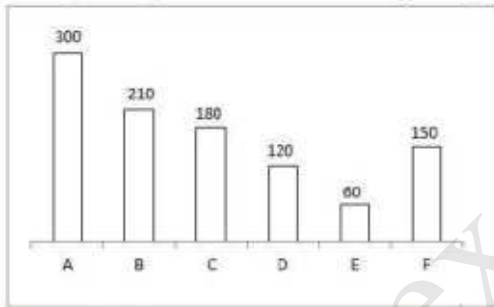
Question ID : 264330127906
Status : Answered
Chosen Option : 1

Q.4 एक जीवा CD द्वारा एक वृत्त के केंद्र पर अंतरित कोण 180 डिग्री है। यदि इस वृत्त की त्रिज्या 14 cm है, तो जीवा CD की लंबाई कितनी होगी?

- Ans
- ✗ 1. 24 cm
 - ✗ 2. 21 cm
 - ✓ 3. 28 cm
 - ✗ 4. 32 cm

Question ID : 264330126495
Status : Answered
Chosen Option : 3

Q.5 नीचे दिए गए दंड आलेख में 6 कंपनियों द्वारा रेफ्रिजरेटर के उत्पादन को दर्शाया गया है।



A द्वारा रेफ्रिजरेटर का उत्पादन, E द्वारा रेफ्रिजरेटर के उत्पादन का कितना प्रतिशत है?

- Ans
- ✗ 1. 600 प्रतिशत
 - ✗ 2. 200 प्रतिशत
 - ✗ 3. 400 प्रतिशत
 - ✓ 4. 500 प्रतिशत

Question ID : 264330128037
Status : Answered
Chosen Option : 4

Q.6 नीचे दी गई तालिका में दो कंपनियों की 5 वर्षों की बिक्री को दर्शाया गया है।

वर्ष	कंपनियाँ	
	A	B
P	350	1150
Q	550	850
R	750	950
S	650	350
T	450	250

L1 = सभी वर्षों में A और B की कुल बिक्री के बीच का अंतर।

L2 = सभी वर्षों में A की औसत बिक्री का मूल्य।

(L1 : L2) का मान क्या है?

- Ans
- ✓ 1. 16 : 11
 - ✗ 2. 13 : 12
 - ✗ 3. 11 : 16
 - ✗ 4. 11 : 17

Question ID : 264330127811

Status : Answered

Chosen Option : 1

Q.7 एक पुस्तक को अंकित मूल्य के $\frac{8}{15}$ भाग पर बेचने पर 20 प्रतिशत की हानि होती है। पुस्तक के अंकित मूल्य और क्रय मूल्य का अनुपात क्या होगा?

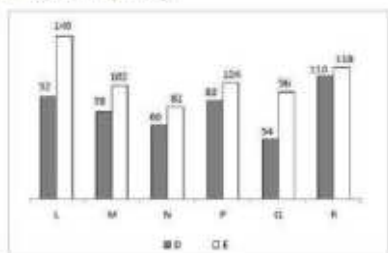
- Ans
- ✓ 1. 3 : 2
 - ✗ 2. 5 : 2
 - ✗ 3. 5 : 3
 - ✗ 4. 6 : 5

Question ID : 264330128018

Status : Answered

Chosen Option : 1

Q.8 नीचे दिया गया दंड आलेख छः अलग-अलग स्कूलों L, M, N, P, Q और R में दो खेलों में भाग लेने वाले खिलाड़ियों की संख्या को दर्शाता है।



सभी स्कूलों से खेल D में भाग लेने वाले खिलाड़ियों की कुल संख्या, सभी स्कूलों से खेल E में भाग लेने वाले खिलाड़ियों की कुल संख्या का कितना प्रतिशत है?

- Ans
- 1. 99.68 प्रतिशत
 - 2. 75.3 प्रतिशत
 - 3. 132.78 प्रतिशत
 - 4. 142.56 प्रतिशत

Question ID : 264330128361
 Status : Answered
 Chosen Option : 2

Q.9 $\triangle XYZ$ में, $\angle Y = 90$ डिग्री और YN, XZ के लंबवत है। यदि XY = 30 cm और XZ = 34 cm, तो YN का मान क्या है?

- Ans
- 1. $(220/17)$ cm
 - 2. $(210/17)$ cm
 - 3. $(280/17)$ cm
 - 4. $(240/17)$ cm

Question ID : 264330127901
 Status : Answered
 Chosen Option : 4

Q.10 यदि $572X41$, 9 से भाज्य है, तो X का मान क्या है?

- Ans
- 1. 2
 - 2. 8
 - 3. 4
 - 4. 6

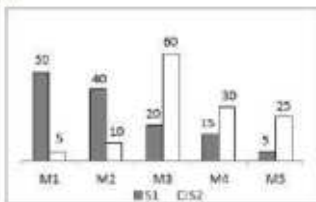
Question ID : 264330127805
 Status : Answered
 Chosen Option : 2

Q.11 एक धनराशि पर 2 वर्षों के लिए चक्रवृद्धि ब्याज (वार्षिक रूप से संयोजित) Rs. 4180 है। यदि वार्षिक ब्याज दर 20 प्रतिशत है, तो धनराशि कितनी है?

- Ans
- ✓ 1. Rs. 9500
 - ✗ 2. Rs. 8800
 - ✗ 3. Rs. 9800
 - ✗ 4. Rs. 8500

Question ID : 264330127922
 Status : Answered
 Chosen Option : 3

Q.12 नीचे दिया गया छंड आलेख 5 महीनों में दो दुकानदारों S1 और S2 द्वारा बेची गई पुस्तकों की संख्याओं को दर्शाता है।



J1 = सभी 5 महीनों में S1 और S2 द्वारा बेची गई पुस्तकों की कुल संख्या।

J2 = सभी 5 महीनों में S1 द्वारा बेची गई पुस्तकों की कुल संख्या और सभी 5 महीनों में S2 द्वारा बेची गई पुस्तकों की कुल संख्या के बीच का अंतर।

(J1 + J2) का मान क्या है?

- Ans
- ✗ 1. 130
 - ✗ 2. 200
 - ✗ 3. 160
 - ✓ 4. 260

Question ID : 264330127938
 Status : Answered
 Chosen Option : 4

Q.13 दो ट्रेनें, एक 125 m और दूसरी 375 m सभी समानांतर पटरियों पर विपरीत दिशाओं में क्रमशः 81 km/hr और 63 km/hr की गति से चल कर रही हैं। उन्हें एक दूसरे को पार करने में कितना समय लगेगा?

- Ans
- ✓ 1. 12.5 सेकंड
 - ✗ 2. 25 सेकंड
 - ✗ 3. 22.5 सेकंड
 - ✗ 4. 15 सेकंड

Question ID : 264330127890
 Status : Answered
 Chosen Option : 1

Q.14 यदि एक घन का कुल पृष्ठीय क्षेत्रफल 384 cm^2 है, तो घन का आयतन क्या है?

- Ans
- 1. 512 cm^3
 - 2. 729 cm^3
 - 3. 1728 cm^3
 - 4. 1331 cm^3

Question ID : 264330127891
Status : Answered
Chosen Option : 1

Q.15 तीन संख्याएँ 2 : 3 : 5 के अनुपात में हैं। यदि सबसे बड़ी और सबसे छोटी संख्या का योग 9800 है, तो सबसे बड़ी और सबसे छोटी संख्या में अंतर क्या है?

- Ans
- 1. 2400
 - 2. 3300
 - 3. 4200
 - 4. 3600

Question ID : 264330127896
Status : Answered
Chosen Option : 3

Q.16 एक संख्या को क्रमिक रूप से 20 प्रतिशत और 30 प्रतिशत बढ़ाने के स्थान पर, इसे 22 प्रतिशत घटा दिया जाता है। परिणामी मूल्य आवश्यक सही मूल्य का कितना प्रतिशत है?

- Ans
- 1. 55 प्रतिशत
 - 2. 50 प्रतिशत
 - 3. 48 प्रतिशत
 - 4. 60 प्रतिशत

Question ID : 264330127894
Status : Answered
Chosen Option : 2

Q.17 दो संकेंद्रित वृत्तों की भिन्नार्ध $x \text{ cm}$ और 26 cm हैं। P और S बड़े वृत्त पर बिंदु हैं और Q और R छोटे वृत्त पर बिंदु हैं। यदि PQRS एक सीधी रेखा है और $QR = 40 \text{ cm}$ और $PS = 48 \text{ cm}$ है, तो x का मान क्या है? ($x < 26 \text{ cm}$)

- Ans
- 1. $12\sqrt{5} \text{ cm}$
 - 2. $10\sqrt{5} \text{ cm}$
 - 3. $9\sqrt{5} \text{ cm}$
 - 4. $11\sqrt{5} \text{ cm}$

Question ID : 264330127899
Status : Answered
Chosen Option : 2

Q.18 रोहित और रोहित ने Rs. 4400 में एक काम हाथ में लिया। रोहित अकेले उस काम को 10 दिनों में कर सकता है और रोहित अकेले उसी काम को 15 दिनों में कर सकता है। यदि वे एक साथ कार्य करते हैं, तो उन्हें प्राप्त होने वाली राशि में कितना अंतर होगा?

- Ans
- ✓ 1. Rs. 880
 - ✗ 2. Rs. 900
 - ✗ 3. Rs. 1050
 - ✗ 4. Rs. 800

Question ID : 264330127914

Status : Answered

Chosen Option : 1

Q.19 यदि $\tan F = \frac{15}{8}$, तो $\sin F + \cos F$ का मान क्या है?

- Ans
- ✓ 1. $\frac{23}{17}$
 - ✗ 2. $\frac{22}{17}$
 - ✗ 3. $\frac{20}{17}$
 - ✗ 4. $\frac{21}{17}$

Question ID : 264330126496

Status : Answered

Chosen Option : 1

Q.20 एक स्कूल में लड़कियों और लड़कों का औसत भार 30 kg और 36 kg है। यदि लड़कियों की संख्या लड़कों की संख्या की दुगुनी है, तो स्कूल में सभी विद्यार्थियों का औसत भार कितना होगा?

- Ans
- ✓ 1. 32 kg
 - ✗ 2. 31.5 kg
 - ✗ 3. 31 kg
 - ✗ 4. 33 kg

Question ID : 264330126494

Status : Answered

Chosen Option : 1

Q.21 यदि $x^2 + y^2 = 29$ और $x - y = 3$ है, तो $4xy$ का मान क्या है?

- Ans
- ✗ 1. 16
 - ✗ 2. 60
 - ✗ 3. 56
 - ✓ 4. 40

Question ID : 264330127902

Status : Answered

Chosen Option : 4

Q.22 यदि $a^4 + \frac{1}{a^4} = 194$, तो $\frac{a^6+1}{a^3}$ का मान क्या है?

- Ans
- 1. 52
 - 2. 46
 - 3. 48
 - 4. 50

Question ID : 264330128029
Status : Answered
Chosen Option : 1

Q.23 $\triangle PQR$ एक समकोण त्रिभुज है। $\angle Q = 90$ डिग्री, $PQ = 12$ cm, $QR = 5$ cm है। $\cot P - \tan R$ का मान क्या है?

- Ans
- 1. 5/13
 - 2. 0
 - 3. 5/6
 - 4. 5/24

Question ID : 264330127908
Status : Answered
Chosen Option : 2

Q.24 एक वस्तु को 10 प्रतिशत हानि पर बेचा जाता है। यदि इसके क्रय मूल्य में Rs.5 की कमी की जाती है और विक्रय मूल्य में Rs.8 की वृद्धि की जाती है, तो इस पर 10 प्रतिशत का लाभ अर्जित किया जाता है। वस्तु का वास्तविक विक्रय मूल्य क्या है?

- Ans
- 1. Rs.62.5
 - 2. Rs.67.5
 - 3. Rs.68.5
 - 4. Rs.60.75

Question ID : 264330128020
Status : Answered
Chosen Option : 4

Q.25 यदि $\sin B - \cos A = 0$, तो $A + B$ का मान क्या है?

- Ans
- 1. 45 डिग्री
 - 2. 90 डिग्री
 - 3. 0 डिग्री
 - 4. 60 डिग्री

Question ID : 264330128257
Status : Answered
Chosen Option : 2

Section : General awareness

Q.1 किस देश ने क्रिकेट के लिए महिला टी20 एशिया कप 2022 का खिताब जीता था?

- Ans
- 1. श्रीलंका
 - 2. बांग्लादेश
 - 3. पाकिस्तान
 - 4. भारत

Question ID : 264330125405
Status : Answered
Chosen Option : 4

Q.2 'संख्या - संघटन' का निम्नलिखित में से कौन-सा युग्म सही है?

- I. परमाणु संख्या - प्रोटॉनों की संख्या
II. द्रव्यमान संख्या - न्यूट्रॉन और प्रोटॉन की संख्या का योग

- Ans
- 1. न तो I और न ही II
 - 2. केवल II
 - 3. केवल I
 - 4. I और II दोनों

Question ID : 264330124994
Status : Answered
Chosen Option : 4

Q.3 मिस इंडिया वर्ल्डवाइड 2022 पेजेंट किसने जीता है?

- Ans
- 1. खुशी पटेल
 - 2. रोशनी रज़ाक
 - 3. नव्या पैंगोल
 - 4. वैदेही डोंगरे

Question ID : 264330125027
Status : Answered
Chosen Option : 1

Q.4 'खनिज पदार्थ - स्रोत' का निम्नलिखित में से कौन-सा युग्म सही है?

- I. विटामिन A - पपीता
II. लौह - पालक

- Ans
- 1. I और II दोनों
 - 2. केवल I
 - 3. न तो I और न ही II
 - 4. केवल II

Question ID : 264330125018
Status : Answered
Chosen Option : 1

Q.5 संयुक्त राज्य अमेरिका की पहली महिला उपराष्ट्रपति बनकर किसने इतिहास बनाया है?

- Ans
- 1. एलिनोर रूज़वेल्ट
 - 2. कमला हैरिस
 - 3. मार्गुराइट हिगिंस
 - 4. सुचित्रा पाल

Question ID : 264330124951
Status : Answered
Chosen Option : 2

Q.6 In humans the neck is joined by the head by which of the following joints?

- Ans 1. Pivotal joint
 2. Fixed joint
 3. Ball and socket joint
 4. Hinge joint

Question ID : 264330124992
Status : Answered
Chosen Option : 4

Q.7 Which of the following combinations of 'RBI Tool – Monetary instrument' is correct?

- Ans 1. Qualitative - Cash Reserve ratio
 2. Qualitative – Moral Suasion
 3. Qualitative – Open Market Operations
 4. Quantitative – Marginal requirement

Question ID : 264330124990
Status : Not Answered
Chosen Option : --

Q.8 1793 में जब बंगाल में इस्तमरारी बंदोबस्त लागू किया गया था, तब उसका गवर्नर जनरल कौन था?

- Ans 1. लॉर्ड रिपन (Lord Ripon)
 2. लॉर्ड विलियम बेंटिंक (Lord William Bentinck)
 3. लॉर्ड माउंटबेटन (Lord Mountbatten)
 4. चार्ल्स कर्नवॉलिस (Charles Cornwallis)

Question ID : 264330124999
Status : Answered
Chosen Option : 2

Q.9 पश्चिमी हिमालय में बौद्ध शिक्षा का सबसे बड़ा केंद्र की गोम्पा (Kye Gompa) _____ राज्य/संघ राज्यक्षेत्र में स्थित है।

- Ans 1. जम्मू और कश्मीर
 2. पंजाब
 3. हिमाचल प्रदेश
 4. उत्तराखंड

Question ID : 264330125436
Status : Answered
Chosen Option : 3

Q.10 किस भारतीय स्वतंत्रता सेनानी को भारत का बिस्मार्क भी कहा जाता है?

- Ans 1. महात्मा गांधी
 2. जवाहर लाल नेहरू
 3. लाल बहादुर शास्त्री
 4. सरदार वल्लभभाई पटेल

Question ID : 264330125401
Status : Answered
Chosen Option : 4

Q.11 Arid soils are characteristically developed in _____, which exhibit characteristic arid topography.

- Ans
- 1. Southern Uttar Pradesh
 - 2. Western Uttar Pradesh
 - 3. Western Rajasthan
 - 4. Southern Rajasthan

Question ID : 264330125396
Status : Answered
Chosen Option : 3

Q.12 भारतीय संविधान का अनुच्छेद 2 _____ से संबंधित है।

- Ans
- 1. वर्तमान राज्यों के नामों में परिवर्तन
 - 2. नए राज्यों का प्रवेश या उनकी स्थापना
 - 3. वर्तमान राज्यों के क्षेत्रों में परिवर्तन
 - 4. संघ का नाम और राज्यक्षेत्र

Question ID : 264330125004
Status : Answered
Chosen Option : 4

Q.13 2011 की जनगणना के अनुसार 2001 से 2011 तक भारत की जनसंख्या का वार्षिक वृद्धि दर क्या है?

- Ans
- 1. 1.64 प्रतिशत
 - 2. 2.22 प्रतिशत
 - 3. 1.97 प्रतिशत
 - 4. 2.16 प्रतिशत

Question ID : 264330124946
Status : Answered
Chosen Option : 4

Q.14 What is the full form of NCRB?

- Ans
- 1. National Currency Records Branch
 - 2. National Criminal Records Bureau
 - 3. National Capital Register Bureau
 - 4. National Crime Records Bureau

Question ID : 264330125014
Status : Answered
Chosen Option : 4

Q.15 Uday Shankar was an Indian dancer best known for creating a _____.

- Ans
- 1. American Style of dance
 - 2. Folk dance style
 - 3. Indian style of dance
 - 4. Fusion style of dance

Question ID : 264330124885
Status : Not Answered
Chosen Option : --

Q.16 अंतर्राष्ट्रीय बाघ दिवस _____ को मनाया जाता है।

- Ans
- 1. 4 जुलाई
 - 2. 5 जुलाई
 - 3. 29 जुलाई
 - 4. 30 जुलाई

Question ID : 264330125013
Status : Answered
Chosen Option : 3

Q.17 निम्नलिखित में से किन वर्षों के दौरान कुल्बुद्दीन ऐबक ने शासन किया था?

- Ans
- 1. 1290 – 1296
 - 2. 1266 – 1287
 - 3. 1320 – 1324
 - 4. 1206 – 1210

Question ID : 264330125125
Status : Answered
Chosen Option : 4

Q.18 Which of the following pairs of "players in a team – sports" is correct?

- I. 11 – basketball
- II. 11 – volleyball

- Ans
- 1. Only I
 - 2. Both I and II
 - 3. Only II
 - 4. Neither I nor II

Question ID : 264330125032
Status : Answered
Chosen Option : 1

Q.19 किसी स्टार नेटवर्क में, N नोड को होस्ट नोड (host node) से जोड़ने के लिए कितनी लाइनों की आवश्यकता होती है?

- Ans
- 1. $N/2$
 - 2. $(N/2) - 1$
 - 3. $N + 1$
 - 4. $N - 1$

Question ID : 264330125108
Status : Answered
Chosen Option : 4

Q.20 पृथ्वी की त्रिज्या कितनी है?

- Ans
- 1. 6371 km
 - 2. 4728 km
 - 3. 5619 km
 - 4. 7456 km

Question ID : 264330125122
Status : Answered
Chosen Option : 4

Q.21 Which of the following shortcut key is used to make the contents of a cell underlined in MS-Excel 365?

- Ans**
- 1. Ctrl + 3
 - 2. Ctrl + 2
 - 3. Ctrl + 6
 - 4. Ctrl + 4

Question ID : 264330124984
Status : Not Answered
Chosen Option : --

Q.22 Which of the following statements is correct regarding the bank reserves?
I. These reserves are kept partly as cash and partly in the form of financial instruments.
II. Cash Reserves Ratio are deposits which commercial banks keep with the Reserve Bank of India.

- Ans**
- 1. Both I and II
 - 2. Only I
 - 3. Neither I nor II
 - 4. Only II

Question ID : 264330125016
Status : Not Answered
Chosen Option : --

Q.23 ऑस्ट्रेलियन ओपन 2022 में पुरुष एकल का खिताब किसने जीता था?

- Ans**
- 1. कैस्पर रूड
 - 2. राफेल नडाल
 - 3. डेनियल मेदवेदेव
 - 4. नोवाक जोकोविच

Question ID : 264330124906
Status : Answered
Chosen Option : 4

Q.24 निम्नलिखित में से क्या भारतीय संविधान के भाग-IX के अंतर्गत आता है?

- Ans**
- 1. वित्त, संपत्ति, संविदाएँ और वाद
 - 2. अनुसूचित और जनजातीय क्षेत्र
 - 3. संघ और राज्यों के बीच संबंध
 - 4. पंचायत

Question ID : 264330125128
Status : Answered
Chosen Option : 4

Q.25 निम्नलिखित में से कौन-सी एक स्थानिक प्रजाति है?

- Ans**
- 1. भारतीय गैंडा
 - 2. भारतीय जंगली गधा
 - 3. निकोबारी कबूतर
 - 4. रेगिस्तानी लोमड़ी

Question ID : 264330125023
Status : Answered
Chosen Option : 1