

Constable Executive Male and Female in Delhi Police Examination 2023

Roll Number	www.HaryanaJobs.in
Candidate Name	www.HaryanaJobs.in
Venue Name	iON Digital Zone iDZ 2 Sector 62
Exam Date	14/11/2023
Exam Time	9:00 AM - 10:30 AM
Subject	Constable Executive Male and Female in Delhi Police Examination 2023

Section : **General Knowledge**

Q.1 When is Maha Shivaratri celebrated according to the Drik Panchang?

- Ans 1. Magha, Krishna Paksha, Chaturdashi
 2. Ashadh, Krishna Paksha, Trayodashi
 3. Phalguna, Shukla Paksha, Ekadashi
 4. Chaitra, Shukla Paksha, Ekam

Question ID : 264330110462

Option 1 ID : 264330434127

Option 2 ID : 264330434128

Option 3 ID : 264330434126

Option 4 ID : 264330434125

Status : **Not Attempted and Marked For Review**

Chosen Option : --

Q.2 Which of the following Indian Olympians has written the autobiography titled 'Playing to Win'?

- Ans 1. Abhinav Bindra
 2. Saina Nehwal
 3. Lovlina Borgohain
 4. Karnam Malleswari

Question ID : 26433066677

Option 1 ID : 264330261234

Option 2 ID : 264330261235

Option 3 ID : 264330261233

Option 4 ID : 264330261232

Status : **Answered**

Chosen Option : 2

Q.3 Which of the following is/are the goals of five year plans?

- Ans 1. Growth, Modernisation, and Equity only
 2. Growth only
 3. Growth, and Abolition of intermediaries
 4. Growth, Modernisation, Equity and Self-reliance

Question ID : 264330117742

Option 1 ID : 264330462783

Option 2 ID : 264330462784

Option 3 ID : 264330462786

Option 4 ID : 264330462785

Status : **Answered**

Chosen Option : 4

Q.4 Which of the following cultural festivals is organised by the Uttar Pradesh tourism department?

- Ans 1. Taj Mahotsav
 2. Hampi Dance Utsav
 3. Natyanjali Utsav
 4. Nishagandhi Festival

Question ID : 264330141780
Option 1 ID : 264330555441
Option 2 ID : 264330555439
Option 3 ID : 264330555442
Option 4 ID : 264330555440
Status : Answered
Chosen Option : 1

Q.5 Who among the following was the Prime Minister when the Globalisation Policy as part of 'New Economic Policy' was introduced?

- Ans 1. Manmohan Singh
 2. PV Narasimha Rao
 3. Narendra Modi
 4. Atal Bihari Vajpayee

Question ID : 264330111577
Option 1 ID : 264330438395
Option 2 ID : 264330438396
Option 3 ID : 264330438394
Option 4 ID : 264330438393
Status : Answered
Chosen Option : 2

Q.6 Which Article of the Indian Constitution deals with the Governor's assent to Bills?

- Ans 1. Article 201
 2. Article 164
 3. Article 264
 4. Article 200

Question ID : 26433089974
Option 1 ID : 264330353375
Option 2 ID : 264330353373
Option 3 ID : 264330353374
Option 4 ID : 264330353376
Status : Marked For Review
Chosen Option : 3

Q.7 Which part of the food is defecated?

- Ans 1. Vitamins in food
 2. Glucose in food
 3. Nutrients in food
 4. Unused food

Question ID : 264330118272
Option 1 ID : 264330464904
Option 2 ID : 264330464906
Option 3 ID : 264330464903
Option 4 ID : 264330464905
Status : Answered
Chosen Option : 4

Q.8 Who summons each house of State Legislature to meet from time to time?

- Ans 1. Deputy Speaker
 2. Chief Minister
 3. Governor
 4. Speaker

Question ID : 264330173545
Option 1 ID : 264330680662
Option 2 ID : 264330680660
Option 3 ID : 264330680659
Option 4 ID : 264330680661
Status : Answered
Chosen Option : 3

Q.9 Who among the following performed religious rituals for the king during the Vedic period?

- Ans 1. Vrajpati
 2. Purohita
 3. Gramani
 4. Senani

Question ID : 264330120235
Option 1 ID : 264330471195
Option 2 ID : 264330471196
Option 3 ID : 264330471197
Option 4 ID : 264330471198
Status : Answered
Chosen Option : 2

Q.10 National Waterways 10 (NW-10) is located in which state?

- Ans 1. Kerala
 2. West Bengal
 3. Tamil Nadu
 4. Maharashtra

Question ID : 264330119887
Option 1 ID : 264330469823
Option 2 ID : 264330469825
Option 3 ID : 264330469824
Option 4 ID : 264330469826
Status : Not Attempted and Marked For Review
Chosen Option : --

Q.11 Which of the following pairs is INCORRECT?

- Ans 1. Non-ferrous metal – Zinc
 2. Precious metal – Platinum
 3. Ferrous metal – Iron
 4. Non-metal – Lead

Question ID : 264330116378
Option 1 ID : 264330457599
Option 2 ID : 264330457597
Option 3 ID : 264330457598
Option 4 ID : 264330457600
Status : Answered
Chosen Option : 1

Q.12 In which of the following years was the Rowlatt Act passed to suppress the political violence?

- Ans 1. 1919
 2. 1915
 3. 1921
 4. 1924

Question ID : 264330118598
Option 1 ID : 264330465646
Option 2 ID : 264330465645
Option 3 ID : 264330465644
Option 4 ID : 264330465643
Status : Answered
Chosen Option : 1

Q.13 Ustad Allah Rakha, Sabir Khan, Pandit Kishan Maharaj and Pandit Jnan Prakash Ghosh are associated with which musical instrument?

- Ans 1. Shehnai
 2. Tabla
 3. Mridangam
 4. Violin

Question ID : 264330111187
Option 1 ID : 264330436834
Option 2 ID : 264330436835
Option 3 ID : 264330436833
Option 4 ID : 264330436836
Status : Answered
Chosen Option : 2

Q.14 Which of the given monuments is NOT located in Karnataka?

- Ans 1. Kittur Fort
 2. Hoysaleswara Temple
 3. Gol Gumbaz
 4. Palakkad Fort

Question ID : 264330165328
Option 1 ID : 264330648391
Option 2 ID : 264330648393
Option 3 ID : 264330648392
Option 4 ID : 264330648394
Status : Answered
Chosen Option : 4

Q.15 The Indian Parliament approved the 86th Constitutional Amendment Act of 2002, which establishes the fundamental right to elementary education for children aged _____.

- Ans 1. 5-11 years
 2. 6-14 Years
 3. 6-17 Years
 4. 7-16 Years

Question ID : 264330182974
Option 1 ID : 264330717628
Option 2 ID : 264330717629
Option 3 ID : 264330717631
Option 4 ID : 264330717630
Status : Answered
Chosen Option : 2

Q.16 What was the name of the first dynasty that ruled over Magadh kingdom?

- Ans 1. Haryank dynasty
 2. Nanda dynasty
 3. Mauryan dynasty
 4. Shishunga dynasty

Question ID : 264330123735
Option 1 ID : 264330484975
Option 2 ID : 264330484977
Option 3 ID : 264330484978
Option 4 ID : 264330484976
Status : Answered
Chosen Option : 2

Q.17 Through which of the following Acts does the government check restrictive trade?

- Ans 1. FEMA Act
 2. Industrial Policy Act 1991
 3. MRTP Act
 4. Foreign Trade Policy

Question ID : 264330110194
Option 1 ID : 264330433054
Option 2 ID : 264330433055
Option 3 ID : 264330433053
Option 4 ID : 264330433056
Status : Answered
Chosen Option : 3

Q.18 The 'pawn' is associated with which of the following games?

- Ans 1. Cricket
 2. Chess
 3. Tennis
 4. Badminton

Question ID : 264330130641
Option 1 ID : 264330511678
Option 2 ID : 264330511675
Option 3 ID : 264330511677
Option 4 ID : 264330511676
Status : Answered
Chosen Option : 2

Q.19 Which of the following States hosted the fourth edition of the Khelo India Youth Games?

- Ans 1. Telangana
 2. Haryana
 3. Karnataka
 4. Assam

Question ID : 264330113755
Option 1 ID : 264330447107
Option 2 ID : 264330447105
Option 3 ID : 264330447106
Option 4 ID : 264330447108
Status : Answered
Chosen Option : 2

Q.20 Which of the following stations receives the highest annual rainfall?

- Ans 1. Shillong
 2. Chennai
 3. Jodhpur
 4. Nagpur

Question ID : 264330175825
Option 1 ID : 264330689599
Option 2 ID : 264330689601
Option 3 ID : 264330689602
Option 4 ID : 264330689600
Status : Answered
Chosen Option : 1

Q.21 Which country hosted the IBA Women's World Boxing Championship-2023?

- Ans 1. Bangladesh
 2. Sri Lanka
 3. India
 4. Pakistan

Question ID : 264330113729
Option 1 ID : 264330447004
Option 2 ID : 264330447003
Option 3 ID : 264330447001
Option 4 ID : 264330447002
Status : Marked For Review
Chosen Option : 3

Q.22 Which of the following Articles of the Indian Constitution is related with right to work, to education and to public assistance in certain cases?

- Ans 1. Article 41
 2. Article 44
 3. Article 43
 4. Article 42

Question ID : 264330180057
Option 1 ID : 264330706211
Option 2 ID : 264330706214
Option 3 ID : 264330706213
Option 4 ID : 264330706212
Status : Answered
Chosen Option : 4

Q.23 Which of the following is an example of igneous rock?

- Ans 1. Breccia
 2. Chert
 3. Conglomerate
 4. Rhyolite

Question ID : 264330131680
Option 1 ID : 264330515821
Option 2 ID : 264330515822
Option 3 ID : 264330515820
Option 4 ID : 264330515819
Status : Answered
Chosen Option : 2

Q.24 Siddi Dhamal is performed in which of the following states as a dance to celebrate successful hunting activity?.

- Ans
- 1. Rajasthan
 - 2. Punjab
 - 3. Haryana
 - 4. Gujarat

Question ID : 264330110420
Option 1 ID : 264330433957
Option 2 ID : 264330433959
Option 3 ID : 264330433960
Option 4 ID : 264330433958
Status : Answered
Chosen Option : 1

Q.25 Who among the following was the Sultan of the Delhi Sultanate when the Bahmani Kingdom was established in South India?

- Ans
- 1. Ghiyasuddin Tughluq
 - 2. Muhammad Bin Tughluq
 - 3. Nasir-ud-din Mohammed Tughluq
 - 4. Firuz Shah Tughluq

Question ID : 264330119763
Option 1 ID : 264330469327
Option 2 ID : 264330469330
Option 3 ID : 264330469329
Option 4 ID : 264330469328
Status : Answered
Chosen Option : 3

Q.26 It is a Fundamental Duty of parents to provide educational opportunities to wards aged _____.

- Ans
- 1. 7-14 years
 - 2. 6-16 years
 - 3. 6-14 years
 - 4. 6-15 years

Question ID : 264330130778
Option 1 ID : 264330512224
Option 2 ID : 264330512226
Option 3 ID : 264330512225
Option 4 ID : 264330512223
Status : Answered
Chosen Option : 3

Q.27 Which of the following pairs regarding the judicial powers of the Indian President and their definition is INCORRECTLY matched?

- Ans
- 1. Commutation – It denotes the substitution of one form of punishment for a lighter form
 - 2. Respite – It denotes awarding a lesser sentence in place of that which was originally awarded
 - 3. Reprieve – It implies reducing the period of sentence without changing its character
 - 4. Pardon – it removes both the sentences and the conviction

Question ID : 264330130468
Option 1 ID : 264330510984
Option 2 ID : 264330510985
Option 3 ID : 264330510986
Option 4 ID : 264330510983
Status : Answered
Chosen Option : 3

Q.28 Which of the following is an RBI-registered NBFC- MFI that works on a Joint Liability Group lending model of Grameen?

- Ans
- 1. Asirvad Microfinance Limited
 - 2. ESAF Microfinance and Investments (P) Ltd
 - 3. Fusion Microfinance Pvt Ltd
 - 4. BSS Microfinance Limited

Question ID : 264330116500
Option 1 ID : 264330458085
Option 2 ID : 264330458087
Option 3 ID : 264330458088
Option 4 ID : 264330458086
Status : Not Attempted and Marked For Review
Chosen Option : --

Q.29 Which of the following is an example of subsistence crop of Uttar Pradesh?

- Ans
- 1. Jute
 - 2. Cotton
 - 3. Wheat
 - 4. Sugarcane

Question ID : 264330119879
Option 1 ID : 264330469791
Option 2 ID : 264330469794
Option 3 ID : 264330469792
Option 4 ID : 264330469793
Status : Answered
Chosen Option : 4

Q.30 Annie Besant was a Fabian socialist under the influence of _____ .

- Ans 1. Charles Turner
 2. George Bernard Shaw
 3. Sigmund Freud
 4. Arthur Miller

Question ID : 264330119028
Option 1 ID : 264330466769
Option 2 ID : 264330466767
Option 3 ID : 264330466768
Option 4 ID : 264330466770
Status : Answered
Chosen Option : 4

Q.31 Ibn Battuta's book of travels, called Rihla was originally written in:

- Ans 1. Persian
 2. Prakrit
 3. Arabic
 4. Urdu

Question ID : 264330111377
Option 1 ID : 264330437593
Option 2 ID : 264330437596
Option 3 ID : 264330437595
Option 4 ID : 264330437594
Status : Answered
Chosen Option : 3

Q.32 Which Article of the Indian Constitution states that no citizen of India shall accept any title from any foreign State?

- Ans 1. Article 18 (3)
 2. Article 18 (4)
 3. Article 18 (2)
 4. Article 18 (1)

Question ID : 264330180046
Option 1 ID : 264330706169
Option 2 ID : 264330706170
Option 3 ID : 264330706168
Option 4 ID : 264330706167
Status : Not Attempted and Marked For Review
Chosen Option : --

Q.33 Anantha R Krishnan is a famous _____ player.

- Ans 1. flute
 2. mridangam
 3. santoor
 4. sitar

Question ID : 264330111962
Option 1 ID : 264330439934
Option 2 ID : 264330439933
Option 3 ID : 264330439936
Option 4 ID : 264330439935
Status : Answered
Chosen Option : 2

Q.34 Prior to India, which country introduced Five-Year Plans for policy-making purposes?

- Ans
- 1. Great Britain
 - 2. Germany
 - 3. The US
 - 4. The Union of Soviet Socialist Republics

Question ID : 264330111737
Option 1 ID : 264330439034
Option 2 ID : 264330439036
Option 3 ID : 264330439033
Option 4 ID : 264330439035
Status : Answered
Chosen Option : 4

Q.35 The Great Bath in Mohenjo-Daro was excavated in which of the following areas?

- Ans
- 1. Citadel
 - 2. Residential complex
 - 3. Lower town
 - 4. House courtyard

Question ID : 264330109639
Option 1 ID : 264330430834
Option 2 ID : 264330430836
Option 3 ID : 264330430833
Option 4 ID : 264330430835
Status : Answered
Chosen Option : 2

Q.36 Which of the following options is/are correct about cropland ecosystem?

Statement 1. Cropland is a man-made ecosystem.
Statement 2. Very less genetic diversity is found in cropland ecosystem.

- Ans
- 1. Only statement 1 correct
 - 2. Both statements 1 and 2 correct
 - 3. Both statements 1 and 2 incorrect
 - 4. Only statement 2 correct

Question ID : 264330131804
Option 1 ID : 264330516315
Option 2 ID : 264330516318
Option 3 ID : 264330516317
Option 4 ID : 264330516316
Status : Answered
Chosen Option : 2

Q.37 Bharatanatyam has originated from which of these states?

- Ans
- 1. Tamil Nadu
 - 2. Maharashtra
 - 3. Andhra Pradesh
 - 4. Telangana

Question ID : 264330109276
Option 1 ID : 264330429382
Option 2 ID : 264330429381
Option 3 ID : 264330429384
Option 4 ID : 264330429383
Status : Answered
Chosen Option : 1

Q.38 Who won India's first medal at the Tokyo Olympics 2021?

- Ans 1. Lovlina Borgohain
 2. Mirabai Chanu
 3. Mary Kom
 4. PV Sindhu

Question ID : 264330119259
Option 1 ID : 264330467326
Option 2 ID : 264330467324
Option 3 ID : 264330467323
Option 4 ID : 264330467325
Status : Answered
Chosen Option : 2

Q.39 Which of the following is NOT a noble gas?

- Ans 1. Argon (Ar)
 2. Nitrogen (N)
 3. Neon (Ne)
 4. Helium (He)

Question ID : 264330173653
Option 1 ID : 264330681093
Option 2 ID : 264330681094
Option 3 ID : 264330681092
Option 4 ID : 264330681091
Status : Answered
Chosen Option : 2

Q.40 National income at current prices are calculated based on _____

- Ans 1. constant prices
 2. future prices
 3. comparative prices
 4. prevailing prices

Question ID : 264330120878
Option 1 ID : 264330473728
Option 2 ID : 264330473729
Option 3 ID : 264330473730
Option 4 ID : 264330473727
Status : Answered
Chosen Option : 1

Q.41 Which of the following is the correct match between column-A and column-B?

Column-A

- i. Producer
- ii. Primary consumer
- iii. Secondary consumer
- iv. Decomposer

Column-B

- a. Rabbit
- b. Green plants
- c. Bacteria and fungus
- d. Fox

- Ans
- 1. i-b, ii-a, iii-d, iv-c
 - 2. i-d, ii-c, iii-b, iv-a
 - 3. i-a, ii-b, iii-c, iv-d
 - 4. i-c, ii-d, iii-a, iv-b

Question ID : 264330111896
Option 1 ID : 264330439671
Option 2 ID : 264330439672
Option 3 ID : 264330439669
Option 4 ID : 264330439670
Status : Answered
Chosen Option : 1

Q.42 The much-loved English novel, 'Alice's Adventures in Wonderland' was written by which of the following authors?

- Ans
- 1. Herman Melville
 - 2. Edgar Allan Poe
 - 3. Lewis Carroll
 - 4. Mary Shelly

Question ID : 26433055369
Option 1 ID : 264330216462
Option 2 ID : 264330216463
Option 3 ID : 264330216460
Option 4 ID : 264330216461
Status : Answered
Chosen Option : 4

Q.43 Which of the following words were added in the Preamble by the Forty-second Amendment Act?

- Ans
- 1. Justice, social
 - 2. Fraternity assuring dignity
 - 3. Liberty of thought
 - 4. Socialist, secular

Question ID : 264330110560
Option 1 ID : 264330434517
Option 2 ID : 264330434520
Option 3 ID : 264330434519
Option 4 ID : 264330434518
Status : Answered
Chosen Option : 4

Q.44 Identify the scheme that was launched by the Prime Minister on 8 April 2015 for providing loans upto ₹10 lakh to the non-corporate, non-farm small/micro enterprises?

- Ans
- 1. Bharat Rojgar Yojana
 - 2. Pradhan Mantri Mudra Yojana
 - 3. Mahatma Gandhi National Rural Employment Guarantee Act
 - 4. Pradhan Mantri Shram Yogi Maan-dhan

Question ID : 264330130603
Option 1 ID : 264330511526
Option 2 ID : 264330511523
Option 3 ID : 264330511524
Option 4 ID : 264330511525
Status : Answered
Chosen Option : 2

Q.45 According to the census of India 2011, which group of states and union territories from the following recorded the highest literacy rate?

- Ans
- 1. Goa and Lakshadweep
 - 2. Mizoram and Delhi
 - 3. Kerala and Lakshadweep
 - 4. Kerala and Puducherry

Question ID : 264330167029
Option 1 ID : 264330655120
Option 2 ID : 264330655122
Option 3 ID : 264330655121
Option 4 ID : 264330655119
Status : Answered
Chosen Option : 3

Q.46 Who among the following founded the Forward Bloc in 1939?

- Ans
- 1. Mahatma Gandhi
 - 2. Chittaranjan Das
 - 3. Subhash Chandra Bose
 - 4. Jawaharlal Nehru

Question ID : 264330119004
Option 1 ID : 264330466671
Option 2 ID : 264330466674
Option 3 ID : 264330466673
Option 4 ID : 264330466672
Status : Answered
Chosen Option : 3

Q.47 The Pradhan Mantri Garib Kalyan Yojana (PMGKY) was launched in the year _____.

- Ans
- 1. 2014
 - 2. 2017
 - 3. 2016
 - 4. 2015

Question ID : 264330110010
Option 1 ID : 264330432317
Option 2 ID : 264330432320
Option 3 ID : 264330432319
Option 4 ID : 264330432318
Status : Answered
Chosen Option : 1

Q.48 Who among the following Bharatnatyam dancers received the prestigious Natya Kalanidhi award in 2021?

- Ans 1. Chitra Visweswaran
 2. Padma Subrahmanyam
 3. Guru Bipin Singh
 4. Pandit Birju Maharaj

Question ID : 264330112873
Option 1 ID : 264330443580
Option 2 ID : 264330443579
Option 3 ID : 264330443578
Option 4 ID : 264330443577
Status : Answered
Chosen Option : 2

Q.49 Who among the following was known for creating fusion arts by adapting European theatrical techniques to Indian Classical dance combined with Indian folk and tribal dance?

- Ans 1. Uday Shankar
 2. Kelucharan Mahapatra
 3. Vempi Chinna Satyam
 4. Bipin Singh

Question ID : 264330111967
Option 1 ID : 264330439955
Option 2 ID : 264330439953
Option 3 ID : 264330439956
Option 4 ID : 264330439954
Status : Answered
Chosen Option : 1

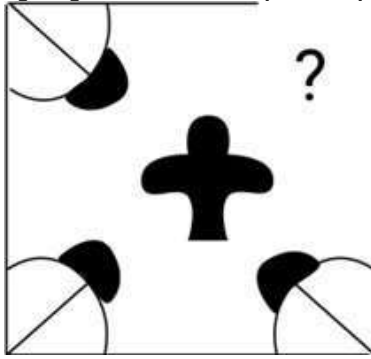
Q.50 The great poet and humanist writer Rabindra Nath Thakur returned his knighthood in protest of which incident?

- Ans 1. Bengal partition, 1905
 2. Pitt's India Act of 1784
 3. Kamagatamaru case, 1914
 4. Jallianwala Bagh Massacre, 1919

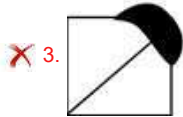
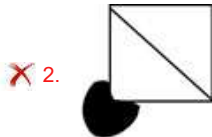
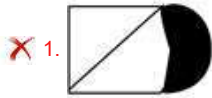
Question ID : 264330123743
Option 1 ID : 264330485007
Option 2 ID : 264330485010
Option 3 ID : 264330485008
Option 4 ID : 264330485009
Status : Answered
Chosen Option : 4

Section : Reasoning

Q.1 Select the figure from the given options that will replace the question mark (?) in the figure given below to complete the pattern.



Ans



Question ID : 264330116616

Option 1 ID : 264330458550

Option 2 ID : 264330458549

Option 3 ID : 264330458552

Option 4 ID : 264330458551

Status : Answered

Chosen Option : 4

Q.2 Which figure should replace the question mark (?) if the following series were to be continued?

L D 3 A	B L D R	= □ L D	A = □ R	3 S = □	
S	A	B	D	A	?
B = □ R	= □ 3 S	A 3 S R	3 S L B	D L B R	

Ans

✗ 1.

= 3 S A
□
B D L R

✗ 2.

S = B R
□
3 D L A

✓ 3.

D 3 S R
□
L B = A

✗ 4.

D 3 S =
□
L B R A

Question ID : 264330103898

Option 1 ID : 264330407896

Option 2 ID : 264330407893

Option 3 ID : 264330407895

Option 4 ID : 264330407894

Status : Answered

Chosen Option : 4

Q.3 Which of the following options will replace the question mark (?) in the given series?
9000, 7200, 5760, ?, 3686.4

Ans ✗ 1. 4600

✗ 2. 3860

✓ 3. 4608

✗ 4. 3456

Question ID : 264330109436

Option 1 ID : 264330430023

Option 2 ID : 264330430024

Option 3 ID : 264330430021

Option 4 ID : 264330430022

Status : Answered

Chosen Option : 3

Q.4 Which of the following option figures will complete the pattern in the figure given below?



Ans

✗ 1.



✗ 2.



✓ 3.



✗ 4.



Question ID : 26433080598

Option 1 ID : 264330316325

Option 2 ID : 264330316328

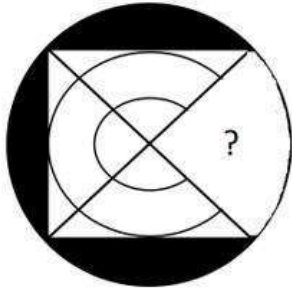
Option 3 ID : 264330316327

Option 4 ID : 264330316326

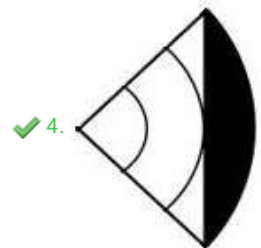
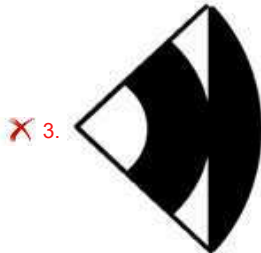
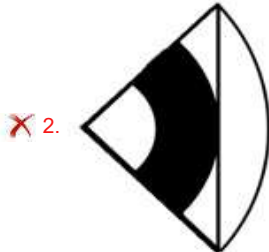
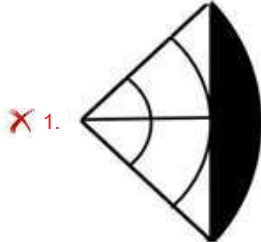
Status : Answered

Chosen Option : 3

Q.5 Select the figure from the options that can replace the question mark (?) and complete the given pattern.



Ans



Question ID : 26433082913

Option 1 ID : 264330325485

Option 2 ID : 264330325488

Option 3 ID : 264330325487

Option 4 ID : 264330325486

Status : Answered

Chosen Option : 4

Q.6 Which of the following option figures will complete the pattern in the figure given below?



Ans



Question ID : 26433080631

Option 1 ID : 264330316459

Option 2 ID : 264330316457

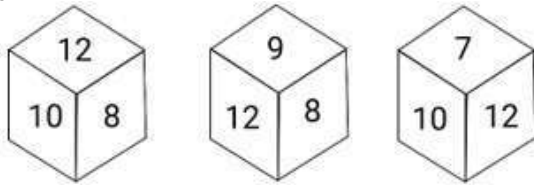
Option 3 ID : 264330316460

Option 4 ID : 264330316458

Status : Answered

Chosen Option : 2

Q.7 Six numbers, 7, 8, 9, 10, 11 and 12 are written on different faces of a dice. Three positions of this dice are shown here. Find the number on the face opposite 12.



- Ans
- 1. 10
 - 2. 9
 - 3. 11
 - 4. 8

Question ID : 264330106398
 Option 1 ID : 264330417895
 Option 2 ID : 264330417894
 Option 3 ID : 264330417896
 Option 4 ID : 264330417893
 Status : Answered
 Chosen Option : 3

Q.8 Select the correct combination of mathematical signs to sequentially replace the * signs and to balance the given equation.

$$198 * 11 * 18 * 20 * 50 * 294$$

- Ans
- 1. +, x, =, +, -
 - 2. +, +, x, -, =
 - 3. +, x, -, +, =
 - 4. +, x, +, -, =

Question ID : 26433076550
 Option 1 ID : 264330300267
 Option 2 ID : 264330300265
 Option 3 ID : 264330300264
 Option 4 ID : 264330300266
 Status : Answered
 Chosen Option : 4

Q.9 Read the given statements and conclusions carefully. Assuming that the information given in the statements is true, even if it appears to be at variance with commonly known facts, decide which of the given conclusions logically follow(s) from the statements.

Statements:

Some roses are lilies.

Some lilies are jasmine.

Conclusions:

I. Some jasmines are roses.

II. All jasmines are roses.

- Ans
- 1. Only conclusion II follows
 - 2. Neither conclusion I nor II follows
 - 3. Both conclusions I and II follow
 - 4. Only conclusion I follows

Question ID : 26433069508
 Option 1 ID : 264330272545
 Option 2 ID : 264330272547
 Option 3 ID : 264330272546
 Option 4 ID : 264330272544
 Status : Answered
 Chosen Option : 2

Q.10 Which of the following option figures will complete the pattern in the figure given below?



Ans

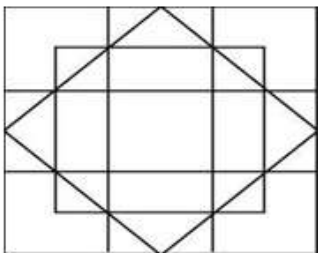


Question ID : 26433080610
 Option 1 ID : 264330316375
 Option 2 ID : 264330316374
 Option 3 ID : 264330316373
 Option 4 ID : 264330316376

Status : Answered

Chosen Option : 1

Q.11 How many triangles are there in the given figure?



Ans ✗ 1. 32

✗ 2. 24

✓ 3. 28

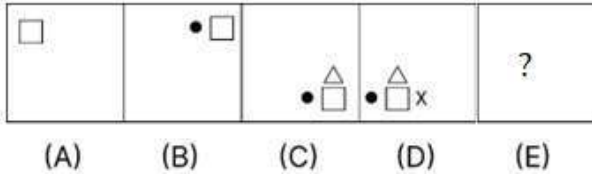
✗ 4. 20

Question ID : 26433091712
 Option 1 ID : 264330360216
 Option 2 ID : 264330360215
 Option 3 ID : 264330360214
 Option 4 ID : 264330360213

Status : Answered

Chosen Option : 3

Q.12 Given below is a series of figures – A, B, C and D which follow a particular pattern. Which of the given option figures should come in place of E to continue the series?



Ans

- ✗ 1.
- ✓ 2.
- ✗ 3.
- ✗ 4.

Question ID : 264330111291

Option 1 ID : 264330437249

Option 2 ID : 264330437252

Option 3 ID : 264330437250

Option 4 ID : 264330437251

Status : Answered

Chosen Option : 2

Q.13 Select the option that is related to the third word in the same way as the second word is related to the first word.

(The words must be considered as meaningful English words and must not be related to each other based on the number of letters/number of consonants/vowels in the word)

Virus : Influenza :: Fungus : ?

- ✗ 1. Algae
- ✗ 2. Amaltas
- ✗ 3. Bacteria
- ✓ 4. Aspergillosis

Question ID : 26433070281

Option 1 ID : 264330275602

Option 2 ID : 264330275601

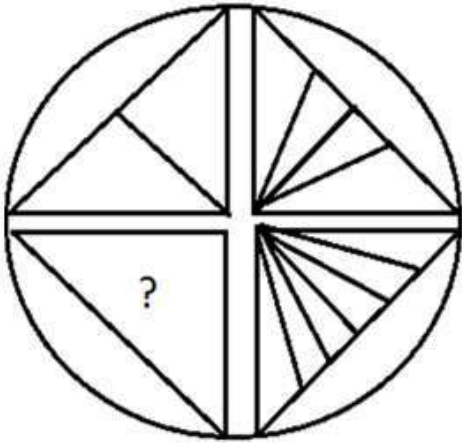
Option 3 ID : 264330275603

Option 4 ID : 264330275600

Status : Answered

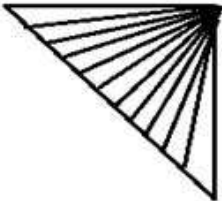
Chosen Option : 4

Q.14 Select the option figure that will replace the question mark (?) in the figure given below to complete the pattern.

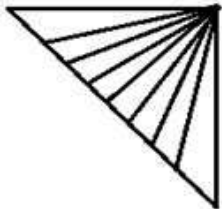


Ans

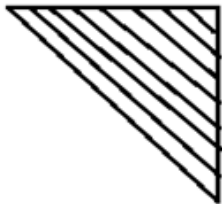
✗ 1.



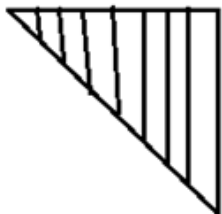
✓ 2.



✗ 3.



✗ 4.



Question ID : 264330118230

Option 1 ID : 264330464738

Option 2 ID : 264330464737

Option 3 ID : 264330464736

Option 4 ID : 264330464735

Status : Answered

Chosen Option : 2

Q.15 Select the option that is related to the fourth term in the same way as the first term is related to the second term and the fifth term is related to the sixth term.
 $7 : 46 :: ? : 78 :: 11 : 118$

- Ans
- 1. 13
 - 2. 11
 - 3. 9
 - 4. 10

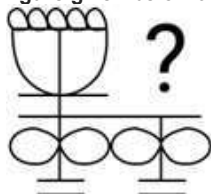
Question ID : 26433052093
 Option 1 ID : 264330203677
 Option 2 ID : 264330203676
 Option 3 ID : 264330203674
 Option 4 ID : 264330203675
 Status : Answered
 Chosen Option : 3

Q.16 Which of the following terms will replace the question mark (?) in the given series?
 KYIB, IUKF, GQMJ, ?, CIQR

- Ans
- 1. HNON
 - 2. ENOM
 - 3. HMNO
 - 4. EMON

Question ID : 264330102175
 Option 1 ID : 264330401165
 Option 2 ID : 264330401168
 Option 3 ID : 264330401167
 Option 4 ID : 264330401166
 Status : Answered
 Chosen Option : 4

Q.17 Select the figure from the given options that will replace the question mark (?) in the figure given below and complete the pattern.



- Ans
- 1.
 - 2.
 - 3.
 - 4.

Question ID : 264330111712
 Option 1 ID : 264330438933
 Option 2 ID : 264330438934
 Option 3 ID : 264330438936
 Option 4 ID : 264330438935
 Status : Answered
 Chosen Option : 1

Q.18 Select the correct mirror image of the given figure when the mirror is placed at 'AB' as shown.



Ans

- 1. V 2 33 5 t e
- 2. V 2 33 5 t e
- 3. V 2 33 5 t e
- 4. e t 5 33 2 V

Question ID : 264330114699

Option 1 ID : 264330450882

Option 2 ID : 264330450884

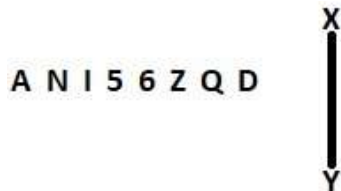
Option 3 ID : 264330450881

Option 4 ID : 264330450883

Status : Answered

Chosen Option : 2

Q.19 Select the correct mirror image of the given combination when the mirror is placed at 'XY' as shown below.



Ans

- 1. V N I 2 e 5 D
- 2. D Q Z 6 5 I N A
- 3. D 0 Z 9 5 I N V
- 4. D Q Z 6 5 I N A

Question ID : 264330129693

Option 1 ID : 264330508139

Option 2 ID : 264330508141

Option 3 ID : 264330508138

Option 4 ID : 264330508140

Status : Answered

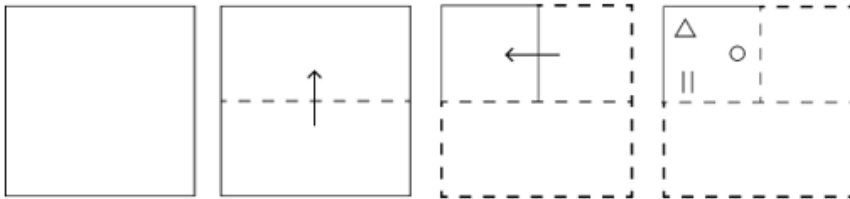
Chosen Option : 4

Q.20 Select the correct combination of mathematical signs to sequentially replace the * signs and to balance the given equation.
 $242 * 11 * 76 * 34 * 2 * 32$

- Ans
- 1. $+ - + \times =$
 - 2. $+ + - \times =$
 - 3. $+ + - = \times$
 - 4. $\div + - = \times$

Question ID : 26433085722
 Option 1 ID : 264330336591
 Option 2 ID : 264330336589
 Option 3 ID : 264330336592
 Option 4 ID : 264330336590
 Status : Answered
 Chosen Option : 4

Q.21 A square sheet of paper is folded along the dotted line successively along the directions shown and is then punched in the last. How would the paper look when unfolded?



Ans

- 1.
- 2.
- 3.
- 4.

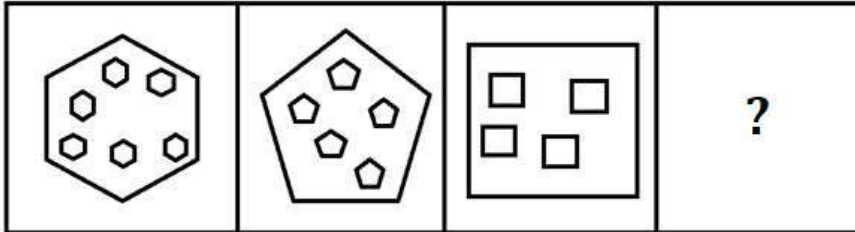
Question ID : 264330172431
 Option 1 ID : 264330676277
 Option 2 ID : 264330676275
 Option 3 ID : 264330676278
 Option 4 ID : 264330676276
 Status : Answered
 Chosen Option : 1

Q.22 C, D, E, F, M and N are sitting around a circular table facing the centre. D sits second to the right of M. F sits to the immediate left of N. N is not an immediate neighbour of M. C is not an immediate neighbour of D. Who among the following is an immediate neighbour of E?

- Ans
- 1. N
 - 2. F
 - 3. D
 - 4. C

Question ID : 264330104021
 Option 1 ID : 264330408387
 Option 2 ID : 264330408385
 Option 3 ID : 264330408386
 Option 4 ID : 264330408388
 Status : Answered
 Chosen Option : 3

Q.23 Select the figure that will come next in the following figure series.



Ans

- 1.
- 2.
- 3.
- 4.

Question ID : 264330129653
 Option 1 ID : 264330507980
 Option 2 ID : 264330507979
 Option 3 ID : 264330507981
 Option 4 ID : 264330507978
 Status : Answered
 Chosen Option : 1

Q.24 In a certain code language, 'CALIBER' is written as 'ECNGDGT' and 'BURNING' is written as 'DWTLKPI'. How will 'AUCTION' be written in that language?

- Ans
- 1. BVERQKST
 - 2. CVBTKQR
 - 3. BWDSKPR
 - 4. CWERKQP

Question ID : 26433089418
Option 1 ID : 264330351173
Option 2 ID : 264330351175
Option 3 ID : 264330351176
Option 4 ID : 264330351174
Status : Answered
Chosen Option : 4

Q.25 Select the set in which the numbers are related in the same way as are the numbers of the following sets.

(NOTE : Operations should be performed on the whole numbers, without breaking down the numbers into its constituent digits. E.g. 13 – Operations on 13 such as adding/deleting/multiplying etc. to 13 can be performed. Breaking down 13 into 1 and 3 and then performing mathematical operations on 1 and 3 is NOT allowed)
(40, 253, 17)
(30, 187, 13)

- Ans
- 1. (50, 385, 15)
 - 2. (25, 100, 15)
 - 3. (40, 240, 20)
 - 4. (17, 77, 9)

Question ID : 26433097438
Option 1 ID : 264330382443
Option 2 ID : 264330382442
Option 3 ID : 264330382441
Option 4 ID : 264330382444
Status : Answered
Chosen Option : 1

Section : Numerical Ability

Q.1 The simple interest on a sum of ₹1,500 at 5% p.a. for 3 years is:

- Ans
- 1. ₹192
 - 2. ₹195
 - 3. ₹180
 - 4. ₹225

Question ID : 264330182517
Option 1 ID : 264330715861
Option 2 ID : 264330715859
Option 3 ID : 264330715860
Option 4 ID : 264330715862
Status : Answered
Chosen Option : 4

Q.2 A shopkeeper marks an article 35% above the cost price, and offers 20% discount on the marked price, what is his gain percentage?

- Ans 1. 8%
 2. 7%
 3. 5%
 4. 9%

Question ID : 264330168926
Option 1 ID : 264330662510
Option 2 ID : 264330662508
Option 3 ID : 264330662507
Option 4 ID : 264330662509
Status : Answered
Chosen Option : 1

Q.3 What is the unit digit of the product of all the prime numbers between 51 and 78?

- Ans 1. 2
 2. 3
 3. 7
 4. 6

Question ID : 264330104275
Option 1 ID : 264330409403
Option 2 ID : 264330409404
Option 3 ID : 264330409402
Option 4 ID : 264330409401
Status : Answered
Chosen Option : 3

Q.4 If a box was sold at a loss of ₹350 for ₹4,650, then the percentage loss is equal to:

- Ans 1. 7%
 2. 6%
 3. 5%
 4. 8%

Question ID : 264330169418
Option 1 ID : 264330664429
Option 2 ID : 264330664428
Option 3 ID : 264330664427
Option 4 ID : 264330664430
Status : Answered
Chosen Option : 1

Q.5 The product of the LCM and HCF of two numbers is 48. The difference between the two numbers is 13. Find the numbers.

- Ans 1. 9 and 22
 2. 6 and 19
 3. 3 and 16
 4. 10 and 23

Question ID : 264330104267
Option 1 ID : 264330409372
Option 2 ID : 264330409369
Option 3 ID : 264330409370
Option 4 ID : 264330409371
Status : Answered
Chosen Option : 3

Q.6 The slant height of a cone is 5 cm and its diameter is 8 cm. What is the volume of the cone (correct to two decimal places)? (Where $\pi = \frac{22}{7}$)

- Ans
- 1. 35.66 cm³
 - 2. 50.28 cm³
 - 3. 59.82 cm³
 - 4. 28.28 cm³

Question ID : 264330118142
Option 1 ID : 264330464384
Option 2 ID : 264330464385
Option 3 ID : 264330464386
Option 4 ID : 264330464383
Status : Answered
Chosen Option : 2

Q.7 After a 15% decline, the income of Ajay stands at ₹2,12,500. What was his original income (in ₹)?

- Ans
- 1. 2,25,000
 - 2. 1,80,625
 - 3. 2,50,000
 - 4. 2,40,000

Question ID : 264330103308
Option 1 ID : 264330405540
Option 2 ID : 264330405538
Option 3 ID : 264330405539
Option 4 ID : 264330405537
Status : Answered
Chosen Option : 3

Q.8 In a 600 m race, A gave B a head start of 5 seconds and still won the race by 20 seconds. If the ratio of the speed of A to the speed of B is 2 : 1, then the speed of B is:

- Ans
- 1. 21 m/sec
 - 2. 12 m/sec
 - 3. 10 m/sec
 - 4. 18 m/sec

Question ID : 264330168935
Option 1 ID : 264330662546
Option 2 ID : 264330662544
Option 3 ID : 264330662543
Option 4 ID : 264330662545
Status : Answered
Chosen Option : 2

Q.9 There are 50 students in a class. The average marks of 20 students is 70 and the remaining 30 have average marks of 80. Calculate the average score of the whole class.

- Ans
- 1. 70
 - 2. 75
 - 3. 76
 - 4. 74

Question ID : 264330126555
Option 1 ID : 264330495892
Option 2 ID : 264330495894
Option 3 ID : 264330495893
Option 4 ID : 264330495895
Status : Answered
Chosen Option : 3

Q.10 A man borrowed a sum of money and agreed to pay off by paying ₹4,200 at the end of the first year and ₹4,410 at the end of the second year. If the rate of compound interest was 5% per annum, find the sum borrowed.

- Ans
- 1. ₹7,500
 - 2. ₹7,000
 - 3. ₹8,500
 - 4. ₹8,000

Question ID : 264330104317
Option 1 ID : 264330409570
Option 2 ID : 264330409569
Option 3 ID : 264330409572
Option 4 ID : 264330409571
Status : Answered
Chosen Option : 4

Q.11 By what percentage should a woman increase the speed of her car to reduce the time by 80% to cover a fixed distance?

- Ans
- 1. 400%
 - 2. 100%
 - 3. 300%
 - 4. 200%

Question ID : 264330112845
Option 1 ID : 264330443467
Option 2 ID : 264330443466
Option 3 ID : 264330443468
Option 4 ID : 264330443465
Status : Answered
Chosen Option : 1

Q.12 A, B, C work one after the other in that order. Each can finish a work individually in 10, 16, 12 days, respectively. After working for 3 such cycles ABC, ABC, ABC, then A and C leave the work. B alone will complete the rest of the work in:

- Ans
- ✓ 1. $4\frac{1}{5}$ days
 - ✗ 2. $1\frac{4}{5}$ days
 - ✗ 3. $5\frac{4}{5}$ days
 - ✗ 4. $5\frac{1}{4}$ days

Question ID : 264330103748
 Option 1 ID : 264330407297
 Option 2 ID : 264330407299
 Option 3 ID : 264330407298
 Option 4 ID : 264330407300
 Status : Answered
 Chosen Option : 1

Q.13 An ice cream cone is to be made to have volume $\frac{128}{3}\pi$ and the height of the cone is double the radius of the cone. What is the slant height of the cone?

- Ans
- ✗ 1. $\sqrt{40}$
 - ✗ 2. $\sqrt{90}$
 - ✗ 3. $\sqrt{60}$
 - ✓ 4. $\sqrt{80}$

Question ID : 264330112120
 Option 1 ID : 264330440567
 Option 2 ID : 264330440568
 Option 3 ID : 264330440565
 Option 4 ID : 264330440566
 Status : Answered
 Chosen Option : 4

Q.14 Which of the following is a pair of co-primes?

- Ans
- ✗ 1. (7, 35)
 - ✗ 2. (217, 651)
 - ✗ 3. (32, 62)
 - ✓ 4. (198, 175)

Question ID : 264330105984
 Option 1 ID : 264330416237
 Option 2 ID : 264330416239
 Option 3 ID : 264330416240
 Option 4 ID : 264330416238
 Status : Answered
 Chosen Option : 1

Q.15 Let $x = 5, y = 8$. Arrange the following numbers in ascending order.

$$\frac{x+1}{y-1}, \frac{2x}{2y-3}, \frac{y+1}{2x-1}, \frac{y+1}{3x-y}$$

Ans

✗ 1. $\frac{2x}{2y-3}, \frac{x+1}{y-1}, \frac{y+1}{3x-y}, \frac{y+1}{2x-1}$

✗ 2. $\frac{2x}{2y-3}, \frac{y+1}{2x-1}, \frac{x+1}{y-1}, \frac{y+1}{3x-y}$

✓ 3. $\frac{2x}{2y-3}, \frac{x+1}{y-1}, \frac{y+1}{2x-1}, \frac{y+1}{3x-y}$

✗ 4. $\frac{x+1}{y-1}, \frac{2x}{2y-3}, \frac{y+1}{2x-1}, \frac{y+1}{3x-y}$

Question ID : 264330126120

Option 1 ID : 264330494154

Option 2 ID : 264330494152

Option 3 ID : 264330494155

Option 4 ID : 264330494153

Status : Answered

Chosen Option : 3

Section : Computer Proficiency

Q.1 In MS-Word 2010, Page number option comes under which of the following menus?

Ans ✗ 1. Pages

✓ 2. Header and Footer

✗ 3. Home Tab

✗ 4. Page layout

Question ID : 264330176705

Option 1 ID : 264330693038

Option 2 ID : 264330693035

Option 3 ID : 264330693037

Option 4 ID : 264330693036

Status : Answered

Chosen Option : 1

Q.2 In MS Excel 365, when entering data into an MS Excel 365 spreadsheet, which data type is most suitable for a person's first name?

Ans ✗ 1. Date

✗ 2. Currency

✓ 3. Text

✗ 4. Number

Question ID : 264330178569

Option 1 ID : 264330700303

Option 2 ID : 264330700306

Option 3 ID : 264330700304

Option 4 ID : 264330700305

Status : Answered

Chosen Option : 3

Q.3 Which option allows you to adjust the line spacing between lines of text in a paragraph in MS-Word 365?

- Ans
- 1. Line Spacing
 - 2. Text Indentation
 - 3. Paragraph Border
 - 4. Paragraph Alignment

Question ID : 264330173333
Option 1 ID : 264330679813
Option 2 ID : 264330679811
Option 3 ID : 264330679814
Option 4 ID : 264330679812
Status : Answered
Chosen Option : 1

Q.4 What is the default print range in Microsoft Excel 365, when printing an entire worksheet?

- Ans
- 1. Entire Workbook
 - 2. Active Sheet
 - 3. Selected Range
 - 4. All Sheets

Question ID : 264330178082
Option 1 ID : 264330698394
Option 2 ID : 264330698392
Option 3 ID : 264330698393
Option 4 ID : 264330698391
Status : Answered
Chosen Option : 2

Q.5 In MS Excel 365, you are working on an Excel worksheet and need to select an entire row above the current row. Which keyboard shortcut combination should you use?

- Ans
- 1. Ctrl + Spacebar
 - 2. Shift + Spacebar
 - 3. Alt + Spacebar
 - 4. Ctrl + +

Question ID : 264330182782
Option 1 ID : 264330716900
Option 2 ID : 264330716899
Option 3 ID : 264330716902
Option 4 ID : 264330716901
Status : Not Attempted and Marked For Review
Chosen Option : --

Q.6 Which of the following is NOT a layer of the Internet Protocol Suite (TCP/IP)?

- Ans
- 1. Application layer
 - 2. Physical layer
 - 3. Network layer
 - 4. Transport layer

Question ID : 264330178552
Option 1 ID : 264330700235
Option 2 ID : 264330700238
Option 3 ID : 264330700237
Option 4 ID : 264330700236
Status : Answered
Chosen Option : 2

Q.7 In MS Word 365, what happens when you select text and then press the 'Backspace' key?

- Ans
- 1. The text is moved to the end of the document
 - 2. The text is formatted with a bold style
 - 3. The text is copied to the clipboard
 - 4. The text is deleted to the left of the cursor

Question ID : 264330180855
Option 1 ID : 264330709386
Option 2 ID : 264330709384
Option 3 ID : 264330709383
Option 4 ID : 264330709385
Status : Answered
Chosen Option : 4

Q.8 Which of the following operations is done using shortcut key Ctrl + Shift + > in MS Word 365?

- Ans
- 1. Increase the font size
 - 2. Decrease the font size
 - 3. Left Alignment of text
 - 4. Right Alignment of text

Question ID : 264330180445
Option 1 ID : 264330707747
Option 2 ID : 264330707748
Option 3 ID : 264330707749
Option 4 ID : 264330707750
Status : Answered
Chosen Option : 1

Q.9 Which formatting feature in MS Word 365, is used to emphasise text by making it bold, italic or underlined in documents?

- Ans
- 1. Hyperlinking
 - 2. Page margins
 - 3. Font styling
 - 4. Text wrapping

Question ID : 264330178578
Option 1 ID : 264330700340
Option 2 ID : 264330700342
Option 3 ID : 264330700341
Option 4 ID : 264330700339
Status : Answered
Chosen Option : 3

Q.10 An attachment in an E-mail can be:

- 1) Digital photos
- 2) Documents

- Ans
- 1. Only (2)
 - 2. Only (1)
 - 3. Both (1) and (2)
 - 4. Neither (1) nor (2)

Question ID : 264330175931

Option 1 ID : 264330690020

Option 2 ID : 264330690019

Option 3 ID : 264330690021

Option 4 ID : 264330690022

Status : Answered

Chosen Option : 3

Constable Executive Male and Female in Delhi Police Examination 2023

Roll Number	
Candidate Name	
Venue Name	iON Digital Zone iDZ Harahuwa Chauraha
Exam Date	14/11/2023
Exam Time	9:00 AM - 10:30 AM
Subject	Constable Executive Male and Female in Delhi Police Examination 2023

Section : General Knowledge

Q.1 निम्नलिखित विकल्पों में से कौन-सा/से शस्यभूमि पारिस्थितिकी तंत्र के संबंध में सही है/हैं?
कथन 1. शस्यभूमि एक मानव निर्मित पारिस्थितिकी तंत्र है।
कथन 2. शस्यभूमि पारिस्थितिकी तंत्र में बहुत कम अनुवांशिक विविधता पाई जाती है।

- Ans
- 1. कथन 1 और 2 दोनों गलत हैं
 - 2. केवल कथन 1 सही है
 - 3. कथन 1 और 2 दोनों सही हैं
 - 4. केवल कथन 2 सही है

Question ID : 264330131804
Option 1 ID : 264330516317
Option 2 ID : 264330516315
Option 3 ID : 264330516318
Option 4 ID : 264330516316
Status : Answered
Chosen Option : 2

Q.2 सफल शिकार क्रियाकलाप का जश्र मनाने के लिए सिद्धी धमाल निम्नलिखित में से किस राज्य में नृत्य के रूप में किया जाता है?

- Ans
- 1. हरियाणा
 - 2. राजस्थान
 - 3. पंजाब
 - 4. गुजरात

Question ID : 264330110420
Option 1 ID : 264330433960
Option 2 ID : 264330433957
Option 3 ID : 264330433959
Option 4 ID : 264330433958
Status : Answered
Chosen Option : 2

Q.3 निम्नलिखित में से कौन-सा आर.बी.आई. (RBI)-पंजीकृत एन.बी.एफ.सी.-एम.एफ.आई. (NBFC-MFI) है जो ग्रामीण के संयुक्त देयता समूह उधार मॉडल पर काम करता है?

- Ans 1. फ्यूजन माइक्रोफाइनेंस प्राइवेट लिमिटेड
 2. आशीर्वाद माइक्रोफाइनेंस लिमिटेड
 3. बी.एस.एस. (BSS) माइक्रोफाइनेंस लिमिटेड
 4. ई.एस.ए.एफ. (ESAF) माइक्रोफाइनेंस एंड इन्वेस्टमेंट्स (प्राइवेट) लिमिटेड

Question ID : 264330116500
Option 1 ID : 264330458088
Option 2 ID : 264330458085
Option 3 ID : 264330458086
Option 4 ID : 264330458087
Status : Answered
Chosen Option : 3

Q.4 निम्नलिखित में से कौन-सा/से पंचवर्षीय योजनाओं के लक्ष्य है/हैं?

- Ans 1. विकास, आधुनिकीकरण, समता और आत्मनिर्भरता
 2. केवल विकास
 3. केवल विकास, आधुनिकीकरण और समता
 4. विकास और बिचौलियों का उन्मूलन

Question ID : 264330117742
Option 1 ID : 264330462785
Option 2 ID : 264330462784
Option 3 ID : 264330462783
Option 4 ID : 264330462786
Status : Answered
Chosen Option : 1

Q.5 Which of the following is NOT a noble gas?

- Ans 1. Nitrogen (N)
 2. Neon (Ne)
 3. Argon (Ar)
 4. Helium (He)

Question ID : 264330173653
Option 1 ID : 264330681094
Option 2 ID : 264330681092
Option 3 ID : 264330681093
Option 4 ID : 264330681091
Status : Answered
Chosen Option : 1

Q.6 राष्ट्रीय जलमार्ग 10 (NW-10) किस राज्य में स्थित है?

- Ans 1. केरल
 2. तमिलनाडु
 3. महाराष्ट्र
 4. पश्चिम बंगाल

Question ID : 264330119887
Option 1 ID : 264330469823
Option 2 ID : 264330469824
Option 3 ID : 264330469826
Option 4 ID : 264330469825
Status : Answered
Chosen Option : 3

Q.7 इब्र बतूता की यात्रा पुस्तक, जिसे रिहला कहा जाता है, मूल रूप से _____ भाषा में लिखी गई थी।

- Ans
- 1. फ़ारसी
 - 2. अरबी
 - 3. प्राकृत
 - 4. उर्दू

Question ID : 264330111377
Option 1 ID : 264330437593
Option 2 ID : 264330437595
Option 3 ID : 264330437596
Option 4 ID : 264330437594
Status : Answered
Chosen Option : 2

Q.8 निम्नलिखित में से किस अधिनियम के द्वारा सरकार प्रतिबंधात्मक व्यापार पर रोक लगाती है?

- Ans
- 1. विदेश व्यापार नीति
 - 2. फेमा (FEMA) अधिनियम
 - 3. औद्योगिक नीति अधिनियम 1991
 - 4. एम.आर.टी.पी. (MRTP) अधिनियम

Question ID : 264330110194
Option 1 ID : 264330433056
Option 2 ID : 264330433054
Option 3 ID : 264330433055
Option 4 ID : 264330433053
Status : Answered
Chosen Option : 1

Q.9 निम्नलिखित में से किस राज्य ने खेलो इंडिया यूथ गेम्स (Khelo India Youth Games) के चौथे संस्करण की मेजबानी की?

- Ans
- 1. असम
 - 2. तेलंगाना
 - 3. हरियाणा
 - 4. कर्नाटक

Question ID : 264330113755
Option 1 ID : 264330447108
Option 2 ID : 264330447107
Option 3 ID : 264330447105
Option 4 ID : 264330447106
Status : Answered
Chosen Option : 3

Q.10 IBA महिला विश्व मुक्केबाजी चैंपियनशिप-2023 की मेजबानी किस देश ने की?

- Ans
- 1. पाकिस्तान
 - 2. भारत
 - 3. बांग्लादेश
 - 4. श्रीलंका

Question ID : 264330113729
Option 1 ID : 264330447002
Option 2 ID : 264330447001
Option 3 ID : 264330447004
Option 4 ID : 264330447003
Status : Answered
Chosen Option : 2

Q.11 निम्नलिखित में से कौन-सा विकल्प आग्नेय चट्टान का उदाहरण है?

- Ans
- 1. चर्ट (Chert)
 - 2. रायोलाइट (Rhyolite)
 - 3. संगुटिकाश्म (Conglomerate)
 - 4. संकोणाश्म (Breccia)

Question ID : 264330131680
Option 1 ID : 264330515822
Option 2 ID : 264330515819
Option 3 ID : 264330515820
Option 4 ID : 264330515821
Status : Answered
Chosen Option : 2

Q.12 अनंत आर. कृष्णन एक प्रसिद्ध _____ वादक हैं।

- Ans
- 1. सितार
 - 2. बाँसुरी
 - 3. संतूर
 - 4. मृदंगम

Question ID : 264330111962
Option 1 ID : 264330439935
Option 2 ID : 264330439934
Option 3 ID : 264330439936
Option 4 ID : 264330439933
Status : Answered
Chosen Option : 2

Q.13 _____ आयु वर्ग के बच्चों (प्रतिपाल्यों) को शैक्षिक अवसर प्रदान करना माता-पिता का मौलिक कर्तव्य है।

- Ans
- 1. 6-16 वर्ष
 - 2. 6-15 वर्ष
 - 3. 7-14 वर्ष
 - 4. 6-14 वर्ष

Question ID : 264330130778
Option 1 ID : 264330512226
Option 2 ID : 264330512223
Option 3 ID : 264330512224
Option 4 ID : 264330512225
Status : Answered
Chosen Option : 4

Q.14 1939 में फॉरवर्ड ब्लॉक की स्थापना निम्नलिखित में से किसने की थी?

- Ans
- 1. महात्मा गांधी
 - 2. चितरंजन दास
 - 3. जवाहर लाल नेहरू
 - 4. सुभाष चंद्र बोस

Question ID : 264330119004
Option 1 ID : 264330466671
Option 2 ID : 264330466674
Option 3 ID : 264330466672
Option 4 ID : 264330466673
Status : Answered
Chosen Option : 4

Q.15 वर्तमान कीमतों पर राष्ट्रीय आय की गणना _____ के आधार पर की जाती है।

- Ans
- 1. भविष्य की कीमतों
 - 2. प्रचलित कीमतों
 - 3. स्थिर कीमतों
 - 4. तुलनात्मक कीमतों

Question ID : 264330120878
Option 1 ID : 264330473729
Option 2 ID : 264330473727
Option 3 ID : 264330473728
Option 4 ID : 264330473730
Status : Answered
Chosen Option : 4

Q.16 भारतीय संविधान का कौन-सा अनुच्छेद विधेयकों पर राज्यपाल की स्वीकृति से संबंधित है?

- Ans
- 1. अनुच्छेद 164
 - 2. अनुच्छेद 201
 - 3. अनुच्छेद 264
 - 4. अनुच्छेद 200

Question ID : 26433089974
Option 1 ID : 264330353373
Option 2 ID : 264330353375
Option 3 ID : 264330353374
Option 4 ID : 264330353376
Status : Answered
Chosen Option : 1

Q.17 निम्नलिखित में से किस क्षेत्र में वर्ष में सर्वाधिक वर्षा होती है?

- Ans
- 1. जोधपुर
 - 2. चेन्नई
 - 3. नागपुर
 - 4. शिलांग

Question ID : 264330175825
Option 1 ID : 264330689602
Option 2 ID : 264330689601
Option 3 ID : 264330689600
Option 4 ID : 264330689599
Status : Answered
Chosen Option : 4

Q.18 प्रधान मंत्री गरीब कल्याण योजना (PMGKY) किस वर्ष में शुरू की गई थी?

- Ans
- 1. 2015 में
 - 2. 2017 में
 - 3. 2016 में
 - 4. 2014 में

Question ID : 264330110010
Option 1 ID : 264330432318
Option 2 ID : 264330432320
Option 3 ID : 264330432319
Option 4 ID : 264330432317
Status : Answered
Chosen Option : 4

Q.19 निम्नलिखित में से किस वर्ष राजनीतिक हिंसा को दबाने के लिए रॉलेट एक्ट पारित किया गया था?

- Ans 1. 1919
 2. 1924
 3. 1921
 4. 1915

Question ID : 264330118598
Option 1 ID : 264330465646
Option 2 ID : 264330465643
Option 3 ID : 264330465644
Option 4 ID : 264330465645
Status : Answered
Chosen Option : 1

Q.20 भोजन के किस भाग से शौच बन कर निकलता है?

- Ans 1. भोजन में पोषक तत्व
 2. भोजन में विटामिन
 3. भोजन में ग्लूकोज
 4. अप्रयुक्त भोजन

Question ID : 264330118272
Option 1 ID : 264330464903
Option 2 ID : 264330464904
Option 3 ID : 264330464906
Option 4 ID : 264330464905
Status : Answered
Chosen Option : 4

Q.21 बहुचर्चित अंग्रेजी उपन्यास 'एलिस'ज एडवेंचर्स इन वंडरलैंड (Alice's Adventures in Wonderland)' निम्नलिखित में से किस लेखक ने लिखा था?

- Ans 1. मैरी शेली
 2. लुईस कैरोल
 3. एडगर एलन पो
 4. हरमन मेलविल

Question ID : 26433055369
Option 1 ID : 264330216461
Option 2 ID : 264330216460
Option 3 ID : 264330216463
Option 4 ID : 264330216462
Status : Answered
Chosen Option : 2

Q.22 गैर-कॉर्पोरेट, गैर-कृषि लघु/सूक्ष्म उद्यमों को ₹10 लाख तक का ऋण प्रदान करने के लिए प्रधानमंत्री द्वारा 8 अप्रैल 2015 को आरंभ की गई योजना की पहचान कीजिए?

- Ans 1. भारत रोजगार योजना
 2. महात्मा गांधी राष्ट्रीय ग्रामीण रोजगार गारंटी अधिनियम
 3. प्रधानमंत्री श्रम योगी मान-धन
 4. प्रधानमंत्री मुद्रा योजना

Question ID : 264330130603
Option 1 ID : 264330511526
Option 2 ID : 264330511524
Option 3 ID : 264330511525
Option 4 ID : 264330511523
Status : Answered
Chosen Option : 4

Q.23 निम्नलिखित में से प्रधान मंत्री कौन था जब 'नई आर्थिक नीति' के भाग के रूप में वैश्वीकरण नीति प्रस्तुत की गई थी?

- Ans
- 1. अटल बिहारी वाजपेयी
 - 2. पी.वी नरसिम्हा राव
 - 3. मनमोहन सिंह
 - 4. नरेंद्र मोदी

Question ID : 264330111577
Option 1 ID : 264330438393
Option 2 ID : 264330438396
Option 3 ID : 264330438395
Option 4 ID : 264330438394
Status : Answered
Chosen Option : 3

Q.24 निम्नलिखित में से कौन-सा युग्म गलत है?

- Ans
- 1. अधातु - लैड
 - 2. अलौह धातु - जिंक
 - 3. लौह धातु - लोहा
 - 4. बहुमूल्य धातु - प्लैटिनम

Question ID : 264330116378
Option 1 ID : 264330457600
Option 2 ID : 264330457599
Option 3 ID : 264330457598
Option 4 ID : 264330457597
Status : Answered
Chosen Option : 2

Q.25 निम्नलिखित में से कौन-सा सांस्कृतिक उत्सव उत्तर प्रदेश पर्यटन विभाग द्वारा आयोजित किया जाता है?

- Ans
- 1. निशागंधी उत्सव
 - 2. नट्यांजलि उत्सव
 - 3. हम्पी नृत्य उत्सव
 - 4. ताज महोत्सव

Question ID : 264330141780
Option 1 ID : 264330555440
Option 2 ID : 264330555442
Option 3 ID : 264330555439
Option 4 ID : 264330555441
Status : Answered
Chosen Option : 2

Q.26 Which of the following is the correct match between column-A and column-B?

Column-A

- i. Producer
- ii. Primary consumer
- iii. Secondary consumer
- iv. Decomposer

Column-B

- a. Rabbit
- b. Green plants
- c. Bacteria and fungus
- d. Fox

- Ans
- 1. i-a, ii-b, iii-c, iv-d
 - 2. i-b, ii-a, iii-d, iv-c
 - 3. i-d, ii-c, iii-b, iv-a
 - 4. i-c, ii-d, iii-a, iv-b

Question ID : 26433011896

Option 1 ID : 264330439669

Option 2 ID : 264330439671

Option 3 ID : 264330439672

Option 4 ID : 264330439670

Status : Answered

Chosen Option : 2

Q.27 टोक्यो ओलंपिक 2021 में भारत के लिए पहला पदक किसने जीता?

- Ans
- 1. मैरी कॉम
 - 2. पीवी सिंधु
 - 3. मीराबाई चानू
 - 4. लवलीना बोरगोहेन

Question ID : 264330119259

Option 1 ID : 264330467323

Option 2 ID : 264330467325

Option 3 ID : 264330467324

Option 4 ID : 264330467326

Status : Answered

Chosen Option : 3

Q.28 एनी बेसेंट _____ के प्रभाव में एक फैबियन समाजवादी थीं।

- Ans
- 1. आर्थर मिलर
 - 2. चार्ल्स टर्नर
 - 3. सिगमंड फ्रॉयड
 - 4. जॉर्ज बर्नार्ड शॉ

Question ID : 264330119028

Option 1 ID : 264330466770

Option 2 ID : 264330466769

Option 3 ID : 264330466768

Option 4 ID : 264330466767

Status : Answered

Chosen Option : 4

Q.29 दिए गए स्मारकों में से कौन-सा स्मारक कर्नाटक में स्थित नहीं है?

- Ans
- 1. कित्तूर किला
 - 2. गोल गुम्बज़
 - 3. होयसलेश्वर मंदिर
 - 4. पलक्कड़ किला

Question ID : 264330165328

Option 1 ID : 264330648391

Option 2 ID : 264330648392

Option 3 ID : 264330648393

Option 4 ID : 264330648394

Status : Answered

Chosen Option : 1

Q.30 भारत की जनगणना 2011 के अनुसार, निम्नलिखित में से राज्यों और केंद्र शासित प्रदेशों के किस समूह में उच्चतम साक्षरता दर दर्ज की गई?

- Ans
- 1. मिजोरम और दिल्ली
 - 2. केरल और पुडुचेरी
 - 3. गोवा और लक्षद्वीप
 - 4. केरल और लक्षद्वीप

Question ID : 264330167029

Option 1 ID : 264330655122

Option 2 ID : 264330655119

Option 3 ID : 264330655120

Option 4 ID : 264330655121

Status : Answered

Chosen Option : 4

Q.31 निम्नलिखित में से किस भारतीय ओलंपियन ने 'प्लेइंग टू विन' (Playing to Win) शीर्षक की आत्मकथा लिखी है?

- Ans
- 1. अभिनव बिंद्रा
 - 2. साइना नेहवाल
 - 3. कर्णम मल्लेश्वरी
 - 4. लवलीन बोरगोहेन

Question ID : 26433066677

Option 1 ID : 264330261234

Option 2 ID : 264330261235

Option 3 ID : 264330261232

Option 4 ID : 264330261233

Status : Answered

Chosen Option : 2

Q.32 उस्ताद अल्लाह रक्खा, साबिर खान, पंडित किशन महाराज और पंडित ज्ञान प्रकाश घोष का किस वाद्य-यंत्र से संबंध है?

- Ans
- 1. शहनाई
 - 2. मृदंगम
 - 3. तबला
 - 4. वॉयलिन

Question ID : 264330111187
Option 1 ID : 264330436834
Option 2 ID : 264330436833
Option 3 ID : 264330436835
Option 4 ID : 264330436836
Status : Answered
Chosen Option : 3

Q.33 मगध साम्राज्य पर शासन करने वाले प्रथम राजवंश का नाम क्या था?

- Ans
- 1. नन्द वंश
 - 2. मौर्य वंश
 - 3. शिशुनाग वंश
 - 4. हर्यक वंश

Question ID : 264330123735
Option 1 ID : 264330484977
Option 2 ID : 264330484978
Option 3 ID : 264330484976
Option 4 ID : 264330484975
Status : Answered
Chosen Option : 4

Q.34 'प्यादा' निम्नलिखित में से किस खेल से संबंधित है?

- Ans
- 1. शतरंज
 - 2. टेनिस
 - 3. क्रिकेट
 - 4. बैडमिंटन

Question ID : 264330130641
Option 1 ID : 264330511675
Option 2 ID : 264330511677
Option 3 ID : 264330511678
Option 4 ID : 264330511676
Status : Answered
Chosen Option : 1

Q.35 भरतनाट्यम की उत्पत्ति निम्न में से किस राज्य से हुई है?

- Ans
- 1. आंध्र प्रदेश
 - 2. तेलंगाना
 - 3. महाराष्ट्र
 - 4. तमिलनाडु

Question ID : 264330109276
Option 1 ID : 264330429384
Option 2 ID : 264330429383
Option 3 ID : 264330429381
Option 4 ID : 264330429382
Status : Answered
Chosen Option : 4

Q.36 भारत से पहले, किस देश ने नीति-निर्माण उद्देश्यों के लिए पंचवर्षीय योजनाएं शुरू की थी?

- Ans 1. सोवियत संघ
 2. संयुक्त राज्य अमेरिका
 3. ग्रेट ब्रिटेन
 4. जर्मनी

Question ID : 264330111737
Option 1 ID : 264330439035
Option 2 ID : 264330439033
Option 3 ID : 264330439034
Option 4 ID : 264330439036
Status : Answered
Chosen Option : 2

Q.37 भारतीय संसद ने 2002 के 86वें संविधान संशोधन अधिनियम को मंजूरी दी थी, जो _____ के आयु वर्ग के बच्चों के लिए प्रारंभिक शिक्षा का मौलिक अधिकार सुनिश्चित करता है।

- Ans 1. 7-16 वर्ष
 2. 6-17 वर्ष
 3. 5-11 वर्ष
 4. 6-14 वर्ष

Question ID : 264330182974
Option 1 ID : 264330717630
Option 2 ID : 264330717631
Option 3 ID : 264330717628
Option 4 ID : 264330717629
Status : Answered
Chosen Option : 4

Q.38 राज्य विधानमंडल के प्रत्येक सदन को समय-समय पर बैठक के लिए कौन बुलाता है?

- Ans 1. विधानसभा-उपाध्यक्ष
 2. मुख्यमंत्री
 3. राज्यपाल
 4. विधानसभा-अध्यक्ष

Question ID : 264330173545
Option 1 ID : 264330680662
Option 2 ID : 264330680660
Option 3 ID : 264330680659
Option 4 ID : 264330680661
Status : Answered
Chosen Option : 3

Q.39 महान कवि और मानवतावादी लेखक रवीन्द्र नाथ ठाकुर ने किस घटना के विरोध में अपनी नाइटहुड की उपाधि लौटा दी थी?

- Ans 1. बंगाल विभाजन, 1905
 2. कामागाटामारू कांड, 1914
 3. पिट्स इंडिया एक्ट, 1784
 4. जलियांवाला बाग हत्याकांड, 1919

Question ID : 264330123743
Option 1 ID : 264330485007
Option 2 ID : 264330485008
Option 3 ID : 264330485010
Option 4 ID : 264330485009
Status : Answered
Chosen Option : 4

Q.40 भारतीय संविधान के किस अनुच्छेद में कहा गया है कि भारत का कोई भी नागरिक किसी अन्य राष्ट्र से कोई उपाधि स्वीकार नहीं करेगा?

- Ans
- 1. अनुच्छेद 18 (1)
 - 2. अनुच्छेद 18 (2)
 - 3. अनुच्छेद 18 (4)
 - 4. अनुच्छेद 18 (3)

Question ID : 264330180046
Option 1 ID : 264330706167
Option 2 ID : 264330706168
Option 3 ID : 264330706170
Option 4 ID : 264330706169
Status : Answered
Chosen Option : 4

Q.41 भारतीय राष्ट्रपति की न्यायिक शक्तियों और उनकी परिभाषा के संबंध में निम्नलिखित में से कौन सा युग्म गलत मिलान किया गया है?

- Ans
- 1. रूपान्तरण - यह सजा के एक रूप को हल्के रूप में बदलने को दर्शाता है
 - 2. राहत - यह उस सजा के स्थान पर कम सजा देने को दर्शाता है जो मूल रूप से दी गई थी
 - 3. प्रविलंबन - इसका अर्थ है सजा की प्रकृति को बदले बिना उसकी अवधि को कम करना
 - 4. क्षमा - यह सजा और दोषसिद्धि दोनों को हटा देता है

Question ID : 264330130468
Option 1 ID : 264330510984
Option 2 ID : 264330510985
Option 3 ID : 264330510986
Option 4 ID : 264330510983
Status : Answered
Chosen Option : 4

Q.42 निम्नलिखित में से कौन वैदिक काल में राजा के लिए धार्मिक अनुष्ठान करता था?

- Ans
- 1. पुरोहित
 - 2. ग्रामणी
 - 3. ब्रजपति
 - 4. सेनानी

Question ID : 264330120235
Option 1 ID : 264330471196
Option 2 ID : 264330471197
Option 3 ID : 264330471195
Option 4 ID : 264330471198
Status : Answered
Chosen Option : 1

Q.43 भारतीय संविधान का निम्नलिखित में से कौन-सा अनुच्छेद कुछ मामलों में कार्य, शिक्षा और सार्वजनिक सहायता के अधिकार से संबंधित है?

- Ans
- 1. अनुच्छेद 44
 - 2. अनुच्छेद 42
 - 3. अनुच्छेद 43
 - 4. अनुच्छेद 41

Question ID : 264330180057
Option 1 ID : 264330706214
Option 2 ID : 264330706212
Option 3 ID : 264330706213
Option 4 ID : 264330706211
Status : Answered
Chosen Option : 1

Q.44 निम्नलिखित में से कौन-से शब्द 42वें संशोधन अधिनियम द्वारा प्रस्तावना में जोड़े गए थे?

- Ans
- 1. विचारों की स्वतंत्रता
 - 2. समाजवादी, धर्मनिरपेक्ष
 - 3. भाईचारा, जो गरिमा का आश्वासन देता है
 - 4. न्याय, सामाजिक

Question ID : 264330110560
Option 1 ID : 264330434519
Option 2 ID : 264330434518
Option 3 ID : 264330434520
Option 4 ID : 264330434517
Status : Answered
Chosen Option : 2

Q.45 निम्नलिखित में से किस भरतनाट्यम नर्तक ने 2021 में प्रतिष्ठित नाट्य कलानिधि पुरस्कार प्राप्त किया?

- Ans
- 1. पद्मा सुब्रह्मण्यम
 - 2. चित्रा विश्वेश्वरन
 - 3. गुरु बिपिन सिंह
 - 4. पंडित बिरजू महाराज

Question ID : 264330112873
Option 1 ID : 264330443579
Option 2 ID : 264330443580
Option 3 ID : 264330443578
Option 4 ID : 264330443577
Status : Answered
Chosen Option : 1

Q.46 निम्नलिखित में से कौन दिल्ली सल्तनत का सुल्तान था, जब दक्षिण भारत में बहमनी साम्राज्य की स्थापना हुई थी?

- Ans
- 1. मुहम्मद बिन तुगलक
 - 2. नासिरुद्दीन मोहम्मद तुगलक
 - 3. फिरोज शाह तुगलक
 - 4. गयासुद्दीन तुगलक

Question ID : 264330119763
Option 1 ID : 264330469330
Option 2 ID : 264330469329
Option 3 ID : 264330469328
Option 4 ID : 264330469327
Status : Answered
Chosen Option : 1

Q.47 निम्नलिखित में से किसे भारतीय लोक और जनजातीय नृत्य से संयुक्त भारतीय शास्त्रीय नृत्य के लिए यूरोपीय नाट्य तकनीकों को अपनाने के द्वारा संलयन कला बनाने के लिए जाना जाता था?

- Ans
- 1. बिपिन सिंह
 - 2. उदय शंकर
 - 3. वेम्पती चित्रा सत्यम
 - 4. केलुचरण महोपात्रा

Question ID : 264330111967
Option 1 ID : 264330439954
Option 2 ID : 264330439955
Option 3 ID : 264330439956
Option 4 ID : 264330439953
Status : Answered
Chosen Option : 1

Q.48 त्रिक पंचांग के अनुसार महाशिवरात्रि कब मनाई जाती है?

- Ans
- 1. माघ, कृष्ण पक्ष, चतुर्दशी
 - 2. आषाढ़, कृष्ण पक्ष, त्रयोदशी
 - 3. फाल्गुन, शुक्ल पक्ष, एकादशी
 - 4. चैत्र, शुक्ल पक्ष, एकम

Question ID : 264330110462
Option 1 ID : 264330434127
Option 2 ID : 264330434128
Option 3 ID : 264330434126
Option 4 ID : 264330434125
Status : Answered
Chosen Option : 2

Q.49 निम्नलिखित में से कौन उत्तर प्रदेश की निर्वाह फसल का उदाहरण है?

- Ans
- 1. जूट
 - 2. गेहूँ
 - 3. कपास
 - 4. गन्ना

Question ID : 264330119879
Option 1 ID : 264330469791
Option 2 ID : 264330469792
Option 3 ID : 264330469794
Option 4 ID : 264330469793
Status : Answered
Chosen Option : 4

Q.50 मोहनजोदड़ो के विशाल स्नानागार की खुदाई निम्नलिखित में से किस क्षेत्र में की गई थी?

- Ans
- 1. दुर्ग
 - 2. निचला शहर
 - 3. रिहायशी कॉम्प्लेक्स
 - 4. घर का आंगन

Question ID : 264330109639
Option 1 ID : 264330430834
Option 2 ID : 264330430833
Option 3 ID : 264330430836
Option 4 ID : 264330430835
Status : Answered
Chosen Option : 4

Section : Reasoning

Q.1 निम्नलिखित में से कौन सा पद (अक्षर-समूह) दी गई श्रृंखला में प्रश्न चिह्न (?) के स्थान पर आएगा?
KYIB, IUKE, GQMJ, ?, CIQR

- Ans
- 1. HNON
 - 2. ENOM
 - 3. HMNO
 - 4. EMON

Question ID : 264330102175
Option 1 ID : 264330401165
Option 2 ID : 264330401168
Option 3 ID : 264330401167
Option 4 ID : 264330401166
Status : Answered
Chosen Option : 4

Q.2 निम्नलिखित में से कौन-सी विकल्प आकृति नीचे दी गई आकृति के स्वरूप
(पैटर्न) को पूरा करेगी?



Ans

- 1.
- 2.
- 3.
- 4.

Question ID : 26433080610
Option 1 ID : 264330316375
Option 2 ID : 264330316373
Option 3 ID : 264330316376
Option 4 ID : 264330316374
Status : Answered
Chosen Option : 1

Q.3 उस विकल्प का चयन कीजिए, जो तीसरे शब्द से उसी प्रकार संबंधित है, जिस प्रकार दूसरा शब्द पहले शब्द से संबंधित है।
(शब्दों को अंग्रेजी/हिंदी के अर्थपूर्ण शब्दों के रूप में माना जाना चाहिए और ये शब्द, अक्षरों की संख्या/ व्यंजनों/स्वरों की संख्या के आधार पर एक-दूसरे से संबंधित नहीं होने चाहिए।)
विषाणु : इन्फ्लुएंजा :: कवक : ?

- Ans
- 1. अमलतास
 - 2. शैवाल
 - 3. जीवाणु
 - 4. एस्परगिलोसिस

Question ID : 26433070281
Option 1 ID : 264330275601
Option 2 ID : 264330275602
Option 3 ID : 264330275603
Option 4 ID : 264330275600
Status : Marked For Review
Chosen Option : 2

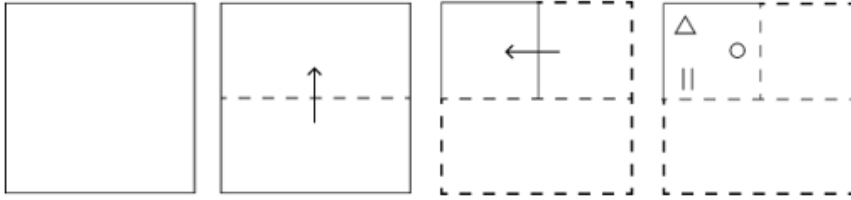
Q.4 एक निश्चित कूट भाषा में 'CALIBER' को 'ECNGDGT' और 'BURNING' को 'DWTLPKI' लिखा जाता है। उस भाषा में 'AUCTION' को कैसे लिखा जाएगा?

- Ans
- 1. BWDSKPR
 - 2. BVERQKST
 - 3. CVBTKQR
 - 4. CWERKQP

Question ID : 26433089418
Option 1 ID : 264330351176
Option 2 ID : 264330351173
Option 3 ID : 264330351175
Option 4 ID : 264330351174
Status : Answered
Chosen Option : 4

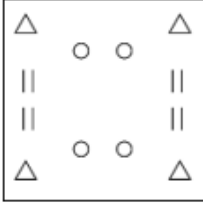
Adda247

Q.5 कागज की एक वर्गाकार शीट को बिंदीदार रेखा के अनुदिश दिखाए गए निर्देशों के अनुसार क्रमिक रूप से मोड़ा जाता है और फिर अंत में इसे छिद्रित किया जाता है। कागज को खोलने पर यह कैसा दिखेगा?

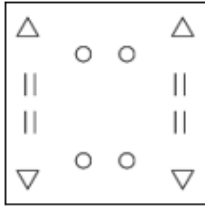


Ans

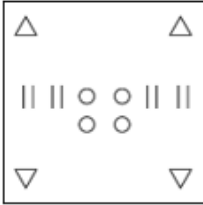
✗ 1.



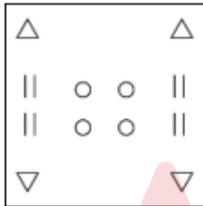
✓ 2.



✗ 3.



✗ 4.



Adda247

Question ID : 264330172431

Option 1 ID : 264330676278

Option 2 ID : 264330676277

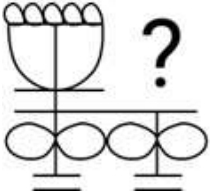
Option 3 ID : 264330676275

Option 4 ID : 264330676276

Status : Answered

Chosen Option : 2

Q.6 दी गई विकल्प आकृतियों में से उस आकृति का चयन करें जिसे नीचे दी गई आकृति में प्रश्न चिह्न (?) के स्थान पर रखने पर प्रतिरूप (पैटर्न) पूरा हो जाएगा।



Ans

- 1.
- 2.
- 3.
- 4.

Question ID : 264330111712

Option 1 ID : 264330438936

Option 2 ID : 264330438935

Option 3 ID : 264330438934

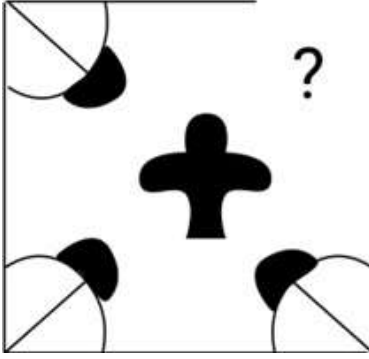
Option 4 ID : 264330438933

Status : Answered

Chosen Option : 4

Adda247

Q.7 दिए गए विकल्पों में से उस आकृति का चयन करें जो पैटर्न पूरा करने के लिए नीचे दी गई आकृति में प्रश्न चिह्न (?) के स्थान पर आएगी।



Ans

- 1.
- 2.
- 3.
- 4.

Question ID : 264330116616
 Option 1 ID : 264330458550
 Option 2 ID : 264330458552
 Option 3 ID : 264330458551
 Option 4 ID : 264330458549

Status : Answered

Chosen Option : 3

Q.8 दिए गए संयोजन की सही दर्पण छवि का चयन कीजिए, जब दर्पण को 'XY' पर रखा जाता है, जैसा कि नीचे दर्शाया गया है।



Ans

- 1. D Q Z 6 5 I N A
- 2. A N I 2 e s o D
- 3. D Q Z 6 5 I N A
- 4. D Q Z 9 S I N A

Question ID : 264330129693
 Option 1 ID : 264330508141
 Option 2 ID : 264330508139
 Option 3 ID : 264330508140
 Option 4 ID : 264330508138

Status : Answered

Chosen Option : 3

Q.9 उस समुच्चय का चयन करें जिसमें दी गई संख्याएं आपस में उसी प्रकार संबंधित हैं, जिस प्रकार प्रश्न में दिए गए समुच्चय की संख्याएं आपस में संबंधित हैं।
(ध्यान दें: संख्याओं को उनके घटक अंकों में तोड़े बिना, पूर्ण संख्याओं पर गणितीय संक्रियाएं की जानी चाहिए। जैसे, 13 के मामले में - गणितीय संक्रियाएं जैसे कि 13 में जोड़ना/घटाना/गुणा करना आदि केवल 13 पर की जा सकती हैं। लेकिन 13 को 1 और 3 में तोड़ने और फिर 1 और 3 पर गणितीय संक्रियाएं करने की अनुमति नहीं है।)
(40, 253, 17)
(30, 187, 13)

- Ans 1. (17, 77, 9)
 2. (40, 240, 20)
 3. (50, 385, 15)
 4. (25, 100, 15)

Question ID : 26433097438

Option 1 ID : 264330382444

Option 2 ID : 264330382441

Option 3 ID : 264330382443

Option 4 ID : 264330382442

Status : Answered

Chosen Option : 3



Q.10 निम्नलिखित में से कौन-सी विकल्प आकृति नीचे दी गई आकृति के स्वरूप

(पैटर्न) को पूरा करेगी?



Ans

✓ 1.



✗ 2.



✗ 3.



✗ 4.



Question ID : 26433080631

Option 1 ID : 264330316457

Option 2 ID : 264330316460

Option 3 ID : 264330316459

Option 4 ID : 264330316458

Status : Answered

Chosen Option : 1

Q.11 उस विकल्प का चयन करें जो चौथे पद से उसी प्रकार संबंधित है जिस प्रकार पहला पद, दूसरे पद से संबंधित है और पांचवां पद, छठे पद से संबंधित है।

7 : 46 :: ? : 78 :: 11 : 118

Ans ✗ 1. 13

✓ 2. 9

✗ 3. 11

✗ 4. 10

Question ID : 26433052093

Option 1 ID : 264330203677

Option 2 ID : 264330203674

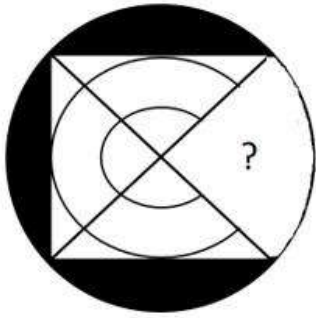
Option 3 ID : 264330203676

Option 4 ID : 264330203675

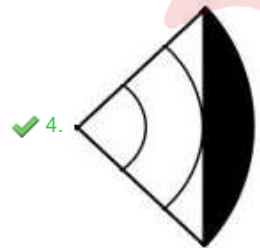
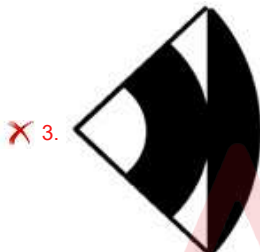
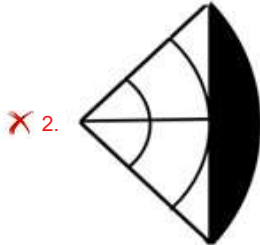
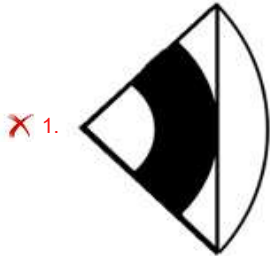
Status : Answered

Chosen Option : 2

Q.12 विकल्पों में से उस आकृति का चयन कीजिए जो प्रश्न चिह्न (?) को प्रतिस्थापित करके दिए गए पैटर्न को पूरा कर सके।



Ans



Question ID : 26433082913
Option 1 ID : 264330325488
Option 2 ID : 264330325485
Option 3 ID : 264330325487
Option 4 ID : 264330325486
Status : Answered
Chosen Option : 4

Q.13 निम्नलिखित में से कौन-सा विकल्प दी गई श्रृंखला में प्रश्नवाचक चिन्ह (?) को प्रतिस्थापित करेगा?
9000, 7200, 5760, ?, 3686.4

- Ans 1. 3860
 2. 3456
 3. 4608
 4. 4600

Question ID : 264330109436

Option 1 ID : 264330430024

Option 2 ID : 264330430022

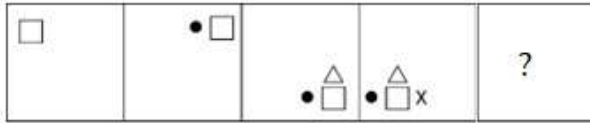
Option 3 ID : 264330430021

Option 4 ID : 264330430023

Status : Answered

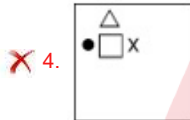
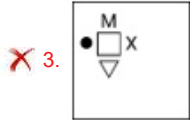
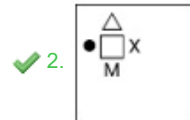
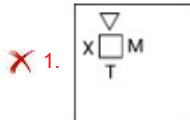
Chosen Option : 3

Q.14 नीचे आकृतियों - A, B, C और D की एक श्रृंखला दी गई है, जो एक विशेष पैटर्न का अनुसरण करती हैं। श्रृंखला को जारी रखने के लिए दिए गए विकल्पों में से कौन-सी आकृति E के स्थान पर आनी चाहिए?



(A) (B) (C) (D) (E)

Ans



Question ID : 264330111291

Option 1 ID : 264330437249

Option 2 ID : 264330437252

Option 3 ID : 264330437251

Option 4 ID : 264330437250

Status : Answered

Chosen Option : 2

Q.15 निम्नलिखित श्रृंखला को जारी रखने के लिए प्रश्न चिह्न (?) के स्थान पर कौन सी आकृति आनी चाहिए?

L D 3 A	B L D R	= □ L D	A = □ R	3 S = □	?
S	A	B	D	A	
B = □ R	= □ 3 S	A 3 S R	3 S L B	D L B R	

Ans

✗ 1.

= 3 S A
□
B D L R

✗ 2.

D 3 S =
□
L B R A

✗ 3.

S = B R
□
3 D L A

✓ 4.

D 3 S R
□
L B = A

Question ID : 264330103898

Option 1 ID : 264330407896

Option 2 ID : 264330407894

Option 3 ID : 264330407893

Option 4 ID : 264330407895

Status : Answered

Chosen Option : 4

Q.16 निम्नलिखित में से कौन-सी विकल्प आकृति नीचे दी गई आकृति के स्वरूप

(पैटर्न) को पूरा करेगी?



Ans

✗ 1.



✗ 2.



✗ 3.



✓ 4.



Question ID : 26433080598

Option 1 ID : 264330316326

Option 2 ID : 264330316328

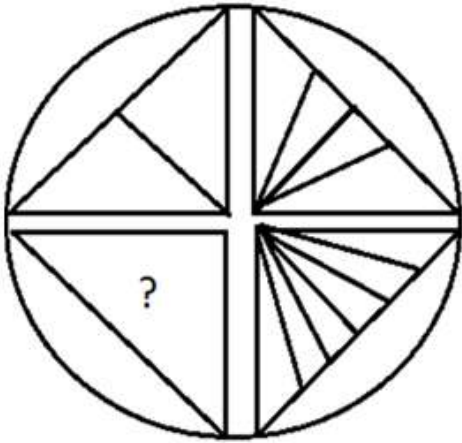
Option 3 ID : 264330316325

Option 4 ID : 264330316327

Status : Answered

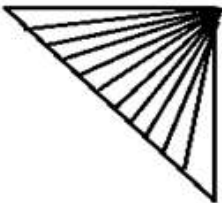
Chosen Option : 4

Q.17 उस विकल्प आकृति का चयन कीजिए जो पैटर्न को पूरा करने के लिए नीचे दी गई आकृति में प्रश्न चिह्न (?) के स्थान पर आएगी।

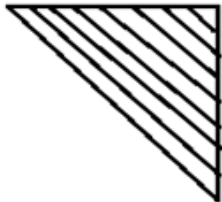


Ans

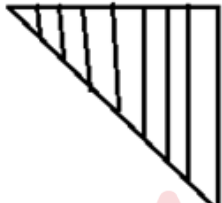
✗ 1.



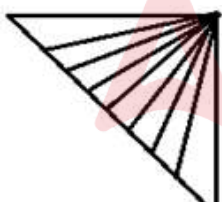
✗ 2.



✗ 3.



✓ 4.



Question ID : 264330118230

Option 1 ID : 264330464738

Option 2 ID : 264330464736

Option 3 ID : 264330464735

Option 4 ID : 264330464737

Status : Answered

Chosen Option : 4

Q.18 C, D, E, F, M और N एक गोल मेज के परितः केंद्र की ओर मुख करके बैठे हैं। D, M के दाएं से दूसरे स्थान पर बैठा है। F, N के ठीक बाएं बैठा है। N, M का निकटतम पड़ोसी नहीं है। C, D का निकटतम पड़ोसी नहीं है। निम्नलिखित में से कौन E का निकटतम पड़ोसी है?

- Ans
- 1. F
 - 2. C
 - 3. N
 - 4. D

Question ID : 264330104021
Option 1 ID : 264330408385
Option 2 ID : 264330408388
Option 3 ID : 264330408387
Option 4 ID : 264330408386
Status : Answered
Chosen Option : 4

Q.19 गणितीय चिह्नों के ऐसे सही संयोजन का चयन कीजिए, जो यथाक्रम चिह्नों (*) को प्रतिस्थापित कर प्रस्तुत समीकरण को संतुलित करे।

$$198 * 11 * 18 * 20 * 50 * 294$$

- Ans
- 1. +, x, =, +, -
 - 2. +, +, x, -, =
 - 3. +, x, -, +, =
 - 4. +, x, +, -, =

Question ID : 26433076550
Option 1 ID : 264330300267
Option 2 ID : 264330300265
Option 3 ID : 264330300264
Option 4 ID : 264330300266
Status : Answered
Chosen Option : 4

Q.20 दिए गए कथनों और निष्कर्षों को ध्यानपूर्वक पढ़ें। यह मानते हुए कि कथनों में दी गई जानकारी सही है, भले ही वह सामान्य रूप से ज्ञात तथ्यों से भिन्न लगे, निर्णय करें कि कौन-सा/से निष्कर्ष दिए गए कथनों का तार्किक रूप से अनुसरण करता है/करते हैं।

कथन:

कुछ गुलाब, लिली हैं।

कुछ लिली, चमेली हैं।

निष्कर्ष:

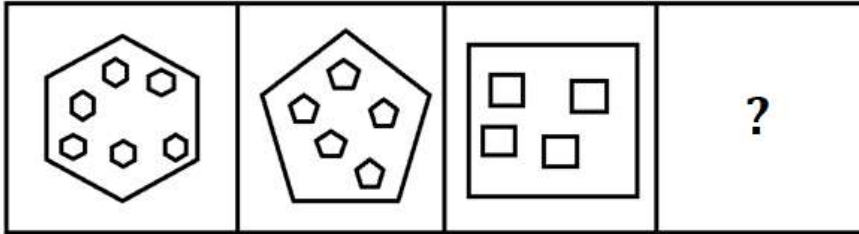
I. कुछ चमेली, गुलाब हैं।

II. सभी चमेली, गुलाब हैं।

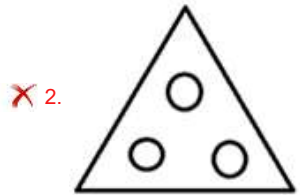
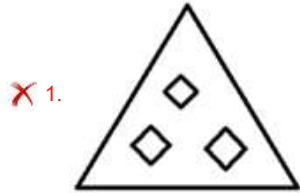
- Ans
- 1. केवल निष्कर्ष II अनुसरण करता है।
 - 2. निष्कर्ष I और II दोनों अनुसरण करते हैं।
 - 3. निष्कर्ष I और II में से कोई भी अनुसरण नहीं करता है।
 - 4. केवल निष्कर्ष I अनुसरण करता है।

Question ID : 26433069508
Option 1 ID : 264330272545
Option 2 ID : 264330272546
Option 3 ID : 264330272547
Option 4 ID : 264330272544
Status : Answered
Chosen Option : 3

Q.21 उस आकृति का चयन कीजिए, जो निम्नलिखित आकृति श्रृंखला में आगे आएगी।



Ans



Adda247

Question ID : 264330129653

Option 1 ID : 264330507978

Option 2 ID : 264330507981

Option 3 ID : 264330507979

Option 4 ID : 264330507980

Status : Answered

Chosen Option : 4

Q.22 दर्पण को चित्र में दिखाए अनुसार 'AB' पर रखे जाने पर दी गई आकृति के सही दर्पण प्रतिबिम्ब का चयन करें।



Ans

✓ 1.

✗ 2.

✗ 3.

✗ 4.

Question ID : 264330114699

Option 1 ID : 264330450884

Option 2 ID : 264330450883

Option 3 ID : 264330450882

Option 4 ID : 264330450881

Status : Answered

Chosen Option : 1

Q.23 दिए गए समीकरण में * चिह्नों को क्रमिक रूप से बदलने और समीकरण को संतुलित करने के लिए निम्नलिखित विकल्पों में से गणितीय चिह्नों के सही संयोजन का चयन कीजिए।
242 * 11 * 76 * 34 * 2 * 32

Ans ✗ 1. + - + x =

✓ 2. + + - = x

✗ 3. + + - x =

✗ 4. + + - = x

Question ID : 26433085722

Option 1 ID : 264330336591

Option 2 ID : 264330336590

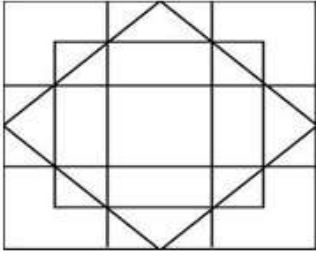
Option 3 ID : 264330336589

Option 4 ID : 264330336592

Status : Answered

Chosen Option : 2

Q.24 नीचे दी गई आकृति में कितने त्रिभुज हैं?



- Ans
- 1. 32
 - 2. 24
 - 3. 28
 - 4. 20

Question ID : 26433091712

Option 1 ID : 264330360216

Option 2 ID : 264330360215

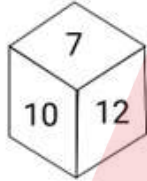
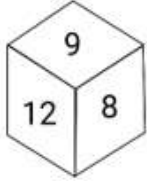
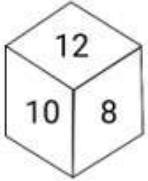
Option 3 ID : 264330360214

Option 4 ID : 264330360213

Status : Answered

Chosen Option : 3

Q.25 एक पासे के अलग-अलग फलकों पर छह संख्याएं 7, 8, 9, 10, 11 और 12 लिखी गई हैं। इस पासे की तीन स्थितियां यहां दर्शाई गई हैं। 12 संख्या वाले फलक के विपरीत फलक पर कौन-सी संख्या होगी?



- Ans
- 1. 9
 - 2. 8
 - 3. 10
 - 4. 11

Question ID : 264330106398

Option 1 ID : 264330417894

Option 2 ID : 264330417893

Option 3 ID : 264330417895

Option 4 ID : 264330417896

Status : Answered

Chosen Option : 4

Section : Numerical Ability

Q.1 एक महिला को एक निश्चित दूरी तय करने में लगने वाले समय को 80% कम करने के लिए अपनी कार की चाल में कितने प्रतिशत की वृद्धि करनी चाहिए?

- Ans
- 1. 300%
 - 2. 400%
 - 3. 200%
 - 4. 100%

Question ID : 264330112845
Option 1 ID : 264330443468
Option 2 ID : 264330443467
Option 3 ID : 264330443465
Option 4 ID : 264330443466
Status : Answered
Chosen Option : 2

Q.2 51 और 78 के बीच सभी अभाज्य संख्याओं के गुणनफल का इकाई अंक क्या है?

- Ans
- 1. 3
 - 2. 2
 - 3. 7
 - 4. 6

Question ID : 264330104275
Option 1 ID : 264330409404
Option 2 ID : 264330409403
Option 3 ID : 264330409402
Option 4 ID : 264330409401
Status : Answered
Chosen Option : 3

Q.3 यदि एक बक्सा ₹350 की हानि पर ₹4,650 में बेचा गया, तो प्रतिशतता हानि ज्ञात कीजिए।

- Ans
- 1. 6%
 - 2. 7%
 - 3. 8%
 - 4. 5%

Question ID : 264330169418
Option 1 ID : 264330664428
Option 2 ID : 264330664429
Option 3 ID : 264330664430
Option 4 ID : 264330664427
Status : Answered
Chosen Option : 2

Q.4 निम्न में से कौन-सा सह-अभाज्य संख्याओं का युग्म है?

- Ans
- 1. (7, 35)
 - 2. (32, 62)
 - 3. (198, 175)
 - 4. (217, 651)

Question ID : 264330105984
Option 1 ID : 264330416237
Option 2 ID : 264330416240
Option 3 ID : 264330416238
Option 4 ID : 264330416239
Status : Answered
Chosen Option : 4

Q.5 600 m की दौड़ में, A ने B को 5 सेकंड की बढ़त दी और फिर भी 20 सेकंड से दौड़ जीत ली। यदि A की चाल और B की चाल का अनुपात 2 : 1 है, तो B की चाल ज्ञात कीजिए।

- Ans
- 1. 21 m/sec
 - 2. 18 m/sec
 - 3. 12 m/sec
 - 4. 10 m/sec

Question ID : 264330168935
Option 1 ID : 264330662546
Option 2 ID : 264330662545
Option 3 ID : 264330662544
Option 4 ID : 264330662543
Status : Answered
Chosen Option : 3

Q.6 A, B, C एक के बाद एक के इस क्रम में कार्य करते हैं। उनमें से प्रत्येक अलग-अलग किसी कार्य क्रमशः 10, 16, 12 दिन में पूरा कर सकते हैं। ABC, ABC, ABC ऐसे 3 चक्रों में कार्य करने के बाद, A और C कार्य छोड़ देते हैं। B अकेले शेष कार्य को _____ में पूरा करेगा।

- Ans
- 1. $1\frac{4}{5}$ दिनों
 - 2. $4\frac{1}{5}$ दिनों
 - 3. $5\frac{4}{5}$ दिनों
 - 4. $5\frac{1}{4}$ दिनों

Question ID : 264330103748
Option 1 ID : 264330407299
Option 2 ID : 264330407297
Option 3 ID : 264330407298
Option 4 ID : 264330407300
Status : Answered
Chosen Option : 2

Q.7 दो संख्याओं के एल.सी.एम. (LCM) और एच.सी.एफ. (HCF) का गुणनफल 48 है। दोनों संख्याओं का अंतर 13 है। संख्याएँ ज्ञात कीजिए।

- Ans
- 1. 10 और 23
 - 2. 3 और 16
 - 3. 9 और 22
 - 4. 6 और 19

Question ID : 264330104267
Option 1 ID : 264330409371
Option 2 ID : 264330409370
Option 3 ID : 264330409372
Option 4 ID : 264330409369
Status : Answered
Chosen Option : 2

Q.8 माना $x = 5, y = 8$ है। तो निम्नलिखित संख्याओं को आरोही क्रम में व्यवस्थित कीजिए।

$$\frac{x+1}{y-1}, \frac{2x}{2y-3}, \frac{y+1}{2x-1}, \frac{y+1}{3x-y}$$

Ans

✓ 1. $\frac{2x}{2y-3}, \frac{x+1}{y-1}, \frac{y+1}{2x-1}, \frac{y+1}{3x-y}$

✗ 2. $\frac{2x}{2y-3}, \frac{x+1}{y-1}, \frac{y+1}{3x-y}, \frac{y+1}{2x-1}$

✗ 3. $\frac{x+1}{y-1}, \frac{2x}{2y-3}, \frac{y+1}{2x-1}, \frac{y+1}{3x-y}$

✗ 4. $\frac{2x}{2y-3}, \frac{y+1}{2x-1}, \frac{x+1}{y-1}, \frac{y+1}{3x-y}$

Question ID : 264330126120

Option 1 ID : 264330494155

Option 2 ID : 264330494154

Option 3 ID : 264330494153

Option 4 ID : 264330494152

Status : Answered

Chosen Option : 1

Q.9 ₹1,500 की राशि पर 3 वर्ष के लिए 5% वार्षिक दर से साधारण ब्याज कितना है?

Ans ✗ 1. ₹195

✓ 2. ₹225

✗ 3. ₹192

✗ 4. ₹180

Question ID : 264330182517

Option 1 ID : 264330715859

Option 2 ID : 264330715862

Option 3 ID : 264330715861

Option 4 ID : 264330715860

Status : Answered

Chosen Option : 2

Q.10 एक कक्षा में 50 छात्र हैं। 20 छात्रों के औसत अंक 70 हैं और शेष 30 छात्रों के औसत अंक 80 हैं। पूरी कक्षा के औसत अंक ज्ञात करें।

Ans ✗ 1. 75

✗ 2. 70

✓ 3. 76

✗ 4. 74

Question ID : 264330126555

Option 1 ID : 264330495894

Option 2 ID : 264330495892

Option 3 ID : 264330495893

Option 4 ID : 264330495895

Status : Answered

Chosen Option : 3

Q.11 एक $\frac{128}{3}$ II आयतन वाला आइसक्रीम शंकु बनाया जाता है, जिसमें शंकु की ऊंचाई इसकी त्रिज्या से दोगुनी है। शंकु की तिर्यक ऊंचाई कितनी है?

- Ans
- 1. $\sqrt{40}$
 - 2. $\sqrt{60}$
 - 3. $\sqrt{80}$
 - 4. $\sqrt{90}$

Question ID : 264330112120

Option 1 ID : 264330440567

Option 2 ID : 264330440565

Option 3 ID : 264330440566

Option 4 ID : 264330440568

Status : Answered

Chosen Option : 3

Q.12 एक व्यक्ति ने कुछ धनराशि उधार ली और पहले वर्ष के अंत में ₹4,200 और दूसरे वर्ष के अंत में ₹4,410 का भुगतान करके उसकी चुकौती करने पर सहमत हुआ। यदि चक्रवृद्धि ब्याज की दर 5% प्रति वर्ष थी, तो उधार ली गई राशि ज्ञात कीजिए।

- Ans
- 1. ₹8,500
 - 2. ₹7,000
 - 3. ₹7,500
 - 4. ₹8,000

Question ID : 264330104317

Option 1 ID : 264330409572

Option 2 ID : 264330409569

Option 3 ID : 264330409570

Option 4 ID : 264330409571

Status : Answered

Chosen Option : 2

Q.13 एक दुकानदार एक वस्तु पर क्रय मूल्य से 35% अधिक मूल्य अंकित करता है और अंकित मूल्य पर 20% की छूट देता है, उसका लाभ प्रतिशत क्या है?

- Ans
- 1. 9%
 - 2. 7%
 - 3. 8%
 - 4. 5%

Question ID : 264330168926

Option 1 ID : 264330662509

Option 2 ID : 264330662508

Option 3 ID : 264330662510

Option 4 ID : 264330662507

Status : Answered

Chosen Option : 3

Q.14 15% की कमी के बाद, अजय की आय ₹2,12,500 है। उसकी मूल आय (₹ में) कितनी थी?

- Ans 1. 2,50,000
 2. 2,25,000
 3. 2,40,000
 4. 1,80,625

Question ID : 264330103308
Option 1 ID : 264330405539
Option 2 ID : 264330405540
Option 3 ID : 264330405537
Option 4 ID : 264330405538
Status : Answered
Chosen Option : 1

Q.15 एक शंकु की तिर्यक ऊँचाई 5 cm और व्यास 8 cm है। शंकु का आयतन (ठीक दो दशमलव स्थान तक) क्या है? (जहाँ $\pi = \frac{22}{7}$)

- Ans 1. 59.82 cm³
 2. 28.28 cm³
 3. 50.28 cm³
 4. 35.66 cm³

Question ID : 264330118142
Option 1 ID : 264330464386
Option 2 ID : 264330464383
Option 3 ID : 264330464385
Option 4 ID : 264330464384
Status : Answered
Chosen Option : 3

Section : Computer Proficiency

Q.1 Which option allows you to adjust the line spacing between lines of text in a paragraph in MS-Word 365?

- Ans 1. Paragraph Border
 2. Line Spacing
 3. Paragraph Alignment
 4. Text Indentation

Question ID : 264330173333
Option 1 ID : 264330679814
Option 2 ID : 264330679813
Option 3 ID : 264330679812
Option 4 ID : 264330679811
Status : Answered
Chosen Option : 4

Q.2 In MS Excel 365, when entering data into an MS Excel 365 spreadsheet, which data type is most suitable for a person's first name?

- Ans
- 1. Date
 - 2. Text
 - 3. Currency
 - 4. Number

Question ID : 264330178569
Option 1 ID : 264330700303
Option 2 ID : 264330700304
Option 3 ID : 264330700306
Option 4 ID : 264330700305
Status : Answered
Chosen Option : 2

Q.3 Which formatting feature in MS Word 365, is used to emphasise text by making it bold, italic or underlined in documents?

- Ans
- 1. Text wrapping
 - 2. Hyperlinking
 - 3. Page margins
 - 4. Font styling

Question ID : 264330178578
Option 1 ID : 264330700339
Option 2 ID : 264330700340
Option 3 ID : 264330700342
Option 4 ID : 264330700341
Status : Answered
Chosen Option : 4

Q.4 In MS-Word 2010, Page number option comes under which of the following menus?

- Ans
- 1. Pages
 - 2. Home Tab
 - 3. Page layout
 - 4. Header and Footer

Question ID : 264330176705
Option 1 ID : 264330693038
Option 2 ID : 264330693037
Option 3 ID : 264330693036
Option 4 ID : 264330693035
Status : Answered
Chosen Option : 4

Q.5 Which of the following operations is done using shortcut key Ctrl + Shift + > in MS Word 365?

- Ans
- 1. Decrease the font size
 - 2. Left Alignment of text
 - 3. Increase the font size
 - 4. Right Alignment of text

Question ID : 264330180445
Option 1 ID : 264330707748
Option 2 ID : 264330707749
Option 3 ID : 264330707747
Option 4 ID : 264330707750
Status : Answered
Chosen Option : 3

Q.6 In MS Excel 365, you are working on an Excel worksheet and need to select an entire row above the current row. Which keyboard shortcut combination should you use?

- Ans
- 1. Ctrl + +
 - 2. Alt + Spacebar
 - 3. Ctrl + Spacebar
 - 4. Shift + Spacebar

Question ID : 264330182782

Option 1 ID : 264330716901

Option 2 ID : 264330716902

Option 3 ID : 264330716900

Option 4 ID : 264330716899

Status : Answered

Chosen Option : 4

Q.7 एमएस वर्ड 365 (MS Word 365) में, जब आप टेक्स्ट को सिलेक्ट करते हैं और फिर 'Backspace' कुंजी दबाते हैं तो क्या होता है?

- Ans
- 1. टेक्स्ट बोल्ड स्टाइल में फॉर्मेट हो जाता है
 - 2. टेक्स्ट क्लिपबोर्ड पर कॉपी हो जाता है
 - 3. कर्सर के बाईं ओर का टेक्स्ट डिलीट हो जाता है
 - 4. टेक्स्ट डॉक्यूमेंट के अंत में मूव हो जाता है

Question ID : 264330180855

Option 1 ID : 264330709384

Option 2 ID : 264330709383

Option 3 ID : 264330709385

Option 4 ID : 264330709386

Status : Answered

Chosen Option : 3

Q.8 Which of the following is NOT a layer of the Internet Protocol Suite (TCP/IP)?

- Ans
- 1. Transport layer
 - 2. Physical layer
 - 3. Application layer
 - 4. Network layer

Question ID : 264330178552

Option 1 ID : 264330700236

Option 2 ID : 264330700238

Option 3 ID : 264330700235

Option 4 ID : 264330700237

Status : Answered

Chosen Option : 3

Q.9 किसी ई-मेल के अनुलग्नक (अटैचमेंट) हो सकते हैं;

- 1) डिजिटल तस्वीरें
- 2) डॉक्यूमेंट

- Ans
- 1. केवल (2)
 - 2. केवल (1)
 - 3. दोनों (1) और (2)
 - 4. न तो (1) और न ही (2)

Question ID : 264330175931

Option 1 ID : 264330690020

Option 2 ID : 264330690019

Option 3 ID : 264330690021

Option 4 ID : 264330690022

Status : Answered

Chosen Option : 3

Q.10 What is the default print range in Microsoft Excel 365, when printing an entire worksheet?

- Ans
- 1. Selected Range
 - 2. Active Sheet
 - 3. All Sheets
 - 4. Entire Workbook

Question ID : 264330178082

Option 1 ID : 264330698393

Option 2 ID : 264330698392

Option 3 ID : 264330698391

Option 4 ID : 264330698394

Status : Answered

Chosen Option : 3

Adda247